



A
G
E
N
Z
I
A

ADM

L'AGENZIA DELLE ACCISE, DOGANE E MONOPOLI

**CONCORSO PUBBLICO PER ESAMI A COMPLESSIVI 460 POSTI - II AREA F3 -
PER L'ASSUNZIONE DI VARIE FIGURE PROFESSIONALI PRESSO
L'AGENZIA DELLE DOGANE E DEI MONOPOLI
BANCA DATI DEI QUESITI PER LE PROVE PRESELETTIVE**

Si pubblica la banca dati dei quesiti per le prove preselettive del concorso pubblico in intestazione, predisposta dall'Agenzia ai sensi dell'art. 7, comma 6, del bando di concorso, avvalendosi di società specializzata in selezione del personale.

I candidati possono provvedere ad inviare eventuali segnalazioni inerenti anomalie nella formulazione dei quesiti al seguente indirizzo email: test.concorso@adm.gov.it

L'Agenzia si riserva di effettuare verifiche sulle segnalazioni pervenute e di procedere, qualora necessario, ad adeguamenti della banca dati e comunicazioni, esclusivamente mediante avviso pubblicato sul sito istituzionale adm.gov.it, nell'apposita sezione riservata al concorso.

La banca dati resterà on line sul sito dell'Agenzia fino alle 00.00 del 30 giugno 2021.

CAPACITA' LOGICO-DEDUTTIVA E DI RAGIONAMENTO LOGICO MATEMATICO (2.000)

-
- 1) Un gioco ha le seguenti regole: se un numero è divisibile per 5 vale 5 punti; se è divisibile per 3 vale 4 punti. In base a tali regole, quale dei seguenti numeri vale di più?
- A 40
 - B 18
 - C 42
-
- 2) Completare correttamente la seguente successione numerica. 2;20;22;42;64;?
- A 106
 - B 86
 - C 128
-
- 3) Se su tre facce di un cubo sono visibili le lettere USA, quale parola può essere pertanto scritta sulle sei facce?
- A QUESTA
 - B VEDUTA
 - C PALUDE
-
- 4) Fra due ore mancherà la metà del tempo per arrivare a mezzanotte, che sarebbe fra un'ora. Che ore sono?
- A 21.00
 - B 22.00
 - C 18.00
-
- 5) Nella seguente serie numerica 10, 14, 19, 25, 32...quale numero deve seguire?
- A 52
 - B 45
 - C 40
-
- 6) Quale delle seguenti parole ha un nesso semantico sia con "sollecito" che con "polizia"?
- A Celere
 - B Sirene
 - C Premuroso
-
- 7) Non è un sinonimo di INADATTO:
- A appropriato
 - B opportuno
 - C congruo
-
- 8) Qual è il numero mancante nella serie: 45 36 28 ? 15 10 6
- A 22
 - B 10
 - C 21
-
- 9) In quanti modi si può modificare la bandiera del Giappone (sfondo bianco con cerchio rosso al centro) utilizzando per il cerchio un colore primario additivo (Rosso, Verde, Blu) e per lo sfondo i colori bianco o nero?
- A 6
 - B 8
 - C 5
-
- 10) Allo stadio, Marco è seduto al numero 253. Maria è seduta alla destra di Marco al numero 254. Alla sinistra di Marco è seduto Matteo. Lucio è seduto alla sinistra di Matteo. Quale numero ha il posto occupato da Lucio?
- A 255
 - B 251
 - C 254
-
- 11) Giovanni ha quattro anni meno di Giacomo che ha cinque anni più di Giordano che ha tre anni meno di Giacinto che ha 22 anni. Quanti anni ha Giovanni?

- A 20
- B 16
- C 19

-
- 12) **Nessun gatto ha sei zampe. Se che tale affermazione è falsa, significa che:**
- A almeno un gatto ha un numero di zampe diverso da sei.
 - B tutti i gatti hanno un numero di zampe diverso da sei.
 - C almeno un gatto ha sei zampe.
-
- 13) **Qual è il numero mancante nella serie sottostante? 45 36 28 ? 15 10 6**
- A 22
 - B 21
 - C 10
-
- 14) **Quale dei seguenti gruppi sillabici, inserito in sequenza, consente la formazione di parole di senso compiuto? Ca(..)ra;ge(..)to;in(..)to;ta(..)lo.**
- A (de), (ci), (va), (da).
 - B (de), (mi), (se), (di).
 - C (me), (mi), (vi), (vo).
-
- 15) **Individuare il rapporto anomalo:**
- A igrometro - umidità
 - B barometro - pressione
 - C termometro - gradi
-
- 16) **Quale tra le seguenti frasi contiene un errore ortografico?**
- A Abbiamo osservato un eclissi di sole.
 - B Hai sentito una voce lontana.
 - C Ho visto un parente ieri.
-
- 17) **Individuare l'alternativa che completa in modo corretto la seguente proporzione tra termini. "Subordinato : Indipendente = X : Y"**
- A X = produttivo, Y = fecondo
 - B X = ludico, Y = giocoso
 - C X = sterile, Y = produttivo
-
- 18) **Completare correttamente la seguente successione di lettere, utilizzando l'alfabeto italiano:Z;V;T;Q;?**
- A O
 - B N
 - C M
-
- 19) **Paolo gioca a tennis se e solo se Fabio gli presta la sua racchetta. Se la precedente affermazione è vera, quale delle seguenti NON è necessariamente vera?**
- A Se Paolo gioca a tennis, allora Fabio gli ha prestato una sua racchetta
 - B Se Fabio non gli presta una sua racchetta, allora Paolo non gioca a tennis
 - C Se Fabio non gioca a tennis, allora non ha prestato la sua racchetta a Paolo
-
- 20) **Indicare la sillaba che, preposta al primo e aggiunta al secondo gruppo di lettere, consente di ottenere due parole di senso compiuto.SMA (...) TO:**
- A mo
 - B ca
 - C ri
-
- 21) **Completare correttamente la seguente successione numerica:8;15;29;57;113;225;?**
- A 337
 - B 451
 - C 449
-
- 22) **Una frase è stata divisa in cinque parti, che successivamente sono state mescolate e che di seguito sono proposte in ordine casuale: [1) restare indifferente / 2) ingiustizie ai danni / 3) del tuo prossimo. / 4) Non puoi / 5) di fronte a simili]. Ricomporre correttamente la frase.**
- A 2);3);5);4);1).
 - B 4);1);5);2);3).
 - C 1);5);4);3);2).

- 23) **Quale dei termini che seguono può essere a ragione considerato parte della serie «posacenere, schiaccianoci, voltagabbana, maledire»?**
A Portavalori.
B Argomento.
C Calcolatore.

- 24) **Quale delle seguenti parole NON ha a che fare con le altre?**
A Vipera
B Balena
C Topo

- 25) **Con riferimento alla figura in alto, Individuare il diagramma che soddisfa la relazione insiemistica esistente tra i termini dati: Medici, Laureati, Atenei**

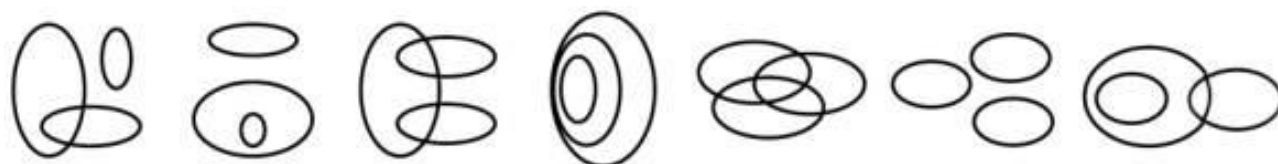


DIAGRAMMA 1 DIAGRAMMA 2 DIAGRAMMA 3 DIAGRAMMA 4 DIAGRAMMA 5 DIAGRAMMA 6 DIAGRAMMA 7

- A Diagramma 2
B Diagramma 1
C Diagramma 6

- 26) **Individuare l'abbinamento errato.**
A Congresso di Vienna - 1815
B Trattato di Versailles - 1919
C Battaglia di Maratona - 1848.

- 27) **Giorgia è nata prima di Federica, la quale è nata prima di Gaia. Anche Laura è nata prima di Gaia. Pertanto:**
A Laura, Federica e Giorgia hanno sicuramente età diverse.
B Giorgia è sicuramente la più giovane.
C è certo che Gaia sia più giovane di Giorgia e di Laura.

- 28) **Indicare quale dei seguenti gruppi di termini va eliminato perché disomogeneo rispetto agli altri.**
A Fondamento-i fondamenti-le fondamenta
B Promotore-i promotori-le promotrici.
C Ragazzo-i ragazzi-le ragazze.

- 29) **Individuare l'alternativa da scartare.**
A Friabile
B Vivace
C Festa

- 30) **Quale dei seguenti termini può sostituire la parola "sollecitudine" senza modificare il significato della frase?**
A Tolleranza.
B Solerzia
C Negligenza.

- 31) **Quali tra i termini proposti completano correttamente la proporzione verbale: Alluminio : X = cinese : Y?**
A X = legno; Y = yiddish
B X = metalli; Y = lingue
C X = minerale; Y = libro

- 32) **Indicare quale, fra i termini proposti, completa logicamente la seguente proposizione verbale: trama : vello = brama : X**
A X = pelo
B X = bello
C X = merlo

- 33) **Se Olga è più bassa di Mara e Rina è più alta di Olga....**

- A È certo che Rina sia più bassa di Mara e di Olga.
B Olga potrebbe essere più alta di Rina.
C Rina potrebbe essere più alta di Mara.

-
- 34) **Quali, tra i termini proposti, completano correttamente la seguente proporzione verbale? Tribunale : X = Y : capomastro**
A X = accusati; Y = progettisti
B X = giudice; Y = cantiere
C X = avvocato; Y = comandante
-
- 35) **Se «Pietro e Marianna adorano la montagna», «Pietro e Marianna hanno scalato molte delle montagne italiane» e «il monte Civetta è una delle più belle montagne italiane», si può logicamente concludere che....**
A Pietro e Marianna non hanno mai scalato il monte Civetta.
B Pietro e Marianna sicuramente hanno scalato il monte Civetta.
C Non è possibile dire con certezza se Pietro e Marianna abbiano scalato il monte Civetta.
-
- 36) **Completare la successione numerica: 72 12 12 2 ?**
A 8
B 16
C 2
-
- 37) **Tutti i dottori sono laureati; Stefania è una dottoressa; tutti gli ematologi sono dottori. Quale delle seguenti affermazioni è vera se le precedenti sono sicuramente vere?**
A Tutti i dottori sono ematologi.
B Stefania è laureata.
C Stefania è sicuramente un ematologo.
-
- 38) **Quale dei seguenti termini integra la serie: poté - caffè - andrò - ..?..**
A Ilarità.
B Libro.
C Piède.
-
- 39) **Se "nessun sagrestano è un maniscalco" e "alcuni bugiardi sono maniscalchi", si può logicamente concludere che....**
A Tutti i bugiardi sono sagrestani.
B Almeno alcuni bugiardi non sono sagrestani.
C Nessun maniscalco è un bugiardo.
-
- 40) **Marco, Silvia, Irene e Sara hanno svolto vari lavoretti per i loro vicini. Prima di iniziare hanno pattuito che tutti i soldi guadagnati sarebbero stati condivisi equamente tra di loro. Marco ha guadagnato euro 10, Silvia euro 15. Irene euro 12. Sara ha sorpreso tutti gli altri guadagnando euro 33 e quindi deve dei soldi agli altri amici. Quanto deve ricevere Silvia da Sara?**
A euro 10
B euro 8
C euro 6
-
- 41) **Se in una certa zona la piovosità media è di 360 millimetri all'anno, quanto piove mediamente in due anni e cinque mesi?**
A 870 millimetri
B 940 millimetri
C 720 millimetri
-
- 42) **Qual è la parola da scartare?**
A ambra
B topazio
C smeraldo
-
- 43) **I meteorologi hanno rilevato che il periodo in cui è più probabile il manifestarsi di uragani è compreso tra le ore 15 e le ore 17, in coincidenza con le ore in cui la temperatura è più elevata. Ne discende che...**
A Gli uragani tendono a manifestarsi con il caldo.
B Gli uragani più pericolosi si manifestano di pomeriggio.
C Gli uragani che si manifestano di mattina hanno scarsa intensità.
-
- 44) **Se CONCITATO sta a TURBATO allora è corretto che PACATO stia a....**

- A ESAGITATO.
- B ANSIOSO.
- C PLACIDO.

-
- 45) **Se: $X - 1 + Y = Z - 6$ $X = 3 + Z$ Allora Y è uguale a:**
- A -8
 - B 6
 - C -6
-
- 46) **Non di maggioranza o minoranza si parlava nel secolo della Riforma, ma di verità e di errore. Il criterio della verità non dipendeva dalla quantità dei seguaci. Persino la Chiesa di Roma dette risalto al criterio quantitativo della cattolicità solo verso la fine del XVI secolo.**
- A Nel secolo della Riforma la quantità di seguaci di una confessione religiosa determinava la sua verità o il suo errore.
 - B La Chiesa di Roma, essendo in errore, nel XVI secolo si appellò al criterio quantitativo.
 - C Nel secolo della Riforma non ci si appellava a un criterio quantitativo per sostenere la superiorità di una confessione religiosa su un'altra, ma a quello della verità..
-
- 47) **Quale binomio di termini ha le stesse caratteristiche di FACETO - SERIO?**
- A BORGO - CONTRADA
 - B MALVAGIO - MITE.
 - C STREPITARE - URLARE.
-
- 48) **Se "Piero è un animalista convinto" e "moltissimi animalisti sono vegetariani", allora si può logicamente concludere che:**
- A Non è possibile dire con certezza se Piero sia vegetariano.
 - B Piero non è sicuramente vegetariano.
 - C Piero è sicuramente vegetariano.
-
- 49) **Individuare la riga che contiene il maggior numero di lettere D.**
- A DPDPDDPPDDDDPP PPDDPPDPDPDPDP PDDD
 - B DPPDDPDDDDPDDDP DDPPPPDDPPDPDP PP
 - C PDPDDDDPDDDDPPPP PDPDPDPDPDPDPDP PDP
-
- 50) **Quale di questi elementi è estraneo alla serie «studiosissimo, infimo, molto creativo, massimo»?**
- A Chiaro.
 - B Validissimo.C) Arcibello.
-
- 51) **Ricomporre correttamente la frase che è stata divisa in cinque parti, che successivamente sono state mescolate e poi proposte in ordine casuale: affermò che non avrebbe per risolvere quel caso. [trascurato nessun mezzo / 4) tra quelli a sua disposizione / 5) L'ispettore di polizia]**
- A 5);1);3);4);2).
 - B 3);5);2);1);4).
 - C 4);1);5);2);3).
-
- 52) **Una persona che si trova al centro di una vicenda che la espone alle critiche della società, è associabile all'espressione:**
- A Prendere due piccioni con una fava.
 - B Mettere la pulce nell'orecchio.
 - C Essere nell'occhio del ciclone.
-
- 53) **Completare correttamente la seguente successione numerica.20;42;36;?;?;74;68;90**
- A 30;52
 - B 58;52
 - C 48;62
-
- 54) **Un'azienda ha registrato nel passaggio dall'esercizio 2019 a quello 2020 un incremento del fatturato pari, in termini percentuali, al 15%. Sapendo che il valore del fatturato (in migliaia di euro) nell'anno 2020 è stato pari a 345, determinare il valore del fatturato nell'anno 2019:**
- A 285
 - B 305
 - C 300
-
- 55) **Gli esperti hanno escluso la possibilità che l'affresco non sia stato dipinto da Giotto. In base alla precedente argomentazione:**

- A l'affresco è stato dipinto da Giotto
- B non si può dire se l'affresco sia stato dipinto da Giotto
- C l'affresco non è stato dipinto da Giotto

56) Un fruttivendolo compra 500 kg di patate a 15 centesimi al kg e le rivende a 27 centesimi al kg. Quanto guadagna in totale?

- A 60 euro
- B 300 euro
- C 90 euro

57) Se TULIPANO = CALLA = 3 , VIOLA = 20, ROSA = ?

- A 16
- B 12
- C 9

58) Quale dei termini proposti, inserito tra le parentesi, assume un significato associabile sia al termine che precede che a quello che segue: FERROVIA (....) NUMERO

- A Binario.
- B Vagone.
- C Carter.

59) Il lato di un quadrato misura 6 cm. Se un rettangolo è largo 3 cm e ha la stessa area del quadrato, quanto misura il perimetro?

- A 24 cm
- B 18 cm
- C 30 cm

60) Quale dei seguenti termini integra la serie: giocherà - civiltà - felicità - ..?..

- A passione.
- B serenità.
- C felice.

61) Quali numeri e quali lettere rimangono dopo aver tolto dalla seguente stringa le lettere che compongono la parola "FAVORI" e i numeri 3, 5, 7, 8?"123456789ABCDEFGHIJKLMNQRSTUWVZ"

- A 12569BCDEGHIJLMNPQRSTUWVZ
- B 12469BCDGHILMNOPQRSTUWVZ
- C 12469BCDEGHIJLMNPQRSTUWVZ

62) Indicare quale, fra i termini proposti, completa logicamente la seguente proposizione verbale: conciso : sintetico = reciso : X

- A X = indeciso
- B X = tagliato
- C X = preciso

63) L'espressione «stare all'erta» è ricollegabile all'idea di:

- A circuire, raggirare, ingannare.
- B divertirsi, distrarsi, svagarsi.
- C essere vigile, guardingo, diffidente.

64) Indicare l'alternativa da scartare.

- A colibri
- B cavallo
- C cervo volante

65) Se INDICE = 6 e CAPITOLO = 8, PARAGRAFO = ?

- A 10
- B 9
- C 7

66) Tommaso, Paolo e Flavio hanno sposato Livia, Alice e Marcella, due delle quali sono tra loro sorelle. Paolo ha sposato la sorella di Alice. Flavio ha sposato Alice. Tommaso non è cognato di Paolo e Marcella non ha sorelle. Chi è la moglie di Paolo?

- A Alice
- B Marcella
- C Livia

-
- 67) **La frase "Dopo averlo lungamente osservato, ne ha stigmatizzato il comportamento nella sua opera" significa:**
- A Qualcuno ha lodato entusiasticamente il comportamento di un'altra persona.
 - B Qualcuno ha proposto, in un suo scritto, di imitare il comportamento di un'altra persona.
 - C Qualcuno ha vivamente criticato il comportamento di un'altra persona in una sua opera.
-
- 68) **Quale binomio di termini ha le stesse caratteristiche di DENIGRATORE - ADULATORE?**
- A ABITUDINE - COSTUME
 - B LUCIDO - OPACO
 - C CREPUSCOLO - TRAMONTO
-
- 69) **Relativamente alla sua funzione grammaticale il vocabolo «naturalmente» può essere inserito....**
- A Nel gruppo formato da: molle - scavato - bianco.
 - B Nel gruppo formato da: qui - così - volentieri.
 - C Nel gruppo formato da: dormire, aprire, scendere
-
- 70) **Se "lo sci è uno sport" e "Sergio non va a sciare", si può logicamente concludere che....**
- A Sergio non va mai in montagna.
 - B Sergio non ama la montagna.
 - C Nessuna delle altre risposte contiene conclusioni che possono essere logicamente dedotte dalle due affermazioni proposte.
-
- 71) **Se: $X - 8 = Y \cdot 4$, $X = 0$ Allora Y è uguale a:**
- A -4
 - B -2
 - C 2
-
- 72) **Indicare quale, fra i termini proposti, completa logicamente la seguente proposizione verbale:
ATTONITO : STUPITO = INDIFFERENTE : ?**
- A IMPASSIBILE.
 - B SMARRITO.
 - C SORPRESO.
-
- 73) **Pamela, Fiona e Gina, tre ragazze newyorkesi, stanno prendendo il sole in una piscina della loro città; Pamela indossa un costume intero, Fiona legge un libro, Pamela e Gina sono cugine. In base alle affermazioni precedenti è possibile concludere che:**
- A Fiona è una studentessa universitaria
 - B Pamela e Fiona sono cugine
 - C a Roma non sono le nove del mattino
-
- 74) **Se Vittorio è pieno di alterigia si può dire che:**
- A Vittorio è altezzoso.
 - B Vittorio è alterato.
 - C Vittorio è schivo.
-
- 75) **Un mobile antico con un prezzo di listino pari a 60.000 euro viene venduto con un prezzo diminuito dei 2/5. A quanto è ammontato lo sconto?**
- A euro 24.000
 - B euro 12.000
 - C euro 36.000
-
- 76) **È stato dimostrato che nella società odierna la diminuzione del tempo trascorso a casa provoca un sensibile aumento dei dissidi tra genitori e figli. È dunque evidente che la mancata corrispondenza tra le esigenze familiari e gli impegni in società e/o nel lavoro è una delle cause dei dissidi tra genitori e figli. La conclusione precedente si basa sulla premessa implicita che:**
- A la mancata corrispondenza tra le esigenze familiari e gli impegni in società e/o nel lavoro è una delle cause della diminuzione del tempo trascorso a casa.
 - B gli impegni in società e nel lavoro mal si conciliano con le esigenze familiari.
 - C in famiglia sono sempre più frequenti le liti fra genitori e figli.
-
- 77) **Tra le alternative proposte, scegliere quella che completa correttamente la frase «non saresti attaccabile da nessuno....».**
- A Se facessi sempre del tuo meglio
 - B Se avresti fatto sempre del tuo meglio.
 - C Se faresti sempre del tuo meglio.

-
- 78) **Se Aldo è più attento di Paolo e Gigi è più distratto di Aldo:**
A Paolo e Gigi potrebbero essere ugualmente distratti.
B è da escludere che Paolo sia più distratto di Gigi.
C certamente Paolo e Gigi sono sempre distratti.
-
- 79) **Il termine LIBERISMO appartiene al lessico....**
A della matematica.
B dell'economia.
C della letteratura.
-
- 80) **Quale delle seguenti coppie di vocaboli integra correttamente la serie: Il busto-la busta / Il calo-la cala / Il torto-la torta/ ..?..**
A Il professore-la professoressa.
B Il mento-la menta.
C Il gallo-la gallina.
-
- 81) **Individuare l'opzione da scartare fra:**
A scarpa
B forchetta
C forbici
-
- 82) **Quale dei seguenti gruppi sillabici, inserito in sequenza, consente la formazione di parole di senso compiuto? co (..) ta;im (..) sa;con (..) to; con (..) so.**
A per;pre;cer;cor
B mar;sar;com;pur
C mer;cri;mar;sin
-
- 83) **Se Ettore si comporta con grazia esagerata e innaturale che riesce perciò inopportuna e fastidiosa posso affermare che....**
A Ettore non è il tipo da fare smancerie.
B Ettore è brusco.
C Ettore è lezioso.
-
- 84) **ACCINGERSI sta a APPRESTARSI come DESISTERE sta a:**
A intraprendere
B proseguire
C interrompere
-
- 85) **animale : minerale = x : y**
A foglia - roccia
B albero - cane
C gatto - roccia
-
- 86) **L'inflazione consiste in un generale aumento dei prezzi nominali, accompagnato da una svalutazione della moneta. Quale tra le seguenti affermazioni è deducibile dalla frase precedente?**
A Esiste una concomitanza tra inflazione e svalutazione
B La svalutazione è una conseguenza dell'inflazione
C L'aumento dei prezzi nominali è una causa della svalutazione della moneta
-
- 87) **Quali, tra i termini proposti, completano correttamente la seguente proporzione verbale?Esteriore : estremo = X : Y**
A X = finale Y = terminale
B X = alto Y = supremo
C X = superiore Y = sommo
-
- 88) **Indicare quale dei seguenti termini può essere considerato parte della serie: RACCOGLIERE, AMMASSARE, ADUNARE,**
A disperdere
B togliere
C conferire
-
- 89) **Indicare quale, tra quelli proposti, è il corretto significato dell'aggettivo CANZONATORIO.**
A Persona oggetto dello scherno altrui.
B Relativo a un componimento lirico in versi.
C Proprio di chi deride.

-
- 90) **Quale tra le seguenti espressioni può essere considerata un contrario di "avere fegato"?**
A Essere pavido.
B Essere insolente.
C Essere prode.
-
- 91) **Individuare la coppia di termini antitetici che NON è grammaticalmente coerente con le altre:**
A accordo - disaccordo
B flemma - foga
C coraggio - audacia
-
- 92) **Quale gruppo di lettere, premesso in sequenza ai termini proposti, determina parole di senso compiuto? ALDO - AGLIO - ALGA - ALLA - VALLO.**
A B - T - M - P - A
B T - B - M - E - A
C B - T - M - A - P
-
- 93) **In base all'affermazione: "L'ipotesi A è condizione necessaria e sufficiente perché una data conseguenza B si verifichi", quale delle seguenti affermazioni è vera?**
A B si verifica solo quando risulta verificata l'ipotesi A
B B può non verificarsi anche se risulta verificata l'ipotesi A
C B può verificarsi anche se non risulta verificata l'ipotesi A
-
- 94) **Tizio e Caio devono ricevere una certa quantità di farmaco, in maniera da avere una quantità di principio attivo proporzionale al proprio peso corporeo. Tizio pesa 50 kg, Caio pesa 60 kg. Due flaconi identici di farmaco contengono, complessivamente, la dose totale necessaria per il fabbisogno di entrambi. Qual è la dose esatta da somministrare a Caio?**
A Un flacone intero e un quinto dell'altro flacone
B Un flacone intero e un quarto dell'altro flacone
C Un flacone intero e un undicesimo dell'altro flacone
-
- 95) **Vittorio ha 50 CD di musica rock e 41 CD di musica jazz suddivisi in 10 ripiani di un mobile porta-CD. Quale delle seguenti affermazioni è sicuramente vera?**
A Esiste almeno un ripiano in cui ci sono più di 9 CD
B Esiste almeno un ripiano in cui ci sono esattamente 5 CD di musica jazz
C In ogni ripiano ci sono almeno 8 CD
-
- 96) **Alla finale di una gara di automobilismo la classifica dal 1° al 7° posto è la seguente: Alessandro, Federico, Iris, Bruno, Cesare, Elisa, Gianna. Cinque di questi sette piloti indossano il casco integrale e si sa che a indossarlo sono tre tra i primi quattro classificati e tre tra gli ultimi quattro classificati. Si può essere certi che a indossare il casco integrale è:**
A Bruno
B Gianna
C Alessandro
-
- 97) **Indicare quale, fra i termini proposti, completa logicamente la seguente proposizione verbale: ATTIGUO : LIMITROFO = LONTANO : ?**
A circostante
B distante
C prossimo
-
- 98) **Sara sostiene che tutti gli studenti di medicina hanno frequentato il liceo scientifico. Quale delle seguenti condizioni è necessario si verifichi affinché l'affermazione di Sara risulti FALSA?**
A Nessuno studente di medicina deve aver frequentato il liceo scientifico
B Deve esistere almeno uno studente che ha frequentato il liceo scientifico ma che non è iscritto a medicina
C Deve esistere almeno uno studente di medicina che non ha frequentato il liceo scientifico
-
- 99) **Francesco possiede un numero di biglie compreso tra 70 e 80. Se si contano a due a due ne avanza una, mentre se si contano a tre a tre non ne avanza nessuna. Le biglie sono:**
A 71
B 73
C 75
-
- 100) **Completare la seguente serie: VANITOSO, TRACOTANTE, ARROGANTE, BORIOSO, ...**
A GARBATO. PRESUNTUOSO
B DEFERENTE
C PRESUNTUOSO

-
- 101) **Completare la successione numerica: 23 3 69 ? 33 99**
A 9
B 6
C 3
-
- 102) **Indicare l'alternativa da scartare.**
A Evidente
B Perspicuo
C Sibillino
-
- 103) **Indicare quali tra i termini proposti completano correttamente la proporzione verbale: vino : X = olio: Y?**
A X = vigna; Y = botte
B X = vitigno; Y = fiore
C X = uva; Y = oliva
-
- 104) **Se piove Filippo non utilizza il motoscafo. Se la precedente affermazione è vera, è anche vero che:**
A Filippo non utilizza il motoscafo solo quando piove.
B Filippo utilizza il motoscafo se non piove.
C Se piove Filippo utilizza sempre il motoscafo.
D Se Filippo non utilizza il motoscafo significa che piove.
-
- 105) **Completare la frase seguente con l'aggettivo più appropriato: nel giardino fiorito il profumo dei gelsomini era _____**
A roseo
B ispido.
C lucente.
D penetrante.
-
- 106) **Completare correttamente la successione numerica. 50 ? 21 8 13**
A 28
B 25
C 29
-
- 107) **Inserire i termini mancanti della proporzione: X : denti = oculista : Y**
A X = odontoiatra Y = occhi
B X = psichiatra Y = medicine
C X = infermiere Y = insegnante
-
- 108) **Individuare la sillaba che, posposta a COLLA, dà una parola di senso compiuto:**
A NA
B SO
C BO
-
- 109) **Il termine «vetusto» è associabile a:**
A soleggiato, splendente.
B antico, vecchio
C nascosto, inaccessibile.
-
- 110) **Completare correttamente la successione numerica: ? 61 79 97 115**
A 46
B 30
C 43
-
- 111) **Un'asta di metallo lunga 1 metro è sospesa per il suo centro. A 45 cm dall'estremità sinistra è agganciato un peso di 20 kg, mentre all'estremità opposta è agganciato un peso di 9 kg. Per equilibrare l'asta e mantenerla in posizione orizzontale è necessario:**
A aggiungere, al peso agganciato a destra, un ulteriore peso di 7 kg
B l'asta è già in equilibrio
C aggiungere, al peso agganciato a sinistra, un ulteriore peso di 70 kg
-
- 112) **Mario ha più di quarant'anni;tutte le persone che hanno i capelli bianchi hanno più di quarant'anni;le persone che non hanno i capelli bianchi sono sensibili. Se le precedenti affermazioni sono vere, allora NON si può affermare con certezza che:**

- A Mario potrebbe avere i capelli bianchi
B Possono esserci persone con più di quarant'anni che non hanno i capelli bianchi
C Mario ha i capelli bianchi e non è una persona sensibile

113) Individuare la sillaba che, posposta a VELLO, dà una parola di senso compiuto:

- A LI
B FE
C BI

114) Completare correttamente la seguente successione di lettere, utilizzando l'alfabeto italiano: D;T;E;R;F;P;G;?

- A N
B P
C O

115) Volendo piantare degli alberi lungo un viale, se si lascia fra un albero e l'altro una distanza di 8 metri sono necessari 50 alberi. Quanti ne occorrerebbero se la distanza tra 2 alberi consecutivi aumentasse di 2 metri?

- A 25
B 30
C 40

116) Completare correttamente la seguente successione numerica: 1;2;3;6;7;14;15;30;?;62

- A 61
B 29
C 31

117) Se: $TZ + WK = -TZ - VJ + 1 WK = -14 VJ = -13$ allora TZ è uguale a:

- A 7
B -14
C 14

118) Individuare il diagramma che soddisfa la relazione insiemistica esistente tra i termini dati: MUSICISTI, CITTADINI ITALIANI, PERSONE BENESTANTI

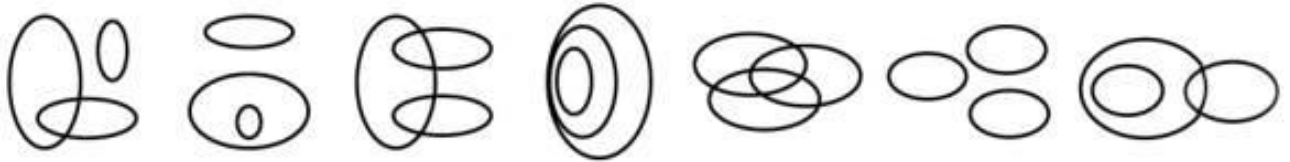


DIAGRAMMA 1 DIAGRAMMA 2 DIAGRAMMA 3 DIAGRAMMA 4 DIAGRAMMA 5 DIAGRAMMA 6 DIAGRAMMA 7

- A Diagramma 4
B Diagramma 5
C Diagramma 3

119) Completare correttamente la seguente successione numerica: 56;26;28;22;14;18;7;?

- A 10
B 14
C 12

120) Tutti coloro che hanno un diploma possono partecipare alla selezione. Filippo è un architetto. Tutti gli architetti hanno un diploma. Se le precedenti informazioni sono corrette, quale delle seguenti affermazioni NON rappresenta una conclusione corretta?

- A Coloro che possono partecipare alla selezione sono architetti.
B Chi non può partecipare alla selezione non può essere un architetto.
C Filippo ha un diploma

121) Se: $X + X + Y = -5Y$, $X = 3$ allora Y è uguale a:

- A -1
B 1
C -2

122) Se MAC significa cifra (singola) divisibile per 4, MIC significa cifra (singola) divisibile per 7 e MEC significa cifra (singola) divisibile per 3, allora con quale scrittura può essere espresso il numero 89?

- A MIC MEC
- B MEC MIC
- C MAC MEC

-
- 123) **Completare la seguente successione, utilizzando l'alfabeto italiano: P;107;U;94;C;81;?;?**
- A H;68
 - B H;72
 - C F;87
-
- 124) **Quali consonanti, anteposte al gruppo di lettere ASSO, formano parole di senso compiuto?**
- A M - P - S - T
 - B #NAME?
 - C C - G - N - Z
-
- 125) **Tutti i pompieri sono coraggiosi. Tutti i marinai sono coraggiosi. Tutti i marinai amano il mare. Se le precedenti informazioni sono corrette, quale delle seguenti informazioni aggiuntive consentirebbe di concludere che tutti i pompieri amano il mare?**
- A Tutti i marinai sono anche pompieri
 - B Tutti i pompieri sanno nuotare
 - C Tutte le persone coraggiose amano il mare
-
- 126) **Quali tra i termini proposti completano correttamente la seguente proporzione? Serpente : X = mela : Y**
- A X = rettile;Y = frutto
 - B X = albero;Y= animale
 - C X = Eva;Y= Eden
-
- 127) **Un tappezziere possiede 2 rotoli di carta lunghi rispettivamente 55 e 95 metri. Tagliando da essi alcuni pezzi, tutti della stessa lunghezza, gli avanzano 3 metri dal primo rotolo e 4 metri dal secondo. Quanti pezzi della stessa lunghezza ha tagliato in tutto?**
- A 13
 - B 15
 - C 11
-
- 128) **Alla stazione ferroviaria di Roma, il prossimo treno per Milano parte 1 ora e 20 minuti prima di quello per Genova. Quest'ultimo parte 70 minuti dopo quello per Palermo, per prendere il quale i viaggiatori del treno proveniente da Torino e diretto a Ancona hanno solo 5 minuti di tempo. Sapendo che tutti i treni in transito da Roma si fermano in stazione almeno 10 minuti e non più di 20, in quale ordine partono i treni per Milano, Genova, Palermo e Ancona?**
- A Milano, Palermo, Ancona, Genova
 - B Ancona, Milano, Palermo, Genova
 - C Palermo, Milano, Ancona, Genova
-
- 129) **Indicare quale dei seguenti termini può essere considerato parte della serie "somiglianza - similitudine - affinità - analogia,"**
- A estraneità
 - B dissomiglianza.
 - C attinenza
-
- 130) **Giorgio, animatore di un villaggio turistico, ha organizzato per gli ospiti un torneo di Volley con 8 squadre ciascuna formata da un uguale numero di ospiti (e comunque maggiore di 6). Se finora 47 sono le persone iscritte, qual è il numero minimo di persone che si devono ancora iscrivere per poter effettuare il torneo?**
- A 7
 - B 9
 - C 13
-
- 131) **Individuare l'abbinamento errato.**
- A D'Annunzio - La pioggia nel pineto
 - B Pascoli - X Agosto
 - C Leopardi - I Sepolcri
-
- 132) **Completare correttamente la seguente successione numerica:12;21;19;17;26;13;?;?**
- A 33;11
 - B 9;32
 - C 33;9

-
- 133) **Tutti i sigma sono lambda;tutti gli omega sono sigma;tutti i lambda sono delta. In base alle precedenti affermazioni, quale delle seguenti NON e necessariamente vera?**
A I non lambda sono non delta
B I non lambda sono non delta
C Tutti i sigma sono delta
-
- 134) **Quali dei seguenti gruppi sillabici devono essere inseriti in sequenza perché le parole che seguono abbiano senso compiuto? APP(...)TIRE - ILL(...)RATO - QUE(...)RINO**
A (IAT) - (UST) - (TSU).
B (IAT) - (SUT) - (STU).
C (IAT) - (UST) - (STU).
-
- 135) **A un corso di laurea sono iscritti 235 studenti, di cui 183 maschi, 190 miopi, 204 castani e 214 in corso. Qual è il numero minimo di uomini miopi?**
A 52
B 152
C 138
-
- 136) **Relativamente alla sua funzione grammaticale il vocabolo «chiaramente» può essere inserito....**
A Nel gruppo formato da: candido - chiaro - fosco.
B Nel gruppo formato da: volentieri - là - abbastanza.
C Nel gruppo formato da: appellarsi - dormire - raccogliere
-
- 137) **Per piastrellare una parete si dispongono 9 file da 16 piastrelle. Utilizzando lo stesso numero di piastrelle, disponendone solo 12 per fila, quante file si potrebbero formare?**
A 10 file
B 13 file
C 12 file
-
- 138) **Un segmento di 42 cm è diviso in due parti proporzionali ai numeri 2 e 5. Quanto misura la parte più corta?**
A 6 cm
B 30 cm
C 12 cm
-
- 139) **Se l'affermazione "tutti i farmaci fanno bene alla salute" è vera, allora è anche vero che:**
A non esiste alcun farmaco dannoso per la salute.
B alcuni farmaci sono dannosi per la salute.
C nessun farmaco fa bene alla salute.
-
- 140) **Completare correttamente la successione numerica: 7, 21, 10, 30, 19, 57, ?, ?**
A 46, 128
B 56, 138
C 46, 138
-
- 141) **Un gioco ha le seguenti regole: se un numero è divisibile per 5 vale 5 punti;se è divisibile per 3 vale 4 punti. In base a tali regole, quale dei seguenti numeri vale di più?**
A 55
B 43
C 76
-
- 142) **Se ZAP significa cifra (singola) divisibile per 7, ZUP significa cifra (singola) divisibile per 5 e ZEP significa cifra (singola) divisibile per 4, allora con quale scrittura può essere espresso il numero 48?**
A ZUP ZEP
B ZEP ZEP
C ZAP ZAP
-
- 143) **Le piastrelle (quadrate) del pavimento (rettangolare) di un locale di dimensioni $4 \times 6 = 24$ metri sono costate complessivamente 600 euro. Sapendo che il costo unitario delle piastrelle è di 4 euro, quanto misura il lato della piastrella?**
A 50 cm
B 40 cm
C 30 cm
-
- 144) **Individuare, l'alternativa che completa correttamente la seguente serie di numeri:5;14;41;122;?**
-

- A 366
- B 244
- C 365

- 145) **Individuare la parola da scartare:**
A romanticismo
B realismo
C astigmatismo
- 146) **Un pacchetto azionario, costato 10.000 euro, ha fruttato il primo anno il 20%, il secondo il 50% e il terzo il 10%. Qual è il valore finale del pacchetto?**
A 18.000 euro
B 18.600 euro
C 19.800 euro
- 147) **L'indagine della procura non ha consentito di dimostrare l'impossibilità che il crollo del ponte sia avvenuto per cedimento strutturale. Qual è il corretto significato della precedente affermazione?**
A L'indagine della procura non ha dimostrato che il crollo del ponte non è avvenuto per cedimento strutturale
B L'indagine della procura ha dimostrato che il crollo del ponte non può essere avvenuto per cedimento strutturale
C È impossibile che il crollo del ponte sia avvenuto per cedimento strutturale
- 148) **Se Giuseppe è pronto, svelto, volenteroso nel fare posso affermare che....**
A Giuseppe è idealista.
B Giuseppe è alacre.
C Giuseppe è forbito.
- 149) **SE CAVITÀ = 12, FRANA = 10, TERRENO = 14, INONDAZIONE = ?**
A 18
B 16
C 22
- 150) **Se in Polinesia aumentasse il numero di aziende operanti sul territorio, sicuramente il tasso di disoccupazione locale diminuirebbe. L'anno scorso il tasso di disoccupazione della Polinesia è diminuito di 3 punti percentuali rispetto all'anno precedente. Se le precedenti affermazioni sono vere allora:**
A è possibile che in Polinesia, l'anno scorso, sia aumentato il numero di aziende operanti sul territorio.
B tre anni fa la disoccupazione in Polinesia era inferiore di 3 punti percentuali rispetto all'anno scorso.
C sicuramente in Polinesia, l'anno scorso, è aumentato il numero di aziende operanti sul territorio.
- 151) **Mario è nato martedì 8 febbraio. Luisa è nata mercoledì 8 marzo, nello stesso anno. Di quale anno potrebbe trattarsi?**
A 1993
B 1992
C 1982
D 1999
- 152) **Indicare quali tra i termini proposti completano correttamente la proporzione verbale: latte : X = miele: Y?**
A X = legno; Y = pecora
B X = capra; Y = ape
C X = minerale; Y = fiore
- 153) **Individuare il diagramma che soddisfa la relazione insiemistica esistente tra i termini dati: PERSONE TENACI, CONDUCENTI DI AUTOBUS, APPASSIONATI DI FORMULA 1**

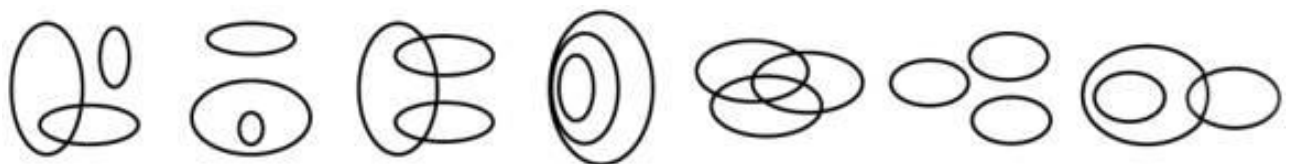


DIAGRAMMA 1 DIAGRAMMA 2 DIAGRAMMA 3 DIAGRAMMA 4 DIAGRAMMA 5 DIAGRAMMA 6 DIAGRAMMA 7

- A Diagramma 2
- B Diagramma 1
- C Diagramma 5

154) Solo se il ragno tesse la tela, la farfalla cade nella trappola. In base alla precedente affermazione, è necessariamente vero che:

- A è possibile che la farfalla cada nella trappola anche se il ragno non tesse la tela
- B se il ragno tesse la tela, sicuramente la farfalla cade nella trappola
- C se il ragno non tesse la tela, la farfalla non cade nella trappola

155) Completare correttamente la successione numerica: ? 24 31 40 47

- A 15
- B 10
- C 5

156) Esistono più di mille specie di uccelli acquatici. "Tra gli uccelli acquatici solo le specie pelagiche trascorrono tutta la loro vita, esclusa l'epoca della riproduzione, nell'acqua". Dalle precedenti affermazioni si può dedurre che:

- A gli uccelli acquatici vivono tutta la loro vita nell'acqua.
- B nessuna specie di uccelli pelagici si riproduce nell'acqua.
- C la maggioranza degli uccelli vive in prossimità dell'acqua.

157) Un gruppo di quattro amici presenta le seguenti caratteristiche: 1) Franco è nato a Gorizia e studia a Pordenone;2) I genitori di Giacomo lavorano a Udine;3) Ilario risiede a Trieste;4) Mario fa il pendolare tra Gorizia e Trieste. Pertanto:

- A non è certo che tutti gli amici siano residenti nel Friuli-Venezia Giulia.
- B è certo che almeno tre amici siano residenti nel Friuli-Venezia Giulia.
- C è possibile che nessuno dei quattro amici sia nato nel Friuli-Venezia Giulia.

158) Completare correttamente la seguente successione numerica:16;36;76;156;316;636;?

- A 1276
- B 1278
- C 1282

159) Individuare la riga che contiene un numero di "x" uguale al numero di "+".

- A ++++++XXXXX+XXX+X+
- B +XXX+XX+XX++++XX+X++
- C ++XXX+X++XX+XX++

160) A quale dominio tra quelli proposti appartiene il termine equinozio?

- A Musica.
- B Zoologia.
- C Astronomia.

161) Completare la seguente successione numerica:22;44;26;38;30;32;?;?

- A 34;26
- B 34;28
- C 36;26

162) Il termine FATTORE non ha valenza di:

- A parte di un contratto di compravendita.
- B agricoltore.
- C termine della moltiplicazione.

163) Stefano è appassionato di giardinaggio;tutti gli appassionati di giardinaggio amano la natura;alcuni floricoltori sono appassionati di giardinaggio. Se le precedenti affermazioni sono vere, quale delle seguenti è sicuramente vera?

- A Tutti i floricoltori amano la natura.
- B Stefano ama la natura.
- C Stefano è un floricoltore.

164) Completare correttamente la seguente successione numerica:19;22;31;58;?

- A 81
- B 139
- C 174

-
- 165) **Il verbo DECLAMARE significa:**
A recitare solennemente.
B richiamare alla memoria.
C protestare
-
- 166) **Individuare la riga che contiene il minor numero di lettere J.**
A UUU34JUUJFDJ909UJ1324UU663
B HSFOJYTYUTJ9JJ6583J
C CFJJGXZJ12J4568JJSGAJ
-
- 167) **Determinare l'elemento mancante nella seguente serie: D;4;?;8;N;12;R;?**
A H;8
B H;16
C F;18
-
- 168) **Completare la seguente successione: "1, 4, 10, 22, 46, ..."**
A 90
B 84
C 94
-
- 169) **I leoni amano gli elefanti; gli elefanti amano le giraffe; le giraffe amano gli scoiattoli. Se le precedenti affermazioni sono vere, quale delle seguenti è sicuramente vera?**
A nessuna delle affermazioni riportate dalle altre opzioni è vera
B le giraffe amano i leoni
C i leoni amano le giraffe
-
- 170) **Individuare il termine da scartare:**
A espressionismo
B cubismo
C monoteismo
-
- 171) **Con il termine "insipiente" ci si riferisce:**
A a un rimedio infallibile, quasi miracoloso.
B a una persona priva di serietà e consistenza intellettuale.
C a chi è fortemente indebitato.
-
- 172) **Completare correttamente la successione numerica: 9, 27, 16, 48, 37, 111, ?, ?**
A 110, 300
B 100, 290
C 100, 300
-
- 173) **Quali gruppo consonanti, anteposte al gruppo di lettere OSSO, formano parole di senso compiuto?**
A G - F - N - V
B - F - M - R
C L - N - V - Z
-
- 174) **Posti $A = \{7, 8, 9\}$ e $B = \{8, 9, 10\}$, qual è l'insieme risultante dall'intersezione di A e B?**
A $\{7, 8, 9\}$
B $\{7, 8, 9, 10\}$
C $\{8, 9\}$
-
- 175) **Quali dei seguenti gruppi sillabici devono essere inseriti in sequenza perché le parole che seguono abbiano senso compiuto? AGG(...)TARE - IDE(...)AMMA - QUA(...)NQUE**
A (IUS) - (GRO) - (NTU).
B (IUS) - (OGR) - (NTU).
C (IUS) - (GOR) - (NTU).
-
- 176) **Completare la seguente proporzione: APATICO : INDOLENTE = LABORIOSO : ?**
A attivo
B noncurante
C sfaccendato
-
- 177) **Tra le alternative proposte, scegliere quella che completa correttamente la frase «Se avessi il libro di scienze, _____ molto volentieri la lezione, ma purtroppo l'ho lasciato a scuola».**

- A studiassi
- B studierei
- C avessi studiato

178) Completare correttamente la successione numerica: DCF - 436 . HCC - ? . CHD - 384

- A 833
- B 622
- C 544

179) Scartando quale lettera dal vocabolo VALEVOLE è possibile trasformarlo in altro di senso compiuto?

- A Scartando la lettera O
- B Scartando la prima lettera E
- C Scartando la lettera A

180) Fare il doppio gioco sta a "ingannare" come "mettere la pulce nell'orecchio" sta a:

- A infierire
- B interrompere
- C insospettire

181) Relativamente alla sua funzione grammaticale il termine «civile» può essere inserito:

- A nel gruppo formato da: studiare - correre - lavorare.
- B nel gruppo formato da: caldo - rosso - felice
- C nel gruppo formato da: pure - presumibilmente - adesso.

182) Un aereo parte dall'aeroporto della città Alpha alle 9 (ora locale) e arriva all'aeroporto della città Beta alle 12 (ora locale). Riparte da Beta dopo 4 ore e atterra all'aeroporto di Alpha alle 23 (ora locale). Le città Alpha e Beta hanno un fuso orario diverso e la durata del volo di andata è la stessa di quella del volo di ritorno. Se a Alpha è mezzogiorno, che ore sono a Beta?

- A le 16
- B le 10
- C le 14

183) Il numero medio di libri venduti ogni bimestre dalla libreria Branco è pari a 240. Quanti sono i libri venduti mediamente in 15 mesi?

- A 1.6
- B 1.8
- C 1.75

184) Quale diagramma rappresenta l'insieme ANIMALI, VEGETALI, MINERALI?

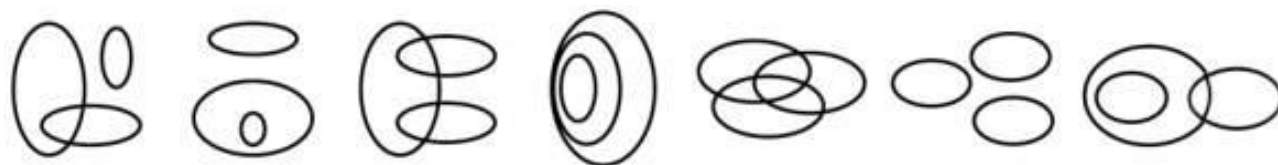


DIAGRAMMA 1 DIAGRAMMA 2 DIAGRAMMA 3 DIAGRAMMA 4 DIAGRAMMA 5 DIAGRAMMA 6 DIAGRAMMA 7

- A Diagramma 4
- B Diagramma 6
- C Diagramma 2

185) Giacomo e Simone hanno fatto merenda. Giacomo ha mangiato metà dei biscotti preparati dalla loro mamma e Simone ha mangiato un terzo dei biscotti rimanenti più altri quattro. Sapendo che non è rimasto neanche un biscotto, quanti biscotti aveva preparato la mamma?

- A 24 biscotti
- B 12 biscotti
- C 10 biscotti

186) Un gruppo di 11 amici festeggia in un ristorante il compleanno di uno di loro. Quando il cameriere porta il conto, calcolano che ciascuno dovrebbe pagare 20 euro. Tuttavia decidono di non far pagare il festeggiato: quindi quanto dovrà spendere ciascuno degli altri amici?

- A 21 euro
- B 11 euro
- C 22 euro

187) **ADUNCO** sta a **UNCINATO** come **DRITTO** sta a:

- A aquilino.
- B rettilineo.
- C ritorto.

188) **Individuare l'abbinamento errato.**

- A Palermo - Teatro Massimo
- B Firenze - Teatro alla Scala
- C Venezia - Teatro La Fenice

189) **L'affermazione: "Su ogni tavolo ci sono bicchieri" è falsa. Allora è vero che:**

- A ogni tavolo è senza bicchieri
- B c'è un tavolo senza bicchieri
- C ci sono tavoli con due o più bicchieri

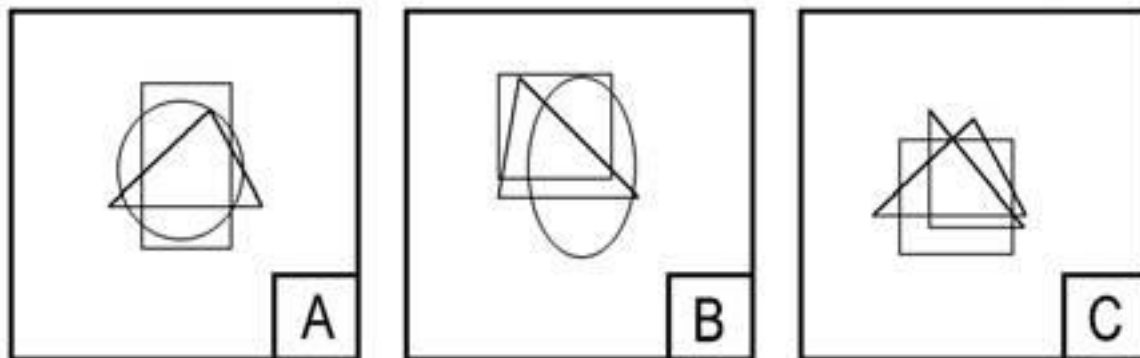
190) **Relativamente alla sua funzione grammaticale il vocabolo «stabile» può essere inserito....**

- A Nel gruppo formato da: esile - pavido - incerto.
- B Nel gruppo formato da: là - forse - spesso.
- C Nel gruppo formato da: avere, carpire, conquistare.

191) **Indica il numero che continua la serie: 24 19 14 9 ?**

- A 10
- B 7
- C 4

192) **Indicare la figura da scartare.**



- A La figura B
- B La figura A
- C La figura C

193) **ARTROPODI è un termine che appartiene al lessico:**

- A della micologia.
- B della geologia.
- C della zoologia.

194) **Un parallelepipedo di legno, che misura 15 x 8 x 16 cm, è dipinto di blu sulla superficie esterna. Se viene suddiviso in 1920 cubetti di 1 cm di lato ciascuno, quanti di questi avranno almeno una faccia dipinta di blu?**

- A 886
- B 828
- C 868

195) **Tutte le volte che accompagno mia figlia a scuola arriviamo in ritardo. Se la precedente affermazione è FALSA, quale delle seguenti è certamente vera?**

- A Almeno una volta ho accompagnato mia figlia a scuola e non siamo arrivati in ritardo.
- B Almeno una volta ho accompagnato mia figlia a scuola e siamo arrivati in ritardo.
- C Tutte le volte che ho accompagnato mia figlia a scuola siamo arrivati puntuali.

196) **Completare correttamente la successione numerica: F, E, D, C, ?**

- A A
- B B
- C I

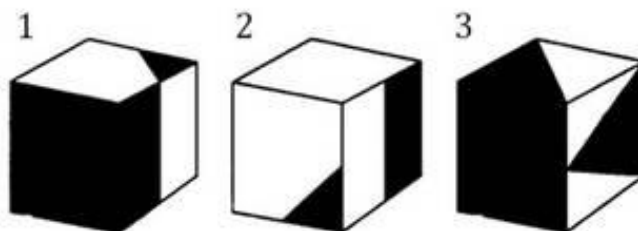
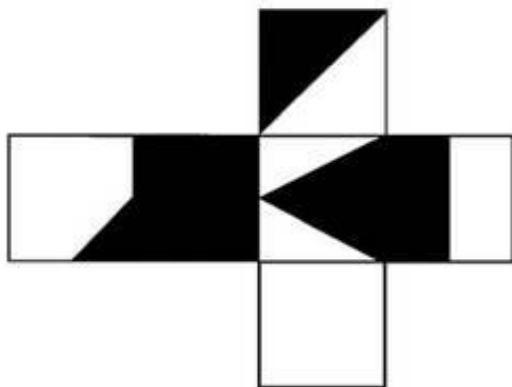
197) Una moto viaggia alla velocità di 60 km/h, ma dopo un certo periodo deve ridurre la propria velocità del 40%. A che velocità viaggia ora la moto?
A 40 km/h
B 24 km/h
C 42 km/h

198) Completare correttamente la successione numerica: 128 36 16 18 ? 9
A 2
B 12
C 8

199) Quali, tra i termini proposti, completano correttamente la seguente proporzione verbale? abile : incapace = X : Y
A X = complesso; Y = semplice
B X = calmo; Y = impulsivo
C X = impervio; Y = impermeabile

200) Completare la successione numerica: 720 144 ? 12 6
A 40
B 36
C 28

201) Quale cubo si ottiene piegando la figura a lato?



- A cubo 1
B cubo 3
C Il cubo 2

202) Quattro atleti partecipano a una gara di velocità su pista. Paolo arriva prima di Carlo; Carlo arriva prima di Luigi; Mario arriva prima di Carlo. La corsa non è stata vinta da Mario. Quale, tra le seguenti affermazioni, NON è corretta?
A Paolo è il vincitore della corsa
B Mario è arrivato dopo Luigi
C L'ordine di arrivo non è alfabetico

203) Individuare l'abbinamento errato.
A Berlino - Museo del Prado
B Firenze - Museo degli Uffizi
C Parigi - Museo del Louvre

204) Completare correttamente la seguente frase: "Non apprezzai il fatto che i miei compagni _____ delle cose non vere."
A direbbero
B avessero detto
C ebbero detto

205) Marco ha 6 candele apparentemente identiche, una delle quali è però più pesante delle altre. Avendo a disposizione una bilancia a due piatti, quante pesate saranno sufficienti per essere certi di individuarla?

- A 4
- B 3
- C 2

206) Individuare il diagramma che soddisfa la relazione insiemistica esistente tra i termini dati:
NUOTATORI, BUONGUSTAI, ITALIANI

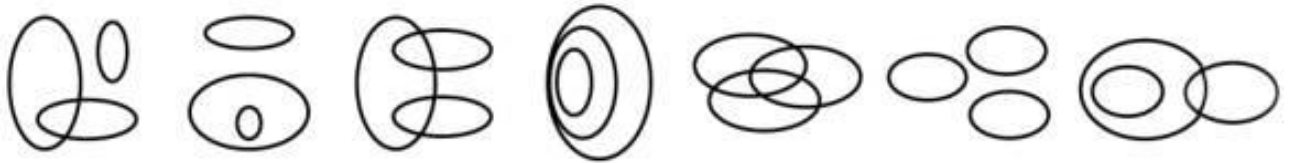


DIAGRAMMA 1 DIAGRAMMA 2 DIAGRAMMA 3 DIAGRAMMA 4 DIAGRAMMA 5 DIAGRAMMA 6 DIAGRAMMA 7

- A Diagramma 2
- B Diagramma 6
- C Diagramma 5

207) Quanti anni ci sono in 24 lustri e 4 semestri?

- A 136
- B 132
- C 122

208) Individuare la parola da scartare:

- A crepuscolarismo
- B decadentismo
- C terrorismo

209) Non è possibile negare la falsità della tesi secondo la quale gli extraterrestri non esistono. Qual è il corretto significato della precedente affermazione?

- A Non è possibile sapere con certezza se esistano o meno extraterrestri
- B Gli extraterrestri non esistono
- C Gli extraterrestri esistono

210) Completare correttamente la seguente successione numerica. 2;20;22;42;64;?

- A 106
- B 105
- C 128

211) Parallelo : Meridiano = Latitudine : ?

- A Equatore
- B Polo
- C Longitudine

212) Ha significato simile a abrogare:

- A sostituire
- B invalidare
- C rimpiazzare

213) Se L = 10, Q = 15, allora Z = ?

- A 20
- B 21
- C 18

214) Melagrana : Banana = Zucchina : ?

- A Melone
- B Pera
- C Melanzana

215) Individuare la parola da scartare:

- A triangolo
- B piramide
- C sfera

-
- 216) **Se "lo sci è uno sport invernale" e "il calcio è uno sport di squadra", si può logicamente concludere che....**
- A Le persone che sciano non amano l'inverno.
 - B La pratica dello sci e quella del calcio sono tra loro incompatibili.
 - C Nessuna risposta contiene conclusioni che possono essere logicamente dedotte dalle due affermazioni proposte.
-
- 217) **Se "Tutti i musei in Italia sono ricchi di opere d'arte. Questo museo si trova in Italia", quale delle seguenti affermazioni è certamente vera?**
- A Questo museo è preso di mira dai ladri di opere d'arte
 - B Questo museo è ricco di opere d'arte
 - C Gli unici musei ricchi di opere d'arte si trovano in Italia
-
- 218) **Qual è il termine da scartare?**
- A inviolabile
 - B inespugnabile
 - C penetrabile
-
- 219) **Dei 120 alunni di una scuola, non tutti hanno comperato il libro di storia. Chiamando, a caso, due ragazzi non se ne troveranno mai due senza libro. Quanti degli alunni hanno comperato il libro?**
- A 100
 - B 119
 - C 90
-
- 220) **Quale delle seguenti parole non ha attinenza con le altre?**
- A spartito
 - B solvente
 - C vernice
-
- 221) **In base all'enunciato "Tutti i mammiferi hanno i polmoni;alcuni mammiferi sono equini", indicare, quale delle seguenti conclusioni NON è corretta:**
- A Alcuni animali con i polmoni sono equini
 - B Non tutti i mammiferi sono equini
 - C Alcuni equini non hanno i polmoni
-
- 222) **Completare correttamente la seguente successione numerica:87;106;79;?;?;89;107;126**
- A 98;71
 - B 98;117
 - C 97;116
-
- 223) **In un viale 20 alberi crescono in fila e distano l'uno dall'altro 3 metri. Qual è la distanza tra il quarto e il penultimo albero?**
- A 48 metri
 - B 45 metri
 - C 39 metri
-
- 224) **Siano P la proposizione "x è divisibile per 4" e Q la proposizione "x è divisibile per 2". Allora:**
- A P implica Q
 - B Q implica P
 - C P equivale a Q
-
- 225) **Completare correttamente la seguente successione numerica:48;24;?;20;12;16;6;?**
- A 42;8
 - B 20;12
 - C 24;12
-
- 226) **Quale delle seguenti affermazioni è logicamente equivalente a: "gli assenti non hanno mai ragione"?**
- A I presenti hanno sempre ragione
 - B Nessuna delle altre alternative è corretta
 - C Gli assenti hanno sempre torto
-
- 227) **Quale termine, anteposto ai vocaboli "METRO -FRASI- ZIA", forma vocaboli di senso compiuto?**
- A PERI
 - B ANTI.
 - C META.

-
- 228) **Ha significato contrario di DESERTO:**
A attenuato
B affollato
C turbato
-
- 229) **Completare correttamente la seguente successione, utilizzando l'alfabeto italiano:**
R;29;31;A;26;?;?;23;25;O
A 24;M
B 28;G
C 31;M
-
- 230) **Individuare l'abbinamento errato.**
A Torino - La Stampa
B Roma - Corriere della Sera
C Napoli - Il Mattino
-
- 231) **Nella piantina di un appartamento in scala 1 : 50, la distanza tra due muri è pari a 9 centimetri. Qual è la loro distanza reale?**
A 90 centimetri
B 4,5 metri
C 45 centimetri
-
- 232) **Completare correttamente la seguente successione, utilizzando l'alfabeto italiano:**
B;2;F;3;N;5;R;8;?;?
A B;17
B A;13
C C;13
-
- 233) **Se Vittorio corre, si affatica. Se la precedente informazione è vera, quale delle seguenti affermazioni è necessariamente vera?**
A Se Vittorio non corre allora non si affatica
B Se Vittorio non è affaticato allora vuol dire che non ha corso
C È necessario che Vittorio corra perché si affatichi
-
- 234) **Utilizzando l'alfabeto italiano, completare correttamente la seguente successione di lettere:**
I;N;Z;G;L;U;?;?
A E;H
B A;L
C G;P
-
- 235) **Solo se faccio la spesa, invito amici a cena. In base alla precedente affermazione, è necessariamente vero che:**
A se non faccio la spesa, non invito amici a cena.
B se faccio la spesa, sicuramente invito gli amici a cena.
C è possibile che inviti amici a cena anche se non faccio la spesa.
-
- 236) **Se: $Z - 1 + AX = BY - 6$, $Z = 3 + BY$ allora AX è uguale a:**
A -8
B 12
C -10
-
- 237) **Osservando le lancette del suo orologio, Emma nota che esso ha accumulato esattamente un'ora di ritardo in tre giorni esatti. Tra quanto tempo, a partire da questo istante, l'orologio segnerà di nuovo l'ora esatta, se continuerà a funzionare con lo stesso ritmo?**
A 72 giorni
B 33 giorni
C 48 giorni
-
- 238) **Giorgio prenderà la patente se e solo se non commetterà errori durante la guida. Se la precedente affermazione è vera allora è certamente vero che:**
A se Giorgio non commetterà errori durante la guida, non necessariamente prenderà la patente
B se Giorgio non prenderà la patente, non necessariamente avrà commesso errori durante la guida
C se Giorgio non prenderà la patente, vorrà dire che avrà commesso errori durante la guida

-
- 239) **Individuare l'abbinamento errato.**
A Attentato alle Torri di New York -2001
B Scoperta dell'America -1492
C Sbarco in Normandia - 1917
-
- 240) **Posti A = {21, 22, 23} e B = {22, 23, 24}, qual è l'insieme risultante dall'unione di A e B?**
A {21, 22, 23}
B {22, 23, 24}
C {21, 22, 23, 24}
-
- 241) **A quale dominio tra quelli proposti appartiene il termine "tettonica"?**
A Geografia
B Geologia
C Chimica
-
- 242) **Completare correttamente la seguente successione numerica: 45;52;65;?;?;83;81;88**
A 66;72
B 63;70
C 52;64
-
- 243) **Non posso non dichiarare la mia non convinzione in merito alla invalidità della tua teoria. La precedente affermazione è equivalente a:**
A non sono convinto dell'invalidità della tua teoria
B la tua teoria per me non è valida
C sono convinto dell'invalidità della tua teoria
-
- 244) **Completare correttamente la seguente successione di lettere, utilizzando l'alfabeto italiano: Z;U;R;N;?;A**
A G
B I
C H
-
- 245) **Antonio è un amante dell'enigmistica. Tutti i matematici sono amanti dell'enigmistica. Ogni matematico è anche uno scienziato. Se le precedenti informazioni sono corrette, quale delle seguenti informazioni aggiuntive consentirebbe di concludere che Antonio è un matematico?**
A Chi ama l'enigmistica è anche un matematico.
B Ogni scienziato è anche un matematico.
C Antonio è uno scienziato.
-
- 246) **Un motociclista ha compiuto i 2/5 di una gara. Se ha corso per 20 chilometri, quanti chilometri è lungo il percorso di gara?**
A 60
B 100
C 50
-
- 247) **Solamente dopo aver lavato la macchina si può lucidarla. In base alla precedente affermazione, quale delle seguenti NON è necessariamente vera?**
A Se la macchina non è stata lavata allora non può essere lucidata.
B Se la macchina è stata lucidata significa che è stata lavata.
C Se la macchina non è stata lucidata allora non è stata lavata.
-
- 248) **Maria ha tre sorelle: Sofia, Martina e Nadia e due fratelli: Dario e Valerio. Si sa che: I) Dario è il maggiore di tutti;II) Valerio è più grande di Martina e Nadia (non necessariamente in quest'ordine) ma più piccolo di Maria e Sofia (non necessariamente in quest'ordine). In base alle informazioni precedenti è FALSO affermare che:**
A Maria è più grande di Nadia ma più piccola di Valerio.
B Maria è più grande di Martina.
C Sofia è più grande di Nadia.
-
- 249) **Con riferimento alla figura in alto, Individuare il diagramma che soddisfa la relazione insiemistica esistente tra i termini dati: Mammiferi, Gatti, Uccelli**
-

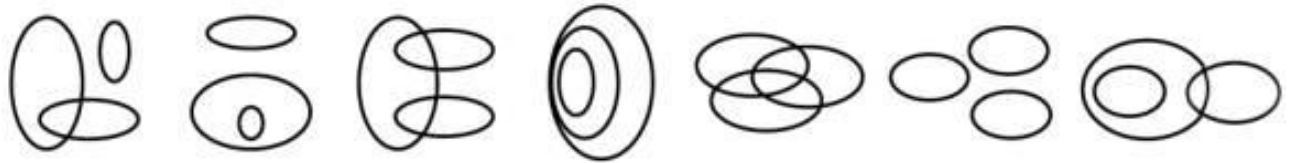


DIAGRAMMA 1 DIAGRAMMA 2 DIAGRAMMA 3 DIAGRAMMA 4 DIAGRAMMA 5 DIAGRAMMA 6 DIAGRAMMA 7

- A Diagramma 3
- B Diagramma 4
- C Diagramma 2

250) Federico ha già trascorso i 6/7 delle sue vacanze. Sapendo che dal loro inizio sono passati 72 giorni, quanti giorni di vacanza gli restano?

- A 18
- B 22
- C 12

251) Per avere la busta paga, è sufficiente rivolgersi in segreteria. Se l'affermazione precedente è vera, quale delle seguenti è certamente vera?

- A Rivolgendosi in segreteria è possibile avere la busta paga.
- B Per avere la busta paga, è necessario rivolgersi in segreteria.
- C L'unico ufficio autorizzato alla consegna della busta paga è la segreteria.

252) Completare correttamente la seguente successione numerica: 136;46;?;?;34;184;17

- A 32;92
- B 62;94
- C 68;92

253) Anagrammando la parola TUONO il sostantivo che si ottiene a che fare con:

- A il cielo
- B la terra
- C l'acqua

254) Se B = 16, C = 15, ... Z = 1, quanto vale H?

- A 12
- B 10
- C 11

255) Con quale dei seguenti gruppi di parole ha analogia il termine CONFERMATO?

- A Ratificato - convalidato - approvato.
- B Relativo - corrispondente - equivalente.
- C Respinto - rifiutato - recusato

256) Completare correttamente la seguente successione numerica: 74;38;67;46;60;54;53;62;?;?

- A 61;55
- B 67;46
- C 46;70

257) Individuare la sillaba che, preposta a SELLA, dà una parola di senso compiuto:

- A NI
- B CA
- C PO

258) Il termine ESTETISMO appartiene al lessico:

- A della fisica
- B della politica
- C della letteratura

259) Se Andrea avesse 6 euro in più di Davide, essi avrebbero in totale 34 euro. Ma Andrea ha 6 euro meno di Davide. Quanti euro ha Andrea?

- A 14
- B 12
- C 8

-
- 260) **Un sinonimo di ANCESTRALE è:**
A geniale
B storico
C atavico
-
- 261) **Individuare il nome di città da scartare:**
A Parigi
B Tokyo
C Berlino
-
- 262) **Indicare la sillaba che, posposta a "FE e preposta a DIO, forma due parole di significato compiuto:**
A sta
B ma
C le
-
- 263) **CONTRAPPUNTO è un termine che appartiene al lessico:**
A dell'informatica.
B della musica.
C dell'elettronica.
-
- 264) **Indicare la parola da scartare:**
A circo
B qualcuno
C tenda
-
- 265) **In un circo, la persona incaricata di dare da mangiare agli animali nei recinti, inizia il suo lavoro alle 6:30 del mattino. Si sa che: 1) si ferma 15 minuti presso ciascun recinto 2) le tigri vengono nutrite prima degli elefanti ma dopo gli orsi 3) i cavalli sono nutriti 15 minuti dopo gli orsi 4) i leoni sono nutriti dopo gli elefanti. Alle 6:50 l'incaricato nutrirà:**
A gli orsi
B i cavalli
C le tigri
-
- 266) **Individuare i termini mancanti nella seguente proporzione: morfologia : X = Y : suono**
A discorso, frasi
B linguistico, periodo
C parola, fonologia
-
- 267) **Completare correttamente la seguente proporzione? "Collodi : Pinocchio = x : y"**
A x = Shakespeare;y = Promessi sposi
B x = Cervantes;y = Don Chisciotte
C x = Manzoni;y = Amleto
-
- 268) **Un'azienda con 1.200 operai produce 360.000 pezzi in tre anni. Quale sarebbe la produzione annua dell'azienda se gli operai fossero 500?**
A 64000
B 50000
C 72000
-
- 269) **L'arredo di un parco prevede la messa a dimora, lungo il suo perimetro, di alberi distanziati 7 metri l'uno dall'altro. Quante alberi in più sono necessari per arredare un parco quadrato di area quadrupla rispetto a un altro parco quadrato che ha il perimetro pari a 140 metri?**
A 28
B 60
C 20
-
- 270) **In una carta geografica in scala 1 : 500.000, quanti chilometri sono rappresentati da 3 cm?**
A 150 km
B 1,5 km
C 15 km
-
- 271) **Il serbatoio di una stampante a getto d'inchiostro è completamente pieno. Dopo che è stata effettuata la stampa della tesi di uno studente, è pieno per 3/5. La stampa di un tema di un altro studente consuma 20 cc e lascia il serbatoio pieno per 2/5. Qual è la capacità complessiva del serbatoio?**

- A 80 cc
- B 100 cc
- C 60 cc

272) **A quale dominio tra quelli proposti appartiene il termine monomio?**

- A Chimica.
- B Musica
- C Algebra

273) **Dei seguenti plurali di nomi composti non è corretto:**

- A terrecotte
- B bassorilievi
- C altipiani

274) **Si dice «prende lucciole per lanterne» di qualcuno che:**

- A Confonde una cosa con un'altra ed è vittima di un vistoso abbaglio.
- B Inganna abitualmente il suo prossimo per proprio tornaconto personale.
- C Perde inutilmente il suo tempo affannandosi per fare cose di nessuna importanza.

275) **Inserire tra le parentesi il termine con il significato associabile sia al termine che precede che a quello che segue? Macchina (.....) Euro.**

- A Valuta
- B Cambio
- C Motore

276) **Quale dei seguenti abbinamenti non è coerente con gli altri?**

- A Rigido - austero
- B Fitto - rado
- C Solido - affidabile

277) **Ogni lunedì, mercoledì e sabato Federica va in piscina. In uno dei rimanenti giorni della settimana Gabriele gioca a tennis. Sapendo che il giorno dopo gli allenamenti di nuoto Federica non svolge alcuna attività fisica, qual è il giorno in cui gioca a tennis?**

- A Domenica
- B Venerdì
- C Martedì

278) **Quale tra le coppie di termini proposti completa logicamente la proporzione: x : montagna = faccia : y**

- A x = versante; y = esaedro
- B x = sommità; y = nuca
- C x = collina; y = pentagono

279) **Se l'affermazione "Ogni volta che mi alzo dal letto provo delle vertigini" è FALSA, quale delle seguenti è certamente vera?**

- A Almeno una volta mi sono alzato dal letto e ho provato delle forti vertigini
- B Almeno una volta mi sono alzato dal letto senza provare vertigini
- C Quando mi alzo dal letto non provo mai vertigini

280) **Quale delle seguenti argomentazioni si basa su un ragionamento induttivo?**

- A Tutti i pazienti affetti da demenza senile hanno un deficit di memoria. Enrico non ha un deficit di memoria. Quindi Enrico non è affetto da demenza senile.
- B Nel mio studio sperimentale tutti i pazienti affetti da demenza senile presentavano un deficit di memoria. Quindi il deficit di memoria è necessariamente presente nella demenza senile.
- C Tutti quelli che tradiscono sono infedeli, anche se a volte non possono evitarlo. Gianluca tradisce spesso. Quindi Gianluca è infedele.

281) **Se: $X - Y = 100$, $X + Y = 150$ allora X e Y sono rispettivamente uguali a:**

- A 125 e 25
- B 25 e 125
- C 150 e 50

282) **Indicare la sillaba che, preposta alla prima e aggiunta alla seconda, consente di ottenere due parole di senso compiuto. STA FI**

- A mo
- B fo
- C co

-
- 283) **Quale valore si ottiene dal prodotto fra i 2 risultati delle operazioni seguenti? $820 / 410$ e $480 / 240$**
A 6
B 10
C 4
-
- 284) **In una scuola elementare, composta da 250 alunni, sono stati attivati due corsi pomeridiani. Si sa che 200 alunni frequentano il corso di spagnolo, 199 il corso di nuoto, 24 nessuno dei due corsi. Quanti alunni frequentano entrambi i corsi?**
A 27
B 173
C Non si può stabilire perché i dati sono insufficienti
-
- 285) **Qual è la differenza tra i 2 risultati delle operazioni seguenti? $4716 / 2$ e $4714 / 2$**
A 0.5
B 2
C 1
-
- 286) **Un orologio segna le ore 3. La lancetta dei minuti forma con quella dell'ora un angolo retto. Dopo circa quanti minuti le due lancette saranno sovrapposte, cioè formeranno un angolo nullo?**
A Dopo circa 15 minuti
B Dopo circa 16 minuti
C Dopo circa 17 minuti
-
- 287) **Completare la seguente successione, utilizzando l'alfabeto italiano: C;7;B;8;A;15;Z;23;?;?**
A Q;50
B V;31
C V;38
-
- 288) **Se OPERAZIONE = 20;BISTURI = 14;SALA = 8;OSPEDALE = ?**
A 12
B 8
C 16
-
- 289) **Completare correttamente la seguente successione numerica: 41;85;73;31;?;?;21;65**
A 75;67
B 69;63
C 75;63
-
- 290) **All'ingresso dello stadio ci sono 8 file di persone in attesa. Ciascuna fila conta 3 persone in più della precedente. Nella prima fila vi sono 15 persone. Quante ce ne sono nell'ultima?**
A 16
B 39
C 36
-
- 291) **Se: $X - 1 + Y = Z + 12$, $X = 3 + Z$ allora Y è uguale a:**
A 10
B 9
C 11
D 14
-
- 292) **Di 22 alunni che vanno a scuola con un mezzo di locomozione (bicicletta, motorino o pattini), 8 possiedono la bicicletta, 12 il motorino e 9 i pattini. Sapendo che 6 ragazzi hanno sia la bicicletta sia i pattini e che in nessun caso c'è chi ha sia i pattini sia il motorino, in quanti hanno sia la bicicletta sia il motorino?**
A 1
B 3
C 5
-
- 293) **La probabilità di NON estrarre una pallina gialla da un'urna che contiene 40 palline rosse, 20 gialle e 40 nere è pari a:**
A 0.6
B 0.8
C 0.2

-
- 294) **Completare correttamente la seguente successione numerica:10;30;17;51;38;114;?;?**
A 101;303
B 101;293
C 100;202
-
- 295) **Quale termine, anteposto ai vocaboli "PASTO -PANICO - STANTE", forma vocaboli di senso compiuto?**
A PARA.
B PIRO.
C ANTI.
-
- 296) **Leonardo è un bambino vivace;alcuni bambini vivaci amano giocare a palla;chi ha più di otto anni ama giocare a palla. Se le precedenti affermazioni sono vere, allora è certamente vero che:**
A non è detto che Leonardo abbia più di otto anni.
B Leonardo ha più di otto anni.
C Leonardo ha meno di otto anni.
-
- 297) **La prima persona singolare del futuro attivo del verbo «dolarsi» è:**
A mi duolrò.
B mi dolerò.
C mi dorrò.
-
- 298) **Completare correttamente la seguente successione, utilizzando l'alfabeto italiano:A;20;L;7;16;U;3;?;?**
A 8;G
B E;1
C 12;G
-
- 299) **Se: $X = Y(3 - 7)$, $X = 5$ allora Y è uguale a:**
A -0.8
B 4
C -1.25
-
- 300) **Per ridurre il tempo necessario ai pendolari per raggiungere in auto il posto di lavoro si è pensato di introdurre delle tariffe per le auto che circolano, scoraggiando il traffico automobilistico e incoraggiando l'uso dei mezzi pubblici.Quale delle seguenti affermazioni rafforza la precedente argomentazione?**
A Molte persone che attualmente utilizzano l'auto da sole si metterebbero d'accordo con altre persone e continuerebbero a utilizzare l'automobile.
B Il sistema del trasporto pubblico non è in grado di accogliere un aumento del numero dei passeggeri.
C Ogni temporaneo miglioramento del traffico si perderebbe subito in quanto attirerebbe nuove automobili in città.
-
- 301) **Completare correttamente la seguente successione di lettere, utilizzando l'alfabeto italiano: ?;Q;N;I;F**
A U
B Z
C T
-
- 302) **Completare la seguente successione numerica: 9;18;16;14;23;10;?;?**
A 30;6
B 19;17
C 6;29
-
- 303) **Completare correttamente la seguente successione di lettere, utilizzando l'alfabeto italiano: N;O;M;O;P;N;?;?**
A O;M
B Q;H
C P;Q
-
- 304) **Se: $X + 2Y + Z = 4Y$, $X = Y$, $Z = 3$ allora Y è uguale a:**
A 2
B 4
C 3
-

- 305) In una biblioteca i $\frac{3}{5}$ dei libri sono di letteratura, $\frac{1}{7}$ di storia e i rimanenti 144 sono libri scientifici. Qual è il numero totale dei libri?
A 560
B 416
C 384
-
- 306) Un torneo di calcio si svolge in due fasi. Nella prima fase le squadre sono suddivise in 8 gruppi di ugual numero. Ciascuna squadra gioca una sola volta contro ogni squadra del proprio gruppo. La vincitrice di ciascun gruppo si qualifica per la seconda fase a eliminazione diretta. Al termine del torneo la squadra vincitrice avrà disputato 8 partite. Quante squadre partecipano alla prima fase del torneo?
A 48
B 32
C 24
-
- 307) Paolo lavora dal lunedì al venerdì e, a settimane alterne, anche il sabato. Qual è il numero massimo di giorni lavorativi di Paolo in un mese?
A 24
B 25
C 23
-
- 308) Se si lanciano due dadi, qual è la probabilità che il punteggio totale sia 2?
A $\frac{1}{36}$
B $\frac{5}{36}$
C $\frac{2}{36}$
-
- 309) Completare correttamente la frase seguente: "Grazie alla scrittura, oggi siamo in grado di sapere che la città non è stata un punto di arrivo, _____ un punto di partenza verso successive trasformazioni: i grandi imperi".
A infatti
B bensì
C cioè
-
- 310) Se: $X + X + Y = Z + Y$, $X = 8$ allora Z è uguale a:
A 16
B 19
C 13
-
- 311) Quale coppia di termini ha le stesse caratteristiche di ALBA - TRAMONTO?
A ESTATE - INVERNO
B CALORE - TEPORE
C FREDDO - GELO
-
- 312) Qual è la parola da scartare?
A Petrarca
B Dante
C Caravaggio
-
- 313) Con quale dei seguenti gruppi di parole ha analogia il vocabolo OMOLOGO?
A Corrispettivo - corrispondente - equivalente.
B Diverso - opposto - discrepante.
C Spento - velato - smorzato.
-
- 314) Michigan : X = Tanganica : Y
A X = Oceania; Y = Asia
B X = Asia; X = Europa
C X = America; Y = Africa
-
- 315) Qual è il numero il cui quadruplo meno due è uguale a 30?
A 7
B 5
C 8
-
- 316) Completare correttamente la seguente successione numerica: 45; 68; 99; ?; ?; 131; 109; 132

- A 73;98
- B 80;102
- C 77;100

-
- 317) **Data la sequenza ASDFWASATATatatsfgqwerta individuare l'alternativa che la riproduce fedelmente se inserita al posto dei puntini nella seguente: ASDFWA...fgqwerta**
- A SATATatats
 - B SATATatast
 - C ATSATatats
-
- 318) **Se: $B + B = 0 - X$, $Y + Z = Z$, $X = 0$ allora B è uguale a:**
- A -1
 - B 0
 - C 2
-
- 319) **Indicare in quale delle seguenti alternative è presente una sola volta il gruppo di lettere "ASCI".**
- A ASCICVSDASCIDERDFTGRR
 - B AZXCVBNSXDADERDFTGRR
 - C AZXCVBNASCIDERDFTGRR
-
- 320) **Se 38 operai producono 25.320 bulloni al giorno, quanti bulloni verranno prodotti al giorno da 76 operai che lavorano allo stesso ritmo?**
- A 101.280 bulloni
 - B 50.640 bulloni
 - C 50.320 bulloni
-
- 321) **Se: $X = 11$, $Y = 6X - 21 - 4Y$ allora Y è uguale a:**
- A 9
 - B 15
 - C 45
-
- 322) **Quando viene interrogata, Anna ha paura. Ma se nessuno interroga Anna, suo padre si preoccupa. Ieri il padre di Anna non si è preoccupato. Se le precedenti affermazioni sono vere, quale delle seguenti conclusioni NON può essere ricavata con certezza?**
- A Ieri Anna si è preoccupata.
 - B Ieri Anna è stata interrogata
 - C Ieri Anna ha avuto paura e suo padre non si è preoccupato
-
- 323) **Completare correttamente la seguente successione numerica: ?;3 5;7;3;5;7;?**
- A 4;8
 - B 7;3
 - C 5;7
-
- 324) **In un negozio Laura fa acquisti per un totale di 52,50 euro. Se paga al negoziante 60 euro e questi le restituisce il resto soltanto in monete da 50 centesimi, quante monete il negoziante dovrà dare a Laura?**
- A 8
 - B 15
 - C 17
-
- 325) **Quale termine integra la serie "agitato - irruente - enfatico?"**
- A pacato
 - B impetuoso
 - C silenzioso
-
- 326) **Quale delle tre serie di numeri o lettere è identica alla seguente: 3838388833383383**
- A 3840000000000000
 - B 3840000000000000
 - C 3840000000000000
-
- 327) **Se "in una libreria ci sono diversi scaffali con libri di matematica e di chimica; negli scaffali dove ci sono almeno due libri ce ne è almeno uno di chimica" allora è vero che...**
- A in uno scaffale che contiene due libri potrebbero non esserci libri di matematica
 - B se in uno scaffale c'è un solo libro, questo è di chimica
 - C il numero dei libri di matematica in uno scaffale è sempre inferiore al numero di libri di chimica

-
- 328) **Completare la seguente successione: "100, 121, 144, ..."**
A 196
B 170
C 169
-
- 329) **Individuare l'abbinamento errato tra autore e opera.**
A Agatha Christie Delitto e castigo
B Lev Tolstoj Anna Karenina
C Gustav Flaubert Madame Bovary
-
- 330) **Se si dividono 91 biscotti in tre piatti in modo che il primo piatto contenga un terzo dei biscotti del secondo e il secondo piatto un terzo dei biscotti del terzo piatto. Quanti biscotti conterrà il secondo piatto?**
A 29
B 21
C 25
-
- 331) **Se la lettera "D" corrisponde a 13, la lettera "B" corrisponde a 7 e la lettera "C" corrisponde a 10, a quale sequenza corrisponde la codifica: DEFBC?**
A 13 - 10 - 19 - 7 - 16.
B 13 - 16 - 19 - 7 - 10.
C 13 - 7 - 22 - 16 - 10.
-
- 332) **Completare correttamente la seguente proporzione. Scafo : nave = X : Y**
A X = porto; Y = nave
B X = carlinga; Y = aereo
C X = ferrovia; Y = treno
-
- 333) **Completare correttamente la seguente successione numerica: 39;47;48;?;?;44;31;39**
A 35;43
B 47;36
C 38;45
-
- 334) **Individuare l'abbinamento errato.**
A Verdi - Rigoletto
B Puccini - Traviata
C Mozart - Il flauto magico
-
- 335) **Un elettricista prepara un impianto in 15 giorni. Quanti elettricisti (che lavorano allo stesso ritmo del primo) devono lavorare per preparare 5 impianti in 5 giorni?**
A 20
B 25
C 15
-
- 336) **Individuare l'abbinamento errato**
A L'amica geniale - Andrea Camilleri
B Se questo è un uomo - Primo Levi
C Il nome della rosa - Umberto Eco
-
- 337) **Un contrario di LOQUACE è:**
A verboso
B laconico
C chiacchierone
-
- 338) **Quanti minuti occorrono a un'auto, che corre alla velocità di 125 km/h, per percorrere 368 km?**
A 525
B 176.64
C 4120
-
- 339) **Un'auto corre alla velocità di 125 km/h. Quanti minuti occorrono per percorrere 368 km a un'auto che corre alla velocità di 125 km/h?**
A 525
B 4120
C 176.64

-
- 340) 12 8 24 ? 36
A 28
B 14
C 20
-
- 341) Non posso affermare di non aver protestato. Pertanto:
A protesterò.
B potrei anche non aver protestato.
C ho protestato.
-
- 342) Due lati di un ottagono formano un angolo interno di:
A 115 gradi
B 135 gradi
C 145 gradi
-
- 343) Indicare quali, tra i termini proposti, completano correttamente la seguente proporzione verbale.
Ricordare : X = Dimenticare : Y
A X = accogliere;Y = respingere
B X = cancellare;Y = scordare
C X = accordare;Y = concordare
-
- 344) Laura deve nutrire i suoi pesci, 20 in tutto, divisi in due acquari. Se per ogni pesce del primo acquario Laura deve usare cinque larve, mentre per ogni pesce del secondo sei, quanti sono i pesci nel secondo acquario, se per nutrire i 20 pesci ha utilizzato 112 larve?
A 15
B 10
C 12
-
- 345) In una scatola ci sono 60 penne;non tutte e rosse. Se tuttavia si estraggono tre penne qualsiasi dalla scatola, almeno due sono rosse. Quante sono le penne rosse contenute nella scatola?
A 30
B 57
C 59
-
- 346) Un sinonimo di "titanico" è:
A favoloso
B aggressivo
C gigantesco
-
- 347) Individuare l'abbinamento errato.
A Pantelleria - Sicilia
B Elba -Toscana
C Capri - Sardegna
-
- 348) Completare la seguente successione: "... , 34, 53, 65, 84, 96, 115".
A 15
B 22
C 25
-
- 349) A quale dominio tra quelli proposti appartiene il termine "processore"?
A Giurisprudenza
B Meccanica
C Informatica
-
- 350) In una classe di 33 studenti, 18 giocano a calcio, 17 giocano a basket e 4 non praticano né calcio né basket. Quanti sono gli studenti che giocano sia a calcio sia a basket?
A 6
B 9
C 11
-
- 351) Completare la seguente successione, utilizzando l'alfabeto italiano: D;8;C;9;B;17;A;26;?;?
A C;52
B R;55
C Z;43

-
- 352) Se: $X + Y - X = X - 7$, $Y = -1$ Allora X è uguale a:
A -8
B -6
C 6
-
- 353) Completare correttamente la seguente successione di lettere, utilizzando l'alfabeto italiano:
G;P;D;R;B;O;?;?
A D;M
B E;N
C M;P
-
- 354) Il prezzo originario di un divano era di euro 2500. Se durante una campagna promozionale il prezzo del divano è stato ridotto a euro 1850, qual è la percentuale di sconto?
A 0.26
B 0.35
C 0.2
-
- 355) Se: $X - 3 + Y = Z - Y$, $X = 5$, $Y = -2$ Allora Z è uguale a:
A 1
B 3
C -2
-
- 356) Indicare in quale delle seguenti alternative viene rispettata la regola dell'alternanza consonante vocale.
A DIVELAMLINADIT
B DIVELAMOLINADIT
C DIVELAMOLINDAIT
-
- 357) Se l'affermazione "tutti gli studenti di economia dicono sempre la verità" è FALSA, quale delle seguenti proposizioni è necessariamente vera?
A C'è almeno uno studente di economia che non dice sempre la verità.
B Chi dice sempre la verità è uno studente di economia.
C Chi non è studente di economia non dice sempre la verità.
-
- 358) Una strada lunga 104 metri ha in totale 28 platani posti su entrambi i lati. Sapendo che i platani sono tra loro equidistanti, a quale distanza è posto un platano dall'altro?
A 8 metri
B 4 metri
C 3,7 metri
-
- 359) Indicare la sillaba che, aggiunta al primo e preposta al secondo gruppo di lettere, consente di ottenere due parole di senso compiuto. LE (...) MO
A chi
B gno
C gli
-
- 360) Il significato di "impudente" è:
A che costituisce motivo di pudore
B che non si cura del pericolo
C che manca di rispetto o di contegno
-
- 361) Completare la seguente successione: (6, 5, 24) (7, 7, 43) (9, 8, 66) (5, 9, ...)
A 40
B 39
C 36
-
- 362) Se il padre di Antonio è fratello della madre di Ugo, in che rapporto di parentela è Ugo con la madre di Antonio?
A Nipote
B Cugino
C Zio
-
- 363) Completare la seguente successione: 95, 90, 80, 65, ...
A 55
B 45
C 50

- 364) In un quartiere di 416 abitanti, ciascuna persona possiede un cane o un gatto o entrambi. Se ci sono 316 persone che hanno un cane e 280 che hanno un gatto, quanti sono i proprietari di cane che non hanno gatto?
A 136
B 100
C 184
- 365) A quale velocità viaggia un autocarro che impiega 1 h e 40 minuti per percorrere 60 Km in?
A 48 Km/h
B 42 km/h
C 36 Km/h
- 366) Indicare la sillaba che, preposta al primo e aggiunta al secondo gruppo di lettere, consente di ottenere due parole di senso compiuto. RIA - PA
A bo
B sto
C co
- 367) Se: $X + 20 + Y = Z + 2$, $X = 6 + Z$ allora Y è uguale a:
A 24
B 12
C -24
- 368) In base all'alfabeto italiano, completare correttamente la seguente successione di lettere: D;E;S;O;P;E;?;?
A B;M
B A;B
C N;C
- 369) Completare correttamente la seguente successione numerica: 40;48;49;?;?;45;32;40
A 36;44
B 48;37
C 50;37
- 370) Completare correttamente la seguente successione numerica: 13;39;27;81;69;207;?;?
A 210;541
B 195;585
C 195;587
- 371) Dei seguenti gruppi alfanumerici, quale ripropone in senso inverso, la sequenza "GT38HD923NDE9H"?
A H9EDN329DH83TG
B H9EDN329DH83TG
C H9END329DH83TG
- 372) Posti $A = \{34, 35, 36\}$ e $B = \{35, 36, 37\}$, qual è l'insieme risultante dall'unione di A e B?
A $\{35, 36\}$
B $\{34, 35, 36, 37\}$
C $\{35, 36, 37\}$
- 373) Indicare la sillaba che, aggiunta al primo e preposta al secondo gruppo di lettere, consente di ottenere due parole di senso compiuto. SAB (...) DA
A mo
B bia
C ca
- 374) NON ha significato analogo a "ratificare":
A legittimare
B manifestare
C approvare
- 375) Quale valore si ottiene dal prodotto fra i 2 risultati delle operazioni seguenti? $620 / 310$ e $780 / 260$
A 9
B 8
C 6

-
- 376) **Completare la successione numerica: 9;18;16;14;23;10;?;?**
A 19;17
B 6;29
C 30;6
-
- 377) **In base alla sua funzione grammaticale il termine «qualora» può essere inserito:**
A nel gruppo formato da "talmente - dove - quando".
B nel gruppo formato da "bello - docile - aggressivo".
C nel gruppo formato da "fare - agire - temere".
-
- 378) **Completare la seguente successione di lettere, utilizzando l'alfabeto italiano: N;O;M;O;P;N;?;?**
A O;M
B Q;H
C P;Q
-
- 379) **Dei seguenti plurali di nomi composti non è corretto:**
A guardasigilli
B pescecani
C capireparto
-
- 380) **Anna e Francesca corrono sulla pista di atletica dello stadio. Anna impiega 4 minuti per ogni giro, Francesca impiega 6 minuti per ogni giro. Se partono allo stesso momento, dopo quanti minuti esse passeranno ancora la linea di partenza insieme?**
A 6 minuti
B 9 minuti
C 12 minuti
-
- 381) **Tutti i filosofi amano la logica. Max ama giocare a scacchi. Chi ama giocare a scacchi è goloso. Quale delle seguenti affermazioni è sicuramente vera?**
A Max ha tutti i requisiti per essere un buon giocatore di scacchi.
B Non si può negare che Max sia goloso.
C Tutti i filosofi amano giocare a scacchi.
-
- 382) **In inverno dei 90 bambini di una scuola durante l'inverno, 61 indossano la sciarpa, 43 indossano sia la sciarpa che il cappello e 9 indossano soltanto i guanti. Quanti sono i bambini che indossano solo il cappello?**
A 20
B 18
C 28
-
- 383) **Completare la seguente successione numerica: 12, 15, 21, 24, 30, ...**
A 33;39
B 38;40
C 34;37
-
- 384) **Indicare quale delle seguenti opzioni fa parte dello stesso campo grammaticale della parola "volo":**
A volare
B uccello
C volatile
-
- 385) **In quale, tra le seguenti sequenze di cifre, compare, almeno una volta, la stringa: "68524225"?**
A 1.23E+029
B 4.2E+029
C 1.44E+028
-
- 386) **Completare correttamente la seguente successione numerica: 19;22;31;58;?**
A 67
B 139
C 174
-
- 387) **Qual è la parola da scartare?**
A Carpaccio
B Boccaccio
C Veronese

388) 691 7, 21, 10, 30, 19, 57, ?, ?

- A 46, 138
- B 56, 138
- C 46, 128

389) Individuare la parola da scartare:

- A cristianesimo
- B medesimo
- C protestantesimo

390) Completare correttamente la seguente successione numerica: 45;68;99;?;?;131;109;132

- A 80;102
- B 73;98
- C 77;100

391) Se: $X + 1 = -X + Y + Z$, $Z = 2 + X$, $Y = 0$ Allora X è uguale a:

- A 1
- B 3
- C -1

392) Walter ha vissuto i primi $\frac{2}{5}$ della sua vita in montagna. Sapendo che ha vissuto in montagna per 24 anni, da quanti anni vive altrove?

- A 44
- B 40
- C 36

393) Indicare in quale delle seguenti alternative è presente una sola volta il gruppo di lettere "SXDE" (esattamente come riportato tra virgolette).

- A AZXCVBNSXDEDERDFTGRR
- B AZXCVBNSXDADERDFTGRR
- C AZXCVSXDESXDERDFTGRR

394) Se ARTE = 1;BUCA = 2: CARTA = ?

- A 5
- B 6
- C 3

395) Con riferimento alla figura in alto, Individuare il diagramma che soddisfa la relazione insiemistica esistente tra i termini dati: Vegetali, Frutti, Limoni

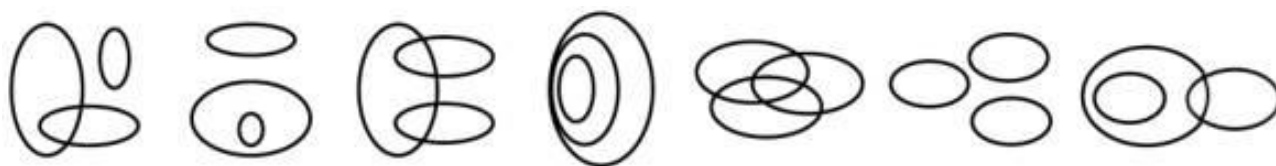


DIAGRAMMA 1 DIAGRAMMA 2 DIAGRAMMA 3 DIAGRAMMA 4 DIAGRAMMA 5 DIAGRAMMA 6 DIAGRAMMA 7

- A Diagramma 3
- B Diagramma 4
- C Diagramma 1

396) Completare correttamente la seguente successione numerica: ?;6;5;11;6;5;11;?

- A 12;4
- B 11;6
- C 11;5

397) In un negozio Laura fa acquisti per un totale di 52,50 euro. Se paga al negoziante 60 euro e questi le restituisce il resto in monete da 50 centesimi, quante monete il negoziante dovrà dare a Laura?

- A 17
- B 8
- C 15

398) Quale termine integra la serie "agitato - irruente - esuberante?"

- A impetuoso
- B pacato
- C silenzioso

-
- 399) **Quale delle tre serie di numeri o lettere è identica alla seguente: 3838388833383338**
- A 3840000000000000
 - B 3840000000000000
 - C 3840000000000000
-
- 400) **In una libreria ci sono diversi scaffali con libri di matematica e di chimica; negli scaffali dove ci sono almeno due libri ce ne è almeno uno di chimica". Pertanto:**
- A in uno scaffale che contiene due libri potrebbero non esserci libri di matematica.
 - B il numero dei libri di matematica in uno scaffale è sempre inferiore al numero di libri di chimica.
 - C se in uno scaffale c'è un solo libro, questo è di chimica.
-
- 401) **Completare la seguente successione: 100, 121, 144, ...**
- A 196
 - B 170
 - C 169
-
- 402) **Se si dividono 91 mele in tre cassette in modo che la prima contenga un terzo delle mele della seconda e la seconda cassetta un terzo delle mele della terza. Quante mele conterrà la seconda cassetta?**
- A 21
 - B 29
 - C 25
-
- 403) **Individuare quale delle quattro serie di numeri o lettere è identica a quella data: 4999499444494944**
- A 5000000000000000
 - B 4500000000000000
 - C 4990000000000000
-
- 404) **Completare correttamente la seguente proporzione. Automobile: barca = X : Y**
- A X = acqua; Y = aria
 - B X = garage; Y = rimessaggio
 - C X = meccanico; Y = pilota
-
- 405) **Completare correttamente la seguente successione numerica: 38;46;33;?;?;36;23 31**
- A 38;45
 - B 41;28
 - C 47;15
-
- 406) **Individuare l'abbinamento errato:**
- A Stoccolma -Svezia
 - B Helsinki - Finlandia
 - C Oslo - Islanda
-
- 407) **Quale tra i seguenti vocaboli si può definire palindromo?**
- A asso
 - B ossa
 - C osso
-
- 408) **Se ogni giorno pratico jogging, perdo peso. in base alla precedente affermazione, è necessariamente vero che:**
- A Se perdo peso, è probabile che stia facendo anche una dieta
 - B Se non perdo peso significa che non pratico jogging ogni giorno
 - C Ogni giorno che corro, perdo peso
-
- 409) **Un sinonimo di "ferace" è:**
- A fertile
 - B chiacchierone
 - C improduttivo
-
- 410) **A quale velocità viaggia un'auto che percorre una distanza di 210 km in 1 ora e 45 minuti?**

- A 120
- B 140
- C 105

-
- 411) **Completare correttamente la seguente successione, utilizzando l'alfabeto italiano:A;54;T;62;P;70;?;?**
- A M;76
 - B L;78
 - C L;76
-
- 412) **Indicare quali, tra i termini proposti, completano correttamente la seguente proporzione verbale. Frazionare : X = emancipare : Y**
- A X = accentrare;Y = svincolare
 - B X = suddividere;Y = affrancare
 - C X = dislocare;Y = asservire
-
- 413) **In una scatola ci sono 40 palline;non tutte gialle . Se tuttavia si estraggono tre palline qualsiasi dalla scatola, almeno due sono gialle. Quante sono le palline gialle contenute nella scatola?**
- A 39
 - B 30
 - C 27
-
- 414) **Un sinonimo di "titanico" è:**
- A favoloso
 - B aggressivo
 - C gigantesco
-
- 415) **Se gli studenti si impegnano, conseguiranno la promozione. Se quanto affermato corrisponde a verità, quale delle seguenti affermazioni è necessariamente vera?**
- A Alcuni studenti saranno bocciati.
 - B Se uno studente non si impegna, verrà bocciato.
 - C Verranno promossi solo gli studenti che si sono impegnati.
-
- 416) **Individuare l'abbinamento errato:**
- A Elba -Toscana
 - B Pantelleria - Sicilia
 - C Capri - Sardegna
-
- 417) **Individuare la frase corretta.**
- A Mi chiedo se non era meglio rinunciare al viaggio.
 - B Mi chiedo se non sarebbe stato meglio rinunciare al viaggio.
 - C Mi chiedo se non fosse stato meglio rinunciare al viaggio.
-
- 418) **A quale dominio tra quelli proposti appartiene il termine "inchiesta"?**
- A Giornalismo
 - B Moda
 - C Medicina
-
- 419) **Individuare la frase corretta.**
- A Se avessi saputo che ti trovavi all'estero, non ti cercavo.
 - B Se avessi saputo che ti trovassi all'estero, non ti avessi cercato.
 - C Se avessi saputo che ti trovavi all'estero, non ti avrei cercato.
-
- 420) **Se BAIA = 1;RADA = 2;GOLFO = 3;INSENATURA = ?**
- A 5
 - B 7
 - C 4
-
- 421) **Se: $X + Y - X = X - 7$, $Y = -1$ Allora X è uguale a:**
- A -6
 - B 6
 - C -8
-
- 422) **A quale numero del sistema decimale corrisponde il numero romano MMXXI?**

- A 2021
- B 2011
- C 2001

423) **Tutte le gallerie svizzere sono illuminate. Questa galleria si trova in Svizzera. In base alle precedenti informazioni, quale delle seguenti affermazioni è certamente vera?**

- A Questa galleria potrebbe non essere illuminata
- B Questa galleria è illuminata
- C Le gallerie illuminate si trovano solo in Svizzera

424) **Se: $X - 3 + Y = Y - Y$, $X = 5$, $Y = -2$ Allora Y è uguale a:**

- A -2
- B 3
- C 1

425) **Completare la proporzione: Foresta : X = deserto : Y**

- A X = Macchia; Y = Scandinavia
- B X = Amazzonia; Y = Sahara
- C X = Mediterraneo; Y = Antartide

426) **Indicare l'abbinamento errato.**

- A Leonardo - Il Cenacolo
- B Picasso - L'urlo
- C Van Gogh - I girasoli

427) **Mario è saggio. Tutti gli anziani sono saggi. Anna è anziana. In base alle precedenti informazioni, quale delle seguenti affermazioni è necessariamente vera?**

- A Mario è più giovane di Anna
- B Anna è saggia
- C I saggi sono tutti anziani

428) **Indicare la sillaba che, aggiunta al primo e preposta al secondo gruppo di lettere, consente di ottenere due aggettivi: SA (...) TO**

- A chi
- B gli
- C no

429) **Al lessico di quale disciplina appartiene il termine "bemolle"?**

- A Meccanica
- B Biologia
- C Musica

430) **Se il padre di Antonio è fratello della madre di Ugo, qual è il rapporto di parentela di Ugo con la madre di Antonio?**

- A Nipote
- B Cugino
- C Zio

431) **Completare la seguente successione: 15;20;30;45;?;90**

- A 65
- B 85
- C 100

432) **In un quartiere di 416 abitanti, ciascuna persona possiede un cane o un gatto o entrambi. Se ci sono 316 persone che hanno un cane e 280 che hanno un gatto, quanti sono i proprietari di cane che non hanno gatto?**

- A 136
- B 184
- C 100

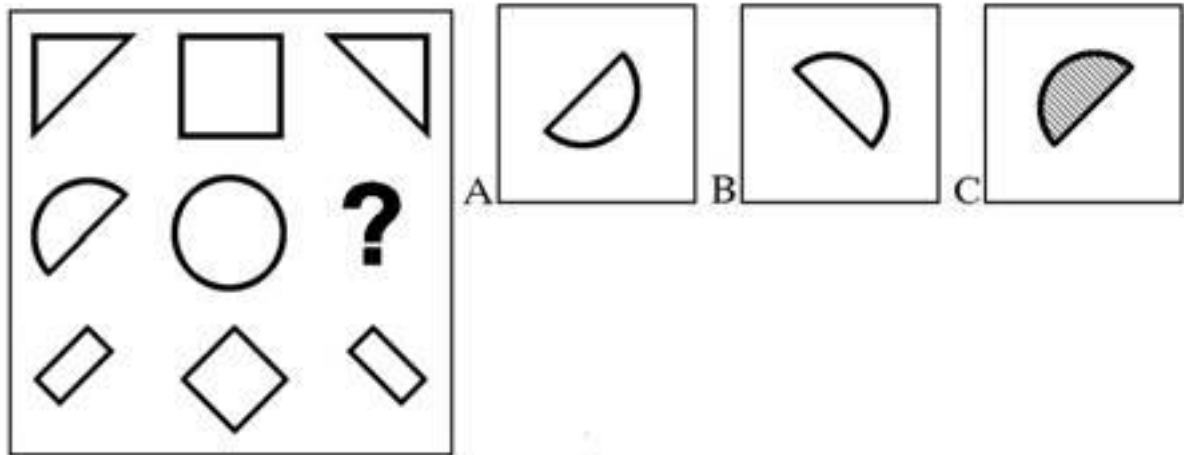
433) **A quale velocità viaggia un autocarro che impiega 1 h e 40 minuti per percorrere 60 Km?**

- A 48 Km/h
 - B 36 Km/h
 - C 42 km/h
-

- 434) Indicare la sillaba che, preposta al primo e aggiunta al secondo gruppo di lettere, consente di ottenere due parole di senso compiuto. RIA - PA
A sto
B co
C bo
-
- 435) Se: $X + 20 + Y = Z + 2$ $X = 6 + Z$ allora Y è uguale a :
A 12
B 24
C -24
-
- 436) In base all'alfabeto italiano, completare correttamente la seguente successione di lettere:
D;E;S;O;P;E;?;?
A N;C
B A;B
C B;M
-
- 437) Completare correttamente la seguente successione numerica: 40;48;49;?;?;45;32;40
A 50;37
B 36;44
C 48;37
-
- 438) Completare correttamente la seguente successione numerica: 10;15;13;18;16;21;?;?;22
A 23;28
B 30;41
C 19;24
-
- 439) Una multinazionale con un fatturato pari a 100 milioni di euro ha visto calare del 20% il fatturato nel primo anno, del 10% nel secondo e del 50% nel terzo. Qual è il suo fatturato alla fine del terzo anno?
A 72 milioni di euro
B 28 milioni di euro
C 36 milioni di euro
-
- 440) Se $A = \{34, 35, 36\}$ e $B = \{35, 36, 37\}$, qual è l'insieme risultante dall'unione di A e B?
A $\{35, 36, 37\}$
B $\{35, 36\}$
C $\{34, 35, 36, 37\}$
-
- 441) Chi pratica sport vive bene. "Vivere bene è una caratteristica di chi non fuma". Se le precedenti affermazioni sono vere, allora è necessariamente vero che:
A Chi vive bene pratica sport
B Chi non fuma vive bene
C Chi fuma pratica sport
-
- 442) Indicare quale delle seguenti opzioni fa parte dello stesso campo grammaticale della parola "mai":
A sempre
B con
C volare
-
- 443) Indicare la sillaba che, aggiunta al primo e preposta al secondo gruppo di lettere, consente di ottenere due parole di senso compiuto. LA (...) NO
A si
B ca
C ma
-
- 444) NON ha significato analogo a "laconico":
A conciso
B verboso
C sintetico
-
- 445) Individuare l'abbinamento errato tra autore e opera.
A Torino - Po
B Firenze - Adige
C Roma - Tevere

- 446) Se la lettera "F" corrisponde a 11, la lettera "D" corrisponde a 8 e la lettera "C" corrisponde a 14, a quale sequenza corrisponde la codifica: FDRBC?
- A 11 - 8 - 6 - 9 - 14
 - B 11 - 5 - 12 - 14 - 9
 - C 11 - 7 - 3 - 10 - 14

- 447) Quale figura va inserita nella serie?



- A Figura A
- B Figura C
- C Figura B

- 448) Individuare i termini che completano correttamente la seguente proporzione. X : Polonia = Lettonia: Y
- A X = Ungheria; Y = Praga
 - B X = Varsavia; Y = Riga
 - C X = Bulgaria; Y = Bratislava

- 449) Completare la serie con il numero mancante: 4, 12, 36,...
- A 72
 - B 108
 - C 96

- 450) È sinonimo di EDULCORARE:
- A attenuare
 - B modificare
 - C adulterare


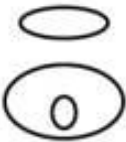


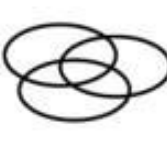
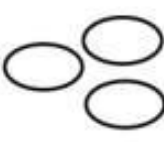
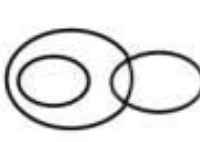
- 451) Individuare l'abbinamento errato:
- A invidia - benevolenza
 - B superbia - arroganza
 - C avarizia - generosità

- 452) Giuseppe acquista due T-shirt al prezzo di 11 euro e 10 centesimi. Una costa 10 euro più dell'altra. Quanto costa ciascuna T-shirt?
- A Una T-shirt costa 10 euro e 10 centesimi e l'altra 1 euro
 - B Una T-shirt costa 10 euro e 55 centesimi e l'altra 55 centesimi
 - C Una T-shirt costa 10 euro e l'altra 1 euro e 10 centesimi

- 453) Il fatturato annuo di una società è sceso da 450.000 euro a 360.000 euro. Qual è la diminuzione percentuale?
- A 0.2
 - B 0.25
 - C 0.3

- 454) Completare la seguente proporzione: astronomo : telescopio = X : Y
- A X = meteorologo; Y = barometro
 - B X = insegnante; Y = alunno
 - C X = scrittore; Y = libro

-
- 455) **Il confronto fra i due brani musicali non ha consentito di dimostrare l'impossibilità che il musicista Rossini abbia copiato la canzone dal musicista Bellini. Qual è il corretto significato della precedente affermazione?**
- A Il confronto fra i due brani ha dimostrato che il musicista Rossini non può aver copiato la canzone dal musicista Bellini
 - B Il confronto fra i due brani ha dimostrato che il musicista Rossini ha copiato la canzone dal musicista Bellini
 - C Il confronto fra i due brani non ha dimostrato che il musicista Rossini
-
- 456) **Degli iscritti a un corso di arti marziali 45 sono principianti e il 40% a livello avanzato. Quanti sono in tutto gli iscritti?**
- A 120
 - B 75
 - C 90
-
- 457) **Individuare li termini che completano correttamente la seguente proporzione. X : girasole = rosso: Y**
- A X = giallo;Y = papavero
 - B X = sole;Y = campo
 - C X = estate;Y = fioritura
-
- 458) **Se in base a una regola nascosta, a POLO corrisponde 16 e a BASKET corrisponde 28, che numero corrisponde a SCHERMA?**
- A 36
 - B 28
 - C 22
-
- 459) **Completare correttamente la seguente successione, utilizzando l'alfabeto italiano: ?;P;5;R;9;?;13;V**
- A 2;Q
 - B 4;S
 - C 1;T
-
- 460) **Bisogna stare molto attenti per comprendere bene la lezione di fisica. Se la precedente affermazione è vera, allora è anche vero che:**
- A se non si comprende la lezione di fisica, sicuramente significa che non si è stati molto attenti
 - B è possibile comprendere bene la lezione di fisica anche se non si è stati molto attenti
 - C se si è compresa bene la lezione di fisica, vuol dire che si è stati molto attenti
-
- 461) **Completare correttamente la seguente successione numerica: 79;96;89;106;99;116...?**
- A 133;150
 - B 121;128
 - C 109;126
-
- 462) **Ulisse è un amante dei viaggi. Tutti i navigatori sono amanti dei viaggi. Ogni navigatore è anche uno sportivo". Se le precedenti affermazioni sono corrette, quale delle seguenti informazioni addizionali consentirebbe di concludere che Ulisse è un navigatore?**
- A Ogni sportivo è anche un navigatore
 - B Chi ama i viaggi è anche un navigatore
 - C Non vi è bisogno di alcuna informazione addizionale
-
- 463) **Individuare l'alternativa che riporta una successione di elementi in ordine inverso rispetto alla sequenza ABABAABA.**
- A ABAABABA
 - B ABABAABA
 - C ABABBABA
-
- 464) **Se a ogni ciclo una cellula si divide in due cellule, dopo quanti cicli le cellule saranno almeno 30, partendo da 1 cellula?**
- A 4
 - B 3
 - C 5
-
- 465) **È sinonimo di "oppugnare":**
- A Confutare
 - B Comprovare
 - C Opprimere

- 466) Se: $X + X = Y - Z$, $X = 6$, $Y = -3$ Allora Z è uguale a:
 A -5
 B -15
 C 15
-
- 467) Lanciando due volte un dado cubico regolare, con facce numerate da 1 a 6, qual è la probabilità che escano 2 numeri multipli di 3?
 A $1/2$
 B $1/6$
 C $1/9$
-
- 468) Completa la seguente successione: "104, 52, 56, ..., ..., 16, 20"
 A 60, 24
 B 28, 32
 C 30, 26
-
- 469) Stefano è appassionato di giardinaggio. Tutti gli appassionati di giardinaggio amano la natura. Alcuni floricoltori sono appassionati di giardinaggio. Se le precedenti affermazioni sono vere, quale delle seguenti è sicuramente vera?
 A Non è certo che Stefano ami la natura.
 B Stefano ama la natura.
 C Stefano è un floricoltore.
-
- 470) ATTIGUO : LIMITROFO = X : Y
 A X = circostante; Y = remoto
 B X = prossimo; Y = lontano
 C X = lontano; Y = distante
-
- 471) Individuare, l'alternativa che completa correttamente la seguente serie di numeri: 5;14;41;122;?
 A 365
 B 364
 C 366
 D 244
-
- 472) Individuare il diagramma che soddisfa la relazione insiemistica esistente tra i termini dati: UOMINI, DEPUTATI, SENATORI.
- 






- DIAGRAMMA 1 DIAGRAMMA 2 DIAGRAMMA 3 DIAGRAMMA 4 DIAGRAMMA 5 DIAGRAMMA 6 DIAGRAMMA 7
- A Diagramma 1
 B Diagramma 2
 C Diagramma 5
 D Diagramma 3
-
- 473) Se la lettera N identifica una qualunque cifra (singola), la lettera P identifica una qualunque cifra (singola) pari e la lettera D identifica una qualunque cifra (singola) dispari, allora il prodotto tra i numeri PP e PP sarà certamente un numero:
 A composto da cinque cifre
 B dispari di tre cifre
 C pari
-
- 474) Maria vuole dividere 288 biglie tra i suoi tre figli, Davide, Andrea e Luca, in proporzione alla loro età. Sapendo che Andrea ha due anni in meno di Davide, che ha 8 anni, e Luca ha la metà degli anni di Davide, quante biglie toccheranno ad Andrea?
 A 96 biglie
 B 128 biglie
 C 48 biglie
-
- 475) Relativamente alla sua funzione grammaticale il vocabolo « gli » può essere inserito....

- A Nel gruppo formato da: forte - scavato - giallo.
- B Nel gruppo formato da: dormire, sentire, scendere
- C Nel gruppo formato da: "il - lo - le".

476) Individuare il numero che completa la serie: 3 11 33 ? 123

- A 41
- B 63
- C 99

477) Se cubo = 3, mare = 11, giostra = 7, fiera = ?

- A 6
- B 9
- C 12

478) Quale gruppo di lettere, premesso in sequenza ai termini proposti, determina parole di senso compiuto? ALDO - AGLIO - ALGA - ALLA - ANCA.

- A T - B - V - E - A
- B C - V - M - C - B
- C A - T - M - P - B
- D B - T - N - A - P

479) Quale espressione indica chi, nell'intraprendere un'attività, anticipa inopportuna qualcosa e non agisce secondo un ordine logico?

- A Menare il can per l'aia.
- B Mettere il carro avanti ai buoi.
- C Mettere le mani avanti.

480) Un'azienda riduce di un quarto il numero dei dipendenti, ma dopo qualche tempo incrementa il nuovo numero di dipendenti di un terzo. Come è cambiato globalmente il numero dei dipendenti?

- A Non si può stabilire perché non è noto il numero iniziale dei dipendenti
- B È diminuito di un dodicesimo
- C È rimasto inalterato

481) Marina possiede 5 collane apparentemente identiche, una delle quali è però più pesante delle altre. Avendo a disposizione una bilancia a due piatti, quante pesate saranno sufficienti per essere certi di individuarla?

- A 3
- B 4
- C 2

482) Completare la seguente successione: "3, 4, 6, 10, 18, 34, ..."

- A 66
- B 96
- C 86

483) Renato è più veloce di Alberto ma più lento di Gianni, il quale a sua volta è più veloce di Franco ma più lento di Leo. Se le precedenti affermazioni sono vere, allora è necessariamente vero che:

- A Renato è più veloce di Franco
- B Alberto è più veloce di Franco
- C Leo è più veloce di Renato

484) Se B = 15, C = 14, ... Z = 0, N è uguale a ?

- A 7
- B 9
- C 8

485) Completare correttamente la seguente successione, utilizzando l'alfabeto italiano:
H;111;L;93;N;75;?;57;R;?

- A P;39
- B O;41
- C N;37

486) Completare la seguente proporzione: chirurgo : bisturi = X : Y

- A X = meccanico; Y = automobile
- B X = tipografo; Y = libro
- C X = scultore; Y = scalpello

- 487) Individuare il diagramma che soddisfa la relazione insiemistica esistente tra i termini dati: Donne sposate, Persone abbronzate, Uomini single

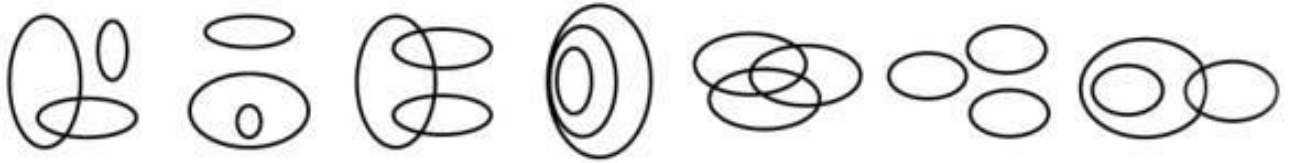


DIAGRAMMA 1 DIAGRAMMA 2 DIAGRAMMA 3 DIAGRAMMA 4 DIAGRAMMA 5 DIAGRAMMA 6 DIAGRAMMA 7

- A Diagramma 3
B Diagramma 1
C Diagramma 2

- 488) Un contadino porta al mercato 70 uova e ne vende 14. Quale percentuale rimane invenduta?

- A 0.8
B 0.2
C 0.5

- 489) Il significato di "impavido" è:

- A sfrontato.
B coraggioso.
C ipocrita.

- 490) Considerando che il segno "+" identifica "-", il segno "-" identifica "+", il segno "x" identifica ":", il segno ":" identifica "x", in quale dei seguenti punti è riproposta la seguente stringa: $12 - (9 : 3) - (20 \times 4) =$

- A $12 + (9 \times 3) - (20 : 4) =$
B $12 - (9 \times 3) + (20 : 4) =$
C $12 + (9 \times 3) + (20 : 4) =$

- 491) Indicare il termine da scartare:

- A salto in alto
B salto con gli sci
C salto in lungo

- 492) Tutti i divi del cinema sono famosi; Leonardo è carismatico; tutte le persone carismatiche sono famose. In base alle precedenti affermazioni, quale delle seguenti NON è necessariamente vera?

- A Non esistono persone carismatiche non famose.
B Leonardo è famoso.
C Leonardo è un divo del cinema.

- 493) Individuare, tra i termini seguenti, quello che è sinonimo sia con «osservazione» sia con «altura».

- A risalto
B rilievo
C prospetto

- 494) Cento conigli mangiano, in cento giorni, un quintale di carote. Quanti chilogrammi dello stesso alimento mangeranno dieci conigli in dieci giorni?

- A 1
B 100
C 10

- 495) Completare la seguente successione: "8, 22, 50, 106, 218, ..."

- A 442
B 428
C 416

- 496) Individuare l'abbinamento errato:

- A Paolo - Beatrice
B Antonio - Cleopatra
C Giulietta - Romeo

-
- 497) **Completare la seguente successione numerica: 171;168;177;?;?;178;173;170**
A 172;169
B 167;172
C 176;181
-
- 498) **Completare correttamente la seguente successione numerica: 43;30;51;?;?;47;35;22**
A 30;43
B 39;26
C 42;29
-
- 499) **Un camion che trasporta 156 bottiglie di vino, a causa di un incidente ne perde i 3/13. Successivamente, mentre il camion si trova in officina, un meccanico vengono rubate altre 20 bottiglie. Quante bottiglie intatte rimangono sul camion?**
A 56
B 100
C 120
-
- 500) **Non è assolutamente inopportuno sconsigliare, se non addirittura vietare, il consumo di superalcolici da parte dei minorenni. Che cosa si deduce dalla precedente affermazione?**
A I maggiorenni possono consumare bevande alcoliche senza problemi
B È opportuno sconsigliare ai minorenni il consumo di alcolici
C I superalcolici danneggiano la salute
-
- 501) **Completare correttamente la seguente successione numerica: 20;60;?;144;132;396;384;?**
A 48;1.152
B 1.152;60
C 180;1.154
-
- 502) **Completare la successione numerica: 14) ? 100 112 130 154**
A 88
B 90
C 94
-
- 503) **Se l'affermazione "Tutte le partite di serie A sono truccate" è vera, allora necessariamente:**
A tutte le partite di serie B non sono truccate.
B nessuna delle altre alternative è corretta.
C è impossibile negare che nella serie A esista almeno una partita truccata.
-
- 504) **Completare correttamente la seguente successione numerica: 105;123;97;?;?;106;123;141**
A 117;134
B 114;132
C 123;115
-
- 505) **Per vincere le Olimpiadi, l'atleta deve allenarsi tutto l'anno. Se l'affermazione precedente è vera, quale delle seguenti deve essere vera?**
A È sufficiente che l'atleta si alleni tutto l'anno perché vinca le Olimpiadi
B Se l'atleta si allena tutto l'anno, allora vince le Olimpiadi
C Se l'atleta non si allena tutto l'anno, non vince le Olimpiadi
-
- 506) **I napoletani sono ospitali. Paolo è ospitale. Alcune persone ospitali sono simpatiche. In base alle premesse date, quale delle seguenti affermazioni è necessariamente vera?**
A Paolo è napoletano.
B Non si può dire se Paolo sia o meno simpatico.
C Paolo è simpatico.
-
- 507) **Se W viene prima di K; Y viene prima di K; K viene prima di D; W viene prima di Y; qual è l'ordine corretto delle lettere?**
A D - Y - K - W
B Y - K - D - W
C W - Y - K - D
-
- 508) **Completare correttamente la seguente successione numerica: 121 242 ? 968**
A 428
B 484
C 442

-
- 509) Quali tra i termini proposti completano correttamente la seguente proporzione? decennio : cinquantennio = X : Y
- A X = anno; Y = lustro
 - B X = mese Y = settimana
 - C X = ora Y = minuto
-
- 510) Le indagini della Polizia non hanno escluso l'impossibilità che il colpo non sia stato sparato dalla casa di fronte. A quale delle seguenti la precedente affermazione è logicamente equivalente?
- A Il colpo deve essere stato sparato dalla casa di fronte.
 - B La perizia non è riuscita a certificare, dopo molte ricerche, che il colpo sia stato sparato dalla finestra
 - C Il colpo non è stato sicuramente sparato dalla casa di fronte.
-
- 511) Se MELA = 2; CILIEGIA = 5; ALBICOCCA = ?
- A 8
 - B 7
 - C 4
-
- 512) Completare correttamente la successione numerica: ?, D, G, L, O
- A A
 - B P
 - C L
-
- 513) Individuare i termini che completano correttamente la seguente proporzione. X : tromba = percussioni: Y
- A X = piatti; Y = note
 - B X = fiati; Y = batteria
 - C X = suono; Y = melodia
-
- 514) Completare correttamente la successione numerica. ?, ?, 16, 55, 21, 58, 26, 61
- A 11, 52
 - B 52, 11
 - C 9, 52
-
- 515) Nessun lettore di gialli è amante della storia. Alcuni filosofi sono amanti della storia. Tutti i lettori di gialli sono persone anziane. Se le precedenti affermazioni sono vere, allora è certamente vero che:
- A almeno un filosofo può essere anziano
 - B nessun filosofo può essere lettore di gialli
 - C nessun amante della storia può essere anziano
-
- 516) Indicare il significato corretto del termine PLEBISCITO.
- A governo del popolo
 - B consenso generale
 - C rivolta delle classi povere
-
- 517) È sbagliato non ammettere che la competenza del medico non è bastata per impedire che la prognosi risultasse errata. Basandosi sulla precedente affermazione, individuare quale delle seguenti alternative è esatta.
- A La prognosi è risultata errata nonostante la competenza del medico
 - B Grazie alla competenza del medico la prognosi non è risultata errata
 - C La prognosi è risultata corretta nonostante l'incompetenza del medico
-
- 518) Un autobus ha percorso i 5/9 del suo tragitto. Se ha percorso 1.500 metri, quanti metri deve ancora percorrere l'autobus per completare il tragitto?
- A 2400
 - B 1200
 - C 1750
-
- 519) Quali, tra i termini proposti, completano correttamente la seguente proporzione verbale? Ambiente : ricco = X : Y
- A X = ambiente Y = chiuso
 - B X = giusto Y = errato
 - C X = stravagante Y = bizzarro
-
- 520) Non esiste favola senza lieto fine. Se la precedente affermazione è FALSA, quale delle seguenti è necessariamente vera?

- A Esiste almeno una favola senza lieto fine
- B Tutte le favole hanno un lieto fine
- C Nessuna favola ha un lieto fine

521) Individuare i termini che completano la proporzione: Lombardia : Campania = X : Y

- A X= Brianza;Y= Cilento
- B X= Polesine;Y= Maremma
- C X= Maremma;Y= Monferrato

522) Completare la serie con il numero che manca: 4 9 19 ? 79 159

- A 41
- B 39
- C 40

523) Quali, tra i termini proposti, completano correttamente la seguente proporzione verbale? Libro : biblioteca = X : Y

- A X = piatto;Y = bicchiere
- B X = quadro;Y = pinacoteca
- C X = credenza;Y = piatto

524) Completare la seguente successione di numeri: 120, 116, 112, 108, ...

- A 102
- B 104
- C 128

525) Tutti gli sportivi sono estroversi;Fabrizio è audace;tutte le persone audaci sono estroverse. In base alle precedenti affermazioni, quale delle seguenti è necessariamente vera?

- A Tutti gli sportivi si chiamano Fabrizio.
- B Fabrizio è estroverso.
- C Tutti gli sportivi sono audaci.

526) Completare la successione numerica: 11 75 33 71 ? 67

- A 60
- B 99
- C 59

527) Di una frase, un discorso o un'attività inconcludenti si dice che:

- A non hanno né capo né coda.
- B hanno carta bianca.
- C hanno un sesto senso.

528) alfa : X come Y : fine

- A X=numero;Y=cifra
- B X=principio;Y=omega
- C X=beta;Y=mezzo

529) Completare la successione numerica: 12 8 24 ? 36

- A 20
- B 14
- C 30

530) Individuare l'abbinamento errato tra autore e opera.

- A Tolstoj - Anna Karenina
- B Manzoni - Le mie prigioni
- C Flaubert - Madame Bovary

531) Qual è la probabilità di estrarre una figura da un mazzo di 40 carte?

- A 1/4
- B 3/10
- C 1/2

532) Se B = 16, C = 15, ... Z = 1, quanto vale T?

- A 3
- B 2
- C 4

533) Completare la successione numerica: 11, 33, 21, 63, 51, 153, ?, ?

- A 151, 413
- B 141, 433
- C 141, 423

534) Se: $(X + YK) : 2 = X + Z$, $YK = 33$, $X = -5$ allora Z è uguale a:

- A -19
- B 19
- C 9

535) Indicare in quale delle seguenti alternative la lettera K è presente un numero maggiore di volte rispetto alla lettera W.

- A KWKWKKKWWWKWKKW
- B WWWKWKWWWKWKW
- C KWKWWWKWWWKWKW

536) Completare la successione numerica: 50 25 ? 50 200

- A 105
- B 125
- C 100

537) Con riferimento ai diagrammi, Individuare il diagramma che soddisfa la relazione insiemistica esistente tra i termini dati: PERSONE DAI CAPELLI CASTANI, PERSONE DAI CAPELLI ROSSI, ITALIANI.

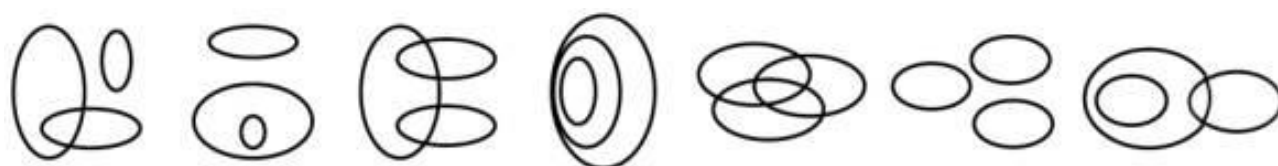


DIAGRAMMA 1 DIAGRAMMA 2 DIAGRAMMA 3 DIAGRAMMA 4 DIAGRAMMA 5 DIAGRAMMA 6 DIAGRAMMA 7

- A Diagramma 3
- B Diagramma 2
- C Diagramma 5

538) Completare la successione numerica: 11 4 ? 24

- A 28
- B 31
- C 22

539) Se il terreno viene concimato ogni anno, la produzione di ortaggi rimarrà costante. In base alla precedente affermazione, è necessariamente vero che:

- A per aumentare la produzione di ortaggi occorre concimare il terreno almeno una volta all'anno.
- B se non si concima il terreno ogni anno, la produzione di ortaggi non rimarrà costante.
- C anche se il terreno viene concimato ogni anno, la produzione di ortaggi potrebbe non rimanere costante.

540) Il contrario di PROLISSO è:

- A Preciso
- B Interminabile
- C Sintetico

541) Individuare l'abbinamento errato.

- A Colonia- Germania
- B Porto -Portogallo
- C Marsiglia -Spagna

542) Individuare l'alternativa che riproduce fedelmente la sequenza JKFDKVDNDLKLVDURTEUIF se inserita al posto dei puntini nella seguente: JKFDKVD...RTEUIF

- A DNBLKLDVDU
- B DNDLKLVDU
- C DNDLKLVD

-
- 543) **Durante un processo: 1) è stata respinta la prova che nega che il sig. Rossi abbia truffato il sig. Bianchi;2) non è stata acquisita alcuna prova del contrario. Se ne può dedurre che:**
- A il sig. Rossi ha sicuramente truffato il sig. Bianchi
 - B il sig. Rossi potrebbe aver truffato il sig. Bianchi
 - C il sig. Rossi non ha truffato il sig. Bianchi al 99%
-
- 544) **Marco dice a Filippo: "Se mi dai 8 euro, avremo in tasca gli stessi soldi!". Filippo risponde: "Se tu dai a me 8 euro, io avrò il doppio dei tuoi soldi!". Quanti soldi hanno inizialmente in tasca, rispettivamente, Marco e Filippo?**
- A 16 e 32 euro
 - B 40 e 56 euro
 - C 24 e 40 euro
-
- 545) **A quale dominio tra quelli proposti appartiene il termine RIFRAZIONE?**
- A Fisica.
 - B Botanica
 - C Aritmetica.
-
- 546) **Un'asta di metallo lunga 1 metro è sospesa per il suo centro. A 30 cm dall'estremità sinistra è agganciato un peso di 5 kg, mentre all'estremità opposta è agganciato un peso di 24 kg. Cosa è necessario fare per equilibrare l'asta e mantenerla in posizione orizzontale?**
- A Nulla, l'asta è già in equilibrio.
 - B Aggiungere, al peso agganciato a destra, un ulteriore peso di 22 kg.
 - C Aggiungere, al peso agganciato a sinistra, un ulteriore peso di 55 kg.
-
- 547) **Quali, tra i termini proposti, completano correttamente la seguente proporzione verbale? Colonne : architrave = X : Y**
- A X = tetto;Y = muro
 - B X = finestra;Y = vetraio
 - C X = gambe;Y = tavolo
-
- 548) **Aldo e Marco mangiano 8 mele in 15 minuti. Aldo ne mangia il triplo di Marco che a sua volta ne mangia un terzo di Gino. Quante mele potrebbero mangiare i tre insieme in un'ora?**
- A 32
 - B 20
 - C 56
-
- 549) **Ha significato opposto di ATTRAENTE:**
- A avvincente
 - B ripugnante
 - C allettante
-
- 550) **Completare correttamente la seguente successione, utilizzando l'alfabeto italiano::4;T;5;Z;9;T;14;Z;23;?;?**
- A T;37
 - B T;34
 - C Z;40
-
- 551) **Se: $X + 5 + Y = Z + 2$, $X = -15 + Z$ allora Y è uguale a:**
- A 12
 - B -12
 - C -36
-
- 552) **Nessuno Zeta è Omega;qualche Beta è Zeta;qualche Erre è Omega. Se le precedenti affermazioni sono vere, allora è certamente vero che:**
- A qualche Erre è Zeta
 - B qualche Beta potrebbe essere Omega
 - C nessun Erre è Beta
-
- 553) **Utilizzando l'alfabeto italiano, completare correttamente la seguente successione di lettere: D;G;N;C;F;M;?;?**
- A E;I
 - B L;H
 - C B;E
-
- 554) **Indicare il numero che manca tra le parentesi: 72 (122) 172 82 (?) 212**
-

- A 192
- B 147
- C 294

-
- 555) Se BERGAMO = 6, SIENA = 4, MODENA = 5, ALESSANDRIA = ?:
- A 10
 - B 9
 - C 7
-
- 556) Date le premesse Tutti i gatti sono mammiferi"" e ""Nessun gatto ha le piume", quale dei seguenti enunciati se ne può dedurre?"
- A Nessun mammifero ha le piume.
 - B Qualche mammifero ha le piume.
 - C Qualche mammifero non ha le piume.
-
- 557) Completare la seguente successione numerica 8 ? 256 512 512
- A 116
 - B 64
 - C 60
-
- 558) Completare la proporzione: grafomane: X = Y : lirica
- A X = melomane;Y = scrittore
 - B X = scrittura;Y = melomane
 - C X = scrittura;Y = canto
-
- 559) Indicare la sillaba che, aggiunta alle parole sottostanti, ne cambia completamente significato: legge albe alte
- A sia
 - B ro
 - C ca
-
- 560) Sull'autobus un avviso recita: "I passeggeri sono tenuti a pagare un ulteriore biglietto per ogni bagaglio che superi le seguenti dimensioni: 50 cm x 30 cm x 25 cm". Chi legge comprende che, in base a questa norma, si debba pagare un'ulteriore biglietto per un oggetto di qualunque forma che occupi uno spazio il cui volume è superiore a quello occupato dal bagaglio sopra descritto. Pertanto:
- A si deve pagare un biglietto per un pallone del diametro di 20 cm.
 - B si deve pagare un biglietto per un bastone lungo 90 cm e con il diametro di 2 cm se tenuto orizzontalmente.
 - C si deve pagare un biglietto per un oggetto che supera 50 cm di lunghezza e 30 cm di altezza e 25 cm di spessore.
-
- 561) Completare la seguente successione numerica: 6 8 16 18 36 ?
- A 38
 - B 74
 - C 72
-
- 562) Dall'affermazione "non è stata data la prova della negazione della certezza che gli Italiani non si astengono dal manifestare paura per gli animali esotici" consegue che:
- A gli Italiani hanno paura degli animali esotici.
 - B gli italiani non sanno se aver paura o meno degli animali esotici.
 - C gli Italiani non hanno paura degli animali esotici.
-
- 563) Ha significato affine a filantropo:
- A altruista
 - B asociale
 - C egoista
-
- 564) Completare la seguente successione numerica: 89 82 70 ? 51
- A 52
 - B 56
 - C 63
-
- 565) L'azienda ALPHA ha fatto registrare un fatturato (in migliaia di euro) pari rispettivamente a 400 nell'anno 2004 e a 440 nell'anno 2005. L'incremento percentuale del fatturato registrato nel passaggio dall'esercizio 2004 a quello 2005 è stato pari al:

- A 0.1
- B 0.12
- C 0.04

-
- 566) **Completare correttamente la seguente proporzione: luce : X = calore : Y**
- A X = lampadina; Y = stufa
 - B X = giorno Y = notte
 - C X = ombra Y = luminosità
-
- 567) **Completare correttamente la seguente successione di lettere, utilizzando l'alfabeto italiano:
?;F;H;L;N**
- A E
 - B D
 - C O
-
- 568) **Era sufficiente chiedere cortesemente il lasciapassare per ottenerlo. Se la precedente affermazione è vera, allora è vero che:**
- A il lasciapassare è stato dato solo alle persone più gentili
 - B Chi non ha ottenuto il lasciapassare non lo ha chiesto cortesemente.
 - C chi non lo ha chiesto cortesemente non ha ottenuto il lasciapassare
-
- 569) **Il più grande di tre fratelli ha un'età pari alla somma delle età degli altri due; il fratello intermedio ha il doppio dell'età del più piccolo. Inoltre l'età del fratello intermedio è pari a quella del maggiore meno tre. Quanti anni ha il più piccolo?**
- A 6
 - B 8
 - C 3
-
- 570) **Quanti triangoli equilateri possono essere disegnati intorno a un punto, accostandoli come fette di una torta?**
- A 9
 - B 6
 - C 12
-
- 571) **Completare la seguente successione numerica: 4, 6, 10, 18, ...**
- A 36
 - B 34
 - C 26
-
- 572) **Ha significato analogo a FLUORESCENTE:**
- A evanescente
 - B fosforescente
 - C fluido
-
- 573) **Il viale di ingresso di un cimitero, lungo 125 metri, ha in totale 22 cipressi posti su entrambi i lati. Sapendo che i cipressi sono tra loro equidistanti, a quale distanza è posto un albero dall'altro?**
- A 6,7 metri
 - B 12,5 metri
 - C 8 metri
-
- 574) **La frase "da quanto si sa, non si può concludere che la partita sia stata persa" è logicamente equivalente a:**
- A non è possibile sostenere che la partita sia stata persa
 - B presto si saprà se la partita è stata vinta o persa
 - C si può affermare che la partita è stata vinta
-
- 575) **Roberto ha un fratello di nome Mauro e una sorella di nome Anna, che ha sposato il fratello della moglie di Roberto. Che relazione c'è tra Roberto e il marito di Anna?**
- A Sono cognati
 - B Sono consuoceri
 - C Sono cugini
-
- 576) **Piero ha letto 32 pagine più della metà di un romanzo, per cui gli mancano 132 pagine alla fine. A quale pagina è arrivato?**
- A 158
 - B 96
 - C 264

-
- 577) **Non esiste alcun elemento probatorio che consenta di eliminare la possibilità che l'imputato sia estraneo al fatto. Dalla precedente affermazione si deduce che:**
- A l'imputato è estraneo al fatto
 - B è impossibile che l'imputato sia estraneo al fatto
 - C è possibile che l'imputato sia estraneo al fatto
-
- 578) **Aldo ha più denaro di Bruno, il quale ne ha meno di Carlo, che a sua volta ne possiede più di Gianni. Questo significa che?**
- A Bruno possiede meno denaro di Aldo e di Carlo
 - B Gianni è il più ricco
 - C Bruno non ha denaro
-
- 579) **Se K viene prima di C; Y viene prima di C; C viene prima di J; K viene prima di Y; qual è l'ordine corretto delle lettere?**
- A K - Y - C - J
 - B K - C - J - Y
 - C C - J - Y - K
-
- 580) **In quante diverse maniere si possono disporre le prime 5 lettere dell'alfabeto?**
- A 60
 - B 100
 - C 120
-
- 581) **I due terzi degli avvistamenti di UFO sono attribuibili ad aeroplani e tre quarti della rimanenza sono attribuibili a palloni meteorologici. Se in un anno vi sono stati 108 avvistamenti di UFO, quanti di questi non sono attribuibili né ad aeroplani, né a palloni meteorologici?**
- A 9 avvistamenti
 - B 11 avvistamenti
 - C 24 avvistamenti
-
- 582) **In un condominio vivono 33 famiglie, ognuna delle quali possiede almeno 1 o 2 o 3 biciclette. Sapendo che il numero delle famiglie che possiede 1 bici è uguale al numero delle famiglie che ne possiedono 3, il numero totale di biciclette sono:**
- A 66
 - B 33
 - C 15
-
- 583) **Individuare la parola da scartare:**
- A caparbio
 - B arrendevole
 - C ostinato
-
- 584) **Una squadra di 9 decoratori inizia a pitturare un gruppo di appartamenti prevedendo di completare il lavoro in 20 giorni. Due giorni dopo l'inizio del lavoro, altri 9 decoratori vengono ad aggiungersi agli altri. In quanti giorni sarà completato il lavoro?**
- A 15
 - B 9
 - C 11
-
- 585) **Individuare il numero che completa la serie: 14 7 12 6 10 ...**
- A 3
 - B 8
 - C 5
-
- 586) **Individua l'alternativa e completa la proporzione di parole. X : tiepido = Y : caldo**
- A X = allegro; Y = contento
 - B X = gelido; Y = freddo
 - C X = freddo; Y = vapore
-
- 587) **64 ? 75 82 90**
- A 67
 - B 69
 - C 68

-
- 588) **Indica la sillaba che, posposta alla prima e preposta alla seconda, fornisce un significato compiuto a entrambe: FAL (...) RO**
- A co
 - B bo
 - C na
-
- 589) **Se tutti gli uomini hanno la barba e tutti i militari sono uomini, quale affermazione fra le seguenti è vera?**
- A Non tutti i militari hanno la barba
 - B Solo i militari portano la barba
 - C Tutti i militari hanno la barba
-
- 590) **Se Claudia va a lavorare, il marito lava i piatti. Se la precedente affermazione è vera, allora è sicuramente vero che:**
- A se il marito non lava i piatti, allora Claudia non è andata a lavorare.
 - B se Claudia non va a lavorare allora il marito non lava i piatti.
 - C Claudia va a lavorare se il marito lava i piatti.
-
- 591) **Quale dei seguenti non è un anagramma del nome di un colore?**
- A Dovere
 - B Sorso
 - C Raso
-
- 592) **Marco parte da casa in bicicletta diretto a casa di Luca nello stesso istante in cui Luca si avvia a piedi da casa propria verso casa di Marco. Sapendo che i due percorrono la stessa strada, che Marco procede a 20 km/h e Lucia a 6 km/h e che le due case distano 13 km, dopo quanto tempo si incontreranno?**
- A 45 minuti
 - B 60 minuti
 - C 30 minuti
-
- 593) **Individuare quale delle quattro serie di numeri o lettere è identica a quella data: SSSBSSSBBSBBB**
- A SSSBSSSBBSBBB
 - B SSSSSSSBBSBBB
 - C SSSBSSSBBSBSB
-
- 594) **Individuare il numero che completa la serie: 41 52 ? 74**
- A 63
 - B 17
 - C 14
-
- 595) **Se il pomeriggio ho lavorato, la sera ho fame e se la sera ho fame, allora sono nervoso. Quale delle seguenti conclusioni non posso trarre da queste premesse?**
- A Se la sera non ho fame, allora non ho lavorato il pomeriggio.
 - B Se la sera non ho fame, allora non sono nervoso.
 - C Se lavoro il pomeriggio, allora la sera ho fame e sono nervoso.
-
- 596) **Se "non è vero che tutti gli abitanti di Bassopoli sono bassi e antipatici", quale delle seguenti affermazioni è vera?**
- A Esiste qualche abitante di Bassopoli che non è basso oppure non è antipatico.
 - B Gli abitanti di Bassopoli sono alti e antipatici.
 - C Gli abitanti di Bassopoli se sono bassi non sono simpatici.
-
- 597) **I gabbiani possono solamente volare e camminare, ma le scimmie possono saltare. Se la precedente affermazione è corretta, allora:**
- A i gabbiani non saltano
 - B le scimmie possono volare
 - C i gabbiani talvolta saltano
-
- 598) **Indicare in quale delle seguenti alternative viene rispettata la regola di alternanza "vocale - consonante".**
- A EPOFABELEUFABEL
 - B EPOFABELPUFABEL
 - C EPOFABELEFABELU
-

- 599) Utilizzando l'alfabeto italiano, completare correttamente la seguente successione di lettere:
C;F;C;E;H;E;?;?
A Q;O
B G;L
C H;E
-
- 600) Individuare l'abbinamento errato:
A Campania - isola d'Ischia
B Toscana - isola d'Elba
C Sicilia - isola di Capri
-
- 601) Completare la sequenza di numeri: 2 6 11 15 20 ?
A 23
B 24
C 22
-
- 602) In quale dei seguenti gruppi alfanumerici sono contenuti, in ordine diverso, tutti gli elementi della seguente stringa: QFOSKUELAXKEZRQMZJG
A EUKSZGQXMJNKLPFHRQZA
B EUKSZGQXMJKLPFZAOEBO
C EUKSZGQXMJKLPFRQZAOE
-
- 603) Dei 50 iscritti a un corso di danza non tutti sono donne, ma se si prendono due iscritti a caso, almeno uno dei due è una donna. Quante sono le donne iscritte al corso?
A 45
B 48
C 49
-
- 604) Un fiorista, avendo 75 rose, 60 margherite e 90 tulipani, vuole distribuirli in vasi contenenti ciascuno il maggior numero di fiori dei 3 tipi. Di quanti vasi avrà bisogno? E quanti fiori di ciascun tipo conterrà ciascun vaso?
A 5 vasi e 45 fiori
B 15 vasi e 15 fiori
C 3 vasi e 75 fiori
-
- 605) Se: $X + 4 + Y = Z + 3$ $X = -12 + Z$ allora Y è uguale a:
A 11
B -11
C -5
-
- 606) Tutti i bambini sono capricciosi;Max è capriccioso;tutte le persone capricciose hanno un carattere difficile. In base alle precedenti affermazioni, quale delle seguenti NON è necessariamente vera
A Chi non ha un carattere difficile non è capriccioso.
B Max è un bambino.
C È impossibile che Max non abbia un carattere difficile.
-
- 607) Tutti i tassisti sono abili guidatori. Giovanni è un abile guidatore. Tutti i tassisti sono agitati. Se le precedenti affermazioni sono vere, quale delle seguenti è necessariamente vera?
A Nessun tassista è un abile guidatore ed è calmo.
B Giovanni è agitato.
C Tutti gli abili guidatori sono agitati.
-
- 608) Completare la seguente successione numerica: 61;87;121;?;?;156;131;157
A 96;122
B 155;130
C 99;124
-
- 609) A è più di B. C e D sono entrambi più magri di E. B è più grasso di C ma più magro di D. Se le precedenti informazioni sono corrette, F è più grasso di B se è anche vero che:
A F è più grasso di C.
B E è più grasso di F.
C F è più grasso di A.
-
- 610) Se l'affermazione "Nel centro storico tutti i palazzi sono antichi" è FALSA, quale delle seguenti affermazioni è necessariamente vera?

- A Nel centro storico tutti i palazzi non sono antichi.
- B Almeno un palazzo nel centro storico non è antico.
- C Nel centro storico non ci sono palazzi antichi.

611) **Completare la seguente successione numerica: 68;34;36;18;?;?**

- A 21;10
- B 21;20
- C 20;10

612) **In base alla sua funzione grammaticale il termine «qualunque» può essere inserito:**

- A nel gruppo formato da: primo, secondo, terzo.
- B nel gruppo formato da: mentre - qualora - quando.
- C nel gruppo formato da: qualcuno - nessuno - qualsiasi .

613) **Se l'affermazione "a Roma tutte le strade sono belle" è FALSA, quale delle seguenti proposizioni è necessariamente vera?**

- A Almeno una strada a Roma non è bella.
- B Roma ha almeno due strade non belle.
- C A Roma non ci sono strade belle.

614) **Completare la seguente successione numerica: 56;36;50;40;44;44;38;?;?**

- A 48;32
- B 48;31
- C 32;50

615) **Prima di trasferirsi a Roma, Nicolò deve trovare un alloggio. Se l'argomentazione precedente è vera, quale delle seguenti è certamente vera? Se Nicolò si trasferisce a Roma, allora ha trovato un alloggio.**

- A Se Nicolò trova un alloggio, allora si trasferirà a Roma.
- B Se Nicolò non si trasferisce a Roma, allora non ha trovato un alloggio.

616) **Due ore fa era passato tanto tempo dall'una del pomeriggio quanto ne sarebbe passato fino all'una di notte. Che ora è adesso?**

- A 16
- B 21
- C 23

617) **Arrivato in aeroporto, un viaggiatore osserva i seguenti dati: 1) l'aereo in arrivo da Milano per Praga atterra alle 12.00 e riparte alle 12.30;2) l'aereo che va a Stoccolma parte 90 minuti dopo quello che va a Berlino che parte alle 12.00;3) 40 minuti prima del volo per Stoccolma parte l'aereo per Mosca e, 10 minuti dopo quest'ultimo, quello per Lisbona. In base alle informazioni precedenti, l'aereo che va a Berlino parte:**

- A alla stessa ora di quello per Praga.
- B un'ora prima di quello per Stoccolma.
- C 50 minuti prima di quello per Mosca.

618) **Indicare in quale delle seguenti alternative non viene rispettata la regola di alternanza "vocaleconsonante".**

- A CIXEFOMUSAPIDIC
- B CUDEFOMOROSZAP
- C UCIXEFOMOCAPIDI

619) **Quale termine integra la serie "malaugurato - infelice - funereo?"**

- A vergognoso
- B infausto
- C avvilito

620) **Completare correttamente la seguente proporzione. bicchiere: vetro = X : Y**

- A X = bevanda; Y = calice
- B X = piatto; Y = porcellana
- C X = bottiglia; Y = tazza

621) **In un vivaio che dispone solo di giacinti o di tulipani, un giardiniere ha comprato un bulbo. I bulbi di giacinti sono tutti di giacinti screziati. Dal bulbo acquistato dal giardiniere è nato un fiore non screziato. È dunque possibile concludere che il giardiniere:**

- A ha comprato un bulbo di tulipano.
- B ha comprato un bulbo di giacinto.
- C ha comprato un bulbo di giacinto non screziato.

622) **Quale conclusione è logicamente deducibile dall'affermazione: "chi commette un reato non dice mai la verità"?**

- A Coloro che commettono reati mentono sempre.
- B Chi mente ha commesso un reato.
- C Chi non commette reati dice sempre la verità.

623) **Solo se lavati con cura, i denti non vengono danneggiati dalla carie. In base alla precedente affermazione, quale delle seguenti NON è necessariamente vera?**

- A È necessario lavare i denti con cura perché non vengano danneggiati dalla carie.
- B I denti danneggiati dalla carie non sono stati lavati con cura.
- C I denti non danneggiati dalla carie sono stati lavati con cura.

624) **Quale termine integra la serie "afflitto - abbattuto - sconsolato"?**

- A lugubre
- B squallido
- C rattristato

625) **Quale delle tre serie di numeri o lettere è identica alla seguente: 373737773337337K**

- A 373737773337337K
- B 337737733337337K
- C 373737333337337K

626) **Individuare l'abbinamento errato:**

- A Torino - Mole Antonelliana.
- B Milano - Maschio Angioino.
- C Pisa - Torre pendente

627) **Maria acquista due magliette al prezzo di 18 euro. Se una costa il doppio dell'altra, quanto costa ciascuna?**

- A 13 euro e 5 euro
- B 12 euro e 6 euro
- C 14 euro e 4 euro

628) **Se l'affermazione "Tutti i ginnasti svolgono due tipi di esercizi" è FALSA, allora è necessariamente vero che:**

- A tutti i ginnasti svolgono un tipo di esercizio.
- B nessun ginnasta svolge due tipi di esercizi.
- C esiste almeno un ginnasta che non svolge due tipi di esercizi.

629) **Se l'affermazione "non tutti i giorni del mese d'agosto Maria va in spiaggia" è vera, allora necessariamente...**

- A in luglio generalmente Maria non va in spiaggia.
- B non esiste un giorno in agosto in cui non va in spiaggia.
- C almeno un giorno del mese di agosto Maria non va in spiaggia.

630) **Qual è risultato della somma $1+2+3+4+5+6+7+8+9+10$?**

- A 68
- B 71
- C 55

631) **Per permettere all'idraulico di completare il suo lavoro è necessario che Giulia rimanga in casa tutto il giorno. Se tale affermazione è vera, allora è vero che:**

- A Giulia rimane in casa tutto il giorno e quindi l'idraulico completa il suo lavoro.
- B Giulia rimane in casa tutto il giorno solo se l'elettricista completa il suo lavoro.
- C se Giulia non rimane in casa tutto il giorno l'idraulico non può completare il suo lavoro.

632) **Due numeri interi hanno somma 9 e prodotto 18. Quanto vale il minore dei due interi?**

- A 3
- B 2
- C 4

633) **Quali consonanti, anteposte al gruppo di lettere OLLA, formano parole di senso compiuto?**

- A B - C - M - Z
- B D - F - N - V
- C G - N - R - T

-
- 634) Individuare, tra le alternative proposte, la parola da scartare.
- A Arpa
 - B Organo
 - C Violino
-
- 635) Questi giornalini sono di Laura. Se l'affermazione precedente è vera, allora quale tra le seguenti è sicuramente vera?
- A Laura possiede solo giornalini.
 - B Laura possiede dei giornalini.
 - C Laura legge i giornalini.
-
- 636) Quali consonanti, anteposte al gruppo di lettere ESTO, formano parole di senso compiuto?
- A C - G - M - P
 - B B - F - N - V
 - C D - N - V - Z
-
- 637) Se P viene prima di Q; O viene prima di Q; Q viene prima di R; O viene prima di P, quale tra queste affermazioni non è corretta?
- A L'ordine è alfabetico
 - B Q non è l'ultima della serie
 - C O non è la seconda lettera della serie
 - D O viene dopo R
-
- 638) Individuare la stringa alfanumerica in cui la lettera M segue un numero dispari.
- A SBH789D34678MCX34FGBFC468841WB
 - B 36CS789D3X6MFC468841W34FBHGB4B
 - C BH789FCD346GBS468841MB78CX34F
-
- 639) Completare la seguente successione: "104, 52, 56, ..., ..., 16, 20"
- A 30, 52
 - B 32, 28
 - C 28, 32
-
- 640) Individuare la riga che contiene il maggior numero di lettere T.
- A IIIIIITIIITTTTTIIITIIITTTTTII
 - B TIIITIIITTTTTIIITTTTTIIITIIII
 - C TITIIITTTTTIIITTTTTIIITTTTTI
-
- 641) Lo studio di Gabriele è a metà strada tra la casa di Paola e la casa di Silva. La casa di Silvia è a metà strada tra la casa di Giuseppe e lo studio di Gabriele. Pertanto:
- A Silvia abita più lontano dalla casa di Gabriella che non dalla casa di Giuseppe.
 - B Silvia abita più vicino alla casa di Gabriella che non alla casa di Giuseppe.
 - C Paola abita più vicino allo studio di Gabriele che non alla casa di Silvia.
-
- 642) Se, aggiungendo al numero A la sua metà, si ottiene il numero B, quale percentuale di A è B?
- A 1.5
 - B 1.2
 - C 0.5
-
- 643) Se la Juventus ha vinto contro la Roma, è certo che
- A ha segnato almeno una rete
 - B ha segnato più di una rete
 - C ha segnato solamente una rete
-
- 644) Completare la seguente successione: "2, 7, 12, ..., 22, 27"
- A 19
 - B 27
 - C 17
-
- 645) Individuare il diagramma che soddisfa la relazione insiemistica esistente tra i termini dati: LAGUNE, GHIACCIAI, MARI

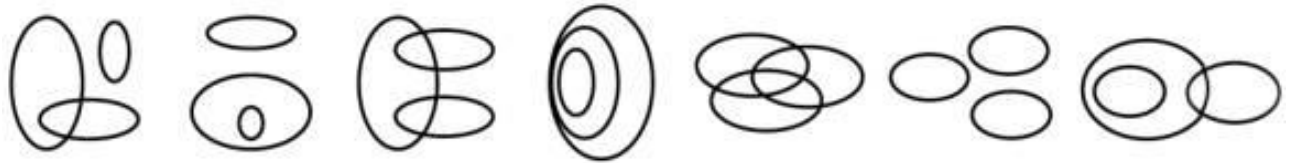


DIAGRAMMA 1

DIAGRAMMA 2

DIAGRAMMA 3

DIAGRAMMA 4

DIAGRAMMA 5

DIAGRAMMA 6

DIAGRAMMA 7

- A Diagramma 4
- B Diagramma 3
- C Diagramma 6

646) **Quale dei seguenti non è un anagramma del nome di una città?**

- A ENZIAVE
- B AMPLERO
- C CAIRANA

647) **Utilizzando l'alfabeto italiano, completare la seguente successione di lettere: B;C;Q;M;N;C;?;?**

- A L;M
- B Q;M
- C V;Z

648) **Se l'affermazione "In tutte le famiglie che posseggono almeno due animali, vi è almeno un cane" è vera, allora necessariamente:**

- A una famiglia non può avere solo un gatto.
- B una famiglia deve sempre avere almeno un animale.
- C se una famiglia ha due animali, allora ha almeno un cane.

649) **Non posso affermare di non aver votato. Pertanto:**

- A potrei anche non aver votato.
- B voterò.
- C ho votato.

650) **Dei seguenti plurali di nomi composti non è corretto:**

- A pianiforte
- B capisaldi
- C portalettere

651) **Se in questo momento sono le 3; a quale ora per la prima volta dopo questo orario le lancette dell'orologio si troveranno l'una sul prolungamento dell'altra?**

- A Verso le 4 e 5 minuti.
- B Verso le 3 e 49 minuti.
- C Verso le 3 e 25 minuti.

652) **Tre pasticceri preparano una meringa rispettivamente in 4, 5 e 6 minuti. Quanto impiegano insieme a prepararne 37?**

- A 37 minuti.
- B 1 ora.
- C 55 minuti.

653) **Qual è la parola da scartare?**

- A Bergamo
- B Bari
- C Firenze

654) **Individuare il diagramma che soddisfa la relazione insiemistica esistente tra i termini dati: SVIZZERI, SCIATORI, IMPRUDENTI**

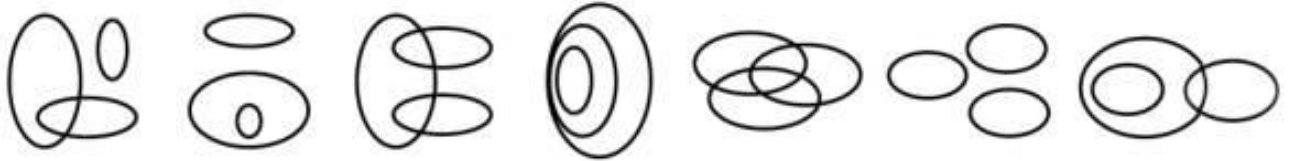


DIAGRAMMA 1 DIAGRAMMA 2 DIAGRAMMA 3 DIAGRAMMA 4 DIAGRAMMA 5 DIAGRAMMA 6 DIAGRAMMA 7

- A Diagramma 5
- B Diagramma 1
- C Diagramma 2
- D Diagramma 6

655) Quanti anagrammi distinti è possibile ottenere con le lettere della parola CASA?

- A 12
- B 10
- C 4

656) Quali, tra i termini proposti, completano correttamente la seguente proporzione verbale? Ospedale : reparto = X : Y

- A X = medico; Y = avvocato.
- B X = cura; Y = condanna.
- C X = tribunale; Y = sezione.

657) Qual è il numero che aggiunto a 5644 dà per risultato 7528?

- A 1962
- B 1884
- C 1712

658) Dei seguenti plurali di nomi composti non è corretto:

- A cassaforti
- B terrecotte
- C purosangue

659) Cinque persone si dividono in parti uguali una somma di denaro. Se il denaro, anziché per cinque, fosse stato diviso per quattro, ciascuno avrebbe ricevuto 40 euro in più. A quanto ammontava la somma di denaro da dividere?

- A 800 euro
- B 250 euro
- C 400 euro

660) Un orologio segna le 3. La lancetta dei minuti forma con quella delle ore un angolo retto. Dopo circa quanti minuti le due lancette formeranno un nuovo angolo retto?

- A Dopo 38 minuti.
- B Dopo 43 minuti.
- C Dopo 33 minuti.

661) Individuare il vocabolo che ha significato analogo ad "antitesi":

- A contrapposizione
- B corrispondenza
- C somiglianza

662) In un gruppo di cinque persone, Attilio, Bruno, Iacopo, Danilo, Orazio, quella senza lavoro è la più alta, mentre quella che fa l'imprenditore la più bassa. Bruno è più basso di Attilio; né il più alto né il più basso sono sposati. Attilio, Iacopo e Orazio vivono in affitto. Solo Bruno e Jacopo sono sposati. L'imprenditore possiede un palazzo in cui da vent'anni ha affittato un appartamento alla famiglia dell'operaio che è più basso del commerciante. Il commerciante, essendo solo, vive in affitto come il disoccupato. In ordine di altezza dal più basso al più alto si possono avere:

- A Bruno, Danilo, Iacopo, Orazio, Attilio.
- B Danilo, Iacopo, Bruno, Attilio, Orazio.
- C Iacopo, Bruno, Orazio, Danilo, Attilio.

663) Blu, rosso, verde, marrone, azzurro e giallo sono i sei colori usati per indicare ognuno dei sei appartamenti in un palazzo di due piani (primo e secondo), in cui ogni piano prevede tre appartamenti. Si sa che il giallo è sotto il blu e il rosso è accanto al verde. In base alle precedenti informazioni, se il rosso è accanto al blu:

- A il rosso è al primo piano
- B il marrone è al secondo piano
- C l'azzurro è al primo piano

-
- 664) **Completare la seguente successione di numeri: 8;4;24;12;72;36;?;108;648**
- A 336
 - B 216
 - C 200
-
- 665) **Se Gaia è in ufficio, allora Mauro è a scuola. Se l'affermazione precedente è vera, quale delle seguenti è certamente vera?**
- A Se Mauro non è a scuola allora Gaia non è in ufficio.
 - B Gaia e Mauro non possono mai essere a scuola insieme.
 - C Se Gaia non è in ufficio, allora Mauro non è a scuola.
-
- 666) **Il valore di un'automobile diminuisce del 20% ogni anno. Dopo 3 anni qual è il valore dell'automobile in percentuale, rispetto al valore iniziale?**
- A 0.512
 - B 0.482
 - C 0.595
-
- 667) **Indicare il termine che ha significato simile a "chiosare".**
- A comunicare pubblicamente
 - B chiudere
 - C commentare
-
- 668) **Completare la seguente successione numerica: 128;48;?;?;32;192;16**
- A 64;96
 - B 64;98
 - C 96;62
-
- 669) **Qual è il numero il cui quadruplo meno due è uguale a ventisei?**
- A 8
 - B 4
 - C 7
-
- 670) **Se Paolo non telefona a Marco, allora il loro appuntamento avrà luogo al Caffè del Corso alle 21:00. Se la precedente affermazione è vera, si può concludere che:**
- A se i due amici si incontrano al Caffè del Corso alle 20:00 allora Paolo ha telefonato a Marco.
 - B se i due amici si incontrano al Caffè del Corso alle 21:00, allora Paolo non ha telefonato a Marco.
 - C se i due amici non si incontrano al Caffè del Corso alle 21:00, allora Paolo non ha telefonato a Marco
-
- 671) **In una scuola, composta da 250 alunni, sono stati attivati due corsi pomeridiani. Se 200 alunni frequentano il corso di informatica, 199 il corso di teatro e 46 nessuno dei due corsi, quanti alunni frequentano entrambi i corsi?**
- A 195
 - B 205
 - C 15
-
- 672) **In tutti i locali italiani con almeno due camerieri vi è certamente un cameriere straniero". Se l'affermazione precedente è vera, è necessariamente vero che:**
- A non è possibile che in Italia un locale abbia due camerieri italiani.
 - B nei negozi italiani, se un cameriere è italiano e non ha come collega uno straniero, allora è l'unico cameriere del locale.
 - C nei locali italiani ogni cameriere straniero ha come collega un cameriere italiano.
-
- 673) **Un aereo ha 132 poltrone. Poiché c'è una poltrona vuota ogni tre passeggeri, quanti sono le poltrone vuote su quell'aereo?**
- A 22
 - B 33
 - C 19
-
- 674) **Dividendo a metà il quadrato di quale numero si ottiene 50.**
- A 10
 - B 5
 - C 9

-
- 675) Individuare l'alternativa che riporta in ordine inverso la sequenza OIOIOIO.
- A OIOIOIO
 - B OIOIOIO
 - C OIOIOIO
-
- 676) La somma di due numeri interi è uguale a 5 e il loro prodotto a 0. Quanto vale il minore dei due numeri interi?
- A 2
 - B 0
 - C 1
-
- 677) Tutti i ricercatori sono intransigenti; Filippo è intransigente. In base alle precedenti informazioni, quale delle seguenti affermazioni è necessariamente vera?
- A Nessuna delle alternative è corretta
 - B Filippo non è un ricercatore
 - C Tutte le persone intransigenti sono ricercatori
-
- 678) Completare la successione: D, N S, S, C, Q T ... U
- A P e R
 - B S e C
 - C O e D
-
- 679) È necessario che il direttore dia il proprio assenso affinché il progetto venga avviato. Se l'argomentazione precedente è vera, quale delle seguenti è certamente vera?
- A Se il progetto non è stato avviato significa che il direttore non ha dato il proprio assenso.
 - B Se il direttore ha dato il proprio assenso allora il progetto viene sicuramente avviato.
 - C Se il progetto è stato avviato allora il direttore ha dato il proprio assenso.
-
- 680) Completare la seguente successione: "ABC UVZ FGH CDE ILM UVZ"
- A SRQ, TVU
 - B GEN, RDH
 - C NOP, RST
-
- 681) Una lumaca si arrampica lungo la parete di un pozzo umido, profondo 5 metri. Ogni giorno sale di 3 m e ogni notte, mentre dorme, scivola verso il basso di 2 m. Dopo quanti giorni la lumaca potrà uscire dal pozzo?
- A 5
 - B 3
 - C 4
-
- 682) Tutte le studentesse sono giovani. Chi è giovane ama ballare. Chi ama ballare non è timido. Se le precedenti informazioni sono vere, quale delle seguenti affermazioni è necessariamente FALSA?
- A Chi non ama ballare potrebbe non essere timido.
 - B Alcune studentesse sono timide.
 - C Tutte le studentesse amano ballare.
-
- 683) Quale sillaba, aggiunta alla prima e preposta alla seconda, fornisce un significato compiuto a entrambe: CA (...) LE
- A la
 - B so
 - C de
-
- 684) Non si può escludere che, se Francesca non avesse chiuso la porta, il gatto sarebbe scappato. In base alla precedente affermazione, quale delle seguenti è certamente vera?
- A È possibile che il gatto sarebbe scappato, qualora Francesca avesse chiuso la porta
 - B È possibile che il gatto sarebbe scappato qualora Francesca non avesse chiuso la porta
 - C Il gatto sarebbe scappato se Francesca avesse aperto la porta
-
- 685) È un sinonimo di efficiente:
- A inoperoso
 - B indolente
 - C produttivo
-
- 686) Solo se Marta va a dormire presto, rende al massimo sul lavoro. In base alla precedente affermazione, è necessariamente vero che:

- A è possibile che Marta renda al massimo sul lavoro anche se non va a dormire presto
B se non rende al massimo sul lavoro, significa che Marta non è andata a dormire presto
C se non va dormire presto, Marta non rende al massimo sul lavoro

687) Completare la serie: 50 ? 21 8 13

- A 29
B 25
C 23

688) Completare correttamente la seguente successione numerica: 42;86;74;32;?;?;22;66

- A 70;66
B 76;64
C 84;62

689) Se: $X + X + X = Y + X$, $X = 5$ allora Y è uguale a:

- A 7
B 10
C 13

690) In quale delle seguenti alternative la lettera K è ripetuta esattamente cinque volte?

- A HKJKJKJHHKHK
B EKETRETTTRKR
C LWLLKWLWQKQW

691) Completare correttamente la seguente successione numerica: 11;33;21;63;51;153;?;?

- A 141;423
B 459;447
C 121;124

692) Completare correttamente la seguente successione, utilizzando l'alfabeto italiano:
O;64;l;32;E;16;?;?

- A B;8
B A;8
C Z;4

693) Individuare il termine da scartare:

- A Marte
B Giove
C Luna

694) Nonostante Socrate fosse _____ dai suoi discepoli, la sua filosofia costituì _____ per il governo dell'epoca.

- A riverito, un ostacolo
B ignorato, un beneficio
C stimato, un'eccezione

695) Completare correttamente la seguente successione di lettere: ?, D, G, L, O

- A L
B A
C B

696) Individuare i termini che completano correttamente la seguente proporzione. X : primavera = Natale:
Y

- A X = dicembre; Y = Carnevale
B X = estate; Y = aprile
C X = Pasqua; Y = inverno

697) In quale riga è presente la sequenza: RMRRRMRRRRM?

- A RMMRRRRRMRRRRMRRRRRRMRRRRMRRRRMRRRRMRRMR.
B MRRMRMRMRMRMRMRMRMRMRMRMRMRMRMRMRMRMRMR.
C MRRMR.

698) Se è vero che "Gli assenti non hanno mai ragione" ciò significa:

- A i presenti hanno sempre ragione.
B chi non è presente ha sempre torto.
C chi ha ragione è sempre assente.

-
- 699) In una classe ci sono 25 studenti, 15 italiani e 10 stranieri. Se ne estraggono a sorte 2, la probabilità che i due estratti siano uno straniero e un italiano è:
- A del 30%
 - B del 25%
 - C del 50%
-
- 700) ? 24 31 40 47
- A 5
 - B 15
 - C 30
-
- 701) Quale dei seguenti ragionamenti è necessariamente corretto?
- A Chi beve vodka si ubriaca, Yuri si ubriaca, quindi Sergio beve vodka
 - B Chi beve vodka si ubriaca, Yuri non si ubriaca, quindi non beve vodka
 - C Chi beve vodka si ubriaca, Yuri non beve vodka, quindi Sergio non si ubriaca
-
- 702) Se $F = 6$, $Q = 15$, allora $? = ?$
- A $Z = 21$.
 - B $Z = 22$.
 - C $Z = 20$.
-
- 703) Un uomo ha più figli, alcuni maschi e altre femmine. Ogni femmina ha un numero di fratelli doppio di quello delle sorelle e ogni maschio ha un numero di sorelle pari a quello dei fratelli. Quanti figli e quante figlie ha quest'uomo?
- A 2 maschi e 2 femmine
 - B 3 maschi e 4 femmine
 - C 3 femmine e 4 maschi
-
- 704) Dieci amici di vecchia data si incontrano per una cena e ciascuno di loro saluta ognuno dei partecipanti abbracciandolo. Quanti abbracci si scambiano in totale?
- A 45
 - B 20
 - C 90
-
- 705) Se oggi è lunedì qual è il giorno dopo il giorno prima il giorno prima di domani?
- A Lunedì
 - B Domenica
 - C Martedì
-
- 706) 11 75 33 71 ? 67
- A 89
 - B 99
 - C 69
-
- 707) Individuare li termini che completano correttamente la seguente proporzione. X : pittura = Shakespeare: Y
- A X = Olanda; Y = letteratura
 - B X = dipinto; Y = Inghilterra
 - C X = Van Gogh; Y = teatro
-
- 708) Tutte le modelle sono alte. Federica è alta. In base alle precedenti informazioni, quale delle seguenti affermazioni è necessariamente vera?
- A Federica è una modella
 - B Nessuna delle alternative è corretta
 - C Federica non è una modella
-
- 709) Se "non è vero che tutti gli abitanti di Sparta hanno scudo e spada", è dunque vero che:
- A Almeno un abitante di Sparta non ha lo scudo oppure non ha la spada.
 - B Gli abitanti di Sparta non hanno né scudo né spada.
 - C Gli abitanti di Sparta se hanno lo scudo non hanno la spada.
-
- 710) È sinonimo di "blandire":
- A Alleggerire
 - B Allettare
 - C Impugnare

-
- 711) Luca è un appassionato di trekking. Tutti gli appassionati di trekking amano il mare. Alcune persone solitarie sono appassionati di trekking. Se le precedenti affermazioni sono vere, quale delle seguenti è sicuramente vera?
- A Non è certo che Luca ami il mare.
 - B Luca ama il mare.
 - C Luca è una persona solitaria.
-
- 712) Se Fabio è più alto di Franco, il quale è più basso di Carlo, allora:
- A Fabio è più alto di Carlo
 - B Carlo è più alto di Fabio
 - C sia Fabio sia Carlo sono più alti di Franco
-
- 713) Dividendo per 3 il quadrato di quale numero si ottiene 27?
- A 9
 - B 7
 - C 11
-
- 714) Sergio è amante del mare;tutte le persone dinamiche amano il mare;alcune persone pigre non amano il mare, mentre altre lo amano;Anna è una persona pigra.
- A Non è certo che Anna ami il mare.
 - B Sergio è una persona dinamica.
 - C Anna non ama il mare.
-
- 715) Il termine "gamete" appartiene al lessico:
- A della fisica
 - B della chimica
 - C della biologia
-
- 716) Individuare la riga che contiene il maggior numero di lettere N.
- A MNNMMNNMMMNNMMNNM
 - B NNNMMNNMMMNNMMNNM
 - C MNNNMNNMMMNMNNNN
-
- 717) Un pittore dispone di 8 colori e vuole colorare un suo disegno in tanti modi quanti sono possibili combinando due colori, senza mai ripetere le combinazioni: quante combinazioni differenti sono possibili?
- A 36
 - B 28
 - C 56
-
- 718) Il significato di "apocrifo" è:
- A autentico
 - B 0
 - C raro
-
- 719) Ogni lato di un quadrato misura 6 cm. Se un rettangolo è largo 3 cm e ha la stessa area del quadrato, quale sarà il suo perimetro?
- A 22 cm
 - B 18 cm
 - C 12 cm
-
- 720) Completare la seguente serie numerica: 1, 3, 8, 19, 42, ...
- A 93
 - B 55
 - C 89
-
- 721) Completare la seguente successione
- A 27
 - B 48
 - C 39
-
- 722) Individuare la serie identica alla seguente stringa: 084080080080808480
- A 8810000000000000
 - B 8410000000000000
 - C 8810000000000000

723) Individuare, tra le alternative proposte, il termine da scartare.

- A Albumina
- B Clorofilla
- C Emoglobina

724) Individuare i termini che completano correttamente la proporzione:

- A X = Cervino; Y = Valle d'Aosta
- B X = Sicilia; Y = Solfatara
- C Etna: X = Y : Campania

725) Completare la seguente successione: "1, 20, 21, 41, 62, ..."

- A 123
- B 103
- C 113

726) Individuare la serie identica alla seguente: 01010101

- A 010101010101
- B 01010101010101
- C 01010101010101

727) Quale dei seguenti gruppi alfanumerici, ripropone in senso inverso, la sequenza OBABAOABO

- A OBAOABABO
- B OBABAOABO
- C OBABAAOBO

728) Completare correttamente la seguente successione di lettere, utilizzando l'alfabeto italiano:
D;M;A;O;V;L;A;H;?;?

- A L;T
- B U;L
- C R;Q

729) Completare correttamente la seguente successione di numeri: 100;90;79;67;54;40;?

- A 25
- B 34
- C 49

730) Con riferimento alla figura in alto, Individuare il diagramma che soddisfa la relazione insiemistica esistente tra i termini dati: Numeri compresi tra 4 e 7, Numeri compresi tra 5 e 11, Numeri compresi tra 9 e 14

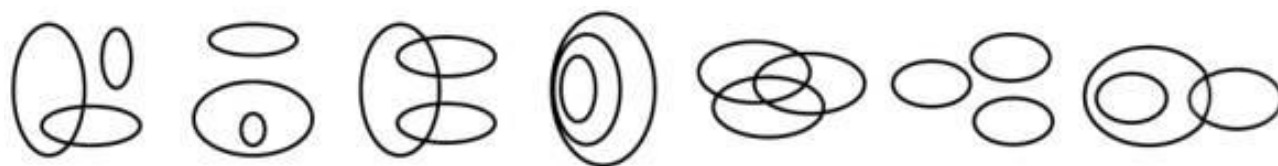


DIAGRAMMA 1 DIAGRAMMA 2 DIAGRAMMA 3 DIAGRAMMA 4 DIAGRAMMA 5 DIAGRAMMA 6 DIAGRAMMA 7

- A Diagramma 2
- B Diagramma 3
- C Diagramma 6

731) Il termine "capzioso" è sinonimo di:

- A capiente.
- B rigoroso.
- C ingannevole.

732) Posti $A = \{20, 21, 22\}$ e $B = \{21, 22, 23\}$, qual è l'insieme risultante dall'unione di A e B?

- A $\{20, 21, 22\}$
- B $\{20, 21, 22, 23\}$
- C $\{21, 22\}$

- 733) **A un semaforo la cui luce può essere rossa, gialla o verde un automobilista deve arrestarsi con la luce rossa e, salvo casi particolari, con la luce gialla. Quale delle seguenti frasi è logicamente equivalente alla precedente?**
- A A un semaforo un automobilista può transitare solo con la luce verde e, in casi particolari, con la luce gialla
 - B A un semaforo con la luce gialla un automobilista non deve mai transitare
 - C A un semaforo con la luce gialla un automobilista si deve arrestare comunque

- 734) **Completare correttamente la seguente successione numerica: 87;73;103;89;?;105;135;?**
- A 77;101
 - B 117;161
 - C 119;121

- 735) **Tutti i ciclisti sono calvi; Aldo è calvo; tutte le persone calve sono spiritose. In base alle precedenti affermazioni, quale delle seguenti NON è necessariamente vera?**
- A Aldo è spiritoso
 - B Aldo è un ciclista
 - C Tutti i ciclisti sono spiritosi

- 736) **Individuare il diagramma che soddisfa la relazione insiemistica esistente tra i termini dati: Piramidi, Monumenti egizi, Obelischi**



DIAGRAMMA 1 DIAGRAMMA 2 DIAGRAMMA 3 DIAGRAMMA 4 DIAGRAMMA 5 DIAGRAMMA 6 DIAGRAMMA 7

- A Diagramma 6
- B Diagramma 3
- C Diagramma 5

- 737) **Logaritmo è un termine che appartiene al linguaggio:**
- A della matematica.
 - B della statistica.
 - C della geometria.

- 738) **Individuare il numero che completa la serie: 5 15 17 51 53 ...**
- A 30
 - B 55
 - C 159

- 739) **Completa la sequenza con il numero mancante: 5, 6, 4, 7, 3, 8, ?**
- A 10
 - B 11
 - C 2

- 740) **Se $x < 0$ e $xy > 0$, quale affermazione tra le seguenti è corretta?**
- A $y > 0$ sempre
 - B $y < 0$ sempre
 - C $y = 0$ sempre

- 741) **Indicare i termini che completano correttamente la seguente proporzione verbale? Libro : biblioteca = X : Y**
- A X = museo; Y = arte
 - B X = quadro; Y = pinacoteca
 - C X = piatto; Y = bicchiere

- 742) **Completare correttamente la seguente successione di lettere, utilizzando l'alfabeto italiano: ?;G;M;Q;U**
- A C
 - B B
 - C D

-
- 743) **Indicare il termine che è sinonimo di "riluttante".**
A restio
B rilevante
C risoluto
-
- 744) **Quali, tra i termini proposti, completano correttamente la seguente proporzione verbale? Idoneo : abile = X : Y**
A X = munifico; Y = generoso
B X = calmo; Y = impulsivo
C X = attento; Y = distratto
-
- 745) **Se: $X + 8 + Y = Z - Y$, $X = -3$, $Y = 6$ allora Z è uguale a:**
A 17
B 5
C -17
-
- 746) **Il termine di "faida" indica:**
A il diritto di istruire un processo
B una vendetta privata
C una associazione criminale
-
- 747) **In quale stringa la sequenza rispetta l'ordine: # dispari dispari # ?**
A #33##33##55##77##9
B #11##11##1##11##11#
C #96##33##33##33##95#
-
- 748) **Un viale lungo 102 metri è fiancheggiato su su entrambi i lati da 36 tigli. Sapendo che i tigli sono tra loro equidistanti, a quale distanza è posto un albero dall'altro?**
A 2 metri
B 3 metri
C 6 metri
-
- 749) **Quante strette di mano si scambiano quattro persone che si incontrano?**
A 4
B 8
C 6
-
- 750) **Completare correttamente la seguente successione numerica: 75;37;68;45;61;53;54;61;?;?**
A 69;49
B 47;69
C 66;42
-
- 751) **Se un treno che ha percorso i 5/18 del suo tragitto abituale, ha percorso 50 chilometri, quanto è lungo l'intero tragitto?**
A 250 chilometri
B 900 chilometri
C 180 chilometri
-
- 752) **In una libreria a 6 ripiani, ponendo su ciascuno di essi 28 libri, si occupano solo i primi 4 ripiani. Volendo volesse occupare tutta la libreria e distribuendo i libri in numero uguale su ogni ripiano, quanti libri andrebbero disposti su ciascun ripiano?**
A 16
B 18
C 14
-
- 753) **Marco è un atleta bravo quanto Mario. Fabio è più bravo della media degli atleti. Questo significa che?**
A Marco è il migliore fra gli atleti
B Marco non è inferiore alla media degli atleti
C Fabio è più bravo di Mario
-
- 754) **Individuare il numero che continua la serie: 9, 10, 8, 11, 7, 12, ...**
A 4
B 6
C 5

-
- 755) Individuare l'aggettivo da scartare:
A discorde
B propenso
C accondiscendente
-
- 756) Individuare il numero che continua la serie: 5, 9, 17, 33, 65.
A 129
B 137
C 113
-
- 757) Individuare l'abbinamento errato fra la poesia e il suo autore.
A Soldati - Giuseppe Ungaretti
B L'infinito - Eugenio Montale
C La capra - Umberto Saba
-
- 758) Un'auto percorre 20 000 km. Per ridurre i consumi le 5 ruote vengono scambiate con regolarità. Quanti chilometri avrà percorso ogni gomma alla fine del viaggio?
A 16000
B 10 000
C 15 000
-
- 759) Se la mia moto ha benzina, allora può funzionare. In base al precedente assunto, quale delle seguenti affermazioni è sicuramente vera?
A Se la moto funziona allora c'è sufficiente benzina
B Se la moto non funziona allora non ha benzina
C Se la moto ha benzina allora funziona
-
- 760) Uno studente ha avuto una media di 6 e 1/2 nei primi quattro compiti. Quale voto deve prendere nel prossimo compito per ottenere la media del 7?
A 10
B 8
C 9
-
- 761) Se BOA = 1;GECO = 2;VIPERA = 3;ANACONDA = ?
A 5
B 4
C 6
-
- 762) Un cubo di cartone di 60 cm di lato viene colorato di blu. Successivamente lo si taglia in cubetti più piccoli, ognuno di 15 cm di lato. Quanti cubi non sono colorati di blu su nessuna faccia?
A 12
B 8
C 10
-
- 763) In base alle informazioni in suo possesso, il commissario di Polizia non può non negare che è falso quanto affermato dal suo informatore, il quale dichiarò di non conoscere l'autore della rapina di ieri. Basandosi sulla precedente affermazione, individuare quale delle seguenti alternative è esatta:
A non è possibile sapere se l'informatore conosca l'autore della rapina.
B l'informatore conosce l'autore della rapina.
C l'informatore non conosce l'autore della rapina.
-
- 764) Aquila : squalo = aereo : ?
A slitta
B sottomarino
C nave
-
- 765) Individuare il numero che segue logicamente: 100, 95, 85, 70, 50, ...
A 20
B 35
C 25
-
- 766) Per una festa vengono acquistate 63 bottiglie di spumante. Di queste un terzo non viene consumato. Delle rimanenti, le donne ne bevono un settimo e gli uomini le altre. Quante bottiglie hanno bevuto gli uomini?

- A 18
- B 16
- C 36

-
- 767) Inserire il numero mancante nella serie: 8 10 14 8 20 6 ? 4.
- A 20
 - B 24
 - C 26
-
- 768) Inserire il numero che manca tra le parentesi: 69 (81) 60 140 (?) 120
- A 130
 - B 400
 - C 220
-
- 769) Quali, tra i termini proposti, completano correttamente la seguente proporzione? Tè : foglia = X : Y
- A X = caffè Y = chicco
 - B X = dolce; Y = amaro
 - C X = aroma; Y = radice
-
- 770) Delle seguenti affermazioni individuare quale ha lo stesso significato dell'asserzione "Chiunque può imparare a parlare il cinese".
- A Non esiste una persona che non può imparare a parlare il cinese.
 - B Nessuno può imparare a parlare il cinese
 - C Esiste una persona che può imparare a parlare il cinese
-
- 771) Qual è la media aritmetica tra i valori 10, 20, 30?
- A 10
 - B 15
 - C 20
-
- 772) Arturo è una persona paziente", "Tutti i pescatori sono persone pazienti", "Carlo è un pescatore". In base alle precedenti informazioni, quale delle seguenti affermazioni è necessariamente vera?"
- A Arturo e Carlo sono pescatori
 - B Carlo è una persona paziente
 - C Chi non va a pesca è impaziente
-
- 773) A quale percentuale corrisponde la frazione 36/200?
- A 0.18
 - B 1.8
 - C 0.36
-
- 774) Completare la seguente successione numerica: 26;24;28;27;30;30;32;?;?
- A 33;36
 - B 33;34
 - C 32;39
-
- 775) Se il pesco è in fiore, la primula marcisce. Se la begonia marcisce il papavero sboccia. Inoltre o il pesco è in fiore o la begonia marcisce". In base alle precedenti affermazioni è sicuramente vero che:
- A il papavero sboccia
 - B il pesco è in fiore e il papavero sboccia
 - C la primula marcisce o il papavero sboccia
-
- 776) Se l'affermazione "Nessun comico è infelice" è FALSA , quale delle seguenti affermazioni è necessariamente vera?
- A Nessun comico è felice
 - B Almeno un comico è infelice
 - C Tutti i comici sono felici
-
- 777) Un ragazzo, che ha ricevuto 1024 euro in regalo per il suo compleanno, ogni giorno spende metà di quello che possiede. Dopo quanti giorni rimarrà con meno di un euro?
- A 9
 - B 5
 - C 12
-
- 778) Quanti quadrati possono essere contati su una scacchiera, considerando che si possono disporre 8 pezzi per ogni fila?

- A 512
- B 16
- C 64

-
- 779) **Quale termine risponde alla definizione "capacità di porsi nella situazione di un'altra persona e di comprenderne le emozioni"? immediatamente i processi psichici è detta:**
- A altruismo
 - B empatia
 - C introversione
-
- 780) **La distanza tra le città A e B è di 70 chilometri. Un uomo si sposta da A a B alla velocità di 8 km/h, mentre una lumaca procede in senso inverso alla velocità di 2 km/h. Se entrambi partono nello stesso momento, quanti chilometri dovrà fare l'uomo prima di incontrare la lumaca?**
- A 40
 - B 56
 - C 48
-
- 781) **Inserire tra le parentesi il numero mancante.12 (56) 16 17 (?) 21**
- A 87
 - B 68
 - C 76
-
- 782) **Quale sillaba, aggiunta alla prima e preposta alla seconda, fornisce un significato compiuto a entrambe: FA (...) SA**
- A de
 - B ro
 - C la
-
- 783) **Tutti gli infermieri sono precisi. Davide è infermiere. In base alle precedenti informazioni, quale delle seguenti affermazioni è certamente vera?**
- A Davide è preciso
 - B Chi non è infermiere non può essere preciso
 - C Tutte le persone precise sono infermieri
-
- 784) **Completare la seguente successione numerica: ?;?;44;41;36;33;28;25;20**
- A 52;49
 - B 42;39
 - C 62;59
-
- 785) **Completare correttamente la seguente successione di lettere, utilizzando l'alfabeto italiano: V;S;O;L;F;?**
- A H
 - B D
 - C E
-
- 786) **Quale termine completa la serie: LEVARE, RECIDERE, ESTIRPARE, ...?**
- A Immettere.
 - B Asportare
 - C Apportare.
-
- 787) **Quante volte, nell'arco di 24 ore, le lancette dell'orologio si sovrappongono?**
- A 24 volte
 - B 11 volte
 - C 12 volte
-
- 788) **Individuare l'abbinamento errato:**
- A Portogallo - Barcellona
 - B Atene - Grecia
 - C Austria - Vienna
-
- 789) **In una squadra ci sono giocatori con capelli castani, neri, biondi e rossi. Quelli con capelli castani sono in numero uguale a quelli con capelli neri. Quelli con capelli biondi sono la metà di quelli con capelli neri. Quelli con capelli neri sono tutti meno 5. Il resto ha capelli rossi. In base alle informazioni fornite, qual è la composizione del colore dei capelli dei giocatori?**
- A Neri = 4, biondi = 2, castani = 4, rossi = 1
 - B Neri = 2, biondi = 1, castani = 2, rossi = 2
 - C Neri = 2, biondi = 1, castani = 1, rossi = 2

-
- 790) **Indicare il numero che continua la serie: 24 19 14 9 ?**
A 10
B 6
C 4
-
- 791) **Individuare la parola da scartare:**
A pronao
B abside
C frontone
-
- 792) **Un gruppo di 6 amici si appresta a giocare una partita,) 3 contro 3. In quanti modi possono distribuirsi per formare le squadre?**
A 20
B 10
C 27
-
- 793) **Indicare il termine da scartare:**
A Rio delle Amazzoni
B Senna
C Danubio
-
- 794) **In quanti modi si possono confezionare coni gelato da tre gusti diversi avendo a disposizione i quattro gusti: nocciola, stracciatella, crema e cioccolato?**
A 4
B 5
C 6
-
- 795) **Indicare il numero che completa la serie: 3 7 13 27 ?**
A 53
B 51
C 56
-
- 796) **Individuare l'abbinamento errato:**
A Parigi - Eliseo
B Mosca - Cremlino
C Berlino - Quirinale
-
- 797) **Per numerare le pagine di un libro sono state usate in totale 3300 cifre. Le pagine del libro sono:**
A tra 1000 e 1500
B meno di 1000
C tra 2000 e 3000
-
- 798) **Se $A + B = C$; $C - E = B$, allora:**
A $B > A$
B $A = E$
C $A > B$
-
- 799) **Quali tra i termini completano correttamente la seguente proporzione? Moderno : antico = X : Y :**
A X = basso Y = alto
B X = giovane; Y = vecchio
C X = bianco Y = rosso
-
- 800) **Un'azienda tessile produce T shirt in tre colori (rosso, verde e blu) e 4 taglie (S;M;L;XL). Se le magliette rosse finiscono, ma rimane un ugual numero di tutte le altre (per un totale di 3200), quante saranno quelle di taglia S?**
A 1000
B 400
C 800
-
- 801) **Individuare il diagramma che soddisfa la relazione insiemistica esistente tra i termini dati:
NUOTATORI, BUONGUSTAI, VIAGGIATORI**

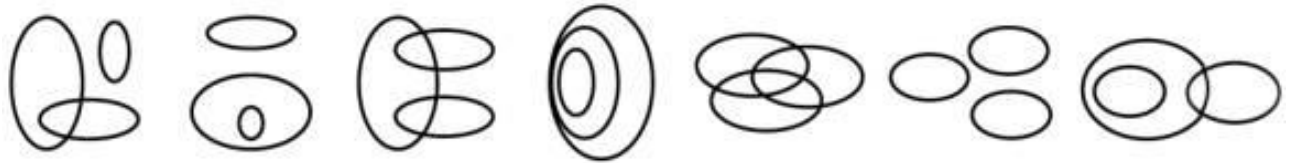


DIAGRAMMA 1 DIAGRAMMA 2 DIAGRAMMA 3 DIAGRAMMA 4 DIAGRAMMA 5 DIAGRAMMA 6 DIAGRAMMA 7

- A Diagramma 6
- B Diagramma 5
- C Diagramma 1

802) Un sinonimo di "contiguo" è:

- A dislocato
- B adiacente
- C divergente

803) Quali lettere risultano dalla seguente addizione? $632 + 163 = ?$

- A BIC
- B GAF
- C GIE

804) Indicare in quale delle seguenti alternative è presente una sola volta il gruppo di lettere "HTTP".

- A AZXCVSXDESXDERDHTGRR
- B AZXCVBNSXDADERDFTGRR
- C AZXCVBNHTTTPDERDFTGRR

805) Indicare la sillaba che, posposta ai gruppi di lettere, fornisce a ciascuno un significato compiuto: SE.;CU.;BO...

- A MO
- B RA
- C LI

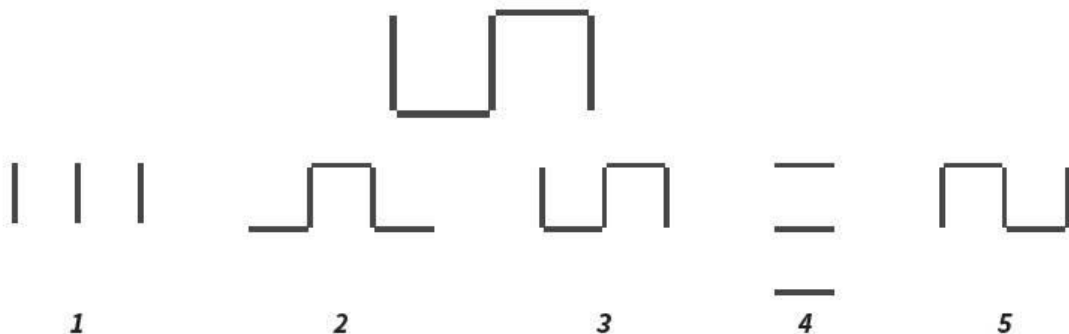
806) Si consideri un numero di tre cifre dove la cifra delle decine è uguale alla somma di quella delle centinaia con quella delle unità. Se si somma il numero di tre cifre con quello ottenuto scambiando la cifra delle unità con quella delle centinaia e si divide il risultato per la somma delle cifre del numero dato, si ottiene un numero:

- A uguale a 50
- B minore di 50
- C maggiore di 50 ma minore di 100

807) Con questa affermazione respingo l'infondatezza della teoria secondo cui non è vera l'improbabilità che tu realizzi il massimo punteggio in questo test. Ciò significa che:

- A è improbabile che tu possa realizzare il massimo punteggio nel test.
- B è probabile che tu possa realizzare il massimo punteggio nel test.
- C è certo che tu possa realizzare il massimo punteggio nel test.

808) Ruotando la figura in alto proposta di 180° , quale tra le alternative risulta?



- A 5
- B 2
- C 3

-
- 809) **Quale gruppo di lettere, premesso in sequenza ai termini proposti, determina parole di senso compiuto? - ASTO - ESTO - OSTA - OSTO?**
A P - T - P - C
B B - Z - M - A
C T - B - M - T
-
- 810) **Se TAP indica una cifra da 1 a 9 divisibile per 5, TUP una cifra divisibile per 3 e TOP a cifra una cifra divisibile per 2, con quale scrittura può essere espresso il numero 92?**
A TUP TOP
B TUP TAP
C TOP TAP
-
- 811) **Indicare i termini che i completano correttamente la seguente proporzione: farmacia : X = cartoleria : Y**
A X = ricariche;Y = sfilata
B X = analgesici;Y = matite
C X = farmacista;Y =influenza
-
- 812) **Se l'Italia ha una superficie di 301.338 Km², quale percentuale del territorio rappresenta approssimativamente la Campania con un'estensione di 13.595 Km² ?**
A 4.5
B 0.057
C 3, 8
-
- 813) **Individuare, tra le alternative proposte, la parola da scartare.**
A vedrai
B vedessi
C avevate visto
-
- 814) **Completare correttamente la seguente successione, utilizzando l'alfabeto italiano:
A;54;T;62;P;70;?;?**
A N;76
B G;84
C L;78
-
- 815) **Se sommando la rispettiva età di 6 ragazzi si ottiene 64, quale sarà la somma della loro età fra 6 anni?**
A 76
B 128
C 100
-
- 816) **CANE sta a CENA come 3165 sta a:**
A 6153
B 3561
C 5136
-
- 817) **Quali tra i termini proposti completano correttamente la seguente proporzione? X : GUANTO = TESTA : Y**
A x = collo;y = capelli
B X = nuca;y = cuffia
C X = mano;Y = cappello
-
- 818) **Indicare il numero che completa la serie: 9 15 21 27 ?**
A 33
B 31
C 39
-
- 819) **SETA sta a ASTE come 7581 sta a:**
A 7158
B 5871
C 1785
-
- 820) **Quali, tra i termini proposti, completano correttamente la seguente proporzione? morfologia : X = Y : suono**

- A X = grammatica; Y = italiano
B X = parola; Y = fonologia
C X = lingua; Y = dialetto

-
- 821) **Completare correttamente la seguente successione numerica: 16;25;19;31;22;37;25;?;?**
A 28;45
B 38;41
C 43;28
-
- 822) **Se "Tutte le strade portano a Roma", ciò significa che:**
A qualche strada porta a Roma
B nessuna strada porta a Roma
C almeno una strada non porta a Roma
-
- 823) **Completare correttamente la seguente successione numerica: ?; ?; 44; 41; 36; 33; 28; 25; 20**
A 50; 52
B 52; 49
C 47; 51
-
- 824) **Se sua figlia non telefona, Carlo si preoccupa. Se la precedente affermazione è vera, l'unica conseguenza certa che si può trarre è che:**
A Carlo non si preoccupa anche se sua figlia non gli telefona
B Carlo è preoccupato perché sua figlia non ha telefonato
C Se Carlo non è preoccupato, vuol dire che sua figlia ha telefonato
-
- 825) **Tutte le persone attive fanno carriera; Lorenzo si occupa di politica; tutte le persone che si occupano di politica fanno carriera. Si può dedurre che:**
A Lorenzo fa carriera
B Tutte le persone attive si occupano di politica
C Chi si occupa di politica è una persona attiva
-
- 826) **Quali tra i termini proposti completano correttamente la seguente proporzione? Tappo : X = bicchiere : Y**
A X = spumante; Y = sete
B X = sughero; Y = vetro
C X = bottiglia; Y = quercia
-
- 827) **Se: $X+Y=6$; $X=Z+2$; $Z+2Y=0$ allora Y è uguale a:**
A 4
B -10
C 0
-
- 828) **Il cricket è uno sport molto seguito in India, ma ultimamente non riscuote più l'attenzione che aveva in passato. In base alle informazioni fornite quale affermazione è vera?**
A In India in passato c'era più interesse per lo sport.
B Il cricket è lo sport più amato dagli indiani.
C Il cricket in passato in India riscuoteva maggiore interesse.
-
- 829) **MARTE sta a 12345 come TRAME sta a:**
A 43215
B 23415
C 15234
-
- 830) **Completare la seguente successione: "8, 11, 20, 23, 32, 35, ..."**
A 46
B 44
C 40
-
- 831) **Se, aprendo il rubinetto dell'acqua fredda, si riempie la vasca in 7 minuti e aprendo quello dell'acqua calda in 5 minuti, in quanto tempo si riempie la vasca se si aprono entrambi i rubinetti?**
A In 3 minuti e 30 secondi
B In 2 minuti e 55 secondi
C In 3 minuti e 40 secondi
-
- 832) **Completare la seguente successione numerica: 41;49;50;?;?;46;33;41**

- A 49;58
- B 37;45
- C 40;47

833) **CRETA sta a 49581 come CARTE sta a:**

- A 45891
- B 41985
- C 14589

834) **I gatti sono ladri. Alcuni ladri vanno in giro di notte. Chi non dorme va in giro di notte. Individuare la conclusione corretta.**

- A È possibile che alcuni gatti vadano in giro di notte.
- B I gatti derubano chi in giro di notte.
- C Tutti coloro che vanno in giro di notte sono ladri.

835) **Indicare la sillaba che, anteposta ai gruppi di lettere, fornisce a ciascuno un significato compiuto: ...NGO, ...STO, ..SCA**

- A CI
- B LE
- C TA

836) **Elisa ha tre sorelle, Francesca, Simona e Antonia, e due fratelli, Ciro e Vincenzo. Si sa che: I) Ciro è il maggiore di tutti;II) Vincenzo è più grande di Simona e Francesca (non necessariamente in quest'ordine) ma più piccolo di Elisa e Antonia. (non necessariamente in quest'ordine). Quindi è certamente vero che:**

- A Vincenzo è più grande di Elisa.
- B Elisa è più piccola di Ciro ma più grande di Vincenzo.
- C Ciro è più piccolo di Vincenzo.

837) **In una pescheria sono stati venduti in un primo tempo i 2/7 di una partita di pesce spada e poi i 3/5 del pesce spada residuo. Sapendo che la seconda volta si sono venduti 180 kg di pesce spada, qual era il peso dell'intera partita?**

- A 360 kg
- B 900 kg
- C 420 kg

838) **Completare correttamente la seguente successione numerica: 37;35;51;?;?;59;53;51**

- A 48;45
- B 36;47
- C 45;43

839) **Se, nell'equazione "A6 x 3B = 2C6D", al posto di ogni lettera si inserisce una cifra differente in modo che il risultato della moltiplicazione sia esatto, quanto vale la più bassa delle cifre inserite?**

- A 5
- B 0
- C 3

840) **Secondo una ricerca il numero di incidenti (ogni 1.000 veicoli circolanti) è decisamente superiore in Italia rispetto alla Svezia, dove i limiti di velocità sono inferiori. Per ridurre il numero di incidenti in Italia, occorre quindi abbassare i limiti di velocità. Quale delle seguenti affermazioni, se vera, rafforzerebbe la precedente argomentazione?**

- A In Francia l'abbassamento dei limiti di velocità ha portato a una riduzione pari al 20% del numero di incidenti registrati
- B L'esame per ottenere la patente di guida in Svezia è molto più difficile da superare rispetto a quello italiano
- C limiti di velocità in Italia generalmente non vengono rispettati, qualunque essi siano

841) **Individuare la riga che contiene il maggior numero di lettere L.**

- A VLVVLVVLVVLVVLVVL
- B LVVLLVLLVLLVLLV
- C LLVVLLVVLVVLVVL

842) **Completare correttamente la seguente successione numerica: 17;51;39;117;105;315;?;?**

- A 302;911
- B 303;909
- C 909;302

843) Se otto topi mangiano una forma di formaggio in 15 giorni, dodici topi in quanti giorni mangeranno la stessa forma di formaggio?
A 9
B 13
C 10

844) Se ROSA = 8; MIMOSA = 12; DALIA = 10; ORTENSIA = ?
A 15
B 20
C 16

845) Riccardo promette a Luisa che, se a Ferragosto ci sarà il sole, andranno al mare. In quale dei seguenti casi Riccardo NON mantiene la promessa?
A A Ferragosto non c'è il sole e Maurizio e Luisa non vanno al mare.
B A Ferragosto c'è il sole e Riccardo e Luisa vanno al mare.
C A Ferragosto c'è il sole e Maurizio va al mare da solo.

846) Completare correttamente la seguente successione di lettere, utilizzando l'alfabeto italiano: ?;E;H;M;P
A D
B B
C C

847) Un'azienda che nel 2017 aveva fatturato 200 milioni di euro ha visto calare del 20% il fatturato nel 2018, del 10% nel 2019 e del 50% nel 2020. Qual era il fatturato alla fine del 2020?
A 64 milioni di euro
B 72 milioni di euro
C 88 milioni di euro

848) Completare correttamente la seguente successione: B;15;O;21;M;27;A;33;?;?
A O;34
B V;39
C Z;36

849) Indicare il termine che ha significato opposto a "pedissequo":
A originale
B banale
C pedestre

850) Riccardo è più vecchio di Carlo; Lorenzo è più vecchio di Mario; Mario è più giovane di Sandro; Carlo e Sandro sono gemelli. Sulla base delle precedenti affermazioni, quale delle seguenti è certamente vera?
A Carlo è più giovane di Lorenzo
B Riccardo è più vecchio di Mario
C Lorenzo è più vecchio di Sandro

851) Con riferimento alla figura in alto, Individuare il diagramma che soddisfa la relazione insiemistica esistente tra i termini dati: Diplomatici, Italiani, Disoccupati

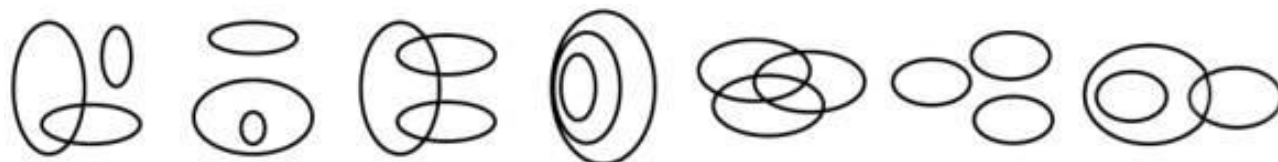


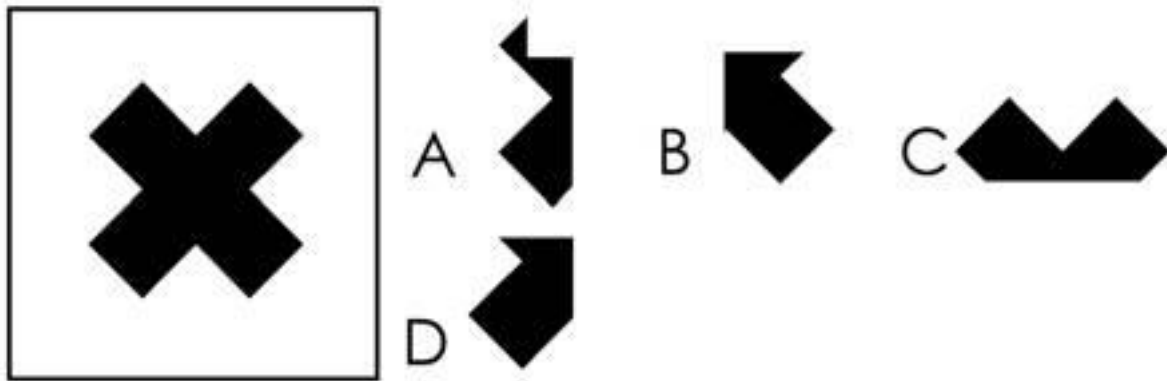
DIAGRAMMA 1 DIAGRAMMA 2 DIAGRAMMA 3 DIAGRAMMA 4 DIAGRAMMA 5 DIAGRAMMA 6 DIAGRAMMA 7

A Diagramma 4
B Diagramma 5
C Diagramma 6

852) Se: $2X - 3 = 7X - 18$ allora X è uguale a:
A 1
B 3
C -3

-
- 853) **Completare correttamente la seguente successione numerica: 37;81;69;27;?;?;17;61**
A 71;63
B 65;59
C 71;59
-
- 854) **Quanti venerdì 13 ci possono essere al massimo in un anno non bisestile?**
A 3
B 1
C 2
-
- 855) **Indicare il gruppo di lettere che non presenta analogie con gli altri.**
A GEDH
B KNAO
C BCFG
-
- 856) **Completare correttamente la seguente successione numerica: 18;168;36;84;72;42;144;?;?**
A 288;20
B 288;21
C 21;288
-
- 857) **Completare correttamente la seguente successione numerica: 6;7;10;10;14;13;?;?**
A 18;16
B 18;18
C 21;18
-
- 858) **Quale numero aumentato di 150 unità e poi ridotto di 175 unità dà come risultato 420?**
A 315
B 395
C 375
-
- 859) **La visita ortopedica non ha consentito di dimostrare l'impossibilità che il legamento del ginocchio sia rotto. Qual è il corretto significato della precedente affermazione?**
A La visita ortopedica ha dimostrato che il legamento del ginocchio non può essere rotto
B La visita ortopedica non ha dimostrato che il legamento del ginocchio non è rotto
C La visita ortopedica ha dimostrato che il legamento del ginocchio è rotto
-
- 860) **Completare correttamente la seguente successione di lettere, utilizzando l'alfabeto italiano: I;?;O;Q;S**
A H
B P
C M
-
- 861) **In corso di musica, frequentato da 9 maschi e 11 femmine, partecipare a una rappresentazione musicale studentesca vengono estratti 3 nominativi. Quale è la probabilità che almeno uno di essi sia quello di una studentessa?**
A 44/36
B 52/55
C 88/95
-
- 862) **Se: $X + X + Y = 9Y$, $X = 20$ allora Y è uguale a:**
A -5
B 10
C 5
-
- 863) **Quali, tra i termini proposti, completano correttamente la seguente proporzione verbale? Omero : Odissea = X : Y**
A X = Virgilio; Y = Eneide
B X = Iliade; Y = Bibbia
C X = Caino; Y = Genesi
-
- 864) **Se ALZARE = AL e CADERE = AD, allora URGERE è uguale a....**
A GE
B ER
C RE

865) La figura può essere ricomposta solo con tre dei quattro frammenti proposti. Indicare quali.



- A A, C e D
- B B, C e D
- C A, B e C

866) Indicare il termine che ha significato analogo a "riottoso":

- A docile
- B recalcitrante
- C accondiscendente

867) Diego, Armando e Cristiano giocano come attaccanti nella stessa squadra di calcio. Si sa che se Cristiano gioca, gioca anche Diego; Diego e Armando giocano spesso, ma mai tutti e due insieme; Armando e Cristiano giocano spesso, insieme o singolarmente; d'altra parte se Armando gioca, allora viene inserito in squadra anche Cristiano. Sulla base di tali premesse, quali attaccanti giocano insieme?

- A Cristiano e Diego
- B Cristiano e Armando
- C Nessuno

868) Individuare l'abbinamento errato.

- A Liguria - Salento
- B Toscana - Maremma
- C Piemonte - Monferrato

869) Se: $X + 20 + Y = Z + 2$, $X = 6 + Z$ allora Y è uguale a:

- A -24
- B -36
- C 24

870) Utilizzando l'alfabeto italiano, completare la seguente successione di lettere: D;E;S;O;P;E;?;?

- A N;O
- B N;L
- C A;B

871) La tesi di chi nega la possibilità che l'uomo possa camminare sul Sole e abbia la possibilità di creare dei campi di forza di reazione è stata dichiarata falsa. Qual è allora il corretto significato della precedente osservazione?

- A Anche utilizzando degli opportuni campi di forza, non è possibile camminare sul Sole.
- B Non è possibile che l'uomo possa camminare sul Sole o che possa creare dei campi di forza di reazione.
- C È possibile che l'uomo possa camminare sul Sole e sviluppare dei campi di forza di reazione.

872) Completare la seguente successione numerica: 40;48;49;?;?;45;32;40

- A 36;44
- B 48;37
- C 50;37

873) Individuare tra le alternative proposte quella che contiene una differenza rispetto alle righe seguenti: FGTF-34SD-DXCD-3ESDWSRT-2369-SXDC-XZSDHYGF-DRFC-WSTF-3DRC

- A WSRT-2369-TXDC-XZSD
- B FGTF-34SD-DXCD-3ESD
- C WSRT-2369-SXDC-XZSD

-
- 874) **Completare correttamente la seguente successione numerica: 13, 26, 14, 28, 52, 56, ?, ?, 208**
A 195;587
B 104;112
C 205;585
-
- 875) **Per terminare una costruzione gli operai che attualmente lavorano nel cantiere impiegano 20 giorni. Avendo a disposizione altri 2 operai il lavoro verrebbe completato in 16 giorni. Ma l'impresa (a causa di un nuovo appalto) anziché fornire i 2 operai, sottrae le risorse al cantiere e lascia un solo operaio. Quanti giorni impiegherà l'operaio a completare il lavoro, nell'ipotesi che tutti abbiano lo stesso ritmo di lavoro?**
A 160
B 320
C 120
-
- 876) **Se TAP indica una cifra da 1 a 9 divisibile per 5, TUP una cifra divisibile per 3 e TOP a cifra una cifra divisibile per 2, con quale scrittura può essere espresso il numero 84?**
A TOP TOP
B TOP TAP
C TUP TAP
-
- 877) **Completare correttamente la seguente successione numerica: 16;36;76;156;316;636;?**
A 1.276
B 1.281
C 1.275
-
- 878) **Un sinonimo di evanescente è:**
A inconsistente
B insostenibile
C incapace
-
- 879) **Data la proporzione $X : 12 = 15 : 20$, quanto vale X?**
A 8
B 9
C 12
-
- 880) **Indicare in quale delle seguenti alternative è presente una sola volta il gruppo di lettere "AJKW".**
A WESSDFTGQRTWSGVJESA
B WESSDAJKWESTWSGVJESA
C RTAJKWOQRLTAJKWVESA
-
- 881) **Tutti gli avvocati sono buoni oratori. Bruno è un buon oratore. In base alle precedenti informazioni, quale delle seguenti affermazioni è certamente vera?**
A Nessuna delle risposte è corretta
B Chi è un buon oratore ha studiato legge
C Bruno non è un avvocato
-
- 882) **Completare correttamente la seguente successione di lettere, utilizzando l'alfabeto italiano: S;R;P;M;?;B**
A I
B H
C G
-
- 883) **Se raddoppiando un certo numero n si ottiene lo stesso risultato che si sarebbe ottenuto dimezzandolo, quale fra le seguenti affermazioni deve essere vera?**
A n è pari
B n vale 0
C n è dispari
-
- 884) **Se si investono 12.000 euro per 3 mesi al tasso annuale del 5%, l'interesse che si ottiene per tre mesi è:**
A 120,00 euro
B 300,00 euro
C 150,00 euro
-
- 885) **Se: $X + X = Y - Z$, $X = 2$, $Z = -3$ allora Y è uguale a:**

- A 3
- B 1
- C 2

-
- 886) **Indicare in quale delle seguenti alternative non è presente il gruppo di lettere "QQRT".**
- A RTQQRTOQQRTWSGVJESA
 - B WESSDFTGQQRTWSGVJESA
 - C WESSDFTGWESTWSGVJESA
-
- 887) **Matteo ha compiuto i 2/7 della sua passeggiata. Se ha camminato per 2 chilometri, quanti chilometri è lunga l'intera passeggiata?**
- A 14 Km
 - B 7 Km
 - C 28 Km
-
- 888) **Se: $X + X + X = Y + X$, $X = -5$ allora Y è uguale a:**
- A -10
 - B -5
 - C -3
-
- 889) **Se il bambino ha fame, allora piange. Se la precedente affermazione è vera, è sicuramente vero che:**
- A se il bambino non piange, allora non ha fame
 - B se non ha fame, il bambino non piange
 - C se il bambino piange, vuol dire che ha sicuramente fame
-
- 890) **Completare correttamente la seguente successione numerica: 8;10;11;16;14;22;17;?;?**
- A 26;18
 - B 20;27
 - C 28;20
-
- 891) **Se: $ZA + 6 + YW = XE + 1$ $ZA = -18 + XE$ allora YW è uguale a:**
- A -13
 - B 13
 - C 25
-
- 892) **Un pacchetto azionario, acquistato a 10.000 euro, ha fruttato il primo anno il 20%, il secondo il 50% e il terzo il 10%. Qual è il valore finale del pacchetto?**
- A 19.800 euro
 - B 18.600 euro
 - C 18.000 euro
-
- 893) **Indicare in quale delle seguenti alternative è presente una sola volta il gruppo di lettere "KKLM".**
- A DFGTRELDKKSZDWRDFDGFG
 - B DFGTREKKLMSZDWRDFDGFG
 - C DFGTREKKLDSZDWRDFDGFG
-
- 894) **"Non è possibile negare la falsità della tesi secondo la quale il cerchio non è una figura perfetta". Qual è il corretto significato della precedente affermazione?**
- A Il cerchio è una figura perfetta
 - B non è possibile sapere con certezza se il cerchio sia una figura perfetta o meno
 - C Il cerchio non è una figura perfetta
-
- 895) **Le indagini non hanno consentito di dimostrare l'impossibilità che il crollo del ponte sia avvenuto per cedimento strutturale. Qual è il corretto significato della precedente affermazione?**
- A Le indagini hanno dimostrato che il crollo del ponte non può essere avvenuto per cedimento strutturale
 - B Le indagini hanno dimostrato che il crollo del ponte è avvenuto per cedimento strutturale
 - C Le indagini non hanno dimostrato che il crollo del ponte non è avvenuto per cedimento strutturale
-
- 896) **Se: $VJ + VJ = AX - JK$ $VJ = BY + MK$ $JK = AX$ $BY = 2$ allora MK è uguale a:**
- A -2
 - B 4
 - C 2
-
- 897) **Completare correttamente la seguente proporzione? Pirandello : Il fu Mattia Pascal = x : y:**

- A X = Manzoni; Y = I Promessi sposi
B X = Verga; Y = La coscienza di Zeno
C X = romanzo; Y = tragedia

-
- 898) **Tutti i bambini sono vivaci; Niccolò è vivace; tutte le persone vivaci amano giocare. In base alle precedenti affermazioni, quale delle seguenti NON è necessariamente vera?**
A Tutti i bambini amano giocare
B È impossibile che Niccolò non ami giocare
C Niccolò è un bambino
-
- 899) **Se Franco avesse 6 euro più di Andrea, i due ragazzi avrebbero in totale 34 euro. Ma Franco ha 3 euro in meno di Andrea. Quanti euro ha Franco?**
A 8
B 5
C 7
-
- 900) **Completare correttamente la seguente successione numerica: 104;122;96;?;?;105;122;140**
A 122;114
B 104;78
C 113;131
-
- 901) **Francesco vernicia un cancello in 9 ore; Mario lavora con un ritmo triplo di Francesco; Fabio vernicia lo stesso cancello in 18 ore. Lavorando contemporaneamente, quanti minuti impiegano a verniciare lo stesso cancello?**
A 240
B 120
C 280
-
- 902) **La ristrutturazione di un villaggio turistico che 8 operai sono in grado di eseguire in 60 giorni, lavorando 8 ore al giorno, deve essere eseguita in 30 giorni da 16 operai. Quante ore al giorno dovrà lavorare ciascun operaio?**
A 8
B 10
C 12
-
- 903) **Indicare il nome della città da scartare:**
A Assisi
B Venezia
C Spoleto
-
- 904) **Quali tra i termini proposti completano correttamente la seguente proporzione? Infermiere : X = parrucchiere : Y**
A X = infezione; Y = siringa
B X = medicazione; Y = taglio
C X = forbici; Y = garza
-
- 905) **A quale percentuale corrisponde la frazione 3/8**
A 0.35
B 0.375
C 0.8
-
- 906) **Completare correttamente la seguente successione numerica: 12;17;36;34;108;68;324;?**
A 136
B 138
C 142
-
- 907) **Completare correttamente la seguente successione numerica: 3;5;8;13;21;34;55;?;?**
A 89;144
B 90;145
C 89;145
-
- 908) **Indicare quale gruppo di lettere inserito nella parentesi puntini forma due parole di senso compiuto. "INF(..) - (..)LATRA".**
A EDE.
B INE.
C IDO.

-
- 909) Sulla scrivania del direttore il telefono sta tra il portapenne e l'agenda. Il porta penne si trova tra l'agenda ed il computer. Quindi:
- A Il computer. è più vicino all'agenda che al telefono.
 - B L'agenda si trova tra il computer e il telefono.
 - C Il telefono è più vicino al porta enne che al computer.
-
- 910) Quali, tra i termini proposti, completano correttamente la seguente proporzione verbale? verde : X = salato : Y
- A X = sale;Y = insalata
 - B X = vista;Y = gusto
 - C X = colore;Y = dolce
-
- 911) ANGOSCIA sta a ANSIA come SOLLIEVO stia a:
- A conforto
 - B disperazione
 - C afflizione
-
- 912) Completare correttamente la seguente proporzione verbale. Encomio : X = Y : conclusione
- A X = biasimo;Y = storia
 - B X = lode;Y = fine
 - C X = esito;Y =risultato
-
- 913) Indicare la parola il cui significato è associabile ad entrambi i termini proposti. Segnaletica (..?..) Denaro.
- A Cambio.
 - B Contante.
 - C Circolazione.
-
- 914) Quale delle seguenti parole conserva senso compiuto se preceduta dalle lettere F, G, M, P, R ?
- A ATTO
 - B OTTO
 - C OSSA
-
- 915) Quali consonanti, anteposte ai gruppi di lettere ARA - ALA - MALTO - ALA - ARTO, formano parole di senso compiuto?
- A G - P - S - S - S.
 - B G - D - S - R - R.
 - C S - D - S - P - G.
-
- 916) Quale dei seguenti termini, posposto al primo gruppo di lettere e anteposto al secondo, forma parole di senso compiuto? FOT (..) - (..)TECA.
- A ESTRO.
 - B PARA.
 - C IPO.
-
- 917) Se l'addetto stampa non avesse trovato il messaggio, non avrebbe potuto evitare che la notizia si diffondesse. In base alla precedente affermazione, quale delle seguenti è certamente vera?
- A Avendo trovato il messaggio, l'addetto stampa ha potuto evitare che la notizia si diffondesse.
 - B Essendosi diffusa la notizia, allora l'addetto stampa non ha trovato il messaggio.
 - C È possibile che la notizia non si sarebbe diffusa se l'addetto stampa non avesse trovato il messaggio.
-
- 918) Se P è la proposizione "x è divisibile per 4" e Q la proposizione "x è divisibile per 2". Allora:
- A la negazione di P implica la negazione di Q
 - B P implica Q
 - C Q implica P
-
- 919) Quale dei seguenti nomi propri diventa un vocabolo di senso compiuto se preceduto dalle lettere C, M, N, P?
- A Anna.
 - B Alma.
 - C Aldo.
-
- 920) Quale dei seguenti termini, posposto al primo gruppo di lettere e anteposto al secondo , forma parole di senso compiuto? FOT (..) - (..)TECA.

- A PARA.
- B IPO.
- C ESTRO.

-
- 921) **Individuare l'abbinamento errato.**
- A Lombardia - Dolomiti
 - B Piemonte - Alpi Marittime
 - C Valle D'Aosta - Alpi Graie
-
- 922) **Chi non tace urla. "Chi urla ha sempre torto". "Anna non tace mai". Se le precedenti" affermazioni sono vere, quale delle seguenti affermazioni è vera?**
- A Anna a volte ha ragione.
 - B Anna ha sempre ragione.
 - C Anna ha sempre torto.
-
- 923) **Indicare quale gruppo di termini va eliminato perché disomogeneo rispetto agli altri.**
- A Lavoratore-i lavoratori-le lavoratrici.
 - B Poeta-i poeti-le poetesse.
 - C Filo-i fili-le fila.
-
- 924) **Qual è l'aggettivo più adatto a descrivere un terreno nel quale le acque piovane si fermano e ristagnano?**
- A Stepposo
 - B Paludoso.
 - C Lacustre.
-
- 925) **Giulia abita tra lo stadio e la casa di Mario. Lo stadio si trova tra la casa di Mario e la stazione ferroviaria. Posso affermare che....**
- A Giulia abita più vicino allo stadio che alla stazione ferroviaria.
 - B La casa di Mario è più vicina alla stazione ferroviaria che all'abitazione di Giulia.
 - C Giulia abita sicuramente più vicino allo stadio che alla casa di Mario.
-
- 926) **Scegliere l'alternative che completa correttamente la seguente frase: «Ho prenotato le vacanze per la prossima settimana e quindi....**
- A Sperassi che fosse bel tempo.
 - B spero tanto che sia bel tempo».
 - C Spero tanto che abbia bel tempo
-
- 927) **Quale dei seguenti gruppi di termini è disomogeneo rispetto agli altri?**
- A Algido - diaccio - glaciale.
 - B Florido - prospero - avvizzito.
 - C Alacre -inerte - neghittoso.
-
- 928) **La segretaria di uno studio notarile deve digitare 150 pagine. Il lunedì svolge un terzo del lavoro, il martedì tre quinti del rimanente. Quante pagine le rimangono da battere?**
- A 40
 - B 30
 - C 45
-
- 929) **Quale gruppo di aggettivi ha analogia di significato con il termine "PAGO"?**
- A Oppresso - gravato - vessato.
 - B Appagato - soddisfatto - contento.
 - C Avvilto - mesto - sconfortato.
-
- 930) **Quale dei seguenti gruppi sillabici, inserito in sequenza, consente la formazione di parole di senso compiuto? Fa(..)le, Ga(..)ra, La(..)tta, Ma(..)ma.**
- A (ta), (le), (na), (du).
 - B (ta), (le), (ne), (da).
 - C (ta), (le), (ne), (de).
-
- 931) **Degli iscritti a un corso di arti marziali 45 sono principianti e il 40% sono esperti. Quanti sono in tutto gli iscritti?**
- A 85
 - B 80
 - C 75

-
- 932) Nel suo giardino Roberto impiega un'ora a tagliare il prato, mentre la moglie riesce a farlo in 40 minuti. I due cominciano a lavorare insieme, ma dopo 10 minuti Roberto interrompe il lavoro, che viene completato dalla moglie. Di quanti minuti l'aiuto del marito ha ridotto il tempo necessario alla moglie per tagliare il prato da sola?
- A 4 minuti e 10 secondi
B 6 minuti e 20 secondi
C 3 minuti e 45 secondi
-
- 933) Se: $X + 8 + Y = Z + Y$, $X = -5$, $Y = 5$ allora Z è uguale a:
- A 5
B 3
C -5
-
- 934) Un paio di scarpe costava 64 euro e con i saldi il suo prezzo attuale è pari ai $\frac{3}{4}$ del prezzo iniziale. A quanto ammonta lo sconto applicato?
- A 20 euro
B 16 euro
C 12 euro
-
- 935) Completare la seguente successione numerica: 45;32;53;?;?;49;37;24
- A 41;28
B 38;42
C 54;30
-
- 936) Tutte le ginnaste svolgono esercizi a corpo libero. Se la precedente affermazione è FALSA, allora è necessariamente vero che:
- A tutti le ginnaste svolgono esercizi solo con gli attrezzi.
B nessuna ginnasta svolge esercizi a corpo libero.
C esiste almeno una ginnasta che non svolge esercizi a corpo libero.
-
- 937) Un aliscafo ha percorso i $\frac{5}{17}$ del suo tragitto abituale. Sapendo che ha percorso 50 miglia, quanto è lungo l'intero tragitto?
- A 130 miglia
B 170 miglia
C 500 miglia
-
- 938) Se CANE = 16, OCA = 9, GALLINA = 49, PECORA = ?:
- A 22
B 10
C 36
-
- 939) Una corda lunga 7 metri ogni giorno viene ridotta di un metro. Dopo quanti giorni la corda sarà completamente tagliata?
- A 8
B 6
C 7
-
- 940) Se nel mar Nero ho visto solo pesci gialli e nel mar Rosso ho visto due pesci rossi, posso affermare che sicuramente:
- A nel mar Rosso non ci sono pesci gialli
B nel mar Rosso ci sono solo pesci rossi
C nel mar Nero alcuni pesci sono gialli
-
- 941) Di tre cugine Anna, Elisabetta e Marina, due sono bionde e una bruna. Se Anna è bionda, allora lo è anche Elisabetta; se Elisabetta è bionda allora lo è anche Marina. In base a queste informazioni, quale delle seguenti è sicuramente vera?
- A Anna è bruna e Marina è bionda
B Elisabetta è bruna e Anna è bionda
C Anna ed Elisabetta sono brune
-
- 942) Se 6 operai scavano 12 buche in 24 giorni, quanti giorni tre uomini impiegheranno per scavare 6 buche delle stesse dimensioni?
- A 18
B 12
C 24

-
- 943) Una tartaruga, che avanza per 4 metri di giorno e arretra di 3 metri la notte, quanti giorni impiega per avanzare di 7 metri?
- A 4 giorni
 - B 7 giorni
 - C 5 giorni
-
- 944) Quali tra i termini proposti completano correttamente la seguente proporzione? Agosto : X = Y: Martedì
- A X = Mese; Y = settimana
 - B X = Settembre; Y = Lunedì
 - C X = estate Y = vacanza
-
- 945) Se a un certo numero n viene sommato 8, il risultato è pari a otto volte il numero n iniziale. Quanto vale n?
- A $\frac{8}{7}$
 - B $\frac{7}{8}$
 - C $\frac{3}{4}$
-
- 946) In un negozio tutti gli articoli hanno uno sconto del 20% . Acquistandone due, tuttavia, al secondo viene applicato uno sconto ulteriore del 10%. Quale percentuale del prezzo effettivo viene pagata per il secondo articolo?
- A 0.6
 - B 0.72
 - C 0.8
-
- 947) Giocando Superenalotto 18 amici si dividono la spesa e pagano 6 euro ciascuno. Se il gruppo dei giocatori si riduce di un terzo, quanto pagherà ciascuno per effettuare la stessa giocata?
- A 9 euro
 - B 8 euro
 - C 10 euro
-
- 948) Completare la seguente serie numerica: 3, 4, 7, 16, 43, ...
- A 86
 - B 124
 - C 112
-
- 949) Completare la successione seguente: ..., 16, 20, 25, 31, 38
- A 15
 - B 12
 - C 13
-
- 950) Individuare la serie numerica uguale alla seguente: 12211212
- A 12211212
 - B 12122112
 - C 12121212
-
- 951) Un museo ha 25 sale in ciascuna delle quali sono esposte 9 opere. A causa di una ristrutturazione dei locali, il numero di sale deve essere ridotto a 15. Quante opere sono esposte in ciascuna sala, supponendo che ognuna ne contenga un ugual numero?
- A 16
 - B 13
 - C 18
-
- 952) Un autotreno pesa 20 tonnellate. Nell'ipotesi che possa trasportare al massimo il 60% del proprio peso, quante tonnellate di sabbia possono essere ancora caricate se ne trasporta già 10?
- A 2
 - B 10
 - C 0
-
- 953) Un dipinto del XIX secolo che ha un prezzo di listino pari a 80.000 euro viene venduto con uno sconto del 30%. A quanto ammonta lo sconto?
- A 24000 euro
 - B 30.000 euro
 - C 27.000 euro
-
- 954) Quale degli abbinamenti di un vizio con la virtù opposta non è corretto?

- A Odio / astio
- B Avarizia/generosità
- C Superbia/umiltà

955) Se TUC significa cifra (singola) divisibile per 5, TAC significa cifra (singola) divisibile per 2 e TIC significa cifra (singola) divisibile per 7, allora con quale scrittura può essere espresso il numero 74?

- A TUC TAC
- B TIC TAC
- C TAC TAC

956) Quale valore si ottiene dal prodotto fra i 2 risultati delle operazioni seguenti? $640 / 80$ e $320 / 160$

- A 16
- B 18
- C 6

957) Se: $X + X = Y - Z$, $X = V + W$, $Z = Y$, $V = -12$ allora W È uguale a:

- A -12
- B 16
- C 12

958) Il reddito medio delle famiglie italiane quest'anno è risultato del 2% più elevato rispetto all'anno scorso. Nello stesso tempo, il reddito medio è diminuito per le famiglie appartenenti alle classi di reddito medio-basse. Quale delle seguenti conclusioni può essere dedotta dalle informazioni precedenti?

- A Nessuna delle alternative è corretta
- B Vi sono meno famiglie nella classe di reddito alta quest'anno rispetto all'anno scorso
- C Il reddito medio delle famiglie non appartenenti alle classi di reddito medio-basse è aumentato di oltre il 2% dall'anno scorso a quest'anno

959) Completare correttamente la seguente successione numerica: 10;30;19;57;46;138;?;?

- A 127;371
- B 127;381
- C 414;403

960) Se INVERNO = 14, NEVE = 8 , NATALE = 12, GHIACCIO = ?

- A 8
- B 18
- C 16

961) Completare la seguente successione numerica: 29;87;75;225;213;639;?;?

- A 1.881;626
- B 626;1.886
- C 627;1.881

962) Siano a, b, c e d quattro numeri reali positivi. Si sa che: $a/b = 2$, $c = 2a$ e $d = b/2$. Quale, fra le seguenti relazioni, è corretta?

- A $c/b > a/d$
- B $b - d > a - b$
- C $c/d > a/b$

963) Indicare in quale delle seguenti alternative è presente il maggiore numero di volte la lettera P.

- A PCBPBPBPPPPBBPPQP
- B PPQPPBPBPPPQPPBP
- C PCBPBPPPPQBPPQP

964) L'autobus partirà se e solo se i posti saranno tutti occupati". In base alla precedente affermazione, quale delle seguenti NON è necessariamente vera?

- A Anche se i posti saranno tutti occupati, l'autobus potrà non partire
- B L'autobus non partirà se i posti non saranno tutti occupati
- C È sufficiente che i posti siano tutti occupati perché l'autobus parta

965) Per i suoi 6 gatti Luisa compra 15 kg di croccantini al mese. Dopo qualche tempo, i gatti sono diventati 8 e Luisa preferisce fare la spesa due volte al mese. Quanti kg di croccantini dovrà comprare ogni volta?

- A 7kg
- B 10 kg
- C 13 kg

- 966) Se l'affermazione "tutti i calciatori sono persone colte" è FALSA, quale delle seguenti proposizioni è necessariamente vera?
A Nessun calciatore è una persona colta.
B Almeno un calciatore è colto.
C Almeno un calciatore non è una persona colta.
-
- 967) Posti $A = \{3, 4, 5\}$ e $B = \{4, 5, 6\}$, qual è l'insieme risultante dall'intersezione di A e B?
A $\{3, 4, 5, 6\}$
B Un insieme vuoto
C $\{4, 5\}$
-
- 968) Il reddito medio delle famiglie italiane quest'anno è risultato del 2% più elevato rispetto all'anno scorso. Nello stesso tempo, il reddito medio è diminuito per le famiglie appartenenti alle classi di reddito medio-basse". Quale delle seguenti conclusioni può essere ragionevolmente dedotta dalle informazioni precedenti?
A Il reddito complessivo di tutte le famiglie nelle classi di reddito medio-basse è stato più elevato quest'anno rispetto all'anno scorso
B Il reddito medio delle famiglie non appartenenti alle classi di reddito medio-basse è aumentato di oltre il 2% dall'anno scorso a quest'anno.
C Vi sono meno famiglie nella classe di reddito alta quest'anno rispetto all'anno scorso
-
- 969) Tutti i domatori di leoni sono calvi; Daniele è calvo; tutte le persone calve sono spiritose". In base alle precedenti affermazioni, quale delle seguenti NON è necessariamente vera?
A Daniele è un domatore di leoni.
B Chi non è spiritoso non è calvo.
C Tutti i domatori di leoni sono spiritosi.
-
- 970) Completare la seguente successione di lettere, utilizzando l'alfabeto italiano: D;M;A;O;V;L;A;H;?;?
A N;L
B U;L
C N;O
-
- 971) Completare correttamente la seguente successione di numeri: 3;8;6;7;12;6;24;5;48;? ? 3
A 8;72
B 4;96
C 6;34
-
- 972) Posti $A = \{80, 81, 82\}$ e $B = \{81, 82, 83\}$, qual è l'insieme risultante dall'unione di A e B?
A $\{81, 82\}$
B $\{80, 81, 82, 83\}$
C $\{80, 81, 82\}$
-
- 973) Quali, tra i termini proposti, completano correttamente la seguente proporzione verbale? Chef : X = Y : capomastro
A X = accusati; Y = progettisti
B X = avvocato; Y = comandante
C X = cucina; Y = cantiere
D X = imputato; Y = semaforo
-
- 974) Completare correttamente la seguente successione di lettere, utilizzando l'alfabeto italiano: B;U;D;T;F;S;H;?
A Q
B |T
C R
-
- 975) Individuare l'abbinamento errato.
A lucertola - rettili
B pellicano - mammiferi
C rana - anfibi
-
- 976) Escludendo dalla seguente sequenza "FLOGORMFAAGOLCCREORIOFLL" le lettere dei termini "FORMAGGIO" e "FOLCLORE", si ottiene:
A GFOLGRA
B LCFAOLM
C CFOLLRA

-
- 977) Individuare, tra le alternative proposte, il termine da scartare.
- A Cetriolo
 - B Melone
 - C Cocomero
-
- 978) Uno studente ha avuto una media di 6 e 1/2 nei primi quattro compiti. Quale voto deve prendere nel quinto per ottenere la media del 7?
- A 9
 - B 10
 - C 8 e 1/2
-
- 979) Se O viene prima di P; R viene prima di P; P viene prima di Q; R viene prima di O, quale tra queste affermazioni non è corretta?
- A R non è la seconda lettera della serie.
 - B L'ordine non è alfabetico.
 - C La O è a fianco alla P.
-
- 980) Individuare l'abbinamento errato:
- A Visconti - Milano
 - B Medici - Mantova
 - C Estensi - Ferrara
-
- 981) Non si può escludere che, se Umberto non avesse sostituito la ruota, l'auto avrebbe subito molti danni". In base alla precedente affermazione, quale delle seguenti è certamente vera?
- A È possibile che l'auto avrebbe subito molti danni qualora Umberto non avesse sostituito la ruota.
 - B Se l'auto avesse subito molti danni, è possibile che Umberto non avrebbe sostituito la ruota.
 - C È possibile che l'auto avrebbe subito molti danni qualora Umberto avesse sostituito la ruota.
-
- 982) Individuare, tra le alternative proposte, il termine da scartare.
- A Milano
 - B Verona
 - C Torino
-
- 983) Due libri di esattamente 100 pagine ciascuno sono allineati fianco a fianco su uno scaffale. Il libro a sinistra è capovolto, cioè a testa in giù. Aggiungendo il numero della pagina all'estrema sinistra al numero della pagina all'estrema destra del libro a destra, qual è il totale?
- A 100
 - B 101
 - C 99
-
- 984) Una stazione ferroviaria è attigua all'ingresso di una lunga galleria. In quale vagone deve salire un tizio che soffre di claustrofobia se vuole trascorrere il minor tempo possibile nella galleria se il treno imbocca la galleria immediatamente dopo la partenza?
- A Il tempo di permanenza in galleria è indipendente dalla posizione del vagone
 - B Nel vagone di centro
 - C Nell'ultimo vagone
-
- 985) Se l'automobile è di colore rosso, allora è sportiva. Da quale delle seguenti affermazioni può essere logicamente dedotta l'affermazione precedente?
- A Tutte le automobili rosse sono sportive.
 - B Se un'automobile non è rossa, allora non è sportiva.
 - C Tutte le automobili sportive sono rosse.
-
- 986) Quale dei termini che seguono può essere a ragione considerato parte della serie «controprova, frutticoltore, schiaccianoci, maledire»?
- A Argomento.
 - B Calcolatore.
 - C Posacenere
-
- 987) Individuare l'abbinamento errato.
- A Sicilia - Chianti
 - B Emilia Romagna - lambrusco
 - C Piemonte - barolo

-
- 988) **LUC LOC LAC**
A LAC LAC LUC
B LOC LAC LUC
-
- 989) **Indicare l'elemento da scartare:**
A motoscafo
B canoa
C zattera
-
- 990) **È sbagliato negare che è falso che lo studente non abbia studiato. Basandosi sulla precedente affermazione individuare quale delle seguenti alternative è esatta.**
A Lo studente è stato verosimilmente punito dal professore.
B Non è possibile stabilire se lo studente abbia studiato.
C Lo studente ha studiato.
-
- 991) **Nel 2019 l'azienda Love Yachting ha prodotto 450 barche. Sapendo che nell'anno successivo sono state prodotte 585 barche, quale è stato l'incremento percentuale della produzione da un anno all'altro?**
A 0.25
B 0.0135
C 0.3
-
- 992) **Se: $X + X + X = Y + X$, $X = 5$ allora Y è uguale a:**
A 13
B -10
C 10
-
- 993) **Se: $X + X = Y - Z$, $Y = -1$, $X = 1$ Allora Z è uguale a:**
A -3
B 3
C 1
-
- 994) **Completare la seguente successione numerica: 11;33;21;63;51;153;?;?**
A 141;413
B 151;423
C 141;423
-
- 995) **In quale delle seguenti alternative il gruppo WH è ripetuto esattamente quattro volte?**
A WHJWHKJWHOWHK
B WEHTRETTTRWH
C HWLLOWLSAHJW
-
- 996) **Completare la seguente successione di lettere, utilizzando l'alfabeto italiano: V;S;O;L;F;?**
A E
B B
C C
-
- 997) **Individuare l'abbinamento errato.**
A La coscienza di Zeno - Luigi Pirandello
B La luna e i falò - Cesare Pavese
C Ragazzi di vita - Pier Paolo Pasolini
-
- 998) **Quali tra i termini proposti completano correttamente la seguente proporzione? mela : male = X : Y**
A X = caso; Y = cosa
B X = pera; Y = noce
C X = bene; Y = sale
-
- 999) **Individuare l'alternativa che riporta una successione di elementi identica alla sequenza KYOUGHKYOUW**
A KYOUGHKYOUW
B KYOUHGKYOUW
C KYUOGHKYOUW
-
- 1000) **Se: $X + X = Y - Z$, $Y = -1$, $X = -8$ allora Y è uguale a:**

- A -20
- B 15
- C 17

-
- 1001) **Quale numero si ottiene dalla somma di 2528 e 1864?**
- A 4388
 - B 4392
 - C 4370
-
- 1002) **Laura possiede 12 cucchiaini d'argento apparentemente identici, uno dei quali è però più pesante degli altri. Avendo a disposizione una bilancia a due piatti, quante pesate saranno sufficienti per essere certi di individuarlo?**
- A 3
 - B 7
 - C 6
-
- 1003) **Completare correttamente la seguente successione numerica: 46;90;78;36;?;?;26;70**
- A 80;68
 - B 80;72
 - C 76;64
-
- 1004) **In una fabbrica il macchinario A produce un pezzo del prodotto B ogni 20 secondi. Quanti pezzi del prodotto B si possono produrre in 2 ore e mezza?**
- A 450
 - B 120
 - C 600
-
- 1005) **Completare correttamente la proporzione: arco : freccia = X : Y**
- A X = arciere;Y = sparo
 - B X = fucile;Y = cartuccia
 - C X = tiro;Y = caccia
-
- 1006) **Quali tra i termini proposti completano correttamente la seguente proporzione? cubo : buco = X : Y**
- A X = mela;Y = tela
 - B X = pesce;Y = mare
 - C X = arco Y = orca
-
- 1007) **Indicare l'abbinamento errato.**
- A Baviera - Regno Unito
 - B Normandia - Francia
 - C Andalusia - Spagna
-
- 1008) **Quali tra i termini proposti completano correttamente la seguente proporzione? ballerina : danza = X : Y**
- A X = sport;Y = punte
 - B X = teatro;Y = pubblico
 - C X = attrice Y = cinema
-
- 1009) **Se: $MK - 6 + TZ = YW + ZA + TZ$ $MK = YW$ allora ZA è uguale a:**
- A 12
 - B -6
 - C -3
-
- 1010) **Indicare l'elemento da scartare**
- A cinghiale
 - B canguro
 - C volpe
-
- 1011) **Quale numero si ottiene sottraendo 2615 da 6324?**
- A 3709
 - B 3329
 - C 3219
-
- 1012) **In una tipografia una stampatrice stampa una pagina ogni 30 secondi. Quante pagine vengono stampate in 2 ore e 20 minuti?**

- A 400
- B 180
- C 280

1013) Indicare il numero che completa la serie: 3 7 15 31 ...

- A 53
- B 63
- C 23

1014) La somma dell'età di 3 fratellini è di 18 anni. Quale sarà la somma della loro età fra 5 anni?

- A 39
- B 29
- C 31

1015) Indicare l'elemento da scartare

- A leone
- B cavallo
- C tigre

1016) Tutti i mammiferi hanno le zampe, alcuni mammiferi sono felini. Quale, tra le seguenti conclusioni, NON è corretta?

- A Alcuni animali con le zampe sono felini.
- B Alcuni felini non hanno le zampe.
- C Tutti i felini hanno le zampe.

1017) Individuare l'abbinamento errato.

- A Terni - Umbria
- B Verbania - Piemonte
- C Ragusa - Sardegna

1018) Quanti numeri di quattro cifre diverse si possono formare con 1, 3, 5, 8, 9?

- A 90
- B 120
- C 60

1019) Individuare il diagramma che soddisfa la relazione insiemistica esistente tra i termini dati: Funivie, Fondisti, Sciatori

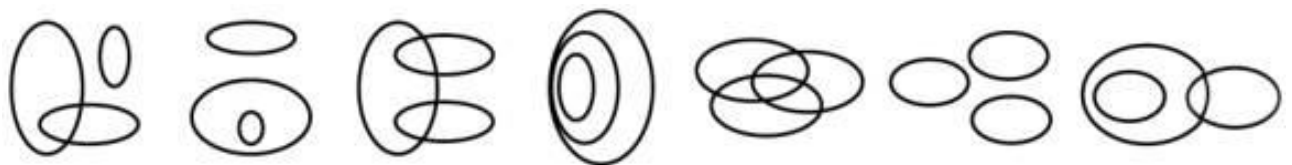


DIAGRAMMA 1 DIAGRAMMA 2 DIAGRAMMA 3 DIAGRAMMA 4 DIAGRAMMA 5 DIAGRAMMA 6 DIAGRAMMA 7

- A Diagramma 4
- B Diagramma 1
- C Diagramma 3

1020) Se: $X - 8 = 4Y$, $X = 0$ Allora Y è uguale a:

- A -4
- B -2
- C 44228

1021) Completare la seguente successione numerica: 2;8;4;7;8;6;16;5;?;?

- A 32;4
- B 6;24
- C 24;6

1022) Matteo è sportivo. Tutti i giovani sono sportivi. Ogni giovane è anche un sognatore. Se le precedenti informazioni sono vere, quale affermazione addizionali consentirebbe di concludere che Matteo è un giovane?

- A Chi è sportivo è anche giovane
- B Non vi è bisogno di alcuna informazione addizionale
- C Ogni sognatore è anche giovane

1023) Quale delle seguenti frasi è logicamente deducibile da: "non tutti i castelli sono medioevali"?

- A Esistono molti castelli medievali
- B Almeno un castello non è medievale
- C Almeno la metà dei castelli non sono medievali

1024) Individuare l'alternativa che riporta una successione di elementi identica alla sequenza HPBPBBBPBBPPH.

- A HPBPBBPPBBPHB
- B HBBPBBBPBBPBH
- C BPBPBPBPBBPPB
- D HPBPBBBPBBPPH

1025) Individuare il diagramma che soddisfa la relazione insiemistica esistente tra i termini dati: FIORI, ROSE, ROSE ROSSE

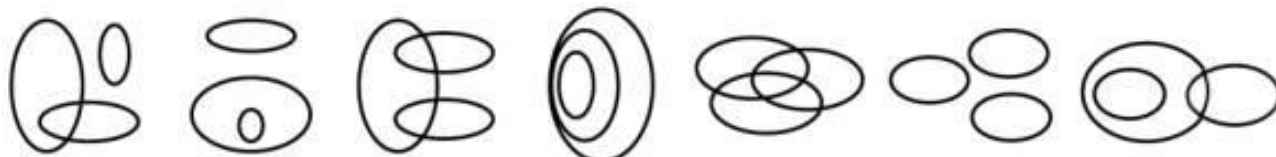


DIAGRAMMA 1 DIAGRAMMA 2 DIAGRAMMA 3 DIAGRAMMA 4 DIAGRAMMA 5 DIAGRAMMA 6 DIAGRAMMA 7

- A Diagramma 4
- B Diagramma 6
- C Diagramma 2

1026) Individuare l'abbinamento errato.

- A corvo - mammiferi
- B rana - anfibi
- C lucertola - rettili

1027) Esiste una teoria secondo la quale tutti gli uomini sono alti, tutti gli uomini alti sono eleganti e chi è elegante possiede un'auto sportiva. Quale delle seguenti affermazioni è quindi corretta?

- A Alcuni uomini alti non hanno un'auto sportiva
- B Solo alcuni uomini hanno un'auto sportiva
- C Tutti gli uomini hanno un'auto sportiva.

1028) Individuare l'alternativa che riporta una successione di elementi identica alla sequenza YOKJEWYOKJEWYOK

- A YOKJEWYOKJEYWOK
- B YOKJWEYOKJEWYOK
- C YOKJEWYOKJEWYOK

1029) Computer: monitor = X : Y

- A X = televisore; Y = schermo
- B X = mouse; Y = canali
- C X = telecomando; Y = stampante

1030) Se: $X + 8 = -X + Y + Z$, $Z = 2$, $Y = 4$ allora X è uguale a:

- A 3
- B -1
- C -2

1031) Completare la seguente successione numerica: 12;17;15;?;18;11;21;8;?

- A 14;24
- B 20;16
- C 14;10

1032) Sottraendo 1625 da 5862 quale risultato si ottiene?

- A 4217
- B 4223
- C 4237

-
- 1033) In un museo sono presenti quadri, sculture e mosaici. Sapendo che il numero di quadri sta a quello delle sculture come 3 sta a 4, che il numero di mosaici sta a quello dei quadri come 5 sta a 3 e che nel museo ci sono 36 sculture, qual è il numero totale di opere d'arte presenti nel museo?
- A 108
B 99
C 123
-
- 1034) Qual è la differenza tra i 2 risultati delle operazioni seguenti? $5514 / 2$ e $5512 / 2$
- A 0.5
B 1
C 1.5
-
- 1035) Individuare la sequenza che contiene un numero di lettere minuscole maggiore rispetto al numero di lettere maiuscole.
- A pcFnutSMaTlaPRLVbcO
B TplacFPnbtSLVMaRO
C nbaTplacFPutSLVMRO
-
- 1036) Se APE = 9; MOSCA = 25 , ZANZARA = 49; LIBELLULA = ?
- A 81
B 64
C 100
-
- 1037) Individuare l'alternativa che riporta una successione di elementi identica alla sequenza 1002ABC3ACB4BCA4
- A 1002ABC3ACB4BCA4
B 1002ABC3ACB4BBA4
C 1002ABC3ACB4CCA4
-
- 1038) Se VIOLA = 2; MARGHERITA = 6 , TULIPANO = 4; GELSOMINO = ?
- A 7
B 9
C 5
-
- 1039) Se: $X + X = Y - X$, $X = Z + W$, $X = Y$, $Z = -6$ allora W è uguale a:
- A -6
B 12
C 6
-
- 1040) Solo se conservati nel congelatore, i surgelati non si deteriorano. In base alla precedente affermazione, quale delle seguenti NON è necessariamente vera?
- A I surgelati non deteriorati sono stati conservati nel congelatore
B I surgelati deteriorati non sono stati conservati nel congelatore
C Se non conservati nel congelatore, i surgelati si deteriorano
-
- 1041) Completare la seguente successione numerica: 15;18;27;54;?
- A 135
B 162
C 63
-
- 1042) Indicare in quale delle seguenti alternative la lettera R è presente un numero maggiore di volte.
- A RRRTTRTRRTRTTGTG
B RTTRRTGRRTTRTRTR
C RTTRTTGRRTTRTRTR
-
- 1043) Se 5 programmatori, lavorando allo stesso ritmo, impiegano 3 giorni per realizzare un programma, quanto impiegherebbe un solo programmatore a completare lo stesso lavoro?
- A 10 giorni
B 15 giorni
C 5 giorni
-
- 1044) Durante un processo è stata respinta la prova che nega che Mario Rossi abbia truffato Antonio Bianchi, né è stata acquisita alcuna prova del contrario. Quindi:
- A Rossi ha sicuramente truffato Bianchi
B Rossi potrebbe aver truffato Bianchi
C Rossi non ha sicuramente truffato Bianchi

-
- 1045) In una carta topografica la distanza tra due località è di 8 cm. Sapendo che la scala è di 1:400.000, quanto distano nella realtà le due località?
- A 32 Km
 - B 64 Km
 - C 48 Km
-
- 1046) Se l'altezza di un rettangolo viene ridotta del 20% e la base incrementata del 20%, l'area del nuovo rettangolo rispetto all'area del rettangolo iniziale sarà:
- A invariata
 - B diminuita del 4%
 - C aumentata del 20%
-
- 1047) Se: $VJ - 1 + JK = AX - 6$ $VJ = 3 + AX$ allora JK è uguale a:
- A 4
 - B -8
 - C -5
-
- 1048) Un maglione che costava 56 euro, con i saldi ha un prezzo pari ai 3/4 del prezzo iniziale. A quanto ammonta lo sconto applicato?
- A 25 euro
 - B 40 euro
 - C 14 euro
-
- 1049) Data la sequenza PPLLHGTFXFGTTrfttuvvgghf individuare l'alternativa che la riproduce fedelmente se inserita al posto dei puntini nella seguente: PPLLHGTF...vvgghf
- A XFGTTrfttu
 - B XFGTrfttu
 - C XFGTTftuu
-
- 1050) Completare correttamente la seguente successione numerica: 40;22;20;18;10;14;5;?
- A 11
 - B 12
 - C 10
-
- 1051) Quali tra i termini proposti completano correttamente la seguente proporzione? Stampa : X = telefono : Y
- A X = Einstein;Y = Galileo
 - B X = Gutenberg;Y = Meucci
 - C X = Volta;Y = Fermi
-
- 1052) Solo se vado fuori nei weekend, rendo al massimo sul lavoro. In base alla precedente affermazione, è necessariamente vero che:
- A se non vado fuori nei weekend non rendo al massimo sul lavoro
 - B se non rendo al massimo sul lavoro, significa che non sono andato fuori nei weekend
 - C è possibile che renda al massimo sul lavoro anche se non vado fuori nei weekend.
-
- 1053) Se l'affermazione "tutti i calciatori di serie A sono stranieri" è vera, allora necessariamente:
- A tutte i calciatori di serie B non sono stranieri.
 - B è impossibile negare che nella serie A esista almeno un calciatore straniero.
 - C nessuna delle altre alternative è corretta
-
- 1054) Tutti i ricercatori sono concentrati;Luca è preciso;tutte le persone precise sono concentrate. In base alle precedenti affermazioni, quale delle seguenti è necessariamente vera?
- A Luca è preciso.
 - B Tutte le persone precise sono ricercatori.
 - C Tutti i ricercatori sono precisi.
-
- 1055) Data l'affermazione: "Solo se uso il CD rom il computer si avvia", indicare quale/i delle seguenti conclusioni logiche è corretta: 1) se non uso il CD rom il computer non si avvia;2) se uso il CD rom il computer si avvia;3) se il computer si è avviato significa che ho usato il CD rom.
- A Solo la 2)
 - B La 1) e la 2)
 - C Solo la 1)

- 1056) Individuare il diagramma che soddisfa la relazione insiemistica esistente tra i termini dati:
PERSONE DI SESSO MASCHILE, PERSONE DI SESSO FEMMINILE, DONATORI DI SANGUE

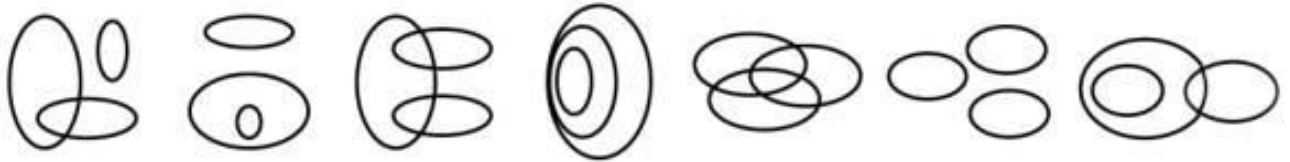


DIAGRAMMA 1 DIAGRAMMA 2 DIAGRAMMA 3 DIAGRAMMA 4 DIAGRAMMA 5 DIAGRAMMA 6 DIAGRAMMA 7

- A Diagramma 1
B Diagramma 3
C Diagramma 4

- 1057) Tutte le baby-sitter sono giovani. Chi è giovane ama ballare. Chi ama ballare non è timido. Se le precedenti informazioni sono vere, quale delle seguenti affermazioni è necessariamente FALSA?

- A Chi è giovane potrebbe essere una baby-sitter
B Alcune baby-sitter sono timide
C Chi non ama ballare potrebbe non essere timido

- 1058) Tutti i professori sono intransigenti; Lorenzo è intransigente. In base alle precedenti informazioni, quale delle seguenti affermazioni è necessariamente vera?

- A Tutte le persone intransigenti sono professori.
B Nessuna delle altre risposte è corretta.
C Lorenzo non è un professore.

- 1059) Un'eredità di 180 000 euro è divisa in tre parti proporzionali ai numeri 2, 3 e 4. A quanto ammonta la porzione più ingente dell'eredità?

- A 100 000 euro
B 90 000 euro
C 80 000 euro

- 1060) Ha significato opposto di "teorico":

- A pratico
B conciso
C astratto

- 1061) Mario segna le 26 lettere dell'alfabeto italiano, ogni terza lettera, con una croce. Marco fa la stessa cosa ogni quarta lettera. Qual è la prima lettera segnata da entrambi?

- A G
B L
C P

- 1062) Quale delle parole che seguono non è l'anagramma del nome di una disciplina sportiva:

- A sinnet
B ospoir
C teksab

- 1063) Il verbo "procrastinare" significa:

- A ipotizzare
B rinviare
C rimproverare

- 1064) Per numerare le pagine di un libro sono state usate in totale 3300 cifre. Le pagine del libro sono comprese:

- A tra 2000 e 3000
B tra 1000 e 1500
C tra 1500 e 2000

- 1065) Il contrario di "ignifugo" è:

- A infiammabile
B un ambiente denso di fumo
C resistente al fuoco

- 1066) Sottraendo 1234 da 5055 quale risultato si ottiene?

- A 3821
- B 3619
- C 3720

-
- 1067) **Indicare la coppia di termini che completa logicamente la seguente proporzione verbale: x : teorico = concreto : y**
- A x = tangibile y = intangibile
 - B x = empirico y = astratto
 - C x = apocrifo y = ipocrita
-
- 1068) **In base alle informazioni in suo possesso, il professore ordinario non può non negare che è falso quanto affermato dal suo ricercatore, il quale ha dichiarato di non conoscere l'autore della scoperta del secolo. Basandosi sulla precedente affermazione, individuare quale delle seguenti alternative è esatta.**
- A Non è possibile sapere se il ricercatore conosce l'autore della scoperta del secolo
 - B Il ricercatore non conosce l'autore della scoperta del secolo
 - C Il ricercatore è l'autore della scoperta del secolo
-
- 1069) **Il termine "idioma" è sinonimo di:**
- A cultura
 - B lingua
 - C razza
-
- 1070) **Tre artigiani costruiscono un tavolo rispettivamente in quattro, cinque e dieci giorni. Quanto tempo impiegano a costruire 11 tavoli lavorando insieme?**
- A 20 giorni
 - B 30 giorni
 - C 10 giorni
-
- 1071) **Quali, tra i termini proposti, completano correttamente la seguente proporzione? chicco: uva = X: Y**
- A X = gradino Y = scala
 - B X = vigna; Y = palazzo
 - C X = vino; Y = vendemmia
-
- 1072) **Indicare la sillaba che, posposta al primo e anteposta al secondo gruppo di lettere forma due parole di significato compiuto. ere (...) da**
- A li
 - B ta
 - C mo
-
- 1073) **Un viaggiatore a Parigi si imbarca su un aereo diretto verso est. Il volo impiega 7 ore e la sua destinazione si trova a 4 fusi orari di distanza. Se parte alle ore 20:30 del 30 aprile, che ore sono e che giorno è quando arriva?**
- A Le 19:30 del primo maggio
 - B Le 7:30 del 30 aprile
 - C Le 23:30 del 30 aprile
 - D Le 7:30 del primo maggio
-
- 1074) **Individua il numero che completa la serie: 5 10 15 20 25 ...**
- A 45
 - B 35
 - C 30
-
- 1075) **Se l'affermazione "Tutte le barche a remi sono leggere" è falsa, quale delle seguenti affermazioni è vera?**
- A Almeno una barca a remi non è leggera
 - B Almeno una barca a remi è leggera
 - C Non esistono barche a remi leggere
-
- 1076) **Se l'affermazione "nessun programmatore di computer è allegro" è falsa, quale delle seguenti alternative è necessariamente vera?**
- A Almeno un programmatore di computer è allegro
 - B Alcuni programmatori di computer sono molto tristi
 - C I programmatori di computer sono tutti tristi
-

- 1077) I 900 seggi di un parlamento sono ripartiti fra 10 partiti politici. Non ci sono due partiti con uno stesso numero di seggi e il 10°, quello con il minor numero di seggi, ne ha 25. Collocando i partiti in ordine decrescente per numero di seggi, qual è il più alto numero di seggi che il quinto partito può avere?
- A 155
B 153
C 151
-
- 1078) Assumendo che ogni pappagallo mangi la stessa quantità di cibo ogni giorno e che lo stesso avvenga per ogni canarino, ogni giorno con 14 grammi di becchime si sfamano 4 pappagalli e 3 canarini, mentre con 18 grammi dello stesso mangime si sfamano 4 pappagalli e 5 canarini. Quale delle seguenti affermazioni NON è vera?
- A Due pappagalli e sei canarini richiedono ogni giorno lo stesso becchime di cinque pappagalli.
B Un pappagallo ogni giorno mangia quanto un canarino.
C Un canarino viene sfamato per 2 giorni con 4 grammi di becchime.
-
- 1079) Se: $X + Y + 3 = 2X - 3$, $Y = 3$ allora X è uguale a:
- A 9
B -9
C -3
-
- 1080) Un succo di frutta costa euro 0,30 a lattina, mentre in confezione da sei lattine costa euro 1,60. Quale percentuale del prezzo di sei lattine singole si risparmia comprandole in confezione da sei?
- A 0.07
B 0.111
C 0.099
-
- 1081) In base all'assunto che e "tutti i cellulari prodotti in Cina sono molto leggeri", quale delle seguenti affermazioni è necessariamente vera?
- A Non esistono cellulari prodotti in Cina che siano pesanti.
B Solo i cellulari prodotti in Cina sono leggeri.
C È impossibile negare che esista almeno un cellulare prodotto in Cina pesante.
-
- 1082) Individuare l'abbinamento errato:
- A Bizet - Carmen
B Mozart - Il flauto magico
C Beethoven - Parsifal
-
- 1083) Un impiegato riesce completare 28 pratiche ogni ora. Se in un giorno lavorativo di 8 ore si accumulano 6720 pratiche da chiudere in giornata, quanti impiegati saranno necessari?
- A 30
B 29
C 28
-
- 1084) Lungo una strada 12 cipressi crescono in fila e distano l'uno dall'altro 5 metri. Qual è la distanza tra il primo e l'ultimo cipresso?
- A 55 metri
B 65 metri
C 50 metri
-
- 1085) Cinque treni: A, B, C, D ed E partono dalla stessa stazione diretti in cinque città differenti. Si sa che: I) C è più veloce di B ma arriva dopo di questo che è, invece, il primo ad arrivare; II) A è l'ultimo ad arrivare anche se è più veloce di D e meno veloce di B; III) E, il secondo treno ad arrivare a destinazione è più veloce di D, ma meno veloce di A. In base alle precedenti informazioni il treno più veloce è:
- A B
B A
C C
-
- 1086) Completare correttamente la seguente successione numerica: 80;32;40;28;20;24;10;?;?
- A 18;8
B 16;8
C 20;5
-
- 1087) Se: $\textcircled{C} - 1 + \textcircled{A} = \textcircled{\$} - 6$ $\textcircled{C} = 3 + \textcircled{\$}$ Allora \textcircled{A} è uguale a:

- A -6
- B -4
- C -8

1088) Completare la seguente successione numerica: 44;67;98;?;?;130;108;131

- A 79;101
- B 77;99
- C 99;76

1089) Jack, Hans e Johnny, fermati perché sospettati di un omicidio, fanno rispettivamente le seguenti dichiarazioni: "Non sono stato io"; "L'assassino è Johnny"; "Lo ha ucciso Jack". L'ispettore sa per certo che due di essi mentono, mentre il terzo ha detto il vero. Che cosa si può affermare?

- A Johnny è innocente.
- B Johnny è colpevole.
- C Non è possibile stabilire chi dei tre sia colpevole o innocente.

1090) Quali, tra i termini proposti, completano correttamente la seguente proporzione? uovo: X = Y: capra

- A X = panna; Y = tuorlo
- B X = gallina; Y = latte
- C X = mucca; Y = pecora

1091) In un grattacielo di 100 piani un ascensore fermo al 32° piano inizia la risalita e nello stesso istante un secondo ascensore comincia a scendere. Si sa che mentre il primo sale di tre piani, il secondo scende di quattro piani. Sapendo che si incontreranno al 50° piano, da quale piano è partito il secondo ascensore?

- A Dal 68° piano
- B Dal 74° piano
- C Dal 70° piano

1092) Completare correttamente la seguente successione di lettere, utilizzando l'alfabeto italiano: M;I;?;E;C;A

- A G
- B D
- C F

1093) Individuare il diagramma che soddisfa la relazione insiemistica esistente tra i termini dati: LIBERI PROFESSIONISTI, CELIBI, LAUREATI

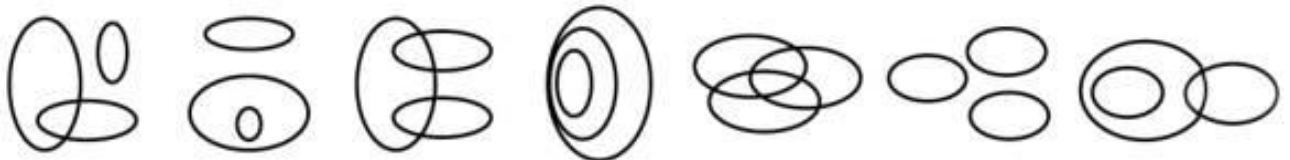


DIAGRAMMA 1 DIAGRAMMA 2 DIAGRAMMA 3 DIAGRAMMA 4 DIAGRAMMA 5 DIAGRAMMA 6 DIAGRAMMA 7

- A Diagramma 5
- B Diagramma 3
- C Diagramma 4

1094) Se: $X + 3 + X = Y + 4$, $X = -9 + Y$ allora X è uguale a:

- A 16
- B 10
- C -10

1095) Tutti gli escursionisti sono simpatici; Leonardo ama la Toscana; tutte le persone che amano la Toscana sono simpatiche. Se le precedenti affermazioni sono vere, quale delle seguenti è necessariamente vera?

- A Leonardo è un escursionista
- B Leonardo è simpatico
- C Tutti gli escursionisti amano la Toscana

1096) Individuare l'abbinamento errato:

- A Giuseppe Verdi - Otello
- B Gioacchino Rossini - Nabucco
- C Vincenzo Bellini - Norma

-
- 1097) Individuare la riga che contiene il minor numero di lettere W.
- A UUWUUUWUUWU
 - B UUUWUUUUUUW
 - C WUUUUUWUUUW
-
- 1098) In un torneo di poker la classifica dal 1° al 7° posto è la seguente: Gaia, Fabio, Ilaria, Aldo, Beatrice, Claudio, Enrico. Cinque di questi sette giocatori hanno realizzato un poker d'assi e si sa che ad averlo realizzato sono tre tra i primi quattro classificati e tre tra gli ultimi quattro classificati. Si può essere certi che ad aver realizzato un poker d'assi è:
- A Fabio
 - B Aldo
 - C Claudio
-
- 1099) Quale dei seguenti termini integra la serie: apriscatole - rompighiaccio - cacciavite?
- A apripista
 - B fondatore
 - C pioniere
-
- 1100) Gianna andrà a sciare se e solo se comprerà gli occhiali da sole. In base alla precedente affermazione, quale delle seguenti è necessariamente FALSA?
- A Se Gianna non comprerà gli occhiali da sole allora non andrà a sciare.
 - B Anche se Gianna comprerà gli occhiali da sole, potrebbe non andare a sciare.
 - C Se Gianni è andata a sciare allora ha comprato gli occhiali da sole.
-
- 1101) Si dispone di una bilancia a due piatti con il braccio destro che misura il doppio del braccio sinistro. Se nel piatto destro vengono posti 6 pesi tutti uguali fra loro, quanti pesi dello stesso tipo devono essere posizionati nel piatto sinistro affinché la bilancia risulti in equilibrio?
- A 18
 - B 24
 - C 12
-
- 1102) Nel lancio di un dado, qual è la probabilità che esca un numero dispari o maggiore di 4?
- A 1/2
 - B 2/3
 - C 1/4
-
- 1103) Per acquisire nuovi clienti, la catena di supermarket RST ha intrapreso una campagna di sconti per acquisti di importo superiore ai 100 euro per singolo scontrino. Da allora le casse dei supermarket della catena hanno registrato un aumento del 30% del numero di scontrini superiori ai 100 euro e quindi l'iniziativa è stata un vero successo. Quale delle seguenti affermazioni, se vera, indebolirebbe maggiormente la precedente argomentazione?
- A Gli acquirenti che normalmente non spendono più di 50 euro per singolo scontrino non vengono persuasi a spendere di più, qualunque sia l'iniziativa intrapresa dalla RST.
 - B Quasi tutti gli acquirenti che hanno usufruito della campagna sconti effettuando acquisti di importo superiore ai 100 euro per singolo scontrino erano già da tempo clienti della catena RST.
 - C Molte delle persone che hanno cominciato a servirsi dei supermarket RST hanno usufruito della campagna sconti effettuando acquisti di importo superiore ai 100 euro per singolo scontrino.
-
- 1104) Tutti i melomani la domenica vanno al concerto. Se la precedente affermazione è vera, allora è necessariamente vero che:
- A anche se Corrado non è un appassionato di musica, può andare al concerto domenica.
 - B se Corrado non è un melomane, non va al concerto la domenica.
 - C se Corrado è al concerto domenica, allora sicuramente è un melomane.
-
- 1105) Indicare la sillaba che, posposta ai gruppi di lettere, fornisce a ciascuno un significato compiuto: SE..,FA..,RA...,CI""
- A ME
 - B GI
 - C PI
-
- 1106) Quali, tra i termini proposti, completano correttamente la seguente proporzione verbale? Mattone : muro = X : Y
- A X = alunno; Y = scolaresca
 - B X = seme; Y = albero
 - C X = fiore; Y = frutto
-
- 1107) Quale delle tre serie di numeri o lettere è identica alla seguente: 4848488833383555

- A 4850000000000000
- B 4850000000000000
- C 4850000000000000

1108) **Indicare la parola da scartare.**

- A Superbia
- B Affabilità
- C Cortesia

1109) **La ___ di ciascuno trascorre tutta fra il volere e l'ottenere. Il desiderio per sua natura è dolore, la soddisfazione genera ben presto saturazione: la meta era solo apparente. Il possesso toglie ogni interesse: il desiderio, il bisogno ricompare sotto nuova forma; dove non succede, subentrano lo squallore, il vuoto, la ___ che da combattere sono altrettanto ___ come il bisogno (Schopenhauer). Quale dei gruppi di termini proposti in sequenza integra, nell'ordine, le parole omesse?**

- A Morte/noia/tormentosi.
- B Vita/noia/tormentosi.
- C Vita/felicità/tormentosi

1110) **Se ISOLA = 5, OCEANO = 6 , SPIAGGIA = 7, GOLFO = ?**

- A 10
- B 5
- C 8

1111) **Individuare l'alternativa che completa in modo corretto la seguente proporzione tra termini. "Felice : Infelice = X : Y"**

- A X = lieto; Y = allegro.
- B X = ricco; Y = indigente.
- C X = attivo; Y = vivace

1112) **Indicare l'aggettivo da scartare.**

- A Astuto.
- B Franco.
- C Scaltro.

1113) **Una frase è stata divisa in 5 parti, che successivamente sono state mescolate e che di seguito sono proposte in ordine casuale: - 1) quello di poter odiare \ 2) di questo mondo \ 3) è uno dei vantaggi \ 4) senza conoscersi \ 5) ed essere odiati. Ricomporre correttamente la frase.**

- A 4;1;2;3;5.
- B 2;5;1;3;4.
- C 3;2;1;5;4.

1114) **Qual è il 20% di m 41?**

- A 8,2 m
- B 9,2 m
- C 7,2 m

1115) **Quale tra i seguenti numeri è divisibile per 3?**

- A 255367
- B 187062
- C 196436

1116) **A quale numero corrisponde la frazione 9/20?**

- A 0.45
- B 29
- C 2.2

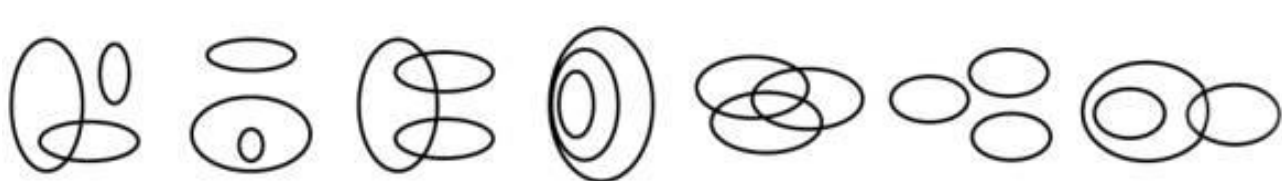
1117) **La frazione 2/5 corrisponde al numero:**

- A 10
- B 2.5
- C 0.4

1118) **Qual è la differenza fra i numeri 2,68 e 0,029?**

- A 2.651
- B 2.661
- C 2.652

-
- 1119) **Completare correttamente la seguente successione: C;116;E;98;G;80;?;62;M;?**
- A I;42
 - B M;44
 - C I;44
-
- 1120) **Un centro di ricerca deve distribuire un finanziamento di 5.000 euro. Il responsabile propone di destinarne la metà a contratti di ricerca, un quarto a spese di laboratorio, un quinto a spese per pubblicazione dei lavori scientifici che saranno scritti e un decimo a spese per partecipazione a congressi. Così facendo:**
- A si esaurisce il budget riuscendo a finanziare tutto.
 - B si supera il budget di 250 euro.
 - C si risparmiano 50 euro.
-
- 1121) **Completare correttamente la seguente successione numerica: ?;?;37;62;42;65;47;68**
- A 32;59
 - B 59;31
 - C 32;61
-
- 1122) **Se la lettera N identifica una qualunque cifra (singola), la lettera P identifica una qualunque cifra (singola) la lettera P identifica una qualunque cifra (singola) pari e la lettera D identifica una qualunque cifra (singola) dispari, allora il prodotto tra i numeri NP e NN sarà certamente un numero:**
- A composto da cinque cifre.
 - B pari.
 - C dispari di tre cifre.
-
- 1123) **Tre amici, Giovanni, Marco e Filippo vanno spesso al cinema. Si sa che se Filippo va al cinema, ci va anche Giovanni;Giovanni e Marco non ci vanno mai tutti e due insieme;può anche succedere che Filippo o Marco vadano al cinema singolarmente;d'altra parte se Marco va al cinema, allora ci va anche Filippo". Ammesse per vere tali premesse, sono andati al cinema in coppia:**
- A Filippo e Marco
 - B Giovanni e Filippo
 - C Nessuno
-
- 1124) **Una frase è stata divisa in 5 parti, che successivamente sono state mescolate e proposte in ordine casuale: - 1) e al mondo c'eravamo \ 2) pelle a pelle \ 3) soltanto noi due \ 4) con le porte e le finestre chiuse \ 5) ora eravamo nello stesso letto. Ricomporre correttamente la frase.**
- A 1;5;4;2;3.
 - B 5;2;4;1;3.
 - C 4;1;5;2;3.
-
- 1125) **Se Marta continua a mangiare abbondantemente, ingrasserà. Se l'affermazione precedente è corretta, allora è certamente vero che:**
- A se Marta ingrasserà, sarà a causa dei pasti troppo abbondanti.
 - B se Marta ingrasserà, significa che non ha smesso di mangiare abbondantemente.
 - C se Marta non ingrasserà, significa che ha smesso di mangiare abbondantemente.
-
- 1126) **Completare correttamente la seguente successione numerica: 45;47;50;54;59;65;?**
- A 72
 - B 73
 - C 69
-
- 1127) **Tutti i pescatori sono amanti del mare. Giulio è un amante del mare. Tutti gli amanti del mare sono sportivi. In base alle precedenti affermazioni, quale delle seguenti NON è necessariamente vera?**
- A Giulio è sportivo
 - B Giulio è un pescatore
 - C Tutti i pescatori sono sportivi
-
- 1128) **Se CELLULARE = 18, TASTO = 10, SQUADRA = 14, RICARICA = ?**
- A 16
 - B 14
 - C 12
-
- 1129) **Individuare l'abbinamento errato.**
- A Spedizione dei Mille - 1860
 - B Battaglia di Caporetto - 1944
 - C Rivoluzione francese - 1789

- 1130) Indicare in quale delle seguenti alternative è presente una sola volta il gruppo di lettere "CPU".
- A AZXCPUNHTTPDCUPFTGRR
 B AZXCPUXDESXCPUDHCPUR
 C AZXCPUNSDACPUDFTGRR
-
- 1131) Completare la successione numerica: 25 40 ? 50 45
- A 35
 B 60
 C 65
-
- 1132) Alice ha investito 1000 euro in azioni di una certa società. Ieri le azioni di quella società hanno subito un rialzo del 45% alla chiusura della borsa, mentre oggi si sono deprezzate del 40%. Se domani mattina, all'apertura della borsa, Alice rivende le azioni, quanto ha guadagnato o quanto ha perso?
- A ha perso 130 euro
 B ha guadagnato 870 euro
 C ha guadagnato 50 euro
-
- 1133) Completare la seguente proporzione: X : cerchio = tre : Y
- A X = quadrato; Y = cubo
 B X = due; Y = sfera
 C X = superficie; Y = quadrato
-
- 1134) Di una famiglia si sa che: "almeno un maschio non è celibe; tutti i laureati sono celibi; almeno un maschio è maggiorenne. Solo una delle seguenti proposizioni è deducibile dalle premesse. Quale?
- A Almeno un maggiorenne è coniugato.
 B Tutti i celibi sono laureati.
 C Almeno un celibe non è maggiorenne.
-
- 1135) Indicare il termine da scartare.
- A Leale.
 B Schietto.
 C Labile.
-
- 1136) Individuare il diagramma che soddisfa la relazione insiemistica esistente tra i termini dati: MUSEI, DISCOTEQUE, LIBRERIE
- 
- DIAGRAMMA 1 DIAGRAMMA 2 DIAGRAMMA 3 DIAGRAMMA 4 DIAGRAMMA 5 DIAGRAMMA 6 DIAGRAMMA 7
- A Diagramma 2
 B Diagramma 3
 C Diagramma 6
-
- 1137) Quale frase non contiene errori di sintassi?
- A Avrei preferito che tu mi dicessi la verità.
 B Avrei preferito che tu mi diresti la verità.
 C Avrei preferito che tu mi abbia detto la verità.
-
- 1138) In un supermercato arrivano tre casse sigillate con le seguenti etichette: Limoni, Mele, Limoni e mele. Sapendo che le tre casse contengono: una mele, un'altra cassa limoni, e la terza mele e limoni, ma che nessuna di esse riporta l'etichetta corrispondente al reale contenuto, qual è il numero minimo di casse che è necessario aprire e quale è il numero di frutti che è necessario estrarre dalle casse per correggere le tre etichette?
- A Una cassa e un solo frutto.
 B Due casse e tre frutti per ogni cassa.
 C Tre casse e due frutti per ogni cassa.
-
- 1139) Lanciando tre dadi nello stesso momento, qual è la probabilità di ottenere un punteggio dispari?
- A 0.33
 B 0.5
 C 0.75

1140) Individuare l'aggettivo da scartare.

- A Riluttante
- B Incline
- C Propenso

1141) Quale delle seguenti affermazioni riguardanti un parallelogramma è falsa?

- A La somma degli angoli interni è 360
- B Gli angoli opposti sono supplementari
- C I lati opposti sono uguali

1142) A quale percentuale corrisponde la frazione 18/200?

- A 0.9
- B 0.09
- C 0.18

1143) Indicare il termine da scartare.

- A Copioso.
- B Abbondante.
- C Abietto.

1144) Se "alcuni agrumi sono arance" e "tutte le arance hanno i semi", quale delle seguenti affermazioni è certamente vera?

- A Solo le arance hanno i semi
- B Tutti i frutti con i semi sono arance
- C Alcuni agrumi hanno i semi

1145) Individuare il diagramma che soddisfa la relazione insiemistica esistente tra i termini dati: APPARTAMENTI, CUCINE, PIATTI




DIAGRAMMA 1 DIAGRAMMA 2 DIAGRAMMA 3 DIAGRAMMA 4 DIAGRAMMA 5 DIAGRAMMA 6 DIAGRAMMA 7

- A Diagramma 4
- B Diagramma 6
- C Diagramma 2

1146) Quale valore si ottiene dal prodotto fra i 2 risultati delle operazioni seguenti? $880 / 440$ e $390 / 130$?

- A 4
- B 6
- C 9

1147) Una frase è stata divisa in 5 parti, che successivamente sono state mescolate e che di seguito sono proposte in ordine casuale: - 1) la storia senza la politica ? \ 2) che impari la strada \ 3) ma cos'è \ 4) e per conseguenza butta via i suoi passi \ 5) una guida che cammina, cammina con nessuno dietro. Ricomporre la frase correttamente.

- A 3;1;5;2;4.
- B 2;4;1;3;5.
- C 1;3;2;4;5.

1148) Se in una classe di 30 alunni , il 30 % ha avuto un'insufficienza in matematica, quanti sono gli alunni con un giudizio insufficiente?

- A 12
- B 5
- C 9

1149) In un mazzo di carte francesi (52 carte e 4 semi), la probabilità di estrarre 2 figure di picche è:

- A $5/442$
- B $1/442$
- C $1/1326$

-
- 1150) **A differenza delle altre palestre della città, la palestra Fitness ha aumentato le iscrizioni rispetto all'anno precedente. Il motivo di tale aumento è riconducibile all'allestimento in sede di una piscina olimpionica. Quale delle seguenti conclusioni NON può essere dedotta dalla precedente affermazione?**
- A Nell'ultimo anno gli iscritti della palestra Fitness sono aumentati rispetto a quelli dell'anno precedente.
 - B Nell'ultimo anno le palestre della città, ad esclusione della Fitness, non hanno aumentato le iscrizioni rispetto all'anno precedente.
 - C Le altre palestre della città diverse dalla Fitness non sono dotate di piscina.
-
- 1151) **Indicare il termine che ha significato diverso.**
- A Perseguitare.
 - B Corteggiare.
 - C Molestare.
-
- 1152) **Anna spende il 4% del suo stipendio mensile per l'abbigliamento e l'8% per i divertimenti. Se ogni mese spende 60 euro in vestiti, a quanto ammonta lo stipendio di Anna?**
- A 1500 euro
 - B 1.600 euro
 - C 2.000 euro
-
- 1153) **Se il prezzo di un bene inclusivo dell'IVA al 20% è di euro 75, l'imponibile IVA, ovvero il prezzo al netto dell'imposta, è di:**
- A 65
 - B 62.5
 - C 60
-
- 1154) **Indicare il termine da scartare.**
- A Iniquo.
 - B Ansioso.
 - C Irrequieto.
-
- 1155) **Marco ha 5 gettoni apparentemente identici, uno dei quali è però più pesante degli altri. Avendo a disposizione una bilancia a due piatti, quante pesate saranno sufficienti per essere certi di individuarlo?**
- A 4
 - B 3
 - C 2
-
- 1156) **Una recente ricerca condotta da un prestigioso centro ha mostrato che le droghe leggere sono meno dannose per la salute di quanto non lo sia l'alcol. È dunque opportuno provvedere a legalizzare tali sostanze. Quale delle seguenti affermazioni, se corretta, indebolisce maggiormente la conclusione riportata dall'autore del passaggio precedente?**
- A La liberalizzazione delle droghe leggere comporterebbe un ingente danno al giro d'affari della mafia.
 - B La ricerca si concentra sugli effetti delle droghe leggere e dell'alcol sul fegato, trascurando altri possibili effetti.
 - C La legalizzazione delle droghe leggere è avversata dai principali partiti politici.
-
- 1157) **Completare la seguente successione, utilizzando l'alfabeto italiano: A;3;C;7;E;?;?;15**
- A 11;G
 - B 13;F
 - C 11;F
-
- 1158) **Due ciclisti fanno una gara su una pista circolare lunga 500 m partendo insieme dai nastri di partenza e con l'obbligo di eseguire 10 giri. Sapendo che il primo ciclista viaggia alla velocità di 45 km/h e che il secondo corre alla velocità di 20 km/h, quando il primo ciclista doppiierà il secondo per la terza volta?**
- A Durante il suo quinto giro
 - B Durante il suo sesto giro
 - C Durante il suo terzo giro
-
- 1159) **Completare correttamente la seguente successione numerica: 61;96;53;?;?;79;113;148**
- A 96;88
 - B 90;124
 - C 87;122
-
- 1160) **Un'eredità di 120.000 euro è divisa in tre parti proporzionali ai numeri 3, 4 e 5. Qual è la porzione più ingente dell'eredità?**

- A 30.000 euro
- B 50.000 euro
- C 40.000 euro

-
- 1161) **Completare correttamente la seguente successione, utilizzando l'alfabeto italiano:**
C;77;P;65;D;53;Q;41;?;?
- A E;29
 - B C;29
 - C P;22
-
- 1162) **Considerando due viali consecutivi, lunghi rispettivamente 55 m e 33 m, volendo collocare dei lampioni in modo che la distanza tra essi sia la stessa in entrambi i viali e la massima possibile, quanti lampioni saranno collocati?**
- A 11
 - B 9
 - C 13
-
- 1163) **Completare correttamente la seguente successione di lettere, utilizzando l'alfabeto italiano:**
M;L;H;E;?
- A B
 - B A
 - C C
-
- 1164) **Il ritrovamento dei reperti non ha consentito di dimostrare l'impossibilità che il sito sia quello dell'antica capitale etrusca. Qual è il corretto significato della precedente affermazione?**
- A L'esame dei reperti non ha dimostrato che la città scoperta non è l'antica capitale etrusca.
 - B È impossibile che la città scoperta sia l'antica capitale etrusca.
 - C L'esame dei reperti ritrovati ha dimostrato che la città scoperta è l'antica capitale etrusca.
-
- 1165) **Posti $A = \{5, 6, 7\}$ e $B = \{6, 7, 8\}$, qual è l'insieme risultante dall'intersezione di A e B?**
- A $\{5, 6, 7, 8\}$
 - B $\{6, 7\}$
 - C $\{6, 7, 8\}$
-
- 1166) **Un appartamento del valore di euro 100.000 viene venduto per una somma diminuita dei $\frac{3}{5}$. A quanto è ammontato lo sconto?**
- A 60.000 euro
 - B 36.000 euro
 - C 50.000 euro
-
- 1167) **Completare correttamente la seguente successione numerica: 89;52;82;48;75;44;68;?;?**
- A 61;39
 - B 39;66
 - C 40;61
-
- 1168) **Tutti i cercatori di funghi hanno una buona vista. Angelo ha una buona vista. In base alle precedenti informazioni, quale delle seguenti affermazioni è certamente vera?**
- A Angelo è un cercatore di funghi.
 - B Nessuna delle alternative è corretta
 - C Tutti coloro che hanno una buona vista sono cercatori di funghi.
-
- 1169) **Individuare il numero che completa la serie: 162 ? 18 6**
- A 54
 - B 64
 - C 72
-
- 1170) **Completare correttamente la seguente successione numerica: 102;77;44;?;?;10;34;9**
- A 77;69
 - B 68;43
 - C 71;45
-
- 1171) **In un numero di due cifre, la cifra delle unità è il doppio di quella delle decine: scambiando l'ordine delle cifre si ottiene un secondo numero che supera di 18 il primo. Qual è il primo numero?**
- A 42
 - B 48
 - C 24

-
- 1172) **Dario ha più di cinquant'anni;tutte le persone che hanno i capelli bianchi hanno più di cinquant'anni;le persone che non hanno i capelli bianchi sono sensibili. Se le precedenti affermazioni sono vere, allora NON si può affermare con certezza che:**
- A Dario ha i capelli bianchi e non è una persona sensibile.
 - B Possono esserci persone con più di cinquant'anni che non hanno i capelli bianchi.
 - C Dario potrebbe essere una persona sensibile.
-
- 1173) **Completare correttamente la seguente successione, utilizzando l'alfabeto italiano:
G;11;F;12;E;23;D;35;?;?**
- A F;67
 - B T;70
 - C C;58
-
- 1174) **Mescolando 400 litri di vino da 0,40 euro al litro con 600 litri di vino da 0,30 euro al litro si ottiene un vino il cui prezzo al litro potrebbe essere:**
- A 0.32
 - B 0.34
 - C 0.35
-
- 1175) **Completare correttamente la seguente successione numerica: 22;44;26;38;30;32;?;?**
- A 34;26
 - B 36;26
 - C 34;28
-
- 1176) **In una scatola ci sono 4 palline bianche, 3 palline gialle e 7 palline blu. Qual è la probabilità di estrarre a caso una pallina bianca o una blu?**
- A 11/14
 - B 1/11
 - C 1/14
-
- 1177) **Quale gruppo di lettere, premesso in sequenza ai termini proposti, determina parole di senso compiuto? ANA - ENA - INA .**
- A T - C - M
 - B F - N - S
 - C M - F - V
-
- 1178) **Se TAP significa cifra (singola) divisibile per 5, TUP significa cifra (singola), divisibile per 3 e TOP significa cifra (singola) divisibile per 2, allora con quale scrittura può essere espresso il numero 92?**
- A TOP TAP
 - B TUP TAP
 - C TUP TOP
-
- 1179) **Per ottenere una tinta di una particolare tonalità di grigio occorre mescolare 2 barattoli di vernice nera con 5 barattoli di vernice bianca. Quanti barattoli di vernice bianca servono per 11 barattoli di vernice nera?**
- A 29.5
 - B 27.5
 - C 35
-
- 1180) **Se 4 bastoncini delimitano un quadrato, 6 bastoncini delimitano un rettangolo formato da due quadrati allineati e 8 bastoncini delimitano un rettangolo formato da tre quadretti allineati, quanti bastoncini delimitano un rettangolo di 50 quadretti allineati?**
- A 102
 - B 96
 - C 100
-
- 1181) **Se il prezzo di 0,7 kg di mele corrisponde a 0,35 euro, quanto costa 0,1 kg di mele?**
- A 0,50 euro
 - B 0,22 euro
 - C 0,05 euro
-
- 1182) **Indicare il verbo che non ha significato affine agli altri.**
- A Affrontare.
 - B Truffare.
 - C Frodare.

-
- 1183) **Affinché un numero intero sia multiplo di 3 è sufficiente che:**
A non sia multiplo di 5
B sia multiplo di 6
C sia maggiore di 3
-
- 1184) **Completare la seguente successione: 120, 118, 115, 110, 103, 94, 81, 64.....**
A 45
B 41
C 60
-
- 1185) **Quali dei seguenti numeri è divisibile per 3 e 5 ma non per 2 o 7?**
A 45
B 30
C 55
-
- 1186) **Qual è la somma degli angoli interni di un poligono regolare?**
A 360
B 90
C 180
-
- 1187) **Sapendo che il 7 non esce sulla ruota di Roma da 30 estrazioni e il 12 non esce su quella di Torino da 86 estrazioni, quale dei due numeri ha maggiori probabilità di essere estratto?**
A il 7 sulla ruota di Roma.
B non è possibile calcolare la probabilità dell'estrazione.
C 12 sulla ruota di Torino.
-
- 1188) **Indicare in quale delle seguenti alternative è presente una sola volta il gruppo di lettere "VVGFF".**
A VGYTFCXDREFFVVG MKJUHY
B VGYTFCXDREVVGD DMKJUHY
C VGYTFCXDREVVGFFM KJUHY
-
- 1189) **Una frase è stata divisa in 5 parti, che successivamente sono state mescolate e che di seguito sono proposte in ordine casuale: 1)rigido e inflessibile 2)se non chi 3)contro cui non divien forte 4)il delitto è un padrone 5)se ne ribella interamente. Ricomporre correttamente la frase.**
A 5;2;3;1;4.
B 4;1;3;2;5.
C 4;3;1;2;5.
-
- 1190) **Completare correttamente la seguente successione numerica: 44;51;64;?;?;82;80;87**
A 65;71
B 58;67
C 62;69
-
- 1191) **Indicare il termine da scartare.**
A Incline.
B Discordia.
C Screzio.
-
- 1192) **Si consideri un numero di tre cifre dove la cifra delle unità è uguale alla somma di quella delle decine con quella delle centinaia. Se si somma questo numero con quello ottenuto scambiando la cifra delle decine con quella delle centinaia e si divide il risultato per la somma delle cifre del numero dato, si ottiene:**
A 55.5
B 58.5
C 56
-
- 1193) **Quando il Signor Bianchi aveva 49 anni, suo figlio Paolo ne aveva 16. Quanti anni ha adesso Paolo, tenendo conto che la sua età è ora la metà di quella del padre?**
A 32
B 31
C 33
-
- 1194) **Se è vero che "tutti i cani da guardia sono molto aggressivi", quale delle seguenti affermazioni è necessariamente vera?**

- A Non esistono cani da guardia non aggressivi
- B Non esistono cani più aggressivi di quelli da guardia
- C È impossibile negare che esista almeno un cane da guardia poco aggressivo

1195) Individuare l'alternativa che riporta una successione di elementi identica alla sequenza JJHHYHYHHYY.

- A JJHHYHYHHYY
- B JJHYHYHHYY
- C JJHHYHYHHYY.

1196) Calcolare il numero di studenti in una classe sapendo che di questi 6/11 sono stati promossi in prima sessione, 4/11 in seconda sessione e 3 studenti sono stati respinti.

- A 33 studenti.
- B 29 studenti.
- C 25 studenti.

1197) Giovanni entra in camera da letto al buio, per non svegliare sua moglie Luisa. Nel suo cassetto vi sono 7 paia di calze indistinguibili al tatto, di cui quattro paia blu e tre paia grigie. Quella mattina gli va bene uno qualsiasi dei due colori. Qual è il numero minimo di calze che deve prendere per essere sicuro di averne almeno due dello stesso colore?

- A 4
- B 3
- C 7

1198) Se: $X + X + Y = -7Y$, $X = 1$. allora X è uguale a:

- A -1
- B 1
- C -0.25

1199) Individuare l'elemento mancante nella seguente serie: D;4;?;8;N;12;R;?

- A F;18
- B H;8
- C H;16

1200) Se la pubblicità ha avuto effetto, allora molte persone guarderanno la fiction televisiva. Se l'affermazione precedente è vera, quale delle seguenti è necessariamente vera?

- A Se la pubblicità non ha avuto effetto, allora poche persone guarderanno la fiction televisiva.
- B Chi ha guardato la fiction televisiva ha subito l'effetto della pubblicità.
- C Se poche persone hanno guardato la fiction televisiva, allora la pubblicità non ha avuto effetto.

1201) Se GREGGE = 12, CAPRA = 10, LANA = 8, PASCOLO = ?

- A 16
- B 10
- C 14

1202) Franco promette al figlio Tommaso che, se verrà promosso con una votazione superiore a sette, gli regalerà un computer portatile". In quale dei seguenti casi si è certi che Franco NON mantiene la promessa?

- A Tommaso è promosso con una votazione pari a otto e non riceve alcun regalo dal padre.
- B Tommaso viene respinto e riceve in regalo un computer portatile.
- C Tommaso viene promosso con sette e non riceve alcun regalo dal padre.

1203) Completare correttamente la seguente successione numerica: 20;40;9;54;74;43;?;?

- A 12;57
- B 93;106
- C 88;108

1204) Indicare il verbo che ha significato diverso dagli altri:

- A Erudire.
- B Indottrinare.
- C Disintegrare.

1205) Una concessionaria ha venduto 200 monopattini elettrici in settembre e 340 in ottobre. A quanto ammonta l'incremento percentuale delle vendite da un mese all'altro?

- A 0.7
- B 2.1
- C 1.4

-
- 1206) La pagina dell'articolo di cronaca è posta 7 pagine prima rispetto alla rubrica dedicata alla cucina che è 3 pagine prima della pagina delle "lettere ai lettori" che è 6 pagine dopo quella dello sport che è a pagina 30. A che pagina è l'articolo di cronaca?
- A 29
B 27
C 28
-
- 1207) Indicare in quale delle seguenti alternative viene rispettata la regola di alternanza "vocale-consonante".
- A ODERAXETUIXIDICDIC
B ODERAXETUPAFESIXIDIC
C ODERAXETUPAFESTXIDIC
-
- 1208) All'ingresso del cinema ci sono 6 file di persone in attesa. Ogni fila è composta di 3 persone in più della precedente. Nella prima fila vi sono 15 persone. Quante ce ne sono nell'ultima?
- A 27
B 33
C 30
-
- 1209) Tutti coloro che amano la natura sono felici;Matteo ama la natura;chi è felice non si arrabbia mai. Se le precedenti informazioni sono corrette, quale delle seguenti affermazioni NON rappresenta una conclusione corretta?
- A Chi è felice ama la natura.
B Matteo non si arrabbia mai.
C Chi ama la natura non si arrabbia mai.
-
- 1210) Completare correttamente la seguente successione, utilizzando l'alfabeto italiano:
S;109;Z;98;D;87;?;?
- A H;76
B I;78
C Z;88
-
- 1211) Indicare il termine che non è sinonimo degli altri.
- A Convocare.
B Chiamare.
C Racchiudere.
-
- 1212) Se TAPPETO = 14;DIVANO = 12;LAMPADA = 14;POLTRONA = ?
- A 14
B 18
C 16
-
- 1213) Se X e Y stanno tra loro come 2 sta a 3 e la loro somma vale 10, quanto vale X?
- A 4
B 5
C 8
-
- 1214) Individuare l'alternativa che riporta una successione di elementi identica alla sequenza AUVUVUUVVVAV.
- A AUVUVUUVVUVUV
B AUVUVUUVVVAV
C AUVUUVVVAVUV
-
- 1215) Se: $X - 6 + Y = Z - 1$, $X = 18 + Z$. Allora Y è uguale a:
- A -13
B -25
C 13
-
- 1216) Data la sequenza OSDFWOSOTATatatsfgqwerta individuare l'alternativa che la riproduce fedelmente se inserita al posto dei puntini nella seguente: OSDFWO...fgqwerta
- A SOTAoTatas
B SOTATatast
C SOTATatats

-
- 1217) **Completare correttamente la seguente successione numerica: 1 ?;4;8;16;?;64 ?**
A 32;128
B 12;80
C 24;72
-
- 1218) **Se: $X - Y = 100$, $X + Y = 150$. Allora X e Y sono rispettivamente uguali a:**
A 150 e 50
B 125 e 25
C 100 e 50
-
- 1219) **Se al numero 0,7777 si addiziona un millesimo, si ottiene:**
A 0.8777
B 0.7777
C 0.7787
-
- 1220) **Indicare in quale delle seguenti alternative è presente una sola volta il gruppo di lettere "HHGFF".**
A VGYTFCXDREHHGFFMKJUHY
B VGYTFCXDREVVGDMDMKJUHY
C VGYHHGFFTFCXHHGFFHY
-
- 1221) **Indicare il verbo che non è sinonimo degli altri.**
A Convocare.
B Racchiudere.
C Chiamare.
-
- 1222) **Una classe è composta da 10 ragazzi e 8 ragazze. Tra i 18 allievi se ne scelgono 2 a caso: qual è la probabilità che essi siano tutti maschi?**
A $\frac{7}{8}$
B $\frac{4}{5}$
C $\frac{5}{17}$
-
- 1223) **Indicare in quale delle seguenti alternative è presente una sola volta il gruppo di lettere "SWDA" (esattamente come riportato tra virgolette).**
A AZXCVBNSWDADERDFTGRR
B AZXCVSWDASWDARDFGRR
C AZXCVBNZXDEDAWDFTGRR
-
- 1224) **Se: $YW - 10 + XE = VJ + WK + XE$ $YW = VJ$. allora WK è uguale a:""**
A -10
B -20
C 10
-
- 1225) **Completare correttamente la seguente successione numerica: 101;76;43;?;?;9;33;8**
A 67;42
B 10;34
C 70;44
-
- 1226) **Olga è sincera. Tutte le psicoterapeute sono sincere. Tutte le persone sincere sono oneste. Se le precedenti affermazioni sono vere, quale delle seguenti è necessariamente vera?**
A Olga è una psicoterapeuta.
B Tutte le persone oneste sono sincere
C Olga è onesta.
-
- 1227) **Data la sequenza AWS467SSCIHS78DC0 individuare l'alternativa che la riproduce fedelmente se aggiunta di seguito alla seguente: AWS467S**
A 6SCIHS78DC0
B SCNHS78DC0
C SCIHS78DC0
-
- 1228) **A quale numero del sistema decimale corrisponde il numero romano DLXV?**
A 450
B 615
C 565

1229) Una società che inizialmente fatturava 600 milioni di euro ha visto calare del 20% il fatturato nel primo anno, del 10% nel secondo e del 50% nel terzo. Qual è il suo fatturato alla fine del terzo anno?
A 120 milioni di euro.
B 216 milioni di euro.
C 180 milioni di euro.

1230) Indicare il termine da scartare.
A Celebre.
B Oscuro
C Famoso.

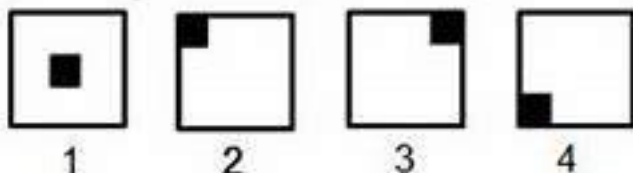
1231) Indicare il verbo che ha significato diverso dagli altri:
A Tergiversare.
B Esitare.
C Convertire.

1232) Uno studente universitario, dopo aver superato due esami con 30, nell'esame successivo lo studente prende 21. Qual è la media dello studente dopo il terzo esame?
A 25
B 28
C 27

1233) La casa automobilistica Nuvolari non vince il Campionato Mondiale di Formula 1 dal 2010. Per questo motivo, e anche per fare felici i tifosi, quest'anno il suo budget è stato aumentato considerevolmente. Su quale presupposto implicito si basa l'argomentazione precedente?
A Un incremento del budget aumenta la probabilità di vittoria al Mondiale di Formula 1.
B La Nuvolari in passato ha sempre risparmiato sui costi di produzione.
C Le altre case automobilistiche di Formula 1 hanno budget più elevati.

1234) Se: $X + 2Y + Z = 4Y$, $X = Y$, $Z = 3$. allora Y è uguale a:
A 3
B 2
C 6

1235) Indicare la figura che completa la serie



A 1
B 3
C 2

1236) Se B = 15, C = 14, ... Z = 0, quanto vale R?
A 4
B 2
C 6

1237) Se tastò = 15, albero = 18, computer = 24, monitor =

- A 22
- B 14
- C 21

1238) **Indicare il termine da escludere:**

- A Eretto.
- B Ritto.
- C Ricurvo.

1239) **Tutti i piloti sono coraggiosi. Tutti i paracadutisti sono coraggiosi. Tutti i paracadutisti amano il mare. Se le precedenti informazioni sono corrette, quale delle seguenti informazioni addizionali consentirebbe di concludere che tutti i piloti amano il mare?**

- A Tutti i paracadutisti sono anche piloti.
- B Tutte le persone coraggiose amano il mare.
- C Tutti i piloti sanno nuotare.

1240) **Quali tra i termini proposti completano correttamente la seguente proporzione? Aquila : X = fragola : Y.**

- A X = uccello Y = frutto
- B X = banana; Y = buccia
- C X = volatile Y = rapace

1241) **Individuare l'abbinamento errato.**

- A Paolo Sorrentino - La grande bellezza.
- B Carlo Verdone - Gomorra.
- C Roberto Benigni - La vita è bella.

1242) **Posti A = {e, i} e B = insieme delle vocali, l'insieme complementare di A rispetto a B è:**

- A {a, u, o}
- B {e, i}
- C {a, e, i, o, u}

1243) **Nel 2020 numero di passeggeri della compagnia aerea Voloalto è aumentato rispetto all'anno precedente; tuttavia il fatturato totale della compagnia è diminuito, anche se i prezzi dei biglietti sono rimasti invariati (a parità di viaggio). Quale delle seguenti potrebbe essere una logica spiegazione di quanto descritto nella precedente affermazione?**

- A Per tutto il settore dei trasporti aerei, il 2020 è stato un anno di recessione, con una forte diminuzione del numero di passeggeri.
- B Nel 2020 i passeggeri della compagnia Voloalto hanno generalmente scelto viaggi più brevi e quindi meno costosi
- C Nel 2020 la compagnia Voloalto è stata scelta da passeggeri mediamente più ricchi

1244) **Individuare il diagramma che soddisfa la relazione insiemistica esistente tra i termini dati: VERBI TRANSITIVI, VERBI DELLA PRIMA CONIUGAZIONE, AVVERBI.**



DIAGRAMMA 1 DIAGRAMMA 2 DIAGRAMMA 3 DIAGRAMMA 4 DIAGRAMMA 5 DIAGRAMMA 6 DIAGRAMMA 7

- A Diagramma 1
- B Diagramma 3
- C Diagramma 2

1245) **Indicare il termine da scartare:**

- A indifferente.
- B indilazionabile.
- C indifferibile.

1246) **Completare correttamente la seguente successione numerica: 13;21;14;23;31;24;?**

- A 34
- B 33
- C 32

-
- 1247) **Individuare la coppia di termini che non è coerente con le altre:**
A presunzione - umiltà
B calma - agitazione
C arrendevolezza - condiscendenza
-
- 1248) **Individuare la stringa alfanumerica che contiene la lettera S preceduta da un numero pari.**
A L6H432FR6GT7SNB8IKO98B56TK
B 8N765SM9I9M6BN1B89B8IO9M9
C SG6H0K8HY7GFFG65446SNM98G5
-
- 1249) **Indicare il termine da scartare.**
A Peregrinare.
B Esagerazione.
C Gironzolare.
-
- 1250) **Individuare l'alternativa che riporta una successione di elementi identica alla sequenza WWHYHYHYHHKK.**
A WWHYHYHYHYHJK
B WWJHHYHYHYHHK
C WWHYHYHYHYHHKK.
-
- 1251) **Una farmacia compra 500 mascherine a 0,50 centesimi e le rivende a 2 euro. Quanto guadagna in totale?**
A 500 euro
B 750 euro
C 300 euro
-
- 1252) **Indicare il termine da scartare.**
A Entusiasmarsi.
B Euforia.
C Passione.
-
- 1253) **In una fabbrica di bottiglie di plastica un macchinario produce un pezzo ogni 20 secondi. Quante bottiglie si possono produrre in 2 ore e mezza?**
A 450
B 10
C 100
-
- 1254) **Indicare il verbo che ha significato diverso dagli altri:**
A Celare.
B Dissimulare.
C Contraccambiare.
-
- 1255) **Solo se è presente un servizio di sorveglianza, si evitano le risse allo stadio. In base alla precedente affermazione, è necessariamente vero che:**
A se è presente un servizio di sorveglianza non si verificheranno risse allo stadio.
B se il servizio di sorveglianza non è presente, non si evitano le risse allo stadio.
C anche se il servizio di sorveglianza è presente, sicuramente non si evitano le risse allo stadio.
-
- 1256) **Indicare in quale delle seguenti alternative la lettera B è presente un numero maggiore di volte.**
A ABEBBBAFEBEBAB
B ABEBEEFBEEFEFE
C AEEBABEEFEBEBEB
-
- 1257) **Inserire i termini mancanti della proporzione: X : orecchio = odontoiatra : Y**
A X = otorinolaringoiatra; Y = dente
B X = infermiere; Y = oculista
C X = specialista; Y = occhiali
-
- 1258) **L' espressione: "non sono poi così certo che il ragazzo abbia omesso di dire la verità" equivale a dire:**
A il ragazzo potrebbe aver detto la verità.
B il ragazzo ha certamente detto la verità.
C il ragazzo ha certamente mentito.

-
- 1259) **A rigore di logica quale lettera deve seguire: B, E, H, M?**
A V
B Z
C P
-
- 1260) **Nessun cane è alato. Alcuni animali sono alati. Indicare con quale delle seguenti conclusioni può essere completato il precedente sillogismo:**
A nessun essere alato è un cane.
B alcuni animali non sono cani.
C alcuni cani sono animali.
-
- 1261) **Indicare in quale delle seguenti alternative la lettera H è presente un numero maggiore di volte.**
A TTHHTPHHTTHTHTH
B THTTHTHHHTTTTPP
C TTHTTPHHTTHTHTH
-
- 1262) **Un pensionato ha passato la sua vita per un quarto da ragazzo, per un ottavo da giovane, per metà al lavoro. Da 9 anni non lavora più. Quanti anni ha adesso?**
A 66
B 74
C 72
-
- 1263) **Completare la seguente successione: 1, 4, 34 ?**
A 664
B 1214
C 2314
-
- 1264) **Due numeri interi hanno somma 5 e prodotto 0. Quanto vale il minore?**
A 0.
B 4.
C 2.
-
- 1265) **Chi non rispetta il Codice della strada viene sanzionato amministrativamente. In base a questa affermazione quale conclusione è vera?**
A Il Codice della strada è rispettato da tutti.
B Chi viene sanzionato amministrativamente non ha rispettato il Codice della strada.
C Chi non viene sanzionato amministrativamente ha rispettato il Codice della strada.
-
- 1266) **Se Q viene prima di P; 0 viene prima di P; P viene prima di R; O viene prima di Q, quale tra queste affermazioni è corretta?**
A L'ordine è alfabetico.
B La P è l'ultima della serie.
C La P è a fianco della R.
-
- 1267) **Completare la seguente successione "... , 6, 18, 72, 360"**
A 2
B 3
C 4
-
- 1268) **Indicare il termine da scartare.**
A Immorale.
B Dignità.
C Moralità.
-
- 1269) **Completare la seguente successione: "M - A - M - ... - L - ... - S - O - N - D"**
A G, A
B T e O
C N e E
-
- 1270) **Indicare la sillaba che, preposta alla prima e aggiunta alla seconda, consente di ottenere due parole di senso compiuto. STO.; LU..**
A po
B fo
C mo

1271) Se: $X + X = Y - Z$, $Y = -1$, $X = -8$. Allora Z è uguale a:

- A -3
- B 15
- C 17

1272) Se l'operaio sta riposando, allora il capo cantiere è assente. Se la precedente affermazione è vera, allora è anche vero che:

- A se il capo cantiere è presente, allora l'operaio non sta riposando
- B se il capo cantiere è assente, allora l'operaio si riposa
- C se l'operaio non sta riposando, allora il capo cantiere è presente

1273) Indicare in quale delle seguenti alternative è presente una sola volta il gruppo di lettere "DFWA".

- A JKDFWARESDFWAOKLMJNF
- B EDTGJKDFWAHNJVCFXS
- C EDTGJKXCFVHNJVCFXS

1274) Se: $MK - 6 + TZ = YW + ZA + TZ$ $MK = YW$. Allora ZA è uguale a:

- A -6
- B 4
- C 6

1275) Non tutti gli economisti escludono il fatto che Internet abbia evitato un calo dell'occupazione. Basandosi sulla precedente affermazione, individuare quale delle seguenti alternative è esatta.

- A Nessun economista sostiene che Internet abbia evitato un calo dell'occupazione
- B Almeno un economista ritiene possibile che Internet abbia evitato un calo dell'occupazione
- C Secondo molti economisti l'occupazione è calata nonostante Internet

1276) Indicare il termine da escludere:

- A raccapricciante.
- B intollerabile.
- C indomabile.

1277) Indicare quale diagramma che soddisfa la relazione insiemistica esistente tra i termini: SPETTACOLI, ATTORI, COMMEDIE TEATRALI

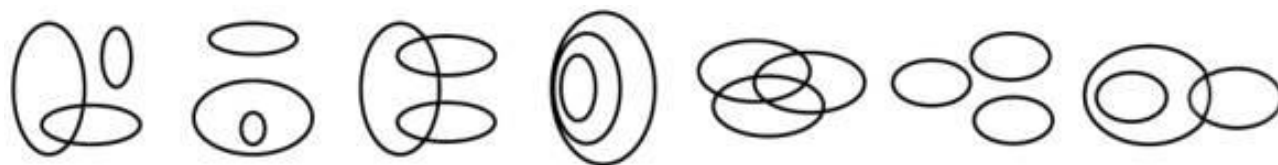


DIAGRAMMA 1 DIAGRAMMA 2 DIAGRAMMA 3 DIAGRAMMA 4 DIAGRAMMA 5 DIAGRAMMA 6 DIAGRAMMA 7

- A Diagramma 2
- B Diagramma 5
- C Diagramma 6

1278) Se tela = 8; telefono = 16; televisore = 20; telecomando = ?

- A 14
- B 18
- C 22

1279) Un oggetto di antiquariato o ha un prezzo di listino pari a 9.000 euro e viene venduto con uno sconto del 30%. A quanto è ammontato lo sconto?

- A 630 euro
- B 1270 euro
- C 2700 euro

1280) Individuare l'alternativa che riporta una successione di elementi in ordine inverso rispetto alla sequenza AOIOIOIKO.

- A OIOKIIIOIA
- B OIKOOOIOIA
- C OKIOOIOIA

1281) Se: $X + X = Y - Y$, $X = Z + W$, $Y = Y$, $Z = 4$. allora W è uguale a:

- A -4
- B -8
- C 0

-
- 1282) **Completare la seguente successione numerica: 10;30;19;57;46;138;?;?**
- A 126;254
 - B 127;381
 - C 414;403
-
- 1283) **Individuare l'alternativa che riporta una successione di elementi in ordine inverso rispetto alla sequenza KBKBKKBK.**
- A KBKBKKBK
 - B BKKBKKBK
 - C KBKBKKBK
-
- 1284) **Individuare tra le alternative proposte quella che contiene una differenza rispetto alle righe seguenti: 1234-67G5-DF56-4567, 345F-SD34-7890-76TG, 2345-DFT5-S345-2346**
- A 1234-67G5-DF56-4567
 - B 345F-SD34-7890-76TG
 - C 2345-DeT5-S345-2346
-
- 1285) **La mamma dice a Pierino: "Se vai a nuotare sugli scogli, non fare tuffi se non c'è anche tuo fratello". In quale dei seguenti casi Pierino le disobbedisce?**
- A Pierino va sugli scogli da solo e non si tuffa.
 - B Pierino e suo fratello vanno sugli scogli e si tuffano da otto metri.
 - C Pierino va senza il fratello sugli scogli e si tuffa da sei metri
-
- 1286) **Individuare l'alternativa che riporta una successione di elementi identica alla sequenza AOIOIOIOIKOIO.**
- A AOIOKIOIOIO
 - B AOIOIOIOIKOIO
 - C AOIKOOOIOIO
-
- 1287) **Indicare il termine da scartare.**
- A Cicatrizzare.
 - B Guarire.
 - C Medicazione.
-
- 1288) **In un mazzo di carte francesi, la possibilità di estrarre un asso di picche è:**
- A 1/26
 - B 1/52
 - C 1/13
-
- 1289) **Paolo va a sciare se e solo se Aldo gli presta gli sci. Se la precedente affermazione è vera, quale delle seguenti NON è necessariamente vera?**
- A Se Aldo non va a sciare, allora non ha prestato gli sci a Paolo.
 - B Se Aldo va a sciare, allora Fabio gli ha prestato gli sci.
 - C Se Aldo non gli presta gli sci, allora Paolo non gioca a tennis.
-
- 1290) **Individuare l'abbinamento errato.**
- A Ottaviano Augusto - I secolo a. C.
 - B Carlo Magno - XX secolo.
 - C Napoleone Bonaparte - XVIII secolo.
-
- 1291) **Se Marta non telefona a Chiara, allora il loro appuntamento avrà luogo in Via Verdi alle 20:00. Se la precedente affermazione è vera, si può concludere che:**
- A condizione necessaria affinché l'appuntamento sia fissato in via Verdi alle 20:00 è che Marta non telefoni a Chiara.
 - B se le due amiche si incontrano in Via Verdi alle 20:00, allora Marta non ha telefonato a Chiara.
 - C se le due amiche si incontrano in Via Verdi alle 19:00 allora Marta ha telefonato a Chiara.
-
- 1292) **Una frase è stata divisa in 5 parti, che successivamente sono state mescolate e che di seguito sono proposte in ordine casuale: Una frase è stata divisa in 5 parti, che successivamente sono state mescolate e che di seguito sono proposte in ordine casuale: 1) che ogni parte abbia soltanto 2)non si dividono mai 3)dell'uno e dell'altro 4)con un taglio così netto 5)la ragione e il torto. Ricomporre correttamente la frase.**

- A 5;2;4;1;3.
- B 3;5;1;4;2.
- C 1;3;4;5;2.

-
- 1293) Quanti numeri di tre cifre si possono formare con 2, 3, 4, 5, 7 ammettendo le ripetizioni?
- A 125
 - B 150
 - C 20
-
- 1294) Si vuole sapere quanti studenti di un corso universitario hanno ricevuto un voto minore della media in una sessione d'esami. Si hanno le seguenti due informazioni: (A) il punteggio medio è stato 25,6 (B) 135 studenti hanno sostenuto l'esame (il punteggio medio è stato 25,6 (135 studenti hanno sostenuto l'esame nella sessione. Quale delle seguenti affermazioni è corretta?
- A L'informazione (è sufficiente.
 - B L'informazione (è sufficiente.
 - C La coppia di informazioni non è sufficiente.
-
- 1295) A seguito di un'accurata indagine, l'ispettore ha riconosciuto che non è falsa la teoria secondo la quale il maggiordomo non è l'assassino. Sulla base di tale affermazione quale delle seguenti alternative è vera?
- A Dalle indagini è emerso che il maggiordomo non è l'assassino.
 - B È possibile che il maggiordomo sia l'assassino.
 - C Le indagini hanno portato alla conclusione che il maggiordomo è l'assassino.
-
- 1296) Individuare la coppia di parole da scartare.
- A luce - oscurità.
 - B Sofferenza - dolore.
 - C Passione - interesse.
-
- 1297) Data la proporzione $x: 120 = 150 : 200$, qual è il valore di x ?
- A 30
 - B 100
 - C 90
-
- 1298) La percentuale 2,5% equivale al numero decimale:
- A 0,025
 - B 2.5
 - C 0.025
-
- 1299) Una pallina da tennis, dopo ogni rimbalzo sul terreno, raggiunge i $\frac{2}{5}$ dell'altezza precedente. Da quale altezza è stata fatta cadere se dopo 4 rimbalzi arriva a 32 centimetri?
- A 12,5 metri
 - B 8,5 metri
 - C 25 metri
-
- 1300) Indicare il termine da scartare:
- A Disinibito
 - B Puritano.
 - C Moralista.
-
- 1301) Il valore di un prodotto finanziario diminuisce del 20% ogni anno. Dopo 3 anni quanto si è svalutato il prodotto rispetto al valore iniziale?
- A 51.25
 - B 0.4
 - C 0.595
-
- 1302) Relativamente alla sua funzione grammaticale il vocabolo «perché» può essere inserito:
- A Nel gruppo formato da: sebbene - quando - affinché.
 - B Nel gruppo formato da: essere, avere, dovere.
 - C Nel gruppo formato da: forte - sensato - rosso.
-
- 1303) Indicare il termine da scartare.
- A Sferzare.
 - B Ammirare.
 - C Contemplare.

-
- 1304) **Completare correttamente la seguente successione numerica. 2;20;22;42;64;106 ?**
A 170
B 105
C 128
-
- 1305) **Indicare quali valori devono avere le incognite x e y per completare correttamente la seguente successione: F;19;S;25;Q;31;E;37;x;y**
A $x = C; y = 40$
B $x = D; y = 43$
C $x = C; y = 43$
-
- 1306) **Completare la serie: 45 36 ? 21 15 ? 6**
A 21;10
B 18;10
C 22, 9
-
- 1307) **L'espressione "Non sono poi così certo che egli abbia omesso di dire la verità" equivale a:**
A potrebbe aver detto la verità.
B ha certamente mentito.
C ha certamente detto la verità.
-
- 1308) **A rigore di logica quali lettera deve seguire: B;E;H;M ? S ?**
A R;Z.
B Q;T
C P;V
-
- 1309) **Nessun cane è alato. Alcuni animali sono alati. Indicare la conclusione che consegue alle affermazioni: "nessun cane è alato" e alcuni animali sono alati".**
A nessun essere alato è un cane.
B alcuni cani sono animali.
C alcuni animali non sono cani.
-
- 1310) **Tre scatole contenenti matite sono chiuse da un coperchio. Su un coperchio è scritto Matite rosse, su un altro è scritto Matite nere e sul terzo è scritto Matite rosse e penne nere. Per un errore, però, nessuno dei coperchi corrisponde al reale contenuto delle scatole. Quante matite è sufficiente estrarre per mettere il coperchio al posto giusto su ogni scatola?**
A 1
B 2
C 3
-
- 1311) **Un pensionato ha passato la sua vita per un quarto da ragazzo, per un ottavo da giovane, per metà al lavoro. Da 9 anni non lavora più. Quanti anni ha adesso?**
A 74
B 66
C 72
-
- 1312) **Chi non rispetta il Codice della strada viene sanzionato amministrativamente. In base a questa affermazione è certamente vero che:**
A Il Codice della strada è rispettato da tutti.
B chi viene sanzionato amministrativamente non ha rispettato il Codice della strada.
C chi non viene sanzionato amministrativamente ha rispettato il Codice della strada.
-
- 1313) **Completare la seguente successione "3;5;15;60;300;?"**
A 3000
B 3600
C 2400
-
- 1314) **Negli scaffali di una libreria ci sono n libri di matematica e di chimica. Se negli scaffali dove ci sono almeno due libri ce n'è almeno uno di chimica, è vero allora che:**
A uno scaffale che contiene 3 libri ne ha sempre due di matematica.
B in uno scaffale che contiene 2 libri potrebbero non esserci libri di matematica.
C il numero dei libri di matematica in uno scaffale è sempre inferiore al numero di libri di chimica
-
- 1315) **La probabilità che, lanciando due dadi, il prodotto dei numeri usciti sia un multiplo di 5 è:**

- A 1/4
- B 1/3
- C 11/36

1316) Se l'affermazione "nessun contadino è sereno" è falsa, quale delle seguenti alternative è necessariamente vera?

- A Nessun contadino è agitato.
- B Tutti i contadini sono sereni.
- C Almeno un contadino è sereno.

1317) Completare la seguente successione: 254, 126, 62 ? 14

- A 56.
- B 30.
- C 23.

1318) Se 3 è "B", 12 è "E", 21 è "H", come si scrive "Giocare" usando numeri invece di lettere?

- A 18-20 4-36-6-1-45-12
- B 18-24-36-6-0-45-12
- C 18-24-33-6-1-45-12

1319) Tra le seguenti parole trovare quella che abbia lo stesso significato sia di "abbandono" che di "rimborso".

- A Indennizzo.
- B Rifusione
- C Resa

1320) Paola è più bassa di Giorgia. Lucia è più alta di Ada. Lucia è più bassa di Giorgia. Chi tra le seguenti è la più bassa?

- A Lucia
- B Gli elementi forniti dal problema non consentono di stabilirlo con certezza
- C Giorgia

1321) Completare la seguente successione: "X,7,V,11,T,15,R,19,....."

- A V, 25
- B U, 23
- C P, 23

1322) Ci sono 6 stati confinanti: A confina con B e con C, C confina anche con D ed E, B confina solamente con A mentre D confina anche con F. Qual è il numero di confini da attraversare per recarsi da B a F?

- A 4
- B 6
- C 5

1323) Se il padre di Luigi è fratello della madre di Ugo, in che rapporto di parentela è Ugo con la madre di Luigi?

- A Nipote
- B Cugino
- C Fratello

1324) Individuare l'abbinamento errato:

- A Steven Spielberg - Jurassic Park
- B Federico Fellini - I vitelloni
- C Al Pacino - Il Padrino

1325) Completa la seguente successione: "...90,79,67,54,40"

- A 94
- B 90
- C 100

1326) Qual è il numero il cui quadruplo meno 2 è uguale a 26?

- A 14
- B 30
- C 7

1327) Completa la seguente successione: "1-4-4-16-64-..."

- A 1444
- B 1024
- C 256

1328) Individuare l'abbinamento errato:

- A Garibaldi - "Obbedisco"
- B Giulio Cesare - "Il dado è tratto"
- C Enrico IV - "Un cavallo, Il mio regno per un cavallo!"

1329) Quanti anagrammi distinti è possibile ottenere con le lettere della parola "CASA"?

- A 12
- B 15
- C 8

1330) Completare la seguente successione: "25-37-46-...-55"

- A 48
- B 45
- C 52

1331) Se ieri era il dopodomani di giovedì, quale giorno sarà l'ieri di dopodomani?

- A Domenica
- B Venerdì
- C Lunedì

1332) Completa la seguente successione: "8,18,56,138,..."

- A 4
- B 31
- C 23

1333) Tra le seguenti parole trovare quella che abbia lo stesso significato di "insensibile" e "secco":

- A arido
- B inerte
- C chiuso

1334) completa la seguente successione: "33,17,9,5,..."

- A 1
- B 2
- C 3

1335) Sostituire a ogni lettera una cifra in modo che il risultato della moltiplicazione sia esatto. "A8x77=B7CD". Quanto vale la più alta delle cifre inserite?

- A 9
- B 6
- C 8

1336) Completare la seguente serie numerica: 27 25 64 62 83 ?

- A 28
- B 81
- C 34

1337) Indicare il termine da scartare.

- A Avvolgere.
- B Ammantare.
- C Assommare.

1338) Antepoendo S a T, posizionando V dopo T, interponendo U tra T e V, e facendo precedere R a S si ottiene:

- A S - R - T - V - U
- B R - S - T - V - U
- C l'ordine alfabetico

1339) Qual è il maggiore tra i seguenti numeri?

- A 144/12
- B la radice quadrata di 442
- C 2 elevato alla quarta

-
- 1340) **Completare correttamente la seguente successione numerica: 60;95;52;?;?;78;112;147**
A 86;121
B 89;123
C 82;119
-
- 1341) **A una tavolata di 9 commensali quanti bicchieri si incroceranno per un brindisi, se ognuno lo fa con ciascun altro?**
A 40
B 36
C 45
-
- 1342) **In un cestino ci sono cartoncini fogli di carta numerati da 1 a 10, che due persone, A e B, estraggono a turno. Al primo giro A estrae il 9 e B il 2. Al secondogiro A estrae il 7 e B il 5. Se continuano fino al termine dei foglietti, qual è la massima differenza tra il totale dei numeri estratti da B e di quelli estratti da A?**
A 5
B 7
C 6
-
- 1343) **Taumaturgico ha un significato simile a:**
A energico
B miracoloso
C cattedratico
-
- 1344) **Completare la seguente successione: 8 4 16 12 ?**
A 48
B 76
C 25
-
- 1345) **Indicare il termine da scartare.**
A Angosciante.
B Incostante.
C Doloroso.
-
- 1346) **Quale vocabolo ha significato simile a "umiltà"?**
A Vanità.
B Modestia.
C Caparbieta.
-
- 1347) **È sinonimo di "cocchio":**
A carrozza
B cavallo
C cavalcatura
-
- 1348) **Completare la seguente serie numerica: 52 6 ? 18 13 54**
A 26
B 36
C 20
-
- 1349) **Completare la seguente serie numerica. 29 31 43 ? 57 59**
A 56
B 47
C 45
-
- 1350) **Completare la seguente serie numerica: 41, ?, 78, 41, 17, 78, ?, 17**
A 17, 41
B 78, 41
C 41, 78
-
- 1351) **Indicare il termine che ha significato diverso dagli altri.**
A Eliminare.
B Reintegrare.
C Abrogare.

-
- 1352) Quali tra i termini proposti completano correttamente la seguente proporzione? Arrendersi : X = arrampicarsi : Y
- A X = lottare;Y = cadere
 - B X = soccombere;Y = scalare
 - C X = arrangiarsi;Y = scendere
-
- 1353) È sinonimo di DISORIENTARE
- A confondere
 - B incoraggiare
 - C decidere
-
- 1354) Qual è l'anagramma della parola STRANO
- A nastro
 - B nostro
 - C stremo
-
- 1355) Il contrario di "inclinare" è:
- A curvare
 - B declinare
 - C raddrizzare
-
- 1356) Quali tra i termini proposti completano correttamente la seguente proporzione? Levigare : X = guadagnare : Y
- A X = vincere;Y = perdere
 - B X = lisciare;Y = meritare
 - C X = sgrassare;Y = conquistare
-
- 1357) Solo se ha messo a letto i bambini, Maria guarda la televisione. In base alla precedente informazione, quale delle seguenti affermazioni è certamente vera?
- A Maria guarda la televisione solo prima di andare a dormire
 - B Se Maria guarda la televisione significa che ho messo a letto i bambini
 - C A volte, anche se ha messo a letto i bambini, Maria non guarda la televisione
-
- 1358) Quale verbo ha attinenza con la parola "serra"?
- A stringere
 - B coltivare
 - C comandare
-
- 1359) Quale tra i termini proposti completa correttamente la seguente proporzione?Caotico : X = subdolo : sincero
- A X = confuso
 - B X = ambiguo
 - C X = ordinato
-
- 1360) Se $AA, C > B$, quale delle seguenti affermazioni è sicuramente vera?
- A $C > A$
 - B D
 - C $D > B$
-
- 1361) È contrario di "collerico":
- A rabbioso
 - B irascibile
 - C tranquillo
-
- 1362) Ha significato contrario di contrario di "irredento":
- A inaspettato
 - B riscattato
 - C sottomesso
-
- 1363) Completare la seguente serie numerica: 59 50 43 38 ? ?
- A 46, 44
 - B 29, 26
 - C 35, 32
-

1364) Solo se nevicata, costruisco un pupazzo di neve. In base alla precedente informazione, quale delle seguenti affermazioni è certamente vera?

- A A volte, anche se nevicata, non costruisco pupazzi di neve.
 - B Se costruisco un pupazzo di neve significa che nevicata.
 - C Quando costruisco un pupazzo di neve non è detto che stia nevicando.
-

1365) Indicare il termine da escludere:

- A abisso.
 - B baratro.
 - C abbiente.
-

1366) Se l'affermazione "Tutti i mari italiani sono inquinati" è falsa, quale delle seguenti proposizioni è necessariamente vera?

- A Nessun mare italiano è inquinato.
 - B Alcuni mari tedeschi sono inquinati.
 - C Almeno un mare italiano non è inquinato.
-

1367) Completare la seguente analogia: X : loquace = attuale : Y

- A X = garrulo; Y = superato
 - B X = comunicativo; Y = odierno
 - C X = conciso; Y = recente
-

1368) Completare la seguente serie numerica: ? 6 9 ? 15 18

- A 1, 15
 - B 4, 12
 - C 3, 12
-

1369) Quali tra i termini proposti completano correttamente la seguente proporzione? Mortificare : X = scolorire : Y

- A X = ringraziare; Y = scollare
 - B X = gratificare; Y = sfumare
 - C X = umiliare; Y = sbiadire
-

1370) Indicare la lettera da inserire nella serie: H, G, F, E, ?

- A H
 - B M
 - C D
-

1371) Completare la seguente serie numerica: 18 9 ? 20 1 19

- A 9
 - B 18
 - C 24
-

1372) Nel gioco della tombola, qual è la probabilità che esca alla seconda estrazione il numero 17, in caso non sia uscito nella prima estrazione?

- A 1/90
 - B 1/89
 - C 1/45
-

1373) Completare la seguente serie numerica: 1, 2, 5, 10, 17, ?, 37

- A 26
 - B 28
 - C 27
-

1374) Completare la seguente serie numerica: 40 51 62 73 ?

- A 90
 - B 92
 - C 84
-

1375) Indicare il termine da escludere:

- A spargere.
 - B dissentire.
 - C sparpagliare.
-

- 1376) Se l'affermazione tutti gli stilisti di alta moda sono antipatici è falsa, quale delle seguenti proposizioni è necessariamente vera?
A Almeno uno stilista di alta moda è simpatico.
B Almeno uno stilista di alta moda non è simpatico.
C Nessuno stilista di alta moda è simpatico.
-
- 1377) Completare la seguente serie numerica: 30, 31, 33, 36, 40, 45, 51, ?, ?
A 58, 66
B 59, 68
C 60, 71
-
- 1378) Un illustre critico d'arte ha escluso la possibilità che il quadro non sia opera di van Gogh. In base alla precedente argomentazione:
A non si può dire se quadro è opera di van Gogh.
B il quadro è opera di van Gogh.
C il quadro non è stato dipinto da van Gogh.
-
- 1379) Completare la seguente serie numerica: 79, 80, 82 ? 94
A 88
B 91
C 86
-
- 1380) Indicare il termine da escludere:
A plausibile.
B inquisitorio.
C poliziesco.
-
- 1381) Indicare la sillaba che, preposta al primo e aggiunta al secondo gruppo di lettere forma due parole di senso compiuto: -LO;TEM.
A po
B co
C bo
-
- 1382) Individuare la riga nella quale il numero di punti esclamativi è uguale al numero di punti interrogativi.
A ?!!!!?!!!?!!????!?????
B ??!!!!??!!!!??!!????
C !!!!?????!!!!?????!!!!!
-
- 1383) In una fabbrica viene ridotto del 25% il numero degli operai; successivamente, il nuovo numero di dipendenti viene incrementato di un terzo. Come è cambiato globalmente il numero dei dipendenti?
A È diminuito di un dodicesimo
B È rimasto inalterato
C Non si può stabilire perché non è noto il numero iniziale dei dipendenti
-
- 1384) Completare correttamente la seguente successione numerica: 8;17;15;13;22;9;?;?
A 28;5
B 29;5
C 6;29
-
- 1385) Indicare il termine da scartare:
A incontaminato.
B puro.
C oltraggio.
-
- 1386) Se: $X + Y - Z = X - Y + Z$, $Y = 6$. allora Z è uguale a:
A 3
B 2
C 6
-
- 1387) Una frase è stata divisa in 4 parti, che successivamente sono state mescolate e che di seguito sono proposte in ordine casuale: 1)hanno cercato me 2)non sono io che 3)ma sono i guai che 4)ho cercato i guai. Ricomporre correttamente la frase.
A 1;2;3;4.
B 3;2;1;4
C 2;4;3;1.

1388) Completare la seguente successione numerica: 95 ? 69 56 43 ?

- A 82, 30
- B 42, 81
- C 40, 31

1389) Completare la seguente serie numerica: 60 49 ? 27 16

- A 37
- B 38
- C 35

1390) Un frigorifero, in offerta al 35% di sconto, costa 520 euro. Qual è il suo prezzo di listino?

- A 800 euro
- B 750 euro
- C 700 euro

1391) Individuare il numero che completa la serie: 56, 17, 28, 34 ? 68

- A 18
- B 14
- C | 10

1392) Individuare il numero che completa la serie: 40, ?, 79, 40, 16, 79, ?, 16

- A 16, 40
- B 40, 79
- C 79, 40

1393) Se la somma di due numeri è -6 e la loro differenza è 0, quali sono i due numeri?

- A -2 e 2
- B -3 e -3
- C -1 e 0

1394) Individuare il numero che completa la serie: 13 ? 24 48 46

- A 33
- B 26
- C 19

1395) Indicare il termine da scartare.

- A Esaminare.
- B Disputare.
- C Disseminare.

1396) Individuare il numero che completa la serie: 142 ? 82 52

- A 71
- B 112
- C 30

1397) Individuare il numero che completa la serie: 3, 7, 15, ?, 63

- A 33
- B 21
- C 31

1398) Indicare il termine da scartare:

- A inorgogliare.
- B insuperbire.
- C insabbiare.

1399) Individuare il numero che completa la serie: ? 6 7 4 1 2

- A 15
- B 9
- C 14

1400) Indicare il termine che non è sinonimo degli altri due:

- A innocuo.
- B innegabile.
- C mansueto.

-
- 1401) 71, 72, 70, 72, 73, 71, 73, ?
A 74
B 77
C 76
-
- 1402) Demordere significa:
A privare della motivazione psicologica ad agire, scoraggiare, avvilito
B persuadere con la forza
C allentare la presa, rinunciare, desistere
-
- 1403) Completare la serie numerica: 14; ?; 26; 42; ?
A 58
B 48
C 62
-
- 1404) Il termine "sillogismo" indica:
A una argomentazione logica
B una figura giuridica
C un movimento artistico del Novecento
-
- 1405) La somma delle età di Paola e di Marta è di 75 e la loro differenza 15. Sapendo che Paola è la maggiore, quanti anni ha Marta?
A 30
B 45
C 20
-
- 1406) Individuare il numero che completa la serie: 4 16 7 49 1 ?
A 2
B 3
C 1
-
- 1407) Quanti anagrammi si possono formare con le quattro lettere della parola "mela"?
A 24
B 16
C 33
-
- 1408) Indicare in quale delle seguenti alternative viene rispettata la regola di alternanza "vocale - consonante".
A UVIKEFOMOROSAZQPIDIC
B UVIKEFOMOROSAZAPILIC
C UVIUEFOMOAPIDICLDIC
-
- 1409) Tutte le volte che Anna non arriva in orario al lavoro trova il capoufficio alla sua scrivania. Data la precedente affermazione, quale conclusione è certamente vera?
A È possibile che Anna non incontri il capoufficio alla scrivania anche quando arriva in ritardo al lavoro.
B Se Anna non incontra il capoufficio alla scrivania allora è arrivata in orario al lavoro.
C Se Anna incontro il capoufficio alla sua scrivania allora non è arrivata in orario al lavoro.
-
- 1410) Indicare il termine da scartare.
A Insignificante.
B Inconsistente.
C Eccellente.
-
- 1411) In un'enoteca, per evitare grossi furti, dalle ore 18 all'ora di chiusura, quando il locale è molto affollato, se un vino costa più di 50 euro viene riposto nello scaffale dietro la cassa dove lavora il proprietario dell'enoteca". Se le precedenti informazioni sono vere, quale delle seguenti affermazioni è necessariamente corretta?
A Tra le 18 e l'ora di chiusura se un prodotto ha un costo compreso tra 80 e 100 euro allora si trova nello scaffale dietro la cassa.
B Se un vino che costa 70 euro alla bottiglia, si trova sullo scaffale dietro alla cassa, allora sono passate le 18 e il locale è ancora aperto.
C Sullo scaffale alle spalle del proprietario non è possibile che vi siano prodotti che costano 30 euro.
-
- 1412) Individuare il diagramma che soddisfa la relazione insiemistica esistente tra i termini dati:
Televisioni, Giornali, Eventi sportivi

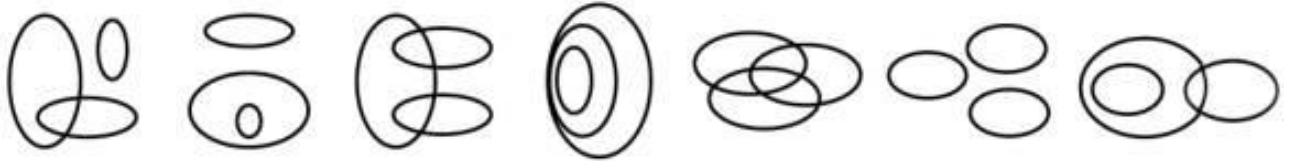


DIAGRAMMA 1

DIAGRAMMA 2

DIAGRAMMA 3

DIAGRAMMA 4

DIAGRAMMA 5

DIAGRAMMA 6

DIAGRAMMA 7

- A Diagramma 6
- B Diagramma 3
- C Diagramma 1

1413) Indicare il termine da escludere:

- A preciso
- B svagato.
- C negligente

1414) Data la sequenza F67FGSTSCFV89DTHS individuare l'alternativa che la riproduce fedelmente se aggiunta di seguito alla seguente: F67FGST

- A SCTV89DTHS
- B SCFV89DTHS
- C 2SCFV89DTHS

1415) Individuare la frase che NON contiene errori.

- A Hai ragione che, guardato attentamente, quel ragazzo assomiglierebbe proprio a lui
- B Se vincessi alla lotteria mi comprerei una barca
- C Sono certo che non l'ho deluso, se gli darei fiducia

1416) Completare la seguente successione numerica: 13;21;14;23;31;24;?

- A 33
- B 17
- C 32

1417) Indicare l'aggettivo che non è sinonimo degli altri:

- A indigente.
- B grato.
- C riconoscente.

1418) Supponiamo di estrarre 3 palline, una alla volta con reinserimento, da una scatola che ne contiene 15 rosse, 10 bianche e 5 nere. Qual è la probabilità di estrarne 1 rossa e 2 nere?

- A $1/72$
- B $5/130$
- C $5/406$

1419) Il capufficio sarà rilassato se e solo se si concederà una vacanza. In base alla precedente affermazione, quale delle seguenti NON è necessariamente vera?

- A È necessario che il capufficio si conceda una vacanza per essere rilassato
- B È sufficiente che il capufficio si conceda una vacanza per essere rilassato
- C Anche se il capufficio si concederà una vacanza, potrà non essere rilassato

1420) Indicare il termine che non ha significato affine agli altri.

- A Policromo.
- B Monocolore.
- C Multicolore.

1421) Qual è la differenza tra i 2 risultati delle operazioni seguenti? $4614 / 2$ e $4610 / 2$

- A 2
- B 0.5
- C 1

1422) Tre amici leggono un libro ciascuno rispettivamente ogni sei, otto e nove giorni. Quanto tempo impiegano per leggere complessivamente 29 libri?

- A 72 giorni
- B 60 giorni
- C 76 giorni

-
- 1423) **Completare correttamente la seguente successione numerica: 20;18;22;21;24;24;26;?;?**
A 26;29
B 28;26
C 27;28
-
- 1424) **Quale delle seguenti frasi è logicamente equivalente a: "i militari sono sempre alti"?**
A È possibile che esista un militare che non sia alto
B Le persone basse, a volte, sono militari
C I militari non sono mai bassi
-
- 1425) **Individuare l'alternativa che riporta una successione di elementi in ordine inverso rispetto alla sequenza AKAWAKAWA.**
A AWAKAWAKA
B WAKAWKAWA
C AKAWAKAWA.
-
- 1426) **Solo se conservati nel congelatore, i surgelati non si deteriorano". In base alla precedente affermazione, quale delle seguenti NON è necessariamente vera?**
A Condizione necessaria perché i surgelati non si deteriorino è che vengano conservati nel congelatore
B I surgelati deteriorati non sono stati conservati nel congelatore
C I surgelati non deteriorati sono stati conservati nel congelatore
-
- 1427) **Indicare in quale delle seguenti alternative la lettera R è presente un numero maggiore di volte.**
A TTRTTGRRTRTRTR
B TTRRTGRRTRTRTR
C TRTRTRRRTRTTGG
-
- 1428) **Se Giorgio va a passeggiare, allora è contento. Da quale delle seguenti affermazioni può essere logicamente dedotta l'affermazione precedente?**
A Non ci sono persone contente che passeggiano.
B Tutte le persone contente vanno a passeggiare.
C Nessuno va a passeggiare se non è contento.
-
- 1429) **Completare la seguente serie numerica: 1378 88, 67 ? 25, 4**
A 20
B 2
C 46
-
- 1430) **Indicare il termine da escludere:**
A minimizzare.
B enfantizzare.
C ridimensionare.
-
- 1431) **Completare la serie numerica: 23 27 ? 35 39**
A 29
B 33
C 31
-
- 1432) **Tre scatole piene di penne sono chiuse da coperchi. Su un coperchio è scritto penne rosse, su un altro è scritto penne nere e sul terzo è scritto penne rosse e penne nere. Per un errore, però, nessuno dei coperchi corrisponde al reale contenuto delle scatole. Quante penne è sufficiente estrarre per mettere il coperchio al posto giusto su ogni scatola?**
A 2
B 1
C 3
-
- 1433) **Completare correttamente la seguente successione numerica: 1;3;6;10;15;21;?**
A 28
B 26
C 27
-
- 1434) **Indicare l'aggettivo che ha significato opposto agli altri:**
A taciturno.
B laconico
C logorroico.

1435) Completare la seguente serie numerica: ? 31 39 47

- A 25
- B 23
- C 29

1436) Indicare il termine da scartare.

- A Rumoroso.
- B Silenzioso.
- C Tacito

1437) Completare la seguente serie numerica: 25 ? 34 7 41

- A 14
- B 18
- C 9

1438) Completare la seguente successione di lettere: A;M;P;M;Z;C;?;?

- A L;R
- B F;C
- C Z;L

1439) Completare la seguente serie numerica: 128 64 16 ? 2

- A 10
- B 9
- C 8

1440) Indicare il termine da scartare:

- A sconosciuto.
- B insigne.
- C illustre.

1441) Indicare le tre lettere che, anteposte a -ORO formano parole di senso compiuto.

- A G - L - Z
- B D - R - S
- C C - F - T

1442) Indicare il termine da scartare.

- A Avanzare
- B Retrocedere.
- C Ritirarsi.

1443) Indicare le lettere che, anteposte a -ENTE formano parole di senso compiuto.

- A P - R - T
- B D - G - M
- C F - L - N

1444) Completare la seguente serie numerica: 53, ?, 66, 53, 21, 66, ?, 21

- A 21, 53
- B 66, 53
- C 21, 66

1445) Indicare le lettere che, anteposte a -OLO formano parole di senso compiuto.

- A F - L - Z
- B D - M - V
- C F - R - T

1446) Indicare il termine da scartare:

- A intellegibile.
- B insulso.
- C comprensibile.

1447) Indicare le lettere che, anteposte a -ASO formano parole di senso compiuto.

- A C - R - V
- B F - R - T
- C F - L - Z

-
- 1448) **Completare la seguente serie numerica: ? 134 130 127 125**
A 137
B 141
C 139
-
- 1449) **Se ANTRO = 1;CAVERNA= 3;DIRUPO = 4;GROTTA = ?**
A 6
B 4
C 7
-
- 1450) **Completare la seguente serie numerica: 12 17 14 19 ? 21**
A 25
B 21
C 16
-
- 1451) **Indicare le lettere che, anteposte a -ODA formano parole di senso compiuto.**
A N - R - T
B C - M - S
C F - L - Z
-
- 1452) **Indicare il verbo che ha significato diverso dagli altri:**
A Ridurre.
B Aumentare.
C Incrementare.
-
- 1453) **Completare la seguente serie numerica: 25 38 18 ? 11 24**
A 31
B 34
C 19
-
- 1454) **Indicare le lettere che, anteposte a -ETTA formano parole di senso compiuto.**
A B - L - Z
B C - M - P
C F - S - V
-
- 1455) **Indicare il verbo da scartare:**
A intasare.
B ingorgare.
C elogiare.
-
- 1456) **Indicare i gruppi di lettere che, anteposte a -ORIA, formano parole di senso compiuto.**
A FL - PL - SP
B CR- PR - TR
C GL - SC - ST
-
- 1457) **La frazione 90/45 corrisponde a:**
A 1.5
B 2
C 1
-
- 1458) **Una frase è stata divisa in 5 parti, che successivamente sono state mescolate e che di seguito sono proposte in ordine casuale: 1) anche a star meglio 2)si dovrebbe pensare 3)e così si finirebbe 4)che a star bene 5)più a far bene. Ricomporre correttamente la frase.**
A 2;5;4;3;1.
B 5;1;4;3;2.
C 3;1;4;2;5.
-
- 1459) **Indicare le lettere che, anteposte a -ORTO formano parole di senso compiuto.**
A F - L - Z
B D - R - V
C C - P - T
-
- 1460) **Indicare il termine da scartare.**

- A Raffinato.
- B Grossolano.
- C Elegante.

1461) **Tutti i tifosi la domenica vanno allo stadio. Se la precedente affermazione è vera, allora è necessariamente vero che:**

- A anche se Luigi non è un tifoso, può andare allo stadio la domenica.
- B se Luigi è allo stadio domenica, allora sicuramente è un tifoso.
- C se Luigi non è un tifoso, non va allo stadio la domenica.

1462) **In un cassetto ci sono 5 sciarpe di cotone e 6 di seta. Quante sciarpe si devono estrarre (a occhi bendati) per esser sicuri di averne estratte tre dello stesso tessuto?**

- A 3
- B 5
- C 4

1463) **In base all'informazione "tutti i grattacieli di Singapore sono molto alti", quale delle seguenti affermazioni è necessariamente vera?**

- A È impossibile negare che a Singapore esista almeno un grattacielo basso.
- B Non esistono grattacieli bassi a Singapore.
- C I grattacieli di Singapore sono più alti di quelli americani.

1464) **Quale valore si ottiene dal prodotto fra i 2 risultati delle operazioni seguenti? $660 / 330$ e $720 / 360$?**

- A 8
- B 4
- C 6

1465) **Carla, Federica e Maria si sono sfidate in una gara di nuoto. "Se Carla ha vinto la gara, Maria è arrivata seconda o Federica è arrivata terza". "Federica non è arrivata terza". "Se Maria non è arrivata seconda, allora Federica non ha vinto la gara". Quale ordine di arrivo è compatibile con le precedenti affermazioni?**

- A Carla, Federica, Maria.
- B Maria, Carla, Federica.
- C Carla, Maria, Federica.

1466) **Se SOLE = 1;NUVOLA = 3;TEMPESTA = 4;ARCOBALENO = ?**

- A 10
- B 12
- C 8

1467) **Indicare il termine da scartare.**

- A Insorgere.
- B Riscuotere.
- C Intascare.

1468) **Calcolare il valore che si ottiene dalla somma fra i 2 risultati delle operazioni seguenti? $210 / 70$ e $36 / 18$**

- A 5
- B 8
- C 6

1469) **Cinque treni, A, B, C, D ed E, partono dalla stessa stazione con cinque destinazioni differenti. Si sa che: I) C è più veloce di B ma arriva dopo di questo che è, invece, il primo ad arrivare;II) A è l'ultimo ad arrivare anche se è più veloce di D e meno veloce di B;III) E, il secondo treno ad arrivare a destinazione, è più veloce di D, ma meno veloce di A. In base alle precedenti informazioni il treno ad arrivare è:**

- A D
- B C
- C B

1470) **Indicare la sillaba che, posposta ai gruppi di lettere, fornisce a ciascuno un significato compiuto: CAN.;MEN.;PUN...**

- A TO
- B LA
- C MO

-
- 1471) **Analizzando l'ingaggio di un noto campione di Formula 1 nell'arco di tre anni, si nota che è passato da 600.000 euro nell'Anno 1 a 720.000 euro nell'Anno 2. Nell'Anno 3 il suo contratto prevede un aumento del 15% rispetto all'ingaggio dell'anno precedente. Qual è l'incremento percentuale dell'ingaggio tra l'Anno 1 e l'Anno 3?**
- A 0.38
 - B 0.2
 - C 0.3
-
- 1472) **Completare la seguente successione numerica: 22;44;26;38;30;32;?;?**
- A 34;26
 - B 26;33
 - C 36;28
-
- 1473) **Completare correttamente la seguente successione numerica: 5;14;32;68;140;284;?**
- A 576
 - B 571
 - C 572
-
- 1474) **Indicare il termine da scartare:**
- A Flessuoso
 - B Rigido.
 - C Agile.
-
- 1475) **Una frase è stata divisa in 4 parti, che successivamente sono state mescolate e che di seguito sono proposte in ordine casuale: 1)una più certa e più grande 2)se non per prepararne loro 3)la gioia dei suoi figli 4)Dio non turba mai. Ricomporre correttamente la frase.**
- A 3;4;1;2.
 - B 4;3;2;1;
 - C 2;1;3;4;
-
- 1476) **Indicare il termine da scartare:**
- A ingordo.
 - B benestante.
 - C desideroso.
-
- 1477) **Se: $3X + 8 = 5X - 6$. Allora X è uguale a:**
- A 9
 - B 7
 - C 1
-
- 1478) **Una frase è stata divisa in 4 parti, che successivamente sono state mescolate e che di seguito sono proposte in ordine casuale: 1)servire ad altro 2)non rivangare 3)quello che non può 4)che a inquietarti inutilmente. Ricomporre correttamente la frase.**
- A 4;1;2;3.
 - B 2;3;1;4.
 - C 2;4;1;3.
-
- 1479) **Data la sequenza KGB787SGHIRS78DC9 individuare l'alternativa che la riproduce fedelmente se aggiunta di seguito alla seguente: KGB787S**
- A GHR787DC9
 - B GHIRS78DC9
 - C GCIH678DC9
-
- 1480) **Completare la seguente successione: "44,?,34,29"**
- A 39
 - B 38
 - C 43
-
- 1481) **Una frase è stata divisa in 5 parti, che successivamente sono state mescolate e che di seguito sono proposte in ordine casuale: 1) e una delle consolazioni dell'amicizia 2)una delle più 3)è quell'avere 4)grandi consolazioni di questa vita è l'amicizia 5)a cui confidare un segreto. Ricomporre correttamente la frase.**
- A 3;2;1;5;4.
 - B 2;4;1;3;5.
 - C 1;2;5;4;3;

-
- 1482) L'obiettivo del quesito è quello di individuare la sequenza corretta sulla base di una serie di indizi forniti. Per ogni sequenza errata viene indicato se sono presenti caratteri BP (numero di caratteri corretti nella posizione corretta, ovvero "ben piazzati") o MP (numero di caratteri corretti, ma nella posizione sbagliata, ovvero "mal piazzati").ZYEE: 1 BP / 1 MP;ZEKB: 2 BP / 1 MP;ZYYB: 1 BP;KEEE: 3 BP
- A ZEEK
B KEEB
C ZEEE
-
- 1483) Quali tra i termini proposti completano la seguente proporzione? "Cuoco: mestolo = x : y"
- A x= geometra;y= fiore
B x = cacciavite;y= bullone
C x = chirurgo;y = bisturi
-
- 1484) Carlo ha percorso i 4/7 del suo tragitto abituale per andare a scuola. Sapendo che ha percorso 120 metri, quanto è lungo l'intero tragitto?
- A 180 metri
B 250 metri
C 210 metri
-
- 1485) La frazione 41023/10000 corrisponde a:
- A 140.23
B 41.032
C 4.1023
-
- 1486) Completare la seguente proporzione: 6 : x = 2 : 5
- A 15
B 30
C 45
-
- 1487) Individuare, tra le alternative proposte, il termine da scartare.
- A Ferrara - Palazzo dei Diamanti
B Roma - Partenone
C Micene - Porta dei Leoni
-
- 1488) Una frase è stata divisa in 5 parti, che successivamente sono state mescolate e che di seguito sono proposte in ordine casuale: 1) che riceve acqua da tutte le parti 2) perché noi siamo 3) e la torna a distribuire 4) come il mar 5) a tutti i fiumi. Ricomporre correttamente la frase.
- A 4;5;2;1;3.
B 2;4;1;3;5.
C 1;3;5;4;2.
-
- 1489) La frazione 19/4 corrisponde a:
- A 47.5
B 0.475
C 4.75
-
- 1490) Una lampada accesa per 2h e 30m consuma energia elettrica per una spesa di euro 18, quale sarà la spesa se la si tiene accesa per 5h e 50m?
- A euro 32
B euro 42
C euro 24
-
- 1491) Una frase è stata divisa in 5 parti, che successivamente sono state mescolate e che di seguito sono proposte in ordine casuale: 1) quella cosa troppo frequente nel bene 2) per grazia del cielo 3) accade talvolta 4) divengono un impedimento 5) che i fautori più ardenti. Ricomporre correttamente la frase.
- A 3;2;5;1;4.
B 2;3;1;5;4.
C 5;3;2;1;4.
-
- 1492) Completare la seguente proporzione: 30 : 15 = 40 : x
- A 80
B 40
C 20

-
- 1493) **Se la ruota di un veicolo compie 7.200 giri all'ora a velocità costante, quanti giri compie in un minuto e mezzo?**
A 180
B 45
C 360
-
- 1494) **Completare la seguente successione: "3,6,9,15,24,?,63"**
A 39
B 29
C 59
-
- 1495) **Una frase è stata divisa in 5 parti, che successivamente sono state mescolate e che di seguito sono proposte in ordine casuale: 1) le cose chiare 2) a noi tocca 3) poi a imbrogliarle 4) all'avvocato 5) bisogna raccontar. Ricomporre correttamente la frase.**
A 2;3;1;4;5.
B 1;5;2;4;3.
C 4;5;1;2;3.
-
- 1496) **Completare la seguente successione: "2,97,4,89,8,83,14,79,?,?"**
A 16.77
B 20.75
C 22.77
-
- 1497) **Sapendo che Q viene prima di P;0 viene prima di P;P viene prima di R;O viene prima di Q, quale tra queste affermazioni è corretta?**
A La P è l'ultima della serie.
B La P è a fianco della R.
C L'ordine è alfabetico.
-
- 1498) **Indicare il termine da scartare.**
A Afferrare.
B Germogliare.
C Ghermire.
-
- 1499) **Una frase è stata divisa in 5 parti, che successivamente sono state mescolate e che di seguito sono proposte in ordine casuale: 1) né delle leggi 2) non sono né pazzo né maniaco 3) senza curarmi delle convenzioni 4) ho deciso di vivere come più mi garba 5) so che a quarant'anni. Ricomporre correttamente la frase.**
A 5;3;1;2;4.
B 4;1;3;2;5.
C 2;5;4;3;1.
-
- 1500) **Individuare, tra le alternative proposte, il termine da scartare.**
A discreto
B invadente
C sfacciato
-
- 1501) **Una frase è stata divisa in 5 parti, che successivamente sono state mescolate e che di seguito sono proposte in ordine casuale: 1) che non si è in grado 2) trattare alla stregua 3) torna comodo 4) di pazzi coloro 5) di comprendere. Ricomporre correttamente la frase.**
A 3;2;4;1;5.
B 2;5;1;3;4.
C 3;1;2;5;4.
-
- 1502) **Individuare, tra le alternative proposte, il termine da scartare.**
A Trasportabile
B Fisso
C Mobile
-
- 1503) **Non tutti i giornalisti escludono il fatto che i giornali elettronici abbiano evitato la riduzione del numero di lettori. Basandosi sulla precedente affermazione, individuare quale delle seguenti alternative è necessariamente vera?**
A Nessun giornalista sostiene che i giornali elettronici abbiano evitato la riduzione del numero di lettori
B Almeno un giornalista ritiene possibile che i giornali elettronici abbiano evitato la riduzione del numero di lettori
C Secondo molti giornalisti i lettori stanno diminuendo nonostante lo sviluppo dei giornali elettronici

-
- 1504) **Quale dei seguenti termini integra la serie: virtù - farò - così - là.?**
A Bellezza
B Dignità
C Onore
-
- 1505) **Una frase è stata divisa in 5 parti, che successivamente sono state mescolate e che di seguito sono proposte in ordine casuale: 1) che siamo tutti uomini, tutti destinati, 2) il minimo sforzo per capirci a vicenda 3) un cielo sconosciuto e che non vogliamo fare 4) è terribile pensare 5) chi più chi meno, a portare il nostro fardello sotto. Ricomporre correttamente la frase.**
A 4;1;5;3;2.
B 5;3;1;4;2.
C 1;2;5;3;4.
-
- 1506) **completa la seguente successione: "3,5,97,33,21,..."**
A 34
B 3
C 74
-
- 1507) **In una scuola il 60% degli studenti è di sesso maschile, il 90% è minorenne e il 60% ha i capelli castani. Quale delle seguenti affermazioni è necessariamente vera ?**
A almeno una ragazza è maggiorenne
B almeno un ragazzo minorenne è castano
C almeno una ragazza ha i capelli castani
-
- 1508) **Se l'affermazione "non tutti i giorni del mese di agosto vado al mare" è vera, allora necessariamente:**
A almeno un giorno del mese di agosto non vado al mare
B luglio generalmente non vado al mare
C non esiste un giorno del mese di agosto in cui non vado al mare
-
- 1509) **Completare la seguente successione:"16,64,....,256,400"**
A 144
B 195
C 154
-
- 1510) **In una classe di 33 studenti, 18 di essi giocano a calcio, 17 giocano a basket e 4 non praticano nè il calcio nè il basket. Quanti sono gli studenti che giocano sia a calcio che a basket ?**
A 6
B 1
C nessuno
-
- 1511) **Completa la seguente successione : "(5,10,13) (12,24,27) (14,....,....)"**
A 28.31
B 30
C 38
-
- 1512) **Individuare tra le alternative proposte, il termine da scartare.**
A Straordinario.
B Estemporaneo.
C Ordinario.
-
- 1513) **Una frase è stata divisa in 4 parti, che successivamente sono state mescolate e che di seguito sono proposte in ordine casuale: 1) per un tratto più o meno lungo 2) esistono nella vita 3) persone che ci accompagnano 4) di ognuno di noi. Ricomporre correttamente la frase.**
A 4;1;3;2.
B 1;3;4;2.
C 2;4;3;1.
-
- 1514) **Individuare, tra le alternative proposte, il termine da scartare.**
A Motocicletta.
B Bicicletta.
C Automobile.
-
- 1515) **Individuare, tra le alternative proposte, il termine da scartare.**

- A Solare
- B Gelido
- C Impassibile

1516) Una frase è stata divisa in 5 parti, che successivamente sono state mescolate e che di seguito sono proposte in ordine casuale: 1) perché pensino 2) gli altri 3) la fatica che ci si dà 4) non valgono 5) bene di noi. Ricomporre correttamente la frase.

- A 1;5;2;3;4.
- B 2;4;3;1;5.
- C 4;3;1;2;5.

1517) Individuare, tra le alternative proposte, il termine da scartare.

- A Scapestrato
- B Sfrenato
- C Equilibrato

1518) Completare correttamente la seguente proporzione. Caotico : X = subdolo : sincero

- A X = ordinato
- B X = ambiguo
- C X = confuso

1519) Individuare, tra le alternative proposte, il termine da scartare.

- A Ignorante
- B Saggio
- C Sapiente

1520) Se 11 pagine di un manoscritto equivalgono a 9 pagine stampate, quante pagine manoscritte occorrono per stamparne 162?

- A 198
- B 188
- C 298

1521) Individuare, tra le alternative proposte, il termine da scartare.

- A Intrepido
- B Pavido
- C Coraggioso

1522) Individuare, tra le alternative proposte, il termine da scartare.

- A Tetro
- B Luminoso
- C Fosco

1523) Individuare, tra le alternative proposte, il termine da scartare.

- A Legale
- B Illecito
- C Illegale

1524) Un ciclista ha compiuto i 2/3 del suo percorso abituale di allenamento. Sapendo che ha percorso 40 chilometri, quanto è lungo l'intero tragitto?

- A 60 km
- B 80 km
- C 100 km

1525) Individuare, tra le alternative proposte, il termine grammaticalmente difforme.

- A infrazione
- B abietto
- C violazione

1526) Completare la seguente successione: "G8,K12,S20,..."

- A F7
- B N8
- C R20

1527) Individuare, tra le alternative proposte, il termine da scartare.

- A Risaputo
- B Notorio
- C Segreto

1528) Individuare, tra le alternative proposte, il termine da scartare.

- A Rugoso
- B Liscio
- C Levigato

1529) Individuare, tra le alternative proposte, il termine da scartare.

- A Telegrafico
- B Sintetico
- C Prolisso

1530) Completare la seguente successione: "1,15,16,31,....,78"

- A 40
- B 45
- C 47

1531) Trasformare in frazione il seguente numero decimale 1,27

- A $127/1000$
- B $127/100$
- C $127/10$

1532) Individuare, tra le alternative proposte, il termine da scartare.

- A Impietoso
- B Clemente
- C Crudele

1533) Ugo sistema 368 francobolli nell'album in modo che su ogni pag. ve ne siano 23. Quante pagine riempie?

- A 18 pagine
- B 16 pagine
- C 14 pagine

1534) Qual è il 39% di 1.250.000?

- A 496500
- B 487500
- C 497000

1535) Individuare, tra le alternative proposte, il termine da scartare.

- A Esterno
- B Endemico
- C Esogeno

1536) Completare la seguente successione: "? ,6,18,72,360"

- A 3
- B 2
- C 4

1537) Alcuni stranieri sono alti". "Tutti gli stranieri alti hanno gli occhiali". Quindi:"

- A alcuni stranieri hanno gli occhiali.
- B tutti gli stranieri hanno gli occhiali.
- C nessuno straniero basso ha gli occhiali.

1538) Completare la seguente successione: "18,12,39,24,27,..."

- A 34
- B 36
- C 32

1539) Completare la seguente serie numerica: 7 13 ? 22 25 27

- A 20
- B 18
- C 15

-
- 1540) **Indicare il termine da scartare:**
A Fortunato
B Infausto.
C Avverso.
-
- 1541) **Un traghetto ha compiuto i $\frac{7}{8}$ del suo tragitto. Se ha navigato per 14 chilometri, quanti chilometri è lungo l'intero tragitto?**
A 56
B 15
C 16
-
- 1542) **Claudio ha letto i $\frac{6}{7}$ del suo libro preferito. Sapendo che ha letto 150 pagine, di quante pagine è composto il libro?**
A 175
B 140
C 195
-
- 1543) **Quale tra i seguenti numeri è divisibile per 3?**
A 1694468
B 2999664
C 770633
-
- 1544) **Una confezione di una merendina costa euro. 3 ed ha il peso netto di g 30. Calcolare il suo costo al chilogrammo:**
A euro. 10
B euro. 150
C euro. 100
-
- 1545) **A quale numero corrisponde la frazione $\frac{1}{4}$?**
A 5
B 0.25
C 0.4
-
- 1546) **Quale tra i seguenti numeri è divisibile per 3?**
A 3107428
B 4417749
C 1769338
-
- 1547) **Qual è il risultato della differenza $0,29 - 0,032$?**
A 0.258
B -0.03
C 0.322
-
- 1548) **A quale frazione corrisponde il numero decimale 0,3?**
A $\frac{0,3}{10}$
B $\frac{3}{100}$
C $\frac{3}{10}$
-
- 1549) **50 decimetri corrispondono a:**
A 5.000 cm
B 0,050 km
C 50.000 cm
-
- 1550) **La somma $33 + 99 + 22$ dà un numero intero se si divide per:**
A 11
B 3
C 5
-
- 1551) **Quale tra i seguenti numeri è divisibile per 2?**
A 81
B 17
C 236
-
- 1552) **Il prodotto $34 \times 17 \times 22 \times 2 \times 10$ è divisibile per il numero:**

- A 44
- B 43
- C 9

1553) La somma $36 + 144 + 96$ è divisibile per il numero:

- A 12
- B 9
- C 5

1554) Indicare il termine da scartare.

- A Insediare.
- B Rimuovere.
- C Installare.

1555) Il 12% di 123.000 equivale a:

- A 4680
- B 15670
- C 14760

1556) Qual è il 14% di 138.000?

- A 19300
- B 19320
- C 19334

1557) Quale tra i seguenti numeri è divisibile per 3?

- A 25223
- B 25647
- C 19766

1558) Indicare il termine che grammaticalmente non è affine agli altri.

- A Precisione.
- B Negligente.
- C Disordinato.

1559) Quale tra i seguenti numeri è divisibile per 3?

- A 255367
- B 257438
- C 187062

1560) 72 vasi acquistati per euro 5,00 cadauno vengono rivenduti a euro 11,00 cadauno. Durante il trasporto se ne rompono 18. Quant'è il guadagno?

- A 222
- B 234
- C 230

1561) Quale tra i seguenti è un multiplo del numero 9?

- A 288
- B 283
- C 286

1562) Quale tra i seguenti è un multiplo del numero 5?

- A 310
- B 316
- C 324

1563) Quale tra i seguenti numeri è divisibile per 3?

- A 2563
- B 2624
- C 1962

1564) Qual è il 5% di 172000.

- A 8500
- B 8600
- C 163000

-
- 1565) **Quale tra i seguenti numeri è divisibile per 3?**
A 13538
B 1569
C 3376
-
- 1566) **Trasformare in numero decimale limitato la frazione 98/100**
A 0.98
B 9.8
C 0.009
-
- 1567) **Indicare il termine che grammaticalmente non è affine agli altri.**
A Ammissibile.
B Affiliare.
C Accettabile.
-
- 1568) **Indicare il termine che grammaticalmente non è affine agli altri.**
A Lealtà.
B Limitato
C Fedeltà.
-
- 1569) **La somma $18 + 72 + 48$ è divisibile per il numero:**
A 9
B 6
C 5
-
- 1570) **In una proporzione gli estremi sono 3 e 10 e i medi 6 e 5. Come va scritta la proporzione?**
A $3 : 6 = 5 : 10$
B $5 : 3 = 10 : 6$
C $3 : 5 = 6 : 10$
-
- 1571) **Arrotondando al decimo il numero 5,642 si ottiene:**
A 5.64
B 5.7
C 5.6
-
- 1572) **La somma delle frazioni $3/2 + 2/5$ è uguale a:**
A $32/25$
B $8/5$
C $19/10$
-
- 1573) **$4/5 + 1/3$ è uguale a:**
A $17/15$
B 44380
C 44413
-
- 1574) **La somma di $3/4$ e $2/5$ è pari a:**
A 44444
B 43952
C $23/20$
-
- 1575) **Quanto vale la somma $5/9 + 1/2$?**
A $19/18$
B $91/52$
C 44506
-
- 1576) **Indicare il termine che grammaticalmente non è affine agli altri.**
A Inedia.
B Inerte.
C Abulico.
-
- 1577) **Indicare il termine da scartare:**
A Plebeo.
B Blasonato.
C Nobile.

-
- 1578) Trasformare in frazione il seguente numero misto: $4 + \frac{4}{13}$
- A $\frac{50}{12}$
 - B $\frac{52}{13}$
 - C $\frac{56}{13}$
-
- 1579) La somma di $\frac{2}{3} + \frac{3}{4}$ è uguale a:
- A $\frac{17}{12}$
 - B $\frac{23}{34}$
 - C $\frac{3}{8}$
-
- 1580) Una moto da cross ha percorso $\frac{6}{7}$ di un certo tragitto. Sapendo che ha percorso 36 chilometri, quanto è lungo l'intero tragitto?
- A 54 chilometri
 - B 42 chilometri
 - C 24 chilometri
-
- 1581) Un camion ha percorso $\frac{3}{5}$ del suo tragitto abituale. Sapendo che ha percorso 12 chilometri, quanto è lungo l'intero tragitto?
- A 25 chilometri
 - B 20 chilometri
 - C 30 chilometri
-
- 1582) Una frase è stata divisa in 5 parti, che successivamente sono state mescolate e che di seguito sono proposte in ordine casuale: 1) che uno può accendere quando vuole 2) obbligare gli altri a vedere 3) il raziocinio è un lume 4) e può soffiarcì sopra 5) quando non vuole più vedere lui. Ricomporre correttamente la frase.
- A 5;3;1;4;2.
 - B 3;1;2;4;5.
 - C 2;5;1;4;3.
-
- 1583) Indicare il termine da scartare.
- A Difendere.
 - B Proteggere.
 - C Offendere.
-
- 1584) Un elicottero ha percorso $\frac{3}{5}$ del proprio tragitto. Sapendo che ha volato per 21 chilometri, quanto è lungo l'intero percorso?
- A 35 km
 - B 27 km
 - C 26 km
-
- 1585) Quale dei seguenti numeri rappresenta il corretto arrotondamento al millesimo di 285,3324?
- A 285.333
 - B 285.3
 - C 285.332
-
- 1586) A quanto ammonta l'interesse maturato da un capitale di euro 60.000 in due anni e mezzo al tasso del 3%?
- A 3000
 - B 2500
 - C 3500
-
- 1587) Quale delle seguenti è una frazione decimale?
- A $\frac{7}{100}$
 - B $\frac{100}{7}$
 - C 44387
-
- 1588) Arturo ha percorso $\frac{5}{8}$ del suo tragitto abituale per andare al lavoro. Sapendo che ha percorso 400 metri, quanto è lungo l'intero tragitto?
- A 850 metri
 - B 500 metri
 - C 640 metri
-
- 1589) Data l'equazione $7x + 10 = 2x$, quale valore può assumere x per soddisfare l'equazione?

- A -1
- B -4
- C -2

1590) Trasformare in frazione il seguente numero decimale 1,04

- A $104/1000$
- B $104/10$
- C $26/25$

1591) Completare la seguente successione : "(5,10,13) (12,24,27) (14,.....)"

- A 28.31
- B 30
- C 38

1592) Trasformare in numero decimale la frazione $10/8$

- A 12.5
- B 0.8
- C 1.25

1593) L'equazione: $x - 3 = -x + 1$ ha come soluzione:

- A $x = 1$
- B $x = 2$
- C $x = 3$

1594) $2/3 + 1/6$ è uguale a:

- A $5/6$
- B $21/36$
- C $7/6$

1595) Trasformare in frazione il seguente numero decimale 0,107

- A $107/1000$
- B $1,07/100$
- C $107/10000$

1596) Individuare, tra le alternative proposte, il termine da scartare.

- A Lieto
- B Malinconico
- C Triste

1597) Completare la seguente successione: " ? ,6,18,72,360"

- A 4
- B 2
- C 3

1598) Completa la seguente successione: "18,12, 39, 24, 27, ? "

- A 36
- B 34
- C 32

1599) Completare la seguente successione: "1,15,16, 31, ?, 78"

- A 45
- B 40
- C 47

1600) Completare la seguente successione:"16, 64, ?, 256, 400"

- A 144
- B 154
- C 195

1601) Completa la seguente successione: "G8,K12,S20,..."

- A R20
- B N8
- C F7

1602) Completare la seguente successione: "2,97,4,89,8,83,14,79,?, ? "

- A 16.77
- B 22.77
- C 20.75

1603) Quale tra i termini proposti completa correttamente la proporzione seguente ? Sud ovest sta a nord come nord ovest sta a ?

- A nord est
- B est
- C sud

1604) Completa la seguente successione: "44, ? , 34, 29"

- A 39
- B 38
- C 43

1605) Data l'equazione $13x + 16 = 5x$, qual è il valore di x?

- A -3
- B -1
- C -2

1606) Indicare il termine che grammaticalmente non è affine agli altri.

- A Socializzare
- B Misanthropo.
- C Asociale.

1607) Indicare il termine che grammaticalmente non è affine agli altri.

- A Violazione.
- B Infrangere.
- C infrazione.

1608) Un aereo ha percorso i $\frac{2}{3}$ del suo tragitto. Se ha percorso 1.200 chilometri, quanti chilometri è lungo l'intero tragitto?

- A 2400
- B 3600
- C 1800

1609) Quanto vale la somma $\frac{1}{2} + \frac{1}{6}$?

- A $\frac{11}{26}$
- B $\frac{2}{8}$
- C $\frac{2}{3}$

1610) Qual è la differenza fra i numeri 2,96 e 0,017?

- A 2.943
- B 2.942
- C 2.944

1611) Nell'equazione: $2x - 6 = 0$, X è uguale a:

- A 3
- B 6
- C -2

1612) Quale delle seguenti è una frazione decimale?

- A $\frac{5}{8,9}$
- B $7,3/6,5$
- C $\frac{3}{10}$

1613) Qual è il termine da scartare?

- A Mingherlino.
- B Robusto
- C Gracile.

1614) Qual è il termine da scartare?

- A Fiacco.
- B Debole.
- C Energico

-
- 1615) Qual è il termine da scartare?
A Grigio.
B Roseo.
C Plumbeo.
-
- 1616) Qual è il termine da scartare?
A Placare.
B Lenire.
C Esacerbare.
-
- 1617) Non è un sinonimo di "cospicuo":
A scarso
B copioso
C abbondante
-
- 1618) Tutti gli studenti di ingegneria hanno frequentato il liceo scientifico. Quale delle seguenti condizioni è necessario si verifichi affinché l'affermazione risulti FALSA?
A Almeno uno studente ha frequentato il liceo scientifico ma non è iscritto a ingegneria
B Nessuno studente di ingegneria deve aver frequentato il liceo scientifico
C Almeno uno studente di ingegneria non ha frequentato il liceo scientifico
-
- 1619) Individuare la riga che contiene il minor numero di lettere U.
A VVVVUVVVVVVVVV
B VVVVVUUUUUUUUUU
C VVVVVVVUUUUUUUU
-
- 1620) Completare la seguente successione, utilizzando l'alfabeto italiano: F;80;S;68;G;56;T;44;?;?
A F;32
B H;32
C F;68
-
- 1621) Se in una certa zona la piovosità media è di 360 millimetri all'anno, quanto piove mediamente in un anno e mezzo?
A 840 millimetri.
B 540 millimetri.
C 720 millimetri.
-
- 1622) La somma $30 + 90 + 75$ dà un numero intero se divisa per:
A 7
B 5
C 6
-
- 1623) Qual è il contrario di allietare?
A Alimentare
B Alludere
C Affliggere
-
- 1624) Qual è il sinonimo di incaricato?
A Sovraccarico
B Addetto
C Supplente
-
- 1625) Qual è il sinonimo di accattonaggio?
A Mendicizia
B Ricettazione
C Compravendita
-
- 1626) Qual è il sinonimo di acclamare?
A Adempiere
B Arringare
C Applaudire
-
- 1627) Qual è il sinonimo di trasandato?

- A Sperperato
- B Sparuto
- C Sciatto

1628) Qual è il contrario di virulento?

- A Incorrotto
- B Blando
- C Irreprensibile

1629) Un contrario di "rozzezza" è:

- A garbo
- B pulizia
- C morbidezza

1630) Qual è il contrario di autoctono?

- A Etnico
- B straniero
- C Locale

1631) Qual è il sinonimo di addensarsi?

- A Rarefarsi
- B Infittirsi
- C Inclinarsi

1632) Qual è il sinonimo di opaco?

- A Oscuro
- B Piatto
- C Lucido

1633) Qual è il sinonimo di "abissale"?

- A Spropositato
- B Seducente
- C Sovraccarico

1634) Qual è il sinonimo di "goffo"?

- A Maldestro
- B Grazioso
- C Grasso

1635) Qual è il sinonimo di "rancoroso"?

- A Ansimante
- B Famelico
- C Livoroso

1636) Individuare la riga che contiene il maggior numero di lettere K.

- A ADKFKOFDAK AD
- B QRADHQWADRA
- C QRKAQRAQRADA

1637) Individuare la riga che contiene il minor numero di Q.

- A ASDFGQASDFP
- B ASDFGQAQDFP
- C ASQFGQASDQP

1638) In un periodo di crisi l'utile X della ditta Delta diminuisce del 40%. Trascorso il periodo di difficoltà, la ditta Delta registra un aumento del proprio utile del 40%. Si può concludere che l'utile finale Y è:

- A uguale a X
- B minore di X
- C maggiore di X

1639) Depositando in banca una somma di 7000 euro, a un interesse del 2%, a quanto ammonta l'interesse maturato dopo un anno?

- A 150 euro
- B 160 euro
- C 140 euro

-
- 1640) Individuare l'alternativa che riporta una successione di elementi in ordine inverso rispetto alla sequenza WAHKWAHKWAHK KHAWKHAWKHAW
- A KAHWKAHWKHAW
 - B KHAWKHAWKHAW
 - C KHAWKHAWKAHW
-
- 1641) La differenza tra i 2 risultati delle operazioni seguenti? $4614 / 2$ e $4610 / 2$ è:
- A 4
 - B 2
 - C 0.5
-
- 1642) Se il tasso di inflazione scende sotto il 2%, allora il governatore della Banca Centrale europea abbassa il Tasso Ufficiale di Sconto". Se l'argomentazione precedente è vera, quale delle seguenti è certamente vera?
- A Se il tasso di inflazione resta al 2%, allora il governatore della Banca Centrale europea non modifica il Tasso Ufficiale di Sconto
 - B Se il governatore della Banca Centrale europea non ha abbassato il Tasso Ufficiale di Sconto, vuol dire che il tasso di inflazione non è sceso sotto il 2%
 - C Se il governatore della Banca Centrale europea alza il Tasso Ufficiale di Sconto, allora il tasso di inflazione sale
-
- 1643) Cinque misurini di una sostanza pesano complessivamente 100 gr, mentre un solo misurino di una seconda sostanza pesa 25 g. Se le due sostanze vengono mescolate in rapporto 2|1, quanti grammi pesa un misurino di miscela?
- A 23.33
 - B 21
 - C 21.66
-
- 1644) Individuare, tra le alternative proposte, il termine da scartare.
- A Automobile
 - B Autocarro
 - C Motocicletta
-
- 1645) Individuare, tra le alternative proposte, il termine da scartare.
- A Arido
 - B Florido
 - C Fertile
-
- 1646) Individuare, tra le alternative proposte, il termine da scartare.
- A Ostinato
 - B Flessibile
 - C Arrendevole
-
- 1647) Individuare, tra le alternative proposte, il termine da scartare.
- A Spazioso
 - B Angusto
 - C Ampio
-
- 1648) Individuare, tra le alternative proposte, il termine da scartare.
- A Criminale
 - B Onesto
 - C Delinquente
-
- 1649) Individuare, tra le alternative proposte, il termine da scartare.
- A Ateo
 - B Miscredente
 - C Credente
-
- 1650) Quali tra i termini proposti completano la seguente proporzione ? "Cuoco : mestolo = x : y"
- A X = geometra;y = fiore
 - B X = forbici;cucina.
 - C X = sarto;y = ago
-
- 1651) Completare correttamente la seguente proporzione.Impudente : X = impraticabile : agibile

- A X = discreto
- B X = inalterabile
- C X = aspro

-
- 1652) **Quale delle seguenti frasi non contiene errori ortografici?**
- A Oggi grazie alla scienza sono state debellate molte malattie.
 - B Oggi grazie alla scienza sono state debelate molte malattie.
 - C Oggi grazie alla scienza sono state debelate molte malatie.
-
- 1653) **Quale delle seguenti frasi non contiene errori ortografici?**
- A Tutta la zona era controllata dalla Polizia fin dalle prime ore del mattino.
 - B Tutta la zona era controlata dalla Polizia fin dalle prime ore del mattino
 - C Tutta la zona era controllata dalla Polizzia fin dalle prime ore del mattino.
-
- 1654) **Se e solo se c'è lo sciopero dei mezzi pubblici, Luigi prende l'automobile. In base alla precedente informazione, quale delle seguenti affermazioni è certamente vera?**
- A Se Luigi prende l'automobile significa che c'è lo sciopero dei mezzi pubblici
 - B A volte, anche se c'è sciopero dei mezzi pubblici, Luigi non prende l'automobile
 - C Quando Luigi prende l'automobile non è detto che ci sia sciopero dei mezzi pubblici
-
- 1655) **Quale dei seguenti termini è sinonimo di "abrogare"?**
- A invalidare
 - B sostituire
 - C rimpiazzare
-
- 1656) **Quale dei seguenti sostantivi non ha lo stesso significato degli altri?**
- A Arroganza
 - B Tracotanza
 - C Debolezza
-
- 1657) **Se tutti i fotografi di moda sono molto noti, quale delle seguenti affermazioni è necessariamente vera?**
- A Non esistono fotografi più famosi di quelli di moda.
 - B Non esistono fotografi di moda poco noti.
 - C È impossibile negare che esista almeno un fotografo di moda poco noto.
-
- 1658) **Se l'affermazione tutte le spiagge italiane sono sabbiose è falsa, quale delle seguenti proposizioni è necessariamente vera?**
- A Almeno una spiaggia italiana è sabbiosa.
 - B Nessuna spiaggia italiana è sabbiosa.
 - C Almeno una spiaggia italiana non è sabbiosa.
-
- 1659) **Individuare il termine che completa logicamente la proporzione: luna : fuga = pero sta a ?**
- A pera
 - B melo
 - C lupo
-
- 1660) **Quale tra i termini proposti completa correttamente la seguente proporzione? Contratto : X = controverso : indiscusso**
- A X = difficile
 - B X = rilassato
 - C X = tesoro
-
- 1661) **Individuare il termine da scartare:**
- A Maestoso.
 - B Modesto.
 - C Imponente.
-
- 1662) **Quale delle seguenti parole non ha significato contrario rispetto alle altre?**
- A Avventato
 - B Ponderato
 - C Oculato
-
- 1663) **Quale tra i termini proposti completa correttamente la seguente proporzione? Basilico : pianta = quarzo : X**

- A X = metallo
- B X = frutto
- C X = pietra

1664) **Completare la successione: " 3 , ? , 1 8, 72, 360".**

- A 4
- B 6
- C 2

1665) **Completare correttamente la seguente proporzione: Sgarbato : X = scrupoloso : superficiale**

- A X = serio
- B X = cortese
- C X = insolente

1666) **Completare correttamente la seguente proporzione: Biologo : microscopio = X : Y**

- A X = televisore;Y = telecomando
- B X = meccanico;Y = dogana
- C X = marinaio;Y = bussola

1667) **Quale termine ha attinenza con la parola "suora"?**

- A Badessa
- B Abate
- C Priore

1668) **Quale termine ha attinenza con la parola "vitalizio"?**

- A Contratto
- B Rendita
- C Vizio

1669) **Quali tra i termini proposti completano correttamente la seguente proporzione?Otturare : X = dissipare : Y**

- A X = ottundere;Y = risolvere
- B X = chiudere;Y = disperdere
- C X = sgorgare;Y = logorare

1670) **Quali tra i termini proposti completano correttamente la seguente proporzione?Ciclista : bicicletta = X : Y**

- A X = autista;Y = passeggero
- B X = ginnasta;Y = parallele
- C X = viticoltore;Y = albero

1671) **Tutte le automobili tedesche hanno l'air bag. Questa automobile è tedesca. In base alle precedenti informazioni, quale delle seguenti affermazioni è certamente vera?"**

- A Questa automobile ha l'air bag.
- B Le uniche automobili dotate di air bag sono quelle tedesche.
- C Questa automobile è sicura per il guidatore anche se viaggia a 200 km/h.

1672) **Se l'affermazione "Tutti i brani jazz hanno ritmo" è FALSA, quale delle seguenti proposizioni è necessariamente vera?**

- A Almeno un brano jazz non ha ritmo.
- B Almeno un brano jazz ha ritmo.
- C Alcuni brani jazz hanno ritmo.

1673) **Il contrario di "filantropo" è:**

- A misantropo
- B benefattore
- C agnostico

1674) **Quale delle seguenti parole non ha lo stesso significato delle altre?**

- A Manifesto
- B Segreto
- C Recondito

1675) **Completare correttamente la seguente proporzione. Imbianchino : pennellessa = X : Y**

- A X = tipografo; Y = stampatrice
B X = erborista; Y = cliente
C X = stampante; Y = elaboratore

1676) **Completare la seguente analogia: X : allegria = codardia : Y**

- A X = collera; Y = ira
B X = tristezza; Y = coraggio
C X = gioia; Y = ignavia

1677) **Completare correttamente la seguente proporzione: Elena : Iliade = X : Y**

- A X = Italo Svevo; Y = La coscienza di Zeno
B X = Jacopo Ortis; Y = Il giovane Werther
C X = Penelope; Y = Odissea

1678) **Completare la seguente proporzione: largo : stretto = X : Y.**

- A X = bianco; Y = rosso
B X = basso; Y = alto
C X = forte; Y = grande

1679) **Se e solo se il gatto mangia, vado a comprare altri croccantini. In base alla precedente informazione, quale delle seguenti affermazioni è certamente vera?**

- A Se vado a comprare altri croccantini significa che il gatto mangia.
B Ogni tanto vado a comprare altri croccantini per non trovare la dispensa vuota.
C Quando compro altri croccantini non è detto che il gatto abbia mangiato.

1680) **Completare la seguente successione: 120, 116, 112, 108, ...9 27 ? 125 1 1**

- A 5
B 13
C 25

1681) **Completare la seguente successione: 8 10 ? 32 96**

- A 35
B 30
C 15

1682) **Completare la seguente successione: 500 ? 200 100 50**

- A 250
B 100
C 200

1683) **Completare la seguente successione: 6 3 9 6 18 ?**

- A 15
B 16
C 17

1684) **Completare la seguente successione: 70 56 42 ?**

- A 36
B 16
C 28

1685) **Completare la seguente successione: 43 47 ? 52 53**

- A 50
B 46
C 45

1686) **Completare la seguente successione: 9 45 13 ? 2 10**

- A 65
B 19
C 27

1687) **Completare la seguente successione: 4 10 14 ? 24**

- A 20
B 12
C 16

-
- 1688) Completare la seguente successione: 49, ?, 67, 76, 85
- A 58
 - B 59
 - C 60
-
- 1689) Quale tra i termini proposti completa correttamente la seguente proporzione? Urgente : X = sbadato : accorto
- A X = differibile
 - B X = frenetico
 - C X = insensibile
-
- 1690) Se e solo se piove, indosso l'impermeabile. In base alla precedente informazione, quale delle seguenti affermazioni è certamente vera?
- A A volte, anche se piove, non indosso l'impermeabile.
 - B Quando indosso l'impermeabile non sempre piove.
 - C Se indosso l'impermeabile significa che piove.
-
- 1691) Qual è la differenza fra i numeri 1,98 e 0,059?
- A 1.921
 - B 1.922
 - C 1.29
-
- 1692) Un impiegato ha ottenuto un aumento pari a 1/13 del suo stipendio. Sapendo che l'aumento è di 200 euro, a quanto ammontava lo stipendio?
- A 2.000 euro
 - B 1.300 euro
 - C 2.600 euro
-
- 1693) Completare la seguente successione: 4 ? 2 14 28 1
- A 5
 - B 2
 - C 7
-
- 1694) Completare la seguente successione: 36 45 55 66 ?
- A 74
 - B 78
 - C 75
-
- 1695) Completare la seguente successione: 12 36 ? 324
- A 201
 - B 108
 - C 88
-
- 1696) Completare la seguente successione: T2Z - 3S4. TS4 - ? . SZ3 - 24T
- A 24Z
 - B 32Z
 - C 23T
-
- 1697) Se la sequenza prevede la successione di "consonante vocale consonante", quale gruppo di lettere è corretto?
- A QESRADAJJIQOHOL
 - B POCCUJNASIOKOLU
 - C RETPIGBILCAWQU
-
- 1698) Se la sequenza è "dispari pari dispari", quale gruppo di numeri è corretto?
- A 7.41E+029
 - B 5.48E+028
 - C 9.88E+029
-
- 1699) Individuare la successione identica a " 69699966696"
- A 69699966666
 - B 69699966696
 - C 69699969696
-

- 1700) In quale, tra le seguenti sequenze di lettere, è presente, almeno una volta, la stringa alfabetica "KKAJAUH"?
- A JASBKDSDSAJBDSLASANDBKSAJBKJS
 - B NAMSBASSDBLANMKKAJAUHDNASKJ
 - C BZSDKSJBADSDNSKNCJASBKADKLDS
-
- 1701) Tutti i corridori sono persone determinate. Giovanni è un neolaureato. I neolaureati sono persone determinate. In base alle precedenti affermazioni, quale delle seguenti è necessariamente vera?
- A Giovanni è una persona determinata.
 - B Giovanni è un corridore.
 - C Giovanni è un corridore determinato .
-
- 1702) Individuare la corretta negazione della seguente proposizione: "Nessun mammifero depone le uova".
- A Qualche mammifero non depone le uova
 - B Tutti i mammiferi depongono le uova
 - C Qualche mammifero depone le uova
-
- 1703) Luisa non ha sorelle. Chi è la sorella del figlio del nonno materno della figlia di Luisa?
- A Luisa
 - B cugina di Luisa
 - C mamma di Luisa
-
- 1704) Individuare la corretta negazione della seguente proposizione: "Tutti i felini sono carnivori"
- A Tutti i felini non sono carnivori.
 - B Almeno un felino non è carnivoro.
 - C Qualche felino è carnivoro.
-
- 1705) Completare correttamente la seguente successione, utilizzando l'alfabeto italiano:
Q;38;S;35;V;33;A;30;?;?
- A D;27
 - B C;27
 - C D;28
-
- 1706) Una lattina piena di una bibita pesa 500 grammi. Sapendo che la lattina rappresenta il 4% del peso lordo, qual è il peso della bibita?
- A 460 grammi
 - B 480 grammi
 - C 20 grammi
-
- 1707) Solo se vado in bici a scuola, arrivo in orario. Se la precedente affermazione è vera, allora è possibile dedurre che:
- A Arrivo in orario anche se vado in autobus a scuola.
 - B Se non vado in bici a scuola allora non arrivo in orario.
 - C Se arrivo a scuola in orario, allora non sono andato in bici.
-
- 1708) Completare la seguente successione: 7 47 70 45 ? 43
- A 600
 - B 700
 - C 670
-
- 1709) Completare la seguente successione: 1250 250 ? 10 2
- A 50
 - B 70
 - C 60
-
- 1710) Completare la seguente successione: 24 27 31 ? 42
- A 33
 - B 36
 - C 35
-
- 1711) Indicare il termine da scartare.
- A Ricercato.
 - B Richiesto
 - C Ignorato.

-
- 1712) **Indicare il termine da scartare.**
A Fecondo
B Prolifico.
C Improduttivo
-
- 1713) **Giulio ha in programma di svolgere 30 diverse commissioni. Sapendo che a mezzogiorno ha già svolto 8 incarichi, che percentuale di commissioni gli resta ancora da fare?**
A 0.653
B 0.734
C 0.78
-
- 1714) **Quale delle seguenti alternative contiene una lettera ripetuta esattamente cinque volte?**
A AJGHLILYCKAJKYW
B AYGHYILYCKAYKYW
C AYGHJILYCKAJKYW
-
- 1715) **In quale delle seguenti alternative la lettera W è ripetuta esattamente sei volte?**
A WYWTYHIWGHMRLW
B WYTTWHIWGHMRLW
C WYWTWHIWGHMRLW
-
- 1716) **In quale, tra le seguenti sequenze di numeri, è presente almeno una volta, la stringa 263758?**
A 2.67E+019
B 7.86E+019
C 3.76E+019
-
- 1717) **Qual è la corretta negazione della proposizione: "Nessun medico è malato"?**
A Almeno un medico è malato.
B Qualche medico non è malato.
C Tutti i medici non sono malati.
-
- 1718) **Se è vero che "tutti i fiori sono esseri viventi" e "tutte le rose sono fiori", allora:**
A tutti gli esseri viventi sono fiori.
B alcune rose non sono fiori.
C tutte le rose sono esseri viventi.
-
- 1719) **Quale dei seguenti termini è sinonimo di "sedizioso"?**
A Agitatore
B Viziato
C Sottomesso
-
- 1720) **Indicare in quale delle seguenti alternative viene rispettata la regola di alternanza "vocale-consonante".**
A EPOFABELPUFABEL
B EPOFABELEFABELUFABEL
C EPOFABELEUFABEL
-
- 1721) **Se la frase "Tutti i martedì vado in palestra e vado in piscina" è FALSA, se ne deduce necessariamente che:**
A tutti i giovedì non vado in palestra o non vado in piscina.
B qualche giovedì o non vado in palestra o non vado in piscina.
C qualche giovedì non vado in palestra e non vado in piscina.
-
- 1722) **Una banda musicale marcia formando un quadrato di 6 x 6 elementi. Arrivata in piazza, si dispone su 3 file, formando un rettangolo, per suonare. Di quanti elementi è composta ciascuna fila?**
A 12
B 15
C 16
-
- 1723) **Una squadra di 15 operai edifica un palazzo in 30 giorni. Quanti giorni avrebbe impiegato una squadra di 9 operai per eseguire lo stesso lavoro?**
A 40
B 60
C 50

1724) Per preparare 12 pancake occorrono 240 grammi di farina. Se si decide di prepararne solo otto, di quanti grammi di farina si ha bisogno?

- A 180
- B 160
- C 220

1725) Indicare la sillaba che, preposta ai gruppi di lettere -RA, -DUTA e -DANO, attribuisce forma tre parole di significato compiuto:

- A ro
- B ta
- C se

1726) Individuare il diagramma che soddisfa la relazione insiemistica esistente tra i termini dati: PESCI, ORATE, LAGHI

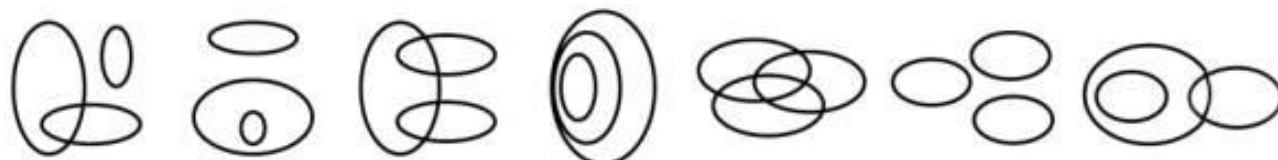


DIAGRAMMA 1 DIAGRAMMA 2 DIAGRAMMA 3 DIAGRAMMA 4 DIAGRAMMA 5 DIAGRAMMA 6 DIAGRAMMA 7

- A Diagramma 4
- B Diagramma 2
- C Diagramma 6

1727) Tra le alternative proposte, scegliere quella che completa correttamente la frase «Mio figlio, _____, dimostra in ogni occasione una certa maturità.»

- A sebbene avrebbe avuto solo sedici anni
- B sebbene avesse solo sedici ann
- C sebbene abbia solo sedici anni

1728) Se le lancette di un orologio segnano le 12.30 di lunedì, tra 45 ore e 45 minuti saranno:

- A le 10.15 di mercoledì
- B le 6.15 di martedì
- C le 22.15 di giovedì

1729) Un cartello stradale reca la scritta: "Strada scivolosa in caso di pioggia". Da tale affermazione è possibile dedurre che:

- A se piove la strada non è scivolosa
- B se piove la strada è scivolosa
- C se non piove la strada è scivolosa

1730) Indicare l' affermazione corretta.

- A $2x$ è maggiore di x tutte le volte che x è una frazione
- B $2x$ è minore di x per valori negativi di x , ma maggiore per valori positivi
- C $2x$ è maggiore di x per tutti i valori di x , tranne $x = 0$

1731) Scegliere l'alternativa che completa correttamente la frase: «Ti direi che hai un magnifico aspetto:

- A se solo sapessi mentire».
- B se solo avrei saputo mentire».
- C se solo avessi mentito».

1732) La domenica mattina Marco va in piscina e deve portarsi monete a sufficienza per pagare la tariffa del parcheggio adiacente alla piscina. Le tariffe dei giorni festivi sono le seguenti: Tariffe domenicali dalle 10.00 alle 18.00.....euro 0,80 l'ora, Tariffe domenicali al di fuori degli orari elencati.....euro 0,50 l'ora, Tutte le tariffe sono per ora o per frazione di un'ora. Se Marco utilizzerà il parcheggio dalle 9.15 alle 10.45, quanto spenderà per parcheggiare la macchina?

- A euro 1,60
- B euro 1,30
- C euro 2,00

1733) La somma di tre numeri è 1.000. Il primo è due terzi del secondo e il secondo è tre quinti del terzo. I tre numeri sono:

- A 500;200;300
- B 200;300;500
- C 200;200;600

1734) Individuare il plurale non corretto:

- A pioggia - piogge
- B provincia -province
- C spiaggia - spiagge

1735) Il costo di una libreria è di 350 euro, IVA esclusa. Se l'IVA da applicare è del 22%, quanto costa la libreria IVA compresa?

- A 470 euro
- B 427 euro
- C 377 euro

1736) L'unione degli insiemi A e B contiene 51 elementi. L'insieme A contiene 29 elementi, l'insieme B contiene 42 elementi. Quanti sono gli elementi dell'intersezione di A e B?

- A 13
- B 20
- C 15

1737) La somma delle cifre di quale dei seguenti gruppi numerici determina il risultato maggiore?

- A 3-2-1-4-3-4-0-3
- B 4-2-2-1-0-7-3
- C 2-3-6-8-7-0

1738) Per andare da A a B, Lucia deve percorrere 840 chilometri. Percorre in treno gli 11/12 del tragitto, in taxi i 4/5 della restante parte e decide di percorrere a piedi gli ultimi chilometri. Quanti chilometri percorrerà camminando?

- A 14
- B 17
- C 24

1739) Le stature in centimetri di un campione di 5 persone sono le seguenti: 172 , 171 , 165 , 166 , 181. Qual è la media delle stature?

- A 175
- B 172
- C 171

1740) Il costo di un infisso in alluminio è di 450 euro, IVA esclusa. Se l'IVA da applicare è del 22%, quanto costa un infisso IVA compresa?

- A 559 euro
- B 530 euro
- C 549 euro

1741) Un autobus sosta alla fermata ABC ogni 270 minuti, un secondo autobus ogni 180 minuti e un terzo autobus ogni 60 minuti. Se i tre autobus sono partiti dalla fermata contemporaneamente alle 7:00, dopo quanti minuti si ritroveranno alla fermata ABC?

- A 230
- B 320
- C 540

1742) Dividi il numero 276 in parti inversamente proporzionali ai numeri 1/2, 1/4, 1/6.

- A 65, 50, 106
- B 46, 92, 138
- C 57, 60, 120

1743) La differenza di due segmenti misura 25 metri. Il primo segmento è i 9/4 del secondo. Quanto misura il segmento più corto?

- A 25 metri
- B 20 metri
- C 30 metri

1744) Per andare da X a Z bisogna viaggiare in autobus fino a Y e poi prendere il treno fino a Z. Se l'autobus, viaggiando ad una velocità media di 80 km/h impiega 1 ora e 30 minuti, e il treno, viaggiando a una velocità media di 200 km/h impiega 2 ore e 30 minuti, quanto dista X da Z?

- A 570 km
- B 590 km
- C 620 km

1745) **Quante parole (cioè sequenze di lettere, non necessariamente di senso compiuto) di 5 lettere si possono scrivere utilizzando tutte e solo le lettere D, M, P, A, O?**

- A 120.
- B 80.
- C 50.

1746) **Completare la seguente successione: "AD, ?EH,FG,IN,LM"**

- A BC.
- B DE.
- C AB.

1747) **Non esiste torta senza ciliegina. Se la precedente affermazione è falsa, quale delle seguenti è necessariamente vera?**

- A Esiste almeno una torta senza ciliegina.
- B Non vi sono ciliegine senza torta.
- C Nessuna torta ha la ciliegina.

1748) **Federica ha lanciato 4 volte di seguito una moneta ed ha ottenuto sempre croce. Se lanciasse la moneta una quinta volta:**

- A la probabilità che ottenga testa sarebbe pari a 1.
- B la probabilità che ottenga testa sarebbe pari alla probabilità che ottenga croce.
- C la probabilità che ottenga testa sarebbe minore alla probabilità che ottenga croce.

1749) **Completa la seguente successione " 16,81,? 625"**

- A 169.
- B 256.
- C 225.

1750) **Se aumentiamo il numero di 175 unità e poi lo riduciamo di 77 unità, otteniamo 376. Che numero è?**

- A 278.
- B 276.
- C 277.

1751) **Completare la seguente successione: "9,10,8,11, 7,....,12,?"**

- A 6.
- B 5.
- C 13.

1752) **Completare la seguente successione: "(2,12), (4, 6), (1,24), (6,?), (3, 8)"**

- A 2.
- B 4.
- C 3.

1753) **Quali tra i termini proposti completano correttamente la seguente proporzione? "Messina: Sicilia =x: y"**

- A X = Brindisi;y = Puglia
- B X = Sardegna;y= Sassari
- C X = Trieste;y = Veneto

1754) **Individuare la riga che contiene un numero di lettere Q pari al numero di vocali della parola "sentenza".**

- A OQQOQQOQO
- B OQQOQQOQO
- C OQQOQQOQO

1755) **Completare la seguente successione: "3,6, 9,15, 24,?, 63"**

- A 59.
- B 39.
- C 29.

1756) **Qual è la probabilità di estrarre da un'urna con 40 palline, numerate da 1 a 40, una pallina di numero divisibile per 6 o maggiore di 23?**

- A 3/10.
- B 3/5.
- C 1/2.

1757) Nel lancio di un dado qual è la probabilità che esca un numero dispari o maggiore di 4?

- A 2/3.
- B 1/2.
- C 1/4.

1758) Completare la seguente successione: "25-37-46-?-55"

- A 45.
- B 52.
- C 50.

1759) Indicare tra le alternative proposte il termine da scartare.

- A Avaro.
- B Spilorcio.
- C Munifico.

1760) Completare la seguente successione: "121, ? 961, 1681, 2601,"

- A 381.
- B 441.
- C 324.

1761) Completare correttamente la seguente proporzione: "Nuoro: Sardegna = X : Y"

- A X = Trieste;Y = Veneto
- B X = Calabria;Y = Matera
- C X = Siena;Y = Toscana

1762) Completare correttamente la seguente successione numerica: 19;176;38;88;76;44;152;?;?

- A 304;21
- B 76;88
- C 22;304

1763) Gli iscritti a una scuola di lingue straniere sono passati da 250 a 350 unità. Quanto vale l'incremento percentuale delle iscrizioni?

- A 0.3
- B 0.4
- C 0.35

1764) Quale delle seguenti alternative contiene una lettera ripetuta esattamente cinque volte?

- A XCIICXXCIXXIO
- B CCBDDBBCDDCB
- C JJWIVWWVJTJT

1765) Completare correttamente la seguente proporzione: "Torino: Juventus= X: Y"

- A X = Bergamo;Y = Atalanta
- B X = Genova;Y = Inter
- C X = calcio;Y = Sampdoria

1766) Completare correttamente la seguente successione numerica: 48;71;102;?;?;134;112;135

- A 83;105
- B 80;103
- C 80;111

1767) Almeno una delle case di Roma ha le tegole rosse. Negare questa affermazione significa affermare che:

- A a Roma nessuna casa ha le tegole rosse
- B Roma è l'unica città senza una casa con le tegole rosse
- C a Roma tutte le case hanno le tegole rosse

1768) Completare correttamente la seguente successione di lettere: C;F;M;B;E;L;?;?

- A D;H
- B A;D
- C I;M

-
- 1769) Se RAMO = 2;RADICE = 3;ARBUSTO = 4;SOTTOBOSCO = ?
A 6
B 9
C 5
-
- 1770) Completare la serie numerica: 2, 5, 15, 18, 54, 57, 171 ____
A 210
B 174
C 179
-
- 1771) Completare la seguente successione di numeri e lettere: H, 111, L, 93, N, 75, ?, 57, R, ...
A O, 41
B P, 39
C Q, 35
-
- 1772) Indicare il numero che completa la serie: 24 19 14 9 ?
A 10
B 4
C 7
-
- 1773) Completare la seguente serie numerica: 1, 3, 8, 19, 32, 51 _____
A 55
B 93
C 74
-
- 1774) Quale delle seguenti coppie di termini presenta elementi di disomogeneità rispetto alle altre?
A Terso - Pulito
B Ridondanza - scarsità.
C Alterigia - umiltà.
-
- 1775) Quale dei seguenti termini ha significato contrario di "dissidente"?
A Concorde
B Trasparente
C Opposto
-
- 1776) Completare correttamente la seguente successione numerica: 10;19;17;26;24;?;?, 40
A 30;32
B 3;31
C 22;29
-
- 1777) Se tutti gli esami del primo anno di ingegneria sono molto impegnativi, nessun esame molto impegnativo ha meno di sei crediti, quale delle seguenti affermazioni è sicuramente vera?
A Tutti gli esami del primo anno di ingegneria valgono almeno sei crediti
B Alla facoltà di ingegneria solo gli esami del secondo anno valgono almeno sei crediti
C Nessun esame che non sia del primo anno vale almeno sei crediti
-
- 1778) Un manager deve raggiungere alcuni colleghi che si trovano a un meeting in una località inglese. Giunto all'aeroporto di Londra decide di prendere una macchina a noleggio. La benzina in Inghilterra costa 3 sterline al gallone. Londra e la località da raggiungere distano 240 miglia;ogni gallone equivale a circa 3,75 litri di benzina;una sterlina vale 1,25 euro;l'auto consuma 1 litro di benzina ogni 20 km. Sapendo che un chilometro equivale a 0,60 miglia, quale sarà la spesa (in euro) per la benzina sostenuta dal manager per raggiungere i colleghi da Londra e per tornare all'aeroporto?
A 32 euro
B 20 euro
C 40 euro
-
- 1779) Durante l'ultimo week-end, Erica, Paola, Giuseppe e Bianca hanno guadagnato insieme 405 Euro. Erica ha lavorato il doppio del tempo di Paola;Paola ha lavorato la metà del tempo di Giuseppe;Bianca ha lavorato il doppio del tempo di Erica. Essi decidono di dividere i loro guadagni in modo imparziale. Quanti euro avrà Giuseppe?
A La metà della somma percepita da Bianca.
B Il quadruplo della somma percepita da Paola.
C La metà della somma percepita da Paola.

-
- 1780) Completare la seguente successione: "... , A, R, C, A"
A Q
B H
C B
-
- 1781) Completa la seguente successione: "V, R, N, H, ..."
A T
B D
C U
-
- 1782) Completa la seguente successione: "5, 10, 17, 26, ..."
A 38
B 37
C 39
-
- 1783) Quale dei seguenti gruppi alfanumerici, ripropone in senso inverso, la sequenza "ABBBABABABAB"?
A BABABBABABBA
B BABAABBABBBBA
C BABABABABBBBA
-
- 1784) Individuare, tra le alternative proposte, il termine da scartare.
A Tridente
B Incidentale
C Dentellato
-
- 1785) Completa la seguente successione: "254, 126, 62, 30, ..."
A 15
B 13
C 12
-
- 1786) Se dalla seguente sequenza "AGSLMENMEAETCACTNICENETE" si escludessero le lettere dei termini "AGILMENTE" e "SACCENTE", si otterrebbe la sequenza...
A CENTECA
B MECEANM
C NTECMEA
-
- 1787) Completa la seguente successione "22-33-44?"
A 144
B 132
C 165
-
- 1788) Completa la seguente successione "2-7-12-? 22-27 "
A 17
B 16
C 15
-
- 1789) Completa la seguente successione : "6-12-18- ?30-36
A 26
B 22
C 24
-
- 1790) Completa la seguente successione : "63, 9,7,-72,18,4-90,5,?"
A 22
B 18
C 20
-
- 1791) determinare quel numero il cui quadrato diviso a metà è uguale a 50:
A 20
B 10
C 7
-
- 1792) Quali tra i numeri proposti completa correttamente la proporzione "tappo sta a toppa: come 32664 sta a?"

- A 32466
- B 34662
- C 36642

1793) **Quante cinquine si possono formare con 90 numeri differenti?**

- A 27244528
- B 22356421
- C 43949268

1794) **Un parallelepipedo di legno misura 5 x 7 x 9 cm ed è dipinto di blu sulla superficie esterna. Se viene suddiviso in 315 cubetti di un cm di lato ciascuno, quanti di questi avranno almeno una faccia dipinta di blu?**

- A 190
- B 210
- C 126

1795) **In un tamponamento a catena in autostrada sono coinvolte 13 automobili. Quanti sono i paraurti danneggiati?**

- A 26
- B 24
- C 13

1796) **Se BARI = 2 DENTE= 3 GINOCCHIO = 7 PREZZEMOLO =?**

- A 12
- B 6
- C 8

1797) **Completa la seguente successione: "C, A, R, T, ? L, L, ? N, O".**

- A Le lettere che completano la successione sono È e N.
- B Le lettere che completano la successione sono A e I.
- C Le lettere che completano la successione sono E e I.

1798) **Un sinonimo di "costernato" è:**

- A incline.
- B disposto.
- C afflitto.

1799) **Completa la seguente successione: "U, S, P, L,?"**

- A F
- B C
- C E

1800) **Completare correttamente la seguente successione di lettere: C ?;I;N;?;T**

- A F;Q
- B D;M
- C G;P

1801) **Indicare l'elemento da scartare**

- A Ferrara
- B Mantova
- C Rimini

1802) **Quale dei seguenti non è un anagramma del nome di uno stato?**

- A Strofa
- B Armonia
- C Voragine

1803) **Completa la seguente successione: "4,13,22,31, ? , ? "**

- A 40.49
- B 39.49
- C 39.47

1804) **Individuare la riga che contiene il maggiore numero di lettere m.**

- A NNNHGFTYMPNNNMMIUNNNN
- B MMMMMUGFTIUMMMKOM
- C MMMMGHILPNNNNGUMNNN

-
- 1805) Individuare la città da scartare:
A Londra
B Parigi
C Strasburgo
-
- 1806) Data la sequenza ASDFGHDGGHttjppghjkl individuare l'alternativa che la riproduce fedelmente se inserita al posto dei puntini: ASDFGH...ghjkl
A DGGHttjpp
B GHHDGttjpp
C DGHjjHDGpp
-
- 1807) Qual è il numero da inserire nella terza riga? 16 8 4 2 1 2, 48 24 12 6 3 6, 112 56 28 14 7 ?
A 7
B 14
C 3
-
- 1808) Indicare in quale delle seguenti alternative viene rispettata la regola di alternanza "vocaleconsonante".
A ALIXEFOMOROSAZQPID
B ALIXEFOMOROSAZAPID
C ALIXEFOMROS AZQPIDIC
-
- 1809) Quale gruppo alfanumerico è simmetrico come il gruppo MC2P6 (A) 6P2CM?
A YGV1TE5C (A)C5FT1VGY
B YGV1TF5C (A)C5FT1VGY
C YGV1TF5C (A)C5F71VGY
-
- 1810) Se è vero che "solo se faccio del bene sono felice", vuol dire che:
A Se sono felice allora ho fatto del bene
B Se non sono felice non faccio del bene
C Chi fa del bene è più felice di chi non ne fa
-
- 1811) Individuare i termini che completano la seguente proporzione;opportuno : sconveniente = X: Y.
A X = identico;Y = uguale
B X = simile;Y = diverso
C X = conveniente;Y = valido
-
- 1812) Dei 152 clienti di un'enoteca, 94 acquistano vino rosso, 21 acquistano soltanto vino rosato e 12 sia vino rosso che vino bianco. Quanti clienti comprano solo vino bianco?
A 40
B 37
C 33
-
- 1813) Un viaggiatore deve spostarsi da A a B facendo una sola sosta. Percorre la prima parte del viaggio in 2 ore con una velocità media di 70 km/h e la seconda parte del viaggio in 3 ore e 30 minuti con una velocità media di 90 km/h. Quanto dista A da B?
A 475 km
B 455
C 435 km
-
- 1814) Delle 12 sfere di metallo contenute in una scatola 4 hanno una massa di 8 grammi ciascuna e 8 hanno una massa di 11 grammi ciascuna. Qual è la massa media delle sfere?
A 14 grammi
B 13 grammi
C 10 grammi
-
- 1815) Indicare l'elemento da scartare
A Adriatico.
B Atlantico.
C Tirreno.
-
- 1816) Indicare il termine da scartare.
A Lino.
B Seta.
C Cotone.

-
- 1817) **Indicare il termine da scartare.**
A Farro.
B Avena.
C Soia.
-
- 1818) **Indicare il termine da scartare.**
A Bradisismo.
B Futurismo.
C Cubismo.
-
- 1819) **Indicare il termine da scartare:**
A falso.
B veritiero
C mendace.
-
- 1820) **Gaia prenderà un 8 a scuola se e solo se non commetterà errori di distrazione. Se la precedente affermazione è vera allora è certamente vero che:**
A Se Gaia non prenderà 8, vorrà dire che avrà commesso errori di distrazione.
B Se Gaia non commetterà errori di distrazione non prenderà 8.
C Se Gaia commetterà un solo errore di distrazione, allora prenderà 8.
-
- 1821) **Con il contenuto di un serbatoio di acqua Mauro riempie 120 bottiglie da un litro e mezzo. Se usasse bottiglie da due litri, quante gliene occorrerebbero?**
A 80
B 100
C 90
-
- 1822) **Per completare la costruzione di un edificio, utilizzando tutti gli operai che attualmente lavorano nel cantiere, sono necessari 18 giorni. Se ci fossero 2 operai il lavoro verrebbe completato in 12 giorni. L'impresa, tuttavia, anziché fornire altri 2 operai, sottrae le risorser al cantiere e lascia un solo operaio. Quanti giorni impiegherà tale operaio a completare il lavoro, nell'ipotesi in cui tutti abbiano lo stesso ritmo di lavoro?**
A 82
B 42
C 72
-
- 1823) **L'età di Marco è pari ai $\frac{3}{7}$ dell'età di Carla, la quale aveva 31 anni quando è nato il suo primogenito che oggi ha 18 anni. Quanti anni ha Marco?**
A 28
B 21
C 49
-
- 1824) **Se la sequenza è # numero lettera, quale tra le seguenti è corretta?**
A #8V#5F#2H#8G#6V
B #5JY#2K#G85K#D3
C #5S#8DD4#S7#S7
-
- 1825) **Dei 1050 iscritti a un concorso, $\frac{2}{5}$ superano la prima prova. I $\frac{4}{9}$ degli esclusi vengono riammessi in seguito ad un ricorso ed accedono anche loro alla seconda prova. Solo i $\frac{2}{5}$ dei candidati ammessi alla seconda prova accederanno alla prova finale. Quanti candidati accedono alla prova finale?**
A 350
B 280
C 320
-
- 1826) **Quale, tra le seguenti sequenze di lettere, presenta la stringa alfabetica "BVKAMLP"?**
A HASBDKSADNLKSBVKAMLP AJNSL
B SDKBSAKJDAJBDPAJABDMKLWX
C KJSDBJFSDLKFKANDSAJOWEKR
-
- 1827) **Completare la seguente successione di lettere, utilizzando l'alfabeto italiano: ?;T;Q;N;I**
A U
B S
C Z

-
- 1828) **Il professore ha negato di dissentire rispetto alla disapprovazione dell'alunno a non ripetere l'interrogazione. La precedente affermazione equivale a:**
- A L'alunno non potrà ripetere l'interrogazione.
 - B L'alunno potrà ripetere l'interrogazione
 - C Il professore ha negato la ripetizione dell'interrogazione.
-
- 1829) **Individuare la corretta negazione della seguente proposizione: "Qualche sedia non è resistente".**
- A Qualche sedia è resistente.
 - B Tutte le sedie non sono resistenti.
 - C Tutte le sedie sono resistenti.
-
- 1830) **Intervistato da un giornalista, l'onorevole negò di aver ricusato di non autorizzare la diffusione delle sue dichiarazioni. Quale delle seguenti affermazioni è corretta rispetto a quanto enunciato?**
- A L'onorevole non ha autorizzato la diffusione delle sue dichiarazioni.
 - B Il giornalista ha raccolto il consenso dell'onorevole alla diffusione delle sue dichiarazioni.
 - C L'onorevole ha autorizzato la diffusione delle sue dichiarazioni.
-
- 1831) **Individuare la corretta negazione della seguente proposizione: "Almeno un partecipante supera la selezione".**
- A Nessun partecipante supera la selezione.
 - B Almeno un partecipante non supera la selezione.
 - C Qualche partecipante supera la selezione.
-
- 1832) **Tutte le persone determinate sono ambiziose. Teresa è una persona grintosa. Le persone grintose sono ambiziose. In base alle precedenti affermazioni, quale delle seguenti è necessariamente vera?**
- A Teresa è una persona determinata.
 - B Teresa è una persona ambiziosa.
 - C Le persone ambiziose sono determinate.
-
- 1833) **Se $A + B = C$; $C - E = B$, allora:**
- A $B > A$
 - B $A > B$
 - C $E > B$
-
- 1834) **Con 1.432 metri di rete metallica si deve delimitare un confine rettilineo. Dovendo porre i pali di sostegno ogni quattro metri, quanti pali si dovranno acquistare?**
- A 359
 - B 350
 - C 355
-
- 1835) **Quale delle seguenti parole non ha lo stesso significato delle altre?**
- A Impenetrabile
 - B Inviolabile
 - C Espugnabile
-
- 1836) **1844 Il contrario di "conciso" è:**
- A Preciso
 - B Prolisso
 - C Conciliante
-
- 1837) **Quale delle seguenti parole è sinonimo di "dileggio"?**
- A Elogio
 - B Derisione
 - C Privilegio
-
- 1838) **Quale delle seguenti parole non ha lo stesso significato delle altre?**
- A Tracotanza
 - B Arroganza
 - C Debolezza
-
- 1839) **Quale delle seguenti parole è sinonimo di "assurdo"?**
- A Demotivato
 - B Spaventoso
 - C Illogico

-
- 1840) **Prologo è sinonimo di:**
A conclusione
B esordio
C riepilogo
-
- 1841) **Blandizie è sinonimo di:**
A adulazione
B critica
C leggerezza
-
- 1842) **Contumace significa:**
A sagace
B irreperibile
C tenace
-
- 1843) **Il termine "glottologia" è sinonimo di:**
A filosofia
B religione
C linguistica
-
- 1844) **Temperanza ha significato affine a:**
A astuzia
B ingegno
C moderazione
-
- 1845) **Quali tra i termini proposti completano correttamente la seguente proporzione? Miele : X = latte : Y**
A X = cera;Y = burro
B X = candela;Y = formaggio
C X = ape;Y = mucca.
-
- 1846) **L'espressione «annegare in un bicchier d'acqua» definisce una persona che:**
A è sempre sospettosa e non si fida mai dei propri collaboratori e dei propri amici.
B non manifesta in alcun modo le proprie convinzioni.
C si smarrisce facilmente nell'affrontare problemi di facile risoluzione.
-
- 1847) **Completare la seguente successione: "BCD, UVZ, FGH, DEF, ILM, ?, ?, QRS"**
A QSR, PON
B NOP, RST
C FEN, BCD
-
- 1848) **Quali, tra i termini proposti, completano correttamente la seguente proporzione verbale? Esperto : esperienza = X : Y**
A X = abilità;Y = incapacità
B X = inetto Y = inettitudine
C X = attitudine;Y = impresa
-
- 1849) **Completare correttamente la seguente successione di numeri: 1;2;2;4;8;32;?**
A 106
B 84
C 256
-
- 1850) **Tutti gli Italiani sono amanti della buon tavola. Nessun amante della buona tavola è un maleducato
Quindi:**
A tutti gli amanti della buona tavola sono italiani.
B qualche maleducato è italiano.
C nessun maleducato è italiano.
-
- 1851) **Quale tra i termini proposti completa correttamente la proporzione "Betulla : albero = gramigna : X"**
A X = fiore
B X = erba
C X = frutto
-
- 1852) **Nicola è astemio. Chi è magro è astemio. Marco è magro. Se le tre premesse sono vere, quale delle seguenti affermazioni ne consegue?**

- A Chi è astemio è magro.
- B Marco è astemio
- C Nicola è magro.

1853) Quali tra i termini proposti completano correttamente la seguente proporzione? Esecrabile : X = deplorable : Y

- A X = antico; Y = moderno
- B X = vetusto; Y = antiquato
- C X = razionale; Y = incoerente

1854) Non è errato non negare la non-esistenza del destino. Quale tra le seguenti proposizioni ha significato equivalente alla precedente?

- A è corretto negare l'esistenza del destino
- B Il destino esiste
- C è corretto affermare l'esistenza del destino

1855) Silvia è sincera. Tutte le insegnanti sono sincere. Tutte le persone sincere sono oneste. Se le precedenti affermazioni sono vere, quale delle seguenti è necessariamente vera?

- A Silvia è onesta.
- B Silvia è un'insegnante.
- C Tutte le persone oneste sono sincere.

1856) La locuzione "Fare il doppio gioco" sta a "ingannare" come "mettere la pulce nell'orecchio" sta a:

- A insospettare
- B interagire
- C interrompere

1857) Indicare quale delle quattro serie di lettere è identica alla seguente: SSSBSSSBBBBB

- A SSSBSSSBBBBB
- B SSSSSSSBBBBB
- C SSSBSSSBBBBB

1858) Individuare la stringa alfanumerica che contiene la lettera P preceduta da un numero dispari.

- A BNNF6715PN7M9F34V1C11TB76B8
- B 455TGFFFD68JMV1XZ25JMU89D
- C OK8J6TG3NM9C23B56CFDIJMVR5

1859) Quale diagramma rappresenta l'insieme CITTADINI EUROPEI, ABITANTI DI ROMA, CITTADINI ITALIANI?

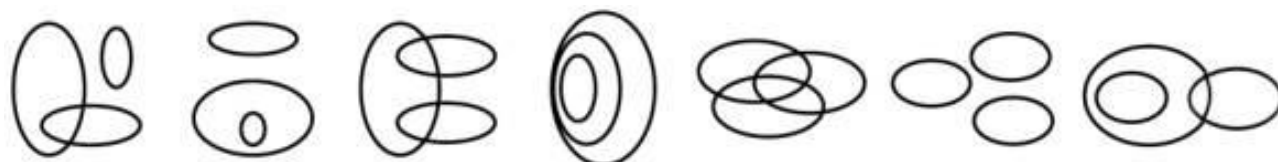


DIAGRAMMA 1 DIAGRAMMA 2 DIAGRAMMA 3 DIAGRAMMA 4 DIAGRAMMA 5 DIAGRAMMA 6 DIAGRAMMA 7

- A diagramma 4
- B diagramma 6
- C diagramma 2

1860) Se in un gruppo di 40 persone 16 sono maggiorenni, qual è la percentuale di minorenni nel gruppo?

- A 0.8
- B 0.6
- C 0.3

1861) Tutte le persone lungimiranti sono tenaci. Tutte le persone lungimiranti sono generose. Individuare il corretto completamento del sillogismo.

- A Tutte le persone lungimiranti sono tenaci.
- B Tutte le persone tenaci sono lungimiranti.
- C Tutte le persone tenaci sono generose.

1862) Individuare la successione numerica corrisponde alla seguente: ""21711217712"". ""

- A 21771211712
- B 21711217712
- C 21712217712

-
- 1863) Individuare la successione di numeri che presenta una simmetria rispetto allo 0.
- A 321789 (0) 938721
 - B 321789 (0) 987123
 - C 321789 (0) 982137
-
- 1864) Quale risultato si ottiene sottraendo da 2588 il numero 2324
- A 264
 - B 282
 - C 864
-
- 1865) Completare correttamente la seguente successione, utilizzando l'alfabeto italiano:
D;115;F;97;H;79;?;61;N;?
- A L;43
 - B L;45
 - C L;41
-
- 1866) Completare correttamente la seguente successione: 13;21;10;26;7;31;4;36;?;?
- A 1;41
 - B 40;1
 - C 1;39
-
- 1867) Balena: oceano = X : Y
- A X = lago;Y = mare
 - B X = trota;Y = torrente
 - C X = cetaceo;Y = mammifero
-
- 1868) Due colleghi che viaggiano per lavoro si incontrano a Milano il 21 marzo. Il primo passa per la città ogni 24 giorni, il secondo ogni 30. In quale data i due si incontreranno di nuovo.
- A 19 Luglio
 - B 21 Giugno
 - C 24 Maggio
-
- 1869) "Chi legge ogni giorno i quotidiani e utilizza spesso internet è una persona informata;le influencer utilizzano spesso internet;Carlotta è una influencer". Se le precedenti affermazioni sono corrette, quale delle seguenti NON è necessariamente vera?
- A Le influencers sono informate.
 - B Non esistono persone disinformate che leggano un quotidiano al giorno.
 - C Chi è informato utilizza spesso internet.
-
- 1870) Calcolare la media dei seguenti numeri: 12, 15, 22, 28, 8.
- A 21
 - B 17
 - C 19
-
- 1871) Completare correttamente la seguente successione di lettere: N;L;?;F;D;B
- A L
 - B M
 - C H
-
- 1872) Completare correttamente la seguente successione numerica: 12;21;19;17;26;13;?;?
- A 33;9
 - B 22;20
 - C 9;32
-
- 1873) Consideriamo inoltre una gran cosa l'indipendenza dai bisogni, non perché ci si debba accontentare del, ma per anche di questo poco se ci capita di non avere molto, convinti come siamo che l'abbondanza si gode con più dolcezza se meno da essa dipendiamo. In fondo ciò che veramente serve non è difficile da trovare;l'inutile è invece difficile. I sapori semplici danno lo stesso piacere dei più raffinati, l'acqua e un pezzo di fanno il piacere più pieno a chi ne manca. (Epicuro)
Indicare quale dei gruppi di parole integra, nell'ordine, le parole omesse nel testo.
- A poco/godere/pane.
 - B sempre/soffrire/pane.
 - C nulla/godere/vita.

-
- 1874) **Indicare il numero che manca tra parentesi: 72 (122) 172 82 (?) 212**
A 147
B 194
C 209
-
- 1875) **È stato dimostrato che l'elevato numero di studenti che abbandonano gli studi è in parte determinato dall'assenza di un sistema di programmazione del numero degli iscritti nelle università, che è dunque una delle principali cause della disoccupazione giovanile". Qual è la premessa implicita della precedente affermazione? precedente si basa sulla:"**
A I giovani che abbandonano gli studi hanno più probabilità di rimanere disoccupati.
B I giovani che concludono gli studi trovano sempre lavoro gli studenti.
C La programmazione del numero degli iscritti nelle università risolverebbe il problema della disoccupazione giovanile.
-
- 1876) **Se i 2/3 di una piscina vengono riempiti in 20 minuti, quanto occorrerà per riempirla completamente?**
A 39 minuti.
B 30 minuti.
C 56 minuti.
-
- 1877) **Se la Juventus ha vinto contro l'Inter, è certamente vero che:**
A l'Inter non ha segnato neppure una rete
B ha segnato almeno una rete
C ha segnato solamente una rete
-
- 1878) **Sostituendo ad ogni lettera una cifra in modo che il risultato della moltiplicazione sia esatto. "A7 x 1B = 17CD", quanto vale la più bassa delle cifre inserite?**
A 3
B 5
C 4
-
- 1879) **Se MURO = 12;PONTE = 15;STRADA = 18;AUTOSTRADA = ?**
A 24
B 30
C 45
-
- 1880) **Un nastro della lunghezza di 56 cm viene tagliato in due parti proporzionali ai numeri 2 e 5. Quanto misura la parte più lunga?**
A 30 cm
B 40 cm
C 28 cm
-
- 1881) **Se è vero che "tutti gli intellettuali sono interlocutori noiosi", sarà necessariamente vera anche una delle seguenti affermazioni:**
A nessun interlocutore noioso è intellettuale.
B tutte le persone noiose sono intellettuali.
C alcuni interlocutori noiosi sono intellettuali.
-
- 1882) **Quale delle seguenti alternative contiene una lettera ripetuta esattamente sei volte?**
A JVCRVVJJVCJHNEX
B JHZZHSZSSHRZNX
C XXGRRXGRRXRRXG
-
- 1883) **Completare correttamente la seguente successione di lettere: N;L;?;F;D;B**
A L
B H
C M
-
- 1884) **Solo se la rappresentazione teatrale è in atto, gli spettatori non tengono acceso il cellulare. In base alla precedente affermazione, non è necessariamente vero che:**
A Se gli spettatori tengono spento il cellulare significa che la rappresentazione teatrale non è in atto.
B Se la rappresentazione teatrale non è in atto, gli spettatori tengono acceso il cellulare
C Non è sufficiente che la rappresentazione teatrale sia in atto perché gli spettatori tengano spento il cellulare

-
- 1885) Completare correttamente la seguente successione numerica: 29;87;75;225;213;639;?;?
A 627;1.881
B 1.881;626
C 627;1.883
-
- 1886) Da un'urna contenente 15 palline numerate da 1 a 15 viene estratta, a occhi bendati, una pallina. Supponendo che tutte le palline abbiano le stesse probabilità di essere estratte, qual è la probabilità che esca un numero maggiore di 7?
A $\frac{1}{3}$
B $\frac{8}{15}$
C $\frac{1}{4}$
-
- 1887) Completare correttamente la seguente successione numerica: T, 2, R, 4, P, 16, ?, ?, L
A N, 256
B M, 124
C | Q, 32
-
- 1888) Se l'affermazione "tutti i marinai sono persone colte" è FALSA, quale delle seguenti proposizioni è necessariamente vera?
A Almeno un marinaio è colto.
B Nessun marinaio è una persona colta.
C Almeno un marinaio non è una persona colta.
-
- 1889) Completare correttamente la seguente successione di lettere: A;D;A;C;F;C;?;?
A H;N
B E;H
C F;C
-
- 1890) Quale delle seguenti alternative contiene una lettera ripetuta esattamente cinque volte?
A MTQQQTMTTMMQ
B YWLPPLWLWRLD
C TTYVTVVTVVYT
-
- 1891) Completare correttamente la successione seguente: 58;29;30;15;?;?
A 16;8
B 17;8
C 8;15
-
- 1892) La media aritmetica tra i numeri 36 e 64 ..
A 40
B 50
C 25
-
- 1893) Su una nave da crociera sono imbarcate 400 persone di cui 160 sono donne. Qual è la percentuale di uomini?
A 0.6
B 0.3
C 40
-
- 1894) Chi lavora meno spende di più. Gli abitanti di Borgo di Sopra spendono di più. Gli abitanti di Borgo di Sotto spendono di meno. Individuare la conclusione corretta.
A È possibile che vi sia un abitante di Borgo di Sotto che lavora meno.
B È possibile che vi sia un abitante di Borgo di Sopra che lavora meno.
C È certo che vi sia almeno un abitante di Borgo di Sopra che lavora meno.
-
- 1895) Il dottor Rossi arriva in ufficio sempre puntuale alle ore 9. Ogni giorno esce da casa alle 8.45 e si incammina verso il posto di lavoro mantenendo la velocità costante di 5 km/h. Oggi, purtroppo, a causa di un contrattempo, esce di casa alle 8.50. Quale velocità deve mantenere il dottor Rossi per poter arrivare in ufficio alle 9?
A $\frac{25}{3}$ km/h
B 6 km/h
C 7,5 km/h
-
- 1896) Individuare l'abbinamento errato.

- A Ippocrate - medicina
- B Freud - psicanalisi
- C Galileo - botanica

1897) Completare la seguente successione numerica: 46;90;78;36;?;?;26;70

- A 80;68
- B 80;72
- C 42;78

1898) Ha significato contrario di "concentrazione":

- A concentramento.
- B distrazione.
- C concertazione.

1899) Completare la seguente successione numerica: 0;-1;- 3;-7;?

- A 1
- B -11
- C -15

1900) Non tutti i sociologi escludono il fatto che Internet abbia evitato un calo dell'occupazione. Basandosi sulla precedente affermazione, individuare quale delle seguenti alternative è esatta.

- A Almeno un sociologo ritiene possibile che Internet abbia evitato un calo dell'occupazione.
- B Internet è un fattore che contribuisce a evitare il calo dell'occupazione.
- C Secondo alcuni sociologi l'occupazione è calata nonostante Internet.

1901) Non è inopportuno non smentire che l'indifferenza non sia difforme dall'egoismo. La precedente affermazione equivale a:

- A Indifferenza ed egoismo sono conformi.
- B L'indifferenza e l'egoismo non sono simili.
- C è sbagliato dire che l'indifferenza ed egoismo sono conformi-

1902) Individuare la corretta negazione della seguente proposizione: "Qualche studente non ama la matematica".

- A Nessuno studente non ama la matematica.
- B Nessuno studente ama la matematica.
- C Tutti gli studenti amano la matematica.

1903) Solo se c'è corrente allora la stampante funziona. Se la precedente affermazione è vera, allora è possibile dedurre che:

- A Se la stampante funziona, allora c'è corrente.
- B Non è necessario che ci sia corrente perché la stampante funzioni.
- C Se la stampante non funziona, allora non c'è corrente.

1904) Individuare il diagramma che soddisfa la relazione insiemistica esistente tra i termini dati: SPETTACOLI, ATTORI, COMMEDIE TEATRALI.

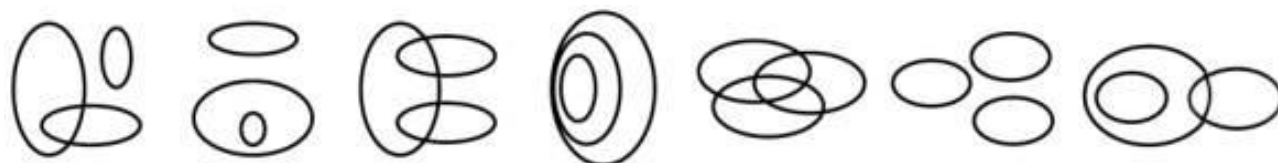


DIAGRAMMA 1 DIAGRAMMA 2 DIAGRAMMA 3 DIAGRAMMA 4 DIAGRAMMA 5 DIAGRAMMA 6 DIAGRAMMA 7

- A Diagramma 4
- B Diagramma 3
- C Diagramma 2

1905) Indicare in quale delle seguenti alternative il gruppo di lettere JK è presente un numero maggiore di volte.

- A FTJKEJKETJKTKJET
- B TEETTJKKEEFETETEF
- C TJTEKTETTETEKEJF

1906) Indicare il termine che non è sinonimo degli altri.

- A Plasmare.
- B Conservare
- C Modellare.

1907) **Le persone che amano il teatro sono spiritose. Gigi è una persona spiritosa. Quale delle seguenti affermazioni aggiuntive consente di dedurre con certezza che Gigi ama il teatro?**

- A Tutte le persone spiritose amano il teatro.
- B Non è certo che tutte le persone spiritose amino il teatro.
- C Alcune persone spiritose amano il teatro.

1908) **Individuare l'alternativa che riporta una successione di elementi identica alla sequenza WWXWWWXXWXWXX.**

- A WWXWWWXXXWXWXX
- B WXXWWWXXWXWXX
- C WWXWWWXXWXWXX

1909) **Un treno, che viaggia a velocità costante, percorre 30 km in mezz'ora. In quanto tempo percorrerà 210 km?**

- A 7 ore
- B 3 ore e mezza
- C 5 ore e mezza

1910) **Marco ama i dolci;chi è magro non ama i dolci;chi è attivo è magro. Se le precedenti affermazioni sono vere, allora è certamente FALSO che:**

- A le persone che amano i dolci non sono magre
- B non tutte le persone magre sono attive
- C Marco è attivo.

1911) **Completare la seguente successione numerica: 86;49;79;45;72;41;65;?;?**

- A 58;38
- B 38;57
- C 37;58

1912) **Solo se termina la siccità in inverno, si avranno buoni raccolti in primavera. Se si hanno buoni raccolti in primavera, in Maggio i prezzi dei prodotti agricoli non aumenteranno e l'inflazione non crescerà. Un'indagine statistica ha rilevato un aumento dell'inflazione nel mese di Maggio. Quale tra le seguenti affermazioni può essere dedotta dalle proposizioni precedenti?**

- A L'inverno è stato molto piovoso.
- B I raccolti in primavera non sono stati buoni.
- C In Maggio i prezzi dei prodotti agricoli sono aumentati.

1913) **Completare correttamente la seguente successione: 11;O;13;M;12;I;14;G;13;E;?;?**

- A 15;C
- B C;12
- C 12;D

1914) **Antonia è nata il 2 marzo di un anno che aveva 53 sabati e 53 domeniche. In quale giorno della settimana è nata Antonia?**

- A venerdì.
- B giovedì.
- C lunedì.

1915) **Completare la seguente successione: "L, 7, ? 10, R,13, U".**

- A 17
- B O
- C 16

1916) **Quale dei seguenti non è un anagramma del nome di un albero?**

- A Binate
- B Modnalor
- C Beate

1917) **Completare la seguente successione numerica: "85, 427, 292, 76, 553,328,?"**

- A 39
- B 67
- C 87

-
- 1918) Completare la seguente successione numerica: "23 ? 56? 89? 1112 ? 1415 ? ?"
A 1817
B 1781
C 1718
-
- 1919) Completare la seguente successione : " ? 34,53, 65, 84, 96, 115"
A 17
B 19
C 22
-
- 1920) Completare la seguente successione numerica: "1, 20, 21, 41, 62, ?"
A 103
B 80
C 111
-
- 1921) Completare la seguente successione numerica: " 44, ? 34, 29"
A 43
B 41
C 39
-
- 1922) Completare la seguente successione numerica "22-33-44?"
A 132
B 165
C 144
-
- 1923) Completare la seguente successione numerica "2-7-12-? 22-27 "
A 15
B 16
C 17
-
- 1924) Completare la seguente successione numerica: "6-12-18- ?30-36"
A 26
B 24
C 22
-
- 1925) Completare la seguente successione numerica: "63, 9,7,-72,18,4-90,5,?"
A 18
B 20
C 22
-
- 1926) Qual è il numero il cui quadrato diviso a metà è uguale a 50?
A 10
B 7
C 20
-
- 1927) Quali tra i numeri proposti completa correttamente la proporzione "tappo sta a toppa: come 32664 sta a X ?"
A $X = 32466$
B $X = 36642$
C $X = 34662$
-
- 1928) Le temperature medie registrate in una località montana nel mese di gennaio sono state: $-4^{\circ}\text{C}; -8^{\circ}\text{C}; 0^{\circ}\text{C}; -10^{\circ}\text{C}; -4^{\circ}\text{C}; 2^{\circ}\text{C}$. Qual è la media delle temperature registrate nel mese di gennaio?
A -2°C
B 0°C
C -4°C
-
- 1929) Se per preparare una torta di 500 grammi sono necessari 100 gr di burro, quanti ce ne vorranno per una torta di 900 grammi?
A 200
B 90
C 180
-
- 1930) Quanti sono gli anagrammi possibili della parola "nonno"?

- A 10
- B 24
- C 13

1931) Se CONO = 2; PRISMA = 4 PIRAMIDE = 7 CUBO =?

- A 2
- B 12
- C 6

1932) Completare la seguente successione di lettere: "C, A, R, T, ? L, L, ? N, O".

- A E;I
- B A;I
- C E;N

1933) Completare la seguente successione di lettere: "U,S,P,L,?"

- A E
- B C
- C F

1934) Gaia prenderà un bel voto a scuola se e solo se non commetterà errori di distrazione. Se la precedente affermazione è vera allora è certamente vero che:

- A Se Gaia non commetterà errori di distrazione non prenderà un bel voto.
- B Se Gaia commetterà un solo errore di distrazione, allora prenderà un bel voto.
- C Se Gaia non prenderà un bel voto, vorrà dire che avrà commesso errori di distrazione.

1935) L'affermazione "ogni uomo sposato non è allegro" è logicamente equivalente a:

- A tutti gli uomini non sposati sono allegri
- B non esistono uomini allegri e sposati
- C ogni uomo non allegro è sposato

1936) Individuare il diagramma che soddisfa la relazione insiemistica esistente tra i termini dati: ALIMENTI, LATTICINI, MOZZARELLA



DIAGRAMMA 1 DIAGRAMMA 2 DIAGRAMMA 3 DIAGRAMMA 4 DIAGRAMMA 5 DIAGRAMMA 6 DIAGRAMMA 7

- A Diagramma 5
- B Diagramma 2
- C Diagramma 4

1937) Solo se il gatto dorme, la farfalla si posa sul fiore. In base alla precedente affermazione, è necessariamente vero che:

- A è possibile che la farfalla si posi sul fiore anche se il ragno non dorme.
- B se il gatto dorme, sicuramente la farfalla si posa sul fiore.
- C se il gatto non dorme, la farfalla non si posa sul fiore.

1938) Quale dei seguenti è l'anagramma del nome di una città italiana?

- A Malone
- B Ortoni
- C Nalupi

1939) Completare la seguente successione: "4,13,22,31, ? , ? "

- A 39.47
- B 39.49
- C 40.49

1940) Quale, tra le seguenti sequenze di lettere, presenta più volte la stringa alfanumerica "ggm3"?

- A 3ggm3nnggm3nnggm3ggm3
- B ggm3 noggm3gg ggnnm3
- C ggm3mgggn3ggmn333gg

-
- 1941) **Quale tra le seguenti sequenze di lettere, presenta più volte la stringa alfabetica "lino"?**
A blmillnollnmollnmbo
B clnollncolllmnolllvolno
C lnopllnopllnmnollnolno
-
- 1942) **Individuare la riga che contiene il maggior numero di P:**
A Qqqbnb PPCBNPRQqLNO
B Tttqw PPmNQPPRtPpFGL
C PPQPPQmopPppPPP
-
- 1943) **Individuare la riga che contiene il maggior numero di F:**
A EEGWUOOFBNKLFOPRTE
B FHHHQRLLMGJLFEEEF
C RREEFFFFJKFNRTIOOFF
-
- 1944) **Quale riga contiene più volte la stringa alfabetica "aggl"?**
A ggaagggfvaggglagglghagh
B agglmnmnhgfcuiagglaggl
C agglbvctagglagglagglghjg
-
- 1945) **Indicare in quale delle seguenti alternative la lettera P è presente il maggiore numero di volte.**
A PBCPBPPPPJBBJQP
B PCBPJPBPBPPPPQP
C PPJPPBPPPPJPPPB
-
- 1946) **Individuare i termini che completano correttamente la seguente proporzione: convergere : X = discernere : Y**
A X = discordare; Y = comprendere
B X = concorrere; Y = distinguere
C X = convenire; Y = derivare
-
- 1947) **In base all'informazione "tutti i saldi di fine stagione estiva sono molto convenienti", quale delle seguenti affermazioni è necessariamente vera?**
A Non esistono saldi di fine stagione estiva non convenienti.
B saldi di fine stagione estiva sono più convenienti di quelli di fine stagione invernale.
C È impossibile negare che esista almeno un saldo di fine stagione estiva poco conveniente.
-
- 1948) **È sinonimo di icona:**
A computer
B immagine
C descrizione
-
- 1949) **L'anagramma della parola "sparo" è:**
A aspro
B spero
C sparuto
-
- 1950) **Se l'affermazione tutte le navi inglesi hanno le vele è FALSA, quale delle seguenti proposizioni è necessariamente vera?**
A Almeno una nave inglese non ha le vele.
B Almeno una nave inglese ha le vele.
C Nessuna nave inglese ha le vele.
-
- 1951) **Completare la seguente proporzione: X : digiunare = lavoro : Y**
A X = digerire; Y = impiego
B X = mangiare; X = ozio
C X = astensione; Y = sciopero
-
- 1952) **Indicare i termini che completano correttamente la seguente proporzione: introverso : X = estroverso: Y**
A X = razionale; Y = incoerente
B X = adulto; Y = giovane
C X = chiuso; Y = aperto
-
- 1953) **Completare la seguente analogia: X : flotta = alunno : Y.**

- A X = onda;Y = maestro
B X = militare;Y = scolaresca
C X = nave;Y = classe

1954) **Quale tra i termini proposti completa correttamente la seguente proporzione? Brillante : X = Y : encomiastico**

- A X = luminoso;Y = brioso
B X = noioso;Y = spregiativo
C X = lodevole;Y = ammirevole

1955) **Indicare i termini completano correttamente la seguente proporzione: Cuoco : pentola = X : Y.**

- A X = cucina;Y = ricetta
B X = infermiere;Y = siringa
C X = cacciavite;Y = vite

1956) **Individuare il termine da scartare:**

- A decadentismo
B egoismo
C romanticismo

1957) **Individuare il termine da scartare:**

- A oro
B ferro
C diamante

1958) **Indicare in quale delle seguenti alternative è presente 3 volte il gruppo di lettere "QWEK".**

- A VGYTFCXDREFFVQWEKUHY
B VGYTQWEKXDREVVGDQWEKUHY
C VGQWEKXQWEKVGFFMKQWEK

1959) **Completare la sequenza numerica: 2, 3 ,5 ,9, 17, 33 ?**

- A 65
B 67
C 76

1960) **Indicare la lettera che continua la sequenza A B D E G H ?**

- A P
B L
C N

1961) **Qual è la diminuzione percentuale Se il fatturato annuo di una società è sceso da euro 450.000 euro a euro 360.000 la diminuzione in percentuale è:**

- A del 30%
B del 25%
C del 20%

1962) **Quali, tra i termini proposti, completano correttamente la seguente proporzione verbale?Idoneo : abile = X : Y**

- A X = geniale Y = inefficiente
B X = calmo;Y = impulsivo
C X = capace;Y = esperto

1963) **Completare la seguente proporzione verbale: Epidemia : virus = X : Y**

- A X = incendio;Y = scintilla
B X = contagio;Y = guarigione
C X = pompiere;Y = vaccino

1964) **Negare che a tutti i lettori di gialli piacciono sia i noir italiani sia quelli statunitensi significa affermare che:**

- A ad almeno un lettore di gialli non piacciono o i noir italiani o quelli statunitensi
B ad almeno un lettore di gialli piacciono sia i noir italiani sia quelli statunitensi
C ad almeno un lettore di gialli non piacciono né i noir italiani né quelli statunitensi

1965) **Il termine "arzigogolo" è sinonimo di:**

- A orpello
- B discorso
- C cavillo

1966) **Quale verbo ha significato simile ad "aizzare"?**

- A Scoraggiare
- B Strillare
- C Fomentare

1967) **L'opposto di "dicotomico" è:**

- A bipartito
- B ramificato
- C convergente

1968) **Il termine "bonomia" è sinonimo di:**

- A vanagloria
- B stupidità
- C mitezza

1969) **Completare la seguente serie numerica: 2, 5, 15, 18, 54, ?, 171**

- A 85
- B 57
- C 79

1970) **Completare correttamente la proporzione: ampio : angusto = X : Y.**

- A X = grosso Y = grande
- B X = bianco Y = rosso
- C X = basso Y = alto

1971) **Inserire i termini mancanti della proporzione: X : ortopedico = vista : Y**

- A X = infermiere Y = insegnante
- B X = ossa Y = oculista
- C X = psichiatra Y = trapano

1972) **Completare la seguente serie numerica: 1, 3, 8, 19, 32, 51 _____**

- A 76
- B 74
- C 55

1973) **Indicare in quale delle seguenti alternative viene rispettata la regola di alternanza "vocale-consonante".**

- A UPOFABELPUFABEL
- B UPOFABELEFABELUFABEL
- C UPOFABELEUFABEL

1974) **Quale delle seguenti argomentazioni si basa su un ragionamento induttivo?**

- A Tutti i pazienti affetti da demenza senile presentano un deficit di memoria. Quindi il deficit di memoria è necessariamente presente nella demenza senile.
- B Tutti i pazienti affetti da demenza senile hanno un deficit di memoria. Enrico non ha un deficit di memoria. Quindi Enrico non è affetto da demenza senile.
- C Tutti quelli che tradiscono sono infedeli, anche se a volte non possono evitarlo. Gianni tradisce spesso. Quindi Gianni è infedele.

1975) **Affermando che "nessun cammello ha tre zampe", se ne deduce che:**

- A almeno un cammello ha un numero di zampe diverso da tre
- B tutti i cammelli hanno tre zampe
- C tutti i cammelli hanno un numero di zampe diverso da tre

1976) **Qual è la percentuale di pendenza di una salita lunga 4 km con un dislivello totale di 150 metri?**

- A 0.05
- B 0.0375
- C 0.0425

1977) **La ricetta per la preparazione di 12 muffin richiede 240 grammi di farina. Se Luigi decide di prepararne solo otto, di quanti grammi di farina ha bisogno?**

- A 180
- B 160
- C 220

-
- 1978) Individuare il termine che è contrario di "esperto".
- A abile
 - B incapace
 - C efficiente
-
- 1979) Indicare la sillaba che, preposta ai gruppi di lettere -RA e -DANO, attribuisce a entrambe un significato compiuto:
- A mo
 - B ta
 - C se
-
- 1980) Se "quando Mario è nervoso, fuma sigari cubani" allora è anche vero che
- A se Mario fuma un sigaro significa che è nervoso.
 - B Mario fuma solo sigari cubani.
 - C se Mario non fuma un sigaro cubano significa che non è nervoso
-
- 1981) Il termine "deontologia" significa:
- A etica professionale
 - B la parte della filosofia che studia l'essere
 - C rispetto della morale cattolica
-
- 1982) Individuare i termini che completano la proporzione: Piemonte : Toscana = X : Y
- A X= Langhe; Y= Versilia
 - B X= Cilento; Y= Monferrato
 - C X= Polesine; Y= Salento
-
- 1983) Individuare il vocabolo con significato contrario di "dissidente":
- A concorde
 - B trasparente
 - C oppositore
-
- 1984) Il significato di "aleatorio" è:
- A Irrealizzabile
 - B Incerto
 - C Alato
-
- 1985) Quale tra le coppie di termini proposti completa logicamente la seguente proporzione verbale: x : serenità = conciliazione : y
- A x = boria y = cruccio
 - B x = oblio y = intesa
 - C x = inquietudine y = diverbio
-
- 1986) La comunicazione _____ permette di trasmettere dati in tempo reale, a notevoli _____ e in grande quantità
- A telefonica, numeri
 - B telematica, distanze
 - C istituzionale, suoni
-
- 1987) «Il fenomeno della _____ ha determinato il problema del/della _____ di centinaia di lavoratori, sostituiti dalle macchine»
- A malattia- globalizzazione
 - B disoccupazione - istruzione
 - C automatizzazione - disoccupazione
-
- 1988) Indicare il numero che completa la serie: 48 24 72 36 108 56 ?
- A 128
 - B 192
 - C 168
-
- 1989) Unsinonimo di "pusillanime" di è:

- A invadente
- B irrisolto
- C indiscreto

1990) Quali, tra i termini proposti, completano correttamente la seguente proporzione verbale? Rilevare :
X = impregnare : Y

- A X = minimizzare; Y = inzuppare
- B X = riscontrare; Y = intridere
- C X = liberare; Y = riempire

1991) Non è sbagliato evitare di rinunciare a non violare la legge pur non avendo dubbi sull'impossibilità di essere colti in flagrante. Qual è il corretto significato della precedente affermazione?

- A Si può violare la legge solo quando si è sicuri di non essere colti in flagrante.
- B In ogni caso non si deve violare la legge.
- C Si può scegliere se violare o meno la legge, a seconda della probabilità di essere colti in flagrante.

1992) Se: $X + X + Y = 9Y$, $Z = 5Y$, $X = 20$. allora Z è uguale a:

- A -10
- B 5
- C -10

1993) Individuare il diagramma che soddisfa la relazione insiemistica esistente tra i termini dati: RONDINI, ESSERI VIVENTI, UCCELLI INSERIRE DIAGRAMMA

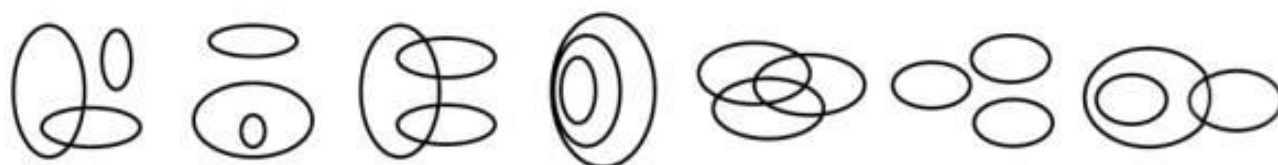


DIAGRAMMA 1 DIAGRAMMA 2 DIAGRAMMA 3 DIAGRAMMA 4 DIAGRAMMA 5 DIAGRAMMA 6 DIAGRAMMA 7

- A Diagramma 3
- B Diagramma 2
- C Diagramma 4

1994) Se il leone è un animale predatore e molti degli animali predatori cacciano con la tecnica della mimetizzazione:

- A Il leone certamente caccia con la tecnica della mimetizzazione.
- B non è possibile dire con certezza se il leone cacci le proprie prede con la tecnica della mimetizzazione.
- C tutti gli animali predatori cacciano solo con la tecnica della mimetizzazione.

1995) Una persona è "illuminata" quando:

- A è oscura e confusa.
- B è saggia e sapiente.
- C ha delle visioni.

1996) Accortezza sta a "avvedutezza" come stoltezza sta a:

- A perspicacia.
- B dissennatezza.
- C intuito.

1997) Il custode di un museo lavora 4 giorni consecutivi e si riposa il quinto. Se oggi il guardiano ha la giornata di riposo ed è lunedì, tra quanti giorni lavorativi riposerà nuovamente di lunedì?

- A 30
- B 28
- C 25

1998) Completare correttamente la seguente successione numerica: 11;20;18;?;25;12;?;8

- A 16;32
- B 27;8
- C 32;8

1999) È da escludere l'ipotesi secondo cui l'ottima conservazione del manoscritto non debba essere attribuita alla perizia dei restauratori. Basandosi sulla precedente affermazione, individuare quale delle seguenti alternative è esatta.

- A L'ottima conservazione del manoscritto non deve essere attribuita alla perizia dei restauratori
- B L'ottima conservazione del manoscritto deve essere attribuita alla perizia dei restauratori
- C Il manoscritto si è ben conservato senza intervento dei restauratori

2000) **Completare correttamente la seguente successione, utilizzando l'alfabeto italiano:**
B;19;C;17;E;16;F;14;?;?

- A H;7
 - B H;13
 - C G;22
-

CAPACITA' LOGICO-DEDUTTIVA E RAGIONAMENTO LOGICO MATEMATICO

RISPOSTE CORRETTE

1 A	2 A	3 A	4 A	5 C
6 A	7 C	8 C	9 C	10 B
11 A	12 C	13 B	14 C	15 C
16 A	17 C	18 C	19 C	20 C
21 C	22 B	23 A	24 A	25 A
26 C	27 C	28 A	29 C	30 B
31 B	32 B	33 C	34 B	35 C
36 C	37 B	38 A	39 B	40 A
41 A	42 A	43 A	44 C	45 A
46 C	47 B	48 A	49 B	50 A
51 A	52 C	53 B	54 C	55 A
56 A	57 A	58 A	59 C	60 B
61 C	62 B	63 C	64 B	65 B
66 C	67 C	68 B	69 B	70 C
71 B	72 A	73 C	74 A	75 A
76 A	77 A	78 A	79 B	80 B
81 A	82 A	83 C	84 C	85 C
86 A	87 C	88 C	89 C	90 A
91 C	92 A	93 A	94 B	95 A
96 A	97 B	98 C	99 C	100 C
101 C	102 C	103 C	104 A	105 D
106 C	107 A	108 A	109 B	110 C
111 C	112 C	113 A	114 A	115 C
116 C	117 C	118 B	119 B	120 A
121 A	122 C	123 A	124 A	125 C
126 A	127 C	128 A	129 C	130 B
131 C	132 C	133 B	134 C	135 C
136 B	137 C	138 C	139 A	140 C
141 A	142 B	143 B	144 C	145 C
146 C	147 A	148 B	149 C	150 A
151 A	152 B	153 C	154 C	155 A
156 B	157 A	158 A	159 C	160 C
161 A	162 A	163 B	164 B	165 A
166 A	167 B	168 C	169 A	170 C
171 B	172 C	173 B	174 C	175 B
176 A	177 B	178 A	179 B	180 C
181 B	182 B	183 B	184 B	185 B
186 C	187 B	188 B	189 B	190 A
191 C	192 B	193 C	194 B	195 A
196 B	197 C	198 A	199 A	200 B
201 B	202 B	203 A	204 B	205 C
206 C	207 C	208 C	209 C	210 A
211 C	212 B	213 B	214 C	215 A
216 C	217 B	218 C	219 B	220 A
221 C	222 C	223 B	224 A	225 C
226 C	227 A	228 B	229 B	230 B
231 B	232 B	233 B	234 A	235 A
236 A	237 B	238 C	239 C	240 C
241 B	242 B	243 A	244 A	245 A

246 C	247 C	248 A	249 C	250 C
251 A	252 C	253 C	254 C	255 A
256 C	257 B	258 C	259 C	260 C
261 B	262 A	263 B	264 B	265 B
266 C	267 B	268 B	269 C	270 C
271 B	272 C	273 C	274 A	275 B
276 B	277 B	278 A	279 B	280 B
281 A	282 C	283 C	284 B	285 C
286 B	287 C	288 C	289 C	290 C
291 A	292 A	293 B	294 A	295 C
296 A	297 C	298 C	299 C	300 A
301 C	302 A	303 C	304 C	305 A
306 A	307 B	308 A	309 B	310 A
311 A	312 C	313 A	314 C	315 C
316 C	317 A	318 B	319 C	320 B
321 A	322 A	323 B	324 B	325 B
326 A	327 A	328 C	329 A	330 B
331 B	332 B	333 A	334 B	335 C
336 A	337 B	338 B	339 C	340 C
341 C	342 B	343 A	344 C	345 C
346 C	347 C	348 B	349 C	350 A
351 C	352 C	353 A	354 A	355 C
356 B	357 A	358 A	359 B	360 C
361 B	362 A	363 B	364 A	365 C
366 B	367 C	368 B	369 A	370 B
371 B	372 B	373 B	374 B	375 C
376 C	377 A	378 C	379 B	380 C
381 B	382 A	383 A	384 B	385 B
386 B	387 B	388 A	389 B	390 C
391 A	392 C	393 A	394 C	395 B
396 B	397 C	398 A	399 C	400 A
401 C	402 A	403 A	404 B	405 B
406 C	407 C	408 B	409 A	410 A
411 B	412 B	413 A	414 C	415 C
416 C	417 B	418 A	419 C	420 A
421 B	422 A	423 B	424 A	425 B
426 B	427 B	428 C	429 C	430 A
431 A	432 A	433 B	434 A	435 C
436 B	437 B	438 C	439 C	440 C
441 B	442 A	443 C	444 B	445 B
446 A	447 C	448 B	449 A	450 A
451 B	452 B	453 A	454 A	455 C
456 B	457 A	458 B	459 C	460 C
461 C	462 B	463 A	464 C	465 A
466 B	467 C	468 B	469 B	470 C
471 C	472 C	473 C	474 A	475 C
476 A	477 A	478 B	479 B	480 C
481 C	482 A	483 C	484 A	485 A
486 C	487 A	488 A	489 B	490 C
491 B	492 C	493 B	494 A	495 A
496 A	497 A	498 B	499 B	500 B
501 A	502 C	503 C	504 B	505 C
506 B	507 C	508 B	509 A	510 A
511 C	512 A	513 B	514 A	515 A
516 B	517 A	518 B	519 C	520 A

521 A	522 B	523 B	524 B	525 B
526 B	527 A	528 B	529 A	530 B
531 B	532 A	533 C	534 B	535 A
536 C	537 A	538 B	539 B	540 C
541 C	542 B	543 B	544 B	545 A
546 C	547 C	548 C	549 B	550 A
551 A	552 B	553 C	554 B	555 A
556 C	557 B	558 B	559 B	560 C
561 A	562 A	563 A	564 C	565 A
566 A	567 B	568 B	569 C	570 B
571 B	572 B	573 B	574 A	575 A
576 C	577 C	578 A	579 A	580 C
581 A	582 A	583 B	584 B	585 C
586 B	587 B	588 A	589 C	590 A
591 A	592 C	593 A	594 A	595 B
596 A	597 A	598 C	599 B	600 C
601 B	602 C	603 C	604 B	605 A
606 B	607 A	608 A	609 C	610 B
611 C	612 C	613 A	614 A	615 A
616 B	617 C	618 B	619 B	620 B
621 A	622 A	623 B	624 C	625 A
626 B	627 B	628 C	629 C	630 C
631 C	632 A	633 A	634 B	635 B
636 A	637 D	638 C	639 C	640 C
641 C	642 A	643 A	644 C	645 C
646 C	647 C	648 C	649 C	650 A
651 B	652 B	653 A	654 D	655 A
656 C	657 B	658 A	659 A	660 C
661 A	662 B	663 C	664 B	665 A
666 A	667 C	668 A	669 C	670 A
671 A	672 B	673 B	674 A	675 A
676 B	677 A	678 C	679 C	680 C
681 B	682 B	683 B	684 B	685 C
686 C	687 A	688 B	689 B	690 A
691 A	692 B	693 C	694 A	695 B
696 C	697 C	698 B	699 C	700 B
701 B	702 A	703 C	704 A	705 A
706 B	707 C	708 B	709 A	710 B
711 B	712 C	713 A	714 A	715 C
716 C	717 B	718 B	719 C	720 C
721 C	722 B	723 B	724 C	725 B
726 A	727 A	728 B	729 A	730 B
731 C	732 B	733 A	734 C	735 B
736 B	737 A	738 C	739 C	740 B
741 B	742 A	743 A	744 A	745 A
746 B	747 A	748 C	749 C	750 B
751 C	752 A	753 B	754 B	755 A
756 A	757 B	758 A	759 A	760 C
761 B	762 B	763 C	764 B	765 C
766 C	767 C	768 B	769 A	770 A
771 C	772 B	773 A	774 B	775 C
776 B	777 C	778 C	779 B	780 B
781 C	782 B	783 A	784 A	785 B
786 B	787 B	788 A	789 B	790 C
791 B	792 B	793 A	794 A	795 A

796 C	797 A	798 B	799 B	800 C
801 B	802 B	803 C	804 C	805 B
806 C	807 B	808 C	809 A	810 A
811 B	812 A	813 B	814 C	815 C
816 B	817 C	818 A	819 C	820 B
821 C	822 C	823 B	824 C	825 A
826 B	827 A	828 C	829 A	830 B
831 B	832 B	833 B	834 A	835 C
836 B	837 C	838 C	839 B	840 A
841 B	842 B	843 C	844 C	845 C
846 B	847 B	848 B	849 A	850 B
851 B	852 B	853 C	854 A	855 A
856 C	857 A	858 B	859 B	860 C
861 C	862 C	863 A	864 A	865 B
866 B	867 A	868 A	869 A	870 C
871 C	872 A	873 A	874 B	875 A
876 A	877 A	878 A	879 B	880 B
881 A	882 C	883 B	884 C	885 B
886 C	887 B	888 A	889 A	890 C
891 B	892 A	893 B	894 A	895 C
896 A	897 A	898 C	899 A	900 C
901 B	902 A	903 B	904 B	905 B
906 A	907 A	908 C	909 C	910 B
911 A	912 B	913 C	914 A	915 A
916 C	917 A	918 B	919 A	920 B
921 A	922 C	923 C	924 B	925 A
926 B	927 A	928 B	929 B	930 B
931 C	932 B	933 B	934 B	935 A
936 C	937 B	938 C	939 B	940 C
941 A	942 C	943 B	944 B	945 A
946 B	947 A	948 B	949 C	950 A
951 A	952 A	953 A	954 A	955 B
956 A	957 C	958 C	959 B	960 C
961 C	962 C	963 B	964 A	965 B
966 C	967 C	968 B	969 A	970 B
971 B	972 B	973 C	974 C	975 B
976 C	977 A	978 A	979 B	980 B
981 A	982 A	983 B	984 C	985 A
986 C	987 A	988 B	989 A	990 C
991 C	992 C	993 A	994 C	995 A
996 C	997 A	998 A	999 A	1000 B
1001 B	1002 A	1003 A	1004 A	1005 B
1006 C	1007 A	1008 C	1009 B	1010 B
1011 A	1012 C	1013 B	1014 C	1015 B
1016 B	1017 C	1018 B	1019 B	1020 B
1021 A	1022 A	1023 B	1024 D	1025 A
1026 A	1027 C	1028 C	1029 A	1030 B
1031 A	1032 C	1033 A	1034 B	1035 A
1036 A	1037 A	1038 C	1039 C	1040 B
1041 A	1042 B	1043 B	1044 B	1045 A
1046 B	1047 B	1048 C	1049 A	1050 C
1051 B	1052 A	1053 B	1054 A	1055 B
1056 B	1057 B	1058 B	1059 C	1060 A
1061 B	1062 B	1063 B	1064 B	1065 A
1066 A	1067 B	1068 B	1069 B	1070 A

1071 A	1072 C	1073 D	1074 C	1075 A
1076 C	1077 C	1078 A	1079 A	1080 B
1081 A	1082 C	1083 A	1084 A	1085 C
1086 C	1087 C	1088 B	1089 A	1090 B
1091 B	1092 A	1093 A	1094 B	1095 B
1096 B	1097 B	1098 B	1099 A	1100 B
1101 C	1102 B	1103 B	1104 A	1105 A
1106 A	1107 C	1108 A	1109 B	1110 B
1111 B	1112 B	1113 C	1114 A	1115 B
1116 A	1117 C	1118 A	1119 C	1120 B
1121 A	1122 B	1123 B	1124 B	1125 C
1126 A	1127 B	1128 A	1129 B	1130 A
1131 A	1132 A	1133 B	1134 A	1135 C
1136 C	1137 A	1138 A	1139 A	1140 A
1141 B	1142 B	1143 C	1144 C	1145 B
1146 B	1147 A	1148 C	1149 B	1150 C
1151 B	1152 A	1153 B	1154 A	1155 C
1156 B	1157 A	1158 B	1159 C	1160 B
1161 A	1162 B	1163 B	1164 A	1165 B
1166 A	1167 C	1168 B	1169 A	1170 B
1171 C	1172 A	1173 C	1174 B	1175 A
1176 A	1177 A	1178 C	1179 B	1180 A
1181 C	1182 A	1183 B	1184 A	1185 A
1186 C	1187 B	1188 C	1189 B	1190 C
1191 A	1192 C	1193 C	1194 A	1195 C
1196 A	1197 B	1198 C	1199 C	1200 C
1201 C	1202 A	1203 C	1204 C	1205 A
1206 C	1207 B	1208 C	1209 A	1210 A
1211 C	1212 C	1213 A	1214 B	1215 A
1216 C	1217 A	1218 B	1219 C	1220 A
1221 B	1222 C	1223 A	1224 A	1225 A
1226 C	1227 C	1228 C	1229 B	1230 B
1231 C	1232 C	1233 A	1234 A	1235 C
1236 A	1237 C	1238 C	1239 B	1240 A
1241 B	1242 A	1243 B	1244 A	1245 A
1246 B	1247 C	1248 C	1249 B	1250 C
1251 B	1252 A	1253 A	1254 C	1255 B
1256 A	1257 A	1258 A	1259 C	1260 A
1261 A	1262 C	1263 C	1264 A	1265 C
1266 C	1267 B	1268 A	1269 A	1270 A
1271 B	1272 A	1273 B	1274 A	1275 B
1276 A	1277 A	1278 C	1279 C	1280 C
1281 A	1282 B	1283 A	1284 C	1285 C
1286 B	1287 C	1288 B	1289 A	1290 B
1291 C	1292 A	1293 A	1294 C	1295 A
1296 A	1297 C	1298 A	1299 A	1300 A
1301 A	1302 A	1303 A	1304 A	1305 C
1306 A	1307 A	1308 C	1309 A	1310 A
1311 C	1312 C	1313 B	1314 B	1315 C
1316 C	1317 B	1318 B	1319 C	1320 B
1321 C	1322 A	1323 A	1324 C	1325 C
1326 C	1327 B	1328 C	1329 A	1330 C
1331 C	1332 A	1333 A	1334 C	1335 C
1336 B	1337 C	1338 C	1339 C	1340 A
1341 B	1342 B	1343 B	1344 A	1345 B

1346 B	1347 A	1348 A	1349 C	1350 A
1351 B	1352 B	1353 A	1354 A	1355 C
1356 B	1357 B	1358 B	1359 C	1360 A
1361 C	1362 B	1363 C	1364 B	1365 C
1366 C	1367 B	1368 C	1369 C	1370 C
1371 A	1372 B	1373 A	1374 C	1375 B
1376 B	1377 A	1378 B	1379 C	1380 A
1381 A	1382 B	1383 B	1384 B	1385 C
1386 C	1387 C	1388 A	1389 B	1390 A
1391 B	1392 A	1393 B	1394 B	1395 C
1396 B	1397 C	1398 C	1399 B	1400 B
1401 A	1402 C	1403 A	1404 A	1405 A
1406 C	1407 A	1408 B	1409 B	1410 C
1411 A	1412 A	1413 A	1414 B	1415 B
1416 A	1417 A	1418 A	1419 C	1420 B
1421 A	1422 A	1423 C	1424 C	1425 A
1426 B	1427 B	1428 C	1429 C	1430 B
1431 C	1432 B	1433 A	1434 C	1435 B
1436 A	1437 C	1438 C	1439 C	1440 A
1441 C	1442 A	1443 B	1444 A	1445 B
1446 B	1447 A	1448 C	1449 C	1450 C
1451 B	1452 A	1453 A	1454 C	1455 C
1456 C	1457 B	1458 A	1459 C	1460 B
1461 A	1462 B	1463 B	1464 B	1465 A
1466 A	1467 A	1468 A	1469 C	1470 A
1471 A	1472 A	1473 C	1474 B	1475 B
1476 B	1477 B	1478 B	1479 B	1480 A
1481 B	1482 B	1483 C	1484 C	1485 C
1486 A	1487 B	1488 B	1489 C	1490 B
1491 B	1492 C	1493 A	1494 A	1495 C
1496 C	1497 B	1498 B	1499 C	1500 A
1501 A	1502 B	1503 B	1504 B	1505 A
1506 B	1507 B	1508 A	1509 A	1510 A
1511 A	1512 C	1513 C	1514 B	1515 A
1516 B	1517 C	1518 A	1519 A	1520 A
1521 B	1522 B	1523 A	1524 A	1525 B
1526 A	1527 C	1528 B	1529 C	1530 C
1531 B	1532 B	1533 B	1534 B	1535 B
1536 A	1537 A	1538 B	1539 B	1540 A
1541 C	1542 A	1543 B	1544 C	1545 B
1546 B	1547 A	1548 C	1549 C	1550 A
1551 C	1552 A	1553 A	1554 B	1555 C
1556 B	1557 B	1558 A	1559 C	1560 B
1561 A	1562 A	1563 C	1564 B	1565 B
1566 A	1567 B	1568 B	1569 B	1570 A
1571 C	1572 C	1573 A	1574 C	1575 A
1576 A	1577 A	1578 C	1579 A	1580 B
1581 B	1582 B	1583 C	1584 A	1585 C
1586 A	1587 A	1588 C	1589 C	1590 C
1591 A	1592 C	1593 B	1594 A	1595 A
1596 A	1597 C	1598 A	1599 C	1600 A
1601 C	1602 B	1603 B	1604 A	1605 C
1606 A	1607 B	1608 C	1609 C	1610 A
1611 A	1612 C	1613 B	1614 C	1615 B
1616 C	1617 A	1618 C	1619 C	1620 B

1621 B	1622 B	1623 C	1624 B	1625 A
1626 C	1627 C	1628 B	1629 A	1630 B
1631 B	1632 C	1633 A	1634 A	1635 C
1636 A	1637 A	1638 B	1639 C	1640 B
1641 B	1642 B	1643 C	1644 C	1645 A
1646 A	1647 B	1648 B	1649 C	1650 C
1651 A	1652 A	1653 A	1654 A	1655 A
1656 C	1657 B	1658 C	1659 B	1660 B
1661 B	1662 A	1663 C	1664 B	1665 B
1666 C	1667 A	1668 B	1669 B	1670 B
1671 A	1672 A	1673 A	1674 A	1675 A
1676 B	1677 C	1678 B	1679 A	1680 C
1681 B	1682 A	1683 A	1684 C	1685 A
1686 A	1687 A	1688 A	1689 A	1690 C
1691 A	1692 C	1693 C	1694 B	1695 B
1696 B	1697 C	1698 C	1699 B	1700 B
1701 A	1702 C	1703 A	1704 B	1705 C
1706 B	1707 C	1708 B	1709 A	1710 B
1711 C	1712 C	1713 B	1714 B	1715 C
1716 B	1717 A	1718 C	1719 A	1720 B
1721 B	1722 A	1723 C	1724 B	1725 C
1726 A	1727 C	1728 A	1729 B	1730 B
1731 A	1732 B	1733 B	1734 A	1735 B
1736 B	1737 C	1738 A	1739 C	1740 C
1741 C	1742 B	1743 B	1744 C	1745 A
1746 A	1747 A	1748 B	1749 B	1750 A
1751 A	1752 B	1753 A	1754 B	1755 B
1756 C	1757 A	1758 B	1759 C	1760 B
1761 C	1762 C	1763 B	1764 A	1765 A
1766 B	1767 A	1768 B	1769 A	1770 B
1771 B	1772 B	1773 C	1774 A	1775 A
1776 B	1777 A	1778 C	1779 A	1780 C
1781 B	1782 B	1783 C	1784 B	1785 B
1786 C	1787 B	1788 A	1789 C	1790 B
1791 B	1792 B	1793 C	1794 B	1795 B
1796 C	1797 C	1798 C	1799 C	1800 A
1801 B	1802 A	1803 A	1804 B	1805 C
1806 A	1807 B	1808 B	1809 B	1810 A
1811 B	1812 B	1813 B	1814 C	1815 B
1816 B	1817 C	1818 A	1819 B	1820 A
1821 C	1822 C	1823 B	1824 A	1825 B
1826 A	1827 C	1828 B	1829 C	1830 A
1831 A	1832 B	1833 C	1834 A	1835 C
1836 B	1837 B	1838 C	1839 C	1840 B
1841 A	1842 B	1843 C	1844 C	1845 C
1846 C	1847 B	1848 B	1849 C	1850 C
1851 B	1852 B	1853 B	1854 A	1855 A
1856 A	1857 A	1858 A	1859 A	1860 B
1861 A	1862 B	1863 B	1864 A	1865 A
1866 A	1867 B	1868 A	1869 C	1870 B
1871 C	1872 A	1873 A	1874 A	1875 A
1876 B	1877 B	1878 C	1879 B	1880 B
1881 C	1882 C	1883 B	1884 A	1885 A
1886 B	1887 A	1888 C	1889 B	1890 C
1891 A	1892 B	1893 A	1894 B	1895 C

1896 C	1897 A	1898 B	1899 C	1900 A
1901 A	1902 B	1903 A	1904 C	1905 A
1906 B	1907 A	1908 C	1909 B	1910 C
1911 C	1912 B	1913 A	1914 B	1915 B
1916 A	1917 B	1918 C	1919 C	1920 A
1921 C	1922 A	1923 C	1924 B	1925 A
1926 A	1927 C	1928 C	1929 C	1930 A
1931 A	1932 A	1933 A	1934 C	1935 B
1936 C	1937 C	1938 B	1939 C	1940 A
1941 C	1942 C	1943 C	1944 C	1945 C
1946 B	1947 A	1948 B	1949 A	1950 A
1951 B	1952 C	1953 C	1954 B	1955 B
1956 B	1957 C	1958 C	1959 A	1960 C
1961 C	1962 C	1963 A	1964 A	1965 C
1966 C	1967 C	1968 C	1969 B	1970 C
1971 B	1972 B	1973 B	1974 A	1975 C
1976 B	1977 B	1978 B	1979 C	1980 C
1981 A	1982 A	1983 C	1984 B	1985 C
1986 B	1987 C	1988 C	1989 B	1990 B
1991 B	1992 B	1993 C	1994 B	1995 B
1996 B	1997 B	1998 A	1999 B	2000 B

ELEMENTI DI DIRITTO PENALE E FUNZIONI DELLA POLIZIA GIUDIZIARIA (1.000)

-
- 1) **Le norme che regolano il diritto penale si trovano:**
A nel codice penale, nella Costituzione e nell'ambito delle leggi speciali.
B nel codice penale e nella Costituzione.
C solo nel codice penale.
-
- 2) **Gli elementi costitutivi della norma penale sono:**
A la sanzione
B l'intenzione criminosa.
C il precetto e la sanzione.
-
- 3) **L'oggetto giuridico del reato è:**
A il patrimonio
B la persona
C il bene giuridico tutelato dalla norma
-
- 4) **Quale, tra i seguenti, è un elemento essenziale del reato:**
A coscienza e volontà del fatto.
B imputabilità.
C querela.
-
- 5) **Di quale reato risponde colui che, comunicando con più persone, offende la reputazione di un pubblico impiegato assente:**
A oltraggio a un pubblico impiegato.
B diffamazione.
C ingiuria.
-
- 6) **A norma del codice penale, quale delle seguenti affermazioni è esatta:**
A le attenuanti generiche sono tassativamente indicate dalla legge.
B ai fini del calcolo della pena, le circostanze generiche sono sempre valutate come una sola circostanza.
C ai fini del calcolo della pena, le circostanze generiche sono sempre valutate come una sola circostanza.
-
- 7) **Tra le seguenti, non costituisce una circostanza soggettiva del reato:**
A i rapporti fra il colpevole e l'offeso
B l'intensità del dolo
C le modalità dell'azione
-
- 8) **Quale pena è prevista di norma, nell'ipotesi del concorso formale omogeneo di reati?**
A La somma delle pene previste per i singoli reati.
B La pena che dovrebbe infliggersi per il reato più grave aumentata sino al triplo.
C La pena che dovrebbe infliggersi per il reato più grave aumentata sino ad un terzo.
-
- 9) **In quali casi la causa di giustificazione dell'uso legittimo delle armi si applica a favore degli incaricati di pubblico servizio?**
A Solo quando hanno commesso il fatto nell'esercizio delle loro funzioni.
B Solo quando rivestono anche la qualifica di pubblico impiegato.
C Mai.
-
- 10) **In base al principio di legalità:**
A nessuno può essere punito per un fatto che non è previsto dalla legge come reato.
B il Giudice distingue tra ciò che è giusto e ciò che è sbagliato.
C la legge penale è irretroattiva.
-
- 11) **Nell'ambito del diritto penale, il termine "circostanza" di cui agli art. 61 e 62 del codice penale indica:**
A un elemento essenziale che incide sulla natura del reato.
B un elemento accidentale che incide sulla pena, aggravandola o attenuandola.
C un elemento accidentale che incide sulla quantificazione della pena e, in talune ipotesi, può far venire meno la responsabilità penale dell'autore.

-
- 12) **La morte del reo dopo la condanna:**
A estingue la pena e le obbligazioni civili nascenti dal reato.
B estingue la pena.
C estingue la pena ma non le obbligazioni civili nascenti dal reato.
-
- 13) **Chi commette un reato per "forza maggiore":**
A deve pagare solo una multa.
B la pena è aumentata.
C rimane impunito.
-
- 14) **Il principio di tassatività riguarda:**
A solo le contravvenzioni.
B solo i delitti.
C delitti e contravvenzioni.
-
- 15) **Gli artifici ed i raggiri costituiscono presupposti per il reato di:**
A truffa (Art. 640 c.p.).
B ricettazione (Art. 648 c.p.).
C rapina (Art. 628 c.p.).
-
- 16) **Reato di furto (Art. 624 c.p.) e reato di rapina (Art.628 c.p.) sono delitti contro:**
A la persona.
B il patrimonio.
C il buon andamento della P.A.
-
- 17) **Conseguenza giuridica della violazione di una norma penale è:**
A un richiamo da parte dell'Autorità Giudiziaria.
B la pena.
C l'estradizione.
-
- 18) **L'amnistia è:**
A un atto di clemenza da parte del giudice.
B un atto di clemenza da parte del Capo dello Stato.
C la rinuncia da parte dello Stato alla punibilità di soggetti che hanno commesso reati in un determinato periodo.
-
- 19) **Non è fonte del diritto penale:**
A l'atto avente forza di legge.
B la Costituzione.
C la consuetudine.
-
- 20) **La detenzione domiciliare può essere concessa:**
A ai malati terminali.
B a chi ha una buona condotta.
C a chi deve espiare una pena che non superi i 4 anni.
-
- 21) **La capacità a delinquere consiste:**
A nell'inclinazione del soggetto a commettere fatti contrari alla legge penale.
B nello stato d'animo del soggetto che commette il reato
C nel comportamento doloso del reo
-
- 22) **Una persona non recidiva che, con una sola azione od omissione, viola diverse disposizioni di legge è punita con:**
A la somma delle pene previste per i singoli reati, ridotta fino ad un terzo
B la pena che dovrebbe infliggersi per il reato più grave aumentata sino al triplo.
C la somma delle pene previste per i singoli reati
-
- 23) **In materia penale, l'essere concorso a determinare l'evento, insieme alla condotta del colpevole, il fatto doloso della persona offesa costituisce:**
A una circostanza attenuante comune.
B una causa di esclusione del reato.
C una circostanza attenuante speciale.
-
- 24) **Il Perdono Giudiziale è concesso:**

- A al soggetto ultrasettantenne.
- B al soggetto che ha compiuto i 18 anni da non più di tre anni.
- C al soggetto, che all'epoca in cui ha commesso il reato, non abbia superato i 18 anni.

25) **A chi spetta determinare le modalità di esecuzione della semidetenzione e della libertà controllata:**

- A al Giudice dell'Esecuzione.
- B al Magistrato di Sorveglianza.
- C al Tribunale di Sorveglianza.

26) **In che consiste la sanzione:**

- A la conseguenza giuridica che segue l'infrazione del precetto.
- B il divieto di tenere un determinato comportamento.
- C la prima porzione di ogni norma penale.

27) **Il Giudice nel concorso di reati determina la pena secondo il principio del:**

- A cumulo formale.
- B cumulo materiale.
- C cumulo giuridico.

28) **Non è punibile il pubblico ufficiale che adempiendo ad un dovere del proprio ufficio faccia uso delle armi nel caso in cui:**

- A vi è costretto per replicare ad un oltraggio ricevuto.
- B vi è costretto per reagire ad un'ingiustizia.
- C vi è costretto dalla necessità di respingere una violenza.

29) **L'inclinazione del soggetto a commettere fatti contrari alla legge penale è detta:**

- A capacità a delinquere.
- B consuetudine.
- C cumulo giuridico.

30) **Le norme penali proibiscono determinate condotte di natura:**

- A omissiva.
- B commissiva ed omissiva.
- C commissiva.

31) **Con il recesso attivo il soggetto:**

- A impedisce volontariamente il verificarsi dell'evento.
- B tenta la fuga.
- C impedisce involontariamente il verificarsi dell'evento.

32) **Il precetto è:**

- A il divieto di tenere un determinato comportamento.
- B l'indicazione della pena a cui andrà incontro il trasgressore.
- C la conseguenza giuridica che deriva da una violazione.

33) **Per norma penale in bianco si intende:**

- A la norma con precetto generico e sanzione determinata.
- B una disposizione normativa non contenuta nel codice penale.
- C la norma dove né il precetto né la sanzione sono determinati.

34) **I destinatari delle norme penali sono:**

- A solo gli organi dello Stato che vigilano sulla loro osservanza.
- B tutti tranne i minori.
- C i consociati e gli organi dello Stato che vigilano sulla loro osservanza.

35) **Il codice penale all'art. 39 prevede la seguente tipologia di reati:**

- A delitti, contravvenzioni ed illeciti amministrativi.
- B delitti e contravvenzioni.
- C solo contravvenzioni.

36) **Le tipologie di pene previste per i delitti sono:**

- A ergastolo, reclusione, multa.
- B ergastolo, arresto, multa.
- C solo ergastolo e reclusione.

-
- 37) **Le norme integratrici sono:**
A norme di primo grado che definiscono il precetto.
B norme di secondo grado che completano il precetto.
C norme di secondo grado che integrano la sanzione.
-
- 38) **Non sono fonti del diritto penale:**
A decreti legge.
B ordinanze d'urgenza.
C leggi ordinarie.
-
- 39) **Cosa distingue i delitti dalle contravvenzioni:**
A i delitti producono lesioni giuridiche.
B la diversa specie delle pene previste.
C le contravvenzioni costituiscono solo un pericolo per la pubblica utilità.
-
- 40) **Nel delitto di incendio di cosa propria il legislatore richiede la sussistenza del pericolo per la pubblica incolumità, configurandolo:**
A come elemento qualificatore della condotta incriminata.
B come condizione obiettiva di punibilità.
C come elemento soggettivo.
-
- 41) **A quale titolo giuridico rileva attualmente l'ingiuria:**
A a titolo di delitto.
B a titolo di illecito civile.
C a titolo di contravvenzione.
-
- 42) **Quale, tra le seguenti, è una misura di sicurezza personale non detentiva:**
A ricovero in un ospedale psichiatrico giudiziario.
B libertà vigilata.
C assegnazione ad una casa di lavoro.
-
- 43) **Se il soggetto attivo, dopo aver dato inizio alla condotta criminale, desiste volontariamente dal completare l'azione:**
A risponde solo degli atti compiuti se questi costituiscono reato.
B è punibile per il reato tentato.
C non è punibile in ogni caso.
-
- 44) **Nella Costituzione quale locuzione sancisce il principio di legalità:**
A nessuna prestazione personale o patrimoniale può essere imposta se non in base alla legge.
B la responsabilità penale è personale.
C nessun può essere punito se non in forza di una legge che sia entrata in vigore prima del fatto commesso.
-
- 45) **Per le contravvenzioni quali tipologie di pene sono previste?**
A Arresto, ammenda, permanenza domiciliare.
B Detenzione domiciliare, ammenda.
C Arresto, ammenda.
-
- 46) **La Costituzione consacra il principio di legalità nell'ambito dell'articolo:**
A 23.
B 25.
C 27.
-
- 47) **A norma del codice penale, l'uso legittimo delle armi è riservato:**
A al Pubblico Ufficiale.
B esclusivamente all'agente ed all'ufficiale di Polizia Giudiziaria e di Pubblica Sicurezza.
C esclusivamente agli ufficiali di Polizia Giudiziaria.
-
- 48) **Cosa si intende per riserva di legge?**
A Solo la legge può indicare ciò che è reato e definire la relativa sanzione penale.
B Che la legge penale non è retroattiva
C La possibilità di punire un determinato fatto anche in assenza di una legge preesistente che lo configuri come reato.
-
- 49) **Il principio di colpevolezza in quale articolo della Costituzione è sancito?**

- A art. 32.
- B art. 27
- C art. 25.

-
- 50) **Sono corollari del principio di legalità:**
- A la riserva di legge, la tassatività, la determinatezza, la irretroattività.
 - B la riserva di legge e la tassatività.
 - C la riserva di legge e la determinatezza.
-
- 51) **Il principio di legalità è previsto per le misure di sicurezza?**
- A | Sì, nell'art. 25 della Costituzione e nell'art. 199 del codice penale.
 - B Solo nel codice penale all'art.199.
 - C Solo per i soggetti minori degli anni 14.
-
- 52) **La pronuncia della sentenza di primo grado determina:**
- A l'inizio di decorrenza della prescrizione.
 - B l'interruzione del corso della prescrizione.
 - C la sospensione del corso della prescrizione.
-
- 53) **Commette il delitto di favoreggiamento personale:**
- A chi aiuta il reo a sottrarsi alle ricerche dell'autorità.
 - B chi aiuta il reo ad assicurarsi il profitto del reato
 - C chi aiuta il reo a trasportare la refurtiva.
-
- 54) **A norma del codice penale, lo stato di necessità si configura come:**
- A una causa di estinzione del reato
 - B una causa di esclusione del reato
 - C una circostanza attenuante
-
- 55) **In materia penale sono "circostanze speciali":**
- A quelle previste nella parte speciale del codice penale e relative a tutti i reati in esso previsti.
 - B solo quelle previste per singoli reati determinati.
 - C quelle che si applicano solo a reati commessi da "speciali" categorie di soggetti.
-
- 56) **Il principio di legalità è previsto nel codice penale?**
- A Non è espressamente previsto ma si ricava dal principio di irretroattività.
 - B No, non è previsto.
 - C Sì, nell'art.1.
-
- 57) **In caso di morte del reo:**
- A non si estingue la pena.
 - B la punibilità del reato viene estesa agli eredi.
 - C il reato e la pena si estinguono.
-
- 58) **Il Decreto legge può legiferare in materia penale?**
- A Sempre se il governo lo ritiene opportuno e non necessita di conversione in legge.
 - B Mai, vige una riserva di legge formale e assoluta.
 - C | Solo nei casi straordinari di necessità ed urgenza.
-
- 59) **Le misure di sicurezza presuppongono la pericolosità sociale dell'individuo, sono cioè applicabili solo a colui che sia pericoloso per la società. L'accertamento della pericolosità sociale spetta:**
- A al giudice.
 - B al P.M.
 - C al tribunale di sorveglianza.
-
- 60) **Il reato è preterintenzionale quando dall'azione od omissione dell'agente deriva:**
- A un evento più grave di quello voluto dall'agente.
 - B un evento meno grave di quello voluto dall'agente.
 - C un evento protratto nel tempo.
-
- 61) **Quando, con una sola azione od omissione, si violano diverse disposizioni di legge, si verifica l'ipotesi di:**
- A concorso formale omogeneo
 - B concorso materiale eterogeneo
 - C concorso formale eterogeneo

-
- 62) **In materia penale, la colpa cosciente è la forma più o meno grave di colpa?**
A È la forma meno grave, infatti comporta l'applicazione di attenuanti.
B Fra i due aspetti di colpa cosciente e colpa incosciente la legge non rileva sostanziali differenze ai fini della valutazione della gravità del fatto.
C È la forma più grave, infatti costituisce circostanza aggravante comune.
-
- 63) **Nei delitti unisussistenti è ammissibile il tentativo?**
A Sì, in ogni caso.
B Sì, ma solo se chi agisce è in buona fede.
C No.
-
- 64) **A norma del codice penale, per poter legittimamente invocare lo stato di necessità, l'oggetto del pericolo deve essere:**
A un danno grave al patrimonio o alla persona del soggetto passivo del reato.
B un danno grave alla persona propria o altrui.
C un danno grave al patrimonio o alla persona che invoca lo stato di necessità.
-
- 65) **Per tentativo incompiuto, agli effetti della legge penale, si intende l'ipotesi in cui:**
A il soggetto agente decide spontaneamente di arrestarsi nell'attività criminosa prima di completare la condotta.
B non tutti gli atti compiuti dal soggetto attivo sono risultati idonei a determinare l'evento.
C il soggetto agente, per cause non dipendenti dalla sua volontà, cessa l'esecuzione del reato prima di completare la condotta.
-
- 66) **L'elemento soggettivo del delitto tentato è costituito:**
A dalla coscienza e volontà di compiere un tentativo di delitto.
B dalla volontà di realizzare un delitto perfetto in tutti i suoi elementi.
C dalla semplice partecipazione ad azioni delittuose.
-
- 67) **È punibile chi lede il diritto alla integrità personale con il consenso dell'interessato?**
A Solo nel caso in cui ciò cagioni una diminuzione permanente della stessa o sia contrario alla legge, all'ordine pubblico o al buon costume.
B Sì.
C No.
-
- 68) **Quando un delitto si definisce doloso?**
A Quando è dall'agente preveduto e voluto come conseguenza della propria azione o omissione.
B Quando l'evento dannoso o pericoloso non è voluto dall'agente e si verifica per negligenza, imprudenza o imperizia.
C Quando dall'azione od omissione deriva un evento dannoso o pericoloso più grave di quello voluto dall'agente.
-
- 69) **Il sequestro di persona a scopo di coazione costituisce:**
A un'ipotesi aggravata di sequestro estorsivo.
B un'ipotesi aggravata di sequestro comune.
C un'ipotesi autonoma di reato.
-
- 70) **Quale causa di esclusione del reato potrà invocarsi nella seguente circostanza: l'alpinista ha tagliato la corda con un coltello, provocando la caduta nel vuoto del compagno di cordata. Per non essere coinvolto dalla caduta di questi, quale sarà la causa che potrà invocare?**
A Esercizio di un diritto.
B Forza maggiore.
C Stato di necessità.
-
- 71) **Il delitto di violenza sessuale:**
A si consuma con il compimento dell'atto sessuale.
B si consuma nel momento in cui il soggetto agente adesca la vittima, essendo un reato di pericolo.
C si consuma nel momento in cui il soggetto agente trae in inganno la persona offesa.
-
- 72) **Il soggetto attivo del delitto di falsa testimonianza, ai sensi dell'art. 372 c.p., è:**
A il testimone nel procedimento penale.
B il soggetto chiamato a ricoprire l'ufficio di testimone innanzi ad una Autorità giudiziaria civile, penale o amministrativa.
C la persona che può riferire circostanze utili ai fini delle indagini.

-
- 73) **Il delitto di falsa attestazione o dichiarazione a un pubblico ufficiale sulla idoneità o su qualità personali proprie o altrui, di cui all'art. 495 c.p., è punibile:**
- A d'ufficio solo nel caso in cui la falsa dichiarazione sulla propria identità è resa di fronte all'autorità giudiziaria da un imputato o da una persona sottoposta alle indagini.
 - B d'ufficio.
 - C a querela della persona offesa.
-
- 74) **Il soggetto passivo del delitto di violenza sessuale:**
- A può essere chiunque, ad esclusione del minore di anni quattordici.
 - B può essere chiunque.
 - C può essere chiunque, ad esclusione della donna legata al soggetto attivo da un rapporto di coniugio.
-
- 75) **L'errore sulla legge penale, il cd. errore di diritto, esclude la responsabilità?**
- A Mai.
 - B Solo se si dimostra che l'ignoranza era inevitabile.
 - C Sempre.
-
- 76) **Quale tra le seguenti affermazioni sulla reclusione è corretta?**
- A L'art. 23 del c.p. stabilisce che la pena della reclusione si estende da quindici giorni a ventiquattro anni, ed è scontata in uno degli istituti a ciò destinati, con l'obbligo del lavoro e senza l'isolamento notturno.
 - B Il c.p. prevede il differimento facoltativo della reclusione per la donna che ha partorito da meno di sei mesi.
 - C La reclusione è la pena temporanea per i delitti.
-
- 77) **La condanna alla reclusione, per il delitto di corruzione per un atto d'ufficio per un tempo non inferiore a tre anni, importa l'estinzione del rapporto di lavoro o di impiego nei confronti del dipendente di amministrazioni od enti pubblici:**
- A ovvero di enti a prevalente partecipazione privata.
 - B anche economici.
 - C ovvero di enti a prevalente partecipazione pubblica.
-
- 78) **Chiunque, senza essere concorso nella falsità, fa uso di un atto falso, commette il reato di:**
- A falsità in foglio firmato in bianco.
 - B uso di atto falso.
 - C falsità ideologica in certificati o autorizzazioni amministrative.
-
- 79) **Con riferimento alla disciplina del reato di corruzione contenuta nel codice penale è corretto affermare che:**
- A nella corruzione propria susseguente il dolo è generico, non essendo richiesto alcun fine (l'atto di ufficio è già stato compiuto).
 - B nella corruzione impropria antecedente è comunque richiesta una competenza funzionale del P.U. o dell'incaricato di pubblico servizio e cioè una sua competenza esclusiva, non essendo sufficiente una sua competenza generica, quale quella derivante dall'appartenenza all'ufficio.
 - C nella corruzione impropria susseguente è sufficiente la promessa della retribuzione come ricompensa dell'atto già compiuto e non occorre la dazione.
-
- 80) **La distinzione tra delitti e contravvenzioni comporta varie differenze di disciplina stabilite dalla legge. In particolare è corretto affermare che:**
- A il tentativo è possibile per tutte le contravvenzioni ma non per tutti i delitti.
 - B salvo che la legge espressamente preveda una contravvenzione dolosa, tutte le contravvenzioni sono punibili, sia se commesse con dolo, sia se commesse con colpa.
 - C tutti i delitti sono punibili sia se commessi con dolo sia se commessi con colpa, le contravvenzioni sono punibili solo se commesse con dolo.
-
- 81) **Nelle contravvenzioni per le quali la legge stabilisce la pena alternativa dell'arresto o dell'ammenda, il giudice può respingere con ordinanza la domanda di oblazione?**
- A Sì, il giudice può respingere la domanda.
 - B No.
 - C Sì, ma solo nel caso in cui vi sia opposizione della parte offesa.
-
- 82) **Un reato si definisce permanente:**
- A quando l'offesa al bene giuridico consiste nella sua irreversibile distruzione (ad es. omicidio).
 - B quando l'offesa al bene giuridico si protrae nel tempo.
 - C quando non è configurabile il tentativo.
-
- 83) **Nessuno può essere punito per una azione od omissione prevista dalla legge come reato se al momento in cui lo ha commesso:**

- A non era imputabile.
- B era in stato di ubriachezza.
- C era affetto da vizio parziale di mente.

84) **Per il peculato è consentito il fermo?**

- A No.
- B Sì, fuorché nel caso di c.d. peculato d'uso.
- C È obbligatorio l'arresto in flagranza.

85) **Tizio, che all'interno di una banca estrae una pistola e intima al cassiere di consegnargli il denaro, risponderà di:**

- A rapina semplice.
- B rapina aggravata.
- C furto in concorso con il reato di porto abusivo di armi.

86) **Chi compie atti osceni all'interno o nelle immediate vicinanze di luoghi abitualmente frequentati da minori, risponde:**

- A di atti osceni aggravati, se da ciò deriva il pericolo che i minori vi assistano.
- B di concorso materiale tra corruzione di minorenni e atti osceni.
- C di corruzione di minorenni.

87) **Quando, per effetto della concessione della grazia, la pena dell'ergastolo è estinta, la pena detentiva temporanea inflitta per il reato concorrente:**

- A non si estingue mai.
- B è comunque estinta
- C è estinta se il condannato è stato detenuto per oltre 30 anni.

88) **Le misure di sicurezza si dividono in detentive, non detentive e patrimoniali. È patrimoniale:**

- A la confisca.
- B la multa.
- C l'ammenda.

89) **La cauzione di buona condotta prevista dall'art. 237 del c.p.**

- A si applica solo a coloro che abbiano trasgredito gli obblighi imposti con la libertà vigilata.
- B non può essere inferiore ad un anno, né superiore a cinque.
- C consiste nel deposito, presso la Cassa delle ammende, di una somma non inferiore a euro 51 né superiore a euro 1032.

90) **L'abuso d'ufficio è un reato:**

- A Collettivo, perché coinvolge più persone.
- B Proprio.
- C Improprio.

91) **Quale reato commette l'incaricato di pubblico servizio che, giovandosi dell'errore altrui, riceve indebitamente denaro?**

- A Peculato.
- B Corruzione.
- C concussione.

92) **Le circostanze nel reato sono:**

- A pene accessorie
- B elementi accidentali del reato che incidono sulla gravità dello stesso variando la pena.
- C elementi essenziali.

93) **Quali effetti produce la sospensione dall'esercizio di una professione?**

- A Priva il condannato della capacità di esercitare, durante la sospensione, la professione, per la quale è richiesto uno speciale permesso o una speciale abilitazione, autorizzazione o licenza dell'Autorità.
- B Priva permanentemente il condannato della capacità di esercitare una professione.
- C Priva il condannato della capacità di assumere la rappresentanza di una impresa commerciale.

94) **La condotta nel reato di atti persecutori (Art. 612 bis c.p.) si concretizza:**

- A nelle minacce e nelle molestie idonee a determinare un grave stato d'ansia.
- B nelle minacce.
- C nel pedinamento di una persona.

95) **Gli artifizii e i raggiri costituiscono presupposti per il reato di:**

- A rapina (Art. 628 c.p.)
- B ricettazione (Art. 648 c.p.)
- C truffa (Art. 640 c.p.)

96) **Chi vigila sull'esecuzione della pena?**

- A Il P.M.
- B Il Magistrato di Sorveglianza e il Tribunale di sorveglianza
- C Gli organi di P.G.

97) **A norma dell'art. 357 c.p. sono Pubblici Ufficiali coloro che esercitano:**

- A una pubblica funzione legislativa.
- B una funzione politica.
- C una pubblica funzione legislativa, giudiziaria o amministrativa.

98) **Un soggetto è imputabile:**

- A se ha la capacità di intendere e di volere.
- B solo se che ha raggiunto la maggiore età.
- C se ha la capacità solo d'intendere e non di volere.

99) **Nel delitto di violenza sessuale, la querela una volta presentata:**

- A può essere revocata ma poi è consentito ripresentarla.
- B può essere revocata.
- C è irrevocabile.

100) **Ai sensi del codice penale lo spazio aereo può considerarsi territorio dello Stato?**

- A No, solo la terraferma.
- B Sì, sia lo spazio aereo sovrastante il territorio sia il mare territoriale.
- C No, solo la terraferma e il sottosuolo.

101) **La sospensione condizionale della pena è sempre subordinata all'adempimento dell'obbligo delle restituzioni e al pagamento a titolo di risarcimento del danno?**

- A Sì, ma solo per i reati contro il patrimonio.
- B No, è a discrezione del giudice.
- C Sì, sempre.

102) **Il reato di danneggiamento previsto dall'art. 635 c.p. è:**

- A un illecito amministrativo.
- B una contravvenzione.
- C un delitto.

103) **Il delitto di iniziative turistiche volte allo sfruttamento della prostituzione minorile punisce:**

- A Chi fruisce dell'attività di prostituzione.
- B Solo l'organizzatore dell'attività di prostituzione.
- C Sia l'organizzatore sia chi fruisce dell'attività di prostituzione.

104) **Attenua il reato, quando non ne è elemento costitutivo o circostanza attenuante speciale, l'aver, nei delitti contro il patrimonio, cagionato alla persona offesa dal reato:**

- A un danno patrimoniale di speciale tenuità.
- B un danno patrimoniale non rilevante.
- C un danno patrimoniale soggettivamente lieve.

105) **Il gestore di un garage che si appropria di un veicolo in deposito risponde di:**

- A danneggiamento.
- B furto aggravato.
- C appropriazione indebita.

106) **In che cosa il furto si differenzia dall'appropriazione indebita?**

- A Nel furto la cosa è sempre mobile, nell'appropriazione indebita può essere anche un bene immobile.
- B Nel furto il soggetto attivo non detiene né possiede la cosa mobile altrui, nella appropriazione indebita il soggetto attivo possiede la cosa mobile altrui
- C Il delitto di furto è doloso, l'appropriazione indebita è colposa.

107) **Dopo la fine di una relazione, un uomo, non rassegnandosi alla separazione, rivolge alla ex fidanzata per mesi continue minacce di morte, costringendola, per paura, a non uscire più di sera con la propria autovettura. L'uomo risponderà:**

- A di violenza privata.
- B del delitto di "atti persecutori".
- C di minaccia aggravata.

-
- 108) **Gli atti interni dei pubblici uffici, quando hanno attitudine ad assumere carattere probatorio e rilevanza esterna ai fini della documentazione di fatti inerenti all'attività spiegata ed alla regolarità delle operazioni amministrative dell'ufficio pubblico cui i loro autori sono addetti sono:**
- A atti pubblici se provenienti da amministrazioni centrali dello Stato.
 - B atti pubblici certificati se compilati con le debite forme e controfirmati dal superiore gerarchico.
 - C atti pubblici.
-
- 109) **Comporta la pena dell'ergastolo l'omicidio commesso:**
- A in occasione della commissione del delitto di incendio.
 - B in occasione della commissione di una violenza sessuale.
 - C in occasione della commissione di un'istigazione per delinquere.
-
- 110) **Se un ufficiale giudiziario omette volontariamente di registrare nel registro cronologico un protesto eseguito, risponde di:**
- A falso materiale commesso da pubblico ufficiale in atti pubblici.
 - B falso ideologico commesso da pubblico ufficiale in atti pubblici.
 - C non commette reato.
-
- 111) **Tizio, al fine di uccidere una nota personalità, colloca una notevole quantità di esplosivo in una piazza piena di gente; la carica viene scoperta e disinnescata in tempo dalle forze dell'ordine, Tizio risponderà di:**
- A strage.
 - B tentativo di strage
 - C attentato per finalità di terrorismo.
-
- 112) **Il P.U. sarà punito di rifiuto di atti d'ufficio ai sensi dell'art. 328, 1 co., c.p., se indebitamente rifiuta un atto del suo ufficio solo per ragioni di:**
- A giustizia, ordine pubblico o sanità
 - B salute pubblica
 - C giustizia, sicurezza pubblica, ordine pubblico o igiene e sanità
-
- 113) **Il delitto di furto si consuma con:**
- A lo spostamento della cosa in altro luogo.
 - B l'impossessamento.
 - C lo spostamento della cosa dal luogo dove si trova.
-
- 114) **Il divieto di tenere un determinato comportamento è detto:**
- A indicazione.
 - B sanzione.
 - C precetto.
-
- 115) **Quale tipologia di reati tratta il Codice penale all'art. 39?**
- A Solo delitti.
 - B Delitti e contravvenzioni.
 - C Delitti, contravvenzioni ed illeciti amministrativi.
-
- 116) **Chi con una sola azione viola diverse disposizioni di legge pone in essere:**
- A un concorso materiale di reati.
 - B un reato continuato.
 - C un concorso formale di reati.
-
- 117) **Una persona viene minacciata di morte se non prende parte alla rapina:**
- A ne risponde potendo comunque reagire alle minacce.
 - B risponde del fatto commesso ma la pena è attenuata.
 - C del fatto commesso sotto minaccia risponde solo la persona che l'ha costretta a commetterlo.
-
- 118) **La non menzione della condanna nel casellario giudiziale è concedibile:**
- A se si tratta di prima condanna e comunque non superiore ai 3 anni.
 - B in tutti i casi.
 - C se si tratta di prima condanna e comunque non superiore ai 2 anni.
-
- 119) **La desistenza si ha:**

- A quando l'agente ha portato a termine l'attività delittuosa.
- B quando l'agente viene colto in flagranza.
- C quando, dopo aver iniziato l'azione, muta il proposito criminoso dell'agente.

120) Chi ha svolto atti di polizia giudiziaria può nello stesso procedimento esercitare l'ufficio di giudice?

- A No.
- B Sì.
- C Solo se decorso un certo periodo di tempo.

121) Quali atti può compiere la polizia giudiziaria dopo l'intervento del Pubblico Ministero?

- A Le intercettazioni telefoniche.
- B Tutte le altre attività di indagine di iniziativa per accertare i reati.
- C Nessun'altra attività di indagine volta ad accertare i reati.

122) Le perquisizioni possono essere:

- A urgenti, evasive e locali.
- B personali, veicolari, locali e domiciliari.
- C personali, collettive e urgenti.

123) La polizia giudiziaria può prendere notizia dei reati di propria iniziativa:

- A mai.
- B sempre.
- C sì, ma solo su segnalazione del Pubblico Ministero.

124) L'indagato può rendere dichiarazioni spontanee alla polizia giudiziaria:

- A sempre in ogni caso anche senza l'assistenza del difensore.
- B sì, purché l'indagato abbia scelto di renderle liberamente.
- C no, mai.

125) Ai fini della identificazione della persona indagata si può procedere a rilievi fotografici :

- A no, per motivi di privacy.
- B sì, sempre.
- C solo in alcuni casi.

126) In caso di arresto di un minore gli ufficiali o agenti di polizia giudiziaria ne danno notizia al Pubblico Ministero:

- A entro 12 ore.
- B immediatamente.
- C entro 24 ore.

127) Quali delle seguenti attività non spetta alla polizia giudiziaria:

- A convalida del sequestro.
- B acquisizione di plichi e corrispondenza.
- C perquisizione personale o locale.

128) L'imputato è interrogato il più delle volte:

- A da un ufficiale di polizia giudiziaria delegato dal Pubblico Ministero.
- B sempre dal Pubblico Ministero.
- C mai dal Pubblico Ministero.

129) La polizia giudiziaria è soggetta alle direttive del:

- A Giudice delegato.
- B Pubblico Ministero.
- C Commissario.

130) L'imputato ha diritto di nominare:

- A un solo difensore.
- B anche più di due in casi eccezionali.
- C non più di due difensori di fiducia.

131) Le persone informate o i possibili testimoni di un reato hanno:

- A su di essi non grava l'obbligo di dire la verità.
- B posizione analoga a quella dei testimoni.
- C posizione in parte diversa.

-
- 132) Il prelievo del materiale biologico dell'indagato da parte della polizia giudiziaria può avvenire:**
- A il consenso necessita solo in casi eccezionali.
 - B sempre e solo col suo consenso.
 - C coattivamente.
-
- 133) Il sequestro probatorio è compiuto dalla polizia giudiziaria:**
- A su autorizzazione del giudice tutelare.
 - B allorquando il P.M. non abbia ancora assunto la direzione delle indagini.
 - C in caso di impedimento del P.M..
-
- 134) Ricercare gli autori del reato:**
- A rientra tra le funzioni della polizia giudiziaria solo in alcuni casi.
 - B rientra tra le funzioni della polizia giudiziaria.
 - C non rientra tra le funzioni della polizia giudiziaria.
-
- 135) Cosa indica l'espressione "dipendenza funzionale della polizia giudiziaria"?**
- A Che essa è autonoma.
 - B Che essa svolge le proprie funzioni sotto la direzione del Pubblico Ministero.
 - C Che essa è autonoma in base alle funzioni.
-
- 136) Cosa si intende con l'espressione "soggetti del processo penale"?**
- A coloro che abbiano ricevuto un danno.
 - B le persone offese del reato.
 - C I titolari del potere di iniziativa nel procedimento.
-
- 137) Sono agenti di polizia giudiziaria:**
- A gli addetti al coordinamento della polizia municipale.
 - B gli addetti al controllo della polizia municipale.
 - C le guardie di finanza.
-
- 138) L'attività della Polizia giudiziaria tesa ad impedire che i reati vengano portati a conseguenze ulteriori viene indicata come:**
- A attività repressiva.
 - B attività esecutiva.
 - C attività investigativa.
-
- 139) Le sezioni della Polizia giudiziaria sono istituite presso:**
- A ogni comando dei carabinieri.
 - B ogni procura della Repubblica.
 - C ogni questura.
-
- 140) Il Sindaco può essere ufficiale di polizia giudiziaria:**
- A sì, sempre.
 - B sì, se in quel Comune non vi sia un ufficio della Polizia di Stato ovvero un comando dei Carabinieri o della Guardia di Finanza.
 - C no, mai.
-
- 141) Un agente di Polizia giudiziaria può ricevere una querela:**
- A sì, purché sia successivamente trasmessa all'autorità giudiziaria da un ufficiale di polizia giudiziaria.
 - B no, mai.
 - C sì, sempre.
-
- 142) I carabinieri:**
- A sono funzionari di polizia giudiziaria.
 - B rivestono il doppio ruolo.
 - C sono agenti di polizia giudiziaria.
-
- 143) Acquisita la notizia di reato, la polizia giudiziaria riferisce al Pubblico Ministero:**
- A in qualsiasi modo.
 - B qualche volta per iscritto.
 - C per iscritto.
-
- 144) Acquisita la notizia di reato i tempi per riferire al Pubblico Ministero da parte della polizia giudiziaria devono essere:**

- A senza ritardi.
- B dipende da caso a caso.
- C i tempi necessari.

145) Con la comunicazione di reato la polizia giudiziaria indica:

- A il giorno, l'ora e l'anno.
- B il giorno e l'ora in cui ha acquisito la notizia.
- C il giorno in cui ha acquisito la notizia.

146) L'attività esecutiva della polizia giudiziaria :

- A impedisce che i reati vengano portati a conseguenze ulteriori.
- B ricostruisce il fatto costituente reato.
- C si sostanzia nell'attività di notificazione ed esecuzione di ordinanze ed atti.

147) Le perquisizioni personali sono consentite solo agli ufficiali di polizia giudiziaria:

- A sì, sempre.
- B no, anche agli agenti.
- C dipende dall'importanza del caso.

148) L'attività della polizia giudiziaria :

- A è autonoma.
- B è sempre sotto la dipendenza e la direzione dell'autorità giudiziaria.
- C dipende dai casi.

149) L'attività di perquisizione della polizia giudiziaria è più ampia di quella del Pubblico ministero?

- A Dipende dalle circostanze concrete.
- B Sì.
- C No.

150) L'obbligo da parte degli ufficiali di polizia di redigere la relazione di servizio dipende:

- A dalla necessità di osservare i regolamenti.
- B dalla necessità di un atto a rilevanza esterna.
- C dal fatto che essi ricoprono anche la funzione di pubblica sicurezza.

151) Secondo la Costituzione la responsabilità penale è:

- A mai personale.
- B dipende dai reati.
- C sempre personale.

152) Le pene devono tendere:

- A alla riabilitazione.
- B alla rieducazione del condannato.
- C alla educazione.

153) La rieducazione del condannato consente allo stesso:

- A la ricerca di un lavoro all'interno del carcere.
- B la possibilità di contrarre matrimonio.
- C il reinserimento nella società.

154) Gli organi delle notificazioni sono:

- A L'ufficiale giudiziario.
- B Il questore e il prefetto.
- C Il cancelliere o l'assistente giudiziario.

155) Dinanzi al Giudice di pace penale quali sono i termini di notifica dell'atto di citazione.

- A trenta giorni prima.
- B venti giorni prima.
- C sessanta giorni prima dell'udienza.

156) Il giudizio direttissimo quando è applicabile:

- A in caso di minorenni.
- B in caso di straniero.
- C in caso di arresto in flagranza.

157) Il giudizio direttissimo:

- A è un procedimento penale ordinario.
- B è un procedimento penale speciale.
- C un procedimento ordinario ad effetti speciali.

158) Il giudizio direttissimo:

- A consente di anticipare il processo senza perseguire finalità premiali per l'imputato.
- B posticipa il processo.
- C anticipa il processo e persegue finalità premiali.

159) Le notificazioni possono essere eseguite dalla polizia penitenziaria:

- A per motivi di urgenza.
- B mai.
- C in alcuni casi.

160) Il verbale di perquisizione eseguita dalla polizia giudiziaria è trasmesso al Pubblico Ministero:

- A entro 36 ore.
- B entro 24 ore.
- C entro 48 ore.

161) Quanto dura il sequestro probatorio:

- A 30 giorni dal provvedimento di sequestro.
- B fin quando vi siano esigenze di tutela della prova.
- C 60 giorni dal provvedimento di sequestro.

162) Chi, chiamato a fornire informazioni ai fini delle indagini, renda nel corso di un procedimento penale false dichiarazioni può essere punito con la reclusione:

- A no, mai.
- B fino a 6 anni.
- C fino a 4 anni.

163) Chi interroga i sospettati di un reato:

- A un agente di polizia tributaria.
- B quasi sempre un ufficiale di polizia giudiziaria su delega del Pubblico Ministero.
- C sempre.

164) Le indagini preliminari sono finalizzate secondo il Codice di procedura penale a:

- A acquisire determinazioni inerenti l'esercizio dell'azione penale.
- B creare il fascicolo d'ufficio.
- C acquisire prove.

165) In base all'art. 381c.p.c. gli ufficiali e gli agenti di polizia giudiziaria hanno facoltà di arrestare chiunque sia colto in flagranza di un delitto:

- A non colposo consumato o tentato.
- B colposo se consumato.
- C colposo.

166) La legge prevede la facoltà dell'arresto di chiunque sia colto in flagranza del reato di peculato mediante profitto dell'errore altrui:

- A deve essere una forma aggravata.
- B sì, espressamente.
- C no, può trattarsi anche di semplice peculato.

167) Per essere legittimo l'ordine deve provenire:

- A dal Pubblico Ufficiale.
- B da chiunque.
- C dal Pubblico Ufficiale o dalla persona incaricata di un pubblico servizio.

168) La tendenza o inclinazione dell'individuo a commettere fatti in contrasto con la legge penale viene indicata come:

- A capacità a delinquere.
- B capacità di agire.
- C imputabilità.

169) Il reato di furto costituisce un delitto contro:

- A la pubblica amministrazione.
- B l'ordine pubblico.
- C il patrimonio.

170) Nel nostro ordinamento è previsto il reato di maltrattamento di animali. La pena per esso prevista è quella della reclusione:

- A da tre mesi a diciotto mesi.
- B da sei mesi a ventiquattro mesi.
- C da un anno a tre anni.

171) La somministrazione di sostanze stupefacenti o vietate agli animali:

- A è prevista con una pena diversa.
- B non è prevista nel nostro ordinamento.
- C è prevista nel nostro ordinamento e ad essa si applica la stessa pena prevista per il maltrattamento.

172) Se non diversamente disposto, quando va iniziata una perquisizione domiciliare:

- A in qualsiasi orario.
- B non prima delle ore sette fino alle ore ventiquattro.
- C non prima delle ore sette e non dopo le venti.

173) In difetto di una condizione di procedibilità la Polizia Giudiziaria può svolgere attività di indagine diretta ad assicurare fonti di prova:

- A no mai.
- B solo quando non vi è pericolo nel ritardo.
- C sì, sempre.

174) Può la Polizia Giudiziaria sequestrare il corpo del reato:

- A no, vi provvede il giudice per le indagini preliminari.
- B anche senza che vi sia la richiesta.
- C sì, sempre su richiesta del Pubblico Ministero.

175) Entro quanto tempo la polizia giudiziaria che abbia redatto verbale di perquisizione di sua iniziativa deve trasmetterlo al Pubblico Ministero:

- A entro 24 ore.
- B entro 36 ore.
- C entro 48 ore.

176) Può un ufficiale di polizia giudiziaria di sesso femminile eseguire una perquisizione nella casa di un indagato di sesso maschile:

- A solo se autorizzato dal Pubblico Ministero.
- B sì.
- C no.

177) Cosa prevede l'obbligo di presentazione alla Polizia Giudiziaria:

- A che l'imputato si presenti presso qualsiasi ufficio giudiziario ma due volte al giorno.
- B che l'imputato si presenti presso un ufficio giudiziario più vicino alla propria abitazione.
- C che l'imputato si presenti presso un determinato ufficio giudiziario a cadenze prestabilite.

178) Può la Polizia Giudiziaria acquisire sommarie informazioni dalla persona sottoposta ad indagini:

- A sì, ma è necessaria la presenza del difensore.
- B sì anche senza la presenza del difensore.
- C sì ma il Pubblico Ministero può disporre la presenza del difensore.

179) Successivamente alla scadenza del termine di durata delle indagini preliminari che valore avranno quegli atti:

- A sono validi ed efficaci.
- B sono inutilizzabili.
- C sono utilizzabili solo a favore dell'imputato.

180) Nell'esecuzione di una perquisizione personale, può la persona da perquisire, essere invitata alla consegna della cosa:

- A no mai.
- B sì, ma se la cosa viene consegnata non si dovrebbe più procedere alla perquisizione, tranne che non lo si ritenga comunque utile.
- C solo a condizione che non costituisca pericolo per l'incolumità pubblica.

-
- 181) Può l'arrestato rifiutarsi di rispondere alla polizia giudiziaria:**
A è una sua facoltà.
B se è in presenza del difensore di fiducia.
C no.
-
- 182) L'identificazione della persona nei cui confronti vengono svolte le indagini ai sensi dell'art.349 cpp è:**
A non costituisce un atto tipico.
B un atto di investigazione indiretta.
C un atto tipico di investigazione diretta.
-
- 183) Il Pubblico Ministero nel procedere ad accertamenti, rilievi segnaletici, descrittivi o fotografici o altre operazioni tecniche può avvalersi di consulenti:**
A sì salvo il rifiuto da parte dei consulenti.
B mai.
C sì, e costoro non possono rifiutare la loro opera.
-
- 184) L'atto di indagine compiuto personalmente dal Pubblico Ministero viene definito:**
A atto urgente.
B atto delegato.
C atto diretto.
-
- 185) In caso di presentazione spontanea dinanzi al Pubblico Ministero da parte della persona nei cui confronti sono svolte indagini, la dichiarazione resa circa il fatto per cui si procede equivale :**
A non equivale all'interrogatorio.
B pregiudica l'applicazione di misure cautelari.
C per ogni effetto all'interrogatorio.
-
- 186) L'accompagnamento coattivo per procedere a interrogatorio o a confronto, è disposto :**
A dal Pubblico Ministero anche senza l'autorizzazione del giudice.
B dal Pubblico Ministero su autorizzazione del giudice.
C dalla polizia giudiziaria.
-
- 187) Nell'acquisizione di plichi sigillati o altrimenti chiusi l'ufficiale di polizia giudiziaria :**
A è un atto di iniziativa degli agenti di polizia giudiziaria.
B li trasmette intatti al Pubblico Ministero per l'eventuale sequestro.
C è un atto del Pubblico Ministero.
-
- 188) Chi ha l'obbligo del referto deve farlo pervenire al Pubblico Ministero :**
A entro 48 ore o se vi è pericolo nel ritardo, immediatamente.
B entro 24 ore.
C entro 36 ore.
-
- 189) Nel caso in cui più persone abbiano prestato la loro assistenza nella medesima occasione, sono tutti obbligati al referto:**
A sono obbligate al referto le persone più anziane.
B sono tutti obbligati al referto con facoltà di redigere e sottoscrivere un unico Atto.
C sono tutti obbligati al referto con obbligo di redigere più atti.
-
- 190) Chiunque si avvalga di una persona minore di anni 14 per mendicare è punito:**
A con l'arresto da sei mesi ad un anno.
B con l'arresto da tre mesi ad un anno.
C con l'arresto da un mese ad un anno.
-
- 191) Nel caso in cui un muto debba fare dichiarazioni, al quale vengono presentate le domande oralmente:**
A egli risponderà per iscritto.
B egli si farà assistere da un familiare.
C egli risponderà a gesti.
-
- 192) Se la persona sordomuta che debba rendere dichiarazioni non sa leggere o scrivere, l'autorità procedente:**
A nomina uno o più interpreti.
B valuta discrezionalmente il linguaggio non verbale.
C rinuncia alla dichiarazione.

-
- 193) **Allorquando venga disposta quale misura cautelare l'allontanamento dell'imputato dalla casa familiare, la prescrizione a suo carico di non potervi accedere senza autorizzazione può eventualmente consentire:**
- A le visite non sono mai consentite.
 - B determinate modalità di visita.
 - C sono necessarie due autorizzazioni.
-
- 194) **Chiunque, in un luogo pubblico o aperto o esposto al pubblico, compie atti contrari alla pubblica decenza :**
- A è soggetto alla sanzione amministrativa da euro 2000 a euro 5000.
 - B è soggetto alla sanzione amministrativa da euro 5000 a euro 10000.
 - C è soggetto alla sanzione amministrativa da euro 1000 a euro 5000.
-
- 195) **L'abbandono di animali domestici è punito :**
- A con l'arresto fino ad un anno e con l'ammenda da 1000 a 10000 euro.
 - B solo con un'ammenda.
 - C con l'arresto fino a 6 mesi e con l'ammenda di 1000 euro.
-
- 196) **Allorquando si verifichi che "chiunque con artifici o raggiri, inducendo taluni in errore procuri a sé o a altri un ingiusto profitto con altrui danno", viene a configurarsi il reato di:**
- A appropriazione indebita.
 - B peculato.
 - C truffa.
-
- 197) **L'ispezione personale deve avvenire in presenza di certe condizioni :**
- A sempre con l'assistenza di un medico.
 - B sempre obbligatoriamente con la presenza di una persona di fiducia.
 - C è eseguita nel rispetto della dignità e, nei limiti del possibile, del pudore di chi vi è sottoposto.
-
- 198) **Allorquando l'ispezione personale venga eseguita per mezzo di un medico, l'autorità giudiziaria:**
- A l'autorità giudiziaria deve essere, in ogni caso, presente.
 - B può astenersi dall'assistere alle operazioni.
 - C è sempre necessaria la presenza dell'autorità giudiziaria.
-
- 199) **I reati propri sono quelli commessi da:**
- A chiunque.
 - B coloro che occupano una carica politica.
 - C coloro cui la legge richiede una speciale qualifica.
-
- 200) **Qualora vi sia una richiesta, gli uffici di vigilanza e di investigazione sono obbligati a prestare la propria opera a favore della pubblica sicurezza o della polizia giudiziaria?**
- A solo in occasione di gravi calamità
 - B no mai
 - C sì sempre
-
- 201) **In quali casi può essere disposta la perquisizione personale?**
- A in tutti i casi in cui è necessario accertare gli effetti materiali del reato
 - B Quando vi sia fondato motivo di ritenere che qualcuno occulti sulla persona il corpo del reato o cose pertinenti al reato
 - C In tutti i casi in cui è necessario accertare le tracce del reato
-
- 202) **Gli accertamenti effettuati durante la fase delle indagini preliminari dal Pubblico Ministero e dalla polizia giudiziaria sono finalizzati all'acquisizione:**
- A di elementi a supporto della difesa
 - B di elementi a supporto dell'accusa
 - C delle fonti di prova
-
- 203) **Le guardie giurate:**
- A sono sottoposte alla vigilanza del prefetto
 - B sono sottoposte alla vigilanza del comando generale dell'Arma dei carabinieri
 - C sono sottoposte alla vigilanza del questore
-
- 204) **La polizia giudiziaria deve redigere verbale per le perquisizioni e i sequestri compiuti nel corso delle indagini:**

- A solo in caso di richiesta di carcerazione preventiv
- B sì sempre
- C non sempre

205) **La comunicazione telefonica equivale alla notificazione con effetti dal momento in cui è avvenuta:**

- A sempre che della stessa sia data immediata conferma al destinatario mediante telegramm
- B sempre che sia seguita da una raccomandata dell' ufficiale giudiziario o della polizia giudiziaria al destinatario
- C Solo se fatta all'imputato a seguito della dichiarazione o elezione di domicilio

206) **La richiesta di rinvio a giudizio di un indagato a cui non sia stato notificato l'avviso della conclusione delle indagini preliminari è:**

- A valida ed efficace
- B null
- C inefficace

207) **E'ammesso l'uso di manette o simili strumenti di coercizione fisica sui minori?**

- A sì qualora ricorrano gravi esigenze di sicurezza
- B non è consentito mai
- C è sempre consentito

208) **Può il corpo del reato essere sequestrato dalla polizia giudiziaria?**

- A sì ma il sequestro deve essere sempre convalidato dal Pubblico Ministero
- B no in quanto il sequestro è un atto tipico del Pubblico Ministero
- C sì sempre senza che sia necessaria la convalida da parte del Pubblico Ministero

209) **Il difensore dell'indagato ha facoltà di assistere al sequestro di cose e luoghi pertinenti al reato compiuto dalla polizia giudiziaria?**

- A Sì e ha il diritto di essere preventivamente avvisato
- B sì se sia ritenuto opportuno dal Pubblico Ministero
- C sì ma non ha il diritto di essere preventivamente avvisato

210) **La polizia giudiziaria trasmette il verbale di arresto eseguito in flagranza di reato a:**

- A al GIP
- B al Pubblico Ministero
- C al tribunale

211) **Successivamente all'intervento del Pubblico Ministero, la polizia giudiziaria può svolgere solo le intercettazioni telefoniche indispensabili all'accertamento dei reati?**

- A No la polizia giudiziaria può svolgere tutte le altre attività di indagine di iniziativa per accertare i reati
- B no la polizia giudiziaria non può svolgere nessun'altra attività di indagine volta ad accertare i reati
- C sì

212) **La polizia giudiziaria deve comunicare al difensore di fiducia o d'ufficio l'avvenuto arresto di una persona in flagranza di reato:**

- A sì sempre
- B sì in caso di arresto di un minore
- C no dipende dalla gravità del reato

213) **Possono le attività investigative del difensore essere svolte da investigatori privati autorizzati e da consulenti tecnici:**

- A no da investigatori privati autorizzati e dalla polizia giudiziaria su incarico del difensore
- B no mai
- C sì se appositamente incaricati

214) **Può il medesimo difensore assumere la difesa di più imputati?**

- A Sì è sempre possibile
- B No in nessun caso
- C Sì purché le diverse posizioni non siano tra loro incompatibili

215) **L'elenco dei documenti d'identità, ai fini dell'identificazione, è tassativo:**

- A sì salvo previsione normativa complementare per documenti equipollenti
- B sì lo è
- C no

- 216) **Nella propria attività di indagine la polizia giudiziaria è soggetta alle direttive del giudice per le indagini preliminari:**
A no le direttive le impartisce il Pubblico Ministero
B no è soggetta al Pubblico Ministero e ai giudici del tribunale
C sì
-
- 217) **La querela è:**
A sia una condizione di procedibilità che una notizia di reato
B solo una condizione di procedibilità
C solo una notizia di reato
-
- 218) **In materia di armi ed esplosivi, la perquisizione amministrativa con esito positivo deve essere convalidata:**
A sempre
B sulla base della quantità di armi
C mai
-
- 219) **Qualora si ritenga che l'imputato sia minorenne, l'autorità giudiziaria trasmette gli atti:**
A al Presidente del tribunale ordinario
B al Procuratore della Repubblica presso il tribunale dei Minori
C al Procuratore generale presso la Corte di Cassazione per gli ulteriori adempimenti
-
- 220) **Tra i seguenti atti di indagine quale non può essere svolto dalla polizia giudiziaria:**
A la perquisizione
B le consulenze tecniche
C il sequestro
-
- 221) **In cosa consiste la sanzione prevista per gli atti di indagine assunti dalla polizia giudiziaria o dal Pubblico Ministero oltre il termine di durata delle indagini preliminari:**
A sono inammissibili
B sono inutilizzabili
C sono decaduti
-
- 222) **Vengono definite armi improprie:**
A gli strumenti atti ad offendere che non hanno quale finalità principale l'offesa alla persona
B qualsiasi strumento atto ad offendere la persona
C le armi da guerra e le armi comuni da sparo
-
- 223) **E' ammesso il sequestro probatorio di documenti depositati presso una banca?**
A Sì ma solo se appartengono all'imputato
B Sì quando l'autorità giudiziaria abbia fondato motivo di ritenere che siano pertinenti al reato anche qualora non appartengano all'imputato
C sì ma non quelli depositati in cassette di sicurezz
-
- 224) **Può il corpo del reato essere sequestrato dalla polizia giudiziaria:**
A sì sempre, senza necessità di convalida
B no il sequestro è atto tipico del Pubblico Ministero
C sì ma il sequestro deve sempre essere convalidato dal Pubblico Ministero
-
- 225) **Possono essere raccolte prove durante la fase delle indagini preliminari?**
A Sì salvo eccezioni
B No durante la fase delle indagini preliminari si raccolgono solo fonti di prova a meno che non si proceda con un incidente probatorio
C No in nessun caso
-
- 226) **Si indichi l'autorità locale di pubblica sicurezza nel capoluogo di provincia:**
A il questore
B il sindaco
C il prefetto
-
- 227) **A seguito dell'archiviazione del procedimento è possibile la riapertura delle indagini preliminari:**
A no, una volta archiviato il procedimento è definitivamente concluso
B sì ma solo se l'indagato vi acconsent
C sì il Pubblico Ministero, per esigenze di nuove investigazioni, può chiedere al giudice delle indagini preliminari la riapertura delle indagini

-
- 228) **Colui al quale siano state sequestrate le cose, può proporre richiesta di riesame nel merito contro il decreto di sequestro?**
- A Sì può farlo
 - B No, il decreto di sequestro non è impugnabile
 - C No, solo la persona che ha diritto alla restituzione delle cose sequestrate può proporre la richiesta di riesame
-
- 229) **Chi può richiedere la carta d'identità?**
- A I cittadini italiani, anche minorenni, i cittadini comunitari residenti, i cittadini extracomunitari in regola con il permesso di soggiorno
 - B Solo i cittadini italiani
 - C Solo le persone maggiorenni che risiedono nel comune
-
- 230) **Può la persona nei cui confronti vengono svolte le indagini, fornire dichiarazioni spontanee alla polizia giudiziaria?**
- A No mai
 - B Solo per i reati gravi
 - C Sì sempre
-
- 231) **Può l'arrestato in flagranza essere perquisito?**
- A Solo se l'arresto è avvenuto durante la giornata
 - B Solo con decreto del Pubblico Ministero
 - C Sì sempre
-
- 232) **Come viene fatta la perquisizione sul corpo di una donna:**
- A a procedere sarà un'altra donna, tranne i casi di impossibilità o urgenza assoluta
 - B va fatta esclusivamente da una donna appena di nullità
 - C non incontra particolari limiti
-
- 233) **Le funzioni di Pubblico Ministero, nelle indagini preliminari, sono esercitate da:**
- A dal giudice di pace
 - B i magistrati della procura della Repubblica presso il tribunale
 - C i magistrati della procura generale presso la corte d'Appello
-
- 234) **Deve l'ufficiale di polizia giudiziaria rilasciare copia del verbale di interrogatorio delegato all'indagato?**
- A No
 - B Alternativamente a lui o all'avvocato difensore
 - C Sì sempre
-
- 235) **Quando si può procedere con una perquisizione su di un automezzo?**
- A Quando ne ricorrano le condizioni legittimanti
 - B solo dalle 8 alle 20
 - C Sempre
-
- 236) **Quanto dura il sequestro probatorio?**
- A Fino a quando rimangono le esigenze di tutela della prova
 - B 4 mesi
 - C 2 mesi
-
- 237) **Quando al termine delle indagini preliminari la notizia di reato risulta infondata:**
- A il Pubblico Ministero presenta al giudice richiesta di archiviazione
 - B il Pubblico Ministero dispone direttamente l'archiviazione
 - C il giudice per le indagini preliminari dispone l'archiviazione su richiesta del difensore dell'imputato
-
- 238) **Chi provvede agli adempimenti materiali conseguenti all'arresto:**
- A Il Pubblico Ministero
 - B solo l'ufficiale o l'agente di polizia giudiziaria che ha eseguito l'arresto
 - C l'ufficiale o l'agente di polizia giudiziaria anche diversi da quelli che hanno eseguito l'arresto
-
- 239) **Possono gli agenti di polizia giudiziaria redigere l'annotazione?**
- A sì sempre
 - B no mai
 - C sì ma solo insieme ad un ufficiale di polizia giudiziari

-
- 240) **Il consulente tecnico che risulti necessario per operazioni specifiche e competenze e che sia stato nominato dal Pubblico Ministero, può rifiutare di prestare la propria opera?**
- A Potrà rifiutare se l'incarico sia stato dato nei mesi estivi
 - B No il consulente tecnico non può rifiutare la propria opera
 - C Potrà sempre rifiutare
-
- 241) **Allorquando il Pubblico Ministero inviti la persona sottoposta alle indagini a presentarsi, quale dei seguenti elementi dovrà necessariamente essere contenuto nell'invito stesso:**
- A la richiesta delle ultime attività compiute della persona stessa
 - B uno stato di famiglia della persona invitata
 - C il tipo di atto per il quale l'invito è predisposto
-
- 242) **Qualora vi siano diversi uffici del Pubblico Ministero che procedono, indagini collegate:**
- A dipende dalle singole circostanze
 - B si ordineranno tra di loro per speditezza, economia ed efficacia delle indagini stesse
 - C procederanno in ogni caso in autonomia
-
- 243) **Allorquando il Pubblico Ministero debba assumere atti nella circoscrizione di un altro tribunale:**
- A può delegare secondo la rispettiva competenza per materia il Pubblico Ministero presso il tribunale
 - B non può delegare e deve sempre procedere personalmente
 - C può delegare solo se vi siano motivi di collegamento
-
- 244) **L'attività assicurativa della polizia giudiziaria:**
- A consiste nella ricerca dell'autore della contravvenzione
 - B mette al riparo da alterazioni, smarrimento e simili le prove
 - C consiste nella ricerca dell'autore dell'illecito civile
-
- 245) **La funzione svolta dalla polizia giudiziaria in Italia è:**
- A una funzione pubblica
 - B una funzione privata
 - C una funzione privata con il controllo dell'autorità pubblica
-
- 246) **Ai sensi dell'articolo 55 del codice di procedura penale non rientra tra gli obblighi della polizia giudiziaria l'attività volta ad impedire che i reati vengano portati a conseguenze ulteriori**
- A 0
 - B si tratta di un'attività facoltativa
 - C sì è vero non esiste questo obbligo
-
- 247) **Allorquando la polizia giudiziaria come d'obbligo riferisca la notizia di reato al Pubblico Ministero, deve sempre farlo:**
- A per iscritto
 - B è discrezionale
 - C no può sempre procedere anche attraverso una comunicazione verbale non scritta
-
- 248) **Il personale della ASL come medici e medici veterinari possono mai rivestire la qualifica di ufficiale o agente di polizia giudiziaria?**
- A Solo allorquando vi sia l'autorizzazione del giudice per le indagini preliminari
 - B No in nessun caso
 - C Sì se sono stati delegati dalle autorità competenti al fine di rilevare e denunciare la presenza di reati e pericoli per la salute umana e animale
-
- 249) **Colui nei cui confronti il Pubblico Ministero e la polizia giudiziaria svolgono attività di indagine viene definito:**
- A indagato
 - B reo
 - C imputato
-
- 250) **È soggetta a convalida la perquisizione personale:**
- A dipende dalle singole circostanze
 - B no mai
 - C sì sempre
-
- 251) **Le indagini preliminari sono dirette:**
- A dal giudice istruttore
 - B dal Pubblico Ministero che dispone direttamente della polizia giudiziaria
 - C dal giudice delle indagini preliminari

-
- 252) **Può essere oggetto di sequestro probatorio:**
A il corpo del reato e le cose pertinenti al reato
B qualora non vi sia stato l'uso di armi, gli oggetti con i quali è stato commesso il reato
C qualsiasi oggetto di proprietà dell'agente
-
- 253) **I provvedimenti di polizia consistono in:**
A ordini, provvedimenti di necessità ed urgenza ed ordinanze
B ordini, ordinanze, provvedimenti di necessità e di urgenza e autorizzazioni
C autorizzazioni e licenze
-
- 254) **Qual è il termine entro il quale l'arrestato o il fermato va posto a disposizione del Pubblico Ministero e condotto in istituto di custodia?**
A 36 ore
B Subito e non oltre le 24 ore
C 48 ore
-
- 255) **Durante la fase delle indagini preliminari, il Pubblico Ministero e la polizia giudiziaria svolgono accertamenti volti ad acquisire:**
A fonti di prova
B elementi a supporto della difesa
C elementi a supporto dell'accusa
-
- 256) **Quando il Pubblico Ministero esercita l'azione penale?**
A al termine del giudizio di primo grado
B al termine delle indagini preliminari con la richiesta di rinvio a giudizio
C con l'esecuzione della sentenza definitiva
-
- 257) **Può la polizia giudiziaria acquisire sommarie informazioni dalla persona sottoposta alle indagini:**
A sì ma è necessaria la presenza del difensore
B no mai
C sì nei casi in cui ricorra l'urgenza
-
- 258) **Il reato di rissa è:**
A senza soggetti agenti
B a pluralità non necessari
C a pluralità necessari
-
- 259) **In caso di arresto che obbligo ha la polizia giudiziaria?**
A Darne immediatamente notizia al difensore
B Darne immediatamente notizia al Pubblico Ministero
C Darne immediatamente notizia al Pubblico Ministero e al difensore
-
- 260) **Può la persona cui siano state sequestrate cose, proporre richiesta di riesame nel merito contro il decreto di sequestro?**
A Sì può farlo
B Sì ma dipende dal tipo di cose sequestrate
C No, in nessun caso
-
- 261) **Nel nostro ordinamento giuridico qual è l'organo di investigazione di azione penale con funzioni direttive della polizia giudiziaria?**
A Il giudice di pace
B Il giudice per le indagini preliminari
C Il Pubblico Ministero
-
- 262) **Deve essere rilasciato all'indagato da parte dell'ufficiale di polizia giudiziaria copia del verbale di interrogatorio delegato?**
A Sì sempre
B Sì o in alternativa all'avvocato difensore
C No
-
- 263) **Allorquando risultino contraddittori gli elementi acquisiti durante le indagini preliminari, il giudice dell'udienza preliminare:**
A pronuncia sentenza di non luogo a procedere
B pronuncia sentenza di non luogo a procedere, salvo che il Pubblico Ministero non vi si opponga
C pronuncia comunque il decreto che dispone il giudizio

-
- 264) **Quando è ammesso il sequestro probatorio di pacchi presso gli uffici postali?**
A Quando l'autorità giudiziaria li ritenga spediti dall'imputato o a lui diretti anche sotto nome diverso o per mezzo di persona diversa o che comunque possono avere relazione con il reato
B Quando l'imputato sia il mittente dei pacchi e solo in questa circostanza
C Quando l'imputato ha dato autorizzazione
-
- 265) **La violenza sessuale è un delitto contro:**
A il pudore
B la libertà morale
C la libertà personale
-
- 266) **Il reato di rapina è aggravato se:**
A la minaccia è posta in essere da persona che fa parte di un'associazione di tipo mafioso
B il fatto è commesso durante la notte
C il fatto è commesso in luogo pubblico
-
- 267) **Qualora nella commissione di un reato l'azione si verifichi sulla terraferma italiana e l'evento su una nave in navigazione nelle acque territoriali, può dirsi tale reato commesso nel territorio dello stato italiano?**
A sì sempre che si tratti di nave straniera
B Sì sempre che si tratti di nave italiana
C Sì in ogni caso
-
- 268) **Il giudice imporrà alla persona in stato di libertà vigilata:**
A prescrizioni idonee ad evitare le occasioni di nuovi reati
B limitazioni di spostamenti e di orari durante la notte
C visite quotidiane ai servizi sociali
-
- 269) **L'arresto nei procedimenti minorili è:**
A sempre facoltativo
B sempre obbligatorio
C è facoltativo solo nei casi in cui la reclusione sia inferiore a 5 anni
-
- 270) **La polizia giudiziaria può, senza la presenza del difensore, acquisire sommarie informazioni dalla persona sottoposta alle indagini?**
A Solo in casi determinati
B Sempre
C No mai
-
- 271) **Al di fuori dei casi previsti dall'articolo 511 del codice di procedura penale, la lettura dei verbali e degli altri atti di documentazione delle attività compiute dalla polizia giudiziaria:**
A è facoltativa
B è prevista
C è vietata
-
- 272) **La polizia giudiziaria può assumere dichiarazioni spontanee dalla persona nei cui confronti vengono svolte le indagini:**
A solo alla presenza di due difensori
B anche senza la presenza del difensore
C alla presenza di almeno un difensore
-
- 273) **Nel procedimento contro un minore l'autorità giudiziaria può avvalersi di strutture ausiliarie quali:**
A i servizi minorili del comune
B i servizi educativi e di formazione professionale
C i servizi minorili dell'amministrazione della giustizia
-
- 274) **La polizia giudiziaria procede al sequestro del corpo del reato:**
A no, il sequestro è un atto tipico del Pubblico Ministero
B sì anche senza convalida da parte del Pubblico Ministero
C sì ma il sequestro deve essere sempre convalidato dal Pubblico Ministero
-
- 275) **Nell'ipotesi di rifiuto di esibire i documenti o di provare la propria identità l'autorità di PS ha:**
A l'obbligo di procedere con rilievi segnaletici
B l'obbligo di procedere solo in caso di persone pericolose o sospette
C la facoltà di procedere con rilievi segnaletici

-
- 276) **Chi procede all'interrogatorio della persona arrestata e/o fermata?**
A Il giudice e/o il Pubblico Ministero
B La polizia giudiziari
C Il Pubblico Ministero
-
- 277) **Quali sono i diritti che può esercitare la persona offesa dal reato?**
A I diritti ad essa riconosciuti dalla legge ma non può presentare memorie o indicare elementi di prova tranne le eccezioni previste dalla legge
B I diritti e le facoltà ad essa riconosciute dalla legge ma non può presentare memorie e indicare elementi di prova
C I diritti e le facoltà ad essa riconosciute dalla legge, può presentare memorie e indicare elementi di prova
-
- 278) **Qualora alla scadenza del termine di durata delle indagini preliminari vengano compiuti altri atti di indagine essi saranno:**
A validi ed efficaci
B validi ma inefficaci
C I diritti e le facoltà ad essa riconosciute dalla legge, può presentare memorie e indicare elementi di prova
-
- 279) **L'art 55 del codice di procedura penale si occupa:**
A delle funzioni della polizia giudiziari
B dei vari tipi di pena
C della distinzione tra delitti e contravvenzioni
-
- 280) **L'attività svolta dalla polizia giudiziaria è:**
A prevalentemente investigativa
B prevalentemente operativa
C prevalentemente consultiva
-
- 281) **La polizia giudiziaria ha facoltà di svolgere:**
A sia atti tipici che atti atipici che, nel rispetto della legge, siano rivolti all'individuazione del responsabile e a ricostruire il fatto di reato
B solo atti tipici
C solo atti atipici che abbiano una giusta causa
-
- 282) **L'azione di vigilanza della polizia giudiziaria al fine di impedire la commissione di illeciti riguarda:**
A solo illeciti amministrativi
B sia illeciti penali che illeciti amministrativi
C solo illeciti penali
-
- 283) **La ricerca dell'autore del reato da parte della polizia giudiziaria rientra nell'attività:**
A informativa
B assicurativa
C investigativa
-
- 284) **In base alla legge, gli ufficiali superiori e inferiori e i sottufficiali dei carabinieri e della guardia di finanza sono:**
A ufficiali di polizia giudiziari
B agenti di polizia giudiziari
C agenti del corpo forestale
-
- 285) **Può essere considerato ufficiale di polizia giudiziaria:**
A il Sindaco dei comuni dove non abbia sede un ufficio della polizia di stato ovvero un comando dell'arma dei carabinieri o della guardia di finanza
B Il Sindaco lo è sempre indipendentemente da qualsiasi condizione
C No, in nessun caso è considerato tale
-
- 286) **La querela consiste:**
A in una denuncia del fatto
B in un atto di autorizzazione della Pubblica amministrazione
C in una dichiarazione nella quale viene manifestata la volontà che si proceda in ordine a un fatto previsto dalla legge come reato
-
- 287) **Nel nostro ordinamento attuale, le indagini preliminari della polizia giudiziaria hanno valore probatorio?**
-

- A Sì sempre
- B No, salvo le disposizioni relative all'incidente probatorio
- C No, in nessun caso

-
- 288) **Il Pubblico Ministero, nell'ipotesi di reati comuni, può disporre la segretezza delle indagini:**
- A per un periodo non superiore a un mese
 - B per un periodo non superiore a sei mesi
 - C per un periodo non superiore a tre mesi
-
- 289) **La funzione di polizia giudiziaria ha:**
- A natura e finalità repressive
 - B natura e finalità certificative
 - C natura e finalità preventive
-
- 290) **La legge prevede che il difensore dell'indagato abbia il diritto di essere avvertito nei seguenti casi:**
- A ispezione e confronto
 - B interrogatorio, ispezione e confronto
 - C non vi è obbligo di avviso
-
- 291) **Al termine dell'indagine nei suoi confronti la persona sospettata di un dato reato viene considerata:**
- A imputata
 - B indagata
 - C fortemente sospettata
-
- 292) **Prima di assumere le sommarie informazioni, la polizia giudiziaria invita la persona nei cui confronti vengono svolte le indagini:**
- A a nominare un difensore di fiducia e in difetto provvede con quello d'ufficio
 - B la polizia giudiziaria non ne ha alcun obbligo
 - C ad ascoltare i consigli che lei stessa darà
-
- 293) **Può un medico di sesso maschile, nominato ausiliario di polizia giudiziaria, eseguire una perquisizione personale su una donna?**
- A No, mai
 - B Sì se autorizzato dal Pubblico Ministero
 - C Sì può farlo
-
- 294) **Può essere disposto il sequestro conservativo:**
- A quando vi sia fondato motivo di ritenere che manchino o si disperdano le garanzie per il pagamento della pena pecuniaria delle spese di procedimento
 - B quando vi sia pericolo di fuga all'estero
 - C quando vi sia pericolo di fuga
-
- 295) **Qualora ricorra l'urgenza, il sequestro preventivo può essere disposto:**
- A dal Pubblico Ministero
 - B dagli ufficiali di polizia giudiziaria salvo l'obbligo di trasmissione al Pubblico Ministero del relativo verbale
 - C dal giudice per le indagini preliminari
-
- 296) **Può l'interessato che debba essere sottoposto a perquisizione personale farsi assistere da persona di sua fiducia:**
- A no, in nessun caso
 - B sì, purché questa sia prontamente reperibile e idonea a norma dell'articolo 120 del codice di procedura penale
 - C solo se si tratta di persona dello stesso sesso di quella che deve essere perquisita
-
- 297) **A chi va notificato il decreto per l'esecuzione di una perquisizione domiciliare?**
- A A colui che ha l'attuale disponibilità del domicilio
 - B All'indagato
 - C All'indagato e a chi ha l'attuale disponibilità del domicilio
-
- 298) **Non può essere svolto dalla polizia giudiziaria:**
- A il sequestro a carico di persone non indagate
 - B il sequestro di plichi e corrispondenza
 - C la perquisizione personale
-
- 299) **Le attività di perquisizioni, sequestri ed ispezioni dei luoghi sono sempre soggette a verbalizzazione formale:**

- A è a discrezione dell'ufficiale giudiziario
- B sì lo sono
- C è a discrezione del Pubblico Ministero

300) **La polizia giudiziaria, ai fini dell'identificazione, invita la persona nei cui confronti vengono svolte le indagini a dichiarare o eleggere domicilio per le notificazioni:**

- A sì sempre
- B mai
- C non sempre dipende dalle circostanze

301) **Può la polizia giudiziaria, nel corso dell'indagine, interrogare l' indagato in stato di libertà?**

- A Sì anche senza necessità della delega
- B Anche senza necessità della delega se l'interrogatorio sia collegato ad una perquisizione
- C No, tranne che vi sia una delega del Pubblico Ministero

302) **La polizia giudiziaria dovrà trasmettere il verbale di arresto al Pubblico Ministero:**

- A non oltre le 12 ore
- B non oltre le 36 ore
- C al più presto e comunque non oltre le 24 ore

303) **La denuncia va presentata:**

- A al Pubblico Ministero o/a un ufficiale di polizia giudiziari
- B al giudice per le indagini preliminari
- C ad un ufficiale di polizia giudiziari

304) **Può la polizia giudiziaria, ai fini della identificazione delle persone indagate, prendere le impronte digitali?**

- A Solo in caso di arresto in flagranza
- B sì, anche eseguendo, ove occorra, rilievi dattiloscopici, fotografici e antropometrici
- C No mai

305) **Il sequestro perdura fin quando rimangono le esigenze di tutela della prova:**

- A sì è vero
- B il sequestro dura un mese
- C il sequestro dura 30 giorni

306) **Anche dopo l'archiviazione il Pubblico Ministero può chiedere, per esigenze di nuove investigazioni, al giudice delle indagini preliminari la riapertura delle indagini?**

- A Sì può sempre farlo
- B No la riapertura delle indagini non è mai possibile
- C Sì ma è necessario il consenso dell'indagato

307) **Qualora una banca si rifiuti di esibire documenti, chi potrà eseguire una perquisizione?**

- A Un funzionario della Banca d'Italia
- B Il cancelliere del tribunale
- C Il Pubblico Ministero

308) **Quando la polizia giudiziaria procede con atti non ripetibili, i relativi verbali sono raccolti nel fascicolo per il dibattimento:**

- A sì, sempre
- B no, sono raccolti solo quelli degli atti ripetibili
- C è una scelta discrezionale

309) **Il personale addetto a ciascuna sezione di polizia giudiziaria dipende:**

- A dai magistrati che dirigono gli uffici presso i quali è istituita la sezione
- B dal prefetto
- C dal presidente del tribunale

310) **Nella norma penale ritroviamo quali elementi costitutivi:**

- A il precetto e la sanzione
- B l'elemento soggettivo
- C la sanzione

311) **Il bene giuridico tutelato dalla norma penale è:**

- A dipende dalle circostanze
- B necessariamente il patrimonio
- C l'oggetto giuridico del reato

312) **Nella condotta penalmente rilevante non costituisce una circostanza soggettiva del reato:**

- A le modalità dell'azione
- B l'intensità del dolo
- C la gravità della colpa

313) **L'affermazione in base alla quale "nessuno può essere punito per un fatto che non sia previsto come reato dalla legge" incarna:**

- A il principio di legalità
- B il principio di giustizia
- C il principio di eguaglianza

314) **Se, successivamente alla condanna, il reo muore, quali saranno gli effetti della morte:**

- A estinzione della pena
- B estinzione della pena e delle obbligazioni civili nascenti dal reato
- C estinzione della pena ma non delle obbligazioni civili nascenti da reato

315) **Nel reato di truffa sono sempre presenti gli artifici e raggiri:**

- A gli artifici sì ma i raggiri no
- B sì è vero, ne costituiscono presupposto indispensabile
- C dipende dalle circostanze concrete

316) **Che cosa accade se si viola la norma penale?**

- A La conseguenza sarà una sanzione disciplinare
- B La conseguenza sarà il risarcimento del danno
- C La conseguenza sarà la pena

317) **Se il reato viene commesso a causa di forza maggiore:**

- A la conseguenza sarà solo una multa
- B alla pena seguirà il pagamento di una ammenda
- C esso rimarrà impunito

318) **L'atto di clemenza nei confronti dell'autore del reato da parte del Capo dello Stato viene definita:**

- A agevolazione
- B indulto
- C amnistia

319) **La consuetudine è fonte di diritto penale:**

- A lo è a condizione che non sia troppo recente
- B è falso, la consuetudine non è fonte del diritto penale
- C sì lo è sempre

320) **Le ordinanze d'urgenza sono fonti del diritto penale?**

- A lo sono solo se seguono una consuetudine
- B No non lo sono
- C lo sono in ogni caso

321) **I delitti si distinguono dalle contravvenzioni per:**

- A la diversa specie delle pene previste
- B ai delitti segue, spesso, la morte
- C i delitti hanno sempre come conseguenza lesioni

322) **Alle contravvenzioni segue:**

- A arresto, ammenda
- B arresto, detenzione domiciliare
- C ammenda, un percorso in una comunità di recupero

323) **Qual è l'articolo della Costituzione in cui è indicato il principio di colpevolezza?**

- A articolo 27
- B articolo 32
- C articolo 22

-
- 324) Aiutare il reo a sottrarsi alle ricerche della autorità concretizza il delitto di:**
A favoreggiamento personale
B complicità
C correatità
-
- 325) Durante le indagini preliminari, gli atti dell'attività investigativa del difensore vengono inseriti:**
A nel fascicolo del Pubblico Ministero
B nel fascicolo del dibattimento
C nel fascicolo del difensore
-
- 326) Il difensore dell'indagato, durante la perquisizione, ha facoltà di:**
A essere preventivamente avvisato e necessariamente presente
B essere preventivamente avvisato
C assistere senza il diritto di essere preventivamente avvisato e la sua presenza non deve comportare ritardo nell'operazione
-
- 327) La perquisizione locale presso lo studio del difensore è eseguita:**
A alla presenza obbligatoria di almeno un ufficiale di polizia giudiziaria
B alla presenza obbligatoria del Pubblico Ministero
C alla presenza obbligatoria di almeno due ufficiali di polizia giudiziaria
-
- 328) Allorquando l'imputato sia obbligato a presentarsi alla polizia giudiziaria, egli deve:**
A presentarsi presso un determinato ufficio di polizia giudiziaria alle scadenze prestabilite
B presentarsi ogni tre giorni presso un qualunque ufficio di polizia giudiziaria
C presentarsi due volte al giorno presso un qualunque ufficio di polizia giudiziaria
-
- 329) A chi viene inviata l'informazione di garanzia?**
A solo alla persona offesa dal reato
B Tanto alla persona sottoposta alle indagini preliminari quanto alla persona offesa
C Solo alla persona sottoposta alle indagini preliminari
-
- 330) Il verbale di arresto va trasmesso al Pubblico Ministero da parte della polizia giudiziaria:**
A entro 12 ore dall'arresto
B entro 48 ore dall'arresto salvo che il Pubblico Ministero autorizzi una dilazione maggiore
C entro 24 ore dall'arresto salvo che il Pubblico Ministero autorizzi una dilazione maggiore
-
- 331) Quale delle seguenti attività non può essere svolta dalla polizia giudiziaria?**
A un sequestro a carico di persone non indagate
B l'interrogatorio dell'indagato a meno che non vi sia una delega del Pubblico Ministero
C una perquisizione personale
-
- 332) La polizia giudiziaria non può svolgere senza la delega del Pubblico Ministero:**
A la perquisizione personale dell'indagato
B l'interrogatorio dell'indagato in stato di libertà
C l'identificazione dell'indagato
-
- 333) Sono sempre coperti dal segreto gli atti di indagine compiuti dal Pubblico Ministero e dalla polizia giudiziaria?**
A no
B Sì ma non oltre la chiusura delle indagini preliminari
C sì
-
- 334) Le perquisizioni di iniziativa possono essere eseguite :**
A solo nei confronti dell'arrestato
B nei casi previsti dalla legge e sussistendone i presupposti
C solo se si cercano armi e munizioni
-
- 335) Tra le seguenti circostanze quale è considerata circostanza aggravante comune?**
A L'aver reagito in stato di ira
B l'aver agito per motivi di particolare valore morale o sociale
C L'aver agito per motivi abietti o futili
-
- 336) Quale tra le seguenti è una circostanza attenuante comune?**
-

- A L'aver adoperato sevizie
- B l'aver agito per motivi di particolare valore morale o sociale
- C L'aver agito con crudeltà verso le persone

-
- 337) **Quale tra le seguenti è considerata circostanza attenuante comune?**
- A L'aver commesso il fatto con abuso di poteri
 - B L'aver adoperato sevizie
 - C L'essere concorso a determinare l'evento, insieme con l'azione o l'omissione del colpevole, il fatto doloso della persona offesa
-
- 338) **L'ignoranza della legge penale è invocabile:**
- A solo quando si tratta di ignoranza inevitabile
 - B sempre
 - C in alcune circostanze previste dalla legge
-
- 339) **L'arresto ha:**
- A finalità solo investigative
 - B finalità investigative e social-preventive
 - C finalità solo preventive
-
- 340) **Nel reato di inadempimento di contratti di pubbliche forniture, chi è il soggetto che può essere punito?**
- A Solo una persona incaricata di un pubblico servizio
 - B Solo un pubblico ufficiale
 - C Chiunque
-
- 341) **La sospensione condizionale della pena:**
- A si applica solo alle pene principali del reato
 - B non si estende alle pene accessorie
 - C si estende alle pene accessorie
-
- 342) **La nomina del difensore di fiducia della persona fermata arrestata in custodia cautelare può essere fatta:**
- A solo d'ufficio
 - B da un prossimo congiunto finché la stessa non vi abbia provveduto
 - C solo dall'interessato
-
- 343) **Chi ha commesso il fatto per esservi stato costretto da altri, mediante violenza fisica alla quale non poteva resistere o comunque sottrarsi:**
- A non è punibile
 - B è punibile solo se viene provata la violenza fisica
 - C è sempre punibile
-
- 344) **Può il fermo di polizia giudiziaria essere eseguito fuori dai casi di flagranza?**
- A sì se il fermato non è cittadino di uno Stato dell'Unione Europe
 - B sì, per il fermo non è necessaria la flagranza
 - C no, il fermo necessita la flagranza
-
- 345) **Chi è titolare del diritto di querela?**
- A Chi commette un illecito civile
 - B L'autore del reato
 - C La persona offesa da un reato per cui non debba procedersi d'ufficio o dietro richiesta o istanza
-
- 346) **La resistenza a un pubblico ufficiale si verifica quando:**
- A chiunque usa violenza o minaccia per opporsi a un pubblico ufficiale o a un incaricato di pubblico servizio mentre compie un atto contrario al suo ufficio o servizio
 - B chiunque usa violenza o minaccia per opporsi a un pubblico ufficiale o ad un incaricato di un pubblico servizio mentre compie un atto di ufficio o servizio, o a coloro che, richiesti, gli prestano assistenza
 - C il pubblico ufficiale usi violenza o minaccia contro un altro pubblico ufficiale o incaricato di un pubblico servizio per costringerlo a fare un atto del proprio dovere
-
- 347) **Allorquando il reato commesso sia diverso da quello voluto da taluno dei concorrenti, ai sensi dell'articolo 116 del codice penale, ne risponde anche chi non lo voleva:**
- A non ne risponde mai
 - B se l'evento è conseguenza della sua azione o omissione
 - C se vi sia una violazione di diritti costituzionali

-
- 348) Il diritto di querela può sempre essere esercitato:**
A può essere esercitato purché il reato non si sia prescritto
B può essere esercitato in qualsiasi momento
C falso non può essere esercitato decorsi tre mesi dal giorno della notizia del fatto che costituisce reato
-
- 349) Il difensore ha facoltà di svolgere investigazioni difensive?**
A no, mai
B sì anche se manchi l'incarico professionale
C sì, cercare di individuare elementi di prova a favore del proprio assistito, sin dal momento dell'incarico professionale risultante da atto scritto
-
- 350) Il reato consistente nella determinazione in altri dello stato di ubriachezza si verifica quando:**
A chiunque in luogo privato cagiona l'ubriachezza altrui somministrando bevande alcoliche
B chiunque in luogo pubblico o aperto al pubblico cagiona la ubriachezza altrui somministrando bevande alcoliche
C chiunque in luogo pubblico o privato cagiona l'ubriachezza altrui somministrando bevande alcoliche
-
- 351) La dichiarazione di abitualità, professionalità o tendenza a delinquere si estingue:**
A non si estingue mai
B per effetto della prescrizione
C per effetto della riabilitazione
-
- 352) A seguito della notifica dell'avviso della chiusura delle indagini preliminari, può l'indagato chiedere di essere sottoposto ad interrogatorio?**
A Il Pubblico Ministero può chiedere al giudice che lo faccia lui
B Il Pubblico Ministero non è tenuto a procedere
C Sì ed il Pubblico Ministero deve procedere
-
- 353) Quale tra le seguenti è una misura di sicurezza patrimoniale:**
A la confisca
B L'assegnazione ad una comunità di recupero
C la libertà vigilata
-
- 354) Il delitto è colposo o contro l'intenzione quando:**
A quando è voluto dall'agente
B quando nei derivi un evento dannoso o pericoloso più grave di quello voluto dall'agente
C l'evento, anche se previsto, non è voluto dall'agente e si verifica a causa di negligenza o imprudenza o imperizia, o per inosservanza di leggi, regolamenti, ordini o discipline
-
- 355) Tra le seguenti pene principali quale è quella prevista per le contravvenzioni?**
A Arresto
B Multa
C Reclusione
-
- 356) In base alla legge penale sono pubblici ufficiali:**
A coloro i quali esercitano una pubblica funzione legislativa, giudiziaria o amministrativa
B coloro i quali esercitano esclusivamente una funzione amministrativa
C coloro i quali esercitano esclusivamente una funzione giudiziaria
-
- 357) L'ispezione personale è disposta con:**
A decreto non motivato
B decreto motivato
C ordinanza
-
- 358) Quale tra le seguenti pene non rientra tra quelle restrittive della libertà personale?**
A la reclusione
B La multa
C l'arresto
-
- 359) Il concorso di persone nel reato si verifica:**
A una persona commette un reato aggravato
B una persona commette un reato attenuato
C più persone concorrono nel medesimo reato

-
- 360) Può il giudice, in caso di concorso di persone nel reato, diminuire la pena ai sensi dell'articolo 114 del codice penale?**
- A Sì quando ritenga che l'opera prestata da taluna delle persone che sono concorse nel reato abbia avuto minima importanza nella preparazione o nell'esecuzione del reato stesso
 - B Sì, sempre che si tratti di delitto colposo
 - C No, in nessun caso
-
- 361) Chi ha determinato a commettere un reato una persona non imputabile, ovvero non punibile a cagione di una condizione o qualità personale:**
- A risponde del reato da questa commesso e la pena è aumentata
 - B non risponde mai del reato da questa commesso
 - C risponde del reato da questa commesso senza aumento di pena
-
- 362) Nessuno può essere punito per un fatto che non sia espressamente previsto come reato:**
- A dalla legge e dai regolamenti
 - B dalla legge
 - C dalla legge e dalla consuetudine
-
- 363) L'assegnazione a Colonia agricola o ad una casa di lavoro è una misura di sicurezza:**
- A detentiva
 - B patrimoniale
 - C non è una misura di sicurezza
-
- 364) L'oltraggio ad un pubblico ufficiale:**
- A non è un reato
 - B è solo una contravvenzione
 - C costituisce un delitto
-
- 365) Nelle contravvenzioni l'oblazione è ammessa quando:**
- A la legge stabilisce la sola pena dell'ammenda
 - B sempre
 - C la legge stabilisce la pena della multa
-
- 366) In diritto penale la capacità di intendere indica:**
- A la capacità di agire
 - B la capacità di essere titolare di diritti e doveri
 - C la capacità di rendersi conto del valore morale dell'atto che si compie
-
- 367) Ai sensi della legge le misure di sicurezza sono ordinate dal giudice:**
- A dal giudice solo nella sentenza di proscioglimento
 - B nella stessa sentenza di condanna o di proscioglimento
 - C dal giudice solo nella sentenza di condanna
-
- 368) Le misure di sicurezza possono essere applicate:**
- A alle persone socialmente pericolose che siano ritenute tali dalle leggi civili
 - B a tutte le persone
 - C alle persone socialmente pericolose che abbiano commesso un fatto previsto dalla legge come reato
-
- 369) E' punibile per ubriachezza colui che:**
- A in luogo pubblico o aperto al pubblico è colto in stato di manifesta ubriachezza
 - B in luogo privato è colto in stato di ubriachezza anche non manifesta
 - C in luogo privato è colto in stato di ubriachezza manifesta
-
- 370) Nessuno può essere punito per un fatto che secondo la legge del tempo in cui fu commesso non costituiva:**
- A illecito amministrativo
 - B contravvenzione
 - C reato
-
- 371) Allorquando si concludano le indagini preliminari si avvisa l'indagato del fatto che ha facoltà di essere sottoposto ad interrogatorio:**
- A entro il termine di 10 giorni
 - B entro il termine di 30 giorni
 - C entro il termine di 20 giorni

-
- 372) La polizia giudiziaria rappresenta un corpo speciale?**
A No, indica le forze dell'ordine che, alle strette dipendenze dell'autorità giudiziaria, si occupano della materia penale
B E'un corpo speciale con funzioni in materia di sanzioni amministrative
C Sì, si tratta di un corpo speciale che riceve una formazione apposita
-
- 373) Quale delle seguenti attività non rientra nelle funzioni di polizia giudiziaria?**
A Investigativa
B Repressiva
C Giurisdizionale
-
- 374) Un dirigente appartenente alla polizia Penitenziaria, al quale l'ordinamento della singola Amministrazione abbia riconosciuto tale qualità, è:**
A agente di pubblica sicurezza
B agente di polizia giudiziaria
C ufficiale di polizia giudiziaria
-
- 375) Le guardie forestali sono:**
A operatori della polizia municipale
B ufficiali di polizia giudiziaria
C agenti di polizia giudiziaria
-
- 376) Le perquisizioni possono essere eseguite tanto dagli ufficiali di polizia giudiziaria quanto dagli agenti?**
A Possono essere svolte indifferentemente dagli uni o dagli altri basta che vi sia l'autorizzazione del Pubblico Ministero
B No, le perquisizioni possono essere svolte solo dagli ufficiali di polizia giudiziaria
C Possono essere svolte anche dall'agente se risulta una particolare urgenza
-
- 377) Nella prassi, il più delle volte chi procede alle perquisizioni?**
A Gli ufficiali giudiziari delegati dall'autorità procedente
B Pur potendo, il Pubblico Ministero delegare, la maggior parte delle volte è lui a procedere
C Gli ufficiali di polizia giudiziaria delegati dall'autorità giudiziaria che dispone, quasi sempre, con decreto
-
- 378) Il decreto che dispone la delega per le perquisizioni, è sempre necessario?**
A No Nei casi di particolare urgenza gli ufficiali possono procedere a perquisizioni anche senza il decreto
B Sì, è sempre necessario a pena di annullabilità
C Sì, è sempre necessario a pena di nullità
-
- 379) Il pericolo di fuga dell'indagato integra una situazione di urgenza che giustifichi una perquisizione anche in assenza di decreto?**
A Sì, sempre
B No, solo quando sia già noto agli inquirenti il luogo nel quale l'indagato andrà a nascondersi
C Il decreto risulta sempre necessario
-
- 380) Presso ogni procura della Repubblica sono istituite le sezioni di polizia giudiziaria:**
A Presso le procure non vi sono né sezioni né servizi di polizia giudiziaria
B Sì, è così
C No, presso le procure sono istituiti i servizi di polizia giudiziaria
-
- 381) Come si entra a far parte della polizia giudiziaria?**
A E' necessario dapprima diventare poliziotto attraverso un pubblico concorso
B Per chiamata diretta da un apposito elenco
C Per titoli ma senza concorso
-
- 382) Il personale dell'agenzia delle dogane ha la qualifica di ufficiale di polizia giudiziaria?**
A No, mai
B Sì, nei limiti dell'esercizio cui è destinato
C Solo in casi eccezionali
-
- 383) Medici dirigenti e convenzionati in servizio presso i dipartimenti di prevenzione delle ASL, con funzioni di ispezione e vigilanza, possono svolgere attività di polizia giudiziaria?**
A Svolgono solo attività di polizia amministrativa
B No, mai
C sì, se delegati dall'autorità competente al fine di rilevare e denunciare la presenza di reati

-
- 384) I carabinieri sono:**
A non hanno funzioni di polizia giudiziaria
B ufficiali di polizia giudiziaria
C agenti di polizia giudiziaria
-
- 385) L'arresto in stato di flagranza è uguale all'arresto:**
A no, l'arresto è la pena principale per le contravvenzioni
B l'arresto in flagranza di reato è una misura patrimoniale
C l'arresto in stato di flagranza è la pena principale per i delitti
-
- 386) La perquisizione, ai sensi della legge, viene disposta con:**
A ordinanza motivata
B decreto motivato
C sentenza
-
- 387) Può un minorenni prestare ufficio di perito?**
A Si' se vi sia l'autorizzazione del giudice tutelare
B Ai sensi della legge ed a pena di nullità un minorenni non può prestare ufficio di perito
C Si' se vi sia l'autorizzazione del tutore e del giudice tutelare
-
- 388) Il reato di peculato prevede la seguente fattispecie:**
A chiunque si impossessa della cosa mobile altrui sottraendola a chi la detiene
B il pubblico ufficiale o l'incaricato di un pubblico servizio che, avendo per ragione del suo ufficio o servizio il possesso o comunque la disponibilità di denaro o di altra cosa mobile altrui, se ne appropria
C il pubblico ufficiale o l'incaricato di un pubblico servizio che si impossessa della cosa mobile altrui sottraendola a chi la detiene
-
- 389) Alle persone socialmente pericolose che abbiano commesso un fatto previsto dalla legge come reato, possono essere applicate:**
A le misure sociali
B le misure di sicurezza
C le misure patrimoniali
-
- 390) Cosa si intende per concorso formale di reati?**
A Chi commette più azioni o omissioni esecutive di un medesimo disegno criminoso
B Chi commette un reato aggravato
C Chi con una sola azione o omissione viola diverse disposizioni di legge, ovvero commette più violazioni della stessa disposizione di legge
-
- 391) Chi lede o pone in pericolo un diritto con il consenso della persona che può validamente disporre:**
A è punibile e la pena sarà ridotta nella misura della metà
B è punibile ma la pena sarà ridotta nella misura di un terzo
C non è punibile
-
- 392) Che cosa si intende per istigazione alla corruzione?**
A La situazione di chiunque offra o prometta denaro o altra utilità non dovuti a un pubblico ufficiale o a un incaricato di un pubblico servizio che riveste la qualità di pubblico impiegato, per indurlo a compiere un atto del suo ufficio qualora l'offerta o la promessa non sia accettata
B Chiunque promette denaro o altra utilità non dovuti a un pubblico ufficiale o un incaricato di pubblico servizio che riveste la qualità di pubblico impiegato affinché quest'ultimo si impossessi di beni mobili altrui
C Chiunque offre denaro o altra utilità non dovuti a un pubblico ufficiale o un incaricato di pubblico servizio che riveste la qualità di pubblico impiegato affinché quest'ultimo si impossessi di beni mobili altrui
-
- 393) Nel reato consumato la prescrizione decorre:**
A dal giorno della consumazione
B dalla richiesta di rinvio a giudizio
C dalla notifica del decreto di citazione a giudizio
-
- 394) L'esistenza di un fatto ai fini della valutazione della prova:**
A non può essere desunta da indizi ameno che questi siano gravi precisi e concordanti
B non può essere desunta da indizi che non siano rilevanti
C non può essere desunta da indizi che non siano univoci
-
- 395) Nel reato di molestia o disturbo alle persone il fatto deve avvenire necessariamente in luogo pubblico o aperto al pubblico:**

- A si deve necessariamente avvenire in luogo pubblico
- B si deve necessariamente avvenire in luogo aperto al pubblico
- C La legge prevede che possa avvenire anche con il mezzo del telefono

396) **Quando dalla azione o omissione deriva un evento dannoso o pericoloso più grave di quello voluto dall'agente, il delitto si definisce:**

- A colposo
- B contro l'intenzione
- C preterintenzionale

397) **Nell'ipotesi in cui qualcuno abbia commesso il fatto per esservi stato costretto da altri, mediante violenza fisica alla quale non poteva resistere o comunque sottrarsi:**

- A sarà punibile e la pena sarà ridotta
- B sarà punibile se verrà dimostrata la violenza fisica
- C non sarà punibile

398) **Il reato di incesto è inserito:**

- A nei delitti contro la fede pubblica
- B nei delitti contro la famiglia
- C nei delitti contro l'ordine pubblico

399) **Il reato di violazione di sigilli rientra:**

- A nei delitti contro la personalità dello stato
- B nei delitti contro l'amministrazione della giustizia
- C nei delitti contro la pubblica amministrazione

400) **Qual è la differenza tra il delitto di corruzione e il delitto di concussione?**

- A Nella concussione vi è un libero accordo tra il privato e il pubblico ufficiale
- B Nella corruzione i pubblici ufficiali approfittano del loro ruolo
- C Nella corruzione vi è un libero accordo tra il privato e il pubblico ufficiale

401) **Una legge regionale può prevedere sanzioni penali ?**

- A Sì, sempre
- B No, mai
- C Solo su delega statale

402) **La grazia è :**

- A una forma di commutazione della pena
- B una causa di estinzione del reato
- C una causa di estinzione totale o parziale della pena che riguarda una sola persona

403) **Sono circostanze oggettive del reato quelle che concernono :**

- A il grado della colpa
- B il luogo della azione
- C l'intensità del dolo

404) **Esiste l'obbligo di prestare il proprio aiuto in occasione di un pubblico infortunio ?**

- A Sì, la legge penale punisce chi, senza giusto motivo, lo rifiuta
- B Sì, ma solo se l'aiuto è richiesto da un pubblico ufficiale o da persona incaricata di un pubblico servizio
- C No, tranne che si rivesta la qualifica di pubblico ufficiale o persona incaricata di pubblico servizio

405) **Qual è l'elemento soggettivo che contraddistingue il delitto di abuso di ufficio?**

- A Indifferentemente il dolo o la colpa
- B La colpa propria
- C Il dolo

406) **Costituisce l'amnistia una causa estintiva del reato ?**

- A No, è una causa parzialmente estintiva del reato
- B No, è una causa estintiva della pena
- C Sì, essa è una causa estintiva del reato

407) **L'immunità personale costituisce una deroga al principio della obbligatorietà della legge penale ?**

- A Sì, è vero; l'asserzione è giusta
- B L'immunità personale consente solo di applicare un'attenuante
- C L'immunità personale è solo una causa di esclusione del reato

-
- 408) **L'interdizione da una professione o da un' arte costituisce :**
A una misura di sicurezza
B una pena accessoria per i delitti
C una misura alternativa alla detenzione
-
- 409) **Qualora la fattispecie astratta preveda la lesione di più beni giuridici, il reato è :**
A plurioffensivo
B aggravato
C plurisoggettivo
-
- 410) **Il vizio totale di mente costituisce una causa di :**
A estinzione del reato
B esclusione dell'imputabilità
C riduzione della pena
-
- 411) **L'omissione di referto costituisce un reato :**
A improprio
B proprio
C diretto
-
- 412) **Il vigente codice penale italiano :**
A è contemporaneo alla Costituzione
B è precedente alla Costituzione
C è successivo all'entrata in vigore della Costituzione
-
- 413) **Caratteristica dei reati di pericolo è :**
A La lesione soltanto potenziale del bene giuridico protetto
B Il pericolo di recidiva
C Il pericolo di fuga del reo
-
- 414) **In quale luogo può essere commesso il reato di somministrazione di bevande alcoliche a persona in stato di manifesta ubriachezza ?**
A In qualunque luogo
B Esclusivamente in una osteria o un ristorante
C Esclusivamente in un luogo aperto al pubblico
-
- 415) **Il pubblico ufficiale che rifiuta un atto del proprio ufficio commette :**
A omissione di atti di ufficio qualora il rifiuto riguardi l'emanazione di un atto in materia di ordine pubblico
B il reato di disobbedienza in ogni caso
C il reato di rifiuto di atti di ufficio, se rifiuta indebitamente
-
- 416) **Cosa si intende per reati aggravati dall'evento ?**
A Reati in cui il verificarsi dell'evento integra una causa di giustificazione
B Reati in cui la pena è aumentata per il verificarsi di un evento ulteriore
C Reati uniti dal vincolo della continuazione
-
- 417) **Il delitto di omessa denuncia di reato da parte del pubblico ufficiale è :**
A un delitto contro l'amministrazione della giustizia
B un delitto contro l'incolumità pubblica
C un delitto contro la pubblica amministrazione
-
- 418) **Costituiscono scriminanti speciali :**
A le misure di sicurezza speciali
B le scriminanti previste nella parte speciale del codice penale o in leggi speciali solo per determinati reati
C scriminanti previste solo per reati più gravi
-
- 419) **Nel reato di rifiuto di atti di ufficio, la condotta incriminata consiste :**
A nell'indebito assenso di compiere atti d'ufficio qualificati
B nel ritardare il compimento di atti di ufficio
C nell'indebito rifiuto di compiere atti d'ufficio qualificati
-
- 420) **La colpa cosciente ricorre quando :**

- A l'agente prevede che la propria condotta possa cagionare l'evento dannoso ma agisce ugualmente con il convincimento di poterlo evitare
 - B l'agente non si è rappresentato l'evento lesivo
 - C l'agente si è rappresentato l'evento lesivo e lo ha voluto
-

421) Per il delitto di violenza sessuale si procede d'ufficio se :

- A il fatto è commesso ai danni di un qualsiasi prossimo congiunto
 - B il fatto è commesso dal genitore anche adottivo
 - C il fatto è commesso nei confronti di persona minorenni
-

422) L'ingiuria costituisce un reato ?

- A No, non è un reato
 - B No, è un illecito amministrativo
 - C Sì, è un delitto
-

423) Il pubblico ufficiale che si appropria di denaro altrui di cui ha la disponibilità in ragione del suo ufficio commette :

- A il reato di corruzione per l'esercizio della funzione
 - B il reato di malversazione
 - C il reato di peculato
-

424) Ai fini della imputabilità è necessario :

- A avere la capacità di intendere e di volere
 - B avere almeno la capacità di intendere
 - C avere almeno la capacità di volere
-

425) Nel reato tentato, la prescrizione comincia a decorrere :

- A dal giorno in cui ha avuto inizio il tentativo
 - B dal giorno della sentenza di condanna
 - C dal giorno in cui è cessata l'attività del colpevole
-

426) E' ubriaco abituale :

- A chi sia in stato di ubriachezza non derivata da caso fortuito
 - B chi sia dedito all'uso di bevande alcoliche e si trovi in stato di frequente ubriachezza
 - C chi sia in stato di frequente ubriachezza per causa di forza maggiore
-

427) La norma penale in bianco è quella nella quale :

- A sono determinati sia il precetto sia la sanzione
 - B è prevista la sanzione, mentre il precetto ha carattere generico, essendo la sua esatta determinazione affidata ad una fonte secondaria
 - C è determinato il precetto ma non la sanzione
-

428) Il pubblico ufficiale, che per compiere un atto del suo ufficio, riceve da qualcuno una somma di denaro commette :

- A un illecito amministrativo
 - B delitto di peculato
 - C delitto di corruzione per l'esercizio della funzione
-

429) Il perdono giudiziale può essere concesso a :

- A al minorenne
 - B al minorenne per non più di tre volte
 - C al minorenne per reati compiuti solo con pene pecuniarie
-

430) Circostanze oggettive del reato sono quelle che concernono :

- A la gravità del danno
 - B l'intensità del dolo
 - C il grado della colpa
-

431) Esiste il reato di peculato mediante profitto dell'errore altrui ?

- A No, la fattispecie delittuosa del peculato è unica
 - B Sì, il codice penale lo prevede
 - C No, il profitto dell'errore altrui darebbe luogo al delitto di concussione
-

432) Allorquando il soggetto colpevole di delitto tentato abbia volontariamente desistito dall'azione :

- A non sarà punibile
- B soggiacerà soltanto alla pena per gli atti compiuti, qualora questi costituiscano di per sé un reato diverso
- C soggiacerà alla pena stabilita per il delitto tentato diminuita fino ad un terzo

433) **Il soggetto agente affetto da vizio totale di mente :**

- A è comunque imputabile
- B non è mai imputabile
- C è imputabile solo in caso di reato doloso

434) **Non costituisce un caso di estinzione del reato :**

- A la remissione della querela
- B la morte del reo dopo la condanna
- C l'oblazione

435) **La legge penale prevede che non sia punibile chi abbia commesso il fatto per legittima difesa :**

- A sempre che non abbia provocato danni alla persona
- B sempre che la difesa sia proporzionata all'offesa
- C sempre che la difesa sia identica all'offesa

436) **La capacità a delinquere del reo e la gravità del reato incidono :**

- A sulla natura del reato
- B sulla quantificazione della pena
- C sulla abitudine del reato

437) **Quale reato si configura allorché l'incaricato di pubblico servizio, violando i doveri inerenti alle funzioni o al servizio, riveli notizie d'ufficio segrete:**

- A abuso d'ufficio
- B rivelazione e utilizzazione di segreti di ufficio
- C omissione dei doveri di ufficio

438) **Il soggetto attivo del reato di corruzione è:**

- A il pubblico ufficiale
- B solo il privato
- C la pubblica amministrazione

439) **Il nesso di causalità, nel codice penale:**

- A è previsto espressamente dalla Costituzione
- B è previsto espressamente dall'articolo 40 c.p.
- C è previsto dall'art 1 c.p.

440) **Il vincolo della continuazione può riguardare tanto i delitti quanto le contravvenzioni ?**

- A No la continuazione si applica solo ai delitti
- B No, la continuazione si applica solo alle contravvenzioni
- C Si in ogni caso

441) **Quando viene applicata ai sensi dell'art 29 cp la pena accessoria della interdizione temporanea dai pubblici uffici :**

- A quando si è condannati alla reclusione non inferiore ai tre anni
- B quando si è condannati alla reclusione superiore ai 5 anni
- C quando si è condannati alla reclusione inferiore ad un anno

442) **Nel delitto di violenza o minaccia ad un pubblico ufficiale chi è il soggetto passivo ?**

- A Un pubblico ufficiale o un incaricato di pubblico servizio
- B Chiunque
- C Solo un ufficiale o un agente di polizia giudiziaria

443) **Tra le seguenti quale affermazione è quella giusta :**

- A l'evento di reato rappresenta l'oggetto materiale con cui il soggetto attivo commette il reato
- B l'evento di reato costituisce un inadempimento contrattuale
- C l'evento di reato è conseguenza dell'azione o omissione

444) **Con la locuzione "effetti penali della condanna" si indicano :**

- A tutte le conseguenze giuridiche di carattere afflittivo che conseguono alla condanna penale
- B la sottoposizione del reo alle sole pene accessorie
- C la sottoposizione del reo alle sole pene principali

-
- 445) **Allorquando per la punibilità di un reato la legge richieda il verificarsi di una condizione, il colpevole risponde del reato :**
A anche se l'evento da cui dipende l'avverarsi della condizione non è da lui voluto
B solo se l'evento da cui dipende l'avverarsi della condizione sia stato da lui voluto
C solo se l'evento da cui dipende l'avverarsi della condizione sia stato da lui previsto
-
- 446) **Il reato di furto si consuma :**
A nell'impossessamento del bene altrui mediante sottrazione
B nel momento della realizzazione del profitto
C nel momento in cui inizia la detenzione della cosa da parte del reo
-
- 447) **E' recidivo chi :**
A è condannato per reati della stessa indole
B si sottrae volontariamente all'esecuzione della pena
C dopo essere stato condannato per un delitto non colposo, ne commette un altro
-
- 448) **Appropriarsi di cose smarrite costituisce un reato ?**
A Solo se le cose hanno un valore superiore ai mille euro
B No
C Solo se le cose hanno un valore superiore ai tremila euro
-
- 449) **Nella calunnia l'agente deve essere a conoscenza della innocenza della persona offesa alla quale attribuisce il reato ?**
A Sì, la conoscenza dell'innocenza costituisce un elemento essenziale della fattispecie
B No, è sufficiente il dubbio circa l'innocenza
C Sì, ma solo per i delitti più gravi
-
- 450) **L' inadempimento nei contratti di pubbliche forniture costituisce :**
A un reato contro la pubblica amministrazione
B un illecito amministrativo
C un illecito civile
-
- 451) **Il deposito in banca di denaro "sporco" da parte di Tizio che non ha concorso nel reato realizza la fattispecie di:**
A favoreggiamento
B ricettazione
C riciclaggio
-
- 452) **Cosa occorre affinché si verifichi l'imputabilità?**
A Solo la capacità di volere
B La capacità di intendere e di volere
C Solo la capacità di intendere
-
- 453) **La violenza nel furto con strappo si esercita:**
A sull'oggetto
B né sull'oggetto né sulla persona
C indifferentemente sull'oggetto o sulla persona
-
- 454) **L'esercizio di un diritto e l'adempimento di un dovere, in materia penale, costituiscono:**
A cause oggettive di esclusione del reato.
B cause soggettive di esclusione del reato.
C circostanze attenuanti specifiche.
-
- 455) **Se il colpevole volontariamente impedisce l'evento del reato:**
A soggiace alla pena stabilita per il delitto tentato, diminuita da un terzo alla metà
B soggiace alla pena stabilita per il delitto consumato, ridotta fino alla metà
C soggiace alla pena stabilita per il delitto tentato
-
- 456) **Per i minori degli anni quattordici, il diritto di remissione della querela può essere esercitato:**
A dal loro legale rappresentante
B dal minore, se questi la abbia proposta
C anche dal tutore, solo se la querela sia stata da questo proposta
-

- 457) **Quale pena accessoria consegue alla condanna per delitti commessi con l'abuso dei poteri inerenti ad un pubblico servizio?**
A Nessuna pena accessoria
B L'interdizione temporanea dai pubblici uffici
C L'interdizione perpetua dai pubblici uffici
-
- 458) **Sotto la denominazione di pene pecuniarie, la legge comprende, tra le altre ...**
A la semidetenzione
B l'ammenda
C la sospensione dall'esercizio di una professione
-
- 459) **Il Pubblico Ufficiale che ecceda colposamente i limiti imposti dall'uso legittimo delle armi:**
A se il fatto è previsto dalla legge come delitto colposo, ne risponde a titolo di colpa
B risponde del fatto a titolo di dolo, ma la pena è ridotta
C ne risponde in ogni caso a titolo di colpa
-
- 460) **Tizio, alla presenza di altre persone, offende l'onore di una persona presente Tizio risponde:**
A ingiuria semplice
B di ingiuria aggravata di cui all'art 594, co 4,c.p.
C diffamazione di cui all'art 595 c.p.
-
- 461) **La dichiarazione di tendenza a delinquere importa l'applicazione al condannato della pena accessoria dell'interdizione dai pubblici uffici?**
A Sì, importa l'applicazione della pena accessoria dell'interdizione perpetua dai pubblici uffici
B No, non importa l'applicazione della pena accessoria dell'interdizione dai pubblici uffici
C Sì, importa l'applicazione della pena accessoria dell'interdizione temporanea dai pubblici uffici
-
- 462) **L'incapacità a contrattare con la P.A. è:**
A una sanzione sostitutiva delle pene detentive brevi
B una misura di sicurezza
C una pena accessoria
-
- 463) **Si configura omicidio preterintenzionale quando:**
A la morte è conseguenza non voluta di qualsiasi delitto che non riguarda la persona
B la morte è conseguenza non voluta di una lesione gravissima dolosa
C la morte è conseguenza non voluta di atti diretti a percuotere o a ledere
-
- 464) **I primi tre articoli del Codice Penale stabiliscono i principi:**
A di legalità, irretroattività e di obbligatorietà della legge penale
B di statualità, obbligatorietà e territorialità della legge penale
C di legalità e di statualità della legge penale e della responsabilità personale
-
- 465) **Non è punibile chi esegue l'ordine illegittimo:**
A quando l'Autorità ordinante gli vieta di sindacare la legittimità dell'ordine
B quando l'ordine gli è trasmesso per iscritto
C quando la legge non gli consente alcun sindacato sulla legittimità dell'ordine
-
- 466) **Quando l'agente cagiona un evento diverso da quello voluto e quindi realizza l'elemento obiettivo di una diversa fattispecie criminosa si parla di**
A aberratio ictus monolesiva
B aberratiodelicti
C aberratio ictus
-
- 467) **Chi determina le prescrizioni delle misure di prevenzione?**
A Il magistrato o il tribunale di sorveglianza
B Il Questore, ed è il solo competente a disporre l'eventuale modificazione
C Il tribunale ordinario, ed è il solo competente a disporre l'eventuale modificazione
-
- 468) **In base al "principio di legalità", sancito dalla legge 689/1981**
A nessuno può essere assoggettato a sanzioni amministrative se non in forza di una legge che sia entrata in vigore dopo la commissione della violazione
B nessuno può essere assoggettato a sanzioni amministrative se non in forza di una legge che sia entrata in vigore prima della commissione della violazione
C nessuno può essere assoggettato a sanzioni amministrative se non in forza di un provvedimento adottato da un organo amministrativo dello Stato o da un ente pubblico territoriale

-
- 469) **La sospensione dall'esercizio di un'arte può avere una durata:**
A non inferiore a quindici giorni né superiore a due anni
B non inferiore a due mesi né superiore a quattro anni
C non inferiore a un mese né superiore a tre anni
-
- 470) **Il reato di danneggiamento previsto dall'art 635 c.p. è:**
A un delitto
B un illecito amministrativo
C un reato proprio
-
- 471) **Se l'evento del delitto, non voluto dall'agente, si verifica a causa di imprudenza (art43 co 3 c.p.):**
A il delitto è preterintenzionale
B il delitto non sussiste
C il delitto è colposo
-
- 472) **I reati puniti con l'ergastolo:**
A si prescrivono in alcuni casi previsti dalla legge
B non si prescrivono
C si prescrivono sempre
-
- 473) **Chi ha commesso il fatto per caso fortuito:**
A è punibile, se è capace di intendere e di volere
B non è punibile
C è punibile, ma la pena è ridotta
-
- 474) **Si rende responsabile del delitto di abuso d'ufficio il Pubblico Ufficiale che, nello svolgimento delle sue funzioni, violando norme di un regolamento, arreca intenzionalmente ad altri un danno ingiusto?**
A Sì, qualora il fatto non costituisca un più grave reato
B No, perché ha violato norme di regolamento e non di legge
C Solo se la commissione del delitto procura anche un ingiusto profitto per sé o per altri
-
- 475) **Il rinvio obbligatorio dell'esecuzione della misura di sicurezza personale, nei confronti di donna incinta, è revocato:**
A se la gravidanza si interrompe, sempreché l'interruzione sia avvenuta da oltre sei mesi
B dal momento del parto
C se la gravidanza si interrompe, sempreché l'interruzione sia avvenuta da oltre due mesi
-
- 476) **Ai sensi dell'art 5 del c.p., e della giurisprudenza costituzionale è corretto affermare che**
A l'ignoranza della legge penale non scusa, tranne che si tratti di ignoranza inevitabile
B l'ignoranza della legge penale non può in alcun caso escludere la responsabilità
C l'ignoranza scusa nei delitti ma non nelle contravvenzioni
-
- 477) **Quale durata può avere l'incapacità di contrattare la pubblica amministrazione?**
A Non può avere durata inferiore ad un anno né superiore a tre anni
B Non può avere durata inferiore a sei mesi né superiore ad un anno
C Non può avere durata inferiore a due anni né superiore a cinque anni
-
- 478) **Il curatore dell'inabilitato può rimettere la querela proposta da lui:**
A ma la remissione non ha effetto senza l'approvazione dell'inabilitato
B anche se l'inabilitato manifesta volontà contrari
C ma la remissione non ha effetto se l'inabilitato manifesta volontà contrari
-
- 479) **Che cos'è l'oblazione?**
A Una causa d'estinzione della pena
B Una causa di estinzione del reato
C Una sanzione amministrativa
-
- 480) **Tizio viene assunto come testimone, ma non viene avvertito della facoltà di astenersi dal rendere la testimonianza. Egli, se rende dichiarazioni false o reticenti, è punibile per il reato di falsa testimonianza?**
A Sì
B Sì, se il fatto è commesso al fine di trarne profitto
C No

-
- 481) **Il delitto di lesione personale è punibile a querela:**
A se cagiona una malattia della durata non superiore ai 20 giorni
B se cagiona una malattia della durata non superiore ai 40 giorni
C se provoca soltanto una sensazione dolorosa
-
- 482) **Chi uccide volontariamente il proprio avversario in occasione di una rissa:**
A risponde di omicidio doloso
B risponde di omicidio preterintenzionale
C risponde della morte come conseguenza di altro delitto
-
- 483) **Salvo che la legge disponga altrimenti, il diritto di querela non può essere esercitato:**
A decorsi tre mesi dal giorno della notizia del fatto che costituisce il reato
B decorso un anno dal giorno della notizia del fatto che costituisce il reato
C decorsi quattro mesi dal giorno della notizia del fatto che costituisce il reato
-
- 484) **Lo stato di necessità ricorre quando vi è:**
A un pericolo attuale di un danno grave al proprio patrimonio
B un pericolo attuale di un danno grave alla propria o altrui persona
C un pericolo di offesa per un diritto proprio o altrui
-
- 485) **L'art 25 della Costituzione disponendo che "nessuno può essere sottoposto a misure di sicurezza se non nei casi previsti dalla legge" sancisce uno dei principi fondamentali in materia penale, cosiddetto:**
A principio di legalità
B principio della funzione rieducativa della pen
C principio di offensività
-
- 486) **Costituisce aggravante specifica del delitto di ingiuria:**
A l'offesa che consiste nell'attribuzione di un fatto determinato
B il fatto commesso in un atto pubblico
C il fatto commesso mediante scritti o disegni diretti alla persona offesa
-
- 487) **In quale dei seguenti casi non si configura omicidio:**
A soppressione di un neonato vivo ma gravemente malformato
B soppressione di un feto durante il parto
C soppressione di un embrione conservato in una provetta
-
- 488) **Chi, con una sola azione od omissione, viola diverse disposizione di legge risponde di:**
A concorso materiale di reati
B concorso formale di reati
C reato complesso
-
- 489) **La libertà controllata:**
A è una sanzione sostitutiva delle pene detentive brevi
B è pena principale sia per i delitti che per le contravvenzioni
C deriva sempre automaticamente dalla condanna
-
- 490) **Tizio ruba una borsetta e l'abbandona. Caio nota il fatto e se ne impossessa. Caio risponde di:**
A sottrazione di cosa comune
B appropriazione indebita
C furto
-
- 491) **Ai sensi dell'art 2, comma 3, c.p., se la legge del tempo in cui fu commesso il reato e le posteriori sono diverse, si applica quella:**
A ritenuta più idone
B le cui disposizioni sono sfavorevoli al reo
C le cui disposizioni sono più favorevoli al reo
-
- 492) **Se un tizio acquista un oggetto che il venditore dichiara essere di contrabbando risponde di:**
A non risponde, il reato è già stato consumato
B concorso in contrabbando
C ricettazione
-
- 493) **L'applicazione delle misure di sicurezza è subordinata in linea di principio:**

- A all'esistenza di due presupposti, uno oggettivo (commissione di un fatto previsto dalla legge come reato) ed uno soggettivo (la pericolosità sociale del soggetto).
- B all'esistenza di un solo presupposto soggettivo (la pericolosità sociale).
- C all'esistenza di un solo presupposto oggettivo ovvero la commissione di un fatto previsto dalla legge come reato.

-
- 494) **Ai sensi dell'art 2, comma 3, c.p., se la legge del tempo in cui fu commesso il reato e le posteriori sono diverse, si applica quella le cui disposizioni sono più favorevoli al reo?**
- A Sì, salvo che sia stata pronunciata sentenza irrevocabile
 - B Sì, salvo che sia stata pronunciata sentenza revocabile
 - C Sì, sempre
-
- 495) **In quale caso le cause sopravvenute rispetto all'azione od omissione anche se consistenti nel fatto illecito altrui, escludono il nesso di causalità(art 41 co 2 c.p.?)**
- A quando hanno aggravato i danni cagionati dall'evento
 - B quando hanno agevolato la produzione dell'evento
 - C quando sono state da sole sufficienti a determinare l'evento
-
- 496) **In caso di proscioglimento per vizio di mente sono applicabili:**
- A nulla
 - B le misure di sicurezza
 - C le pene pecuniarie
-
- 497) **L'imputabilità è esclusa dagli stati emotivi o passionali?**
- A Sì, salvo che si trovi in stato di ubriachezza da lui provocato.
 - B Sì.
 - C No.
-
- 498) **Chiunque faccia figurare nei registri dello stato civile una nascita inesistente:**
- A è punito con l'arresto
 - B è punito con una sanzione amministrativa
 - C è punito con la reclusione
-
- 499) **Le autorizzazioni di polizia:**
- A sono personali e non possono in alcun modo essere trasmesse né dar luogo a rapporti di rappresentanza, salvi i casi espressamente previsti dalla legge
 - B sono personali e possono essere trasmesse, ma non dar luogo a rapporti di rappresentanza
 - C sono personali, ma possono essere trasmesse e dar luogo a rapporti di rappresentanza
-
- 500) **Il Codice Penale disciplina tre forme qualificate di pericolosità sociale, quali sono?**
- A L'abitudine criminosa, la professionalità nel reato e la tendenza a delinquere
 - B La cooperazione colposa, la recidiva, istigazione criminosa e la tendenza a delinquere
 - C La recidività, l'abitudine criminosa, la professionalità nel reato e le circostanze aggravanti
-
- 501) **Il rinvio obbligatorio dell'esecuzione della misura di sicurezza personale, nei confronti di madre di infante di età inferiore ad un anno, è revocato:**
- A qualora la madre sia comunque in grado di accudire la prole
 - B se il figlio muore, sempreché il parto sia avvenuto da oltre due mesi
 - C se il figlio può essere accudito dall'altro genitore, sempreché il parto sia avvenuto da oltre due mesi
-
- 502) **Il vizio totale di mente:**
- A esclude l'imputabilità, salvo che la legge disponga altrimenti
 - B è una causa di giustificazione
 - C esclude l'imputabilità
-
- 503) **In base al principio della specialità sancito dalla legge n 689/1981, quando uno stesso fatto è punito da una disposizione penale e da una disposizione che prevede una sanzione amministrativa, ovvero da una pluralità di disposizioni che prevedono sanzioni amministrative**
- A si applica la disposizione speciale
 - B si applicano entrambe le disposizioni
 - C si applica sempre la disposizione penale, e la pena può essere aumentata fino alla metà
-
- 504) **Il Pubblico Ufficiale che, nell'esercizio delle sue funzioni, forma un atto falso in tutto o in parte, oppure altera un atto vero, è responsabile del reato di:**
- A falso in foglio firmato in bianco
 - B falso in scrittura privata
 - C falso materiale commessa dal pubblico ufficiale in atti pubblici

-
- 505) **Al fatto previsto come reato da un decreto legge e commesso durante il suo vigore si applica il predetto decreto se, al momento della sentenza, la sua conversione in legge è avvenuta con emendamenti soppressivi della previsione del predetto fatto come reato?**
- A Sì, in ogni caso
 - B No, in nessun caso
 - C Sì, ma solo se è prevista la pena della reclusione
-
- 506) **E' sempre necessaria la redazione dei verbali delle perquisizioni e dei sequestri compiuti nel corso delle indagini da parte della polizia giudiziaria:**
- A no tranne i casi in cui la legge lo prevede espressamente.
 - B sì sempre.
 - C sì tranne i casi previsti dalla legge.
-
- 507) **Il reato, perseguibile a querela, commesso in danno di più persone è punibile:**
- A anche se la querela è proposta da una soltanto di esse
 - B solo se la querela è presentata da tutte
 - C anche se la querela è proposta da una soltanto di esse, purché si tratti di colui che ha subito il danno maggiore
-
- 508) **L'errore su una legge diversa dalla legge penale esclude la punibilità:**
- A solo se incolpevole
 - B solo quando inevitabile
 - C quando ha cagionato un errore sul fatto che costituisce reato
-
- 509) **L'errore, determinato da colpa, sul fatto che costituisce il reato:**
- A non esclude la punibilità dell'agente, quando il fatto è preveduto dalla legge come delitto colposo
 - B esclude in ogni caso la punibilità dell'agente
 - C non esclude in nessun caso la punibilità dell'agente
-
- 510) **In base al «principio di legalità», sancito dalla legge 689/1981:**
- A nessuno può essere assoggettato a sanzioni amministrative se non in forza di un provvedimento adottato da un organo amministrativo dello Stato o da un ente pubblico territoriale
 - B nessuno può essere assoggettato a sanzioni amministrative se non in forza di un provvedimento adottato da un organo amministrativo dello Stato
 - C nessuno può essere assoggettato a sanzioni amministrative se non in forza di una legge che sia entrata in vigore prima della commissione della violazione
-
- 511) **Agli effetti della legge penale, sono persone che esercitano un servizio di pubblica necessità, tra l'altro:**
- A i privati che, non esercitando una pubblica funzione, né prestando un pubblico servizio, adempiono un servizio dichiarato di pubblica necessità con legge della Repubblica
 - B i privati che esercitano professioni forensi
 - C tutti i privati che esercitano professioni il cui esercizio sia per legge vietato senza una speciale abilitazione dello Stato, anche se dell'opera di essi il pubblico non è obbligato a valersi
-
- 512) **La vicenda costitutiva del rapporto di esecuzione di misure di sicurezza discende da fattispecie il cui atto giuridico terminale presenta diverso contenuto Essa può derivare da provvedimento del magistrato di sorveglianza su richiesta del PM?**
- A No, può derivare solo da sentenza di condanna del giudice
 - B Sì, essa può anche derivare da provvedimento del magistrato di sorveglianza su richiesta del PM ovvero d'ufficio quando sussistono determinate condizioni di legge
 - C No, essa può derivare solo da sentenza di proscioglimento ovvero di condanna del giudice
-
- 513) **Alla sospensione dall'esercizio della potestà dei genitori consegue anche:**
- A la incapacità di amministrare, durante la sospensione, i beni mobili dei figli minori
 - B la incapacità di amministrare, durante la sospensione, i beni immobili dei figli minori
 - C la incapacità di esercitare, durante la sospensione, qualsiasi diritto che al genitore spetti sui beni del figlio in base alle norme del codice civile
-
- 514) **In quali casi alla condanna consegue la decadenza dalla potestà dei genitori?**
- A I casi sono determinati dal tribunale ordinario in base a richiesta del pubblico ministero
 - B I casi sono determinati dalla legge
 - C I casi sono determinati dal tribunale per i minorenni in base alla sentenza di condanna
-
- 515) **Il cancelliere che si appropria delle somme ricevute per la registrazione di una sentenza commette il reato di:**

- A peculato
- B furto
- C corruzione in atti giudiziari

516) **Commette il reato di falso ideologico in atto pubblico il pubblico ufficiale che, formando un atto, altera dichiarazioni da lui ricevute:**

- A solo se si tratta di un atto destinato ad essere prodotto all'Autorità giudiziari
- B se agisce per recare ad altri un danno
- C se agisce nell'esercizio delle sue funzioni

517) **Se l'agente ritiene per errore che esistano circostanze di esclusione della pena:**

- A queste sono sempre valutate a favore di lui
- B queste sono valutate a favore di lui, quando si tratti di circostanze soggettive
- C queste non sono valutate a favore di lui

518) **L'aver previsto l'evento senza averlo voluto, sotto il profilo soggettivo configura:**

- A sempre il dolo eventuale
- B sempre il dolo
- C colpa cosciente

519) **Il nesso di causalità è:**

- A la suites della condotta
- B il rapporto che deve sussistere tra condotta ed evento
- C il rapporto che lega il soggetto alla condotta

520) **Non è punibile il pubblico ufficiale che, al fine di adempiere un dovere del proprio ufficio, ordini di far uso delle armi anche quando:**

- A vi è costretto dalla necessità di respingere una violenza
- B vi è indotto dall'opportunità di respingere una violenza
- C vi è costretto dalla necessità di replicare ad un'ingiuri

521) **Nel concorso di più persone nel reato, la rinuncia al diritto di querela da parte di colui al quale ne spetta l'esercizio, manifestata nei confronti di uno solo dei concorrenti, si estende anche agli altri?**

- A Sì
- B Sì, purché si tratti di reato a concorso necessario
- C No

522) **Nel caso di violenza sessuale di gruppo la pena è diminuita per il partecipante:**

- A se il fatto è stato commesso nei confronti di persona maggiorenne
- B se ignora l'età della persona offesa
- C se la sua opera ha avuto la minima importanza nella preparazione o nell'esecuzione del reato

523) **Il termine della prescrizione decorre, nei reati punibili a querela:**

- A dal giorno in cui sono scaduti i termini per la presentazione della querela
- B dal giorno in cui è commesso il reato
- C dal giorno di presentazione della querela

524) **Il pubblico ufficiale che, per compiere un atto del suo ufficio, riceve, per sé o per un terzo, in denaro, una retribuzione che non gli è dovuta, commette il delitto di:**

- A occultamento di denaro
- B malversazione
- C corruzione per un atto di ufficio

525) **Le contravvenzioni sono imputate:**

- A con il minimo della colpa
- B oggettivamente
- C a titolo di dolo

526) **Quando l'autore della condotta criminosa si rappresenta e desidera un evento (art 43 c.p.), ma agisce anche a costo di produrne uno diverso, agisce con:**

- A colpa
- B dolo, nella specie del dolo eventuale
- C colpa grave

527) **Se la pena stabilita dalla legge per il delitto consumato non è l'ergastolo, il colpevole di delitto tentato è punito:**

- A con la pena stabilita per il delitto, diminuita di un terzo
- B con la pena stabilita per il delitto, diminuita della metà
- C con la pena stabilita per il delitto, diminuita da un terzo a due terzi

528) Il perdono giudiziale riguarda:

- A qualsiasi soggetto purché il fatto sia di lieve entità
- B il minore di anni 18
- C chiunque colpevole lasci presume re il proprio pentimento

529) La norma che prevede un fatto come reato (art 1 c.p.):

- A deve essere contenuta in un'ordinanza amministrativa
- B deve essere contenuta in un regolamento
- C deve essere contenuta in una legge

530) Costituisce attenuante specifica del delitto di abuso d'ufficio:

- A se l'agente non ha commesso il fatto nell'esercizio delle sue funzioni, salvo che la legge disponga altrimenti
- B se il fatto è commesso dall'incaricato di pubblico servizio e non dal Pubblico Ufficiale
- C se il fatto è di particolare tenuità

531) Il reato di malversazione a danno dello Stato:

- A è un reato proprio
- B non può essere commesso da un privato
- C può essere commesso da chiunque, estraneo alla pubblica amministrazione

532) La misura di sicurezza può essere inflitta in alternativa alla pena?

- A No, in nessun caso
- B Sì, al soggetto non imputabile ma pericoloso
- C Sì, al soggetto imputabile e pericoloso

533) Sono giuridicamente ammissibili le contravvenzioni colpose?

- A Le contravvenzioni sono solo colpose
- B Sì
- C Solo se la legge lo prevede espressamente

534) Possono essere sottoposte a pena (art. 1 c.p.):

- A esclusivamente le persone fisiche.
- B esclusivamente le persone giuridiche.
- C sia le persone fisiche che quelle giuridiche

535) Il Presidente della Repubblica gode di un'immunità:

- A relativa
- B incondizionata
- C processuale

536) L'assegnazione a una colonia agricola o ad una casa di lavoro, salvo che il giudice non ritenga che la pericolosità sociale sia venuta meno prima della scadenza del termine, ha di norma una durata minima di un anno Per quali dei seguenti soggetti la durata è di due anni?

- A Per i delinquenti abituali
- B Per i delinquenti professionali
- C Per i delinquenti abituali e per i delinquenti professionali

537) In materia penale, il concorso di cause preesistenti, simultanee o sopravvenute consistenti nel fatto illecito altrui esclude il rapporto di causalità fra condotta ed evento?

- A No, senza alcuna eccezione
- B No, tranne l'ipotesi in cui le cause preesistenti consistenti nel fatto illecito altrui sono state da sole sufficienti a determinare l'evento
- C No, tranne l'ipotesi in cui le cause sopravvenute consistenti nel fatto illecito altrui sono state da sole sufficienti a determinare l'evento

538) La concussione prevede:

- A solo induzione
- B solo costrizione
- C costrizione o induzione

539) Il delitto è doloso se è:

- A privo d'intenzione
- B contro l'intenzione
- C secondo l'intenzione

-
- 540) **La pena della multa si estingue nel termine di:**
- A 3 anni
 - B 10 anni
 - C 5 anni
-
- 541) **Oggetto del peculato d'uso:**
- A possono essere anche beni immobili
 - B possono essere solo cose mobili di specie
 - C può essere solo il denaro
-
- 542) **Chi, al fine di procurare a sé o ad altri un profitto, acquista un quadro che sa essere stato rubato, commette il reato di:**
- A riciclaggio ex art 648 bis
 - B ricettazione ex art 648 c.p. riciclaggio ex art 648 bis c.p.
 - C incauto acquisto ex art 712 c.p.
-
- 543) **Agli effetti della legge penale, è considerato ubriaco abituale:**
- A colui che, essendo stato già condannato per il reato di ubriachezza, commette un nuovo reato sotto l'effetto dell'alcool
 - B colui che si trova in stato di cronica intossicazione da alcool
 - C chi è dedito all'uso di bevande alcoliche ed in stato frequente di ubriachezz
-
- 544) **Le pene accessorie si applicano:**
- A solo ai delitti
 - B sia ai delitti che alle contravvenzioni
 - C solo ai delitti aggravati
-
- 545) **Chi esercita una professione sanitaria ed opera in casi che possono presentare i caratteri di un delitto procedibile di ufficio deve riferire all'autorità:**
- A solo se ciò non espone la persona assistita a procedimento penale
 - B mai
 - C sempre, se la procedibilità è d'ufficio
-
- 546) **Quali sono le pene comprese sotto la denominazione "pene detentive" o "restrittive della libertà personale"?**
- A L'ergastolo, la reclusione e l'arresto
 - B La detenzione domiciliare
 - C Il soggiorno obbligato e l'obbligo di soggiorno
-
- 547) **Non è punibile chi lede un diritto:**
- A con il consenso della persona che può validamente disporre
 - B con la successiva ratifica della persona che può validamente disporre
 - C senza l'esplicita opposizione della persona che può validamente disporre
-
- 548) **La privazione definitiva di ogni diritto onorifico inerente a qualunque ufficio o servizio pubblico, nonché la privazione definitiva di dignità e decorazioni pubbliche derivano:**
- A dalla pena accessoria dell'interdizione da una professione o da un'arte
 - B dalla pena accessoria dell'interdizione temporanea dai pubblici uffici
 - C dalla pena accessoria dell'interdizione perpetua dai pubblici uffici
-
- 549) **Alle misure di sicurezza non si applica:**
- A il principio di riserva di legge
 - B il principio di determinatezza
 - C il principio di irretroattività
-
- 550) **Per gli inabilitati il diritto di remissione della querela può essere esercitato:**
- A dagli stessi anche quando la querela è stata proposta dal curatore, ma, in ogni caso, la remissione non ha effetto senza l'approvazione di questo
 - B dagli stessi, salvo che la querela sia stata proposta dal curatore
 - C solo dal curatore, anche se la querela sia stata proposta dall'inabilitato
-

- 551) **Se per il delitto commesso è prevista la pena della reclusione in misura non inferiore nel minimo a dieci anni, il ricovero in ospedale psichiatrico giudiziario deve essere disposto per:**
- A almeno sei anni
 - B almeno due anni
 - C almeno cinque anni
-
- 552) **Ai fini del diritto penale, la desistenza costituisce:**
- A una circostanza attenuante ad effetto speciale.
 - B una causa di estinzione della pena.
 - C una causa di estinzione del reato tentato.
-
- 553) **Nel caso di reato erroneamente supposto, se concorrono nel fatto gli elementi costitutivi di un reato diverso, si applica la pena stabilita per il reato:**
- A più grave tra quello commesso e quello voluto.
 - B effettivamente commesso.
 - C meno grave tra quello commesso e quello voluto.
-
- 554) **In tema di legittima difesa, quali caratteristiche deve avere il pericolo, ai sensi dell'art.52 del codice penale?**
- A Può essere futuro.
 - B Deve essere attuale e deve essere stato causato volontariamente dall'agente.
 - C Deve essere attuale.
-
- 555) **Il furto in abitazione configura:**
- A una fattispecie autonoma di reato.
 - B il reato di furto in concorso con il reato di violazione di domicilio.
 - C il reato di furto aggravato dalla violazione di domicilio.
-
- 556) **Quale pena accessoria consegue alla condanna per delitti commessi con abuso di un'industria?**
- A L'interdizione perpetua dall'industria.
 - B L'interdizione temporanea dall'industria.
 - C Nessuna pena accessoria.
-
- 557) **Il diritto penale complementare:**
- A è l'insieme delle norme penali che non prevedono una sanzione.
 - B è l'insieme delle norme penali temporanee o eccezionali.
 - C è contenuto in leggi penali diverse dal Codice Penale.
-
- 558) **Il tentativo non è punibile (art. 56 co. 1 c.p.):**
- A nel delitto consumato.
 - B nelle contravvenzioni.
 - C nel delitto di mera condotta.
-
- 559) **La sospensione dall'esercizio di una professione consegue anche ad ogni condanna:**
- A per contravvenzione, commessa con abuso della professione, quando la pena inflitta non sia inferiore a due anni di arresto.
 - B per contravvenzione, commessa con abuso della professione, quando la pena inflitta non sia inferiore a un anno di arresto.
 - C per contravvenzione, commessa con abuso della professione, quando la condanna non sia inferiore a tre mesi di arresto.
-
- 560) **A norma di quanto dispone la legge 1423/1956, chi invita la persona a tenere una condotta conforme alla legge e redige il processo verbale dell'avviso?**
- A L'autorità locale di pubblica sicurezza.
 - B Il Magistrato.
 - C Il Questore o un suo delegato.
-
- 561) **Chiunque procura l'evasione di una persona assegnata ad una casa di lavoro:**
- A commette il delitto di procurata inosservanza di pena.
 - B commette il delitto di procurata inosservanza di misure di sicurezza detentive.
 - C commette il delitto di favoreggiamento personale.
-
- 562) **Chi si trattiene con l'inganno in un luogo di privata dimora commette il reato di:**
- A invasione di terreni o edifici aggravata.
 - B violazione di domicilio.
 - C violenza privata.

-
- 563) Che cosa sono le circostanze comuni?**
A Quelle non applicabili ai soli pubblici ufficiali.
B Quelle comuni a tutti i cittadini.
C Quelle applicabili, in linea generale, a tutti i reati previsti dal codice penale.
-
- 564) La privazione definitiva della capacità di assumere o di acquistare qualsiasi incarico non obbligatorio di pubblico servizio e della qualità ad esso inerente di incaricato di pubblico servizio deriva:**
A dalla pena accessoria dell'interdizione perpetua dai pubblici uffici.
B dalla pena accessoria dell'interdizione legale.
C dalla pena accessoria dell'interdizione da una professione o da un'arte.
-
- 565) Uno dei caratteri fondamentali dell'attuale sistema penale italiano è certamente la sussidiarietà, nel senso che:**
A l'intervento del diritto penale non è limitato soltanto alla sfera degli interessi di maggiore importanza per la collettività, ma anche alla repressione di offese di infima gravità.
B il ricorso al diritto penale, in considerazione del carattere afflittivo delle sue sanzioni, deve costituire l'extrema ratio, cioè essere limitato alle sole ipotesi in cui il ricorso a sanzioni di altra natura appaia inadeguato a dissuadere i consociati dall'offendere determinati beni o interessi.
C si tratta di complesso di norme originario e completo, dotate di proprie regole e propri principi.
-
- 566) Il furto previsto dall'art. 624 c.p. è:**
A un reato necessariamente plurisoggettivo.
B un reato proprio.
C un reato a dolo specifico.
-
- 567) Agli effetti della legge penale, sono incaricati di un pubblico servizio coloro i quali:**
A a qualunque titolo, prestano un pubblico servizio.
B esercitano una pubblica funzione giudiziaria o amministrativa.
C esercitano una pubblica funzione legislativa.
-
- 568) Quale deve essere la durata di una pena accessoria temporanea quando la legge non la stabilisce espressamente?**
A La durata deve essere uguale a quella della pena principale inflitta, ma essa non deve oltrepassare il limite minimo e quello massimo stabiliti dalla legge per la pena accessoria.
B La durata deve essere stabilita dal giudice discrezionalmente entro i limiti minimo e massimo previsti dalla legge.
C La durata deve essere uguale al massimo stabilito dalla legge per la pena accessoria.
-
- 569) Quale causa di esclusione del reato può invocare l'automobilista che investe un pedone nel tentativo di evitare un camion?**
A Stato di necessità.
B Forza maggiore.
C Legittima difesa.
-
- 570) In materia penale, cosa si intende per "circostanza" del reato?**
A Elemento accidentale che incide sulla pena ma non sull'esistenza e sulla natura del reato.
B Elemento essenziale ai fini della sussistenza della responsabilità penale dell'autore.
C Elemento essenziale ai fini dell'esistenza del reato.
-
- 571) Se il soggetto agente si è messo in uno stato d'incapacità d'intendere o di volere al fine di prepararsi una scusa è:**
A punibile.
B punibile o meno a seconda dei casi.
C non punibile.
-
- 572) Classificando i reati in base alla struttura e al tipo di condotta previsto dalla singola norma incriminatrice, i reati che possono essere commessi soltanto mediante un'azione sono:**
A reati di azione o commissivi.
B sempre reati plurisussistenti.
C reati a condotta mista.
-
- 573) Indicare quale tra le seguenti affermazioni afferenti l'assegnazione a una colonia agricola o ad una casa di lavoro è corretta:**
-

- A è un provvedimento contemplato fra le misure di sicurezza ed è applicato solo nei confronti di delinquenti professionali.
- B sono assegnati a tale misura solo coloro che, essendo già stati dichiarati delinquenti abituali, professionali o per tendenza, e non essendo più sottoposti a misure di sicurezza, commettono un nuovo delitto, non colposo, che costituisca una nuova manifestazione della abitudine, professionalità o tendenza a delinquere.
- C essa mira alla rieducazione e al reinserimento sociale del condannato attraverso un'attività lavorativa.

574) La riabilitazione:

- A estingue il reato.
- B estingue le pene accessorie ed ogni altro effetto penale della condanna, salvo diversa disposizione.
- C estingue solo le contravvenzioni.

575) Se taluno mette altri nello stato d'incapacità d'intendere o di volere, al fine di fargli commettere un reato, di questo ne risponde:

- A chi ha cagionato lo stato d'incapacità.
- B entrambi.
- C chi ha commesso il fatto.

576) Agli effetti della legge penale sono considerati "cittadini italiani" gli appartenenti per origine ai luoghi soggetti alla sovranità dello Stato italiano?

- A Sì, solo se hanno commesso delitti.
- B Sì.
- C No.

577) La norma penale, in quanto norma di diritto pubblico attinente al processo punitivo dello Stato, è caratterizzata da statualità. Con tale espressione si intende:

- A il monopolio della sua creazione è riservato allo Stato e soltanto allo Stato, con l'esclusione di qualsiasi altro soggetto.
- B è obbligatoria per tutti e soli cittadini dello Stato emanante la norma.
- C è concordata a livello internazionale tra vari Stati.

578) Quale conseguenza comporta una circostanza aggravante comune?

- A L'aumento fino a un terzo della pena prevista per il reato commesso.
- B L'aumento superiore a un terzo della pena prevista per il reato commesso.
- C Un aumento della pena stabilito dal giudice e l'applicazione di una o più pene accessorie.

579) Non impedire un evento può equivalere al cagionarlo?

- A Sì, quando si ha l'obbligo giuridico di impedire l'evento.
- B No mai.
- C Sì, sempre.

580) La durata minima dell'assegnazione a colonia agricola o a casa di lavoro è di un anno; tuttavia essa per i delinquenti professionali è di:

- A diciotto mesi.
- B tre anni.
- C due anni.

581) Tizio istiga a rubare un quadro, poi acquista il quadro rubato. Tizio risponde di:

- A concorso nel reato di furto ex art. 110 c.p.
- B ricettazione ex art. 648 c.p.
- C riciclaggio ex art. 648 bis c.p.

582) Le misure di sicurezza si distinguono in detentive, non detentive e patrimoniali. Sono non detentive:

- A la libertà vigilata; il divieto di soggiorno; l'espulsione o l'allontanamento dello straniero dallo Stato; la confisca.
- B la libertà vigilata; il divieto di soggiorno; il divieto di frequentare osterie e pubblici spacci di bevande alcoliche; l'espulsione o l'allontanamento dello straniero dallo Stato; l'assegnazione ad una casa circondariale.
- C la libertà vigilata; il divieto di soggiorno; il divieto di frequentare osterie e pubblici spacci di bevande alcoliche; l'espulsione o l'allontanamento dello straniero dallo Stato.

583) Come si definisce il reato consumato?

- A Il reato che ha prodotto un affievolimento della volontà colpevole.
- B Il reato in cui sono presenti, in concreto, tutti gli elementi costitutivi del reato stesso.
- C Il reato che ha esaurito i suoi effetti.

-
- 584) Ai sensi dell'art. 109 del codice penale, la dichiarazione di abitudine e professionalità nel reato e quella di tendenza a delinquere:**
- A si estinguono per effetto della riabilitazione.
 - B non si estinguono per effetto della riabilitazione.
 - C non si estinguono mai.
-
- 585) Chi determina le prescrizioni della sorveglianza speciale?**
- A Il tribunale di sorveglianza.
 - B Il Questore, ed è il solo competente a disporre l'eventuale modificazione.
 - C Il tribunale ordinario, ed è il solo competente a disporre l'eventuale modificazione.
-
- 586) La remissione di querela può essere sottoposta a termini o a condizioni?**
- A No.
 - B Sì, con il consenso del querelante, del querelato e del Pubblico Ministero.
 - C Sì.
-
- 587) Il reato:**
- A è costituito da ogni fatto o atto considerato degno di sanzione secondo il buon senso.
 - B è quel fatto giuridico volontario (cioè quell'atto giuridico) illecito al quale l'ordinamento ricollega come conseguenza una sanzione penale.
 - C è costituito da ogni fatto considerato riprovevole secondo il buon senso.
-
- 588) Quando si parla di colpa cosciente?**
- A Quando l'evento è previsto e voluto.
 - B Quando la condotta dell'agente è determinata con coscienza e volontà.
 - C Quando l'evento, anche se è previsto non è voluto.
-
- 589) Chiunque nasconde una persona evasa da uno stabilimento nel quale si trovava sottoposta a misura di sicurezza detentiva:**
- A commette il delitto di procurata evasione.
 - B commette il delitto di favoreggiamento personale.
 - C commette il delitto di procurata inosservanza di misure di sicurezza detentive.
-
- 590) In base al soggetto passivo, i reati si distinguono in reati pluri-offensivi, reati vaganti e reati senza vittime. I reati pluri-offensivi sono:**
- A quei reati che ledono o pongono in pericolo non un solo bene, ma più beni diversi con conseguente pluralità di soggetti passivi.
 - B quei reati nei quali non è facile individuare un bene giuridico "afferrabile".
 - C quei reati che offendono un numero indeterminato di individui.
-
- 591) I ravvedimento da parte del reo per eliminare gli effetti dannosi o pericolosi del reato configura:**
- A non ha rilevanza penale.
 - B una scriminante.
 - C una circostanza attenuante.
-
- 592) Se colui che commette un reato è in stato di intossicazione cronica da alcool:**
- A è sempre imputabile.
 - B non è imputabile o è semi-imputabile a seconda dei casi.
 - C non è mai imputabile.
-
- 593) a rissa si consuma:**
- A con la morte di almeno uno dei corrissanti.
 - B con la semplice partecipazione alla rissa.
 - C con la lesione personale di almeno uno dei corrissanti.
-
- 594) Ai sensi dell'art. 114 del codice penale, nel caso di concorso di persone nel reato, il giudice può diminuire la pena?**
- A Sì, qualora ritenga che l'opera prestata da taluna delle persone che sono concorse nel reato abbia avuto minima importanza nella preparazione o esecuzione del reato.
 - B Sì, ma solo per colui che è stato indotto alla partecipazione per timore reverentialis.
 - C Sì, a suo insindacabile giudizio.
-
- 595) Ai sensi dell'art. 2, comma 4, c.p., in quali casi non si applica il principio del "favor rei"?**
- A Se si tratta di leggi temporanee, ma non nel caso di leggi eccezionali.
 - B Esclusivamente se si tratta di leggi eccezionali.
 - C Se si tratta di leggi eccezionali o temporanee.

-
- 596) **Tizio che, sorpreso dalle forze dell'ordine nell'atto di rubare, lascia la refurtiva e scappa, risponde di:**
A desistenza.
B furto tentato.
C recesso attivo.
-
- 597) **L'art. 650 c.p. è comunemente considerato:**
A una norma perfetta.
B una norma penale in bianco.
C un delitto.
-
- 598) **Per i minori degli anni 14, il diritto di querela è esercitato:**
A dal genitore o dal tutore.
B dal genitore, dal tutore o, solo riguardo a reati in materia sessuale, dal minore stesso.
C dal minore stesso o dal genitore o dal tutore.
-
- 599) **In riferimento ai delitti colposi, quale delle seguenti affermazioni è corretta?**
A L'evento non è mai attribuibile al volere del soggetto.
B Sia la condotta che l'evento non sono mai attribuibili al volere dell'agente.
C L'evento è sempre più grave di quello voluto dall'agente.
-
- 600) **Perché si possa parlare di tentativo (art. 56 c.p.), in presenza di tutti gli altri elementi essenziali del reato, occorre:**
A che non vi sia una causa di giustificazione.
B che non si sia compiuta l'azione o non si sia verificato l'evento.
C che non si sia verificato un danno.
-
- 601) **Non è punibile chi ha commesso il fatto per legittima difesa:**
A sempre che la difesa sia attuata con gli stessi strumenti dell'offesa.
B sempre che la difesa abbia natura simile all'offesa.
C sempre che la difesa sia proporzionata all'offesa.
-
- 602) **Il consenso dell'avente diritto di cui all'art. 50 c.p. deve avere ad oggetto:**
A un diritto disponibile.
B anche un diritto altrui.
C solo un diritto patrimoniale.
-
- 603) **Nel concorso di più persone nel reato, la rinuncia al diritto di querela da parte di colui al quale ne spetta l'esercizio, si estende a tutti i concorrenti?**
A Sì, purché si tratti di rinuncia formulata per iscritto.
B Sì.
C No.
-
- 604) **Tizio, che minaccia Caio, proprietario di un bar, di distruggere il locale se non gli verserà regolarmente una parte dei guadagni, risponderà di:**
A tentata estorsione.
B il fatto non costituisce reato.
C minaccia.
-
- 605) **Il delitto di violenza a Pubblico Ufficiale è compreso nei delitti:**
A contro l'ordine pubblico.
B dei privati contro la Pubblica Amministrazione.
C contro la persona.
-
- 606) **L'esercizio di un diritto:**
A esclude l'imputabilità.
B non esclude la punibilità, ma la pena è ridotta.
C esclude la punibilità.
-
- 607) **Se l'evento del delitto, non voluto dall'agente, si verifica a causa di negligenza:**
A il delitto è colposo.
B il delitto è punito a titolo di responsabilità oggettiva.
C il delitto è doloso.

-
- 608) **Quale è la forma tipica della volontà colpevole?**
A Il dolo.
B La colpa.
C La preterintenzione.
-
- 609) **Col termine «colpevolezza» si indica in dottrina e giurisprudenza, l'elemento soggettivo del reato. Essa:**
A nella struttura del reato non va ritenuta elemento essenziale
B racchiude in sé il dolo, la preterintenzione e la colpa.
C in quanto costituente qualità personale del reo deve essere tenuta distinta dalla pericolosità che è elemento essenziale del reato.
-
- 610) **In materia di leggi penali che prevedano nuove incriminazioni il primo comma dell'art. 2 c.p. sancisce il principio della:**
A applicazione analogica della legge penale.
B irretroattività della legge penale.
C retroattività della legge penale.
-
- 611) **Sono destinatari dell'obbligo di impedire l'evento:**
A nessuno.
B chi riveste una particolare posizione di garanzia.
C tutti.
-
- 612) **Se la pena stabilita dalla legge per il delitto consumato è l'ergastolo, il colpevole di delitto tentato è punito:**
A con la reclusione non inferiore a cinque anni.
B con la reclusione fino a trenta anni.
C con la reclusione non inferiore a dodici anni.
-
- 613) **La norma che prevede un fatto come reato:**
A deve essere contenuta in una delibera della Giunta regionale.
B deve essere contenuta nella legge.
C deve essere contenuta in un regolamento.
-
- 614) **L'ubriachezza preordinata al fine di commettere un reato o di prepararsi una scusa comporta:**
A una diminuzione dell'imputabilità.
B una diminuzione di pena.
C un aumento di pena.
-
- 615) **Se Tizio rompe il finestrino dell'autovettura di Caio e ne sottrae lo stereo risponderà di:**
A furto aggravato dall'uso della violenza sulle cose.
B furto con destrezza.
C concorso materiale tra danneggiamento e furto.
-
- 616) **Se per il delitto commesso è prevista la pena dell'ergastolo, la durata minima del ricovero in ospedale psichiatrico è:**
A di cinque anni.
B di dieci anni.
C di venti anni.
-
- 617) **Il nostro diritto positivo distingue le pene in principali ed accessorie. Dispone l'art. 17 del c.p. che le pene principali stabilite per i delitti sono:**
A la pena di morte, l'ergastolo, la reclusione, l'arresto e la multa.
B la pena di morte, l'ergastolo, la reclusione e l'ammenda.
C la pena di morte, l'ergastolo, la reclusione e la multa.
-
- 618) **In quale caso il sordomuto non è imputabile?**
A Sempre; lo stato di sordomutismo esclude sempre l'imputabilità.
B Se nel momento in cui ha commesso il reato aveva una capacità di intendere e di volere grandemente scemata.
C Se nel momento in cui ha commesso il reato non aveva, per causa della sua infermità, la capacità di intendere o di volere.
-
- 619) **L'errore sul fatto che costituisce reato:**
-

- A esclude le pene accessorie.
- B esclude sempre la punibilità.
- C non esclude la punibilità per un reato diverso.

620) **La falsa testimonianza è un reato:**

- A proprio.
- B può commetterlo chiunque.
- C può commetterlo solo il pubblico ufficiale.

621) **Il diritto di querela può esercitarsi decorsi tre mesi dal giorno della notizia del fatto che costituisce il reato?**

- A Sì, purché la notizia del fatto sia pervenuta ad oltre un anno dall'evento.
- B No, in nessun caso.
- C No, salvo che la legge disponga altrimenti.

622) **Quando dall'azione od omissione deriva un evento dannoso o pericoloso più grave di quello voluto dall'agente il delitto si definisce:**

- A colposo.
- B preterintenzionale.
- C contro l'intenzione.

623) **Se Tizio, usando violenza sulla cosa, se ne impossessa, risponde:**

- A di ricettazione.
- B di furto con strappo.
- C di rapina.

624) **Il delitto di resistenza a Pubblico Ufficiale è ipotizzabile anche nei confronti dell'incaricato di pubblico servizio?**

- A Sì.
- B No.
- C Sì, ma la pena in questo caso è ridotta.

625) **La condotta criminosa consiste:**

- A in un'azione.
- B in un'azione od un'omissione.
- C in un'azione od un'omissione, ma solo nei reati di evento.

626) **Non è punibile chi pone in pericolo un diritto:**

- A senza l'esplicita opposizione della persona che può validamente disporre.
- B con la successiva ratifica della persona che può validamente disporre.
- C con il consenso della persona che può validamente disporre.

627) **L'ufficiale di Polizia Giudiziaria che, fuori dall'esercizio delle sue funzioni e non a causa di queste, ha notizia di un reato, ha l'obbligo di riferirne all'Autorità Giudiziaria?**

- A Sì, se si tratta di reato perseguibile d'ufficio; in caso di omissione commette un delitto punibile con la reclusione.
- B No.
- C Sì, sia se si tratta di reato perseguibile a querela che d'ufficio; in caso di omissione commette un delitto punibile con la reclusione.

628) **Nel codice penale (art.1) il principio di legalità è riferito:**

- A alle contravvenzioni.
- B ai reati.
- C ai delitti.

629) **Un bambino di 12 anni, per una bravata, incendia un bosco, provoca un grave pericolo per la pubblica incolumità, il bambino è imputabile?**

- A No.
- B Sì, se comunque il bambino era in grado di capire l'azione che stava compiendo.
- C Sì, se al momento del processo ha compiuto i sedici anni.

630) **Se l'agente ritiene per errore che esistano circostanze attenuanti:**

- A queste sono valutate a favore di lui, quando si tratti di circostanze soggettive.
- B queste non sono valutate a favore di lui.
- C queste sono valutate a favore di lui.

-
- 631) A quale condanna consegue la pubblicazione della sentenza?**
A Alla condanna all'ergastolo.
B Alla condanna per delitto doloso.
C Alla condanna per delitto contro la fede pubblica.
-
- 632) A norma del Codice Penale, l'uso legittimo delle armi è riservato:**
A esclusivamente all'agente ed all'ufficiale di Polizia Giudiziaria e di Pubblica Sicurezza.
B esclusivamente all'agente ed all'ufficiale di Polizia Giudiziaria.
C al Pubblico Ufficiale.
-
- 633) Chi nasconde un prossimo congiunto evaso da uno stabilimento nel quale si trovava sottoposto a misura di sicurezza detentiva, commette il delitto di procurata inosservanza di misura di sicurezza detentive?**
A Sì, ma non è punibile.
B Sì, e la pena è quella edittale.
C Sì, ma la pena è diminuita.
-
- 634) In ordine al momento volitivo del dolo è corretto affermare che la volontà sussiste anche quando il soggetto pur non agendo per la realizzazione dell'evento ulteriore, o anche sperando che non si verifichi, ne accetta il verificarsi: si parla in tal caso di:**
A dolo eventuale.
B dolo intenzionale.
C dolo antecedente.
-
- 635) È imputabile colui che si è messo in stato d'incapacità d'intendere o di volere al fine di commettere il reato?**
A Sì, ma solo se è maggiorenne.
B Sì, è sempre imputabile.
C Sì, ma solo se ha commesso un delitto e non anche una contravvenzione.
-
- 636) Quali pene sono sempre inflitte dal giudice con sentenza di condanna?**
A Tutte le pene accessorie.
B Le pene detentive per i delitti.
C Solo le pene principali per le contravvenzioni.
-
- 637) Il parente che, per pietà, uccide un malato terminale col consenso di lui:**
A risponde di omicidio del consenziente.
B risponde di omicidio con l'attenuante dei motivi di particolare valore morale o sociale.
C realizza un omicidio ma può essere scusato.
-
- 638) Quali cose possono essere oggetto di sequestro preventivo?**
A Le cose che costituiscono la garanzia patrimoniale per le obbligazioni civili nascenti dal reato.
B Le cose pertinenti al reato la cui libera disponibilità potrebbe aggravare o protrarre le conseguenze di esso tra cui tutte le cose di cui è consentita la confisca.
C Le cose che costituiscono il corpo del reato.
-
- 639) La recidiva è:**
A la condizione personale di chi, dopo essere stato condannato con sentenza passata in giudicato per un delitto non colposo, ne commette un altro della stessa indole nei tre anni successivi.
B la condizione personale di chi è stato condannato con sentenza passata in giudicato per un delitto non colposo.
C la condizione personale di chi, dopo essere stato condannato con sentenza passata in giudicato per un delitto non colposo, ne commette un altro.
-
- 640) Gli stati emotivi e passionali:**
A non escludono l'imputabilità.
B escludono il dolo.
C escludono la causalità.
-
- 641) Come si distinguono i reati in base alla diversa specie delle pene per essi stabilite?**
A In reati puniti con pena detentiva e reati puniti con pena pecuniaria.
B In reati comuni e reati politici.
C In delitti e contravvenzioni.
-
- 642) Il rappresentante del minore che ha compiuto gli anni 14 può rimettere la querela proposta da lui o dal rappresentato?**

- A No, tranne le eccezioni previste dalla legge.
- B Sì, ma la remissione non ha effetto se il minore manifesta volontà contraria.
- C Sì, e la remissione ha effetto anche se il minore manifesta volontà contraria.

643) Se l'agente ritiene, per errore determinato da colpa, che esistano circostanze di esclusione della pena:

- A la punibilità non è esclusa, se il fatto è previsto dalla legge come delitto colposo.
- B la punibilità non è esclusa, ma la pena è ridotta di un terzo.
- C la punibilità è esclusa.

644) La sentenza 364 del 1988 della Corte costituzionale ha stabilito che l'ignoranza della legge penale:

- A scusa solo se imprevedibile.
- B scusa solo se provocata da altri.
- C scusa solo se inevitabile.

645) Il regime di semilibertà è un mezzo di trattamento:

- A penitenziario.
- B sociale.
- C sanitario.

646) Chi favorisce nel sottrarsi alle ricerche dell'Autorità un prossimo congiunto evaso da uno stabilimento nel quale si trovava sottoposto a misura di sicurezza detentiva, commette il delitto di procurata inosservanza di misure di sicurezza detentive?

- A Sì, ma non è punibile.
- B Sì, ma la pena è diminuita.
- C No, perché il fatto non costituisce reato per carenza dell'elemento soggettivo.

647) Nell'ambito dell'art. 56 c.p. il pentimento operoso:

- A esige sempre una nuova attività da parte del reo.
- B può essere involontario.
- C comporta la totale impunità del reo.

648) La sospensione condizionale della pena può estinguere il reato?

- A No, la sospensione condizionale della pena, estingue solo la pena.
- B Sì, se il periodo di prova si conclude positivamente.
- C Sì, ma solo per le contravvenzioni.

649) L'evento in senso giuridico è presente:

- A solo nei reati omissivi.
- B in tutti i reati.
- C solo nei reati omissivi propri.

650) Con quali modalità deve essere effettuata la pubblicazione di una sentenza penale?

- A La pubblicazione deve essere fatta in ogni caso per estratto.
- B La pubblicazione deve essere fatta per estratto, salvo che il giudice disponga la pubblicazione per intero.
- C La pubblicazione deve essere fatta in ogni caso per intero.

651) La norma penale è composta da:

- A 2 elementi costitutivi.
- B 3 elementi costitutivi.
- C 4 elementi costitutivi.

652) Ai sensi dell'art. 90 del codice penale, gli stati emotivi o passionali escludono l'imputabilità?

- A No, anzi comportano un aumento di pena fino al doppio.
- B No, non escludono né diminuiscono l'imputabilità.
- C No, diminuiscono l'imputabilità.

653) Indicare quale tra le seguenti affermazioni, relative al concetto di colpevolezza nel diritto penale, non è corretta:

- A l'azione, per imputare il fatto al suo autore, deve potersi considerare come azione o fatto proprio dell'agente e non il prodotto delle forze cieche della natura.
- B per l'imputazione del fatto personale al suo autore non devono ricorrere cause di esclusione della colpevolezza che determinino una divergenza tra voluto e realizzato; tale divergenza non può dipendere da una errata rappresentazione della realtà.
- C per l'imputazione del fatto personale al suo autore, il soggetto deve essere in grado di agire in base ad impulsi consapevoli e quindi non essere affetto da malattie o deviazioni della personalità che alterino il processo motivazionale coartando la sua volontà.

-
- 654) **Il pubblico ufficiale, che, abusando di un foglio firmato in bianco, del quale abbia il possesso per ragione del suo ufficio e per un titolo che importa l'obbligo o la facoltà di riempirlo, vi scrive o vi fa scrivere un atto pubblico diverso da quello a cui era obbligato o autorizzato, commette il reato di:**
- A falsità in foglio firmato in bianco. Atto privato.
 - B falsità in foglio firmato in bianco. Atto pubblico.
 - C falsità materiale in certificati o autorizzazioni amministrative.
-
- 655) **Non è punibile il pubblico ufficiale che, al fine di adempiere un dovere del proprio ufficio, faccia uso delle armi anche quando:**
- A vi è costretto dalla necessità di respingere una violenza.
 - B vi è costretto dalla necessità di replicare ad un oltraggio ricevuto.
 - C vi è indotto dall'opportunità di respingere una violenza.
-
- 656) **Quali dei seguenti reati rientrano nella categoria dei delitti?**
- A I reati per i quali la legge commina le pene dell'ergastolo, della reclusione e dell'arresto.
 - B I reati per i quali la legge commina le pene dell'ergastolo, della reclusione e della multa.
 - C I reati per i quali la legge commina le pene dell'arresto e dell'ammenda.
-
- 657) **Se l'evento del delitto, non voluto dall'agente, si verifica per inosservanza di regolamenti:**
- A il delitto è colposo.
 - B il delitto non sussiste.
 - C il delitto è preterintenzionale.
-
- 658) **Commette il reato di falsità ideologica in atto pubblico il pubblico ufficiale che, ricevendo un atto, altera dichiarazioni da lui ricevute:**
- A se agisce nell'esercizio delle sue funzioni.
 - B se agisce per recare ad altri un danno.
 - C se agisce per trarne profitto.
-
- 659) **Sono misure di sicurezza patrimoniali:**
- A la cauzione di buona condotta e la confisca oltre quelle stabilite da particolari disposizioni di legge.
 - B esclusivamente la cauzione di buona condotta e la confisca.
 - C la cauzione di buona condotta, la confisca e l'ammenda.
-
- 660) **Nessuno può essere punito per un fatto previsto dalla legge come reato (art. 40 c.p.):**
- A se l'evento dannoso o pericoloso, da cui dipende l'esistenza del reato, deriva soltanto da negligenza.
 - B se l'evento dannoso o pericoloso, da cui dipende l'esistenza del reato, non ha arrecato danni alle persone.
 - C se l'evento dannoso o pericoloso, da cui dipende l'esistenza del reato, non è conseguenza della sua azione od omissione.
-
- 661) **Quando si consuma un furto commesso nel supermercato?**
- A Solo nel momento del passaggio per la cassa con la merce occultata.
 - B Appena il cliente preleva la merce dai banchi di vendita.
 - C Quando il cliente sosta davanti alla cassa con la merce occultata sulla propria persona.
-
- 662) **La condanna alla reclusione, per il delitto di corruzione per un atto contrario ai doveri di ufficio per un tempo non inferiore a tre anni, importa l'estinzione del rapporto di lavoro o di impiego nei confronti del dipendente di amministrazioni od enti pubblici:**
- A ovvero di enti a prevalente partecipazione pubblica.
 - B territoriali.
 - C anche economici.
-
- 663) **Chi ha commesso il fatto per caso fortuito (art. 45 c.p.):**
- A non è imputabile.
 - B non è punibile.
 - C è punibile, ma ha la pena ridotta.
-
- 664) **La privazione definitiva di ogni incarico non obbligatorio di pubblico servizio e della qualità ad esso inerente di incaricato di pubblico servizio deriva:**
- A dalla pena accessoria dell'interdizione perpetua dai pubblici uffici.
 - B dalla pena accessoria dell'interdizione da una professione o da un'arte.
 - C dalla pena accessoria dell'interdizione legale.

-
- 665) **Il medico che omette di curare il paziente lasciandolo morire:**
A risponde di omicidio per omissione.
B risponde di omissione di soccorso.
C risponde di abbandono di persona incapace.
-
- 666) **È compreso tra i delitti propri dei Pubblici Ufficiali contro la pubblica amministrazione:**
A subornazione.
B millantato credito.
C corruzione in atti giudiziari.
-
- 667) **È punibile il fatto che secondo una legge posteriore al tempo della sua commissione non costituisce più reato?**
A No, in nessun caso.
B No, salvo il caso in cui sia previsto da leggi eccezionali o temporanee.
C Sì, se si tratta di delitto.
-
- 668) **Ai sensi della legge 689/1981, nelle violazioni cui è applicabile una sanzione amministrativa, ciascuno è responsabile:**
A della propria azione od omissione, cosciente e volontaria, compiuta esclusivamente con colpa.
B della propria azione od omissione, cosciente e volontaria, sia essa dolosa o colposa.
C della propria azione od omissione, cosciente e volontaria, compiuta esclusivamente con colpa grave.
-
- 669) **Quale delle seguenti affermazioni è corretta in riferimento al configurarsi del tentativo nelle varie categorie di reati?**
A Deve ritenersi ammissibile il tentativo in relazione ai delitti di attentato.
B Il tentativo è configurabile nei delitti permanenti allorché la situazione offensiva non abbia raggiunto il minimum necessario per l'esistenza del reato.
C Il tentativo è ammissibile nel delitto preterintenzionale, per la circostanza che l'evento ulteriore deve essere non voluto.
-
- 670) **Il Pubblico Ufficiale che procede ad un arresto abusando dei poteri inerenti alle sue funzioni risponde del delitto di:**
A arresto illegale.
B sequestro di persona aggravato.
C indebita limitazione della libertà personale.
-
- 671) **Tizio dopo aver danneggiato l'automobile di Caio per consumare un furto, vi rinuncia; egli risponderà di:**
A danneggiamento.
B furto aggravato dalla violenza sulle cose.
C tentato furto in concorso con il delitto di danneggiamento.
-
- 672) **Se il giudice ritiene che un minore degli anni diciotto sia capace di intendere e di volere:**
A la pena è diminuita.
B è esclusa la punibilità perché minore.
C la pena è quella edittale.
-
- 673) **Cosa prevede la legge n. 689/1981 per l'ipotesi in cui più persone concorrano in una violazione amministrativa?**
A Ciascuna di esse soggiace alla sanzione per questa disposta, maggiorata di un terzo.
B Ciascuna di esse soggiace alla sanzione per questa disposta, salvo che sia diversamente stabilito dalla legge.
C La sanzione è ripartita tra tutte le persone che hanno concorso nella violazione.
-
- 674) **Il soggetto A, emotivamente alterato, provoca lesioni ad un soggetto B. Il soggetto A è imputabile?**
A Sì
B Sì, ma la pena è diminuita.
C Sì, e la pena è aumentata.
-
- 675) **Se la querela è proposta da più persone, il reato:**
A si estingue per la remissione anche di un solo querelante, se gli altri querelanti siano stati integralmente risarciti del danno.
B non si estingue se non interviene la remissione di tutti i querelanti.
C si estingue se interviene la remissione anche di un solo querelante.
-

- 676) **Il reato di istigazione alla corruzione finalizzato al compimento di un atto d'ufficio si concretizza quando l'offerta o la promessa di denaro non dovuta è formulata nei confronti:**
- A del Pubblico Ufficiale e dell'incaricato di un pubblico servizio che rivesta la qualità di pubblico impiegato.
 - B del Pubblico Ufficiale e dell'incaricato di un pubblico servizio, anche se questi non riveste la qualità di pubblico impiegato.
 - C del solo Pubblico Ufficiale.
-
- 677) **In materia penale, le contravvenzioni ammettono il tentativo?**
- A No, tranne i casi espressamente previsti dalla legge.
 - B Sì, tranne i casi espressamente previsti dalla legge.
 - C No, in nessun caso.
-
- 678) **Il soggetto passivo del reato è:**
- A il titolare dell'interesse protetto dalla norma penale.
 - B il danneggiato dal reato.
 - C colui il quale non prende parte alla condotta.
-
- 679) **Quando l'evento dannoso è impossibile per l'inidoneità dell'azione:**
- A é esclusa la punibilità.
 - B é esclusa l'imputabilità.
 - C non è esclusa la punibilità.
-
- 680) **Le pene accessorie:**
- A non sono obbligatorie.
 - B sono a discrezione del giudice.
 - C conseguono di diritto alla condanna.
-
- 681) **Se l'agente ritiene per errore che esistano circostanze aggravanti:**
- A queste non sono valutate contro di lui.
 - B queste sono valutate contro di lui.
 - C queste sono valutate contro di lui, quando si tratti di circostanze soggettive.
-
- 682) **La circostanza del reato comporta:**
- A soltanto una modificazione quantitativa della pena edittale.
 - B una modificazione quantitativa o qualitativa della pena edittale.
 - C soltanto una modificazione qualitativa della pena edittale.
-
- 683) **Nelle contravvenzioni ciascuno risponde della propria azione od omissione:**
- A se cosciente e volontaria, ma soltanto se dolosa.
 - B se cosciente e volontaria, sia essa dolosa o colposa.
 - C anche se non cosciente e volontaria.
-
- 684) **Quale dei seguenti reati è di pura condotta?**
- A La truffa.
 - B Il rifiuto di atti di ufficio.
 - C Le lesioni personali.
-
- 685) **Non è punibile chi lede o mette in pericolo un diritto col consenso della persona che può validamente disporre, statuisce l'art.50 del codice penale. Pertanto oggetto del consenso deve essere:**
- A un diritto indisponibile.
 - B un diritto disponibile.
 - C un diritto soggettivo.
-
- 686) **Secondo il principio di legalità, fonte del diritto penale possono essere:**
- A atti normativi primari.
 - B atti normativi secondari.
 - C atti amministrativi.
-
- 687) **Il fenomeno in base al quale il trascorrere di un periodo di tempo comporta l'estinzione del reato viene denominato:**
- A perenzione.
 - B decorrenza.
 - C prescrizione.

-
- 688) **Se Sempronio spara mortalmente a Tizio allo scopo di ucciderlo, agisce:**
- A con colpa specifica.
 - B oltre l'intenzione.
 - C con dolo.
-
- 689) **Nel delitto preterintenzionale l'evento più grave dev'essere dall'agente:**
- A voluto.
 - B voluto e causato.
 - C causato.
-
- 690) **gisce in stato di necessità chi commette il fatto per salvare altri da un pericolo attuale di un danno grave alla persona:**
- A da lui non volontariamente causato, né altrimenti evitabile.
 - B solo se prevedibile.
 - C solo se causato da terzi.
-
- 691) **Cosa si intende per "caso fortuito" come causa di esclusione della coscienza e volontà?**
- A La violenza esercitata da altri ed alla quale il soggetto non poteva resistere o sottrarsi.
 - B Un fatto colposo senza la previsione dell'evento.
 - C Un fatto imprevedibile del tutto estraneo alla volontà del soggetto.
-
- 692) **I delitti contro l'ordine pubblico:**
- A comprendono tutti quei fatti costituenti reati di falso.
 - B comprendono tutti quei fatti destinati a ledere o a mettere in pericolo la vita e l'integrità fisica di un numero indeterminato di persone.
 - C comprendono tutti quei fatti che possono turbare il senso sociale di sicurezza.
-
- 693) **Le pene previste per i delitti sono:**
- A ergastolo, reclusione ed ammenda.
 - B ergastolo, reclusione e multa.
 - C reclusione, arresto ed ammenda.
-
- 694) **L'appropriazione indebita è un reato:**
- A proprio.
 - B a dolo generico.
 - C a dolo specifico.
-
- 695) **Nell'ipotesi di reato impossibile il giudice può ordinare che l'imputato prosciolto sia sottoposto a:**
- A una misura di sicurezza.
 - B una misura di prevenzione.
 - C non ha alcun potere.
-
- 696) **Il Pubblico Ufficiale il quale omette di denunciare all'Autorità Giudiziaria il reato di ingiuria, di cui ha avuto notizia nell'esercizio delle sue funzioni ed in relazione al quale non è stata proposta querela, commette il reato di omessa denuncia di reato da parte del pubblico ufficiale?**
- A No, perché il reato di ingiuria è punibile a querela della persona offesa.
 - B Sì, ma solo se il pubblico ufficiale ha agito al fine di procurare a se o ad altri un ingiusto vantaggio patrimoniale.
 - C Sì, ma solo se il pubblico ufficiale è ufficiale o agente di polizia giudiziaria.
-
- 697) **È imputabile l'autore di un reato che manchi parzialmente dell'udito e della parola?**
- A Sì, se, al momento del fatto, la capacità di intendere o di volere era grandemente scemata, ma non esclusa, a causa dell'infermità.
 - B No, poiché tale menomazione rende la persona comunque incapace di intendere e di volere.
 - C La condizione d'imputabilità è sempre valutata discrezionalmente dal Giudice.
-
- 698) **Il dolo eventuale è caratterizzato dall'accettazione:**
- A delle possibili conseguenze della condotta concreta.
 - B delle possibili conseguenze causate da altri.
 - C delle possibili conseguenze della condotta astratta.
-
- 699) **Quando la legge considera come elementi costitutivi o circostanze aggravanti di un solo reato fatti che costituirebbero, per se stessi reato, si ha:**
- A reato complesso.
 - B reato permanente.
 - C reato continuato.

-
- 700) Il delitto è preterintenzionale quando:**
A l'evento si verifica per un errore inabilità.
B l'evento è comunque prevedibile.
C dall'azione o dall'omissione deriva un evento dannoso più grave di quello voluto dall'agente.
-
- 701) Il genitore può rimettere la querela proposta dal minore:**
A ma la remissione non ha effetto se il minore ultraquattordicenne manifesti volontà contraria.
B salvo che il minore abbia compiuto quattordici anni.
C ma se il minore ha compiuto i quattordici anni la remissione non ha effetto senza l'approvazione di questo.
-
- 702) Nel concorso di persone nel reato il partecipe:**
A compie un'azione che, da sola, non è conforme al fatto tipico.
B non è punito con la stessa pena prevista per l'autore.
C è punito solo a titolo di tentativo.
-
- 703) Con l'avviso orale il Questore, quando ricorrono le condizioni previste dalla legge può imporre alle persone che risultino definitivamente condannate per delitti non colposi il divieto di possedere o utilizzare programmi informatici ed altri strumenti di cifratura o crittazione di conversazioni e messaggi?**
A La legge nulla dispone in merito, si intende quindi che il Questore può imporre alle suddette persone qualsiasi misura sia di prevenzione che di sicurezza, anche di natura patrimoniale.
B Sì.
C No, può solo imporre il divieto di possedere o utilizzare, in tutto o in parte, qualsiasi apparato di comunicazione radiotrasmittente.
-
- 704) I delitti contro l'incolumità pubblica:**
A puniscono l'azione diretta a ledere o mettere in pericolo la vita di un numero indeterminato di persone.
B comprendono tutti quei fatti costituenti reati di falso.
C comprendono tutti quei fatti che possono ledere o mettere in pericolo l'armonica e pacifica coesistenza dei cittadini, turbando il regolare andamento della vita sociale.
-
- 705) Il tentativo si applica:**
A alle contravvenzioni.
B ai delitti.
C sia ai delitti che alle contravvenzioni.
-
- 706) Al fatto previsto come reato da una legge eccezionale si applica questa legge, anche se non più in vigore al momento della condanna?**
A Sì, in ogni caso.
B Sì, a condizione che sia prevista la pena dell'arresto.
C Sì, a condizione che sia prevista la pena della reclusione.
-
- 707) Chi riveste la qualifica di pubblico ufficiale (art. 357 c.p.)?**
A Chi presta, a qualunque titolo, un pubblico servizio.
B I privati che esercitano professioni forensi o sanitarie.
C Chi esercita una funzione legislativa, giudiziaria, amministrativa.
-
- 708) Tizio compie una rapina con una pistola giocattolo sprovvista di tappo rosso risponderà di:**
A tentata rapina.
B rapina aggravata.
C rapina semplice.
-
- 709) L'interdizione da una professione o da un'arte priva il condannato:**
A della capacità di esercitare, per dieci anni, una professione, arte, industria, o un commercio o mestiere, per cui è richiesto uno speciale permesso o una speciale abilitazione, autorizzazione o licenza dell'Autorità.
B della capacità di esercitare, per quindici anni, una professione, arte, industria, o un commercio o mestiere, per cui è richiesto uno speciale permesso o una speciale abilitazione, autorizzazione o licenza dell'Autorità.
C della capacità di esercitare, durante l'interdizione, una professione, arte, industria, o un commercio o mestiere, per cui è richiesto uno speciale permesso o una speciale abilitazione, autorizzazione o licenza dell'Autorità.
-

- 710) **L'art.54 del codice penale disciplina la causa oggettiva di esclusione del reato dello "stato di necessità". Rispetto alla legittima difesa lo stato di necessità prevede che l'oggetto del pericolo debba consistere in:**
- A un danno grave alla persona o al patrimonio.
 - B un danno lieve alla persona e grave al patrimonio.
 - C un danno grave alla persona.
-
- 711) **Costituisce delitto tentato pedinare la vittima col proposito di ucciderla?**
- A Sì.
 - B Dipende quando la vittima percepisce il pedinamento.
 - C No.
-
- 712) **Ai sensi dell'art. 112 del codice penale, relativo alle circostanze aggravanti nel concorso di persone nel reato, la pena è aumentata:**
- A solo per chi ha organizzato la cooperazione nel reato.
 - B per chi, fuori del caso previsto dall'art. 111 del codice penale, ha determinato a commettere il reato un minore degli anni diciotto o una persona in stato di infermità o di deficienza psichica.
 - C solo per chi ha determinato a commettere il reato un minore degli anni diciotto.
-
- 713) **Nel delitto di estorsione l'atto di disposizione patrimoniale può incidere:**
- A solo su beni immobili.
 - B indifferentemente su beni mobili o immobili o diritti di qualsiasi natura.
 - C solo su beni mobili.
-
- 714) **Se qualcuno istiga una persona a commettere un reato e l'istigazione è accolta, ma il reato non viene commesso:**
- A nessuno di essi è punibile per il solo fatto dell'istigazione.
 - B sono entrambi punibili per l'accordo criminoso.
 - C sono entrambi punibili per il tentativo.
-
- 715) **Si definiscono di colpa incosciente quei casi in cui:**
- A il soggetto accetta il rischio che l'evento antigiuridico, conseguenza della sua azione od omissione, possa verificarsi.
 - B il soggetto non si rende conto di poter ledere con la sua azione interessi altrui.
 - C il soggetto non accetta il rischio del verificarsi dell'evento di reato, e quindi non lo vuole, in quanto è sicuro di riuscire ad evitarlo.
-
- 716) **Una circostanza aggravante ad effetto comune prevede un aumento di pena:**
- A pari ad un terzo.
 - B pari ad un mezzo.
 - C fino ad un terzo.
-
- 717) **Cosa s'intende per reati plurisoggettivi a concorso necessario?**
- A Reati in cui sono necessariamente presenti più circostanze aggravanti o attenuanti riferite solo a taluni dei concorrenti.
 - B Reati che debbono essere commessi necessariamente da una pluralità di soggetti attivi.
 - C Reati rispetto ai quali è sempre escluso il concorso di persone.
-
- 718) **L'ordinamento penale prevede ipotesi in cui ad una persona può essere applicata una pena per un fatto previsto dalla legge come reato, se al momento in cui lo ha commesso, non era imputabile?**
- A No, tranne se ha commesso un reato continuato.
 - B No, senza eccezioni.
 - C Sì, ma solo se ha commesso il fatto con dolo.
-
- 719) **L'errore sul fatto che costituisce un determinato reato:**
- A esclude la punibilità per un reato diverso.
 - B esclude la punibilità anche per i reati diversi legati dal vincolo della continuazione con quello su cui è caduto l'errore.
 - C non esclude la punibilità per un reato diverso.
-
- 720) **Aggrava il reato l'aver agito:**
- A con malizia verso le persone.
 - B con crudeltà verso le persone.
 - C con inganno verso le persone.
-
- 721) **La misura del ricovero in riformatorio giudiziario:**

- A è sostituita dal giudice con la libertà vigilata, quando il minore abbia compiuto il diciottesimo anno di età.
B può essere sostituita dal giudice con la libertà vigilata, solo quando il minore abbia compiuto il sedicesimo anno di età.
C è una misura (art. 223 c.p.) che può essere applicata soltanto ai minori di anni 16 e non può avere durata inferiore ad un anno.

722) **Come si definisce un reato che può essere commesso solo da una pluralità di persone?**

- A Associativo.
B Plurisoggettivo.
C Complesso.

723) **L'ergastolo:**

- A è pena accessoria per i delitti.
B è una pena principale per i delitti.
C è pena principale per le contravvenzioni.

724) **Quale pena accessoria consegue alla condanna per delitti commessi con abuso di un commercio?**

- A L'interdizione perpetua dal commercio.
B L'interdizione temporanea dal commercio.
C Nessuna pena accessoria.

725) **In materia penale, la colpa specifica rappresenta:**

- A la colpa derivante dall'inosservanza di regole cautelari non scritte.
B la colpa derivante dall'inosservanza di leggi e regolamenti destinati esclusivamente ad alcune categorie professionali.
C la colpa derivante dall'inosservanza di leggi, destinate alla generalità dei consociati.

726) **La querela presentata nei confronti di uno solo dei concorrenti nella commissione del reato si estende anche agli altri?**

- A No.
B Sì.
C Sì, se è stata presentata nei confronti di chi ha determinato gli altri a commettere il reato.

727) **Ai sensi dell'art. 2, comma 5, c.p., in quali casi si applicano, altresì, le disposizioni riguardanti la successione delle leggi penali?**

- A Esclusivamente nei casi di decadenza e di mancata ratifica di un decretollegge.
B Esclusivamente nel caso di un decreto-legge convertito in legge con emendamenti.
C Nei casi di decadenza e di mancata ratifica di un decreto-legge e nel caso di un decreto-legge convertito in legge con emendamenti.

728) **A norma di quanto dispone la legislazione vigente la persona alla quale è stato fatto l'avviso orale del Questore può chiederne la revoca?**

- A Sì, può chiederne la revoca solo al Prefetto.
B Sì, può chiederne la revoca in qualsiasi momento.
C No, la misura non può essere revocata.

729) **Il reo è:**

- A la persona fisica autrice del reato.
B la persona fisica o giuridica autrice del reato.
C colui che ha subito un danno penalmente risarcibile.

730) **La causa di giustificazione dello stato di necessità:**

- A non si applica a tutti gli incaricati di un pubblico servizio.
B non si applica a chi ha un particolare dovere giuridico di esporsi al pericolo.
C non si applica ai pubblici ufficiali, qualunque sia la loro posizione.

731) **Tizio tenta senza successo di togliersi la vita. Tizio risponde di:**

- A istigazione al suicidio.
B tentato suicidio.
C nessun reato.

732) **Nell'ipotesi prevista dall'art. 51, co. 4, c.p., la causa di giustificazione può essere invocata:**

- A solo nei casi in cui l'ordine non ha per oggetto un comportamento manifestamente criminoso.
B solo nei casi in cui l'ordine ha per oggetto un comportamento illecito.
C in presenza di ogni genere di ordine.

-
- 733) Il delitto di peculato mediante profitto dell'errore altrui:**
A può essere commesso da un privato o da un pubblico ufficiale.
B non può essere punito con la reclusione.
C può essere commesso solo dal pubblico ufficiale o dall'incaricato di un pubblico servizio.
-
- 734) L'abitudine criminosa è la condizione personale di chi, con la sua persistente attività criminosa, dimostra di aver acquisito una notevole abitudine a commettere reati. L'abitudine presunta di cui all'art. 102 del c.p. si ha:**
A quando il reo è stato condannato alla reclusione in misura superiore complessivamente a quindici anni per tre delitti colposi della stessa indole, commessi non contestualmente entro cinque anni.
B quando il reo è stato condannato alla reclusione in misura superiore complessivamente a cinque anni per tre delitti non colposi, della stessa indole, commessi non contestualmente entro dieci anni.
C quando il reo riporta un'altra condanna per un delitto non colposo, della stessa indole e commesso entro i cinque successivi all'ultimo dei delitti precedenti.
-
- 735) Per l'oltraggio ad un pubblico impiegato e per l'oltraggio ad un Pubblico Ufficiale è prevista la stessa pena?**
A No, la pena per l'oltraggio ad un pubblico impiegato è diminuita di un terzo.
B I reati di oltraggio a pubblico impiegato ed a Pubblico Ufficiale sono stati abrogati.
C Sì.
-
- 736) Tizio sul luogo e nell'immediatezza di un reato a cui è estraneo, interrogato dalla P.G. dichiara il falso; egli risponde di:**
A false informazioni al P.M.
B falsa testimonianza.
C favoreggiamento personale.
-
- 737) Indicare quale tra le seguenti pene consegue di diritto alla condanna, come effetti della stessa:**
A pena accessoria.
B reclusione.
C arresto.
-
- 738) Come risponderà il soggetto C che con la sua auto, non volendo l'evento e neppure ammettendone la possibilità, abbia investito un pedone passando con il semaforo rosso?**
A Di colpa specifica.
B Di dolo specifico.
C Di colpa generica.
-
- 739) Il principio di legalità copre anche le misure di sicurezza:**
A solo le personali.
B no.
C sì.
-
- 740) Le prescrizioni imposte con la libertà vigilata:**
A sono determinate dal direttore dell'Istituto penitenziario.
B possono essere modificate dal magistrato di sorveglianza se in senso migliorativo ovvero dal tribunale di sorveglianza se in senso peggiorativo.
C non necessitano di accettazione da parte dell'interessato, che ne deve solo prendere atto.
-
- 741) Un reato commesso nel territorio dello Stato è punito secondo la legge italiana:**
A se commesso da uno straniero ancora presente nel territorio dello Stato.
B sempre.
C se commesso da un cittadino italiano.
-
- 742) In quale tipologia di delitti, l'evento che si verifica non è mai attribuibile al volere del soggetto attivo?**
A Delitti colposi.
B Delitti aberranti.
C Delitti a dolo generico.
-
- 743) Se il soggetto attivo, dopo aver dato inizio alla condotta criminale, desiste volontariamente dal completare l'azione:**
A risponde solo degli atti compiuti se questi costituiscono reato.
B risponde del delitto tentato, ma solo nei reati di pericolo.
C non è punibile in ogni caso.

-
- 744) **Il soggetto che, al fine di procurare a sé o ad altri un vantaggio induce taluno in errore, sostituendo illegittimamente la propria all'altrui persona, commette il reato di:**
- A falsa attestazione o dichiarazione a un pubblico ufficiale sulla identità o su qualità personali proprie o di altri.
 - B falsità in registri e notificazioni.
 - C sostituzione di persona.
-
- 745) **In riferimento all'oltraggio ad un Pubblico Ufficiale, quale delle seguenti affermazioni è corretta?**
- A Non è reato.
 - B È un delitto contro la persona.
 - C È un delitto contro la Pubblica Amministrazione.
-
- 746) **Secondo il disposto di cui all'art. 22 del c.p.:**
- A il condannato all'ergastolo non può, in nessun tempo, essere ammesso al lavoro all'aperto.
 - B la pena dell'ergastolo è perpetua, ed è scontata in uno degli istituti a ciò destinati, con l'obbligo del lavoro e con l'isolamento notturno.
 - C la pena dell'ergastolo è perpetua, ed è scontata in uno degli istituti a ciò destinati, con l'obbligo del lavoro ma senza alcuna forma di isolamento notturno.
-
- 747) **In materia penale, qual è la differenza sostanziale tra l'esercizio di un diritto e l'adempimento di un dovere?**
- A Il primo è una causa di esclusione del reato, il secondo una causa di giustificazione.
 - B Il primo può essere invocato solo per determinati reati, il secondo per qualsiasi tipo di reato.
 - C L'esercizio del diritto presuppone una facoltà di agire mentre l'adempimento del dovere costituisce un obbligo imposto al soggetto.
-
- 748) **L'uso legittimo delle armi, previsto dall'art.53 del codice penale, viene considerata una causa di giustificazione "propria". Perché?**
- A Tale termine è previsto dal codice penale.
 - B Si applica solo nei casi previsti dalla legge, non essendo invocabile tramite il procedimento analogico.
 - C Può essere invocata solo dai pubblici ufficiali.
-
- 749) **L'oblazione estingue:**
- A l'illecito amministrativo.
 - B il delitto punito solo con pena pecuniaria.
 - C le contravvenzioni.
-
- 750) **Il pubblico ufficiale che attesta falsamente in un certificato fatti dei quali l'atto è destinato a provare la verità è punito:**
- A solo se il certificato è destinato a essere prodotto dinanzi all'Autorità giudiziaria.
 - B anche se agisce fuori dell'esercizio delle sue funzioni.
 - C se agisce nell'esercizio delle sue funzioni.
-
- 751) **Nell'omissione propria manca:**
- A l'evento in senso naturalistico.
 - B l'evento in senso giuridico.
 - C l'antigiuridicità.
-
- 752) **In materia penale, la colpa generica rappresenta:**
- A la colpa derivante dall'inosservanza di regole cautelari non scritte.
 - B la colpa derivante dall'inosservanza di leggi e regolamenti destinati alla generalità dei consociati.
 - C la colpa derivante dall'inosservanza di leggi e regolamenti destinati esclusivamente ad alcune categorie professionali.
-
- 753) **I delitti contro la famiglia:**
- A comprendono tutti quei fatti che offendono o mettono in pericolo l'istituto familiare nei suoi vari aspetti: matrimonio, morale familiare, stato di famiglia e assistenza familiare.
 - B comprendono tutti quei fatti che offendono la libertà in campo sessuale ovvero i beni del pudore e dell'onore sessuale.
 - C comprendono tutti quei fatti che offendono la religione e le sue manifestazioni esteriori ovvero il rispetto per le entità che trascendono la vita dei singoli.
-
- 754) **Si ha il delitto di truffa previsto dall'art. 640 c.p. quando:**
- A il pubblico ufficiale che sfrutta l'errore altrui per procurare a sé ingiusto profitto.
 - B chiunque, con artifici o raggiri, inducendo taluno in errore, procura a sé o ad altri un ingiusto profitto con altrui danno.
 - C chiunque induce taluno in errore causando un danno ad altri.

-
- 755) Per i minori che hanno compiuto gli anni quattordici, il diritto di remissione della querela può essere esercitato:**
- A dagli stessi, salvo che la querela sia stata proposta dal rappresentante.
 - B dagli stessi anche quando la querela è stata proposta dal rappresentante, ma, in ogni caso, la remissione non ha effetto senza l'approvazione di questo.
 - C dagli stessi, ma se la querela è stata proposta dal rappresentante la remissione non ha effetto senza l'approvazione di questo.
-
- 756) Chi si introduce in una appartenenza dell'abitazione altrui, contro la volontà espressa o tacita di chi ha diritto di escluderlo, commette il reato di:**
- A violazione di domicilio.
 - B furto.
 - C violenza privata.
-
- 757) La misura del ricovero in ospedale psichiatrico giudiziario è disposta:**
- A per gli imputati prosciolti per infermità psichica o per intossicazione cronica da alcool o da sostanze stupefacenti o per sordomutismo, salvo che si tratti di contravvenzioni o delitti colposi o altri delitti per i quali è stabilita la pena pecuniaria o la reclusione non superiore nel massimo a due anni.
 - B per gli imputati prosciolti per infermità psichica o per intossicazione cronica da alcool o da sostanze stupefacenti o per sordomutismo, salvo che si tratti di contravvenzioni.
 - C per gli imputati prosciolti per infermità psichica o per intossicazione cronica da alcool o da sostanze stupefacenti o per sordomutismo, salvo che si tratti di contravvenzioni o delitti colposi o altri delitti per i quali è stabilita la pena pecuniaria o la reclusione non superiore nel massimo a dodici mesi.
-
- 758) E' possibile il tentativo in un delitto di attentato?**
- A Sì, ma non è prevista la desistenza.
 - B No.
 - C Dipende dal caso concreto.
-
- 759) Nel diritto penale, l'oblazione comporta:**
- A l'estinzione della pena ma non del reato.
 - B l'esclusione della punibilità ma non l'estinzione del reato.
 - C l'estinzione del reato.
-
- 760) In materia penale si ha "recesso attivo" o "pentimento operoso" quando:**
- A l'agente, pur avendo completato la condotta criminale, si adopera in modo da impedire l'evento.
 - B l'agente, pur avendo intrapreso la condotta criminale, si arresta prima di completarla.
 - C l'agente ripara il danno mediante il risarcimento.
-
- 761) La norma penale ha carattere statale nel senso che:**
- A è concordata a livello internazionale tra vari Stati.
 - B può provenire soltanto dallo Stato.
 - C può provenire dallo Stato e da altri enti presenti all'interno dello stesso.
-
- 762) Quando il giudice dispone il ricovero in un riformatorio giudiziario applica:**
- A una misura di sicurezza personale non detentiva.
 - B una misura di sicurezza personale detentiva.
 - C una pena sostitutiva.
-
- 763) Soggetto attivo del delitto di concussione può essere un privato cittadino?**
- A No, può essere solo un incaricato di pubblico servizio.
 - B No, può essere un pubblico ufficiale o un incaricato di pubblico servizio.
 - C Sì, e può essere anche l'esercente un servizio di pubblica utilità.
-
- 764) Le circostanze aggravanti ed attenuanti previste dal codice penale sono (artt. 61 e 62 c.p.):**
- A un elemento accidentale del reato.
 - B un elemento riconducibile al nesso di causalità.
 - C un elemento essenziale del reato.
-
- 765) Il precetto è costituito:**
- A dall'entità della pena inflitta e dalla prescrizione.
 - B dalla prescrizione.
 - C dall'entità della pena inflitta.

-
- 766) **Il P.U. che procede ad un arresto abusando dei poteri inerenti alle sue funzioni, di quale reato risponde?**
- A Esercizio arbitrario delle proprie ragioni.
 - B Sequestro di persona.
 - C Arresto illegale.
-
- 767) **Non è imputabile chi, nel momento in cui ha commesso il fatto che costituisce reato non aveva compiuto gli anni:**
- A quattordici.
 - B quindici.
 - C dieci.
-
- 768) **La libertà vigilata è disposta dal giudice previo accertamento della pericolosità sociale del soggetto e la sua applicazione può essere obbligatoria o facoltativa. Indicare in quale dei seguenti casi il giudice può invece ordinare la libertà vigilata facoltativamente:**
- A quando concede la liberazione condizionale.
 - B quando un contravventore abituale o professionale, non più sottoposto a misura di sicurezza, commetta un nuovo reato che sia indice della riacquisita abitudine o professionalità.
 - C qualora l'imputato sia stato condannato a più di un anno di reclusione.
-
- 769) **Quali dei seguenti requisiti devono caratterizzare la reazione in ordine alla legittima difesa?**
- A Proporzione e necessità.
 - B Solo proporzione.
 - C Proporzione ed immediatezza.
-
- 770) **Il delitto è doloso quando:**
- A l'evento dannoso o pericoloso è dall'agente preveduto e voluto come conseguenza della propria azione od omissione.
 - B l'evento dannoso o pericoloso non è dall'agente preveduto né voluto, purché sia conseguenza della sua azione od omissione.
 - C l'evento dannoso o pericoloso è dall'agente preveduto ma non voluto come conseguenza della propria azione od omissione.
-
- 771) **Chi ha commesso il fatto per forza maggiore:**
- A non è punibile.
 - B non è imputabile.
 - C è punibile, se è capace di intendere e di volere.
-
- 772) **Il minore di quattordici anni che commette un reato è punibile?**
- A Sì, se il giudice lo ritiene capace d'intendere e di volere.
 - B Sì ma la pena viene ridotta.
 - C No.
-
- 773) **L'adempimento del dovere può scaturire da un ordine legittimo della pubblica autorità. Quando un ordine è tale?**
- A Quando il superiore ha la competenza ad emanarlo e siano state osservate le procedure previste dalla legge per la sua emissione.
 - B Quando il superiore ha la competenza ad emanarlo, l'inferiore ad eseguirlo e siano state osservate le procedure previste per la sua emissione.
 - C Quando il superiore ha la competenza ad emanarlo e l'ordine viene emesso per tutelare un bene primario.
-
- 774) **Come risponderà il soggetto A, il quale abbia ucciso il soggetto B accidentalmente sparando un colpo di fucile in aperta campagna, a causa di imprudenza?**
- A Di colpa generica.
 - B Di dolo eventuale.
 - C Di colpa specifica.
-
- 775) **Quale dei seguenti delitti viene disciplinato nel titolo II del libro II del codice penale, relativo ai delitti contro la pubblica amministrazione?**
- A Concussione.
 - B Attentato contro la costituzione dello Stato.
 - C False informazioni al P.M.
-
- 776) **La misura del ricovero in ospedale psichiatrico giudiziario si applica:**

- A agli imputati prosciolti per infermità psichica, anche se si tratti di contravvenzioni.
- B ai sottoposti ad altra misura di sicurezza detentiva colpiti da infermità psichica tale da richiedere il ricovero in un ospedale psichiatrico giudiziario.
- C agli imputati prosciolti per sordomutismo, salvo che si tratti di delitti colposi o altri delitti per i quali è stabilita la pena della reclusione non superiore nel massimo a tre anni.

777) Con quale criterio si calcola il tempo quando la legge penale stabilisce un termine per il verificarsi di un effetto giuridico?

- A I giorni festivi non sono computati nel termine.
- B Il giorno della decorrenza non è computato nel termine.
- C Il giorno finale non è computato nel termine.

778) L'indulto estingue le pene accessorie?

- A No, salvo che il decreto disponga diversamente.
- B No, in nessun caso.
- C Sì, in ogni caso.

779) Se lo straniero è giudicato all'estero per un reato commesso nel territorio dello Stato deve essere anche giudicato nello Stato italiano?

- A Sì.
- B No, mai.
- C Sì, se vi è richiesta del Ministro della giustizia.

780) Nel concorso di circostanze eterogenee il giudice:

- A deve obbligatoriamente ritenere prevalenti le circostanze aggravanti.
- B può procedere ad un giudizio di prevalenza con apprezzamento insindacabile.
- C deve limitarsi ad aumentare o diminuire la pena, a seconda del numero delle circostanze.

781) Il dipendente di un ente privato concessionario di un servizio pubblico, che si appropria del denaro versato dagli utenti e riscosso nell'ambito delle sue attribuzioni, commette il reato di:

- A furto.
- B peculato.
- C concussione.

782) L'ubriachezza volontaria o colposa comporta:

- A diminuzione dell'imputabilità.
- B esclusione dell'imputabilità.
- C né esclusione né diminuzione dell'imputabilità.

783) L'omicidio premeditato è:

- A l'omicidio involontariamente perpetrato da chi voleva solo ferire.
- B un'ipotesi aggravata di omicidio volontario.
- C un omicidio caratterizzato da una colpa particolarmente grave.

784) Il reato di sequestro di persona di cui all'art. 605 c.p.:

- A è un reato permanente.
- B è un reato continuato.
- C è un reato abituale.

785) La punibilità può estinguersi per cause di estinzione del reato e cause di estinzione della pena. E' una causa di estinzione del reato:

- A le circostanze attenuanti.
- B il perdono giudiziale.
- C le misure di prevenzione.

786) Il principio del "favor rei" di cui all'art. 2 del Codice Penale si applica:

- A solo se la vecchia norma era più favorevole al reo rispetto alla nuova e solo se non sia stata pronunciata sentenza irrevocabile.
- B sia nell'ipotesi che la vecchia norma fosse più favorevole al reo che nell'ipotesi che la nuova norma sia più favorevole al reo, salvo, in ogni caso, che sia stata pronunciata sentenza irrevocabile.
- C solo se la vecchia norma era più favorevole al reo rispetto alla nuova.

787) Nel delitto di furto il reo:

- A deve realizzare il profitto.
- B deve finalizzare la sua condotta a trarre profitto.
- C deve finalizzare la sua condotta a trarre un ingiusto profitto.

-
- 788) I delitti di associazione politica:**
- A comprendono tutti quei fatti che concernono la vita dello Stato nella sua essenza unitaria, sia che essi abbiano attinenza alle relazioni dello Stato con le altre nazioni, sia che si riferiscano alla vita interna dello Stato.
 - B sono previsti al fine di tutelare il segreto politico interno o internazionale dello Stato.
 - C hanno la caratteristica di incriminare associazioni di persone ritenute, in ragione dei mezzi usati e/o dei fini perseguiti, pericolose per la sicurezza dello Stato o l'ordine pubblico.
-
- 789) Cosa si intende per "costringimento fisico" come causa di esclusione della coscienza e volontà?**
- A La violenza esercitata da altri ed alla quale il soggetto non poteva resistere o sottrarsi.
 - B Un fatto che seppur previsto non si poteva evitare.
 - C La forza della natura alla quale l'autore del fatto non era in grado di resistere.
-
- 790) Il costringimento psichico è parificato al costringimento fisico:**
- A nei reati dolosi.
 - B sempre.
 - C mai.
-
- 791) La querela presentata nei confronti di uno solo dei concorrenti nella commissione di un reato si estende anche all'istigatore?**
- A Sì, purché l'evento sia conseguenza della azione od omissione di tutti.
 - B Sì.
 - C Sì, se gli altri compartecipi erano maggiorenni.
-
- 792) Dispone la legge n. 689/1981 che nella determinazione della sanzione amministrativa pecuniaria fissata dalla legge tra un limite minimo ed un limite massimo e nell'applicazione delle sanzioni accessorie facoltative:**
- A si ha riguardo solo alla personalità dell'agente.
 - B si ha riguardo solo alla gravità della violazione.
 - C si ha riguardo, tra l'altro, all'opera svolta dall'agente per l'eliminazione o attenuazione delle conseguenze della violazione.
-
- 793) È imputabile la persona che si è messa in stato di incapacità di intendere o di volere al fine di commettere un reato e di prepararsi una scusa?**
- A Sì, è imputabile.
 - B Sì, e la pena è aumentata.
 - C Sì, ma la pena è diminuita.
-
- 794) La querela si estende di diritto:**
- A a tutti coloro che hanno commesso il reato, ma solo nelle ipotesi di concorso eventuale.
 - B a tutti coloro che hanno commesso il reato, purché maggiorenni.
 - C a tutti coloro che hanno commesso il reato.
-
- 795) L'omissione può essere:**
- A propria o impropria.
 - B diretta o indiretta.
 - C condizionata o incondizionata.
-
- 796) Qualsiasi persona che, legalmente richiesta dal pubblico ufficiale, faccia uso legittimo delle armi:**
- A è punibile.
 - B non è imputabile.
 - C non è punibile.
-
- 797) Del fatto commesso dalla persona costretta mediante violenza fisica alla quale non poteva resistere o comunque sottrarsi, risponde:**
- A l'autore della violenza.
 - B chi ha commesso il fatto, se imputabile.
 - C sia l'autore della violenza, sia chi ha commesso il fatto.
-
- 798) La legge stabilisce che, qualora un sordomuto commetta un reato, è necessario accertare se il suo stato non gli abbia impedito la capacità di intendere e di volere. Quando si sia trovato, a causa della sua malattia, in condizioni di non poter intendere né volere e in tali condizioni abbia commesso un reato:**

- A non è imputabile e va quindi esente da pena, ma è assoggettato alla misura di sicurezza del ricovero in un ospedale psichiatrico giudiziario (art. 96 c.p.).
- B è imputabile e gli verrà applicata la misura di sicurezza del ricovero in un ospedale psichiatrico giudiziario (art. 88 c.p.).
- C è imputabile e quindi risponde del reato commesso, e in questo caso, oltre alla pena, l'imputato verrà condannato anche alla misura di sicurezza del ricovero in una casa di cura e di custodia (art. 89 c.p.).

799) In relazione al bene giuridico tutelato dalla norma incriminatrice si distinguono reati monoffensivi e plurioffensivi. In particolare:

- A l'ingiuria non è un esempio di reato monoffensivo.
- B il danneggiamento non costituisce un esempio di reato monoffensivo.
- C la rapina, che lede congiuntamente sia il patrimonio che la libertà personale, è un esempio di reato plurioffensivo.

800) Classificando i reati in base alla struttura e al tipo di condotta previsto dalla singola norma incriminatrice, i reati che richiedono per la loro realizzazione sia un'azione che un'omissione sono:

- A reati a condotta mista.
- B sempre reati a forma vincolata.
- C c.d. reati di posizione.

801) Il compimento di fatti incompatibili con la volontà di esercitare il diritto di querela consente la successiva presentazione della querela?

- A No, in nessun caso.
- B Sì, purché non vi sia stata rinuncia espressa.
- C Sì, purché non vi sia stata rinuncia scritta.

802) Ai sensi dell'art. 101 del c.p. sono considerati reati della stessa indole, tra gli altri:

- A solo quelli che violano una stessa disposizione di legge.
- B quelli che, pur essendo preveduti da disposizioni diverse di legge o del codice penale, presentano caratteri fondamentali comuni.
- C quelli che sono commessi nei confronti dello stesso soggetto.

803) L'arresto si estende, di norma, da:

- A 15 giorni a cinque anni.
- B 5 giorni a 3 anni.
- C 15 giorni a 3 anni.

804) Colui che, in quanto addetto ad un carcere, non libera il detenuto, pur avendo ricevuto l'ordine, commette il reato di limitazione indebita della libertà personale. Esso:

- A è un reato proprio, in quanto può essere commesso solo da un pubblico ufficiale o da incaricato di pubblico servizio.
- B comporta la pena della reclusione fino a 3 anni.
- C comporta la pena della reclusione fino a 6 mesi.

805) Non è punibile chi ha commesso il fatto per esservi stato costretto dalla necessità di difendere un diritto proprio od altrui contro il pericolo attuale di un'offesa ingiusta, sempre che la difesa sia proporzionata all'offesa, recita l'art.52 del codice penale. Quale delle seguenti cause oggettive di esclusione del reato descrive il citato articolo?

- A Legittima difesa.
- B Stato di necessità.
- C Esercizio di un diritto.

806) I reati speciali o propri:

- A sono quei reati che offendono l'interesse di più soggetti passivi.
- B sono quei reati per il quale la legge richiede una speciale qualifica del soggetto attivo. Essi a loro volta si distinguono in reati propri esclusivi e reati propri non esclusivi.
- C sono quei reati che possono avere ad oggetto qualsiasi bene giuridico.

807) Le cause oggettive di esclusione del reato vengono comunemente chiamate anche:

- A cause che attenuano la responsabilità.
- B cause di non punibilità.
- C cause di giustificazione.

808) Se vi è diversità tra la legge in vigore al momento della commissione del reato e quella al momento della sentenza, quale si applica?

- A Quella più favorevole al reo.
- B Quella vigente al tempo del commesso reato.
- C Quella vigente al momento della sentenza.

-
- 809) **Quando l'evento, anche se preveduto, non è voluto dall'agente e si verifica a causa di negligenza o imprudenza o imperizia, ovvero per inosservanza di leggi, regolamenti, ordini o discipline il delitto si definisce:**
- A doloso.
 - B preterintenzionale.
 - C colposo.
-
- 810) **Se l'evento del delitto, non voluto dall'agente, si verifica a causa di imprudenza:**
- A il delitto è colposo.
 - B il delitto non sussiste.
 - C il delitto è preterintenzionale.
-
- 811) **Il concorso di cause sopravvenute, indipendenti dall'azione od omissione del colpevole, che consistono nel fatto illecito altrui:**
- A non esclude il rapporto di causalità fra l'azione od omissione e l'evento, a meno che le cause sopravvenute non siano state da sole sufficienti a determinarlo.
 - B esclude il rapporto di causalità fra l'azione od omissione e l'evento.
 - C non esclude il rapporto di causalità fra l'azione od omissione e l'evento se era conosciuto dal colpevole.
-
- 812) **Il soggetto che ha commesso un fatto previsto dalla legge come reato è imputabile?**
- A Il soggetto è imputabile a prescindere da qualsiasi considerazione; sarà a cura poi del giudice prevedere il proscioglimento dell'imputato.
 - B Il soggetto è imputabile se, al momento in cui lo ha commesso, aveva la capacità di intendere e di volere.
 - C Il soggetto è sempre imputabile.
-
- 813) **Il soggetto attivo che, nel commettere il fatto in stato di necessità, ne ecceda colposamente i limiti, ne risponde:**
- A a titolo di dolo, ma la pena è ridotta.
 - B in ogni caso a titolo di colpa.
 - C a titolo di colpa, se il fatto è previsto dalla legge come delitto colposo.
-
- 814) **L'interdizione perpetua dai pubblici uffici è conseguenza della:**
- A condanna all'ergastolo.
 - B condanna alla pena della reclusione per due anni.
 - C condanna alla pena della reclusione per quattro anni.
-
- 815) **Il delitto è preterintenzionale, tra le altre ipotesi:**
- A quando dall'omissione deriva un evento dannoso o pericoloso più grave di quello voluto dall'agente.
 - B quando l'evento dannoso o pericoloso, che è il risultato della omissione e da cui la legge fa dipendere l'esistenza del delitto, è dall'agente preveduto e voluto come conseguenza della propria omissione.
 - C quando l'evento, anche se preveduto, non è voluto dall'agente e si verifica a causa d'imprudenza ovvero per inosservanza di leggi, regolamenti, ordini e discipline.
-
- 816) **La vicenda costitutiva del rapporto di esecuzione di misure di sicurezza discende da fattispecie il cui atto giuridico terminale presenta diverso contenuto. Essa può derivare da sentenza di proscioglimento?**
- A Sì, essa può derivare solo da sentenza di proscioglimento ovvero di condanna del giudice.
 - B Sì, può derivare anche da sentenza di proscioglimento.
 - C No, può derivare solo da sentenza di condanna del giudice.
-
- 817) **Il delitto di "abuso di ufficio" può essere commesso:**
- A dal Pubblico Ufficiale, a titolo di dolo o di colpa, dall'incaricato di pubblico servizio, solo a titolo di dolo.
 - B solo dal Pubblico Ufficiale ed è punito solo a titolo di dolo.
 - C sia dal Pubblico Ufficiale che dall'incaricato di pubblico servizio ed è punibile solo a titolo di dolo.
-
- 818) **Le misure di sicurezza si dividono in detentive, non detentive e patrimoniali. Sono non detentive:**
- A la libertà vigilata; il divieto di soggiorno; l'espulsione dello straniero dallo Stato; la confisca.
 - B la libertà vigilata; il divieto di soggiorno; il divieto di frequentare osterie e pubblici spacci di bevande alcoliche; l'espulsione dello straniero dallo Stato; l'assegnazione ad una casa circondariale.
 - C la libertà vigilata; il divieto di soggiorno; il divieto di frequentare osterie e pubblici spacci di bevande alcoliche; l'espulsione dello straniero dallo Stato.
-
- 819) **Tizio rende una dichiarazione scritta al difensore nello svolgimento delle investigazioni difensive, ma non viene avvertito della facoltà di non rendere la dichiarazione. Se rende dichiarazioni false, è punibile per il reato di false dichiarazioni al difensore?**

- A Sì.
- B Sì, se il fatto è commesso al fine di trarne profitto.
- C No.

820) Se il sovrintendente Caio, nel caso di una perquisizione presso una ditta, induce il titolare ad impegnarsi ad assumere un suo conoscente, risponde di:

- A corruzione in atti giudiziari.
- B corruzione per un atto contrario ai doveri di ufficio.
- C concussione.

821) Ai sensi della legge n. 689/1981, l'obbligazione di pagare la somma dovuta a titolo di sanzione per la violazione amministrativa si trasmette agli eredi?

- A Solo se si tratta di parenti entro il II grado.
- B Sì, in ogni caso.
- C No.

822) Chiunque procura l'evasione di una persona ricoverata in una casa di cura e di custodia:

- A commette il delitto di procurata evasione.
- B commette il delitto di procurata inosservanza di misure di sicurezza detentive.
- C commette il delitto di favoreggiamento personale.

823) L'istituto della riabilitazione del condannato:

- A è finalizzato alla riabilitazione sociale del condannato che abbia scontato la pena inflittagli.
- B consiste nella possibilità, per il giudice, di rinunciare alla condanna, allo scopo di dare all'imputato minore un'altra possibilità per evitare l'impatto con il carcere.
- C può anche essere concesso più di una volta, purché la somma delle pene che avrebbero dovuto essere inflitte non superi i 2 anni di reclusione e/o i 1.549,37 euro di multa.

824) Se lo stato di necessità è determinato dall'altrui minaccia, del fatto commesso dalla persona minacciata:

- A risponde chi l'ha costretta a commetterlo.
- B rispondono sia chi l'ha costretta a commetterlo, sia chi l'ha commesso.
- C risponde comunque chi l'ha commesso.

825) Che cosa deve intendersi, agli effetti della legge penale, per pubblico servizio?

- A Esclusivamente quello disciplinato da norme di diritto pubblico e da atti autoritativi, e caratterizzato dalla formazione e dalla manifestazione della volontà della pubblica amministrazione o dal svolgersi per mezzo di poteri autoritativi o certificativi.
- B Tutte quelle professioni il cui esercizio sia per legge vietato senza una speciale abilitazione dello Stato.
- C Un'attività disciplinata nelle stesse forme della pubblica funzione, ma caratterizzata dalla mancanza dei poteri tipici di quest'ultima, e con esclusione dello svolgimento di semplici mansioni di ordine e della prestazione di opera meramente materiale.

826) Nel delitto di estorsione il profitto è elemento costitutivo del reato?

- A No, è dolo specifico.
- B Sì, sempre.
- C Solo se ingiusto.

827) Quale pena accessoria consegue alla condanna per delitti commessi con violazione dei doveri inerenti all'ufficio di tutore o curatore, anche provvisorio, e di ogni altro ufficio attinente alla tutela o alla cura?

- A Nessuna pena accessoria.
- B L'interdizione temporanea dai pubblici uffici.
- C L'interdizione temporanea dai pubblici uffici, se il condannato ha superato l'età di anni ventuno.

828) Qualora le cause sopravvenute escludano il rapporto di causalità, quale rilevanza penale ha l'azione o l'omissione precedentemente commessa (art. 41 co. 2 c.p.)?

- A Se l'azione od omissione costituisce per sé un reato si applica la pena per questo stabilita.
- B Nessuna rilevanza penale.
- C L'azione od omissione precedentemente commesse non sono punibili

829) Quale tra le seguenti non è una circostanza del reato (artt. 54, 61 e 62 c.p.)?

- A L'aver agito per motivi di particolare valore morale o sociale.
- B L'aver agito in stato di necessità.
- C L'aver agito per motivi futili.

-
- 830) Nel reato continuato, il disegno criminoso è:**
A il verificarsi dell'evento criminoso.
B il progetto di compiere più reati, deliberato nelle linee essenziali.
C il fine ultimo delle proprie azioni.
-
- 831) A norma del Codice Penale, in quale ipotesi si procede d'ufficio per il reato di appropriazione indebita?**
A Se il fatto è commesso con abuso di relazioni domestiche.
B Se il fatto ha cagionato alla persona offesa un danno patrimoniale di rilevante entità.
C In nessun caso.
-
- 832) L'esercizio di un diritto o l'adempimento di un dovere imposto da una norma giuridica o da un ordine legittimo della pubblica autorità, ai sensi dell'art.51 del codice penale:**
A esclude la punibilità.
B è irrilevante.
C comporta una diminuzione della pena.
-
- 833) Una persona che si mette in stato d'incapacità per commettere un reato è imputabile?**
A Mai.
B Sì, ma la pena è diminuita.
C Sì, sempre.
-
- 834) Nel caso di reato impossibile il giudice può ordinare che l'imputato prosciolto sia sottoposto:**
A a misura di sicurezza.
B alla pena alternativa della libertà controllata.
C a misura di prevenzione.
-
- 835) Aggrava il reato l'aver, nei delitti contro il patrimonio, cagionato alla persona offesa dal reato:**
A anche un danno non patrimoniale.
B un danno patrimoniale di rilevante gravità.
C anche un danno morale.
-
- 836) Il delitto di concussione è un delitto proprio:**
A del solo Pubblico Ufficiale.
B del Pubblico Ufficiale, dell'incaricato di pubblico servizio e dell'esercente un servizio di pubblica necessità.
C del Pubblico Ufficiale e dell'incaricato di pubblico servizio.
-
- 837) I reati si distinguono in:**
A delitti e contravvenzioni.
B crimini e contravvenzioni.
C delitti, crimini e contravvenzioni.
-
- 838) Le misure di sicurezza presuppongono la pericolosità sociale dell'individuo, sono cioè applicabili solo a colui che sia pericoloso per la società. La pericolosità sociale presuppone due condizioni:**
A che un individuo abbia commesso un reato ed è probabile che commetta nuovi fatti delittuosi della stessa natura; che si tratti di persona socialmente pericolosa.
B che un individuo abbia commesso un reato, o un reato impossibile, o un reato putativo, o un accordo o un'istigazione per commettere un reato ed è probabile che commetta nuovi fatti delittuosi; che si tratti di persona socialmente pericolosa.
C che un individuo sia dichiarato delinquente abituale; che si tratti di persona socialmente pericolosa.
-
- 839) Le Regioni possono variare o modificare l'ordinamento penale vigente?**
A Sì.
B No, ma possono rimuovere le norme penali statali.
C No.
-
- 840) Le "circostanze ad effetto speciale" in materia penale sono:**
A quelle che comportano automaticamente l'applicazione delle pene accessorie.
B quelle che prevedono un aumento o una diminuzione di pena non superiore ad un terzo.
C quelle che prevedono un aumento o una diminuzione della pena superiore ad un terzo rispetto a quella prevista per il reato base.
-

- 841) **Per coloro che, essendo già stati dichiarati delinquenti abituali, professionali o per tendenza, e non essendo più sottoposti a misure di sicurezza, commettono un nuovo delitto, non colposo, che costituisca una nuova manifestazione della abitudine, professionalità o tendenza a delinquere, il giudice:**
- A dispone l'assegnazione a una colonia agricola ovvero ad una casa di lavoro.
 - B dispone l'assegnazione a una colonia agricola.
 - C dispone l'assegnazione a una colonia agricola, o ad una casa di lavoro ovvero ad una casa di cura e custodia.
-
- 842) **Chiunque, fuori dei casi di concorso nel reato, aiuta taluno, condannato per contravvenzione, a sottrarsi all'esecuzione della pena e, successivamente, nel termine di tre mesi, ne procura la presentazione all'Autorità commette il delitto di procurata inosservanza di pena?**
- A Sì, e la pena è quella edittale.
 - B Sì, ma si configura l'attenuante comune di essersi adoperato per elidere le conseguenze del reato.
 - C Sì, ma la pena è inferiore a quella edittale.
-
- 843) **La pena della multa:**
- A è pena principale sia per i delitti che per le contravvenzioni.
 - B deriva automaticamente dalla condanna, anche senza una espressa dichiarazione del giudice.
 - C è sempre inflitta dal giudice con sentenza di condanna.
-
- 844) **Cosa si intende per "condotta negligente" nel delitto colposo?**
- A Avere agito in modo trascurato, senza accortezza ed attenzione.
 - B Avere agito con scarsa abilità o insufficiente preparazione.
 - C Avere agito in modo avventato senza la debita considerazione degli interessi propri o altrui.
-
- 845) **Quando un individuo viola più volte la legge penale:**
- A non è detto che vengano applicate le norme relative al concorso di reati potendo essere applicate infatti anche quelle relative al reato continuato, composto o complesso.
 - B si applicano necessariamente le norme relative al concorso di reati.
 - C si applicano necessariamente le norme relative al reato complesso.
-
- 846) **Chi, dopo aver procurato l'evasione di una persona sottoposta a misura di sicurezza detentiva, nel termine di tre mesi dalla evasione, ne procura la cattura, commette il delitto di procurata inosservanza di misure di sicurezza detentive?**
- A Sì, e la pena è quella edittale.
 - B Sì, ma la pena è inferiore a quella edittale.
 - C No, perché commette il delitto di procurata evasione.
-
- 847) **Nessuno può essere sottoposto a pene che non siano (art. 1 c.p.):**
- A stabilite dalla legge regionale.
 - B stabilite dal regolamento.
 - C stabilite dalla legge.
-
- 848) **Attenua il reato, quando non ne è elemento costitutivo o circostanza attenuante speciale, l'essere concorso a determinare l'evento, insieme con l'azione del colpevole:**
- A il fatto doloso di un terzo.
 - B il fatto colposo della persona offesa.
 - C il fatto doloso della persona offesa.
-
- 849) **Il delitto di interesse privato in atti d'ufficio:**
- A è un delitto proprio dei Pubblici Ufficiali e degli incaricati di pubblico servizio che rivestano la qualità di pubblico impiegato.
 - B è un delitto proprio dei Pubblici Ufficiali e degli incaricati di pubblico servizio.
 - C è stato abrogato.
-
- 850) **Il tentato suicidio:**
- A è un reato preterintenzionale.
 - B non è un reato.
 - C è un reato doloso.
-
- 851) **Si definiscono come "propri" i reati:**
- A che prevedono necessariamente la contemporanea presenza degli elementi essenziali e degli elementi accidentali.
 - B per i quali sono presenti tutti gli elementi essenziali.
 - C che possono essere commessi solo da persone che rivestono particolari qualità.

-
- 852) A quale condanna consegue l'interdizione dagli uffici direttivi delle persone giuridiche e delle imprese è conseguenza anche:**
- A di ogni condanna alla reclusione non inferiore a due anni per delitti commessi contro la fede pubblica, con abuso dei poteri inerenti all'ufficio.
 - B di ogni condanna alla reclusione non inferiore a sei mesi per delitti commessi con abuso dei poteri inerenti all'ufficio.
 - C di ogni condanna alla reclusione non inferiore ad un anno per delitti commessi con abuso dei poteri inerenti all'ufficio.
-
- 853) La polizia giudiziaria è una parte del procedimento penale?**
- A Sì la polizia giudiziaria è parte del procedimento alla stregua di una parte civile.
 - B È un soggetto ma non una parte del procedimento penale in quanto non vi rappresenta direttamente un interesse
 - C Lo diventa se il reato presenta certe caratteristiche.
-
- 854) A chi spetta utilizzare i risultati delle indagini svolte dalla polizia giudiziaria?**
- A La polizia giudiziaria svolge le indagini ed è essa stessa a utilizzare i risultati delle indagini nell'ambito del procedimento.
 - B È il Pubblico Ministero cui spetta utilizzare, nell'ambito del procedimento, i risultati delle indagini svolte dalla polizia giudiziaria
 - C Spetta al Pubblico Ministero o alla polizia giudiziaria a seconda dei casi.
-
- 855) Chi rappresenta l'interesse dello Stato all'applicazione della legge penale:**
- A il Pubblico Ministero
 - B l'ufficiale di stato civile
 - C il giudice per le indagini preliminari.
-
- 856) In base alla legge è sufficiente l'annotazione, anche sommaria, delle denunce da parte della polizia giudiziaria:**
- A la legge prevede che l'annotazione sia sufficiente se la denuncia è breve.
 - B no, la legge prevede che per le denunce debba essere redatto verbale
 - C è indifferente per le denunce che vi sia annotazione o verbale.
-
- 857) È necessaria, da parte della polizia giudiziaria, l'indicazione relativa alla circostanza che la dichiarazione sia stata resa spontaneamente o previa domanda, nel verbale delle attività da essa svolte ?**
- A No è una circostanza che può anche essere omessa.
 - B Sì deve essere indicata espressamente
 - C È obbligatoria in determinati casi.
-
- 858) Ai sensi dell'articolo 357 del codice di procedura penale gli atti della polizia giudiziaria:**
- A è una decisione riservata al giudice per le indagini preliminari.
 - B sono documentati nel corso del loro compimento ovvero immediatamente dopo quando ricorrono insuperabili circostanze
 - C possono sempre essere documentati anche dopo.
-
- 859) La denuncia può essere ricevuta tanto da un ufficiale di polizia giudiziaria quanto da un agente di polizia giudiziaria:**
- A si è così.
 - B no solo l'ufficiale di polizia giudiziaria può ricevere denunce
 - C dipende dalla gravità del reato.
-
- 860) L'accompagnamento in ufficio dell'indagato è riservato a:**
- A sia agli ufficiali che agli agenti di polizia giudiziaria
 - B solo agli agenti di polizia giudiziaria.
 - C solo agli ufficiali di polizia giudiziaria.
-
- 861) A ricevere il referto è:**
- A l'ufficiale di polizia giudiziaria
 - B Il giudice per le indagini preliminari.
 - C il Pubblico Ministero.
-
- 862) La querela è:**
- A una modalità di ricezione della notizia di reato
 - B un reato.
 - C una sanzione amministrativa.
-

-
- 863) Qualsiasi privato cittadino che per qualsiasi ragione venga a conoscenza della commissione di un reato:**
- A la denuncia deve provenire solo dalla persona offesa.
 - B la denuncia deve provenire solo dalla persona offesa o dai suoi familiari.
 - C può proporre denuncia anche se il reato non è stato perpetrato a suo danno, sempre che la legge non ne preveda la perseguibilità solo a seguito di querela della persona offesa.
-
- 864) La persona che presenta una denuncia ha diritto di ricevere attestazione della ricezione della stessa da parte dell'autorità?**
- A E' a discrezione della polizia giudiziaria.
 - B Sì chi denuncia ha diritto di ricevere attestazione della ricezione dall'autorità davanti alla quale la stessa è stata presentata
 - C Non è un diritto del denunciante ma solo una facoltà.
-
- 865) L'interrogatorio su delega del Pubblico Ministero dell'indagato in stato di libertà può essere compiuto da un:**
- A ufficiale di polizia giudiziaria
 - B agente di polizia giudiziaria.
 - C tanto gli uni quanto gli altri.
-
- 866) La ricezione di spontanee dichiarazioni dell'indagato è svolta da:**
- A agenti di polizia giudiziaria.
 - B ufficiali e agenti di polizia giudiziaria
 - C ufficiali di polizia giudiziaria.
-
- 867) Le annotazioni previste dall'articolo 357 del codice penale contengono:**
- A il luogo e la data di nascita degli stessi.
 - B l'indicazione dell'ufficiale o dell'agente di polizia giudiziaria che ha compiuto le attività di indagine
 - C l'indicazione del Pubblico Ministero.
-
- 868) Quale dei seguenti non è un compito della polizia giudiziaria?**
- A Acquisizione della notizia di reato.
 - B Mantenimento dell'ordine pubblico e tutela della proprietà
 - C Ricerca degli autori del reato
-
- 869) I vigili del fuoco svolgono attività di polizia giudiziaria:**
- A a competenza mista.
 - B a competenza illimitata.
 - C a competenza limitata o settoriale
-
- 870) Al personale appartenente al ruolo di vigile del fuoco è attribuita la funzione di:**
- A agente di polizia giudiziaria
 - B ufficiale di polizia giudiziaria.
 - C comandante provinciale.
-
- 871) Chi è il soggetto legittimato all'arresto in flagranza?**
- A Il giudice delle indagini preliminari.
 - B La polizia giudiziaria
 - C Il Pubblico Ministero.
-
- 872) Nei confronti di un soggetto indagato per delitti concernenti sostanze stupefacenti si può procedere all'intercettazione telefonica?**
- A No mai; la segretezza delle comunicazioni è inviolabile.
 - B Sì
 - C No per tali diritti non è ammessa l'intercettazione.
-
- 873) L'ufficiale di polizia giudiziaria quando, ai sensi dell'articolo 389 codice di procedura penale, procede alla liberazione dell'arrestato in flagranza di reato, chi deve informare?**
- A Il Pubblico Ministero
 - B L'avvocato difensore.
 - C Il giudice per le indagini preliminari.
-
- 874) Indicare la giusta affermazione:**

- A le modalità di acquisizione della notizia di reato, in concreto, sono almeno sei.
- B vi è un' unica modalità di acquisire la notizia di reato.
- C le modalità di acquisizione della notizia di reato sono sostanzialmente due, attività della polizia giudiziaria e del Pubblico Ministero, denuncia e referto.

875) L'iscrizione al modello 21 del registro degli indagati sta ad indicare:

- A l'iscrizione nel registro degli ignoti.
- B il modello 21 non esiste.
- C l'iscrizione nel registro delle persone note

876) L'iscrizione al modello 44 nel registro degli indagati sta ad indicare:

- A l'iscrizione nel registro degli ignoti
- B l'iscrizione nel registro delle persone note.
- C nel registro degli indagati non esistono modelli.

877) La denuncia del danneggiamento dell'auto da parte di ignoti andrà iscritta:

- A nel modello 21.
- B nel modello 36.
- C nel modello 44

878) Esiste nel registro degli indagati un modello di atti non costituenti reato?

- A Sì esiste
- B No, in esso sono indicati solo fatti che non costituiscono reato.
- C No, in esso sono indicati solo i reati.

879) Una volta iscritta la notizia di reato nel registro degli indagati in un determinato modello, è possibile provvedere al cambiamento?

- A Si è sempre possibile laddove ne ricorrano i presupposti.
- B No, la scelta iniziale è definitiva.
- C Dipende dalle circostanze concrete.

880) Nel registro degli indagati non esiste un modello delle denunce anonime:

- A questa affermazione è falsa, il modello delle denunce anonime esiste
- B dipende dalle singole procure.
- C esiste solo presso le cancellerie dei tribunali.

881) Presupposto per procedere a perquisizione, ai sensi dell'articolo 352 codice di procedura penale, è:

- A l'intensità del dolo.
- B la flagranza di reato ed il caso di evasione.
- C solo la flagranza di reato.

882) Nel caso in cui il Pubblico Ministero non abbia ancora assunto la direzione delle indagini e vi sia pericolo che le cose pertinenti al reato si alterino o si disperdano:

- A gli ufficiali di polizia giudiziaria devono compiere i necessari accertamenti e rilievi sullo stato dei luoghi e delle cose, se del caso anche sequestrando il corpo del reato e le cose a questo pertinenti
- B gli ufficiali di polizia giudiziaria possono compiere i necessari accertamenti e rilievi sullo stato dei luoghi e delle cose solo se si tratta di delitto non colposo in flagranza.
- C la polizia giudiziaria non può compiere alcun accertamento o rilievo fin quando il Pubblico Ministero non assume la direzione delle indagini.

883) Gli interessati all'assegnazione alle sezioni di polizia giudiziaria devono:

- A presentare domanda di assegnazione alle amministrazioni di appartenenza
- B l'assegnazione alle sezioni di polizia giudiziaria avviene d'ufficio.
- C aver ricevuto onorificenze da parte delle amministrazioni di appartenenza.

884) Quale affermazione tra le seguenti è quella giusta?

- A La polizia giudiziaria può sempre sequestrare il corpo del reato anche senza necessità di una successiva convalida da parte del Pubblico Ministero.
- B La polizia giudiziaria può sempre sequestrare il corpo del reato ma il sequestro deve essere convalidato dal Pubblico Ministero
- C La polizia giudiziaria non può sequestrare il corpo del reato perché il sequestro è un atto tipico del Pubblico Ministero.

885) Qualora vi siano situazioni di urgenza, gli ufficiali di polizia giudiziaria possono disporre il sequestro preventivo:

- A purché entro le 12 ore successive trasmettano il verbale al Pubblico Ministero del luogo in cui il sequestro è stato eseguito.
- B purché entro le 48 ore successive trasmettano il verbale al Pubblico Ministero del luogo in cui il sequestro è stato eseguito
- C purché entro le 24 ore successive trasmettano il verbale al Pubblico Ministero del luogo in cui il sequestro è stato eseguito.

886) Ai fini dell'identificazione delle persone nei cui confronti vengono svolte le indagini, la polizia giudiziaria può sempre prendere le impronte digitali:

- A sì, la polizia giudiziaria può procedere alla identificazione anche eseguendo, ove occorra, rilievi dattiloscopici, fotografici e antropometrici
- B Sì ma solo in caso di omicidio.
- C no, mai.

887) Se l'indagato o i potenziali testimoni rifiutano di farsi identificare, la polizia giudiziaria può provvedere all'accompagnamento nei propri uffici?

- A No può procedere solo all'accusa e allo stato di fermo.
- B Sì.
- C No procede all'arresto per falsa testimonianza.

888) La perlustrazione ha lo scopo di esercitare attiva vigilanza:

- A nei centri abitati.
- B nei capoluoghi di provincia.
- C fuori dai centri abitati

889) L'interrogatorio dell'indagato in stato di arresto può essere svolto dalla polizia giudiziaria?

- A Sì sempre in ogni caso.
- B Sì ma solo alla presenza del difensore.
- C No

890) Chi esercita le funzioni di Pubblico Ministero nelle indagini preliminari?

- A L'ufficiale di polizia giudiziaria.
- B Il giudice per le indagini preliminari.
- C I magistrati della Procura della Repubblica presso il tribunale

891) Con l'espressione armi improprie si intende:

- A qualsiasi strumento atto ad offendere la persona.
- B armi da guerra e armi comuni da sparo.
- C strumenti atti ad offendere che non hanno quale finalità principale l'offesa alla persona

892) Le modalità di documentazione dell'attività di indagine sono:

- A verbale in forma sintetica.
- B relazione scritta o orale.
- C verbale o annotazione

893) La misura della custodia cautelare in carcere, nel corso delle indagini preliminari, viene disposta:

- A dal presidente del tribunale su richiesta del Pubblico Ministero.
- B dal giudice per le indagini preliminari su richiesta del Pubblico Ministero
- C dal Pubblico Ministero.

894) Gli agenti di polizia giudiziaria sono tenuti, ai sensi dell'articolo 124 del codice di procedura penale:

- A ad osservare solo le norme del codice di procedura penale inerenti l'attività di indagine.
- B ad osservare tutte le norme del codice di procedura penale anche quando l'inosservanza non importa nullità o altra sanzione processuale
- C ad osservare tutte le norme del codice di procedura penale quando l'inosservanza importa nullità o altra sanzione processuale.

895) Qualora gli ufficiali e gli agenti di polizia giudiziaria abbiano eseguito negligenemente un ordine dell'autorità giudiziaria, il procedimento disciplinare:

- A è promosso dai magistrati che dirigono gli uffici presso i quali è istituita la sezione.
- B è promosso dal presidente del tribunale.
- C è promosso dal procuratore generale presso la corte d'Appello

896) In base all'articolo 321 del codice di procedura penale, può essere disposto il sequestro preventivo delle cose di cui è consentita la confisca?

- A Sì
- B Solo nei casi in cui può essere disposta la misura della custodia cautelare.
- C No, mai.

897) **In caso di contumacia dell'imputato è possibile in sede di dibattimento dare lettura delle dichiarazioni rese durante le indagini preliminari?**

- A Sì in ogni caso e fanno piena prova.
- B Sì, ma tali dichiarazioni possono essere utilizzate solo contro l'imputato che le ha rese ma non nei confronti di altri senza il loro consenso.
- C No mai.

898) **La procura generale presso la corte di Appello dispone di tutte le sezioni di polizia giudiziaria istituite nel proprio distretto?**

- A Sì.
- B No solo delle sezioni di polizia giudiziaria istituite nel distretto, ad eccezione dei casi previsti espressamente dalla legge.
- C No solo delle sezioni di polizia giudiziaria istituite presso il tribunale.

899) **Qualora in relazione ad un determinato fatto vengano disposte misure cautelari, esse perdono immediatamente efficacia quando per tale fatto, nei confronti della persona è:**

- A disposta l'archiviazione.
- B pronunciata sentenza di condanna alla reclusione.
- C disposta l'archiviazione ovvero è pronunciata sentenza di non luogo a procedere o di proscioglimento

900) **Deve essere sempre convalidato dal giudice per le indagini preliminari o dal giudice del dibattimento l'arresto in flagranza di reato?**

- A No deve essere convalidato solo dal giudice del dibattimento.
- B Sì
- C non deve essere convalidato.

901) **La polizia giudiziaria quando compie atti o operazioni che richiedono specifiche competenze tecniche, può avvalersi di persone idonee:**

- A le quali possono rifiutare la propria opera nei casi previsti dalla legge.
- B le quali possono rifiutare la propria opera.
- C le quali non possono rifiutare la propria opera

902) **Le perquisizioni di iniziativa possono essere eseguite:**

- A solo nei confronti dell'arrestato.
- B nei casi previsti e sussistendone i presupposti
- C sempre se l'arrestato è un recidivo.

903) **La pena da applicare a chi commette un reato:**

- A deve essere prevista da un regolamento.
- B deve essere prevista da una legge.
- C deve essere prevista da un'ordinanza amministrativa)

904) **La norma che prevede che un fatto sia reato:**

- A deve essere contenuta in un regolamento.
- B deve essere contenuta in una delibera della Giunta regionale.
- C deve essere contenuta nella legge

905) **Al fatto previsto come reato da una legge eccezionale si applica questa legge anche se al momento del giudizio sia entrata in vigore una successiva legge eccezionale ma più favorevole di quella anteriore?**

- A No, si applica la legge più favorevole purchè preveda la pena dell'arresto.
- B Sì, in ogni caso
- C No, si applica la legge più favorevole.

906) **Qualora un fatto sia previsto come reato dalla legge del tempo in cui fu commesso il fatto e da una legge successiva le cui disposizioni sono più favorevoli di quelle della prima, quale legge è applicabile?**

- A La legge in vigore al tempo del fatto.
- B La legge più favorevole
- C La legge più sfavorevole.

907) **Al fatto previsto come reato da una legge eccezionale si applica questa legge, anche se non più in vigore al momento della condanna?**

- A Sì, a condizione che sia prevista la pena della reclusione.
- B Sì, a condizione che sia prevista la pena dell'arresto.
- C Sì, in ogni caso

908) E' punibile il fatto che secondo una legge posteriore al tempo della sua commissione non costituisce più reato?

- A No, in nessun caso.
- B No, salvo il caso in cui sia previsto da leggi eccezionali o temporanee
- C Sì, se si tratta di delitto.

909) Può applicarsi all'agente una legge che prevede come reato il fatto da lui commesso e che sia entrata in vigore dopo la commissione del fatto?

- A Sì, se si tratta di contravvenzione.
- B No, in nessun caso
- C Sì, a condizione che il responsabile conoscesse la prossima emanazione della legge.

910) Al fatto previsto come reato da un decreto legge e commesso durante il suo vigore si applica il predetto decreto se, al momento della sentenza, la sua conversione in legge è avvenuta con emendamenti soppressivi della previsione del predetto fatto come reato?

- A Sì, ma solo se è prevista la pena della reclusione.
- B Sì, in ogni caso.
- C No, in nessun caso

911) Al fatto previsto come reato da un decreto legge e commesso durante il suo vigore si applica il predetto decreto se, al momento del giudizio, non è stato convertito in legge?

- A Sì, ma solo se è prevista la pena della reclusione.
- B No, in nessun caso
- C Sì, in ogni caso.

912) La legge penale italiana obbliga:

- A tutti i cittadini e gli stranieri, anche se non si trovano nel territorio dello Stato, salve le eccezioni stabilite dal diritto pubblico interno o dal diritto internazionale.
- B tutti i cittadini italiani, ovunque si trovino, salve le eccezioni stabilite dal diritto pubblico interno o dal diritto internazionale.
- C tutti coloro che, cittadini o stranieri, si trovano nel territorio dello Stato, salve le eccezioni stabilite dal diritto pubblico interno o dal diritto internazionale

913) La legge penale italiana si applica anche ai cittadini e agli stranieri che si trovano all'estero?

- A Sì, ma limitatamente ai casi stabiliti dalla legge medesima o dal diritto internazionale
- B Sì, se si tratta di delitti.
- C Sì, se al momento del giudizio si trovano in Italia.

914) Agli effetti della legge penale sono considerati "cittadini italiani" gli appartenenti per origine ai luoghi soggetti alla sovranità dello Stato italiano?

- A Sì
- B Sì, solo se hanno commesso delitti.
- C No.

915) Il reato commesso su una nave italiana si considera commesso nel territorio dello Stato italiano:

- A solo se si tratta di nave da guerra.
- B solo se la nave si trova in acque territoriali italiane.
- C ovunque la nave si trovi, salvo che sia soggetta, secondo il diritto internazionale, a una legge territoriale straniera

916) Agli effetti della legge penale sono considerati "cittadini italiani" gli apolidi residenti nel territorio dello Stato?

- A Sì
- B No.
- C Sì, solo se hanno commesso delitti.

917) Agli effetti della legge penale italiana il "territorio della Repubblica" è considerato territorio dello Stato?

- A Sì, compresi i territori delle ex colonie.
- B Sì, con esclusione delle acque territoriali.
- C Sì

-
- 918) **Il reato commesso su un aeromobile italiano si considera commesso nel territorio dello Stato italiano:**
- A solo se si tratta di aeromobile da guerra.
 - B ovunque l'aeromobile si trovi, salvo che sia soggetto, secondo il diritto internazionale, a una legge territoriale straniera
 - C solo se l'aeromobile si trova in un aeroporto italiano.
-
- 919) **Sono considerati come territorio dello Stato le navi e gli aeromobili italiani?**
- A Sì, ovunque si trovino, salvo che siano soggetti, secondo il diritto internazionale, a una legge territoriale straniera
 - B No, in nessun caso.
 - C Sì, sempre.
-
- 920) **Agli effetti della legge penale sono considerati "cittadini italiani" coloro che per elezione appartengono ai luoghi soggetti alla sovranità dello Stato italiano?**
- A Sì
 - B Sì, solo se hanno commesso contravvenzioni.
 - C No.
-
- 921) **L'ignoranza della legge penale vale a scusare la commissione delle contravvenzioni:**
- A se è inevitabile
 - B se l'autore è straniero.
 - C se l'autore è analfabeta.
-
- 922) **L'ignoranza della legge penale scusa l'autore di un reato:**
- A se è inevitabile
 - B se dipende da analfabetismo.
 - C se deriva dalla condizione di straniero.
-
- 923) **Si considera commesso nel territorio dello Stato italiano il reato la cui azione è avvenuta sulla terraferma italiana ed il cui evento si è verificato su una nave in navigazione nelle acque territoriali?**
- A Sì, a condizione che si tratti di nave italiana.
 - B Sì, in ogni caso
 - C Sì, a condizione che si tratti di nave straniera.
-
- 924) **Quando il reato si considera commesso nel territorio dello Stato?**
- A Quando l'azione o l'omissione che lo costituisce sono state commesse nel territorio delle ex colonie.
 - B Solo quando l'azione o l'omissione che lo costituisce si sono interamente verificate nel territorio dello Stato.
 - C Quando l'azione o l'omissione che lo costituisce è avvenuta in tutto o in parte nel territorio dello Stato ovvero ivi si è verificato l'evento che ne è la conseguenza
-
- 925) **Chiunque commette un reato nel territorio dello Stato è punito:**
- A secondo la legge italiana
 - B secondo la legge più sfavorevole fra quella italiana e quella dello Stato di cui è cittadino.
 - C secondo la legge dello Stato di cui è cittadino.
-
- 926) **E' punito secondo la legge italiana il cittadino che commette in territorio estero:**
- A delitti associativi di stampo mafioso.
 - B delitti colposi contro l'incolumità pubblica.
 - C delitti dei pubblici ufficiali a servizio dello Stato, abusando dei poteri inerenti alle loro funzioni
-
- 927) **E' punito secondo la legge italiana lo straniero che commette in territorio estero:**
- A delitti dolosi contro l'economia pubblica.
 - B delitti colposi contro l'incolumità pubblica.
 - C un reato per il quale speciali disposizioni di legge o convenzioni internazionali stabiliscono l'applicabilità della legge penale italiana
-
- 928) **E' punito secondo la legge italiana il cittadino che commette in territorio estero:**
- A delitti colposi contro l'incolumità pubblica.
 - B delitti dolosi contro l'economia pubblica.
 - C un reato per il quale speciali disposizioni di legge o convenzioni internazionali stabiliscono l'applicabilità della legge penale italiana
-
- 929) **E' punito secondo la legge italiana lo straniero che commette in territorio estero:**

- A delitti dolosi contro l'economia pubblica.
- B delitti colposi contro l'incolumità pubblica.
- C delitti contro la personalità dello Stato italiano

930) **E' punito secondo la legge italiana il cittadino che commette in territorio estero:**

- A delitti dolosi contro l'economia pubblica.
- B delitti colposi contro l'incolumità pubblica.
- C delitti di falsità in monete aventi corso legale nel territorio dello Stato

931) **E' punito secondo la legge italiana il cittadino che commette in territorio estero:**

- A delitti associativi di stampo mafioso.
- B delitti contro la personalità dello Stato italiano
- C delitti dolosi contro l'economia pubblica.

932) **E' punito secondo la legge italiana lo straniero che commette in territorio estero:**

- A delitti associativi di stampo mafioso.
- B delitti dei pubblici ufficiali a servizio dello Stato, abusando dei poteri inerenti alle loro funzioni
- C delitti dolosi contro l'economia pubblica.

933) **E' punito secondo la legge italiana lo straniero che commette in territorio estero:**

- A delitti di contraffazione del sigillo dello Stato e di uso di tale sigillo contraffatto
- B delitti colposi contro l'incolumità pubblica.
- C delitti associativi di stampo mafioso.

934) **E' punito secondo la legge italiana il cittadino che commette in territorio estero:**

- A delitti dolosi contro l'economia pubblica.
- B delitti associativi di stampo mafioso.
- C delitti di contraffazione del sigillo dello Stato e di uso di tale sigillo contraffatto

935) **E' punito secondo la legge italiana il cittadino che commette in territorio estero:**

- A delitti dolosi contro l'economia pubblica.
- B delitti associativi di stampo mafioso.
- C delitti dei pubblici ufficiali a servizio dello Stato, violando i doveri inerenti alle loro funzioni

936) **E' punito secondo la legge italiana lo straniero che commette in territorio estero:**

- A delitti di falsità in monete aventi corso legale nel territorio dello Stato
- B delitti colposi contro l'incolumità pubblica.
- C delitti dolosi contro l'economia pubblica.

937) **E' punito secondo la legge italiana lo straniero che commette in territorio estero:**

- A delitti dolosi contro l'economia pubblica.
- B delitti dei pubblici ufficiali a servizio dello Stato, violando i doveri inerenti alle loro funzioni
- C delitti colposi contro l'incolumità pubblica.

938) **Agli effetti della legge penale è considerato delitto politico:**

- A il delitto comune determinato, in tutto o in parte, da motivi politici
- B ogni delitto idoneo a turbare l'ordine pubblico.
- C ogni delitto idoneo a turbare il commercio internazionale.

939) **Lo straniero che commette in territorio estero un delitto politico diverso da quelli contro la personalità dello Stato è punito secondo la legge italiana:**

- A a richiesta del Ministro della giustizia
- B a richiesta del Presidente della Repubblica.
- C a richiesta del Presidente del Consiglio dei ministri.

940) **Agli effetti della legge penale è delitto politico:**

- A ogni delitto che offende un interesse politico dello Stato
- B ogni delitto idoneo a ledere interessi generali.
- C ogni delitto idoneo a turbare l'ordine pubblico.

941) **Il cittadino che commette in territorio estero un delitto politico, diverso da quelli contro la personalità dello Stato, per il quale è prevista la querela della persona offesa è punito secondo la legge italiana:**

- A a richiesta del Ministro della giustizia, su querela della persona offesa
- B a richiesta del Presidente del Consiglio dei ministri.
- C su querela della persona offesa, se si trova nel territorio dello Stato.

-
- 942) **Lo straniero che commette in territorio estero un delitto politico, diverso da quelli contro la personalità dello Stato, per il quale è prevista la querela della persona offesa è punito secondo la legge italiana:**
- A su querela della persona offesa, se si trova nel territorio dello Stato.
 - B a richiesta del Ministro della giustizia, su querela della persona offesa
 - C su querela della persona offesa.
-
- 943) **Il cittadino che commette in territorio estero un delitto politico diverso da quelli contro la personalità dello Stato è punito secondo la legge italiana:**
- A a richiesta del Ministro dell'interno.
 - B a richiesta del Ministro della giustizia
 - C a richiesta del Presidente del Consiglio dei ministri.
-
- 944) **Agli effetti della legge penale è delitto politico:**
- A ogni delitto che offende un diritto politico del cittadino
 - B ogni delitto idoneo a ledere interessi generali.
 - C ogni delitto idoneo a turbare l'ordine pubblico.
-
- 945) **Lo straniero che, a danno di uno Stato estero o di uno straniero, commette all'estero un delitto comune per il quale è stabilita dalla legge italiana la pena dell'ergastolo, è punito secondo la legge medesima:**
- A se si trova nel territorio dello Stato, vi è istanza dello straniero offeso e l'estradizione non sia accordata ovvero non accettata dal Governo dello Stato in cui il delitto è stato commesso o da quello dello Stato cui lo straniero appartiene.
 - B se si trova nel territorio dello Stato, vi è richiesta del Ministro della giustizia e l'estradizione non sia accordata ovvero non accettata dal Governo dello Stato in cui il delitto è stato commesso o da quello dello Stato cui lo straniero appartiene
 - C se si trova nel territorio dello Stato, vi è richiesta del Governo dello Stato estero o dello straniero offesi e l'estradizione non sia accordata ovvero non accettata dal Governo dello Stato in cui il delitto è stato commesso o da quello dello Stato cui lo straniero appartiene.
-
- 946) **Lo straniero che, a danno di uno Stato estero o di uno straniero, commette all'estero un delitto comune per il quale è stabilita la pena della reclusione non inferiore nel minimo a tre anni, è punito secondo la legge italiana:**
- A se si trova nel territorio dello Stato, vi è richiesta del Capo dello Stato estero offeso e l'estradizione non sia accordata ovvero non accettata dal Governo dello Stato in cui il delitto è stato commesso o da quello dello Stato cui lo straniero appartiene.
 - B se si trova nel territorio dello Stato, vi è richiesta del Ministro della giustizia e l'estradizione non sia accordata ovvero non sia accettata dal Governo dello Stato in cui il delitto è stato commesso o da quello dello Stato cui lo straniero appartiene
 - C se si trova nel territorio dello Stato, vi è richiesta del Governo dello Stato estero o dello straniero offesi e l'estradizione non sia accordata ovvero non accettata dal Governo dello Stato in cui il delitto è stato commesso o da quello dello Stato cui lo straniero appartiene.
-
- 947) **Se lo straniero è giudicato all'estero per un reato commesso nel territorio dello Stato deve essere anche giudicato nello Stato italiano?**
- A No, mai.
 - B Sì
 - C Sì, se vi è richiesta del Ministro della giustizia.
-
- 948) **Se il cittadino è giudicato all'estero per un reato commesso nel territorio dello Stato deve essere anche giudicato nello Stato italiano?**
- A Sì
 - B No, mai.
 - C Sì, se vi è istanza della persona offesa.
-
- 949) **Nei casi di reati commessi all'estero, di delitti politici commessi all'estero, di delitti comuni dello straniero all'estero, lo straniero, già giudicato all'estero, è giudicato nuovamente nello Stato:**
- A a richiesta del Presidente della Repubblica.
 - B a richiesta del Ministro della giustizia
 - C a richiesta del Presidente del Consiglio dei ministri.
-
- 950) **Nei casi di reati commessi all'estero, di delitti politici commessi all'estero, di delitti comuni del cittadino all'estero, il cittadino, già giudicato all'estero, è giudicato nuovamente nello Stato:**
- A a richiesta del Presidente del Consiglio dei ministri.
 - B a richiesta del Ministro della giustizia
 - C a istanza della persona offesa.

-
- 951) **Può essere dato riconoscimento alla sentenza penale pronunciata per un delitto dall'Autorità giudiziaria di uno Stato estero con il quale esiste un trattato di estradizione:**
- A se contiene la condanna alla pena della reclusione.
 - B per dichiarare l'abitudine o la professionalità nel reato o la tendenza a delinquere
 - C se il condannato è stato estradato in Italia.
-
- 952) **Può essere dato riconoscimento alla sentenza penale pronunciata per un delitto dall'Autorità giudiziaria di uno Stato estero, con il quale esiste un trattato di estradizione:**
- A quando la sentenza straniera porta condanna ad un risarcimento non inferiore a diecimilatrecentoventinove euro.
 - B quando la sentenza straniera deve essere fatta valere in giudizio nel territorio dello Stato, agli effetti delle restituzioni o del risarcimento del danno, o ad altri effetti civili
 - C quando la sentenza straniera contiene esclusivamente la condanna alla restituzione di un bene mobile esistente nel territorio dello Stato.
-
- 953) **Può essere dato riconoscimento alla sentenza penale pronunciata per un delitto dall'Autorità giudiziaria di uno Stato estero, con il quale esiste un trattato di estradizione:**
- A quando contiene pronuncia di proscioglimento.
 - B quando, secondo la legge italiana, si dovrebbe sottoporre la persona condannata o prosciolta, che si trova nel territorio dello Stato, a misure di sicurezza personali
 - C quando contiene condanna all'ergastolo.
-
- 954) **Può essere dato riconoscimento ad una sentenza penale pronunciata per un delitto dall'Autorità giudiziaria di uno Stato estero, con il quale non esiste un trattato di estradizione, se vi è istanza della parte interessata:**
- A quando la sentenza contiene esclusivamente la condanna alla restituzione di un bene mobile esistente nel territorio dello Stato.
 - B quando la sentenza contiene la dichiarazione di falsità di un documento.
 - C quando la sentenza deve essere fatta valere in un giudizio nel territorio dello Stato, agli effetti delle restituzioni o del risarcimento, o ad altri effetti civili
-
- 955) **Può essere dato riconoscimento alla sentenza penale pronunciata per un delitto dall'Autorità giudiziaria di uno Stato estero, con il quale non esiste un trattato di estradizione, ma vi è istanza della parte interessata:**
- A quando la sentenza straniera porta condanna alle restituzioni o al risarcimento del danno
 - B quando la sentenza straniera contiene la dichiarazione di falsità di un documento.
 - C quando la sentenza straniera porta condanna ad un risarcimento non inferiore a diecimilatrecentoventinove euro.
-
- 956) **Può essere dato riconoscimento alla sentenza penale pronunciata per un delitto dall'Autorità giudiziaria di uno Stato estero, con il quale non esiste un trattato di estradizione, se vi è richiesta del Ministro della giustizia:**
- A quando contiene la condanna per un delitto doloso.
 - B quando la condanna importerebbe, secondo la legge italiana, una pena accessoria
 - C quando contiene la condanna alla pena della reclusione.
-
- 957) **Può essere dato riconoscimento alla sentenza penale pronunciata per un delitto dall'Autorità giudiziaria di uno Stato estero, con il quale non esiste un trattato di estradizione, se vi è richiesta del Ministro della giustizia:**
- A quando contiene pronuncia di proscioglimento.
 - B quando, secondo la legge italiana, si dovrebbe sottoporre la persona condannata o prosciolta, che si trova nel territorio dello Stato, a misure di sicurezza personali
 - C quando contiene condanna per delitto doloso.
-
- 958) **Può essere dato riconoscimento alla sentenza penale pronunciata per un delitto dall'Autorità giudiziaria di uno Stato estero, con il quale non esiste un trattato di estradizione, se vi è richiesta del Ministro della giustizia:**
- A per dichiarare l'abitudine o la professionalità nel reato o la tendenza a delinquere
 - B se contiene la condanna per un delitto colposo.
 - C se contiene la condanna alla pena della reclusione.
-
- 959) **Può essere dato riconoscimento alla sentenza penale pronunciata per un delitto dall'Autorità giudiziaria di uno Stato estero con il quale esiste un trattato di estradizione:**
- A se contiene la condanna alla pena della reclusione.
 - B per stabilire la recidiva o un altro effetto penale della condanna
 - C se contiene la condanna per un delitto associativo.

-
- 960) **Può essere dato riconoscimento alla sentenza penale pronunciata per un delitto dall'Autorità giudiziaria di uno Stato estero, con il quale esiste un trattato di estradizione:**
- A quando la sentenza straniera porta condanna alle restituzioni o al risarcimento del danno
 - B quando la sentenza straniera porta condanna ad un risarcimento non inferiore a diecimilatrecentoventinove euro.
 - C quando la sentenza straniera contiene esclusivamente la condanna alla restituzione di un bene mobile esistente nel territorio dello Stato.
-
- 961) **Può essere dato riconoscimento alla sentenza penale pronunciata per un delitto dall'Autorità giudiziaria di uno Stato estero, con il quale non esiste un trattato di estradizione, se vi è richiesta del Ministro della giustizia:**
- A per stabilire la recidiva o un altro effetto penale della condanna-
 - B se contiene la condanna per un delitto associativo.
 - C se contiene la condanna alla pena della reclusione.
-
- 962) **Può essere dato riconoscimento alla sentenza penale pronunciata per un delitto dall'Autorità giudiziaria di uno Stato estero con il quale esiste un trattato di estradizione:**
- A quando contiene la condanna per un delitto associativo.
 - B quando contiene la condanna per un delitto doloso.
 - C quando la condanna importerebbe, secondo la legge italiana, una pena accessoria
-
- 963) **L'extradizione non è ammessa:**
- A se il fatto che forma oggetto della domanda di estradizione integra una contravvenzione.
 - B se per il fatto che forma oggetto della domanda di estradizione è prevista dalla legge italiana la pena dell'ergastolo.
 - C se il fatto che forma oggetto della domanda di estradizione non è previsto come reato dalla legge italiana e dalla legge straniera
-
- 964) **L'extradizione può essere concessa od offerta anche per reati non previsti nelle convenzioni internazionali:**
- A se si tratta di reati nei quali sono presenti circostanze aggravanti.
 - B se le convenzioni non ne facciano espresso divieto
 - C se si tratta di reati commessi da imputati recidivi.
-
- 965) **Da quali norme è regolata l'extradizione?**
- A Dalla legge penale italiana, dalle convenzioni e dagli usi internazionali
 - B Dalle disposizioni di attuazione del codice di procedura penale.
 - C Dal regolamento penitenziario.
-
- 966) **A quale condizione è ammessa l'extradizione del cittadino?**
- A A condizione che sia espressamente prevista dalla legge italiana.
 - B A condizione che sia espressamente consentita nelle convenzioni internazionali, e che non si tratti comunque di reati politici
 - C A condizione che il cittadino abbia accettato l'extradizione.
-
- 967) **Quando la legge penale fa dipendere un effetto giuridico dal decorso del tempo, per il computo di questo:**
- A si osserva il calendario giudiziario, non tenendo conto del periodo feriale.
 - B si osserva il calendario comune
 - C non si tiene conto del tempo durante il quale l'imputato è stato impedito a muoversi a causa di malattia.
-
- 968) **Con quale criterio si calcola il termine quando la legge penale stabilisce un termine per il verificarsi di un effetto giuridico?**
- A I giorni festivi non sono computati nel termine.
 - B Il giorno finale è computato nel termine.
 - C Il giorno della decorrenza non è computato nel termine
-
- 969) **Quando più leggi penali o più disposizioni regolano la stessa materia:**
- A si applica la legge più favorevole al reo, salvo che sia altrimenti stabilito.
 - B si applica la legge meno favorevole al reo, salvo che sia altrimenti stabilito.
 - C la legge o la disposizione di legge speciale deroga alla legge o alla disposizione di legge generale, salvo che sia altrimenti stabilito
-
- 970) **Quali sono le pene principali stabilite dalla legge per le contravvenzioni?**
- A La libertà vigilata.
 - B La reclusione e la multa.
 - C L'arresto e l'ammenda

-
- 971) **Quali sono le pene principali stabilite dalla legge per i delitti?**
A L'arresto e l'ammenda.
B L'ergastolo, la reclusione, la multa
C Il soggiorno obbligato e il divieto di soggiorno in talune località indicate dal giudice.
-
- 972) **Quali sono le pene comprese sotto la denominazione "detentive" o "restrittive della libertà personale"?**
A La detenzione domiciliare.
B Il soggiorno obbligato e il divieto di soggiorno.
C L'ergastolo, la reclusione e l'arresto
-
- 973) **L'estinzione del rapporto di lavoro è:**
A pena accessoria per i soli delitti aggravati per aver commesso il fatto con abuso di relazioni di ufficio o di prestazione d'opera.
B pena accessoria per i delitti
C pena accessoria per le contravvenzioni.
-
- 974) **L'incapacità di contrarre con la pubblica amministrazione è:**
A pena accessoria per i delitti
B pena principale per i delitti contro la pubblica amministrazione.
C pena accessoria per le contravvenzioni.
-
- 975) **L'interdizione da una professione o da un'arte è:**
A pena accessoria per i delitti
B pena principale per i soli delitti contro l'economia pubblica, l'industria e il commercio.
C pena accessoria per le contravvenzioni.
-
- 976) **La decadenza e la sospensione dall'esercizio della potestà genitoriale sono:**
A pene accessorie per i delitti
B pene principali per i delitti.
C pene principali per i soli delitti contro la famiglia.
-
- 977) **Può la legge penale stabilire i casi in cui le pene accessorie previste per i delitti sono comuni alle contravvenzioni?**
A Sì
B Solo con riferimento alle contravvenzioni punibili con l'ammenda.
C No.
-
- 978) **La sospensione dall'esercizio di una professione o di un'arte è:**
A pena principale per i soli delitti contro l'economia, l'industria e il commercio.
B pena principale per le contravvenzioni.
C pena accessoria per le contravvenzioni
-
- 979) **L'interdizione legale è:**
A pena accessoria per le contravvenzioni.
B pena principale per i delitti.
C pena accessoria per i delitti
-
- 980) **L'estinzione del rapporto di impiego è:**
A pena principale per i delitti.
B pena principale per i soli delitti contro la pubblica amministrazione.
C pena accessoria per i delitti
-
- 981) **L'interdizione dai pubblici uffici è:**
A pena accessoria per i delitti
B pena per i delitti.
C pena principale per i soli delitti contro la pubblica amministrazione.
-
- 982) **La sospensione dagli uffici direttivi delle persone giuridiche e delle imprese è:**
A pena principale per le contravvenzioni.
B pena principale per i soli delitti contro l'economia pubblica, l'industria e il commercio.
C pena accessoria per le contravvenzioni
-
- 983) **L'interdizione dagli uffici direttivi delle persone giuridiche e delle imprese è:**

- A pena accessoria per le contravvenzioni.
- B pena accessoria per i delitti
- C pena principale per i soli delitti contro l'economia pubblica, l'industria e il commercio.

984) **La pubblicazione della sentenza penale di condanna è:**

- A pena esclusiva per le contravvenzioni.
- B pena esclusiva per i delitti.
- C pena accessoria comune per i delitti e per le contravvenzioni

985) **Il condannato all'ergastolo può essere ammesso al lavoro all'aperto?**

- A No.
- B Sì
- C Solo dopo dieci anni di pena.)

986) **La pena dell'ergastolo è scontata:**

- A con l'obbligo di lavoro non retribuito.
- B con l'obbligo di lavoro per almeno dieci ore al giorno.
- C con l'obbligo del lavoro

987) **Qual è la durata dell'ergastolo?**

- A La pena dell'ergastolo è perpetua
- B La pena dell'ergastolo dura trenta anni.
- C La pena dell'ergastolo dura cinquanta anni.

988) **Dove si sconta la pena dell'ergastolo?**

- A Nel carcere del luogo in cui fu commesso il delitto.
- B In una colonia agricola.
- C In uno stabilimento a ciò destinato

989) **Dove si sconta la pena della reclusione?**

- A Nelle carceri di massima sicurezza.
- B Nella casa di reclusione del luogo in cui fu commesso il delitto.
- C In uno stabilimento a ciò destinato

990) **Qual è la durata minima e massima della reclusione?**

- A La reclusione si estende da due a trenta anni.
- B La reclusione si estende da uno a venti anni.
- C La reclusione si estende da quindici giorni a ventiquattro anni

991) **Può il giudice discrezionalmente aggiungere la pena della multa non prevista dalla legge alla pena della reclusione?**

- A Sì, se la pena della reclusione applicata supera i due anni.
- B Sì, ma solo per i delitti determinati da motivi di lucro
- C No, in nessun caso.

992) **Il condannato all'arresto è soggetto, durante l'espiazione della pena, all'obbligo del lavoro?**

- A Sì, ma solo se la condanna inflitta sia superiore a sei mesi, e può essere addetto a lavori anche diversi da quelli organizzati nello stabilimento, avuto riguardo alle sue attitudini e alle sue precedenti occupazioni.
- B Sì, e può essere addetto a lavori anche diversi da quelli organizzati nello stabilimento, avuto riguardo alle sue attitudini e alle sue precedenti occupazioni
- C Sì, ma solo se la condanna inflitta sia superiore a un anno, e può essere addetto a lavori anche diversi da quelli organizzati nello stabilimento, avuto riguardo alle sue attitudini e alle sue precedenti occupazioni.

993) **Qual è la misura della pena dell'arresto?**

- A La pena dell'arresto si estende da sei mesi a cinque anni.
- B La pena dell'arresto si estende da cinque giorni a tre anni
- C La pena dell'arresto si estende da tre mesi a due anni.

994) **In quali casi si applicano pene pecuniarie proporzionali?**

- A Nei reati contro il patrimonio.
- B Nei reati determinati da fini di lucro.
- C Nei casi indicati dalla legge

995) **Nei casi in cui la legge prevede la pena pecuniaria proporzionale, qual è il limite massimo di essa?**

- A Il limite massimo è di ducentocinquantottomiladuecentoventotto euro.
 - B Le pene pecuniarie proporzionali non hanno limite massimo
 - C Il limite massimo è di cinquantunomilaseicentoquarantacinque euro.
-

996) In quali casi si applicano pene pecuniarie fisse?

- A Nei casi indicati dalla legge
 - B Nei reati determinati da fini di lucro.
 - C Nei reati contro l'economia pubblica.
-

997) La privazione definitiva della capacità di assumere o di acquistare qualsiasi diritto politico deriva:

- A dalla pena accessoria dell'interdizione perpetua dai pubblici uffici
 - B dalla pena accessoria dell'interdizione da una professione o da un'arte.
 - C dalla pena accessoria dell'interdizione legale.
-

998) La privazione definitiva della capacità di assumere qualsiasi pubblico ufficio e della di pubblico ufficiale deriva:

- A dalla pena dell'interdizione temporanea dai pubblici uffici.
 - B dalla pena accessoria dell'interdizione perpetua dai pubblici uffici
 - C dalla pena dell'interdizione legale.
-

999) Quanto alla durata temporale, l'interdizione dai pubblici uffici:

- A può essere perpetua o temporanea
 - B può essere solo temporanea.
 - C non può eccedere mai la durata di un anno.
-

1000) Quali effetti derivano dall'applicazione della interdizione temporanea dai pubblici uffici?

- A La privazione temporanea della capacità di gestire una impresa commerciale.
 - B La privazione temporanea della capacità di acquistare o di esercitare, durante l'interdizione, quei diritti, uffici, servizi, qualità, gradi, titoli e onorificenze di cui è prevista la perdita definitiva in caso di applicazione della pena accessoria dell'interdizione perpetua dai pubblici uffici
 - C La incapacità temporanea di contrarre matrimonio.
-

ELEMENTI DI DIRITTO PENALE E FUNZIONI DELLA POLIZIA GIUDIZIARIA

RISPOSTE CORRETTE

1 A	2 C	3 C	4 A	5 B
6 B	7 C	8 B	9 C	10 A
11 B	12 C	13 C	14 C	15 A
16 B	17 B	18 B	19 C	20 C
21 A	22 B	23 A	24 C	25 B
26 A	27 C	28 A	29 A	30 B
31 A	32 B	33 A	34 C	35 B
36 A	37 B	38 B	39 B	40 B
41 B	42 B	43 A	44 C	45 C
46 B	47 A	48 A	49 B	50 A
51 A	52 C	53 A	54 B	55 B
56 C	57 C	58 C	59 A	60 A
61 C	62 C	63 C	64 B	65 C
66 B	67 A	68 A	69 C	70 C
71 A	72 B	73 B	74 B	75 B
76 C	77 C	78 B	79 A	80 B
81 A	82 B	83 A	84 B	85 B
86 A	87 C	88 A	89 B	90 B
91 A	92 B	93 A	94 A	95 C
96 B	97 C	98 A	99 C	100 B
101 B	102 C	103 B	104 A	105 C
106 B	107 B	108 C	109 B	110 B
111 A	112 C	113 B	114 C	115 B
116 C	117 C	118 C	119 C	120 A
121 B	122 B	123 B	124 B	125 B
126 B	127 A	128 A	129 B	130 C
131 B	132 C	133 B	134 B	135 B
136 C	137 C	138 A	139 B	140 B
141 A	142 C	143 C	144 A	145 B
146 C	147 A	148 B	149 C	150 C
151 C	152 B	153 C	154 A	155 C
156 C	157 B	158 A	159 C	160 C
161 B	162 C	163 B	164 A	165 A
166 B	167 C	168 A	169 C	170 A
171 C	172 C	173 C	174 C	175 C
176 B	177 C	178 A	179 B	180 B
181 A	182 C	183 C	184 C	185 C
186 B	187 B	188 A	189 B	190 B
191 A	192 A	193 B	194 B	195 A
196 C	197 C	198 B	199 C	200 C
201 B	202 C	203 C	204 B	205 A
206 B	207 A	208 A	209 C	210 B
211 A	212 A	213 C	214 C	215 A
216 A	217 A	218 A	219 B	220 B
221 B	222 A	223 B	224 C	225 B
226 A	227 C	228 A	229 A	230 C
231 C	232 A	233 B	234 A	235 A
236 A	237 A	238 C	239 A	240 B
241 C	242 B	243 A	244 B	245 A

246 A	247 A	248 C	249 A	250 C
251 B	252 A	253 B	254 B	255 A
256 B	257 A	258 C	259 C	260 A
261 C	262 C	263 A	264 A	265 C
266 A	267 C	268 A	269 A	270 C
271 C	272 B	273 C	274 C	275 C
276 A	277 C	278 C	279 A	280 A
281 A	282 B	283 C	284 A	285 A
286 C	287 B	288 C	289 A	290 B
291 B	292 A	293 C	294 A	295 B
296 B	297 C	298 B	299 B	300 A
301 C	302 C	303 A	304 B	305 A
306 A	307 C	308 A	309 A	310 A
311 C	312 A	313 A	314 C	315 B
316 C	317 C	318 C	319 B	320 B
321 A	322 A	323 A	324 A	325 C
326 C	327 B	328 A	329 B	330 C
331 B	332 B	333 B	334 B	335 C
336 B	337 C	338 A	339 B	340 C
341 C	342 B	343 A	344 B	345 C
346 B	347 B	348 C	349 C	350 B
351 C	352 C	353 A	354 C	355 A
356 A	357 B	358 B	359 C	360 A
361 A	362 B	363 A	364 C	365 A
366 C	367 B	368 C	369 A	370 C
371 C	372 A	373 C	374 C	375 C
376 B	377 C	378 A	379 A	380 B
381 A	382 B	383 C	384 C	385 A
386 B	387 B	388 B	389 B	390 C
391 C	392 A	393 A	394 A	395 C
396 C	397 C	398 B	399 C	400 C
401 B	402 C	403 B	404 A	405 C
406 C	407 A	408 B	409 A	410 B
411 B	412 B	413 A	414 A	415 C
416 B	417 A	418 B	419 C	420 A
421 B	422 A	423 C	424 A	425 C
426 B	427 B	428 C	429 A	430 A
431 B	432 B	433 B	434 B	435 B
436 B	437 B	438 A	439 B	440 C
441 A	442 A	443 C	444 A	445 A
446 A	447 C	448 B	449 A	450 A
451 C	452 B	453 A	454 A	455 A
456 A	457 B	458 B	459 A	460 B
461 A	462 C	463 C	464 A	465 C
466 B	467 C	468 B	469 A	470 A
471 C	472 B	473 B	474 A	475 C
476 A	477 A	478 C	479 B	480 C
481 A	482 A	483 A	484 B	485 A
486 A	487 C	488 B	489 A	490 C
491 C	492 C	493 A	494 A	495 C
496 B	497 C	498 C	499 A	500 A
501 B	502 C	503 A	504 C	505 B
506 B	507 A	508 C	509 A	510 C
511 B	512 B	513 C	514 B	515 A
516 C	517 A	518 C	519 B	520 A

521 A	522 C	523 B	524 C	525 A
526 B	527 C	528 B	529 C	530 C
531 C	532 C	533 B	534 A	535 A
536 A	537 B	538 C	539 C	540 B
541 B	542 B	543 C	544 B	545 A
546 A	547 A	548 C	549 C	550 A
551 C	552 C	553 B	554 C	555 A
556 B	557 C	558 B	559 B	560 C
561 B	562 B	563 C	564 A	565 B
566 C	567 A	568 A	569 A	570 A
571 A	572 A	573 C	574 B	575 A
576 B	577 A	578 A	579 A	580 B
581 A	582 C	583 B	584 A	585 C
586 A	587 B	588 C	589 C	590 A
591 C	592 B	593 B	594 A	595 C
596 B	597 B	598 A	599 A	600 B
601 C	602 A	603 B	604 A	605 B
606 C	607 A	608 A	609 B	610 B
611 B	612 C	613 B	614 C	615 A
616 B	617 C	618 C	619 C	620 A
621 C	622 B	623 B	624 A	625 B
626 C	627 A	628 B	629 A	630 B
631 A	632 C	633 C	634 A	635 B
636 B	637 A	638 B	639 C	640 A
641 C	642 B	643 A	644 C	645 A
646 B	647 A	648 B	649 B	650 B
651 A	652 B	653 B	654 B	655 A
656 B	657 A	658 A	659 A	660 C
661 A	662 A	663 B	664 A	665 A
666 C	667 B	668 B	669 B	670 A
671 A	672 A	673 B	674 A	675 B
676 A	677 C	678 A	679 A	680 C
681 A	682 B	683 B	684 B	685 B
686 A	687 C	688 C	689 C	690 A
691 C	692 C	693 B	694 C	695 A
696 A	697 A	698 A	699 A	700 C
701 A	702 A	703 B	704 A	705 B
706 A	707 C	708 B	709 C	710 C
711 C	712 B	713 B	714 A	715 B
716 C	717 B	718 B	719 C	720 B
721 A	722 B	723 B	724 B	725 C
726 B	727 C	728 B	729 A	730 B
731 C	732 A	733 C	734 B	735 B
736 C	737 A	738 A	739 C	740 C
741 B	742 A	743 A	744 C	745 A
746 B	747 C	748 C	749 C	750 C
751 A	752 A	753 A	754 B	755 B
756 A	757 A	758 B	759 C	760 A
761 B	762 B	763 B	764 A	765 B
766 C	767 A	768 C	769 A	770 A
771 A	772 C	773 B	774 A	775 A
776 B	777 B	778 A	779 A	780 B
781 B	782 C	783 B	784 A	785 B
786 B	787 B	788 C	789 A	790 B
791 B	792 C	793 A	794 C	795 A

796 C	797 A	798 A	799 C	800 A
801 A	802 B	803 B	804 B	805 A
806 B	807 C	808 A	809 C	810 A
811 A	812 B	813 C	814 A	815 A
816 B	817 C	818 C	819 C	820 C
821 C	822 B	823 A	824 A	825 C
826 C	827 B	828 A	829 B	830 B
831 A	832 A	833 C	834 A	835 B
836 C	837 A	838 B	839 C	840 C
841 A	842 C	843 C	844 A	845 A
846 B	847 C	848 C	849 C	850 B
851 C	852 B	853 B	854 B	855 A
856 B	857 B	858 B	859 B	860 A
861 A	862 A	863 C	864 B	865 A
866 B	867 B	868 B	869 C	870 A
871 B	872 B	873 A	874 C	875 C
876 A	877 C	878 A	879 A	880 A
881 B	882 A	883 A	884 B	885 B
886 A	887 B	888 C	889 C	890 C
891 C	892 C	893 B	894 B	895 C
896 A	897 B	898 A	899 C	900 B
901 C	902 B	903 B	904 C	905 B
906 B	907 C	908 B	909 B	910 C
911 B	912 C	913 A	914 A	915 C
916 A	917 C	918 B	919 A	920 A
921 A	922 A	923 B	924 C	925 A
926 C	927 C	928 C	929 C	930 C
931 B	932 B	933 A	934 C	935 C
936 A	937 B	938 A	939 A	940 A
941 A	942 B	943 B	944 A	945 B
946 B	947 B	948 A	949 B	950 B
951 B	952 B	953 B	954 C	955 A
956 B	957 B	958 A	959 B	960 A
961 A	962 C	963 C	964 B	965 A
966 B	967 B	968 C	969 C	970 C
971 B	972 C	973 B	974 A	975 A
976 A	977 A	978 C	979 C	980 C
981 A	982 C	983 B	984 C	985 B
986 C	987 A	988 C	989 C	990 C
991 B	992 B	993 B	994 C	995 B
996 A	997 A	998 B	999 A	1000 B

CONOSCENZA DELLA LINGUA INGLESE (1.000)

-
- 1) **Fill in the blank. "They usually get up early ... the morning".**
A but
B in
C at
-
- 2) **Fill in the blank. "I like sugar ... my tea".**
A at
B in
C on
-
- 3) **Fill in the blank. "It is extraordinary that she ___ to hold her breath for so long".**
A can
B can be
C is able
-
- 4) **Choose the correct answer. "Have you already read the newspaper?"**
A Yes I won't had it.
B No, I haven't read it yet
C Yes, I haven't read it.
-
- 5) **What does the word "City hall" mean?**
A centro studi
B municipio
C quartiere
-
- 6) **Fill in the blank. "I am writing with _____ to your job advertisement".**
A enquiry
B indication
C reference
-
- 7) **What is a double-decker bus?**
A A bus with three levels.
B A white bus.
C A bus with two levels.
-
- 8) **What does the word "docks" mean?**
A Zona portuale.
B Stazione ferroviaria.
C Aeroporto.
-
- 9) **In Italy you are allowed to drive a car at the age of:**
A twenty
B sixteen
C eighteen
-
- 10) **Fill in the blank. "Before leaving, check that you ___ everything with you".**
A have taken
B has taking
C has taken
-
- 11) **Choose the right answer. "How often do you walk your dog for a walk?"**
A Yes, I like it
B No, I don't.
C Three times a day.
-
- 12) **Choose the right answer. "Whose are the glasses on the desk?"**
A He's Mrs Reeve.
B They're Mrs Reeve's.
C It's Mrs Reeve's.

-
- 13) Choose the right answer. "It rained every day during our holiday".
A Is it?What a pity!
B Did it? What a pity!
C Has he?What a pity!
-
- 14) Fill in the blank. "She is _____ dark glasses to protect her eyes from the sun."
A wearing
B carrying
C fitting
-
- 15) Fill in the blank. All boarding passes _____ to the flight attendant before boarding".
A Must be given
B Must have given.
C Must be giving.
-
- 16) Choose the word or group of words which best completes the following sentence. "I have to buy _____".
A a bread
B a loaf of bread
C any bread
-
- 17) If you read on it: "Best before march 2021", you probably have:
A a book
B a packet of tea bags.
C a jacket.
-
- 18) Choose the word or group of words which best completes the following sentence. "Would you like _____pasta?".
A some more
B a few
C a little of
-
- 19) Fill in the blank. "Mary has got _____collection of photos".
A the most nice
B the nicest
C a nicest
-
- 20) The word "easy" is:
A an adverb
B a noun
C an adjective.
-
- 21) Fill in the blank. "How many students _____ in your school?"
A are
B are there
C is there
-
- 22) Choose the word or words which best complete the sentence. "There is a bus _____ the hotel".
A outside
B across
C inside of
-
- 23) Which one is different?
A on Monday
B on the afternoon
C at eight o'clock
-
- 24) Choose the words which best complete the following sentence: It's _____ I told the news.
A his, whose
B he, whom
C he, whose
-
- 25) Choose the best verb form to complete the sentence: "He stopped _____ last year".

- A the smoking
- B smoking
- C to smoke

26) Choose the best verb form to complete the sentence: I ____ phone you!

- A had
- B have
- C did

27) What does the word "canteen" mean?

- A ristorante
- B mensa
- C casa

28) The part of the following sentence between square brackets contains one or more mistakes; choose the correct form. "[All guests have danced] and were tired".

- A All the guests had been dancing
- B All the guests are dancing
- C All guests were been dancing

29) Choose the best verb form to complete this sentence: "By this time next week we ____ the new computer system".

- A have installed
- B | will have been installing
- C will have installed

30) Choose the best words to complete the sentence: "I'll pay you back the money ____ I can get to the bank".

- A as soon as
- B as soon
- C no sooner than

31) I'm sorry to disturb you but could you please help me with my homework? is:

- A a request.
- B an offer.
- C a suggestion.

32) Find the opposite meaning of "insolent".

- A Polite
- B Determined
- C Delicate

33) Find the opposite meaning of "disloyal".

- A Rich
- B Skillful
- C Faithful

34) Fill in the blank. "We are ... as you are".

- A so rich not
- B richer
- C not as rich

35) What does the word "loss" mean?

- A guadagno
- B memoria
- C perdita

36) Which plural is correct?

- A windows
- B windowes
- C windowos

37) Choose the word or group of words which best completes the following sentence. "I really ... any interesting films lately".

- A haven't seen
- B didn't see
- C saw

38) Which of the following CANNOT be used to complete this sentence "James isn't at school today so I think he ____ be ill"?

- A can
- B may
- C might

39) Complete the following sentence: "Mary ____ very happy today".

- A don't seem
- B isn't seeming
- C doesn't seem

40) Complete the following sentence: "She really looks like her father. She's got his nose and his mouth; he wears glasses and ____"

- A she does.
- B she does so.
- C so she does.

41) Complete the following sentence: "She suggested I _____ you".

- A to call
- B calling
- C call

42) Complete the following sentence: "There is very little _____ if you share a small flat with six others!"

- A water
- B room
- C house

43) Choose the best verb form to complete the sentence. "I _____ really grateful if you could answer my question".

- A would have been
- B have been
- C would be

44) Choose the best verb form to complete the sentence. "By this time next week we ____ the new computer system".

- A have installed
- B will have installed
- C | will have been installing

45) Fill in the blank. "I spoke slowly _____ she could understand me."

- A so that
- B to allow
- C for that

46) Choose the best word or phrase to complete this sentence: "I'll pay you back the money ____ I can get to the bank".

- A no sooner than
- B as soon as
- C sooner

47) Choose the best verb form to complete the sentence. "You _____ have a driver's license to ride a bike".

- A shouldn't.
- B don't need to.
- C mustn't.

48) Fill in the blank. "Belgium is much ... than Italy".

- A smaller
- B as small
- C less little

-
- 49) **I am really thirsty!**
A Ask of anything to drink
B Ask for something to drink.
C Ask at some to drink.
-
- 50) **Which one is different?**
A to go/going
B to play/plaing
C to work/working
-
- 51) **Fill in the blank. "My mother has worked as a graphic designer _____ the last six years".**
A since
B for
C with
-
- 52) **Fill in the blank. "She discussed her plans _____ her mother".**
A with
B at
C from
-
- 53) **Fill in the blank. "Who's that girl _____ a black T-shirt and white trousers?"**
A on
B to
C in
-
- 54) **Fill in the blank. "The 11.45 train left ... time".**
A from
B to
C on
-
- 55) **Fill in the blank. "We had a lot of problems with our car. ... the end we sold it and bought another".**
A At
B On
C In
-
- 56) **Fill in the blank. "I always go to the restaurant ... Saturdays".**
A over
B on
C on the
-
- 57) **Fill in the blank. "There are two beds ... the cottage".**
A on
B in
C into
-
- 58) **Complete the following sentence: "To _____ it may concern, I hereby designate Mathilda Jones _____ my attorney".**
A whoever / such as
B whom / as
C who / as
-
- 59) **Complete the following sentence: "They can speak ___ English ___ French".**
A both; that
B both; also
C both; and
-
- 60) **Complete the following sentence: "I think I _____ stay at home next summer. My friends have invited me to Rome".**
A don't
B won't
C won't to
-
- 61) **Choose the best word or words to complete this sentence: "There's _____ speculation about who will become the new leader of the Labour Party when the Prime Minister retires".**

- A | many
- B | a lot
- C too much

62) **Fill in the blank " He it!".**

- A made me do
- B made me to do
- C made me doing

63) **He was sorry to _____ your birthday.**

- A Forget.
- B Lost.
- C Forgot.

64) **We seem to be _____ for bankruptcy!**

- A aiding
- B concentrating
- C heading

65) **The company is thinking about _____ some managers.**

- A removing
- B rubbing
- C disposing

66) **What do you like _____ in your spare time?**

- A to do
- B being done
- C doing

67) **Choose the best verb form to complete this sentence: If I _____ a cake, will you bring some wine?**

- A will make
- B make
- C had made

68) **Choose the best verb to complete this sentence: By midnight yesterday all the forms _____ to the Commission.**

- A had be sent
- B are gone
- C were transmitting

69) **Which of the following CANNOT be used to complete this sentence? James isn't at work today so I think he _____ be ill.**

- A may
- B can
- C might

70) **Complete the following sentence: "He works very, very ____"**

- A careful.
- B carefully.
- C in a caring way.

71) **Indicare la traduzione corretta. "I couldn't make it to work yesterday".**

- A Non sono riuscito ad andare al lavoro ieri.
- B Non ho potuto farlo funzionare ieri.
- C Non potevo farlo ieri al lavoro.

72) **Complete the following sentence: "If I _____ to university, I _____ the possibility to work in this field".**

- A hadn't gone / wouldn't have had.
- B had gone / wouldn't have.
- C hadn't gone / had had.

73) **Complete the following sentence: "Our teachers are all highly _____".**

- A instructed
- B qualified
- C prepared

-
- 74) Complete the following sentence: "John has an _____ the most fantastic lies".
A capability of inventing
B amazing ability to invent
C ability amazing to invent
-
- 75) Complete the following sentence: "Blackboards are _____. We need to change them all for interactive whiteboards".
A up to date
B out of fashion
C backdated
-
- 76) Complete the following sentence: "That boy's always _____ on those who are smaller or weaker than himself".
A tells
B pick
C picking
-
- 77) It _____ all day and the road was slippery.
A rains
B had been raining
C is raining
-
- 78) Complete the following sentence: "Never _____ such a beautiful building!"
A do I see
B have I seen
C I have seen
-
- 79) Complete the following sentence: "Just _____ students were good, but none of them were excellent".
A any
B some many
C many
-
- 80) Choose the best word to complete this sentence: "There is no _____ for paying women less than men if they do the same job".
A time
B reason
C point
-
- 81) Complete the following sentence: "I'm sorry I did it. It's all my _____".
A charge
B fault
C guilt
-
- 82) Choose the best word to complete the sentence: "You can invest your money in stocks and _____".
A divides
B hedges
C shares
-
- 83) Complete the following sentence: "Would you like a drink? Yes, _____".
A please
B all right
C thanks
-
- 84) Indicare la traduzione corretta. "We want to throw a party before summer vacation".
A Vogliamo dare una festa prima delle vacanze estive.
B Vogliamo fissare una data per la festa prima delle vacanze estive.
C Vogliamo andare a una festa prima delle vacanze estive.
-
- 85) Fill in the blank. _____ do? Pleased to meet you.
A How do you.
B When do you.
C What do you.

-
- 86) **Choose the best phrase to complete this sentence: Visiting that country _____ a visa, but now it's no longer necessary.**
A used to require
B used requiring
C were used to require
-
- 87) **Choose the right sentence.**
A You have never been to London, haven't you?
B You have never been to London, have you?
C You have never been to London, did you?
-
- 88) **Complete the following sentence: "Neither you _____ Tom should use that knife!"**
A heather
B nor
C either
-
- 89) **Choose the best verb form to complete this sentence: "The notebook _____ in the office yesterday evening, but now it's gone!"**
A aren't
B were
C was
-
- 90) **Complete the following sentence: "John drove along the narrow road".**
A carefully
B quick
C quiet
-
- 91) **Fill in the blank. "The teacher explains the lessons ... the students".**
A to
B above
C for
-
- 92) **Fill in the blank. "The cat wants to go ... : open the door!".**
A in
B out
C away
-
- 93) **Complete the following sentence: "Mozart lived ... 1756 ... 1791".**
A at / into
B to / from
C from/ to
-
- 94) **Complete the following sentence: "Mark isn't up yet. He's still "**
A at bed
B in bed.
C on bed.
-
- 95) **If you read on it: 'Buy 3 you get 1 free!' you probably are:**
A at school.
B at the supermarket.
C at the post office.
-
- 96) **Book now...**
A at the bus stop.
B at a travel agency.
C at the supermarket.
-
- 97) **Please do not talk to the driver:**
A at the restaurant.
B on the bus.
C at the museum.
-
- 98) **Fill in the blank. "What did that man say...?".**

- A you
- B | to you
- C at you

-
- 99) **Fill in the blank. "It is difficult to get ... such a small car".**
- A inside in
 - B in
 - C inside at
-
- 100) **Our personal information _____ social media companies in order to target us with specific Internet advertising.**
- A is analysed from
 - B is analysed by
 - C are analysed from
-
- 101) **Choose the right sentence.**
- A You have never been to London, have you?
 - B You have never been to London, haven't you?
 - C You have never been to London, did you?
-
- 102) **Complete the following sentence: "Please fasten _____ seat belts as we prepare for take off".**
- A yours
 - B its
 - C your
-
- 103) **Complete the following sentence: "This is the ... film we have ever seen".**
- A worsts
 - B worst
 - C more bad
-
- 104) **Complete the following sentence: "_____ signing the contract he made a phone call".**
- A Before he has
 - B After he had
 - C Before
-
- 105) **Fill in the blank. "Something was wrong, but I couldn't quite put my ... on it".**
- A thumb
 - B mind
 - C finger
-
- 106) **What is the opposite of the word "boring"?**
- A Easy
 - B Hard
 - C Interesting
-
- 107) **Fill in the blank. "What do you ... we do tonight, John?".**
- A think about
 - B going
 - C suggest
-
- 108) **Complete the following sentence: "Tom _____ a bar of chocolate".**
- A hadn't not eaten
 - B has just eaten
 - C have just eaten
-
- 109) **Fill in the blank. "I'll help you when I ... downloading my e-mails".**
- A conclude
 - B have finished
 - C finished
-
- 110) **Complete the following sentence: "It's a very nice room.It's the _____ room in the hotel".**
- A better
 - B nicest
 - C nicer

-
- 111) Complete the following sentence: "He ... a fair knowledge of the English language up to now".
A has had
B has
C will have
-
- 112) Complete the following sentence: "Let me tell you what ____ last night".
A was happened
B has happened
C happened
-
- 113) Complete the following sentence: "Jack has got some money; he to the bank".
A has just been
B had just been
C have been
-
- 114) Complete the following sentence: "You haven't to go to school today, ____"
A had you?
B haven't you?
C have you?
-
- 115) Complete the following sentence: "He _____ too much wine at the party last night! He's got a terrible headache!"
A drank
B drunken
C drink
-
- 116) Complete the following sentence: "I've been trying to get ____ with her all week, but she's never home and her mobile is always off".
A along
B hold
C in touch
-
- 117) Complete the following sentence: "The company took _____ shortly after the deal".
A up
B down.
C over
-
- 118) Choose the best word or phrase to complete this sentence: I'll pay you back the money ____ I can get to the bank.
A sooner
B as soon as
C no sooner than
-
- 119) Choose the best phrase to complete this sentence: "Rome is ____".
A a very beautiful city
B very beautiful city
C a city very beautiful
-
- 120) Complete the following sentence: "Although our opinions on many things ... , we're good friends".
A divide
B differ
C oppose
-
- 121) Complete the following sentence: "Mount Everest is _____ highest mountain in the world".
A the
B the most
C more
-
- 122) Which of the following sentences is correct?
A Ryan used to play baseball a lot, but he doesn't play very often now.
B Ryan is used to play baseball, but he doesn't play very often now.
C Ryan was used to play baseball, but he doesn't play very often now.
-
- 123) Which one is different?

- A do/doing
- B study/studing
- C work/working

-
- 124) Complete the following sentence. "... one would you like?".
- A Which
 - B How
 - C Why
-
- 125) Choose the correct translation. "I'm sick and tired of this affair".
- A Sono stufo di questa faccenda.
 - B Questa faccenda mi confonde.
 - C Sono nervoso per questa faccenda.
-
- 126) Complete the following sentence: "Maria's coffee bar was _____ she decided to franchise it".
- A so successful than
 - B so successful that
 - C such successful as
-
- 127) Indicare la traduzione corretta: "Il pranzo viene sempre servito alle 13:00".
- A Lunch is always served at 13:00.
 - B The lunch comes always serve at 13:00.
 - C Lunch comes always served at 13:00.
-
- 128) Complete the following sentence "She doesn't look like _____ her father or her mother".
- A both
 - B either
 - C or
-
- 129) Complete the following sentence: "Tomorrow morning I _____ the 6.30 train to Rome to attend a European conference on world poverty".
- A am getting
 - B have taken
 - C going to take
-
- 130) Complete the following sentence: "Firms can avoid _____ middle managers".
- A paid
 - B paying
 - C pay
-
- 131) Complete the following sentence. "The tourist office is _____ the supermarket and the baker's shop".
- A in
 - B between
 - C among
-
- 132) A library is:
- A a place where books are kept.
 - B a shelf to keep books on.
 - C a store that sells books.
-
- 133) You can say that someone will have "an easy ride":
- A if you think that they will spend a happy time riding a horse.
 - B if you think that they will travel in a comfortable vehicle.
 - C if you think that they will achieve something without difficulty.
-
- 134) We _____ to inform you that your application _____ successful.
- A regretting / is not
 - B regret / had not
 - C regret / was not
-
- 135) In the sentence: "Everyone recognized her down-to-earth approach to life", "down-to-earth" means _____.

- A hopeless
- B practical
- C depressed

136) **Our personal information _____ social media companies in order to target us with specific Internet advertising.**

- A are analysed by
- B is analysed by
- C are analysed from

137) **Mary says: "I have already done the homework". Which is correct?**

- A Mary said she was already doing the homework.
- B Mary said she would already do the homework.
- C Mary said she had already done the homework.

138) **Complete the following sentence: "My brother, _____ lives in Switzerland, is coming to visit me".**

- A who
- B which
- C whom

139) **Complete the following sentence: "In England it's often too cold ... outside."**

- A that people eat
- B for people to eat
- C for people eating

140) **Which sentence is correct?**

- A A trade union is an association organized of workers formed to protect and further their rights and interests.
- B A trade union is an organized of workers association formed to protect and further their rights and interests.
- C A trade union is an organized association of workers formed to protect and further their rights and interests.

141) **Complete the following sentence: "I _____ to other people borrowing my books".**

- A object
- B avoid
- C disagree

142) **Complete the following sentence: I don't suppose I could have a glass of water, _____ ?**

- A could I.
- B suppose I.
- C couldn't I

143) **Fill in the blanks. "Would you like to join us _____ lunch? We're going _____ a nice restaurant!".**

- A on; at
- B for; to
- C in; in

144) **Choose the best verb form to complete this sentence: "Call me at 10 p.m. By that time my parents _____".**

- A Will have been leaving.
- B Will have left.
- C Will leave.

145) **Complete the following sentence: "She's not very keen _____ basketball".**

- A around
- B on
- C with

146) **Choose the right sentence.**

- A Who do say it? It's not true.
- B Who does say it? It's not true.
- C Who did say it? It's not true.

147) **Complete the following sentence: "She got a different pizza to _____, so I tried hers".**

- A my
- B mine
- C I

-
- 148) Complete the following sentence: "I got up late and I _____ the train".
- A missed
 - B lost
 - C losted
-
- 149) Complete the following sentence: "She is _____ a baby in two months time".
- A will have
 - B going to have
 - C going to having
-
- 150) Choose the right sentence.
- A Don't to move. I'm arrive.
 - B Don't move. I'm arriving.
 - C Don't move. I'm coming.
-
- 151) Complete the following sentence: I have never broken the law or _____ a crime.
- A made
 - B committed
 - C done
-
- 152) Fill in the blank. "My friend Catherine is a journalist: _____ job is very interesting".
- A their
 - B her
 - C his
-
- 153) Choose the correct sentence.
- A Wherever we go people recognize us.
 - B Wherever we have gone people recognize us.
 - C Wherever we gone people recognize us.
-
- 154) Complete the following sentence: When we entered the room, the children were _____ television.
- A watching.
 - B looking at.
 - C watching.
-
- 155) Choose the correct sentence.
- A It's the first time I met such nice people.
 - B It's the first time I am meeting such nice people.
 - C It's the first time I've met such nice people.
-
- 156) Complete the following question: "_____ you like to come to Germany with me next month?"
- A Will
 - B Do
 - C Would
-
- 157) Complete the following sentence: "When my brother goes on holiday, she asks me to look _____ her pets".
- A to
 - B after
 - C before
-
- 158) Complete the following sentence: "European students don't need a/an _____ to travel within the Schengen area".
- A entry
 - B pass
 - C visa
-
- 159) Choose the right sentence.
- A Mary is the most intelligent girl in the class, and is also the most beautiful.
 - B Mary is the girl most intelligent in class, and is more beautiful.
 - C Mary is the more intelligent girl in the class, and is also the more beautiful.

-
- 160) Complete the following sentence: I am writing a book _____ Italy, it will be published next year.
A about
B on
C from
-
- 161) Complete the following question: "What did you have ___ lunch?"
A in
B on
C for
-
- 162) Choose the best question for this answer: it's sunny!
A What's the sun?
B What are the weather?
C What is the weather like?
-
- 163) Complete the following sentence: "She is very old. she needs someone to look ___ her."
A after
B on
C by
-
- 164) Choose the best translation: "Quanto dista casa tua da qui?"
A How far is your house from here?
B How is you home near?
C How much space is from here to yours?
-
- 165) Which of the given alternatives correctly fills in the gap? _____ the only creature that consumes without producing. He does not give milk, he does not lay eggs, he is too weak to pull the plough, he cannot run enough to catch rabbits. Yet he is lord of all the animals. He sets them to work, he gives back to them the bare minimum that will prevent them from starving, and the rest he keeps for himself. (George Orwell, 1945).
A Men are
B The man are
C Man is
-
- 166) Complete the following sentence. "I ... such a warm welcome from you!"
A not expect
B not expected
C didn't expect
-
- 167) Choose the best word or words to complete the sentence. "_____ his illness, Tom continued to play football".
A Although.
B Even though.
C Despite.
-
- 168) Choose the best word to complete this sentence: "Don't put your cup on the _____ of the table - someone will knock it off".
A boundary
B edge
C border
-
- 169) Choose the best verb form to complete the question: "I've never _____ a design like this before".
A saw.
B seen.
C see.
-
- 170) Fill in the blank. "Leave everything as it"
A is
B will.
C might.
-
- 171) Choose the correct translation. Quante lingue si parlano in Canada?

- A How many languages they spoken in Canada?
- B How many languages are spoken in Canada?
- C How many languages is spoken in Canada?

172) Choose the best verb form to complete the question: "Where did they all ____ after the party?"

- A going
- B gone
- C go

173) Choose the correct sentence.

- A Because it was raining I stay at home.
- B As it was raining I stayed at home.
- C For it was raining I stayed at home.

174) She can't play the piano! In fact, she's

- A artful.
- B hopeless.
- C sly.

175) I'm so sorry I couldn't come to your party. The communicative function of the sentence is _____ .

- A apologising
- B giving instructions
- C explaining

176) Choose the words which best complete the following sentence. "The organisation ... together countries ... the principles of the market economy".

- A expels; teaching
- B relieves; promoting
- C brings; sharing

177) Choose the correct form. "The city's underground system doesn't make a good impression on _____ visitors".

- A stranger
- B strange
- C foreign

178) Choose the correct form. "We cannot call ourselves civilised _____ we stop killing animals for sport".

- A if not
- B while
- C until

179) Choose the correct sentence.

- A How many bananas do you usually buy?
- B How many pasta do you eat?
- C How much fishes does she eat?

180) Complete the following sentence: "We hadn't arranged to meet. We met ____ chance".

- A on
- B in
- C by

181) Choose the correct form. "He is not a friend of _____".

- A me
- B my own
- C mine

182) Choose the best verb form to complete the question: "This time tomorrow we _____ to London".

- A aren't flying
- B flying
- C will be flying

183) Fill in the blank. "When I ____ to school I ____ very hard".

- A Went; studied.
- B Came; study.
- C Gone; was studying.

-
- 184) Choose the best verb form to complete the question: Learning from your mistakes is smart, _____ from the mistakes of others is wise.
- A seeing
 - B learning
 - C taking
-
- 185) Complete the following sentence: "He had been waiting for ten minutes when he came to the that he was in the wrong shop".
- A station
 - B town centre
 - C conclusion
-
- 186) Choose the correct form. "I won't wait ... her a minute more".
- A about
 - B at
 - C for
-
- 187) Choose the best verb form to complete the question: "In 1989 the Berlin wall ____ down".
- A coming
 - B came
 - C was come
-
- 188) Choose the best verb form to complete the question: "I have never.... Paris".
- A visited
 - B gone
 - C been
-
- 189) Choose the best verb form to complete the question: "He _____ too much wine at the party last night! He's got a terrible headache!"
- A drunk
 - B drink
 - C drank
-
- 190) Choose the best verb form to complete the question: "He's really ____ meeting your sister".
- A looked forward to
 - B looks for
 - C looking forward to
-
- 191) Fill in the blank. "I ____ haven't seen the film that won the Cannes Film Festival this year".
- A yet
 - B still
 - C again
-
- 192) Fill in the blank. "First I'm going to China and ____ I'm going to India".
- A then
 - B second
 - C after
-
- 193) The word "always" is:
- A an adverb.
 - B an adjective.
 - C a noun
-
- 194) Fill in the blank. "This is absolutely the ____ book I've ever read".
- A more bad
 - B worse
 - C worst
-
- 195) Fill in the blank. "The office ____ every day ____ 17:00".
- A closes / on
 - B close / at
 - C closes / at
-
- 196) Fill in the blank. "Ann can't cook and ____ Thomas".

- A neither can
- B neither can't
- C either

-
- 197) **Fill in the blank. "Please _____ everything _____ your bag".**
A take/at
B get/in
C put / into
-
- 198) **Fill in the blank. "He can't come to the phone. He _____ a shower".**
A is taking
B is having
C is washing
-
- 199) **Complete the following sentence: "We _____ the bus and had to walk".**
A lost
B missed
C take
-
- 200) **Complete the following sentence: " _____ can run _____ than you".**
A Nobody / faster
B Anyone/fast as
C Nobody/more fast
-
- 201) **Choose the best verb form to complete the question: "Sorry, I don't _____ , _____ you speak slowly?"**
A understand / could
B understanding/could
C understood/would
-
- 202) **Choose the best verb form to complete the question: "He _____ his car _____ year".**
A buy/this
B bought / last
C bought / next
-
- 203) **Choose the best verb form to complete the question: Mr Smith _____ very early _____.**
A were leave/ tomorrow
B will leave / tomorrow
C is leaving/ yesterday
-
- 204) **Choose the best verb form to complete the question: We _____ for mushrooms _____ the wood.**
A are searching/ into
B are looking / in
C are looking/over
-
- 205) **Complete the following sentence: "I am afraid I _____ keep the appointment I made for Monday 14th May".**
A must not be able to
B will not be able to
C should not be able to
-
- 206) **Choose the best word to complete this sentence: " _____ people think so".**
A Most
B Many
C Much
-
- 207) **Choose the best verb form to complete the question: Hurry up! if you _____ hurry, you'll be late.**
A Don't
B Will
C Willn't
-
- 208) **What does the verb "get away" mean?**
A andare via
B scendere
C tornare

-
- 209) Complete the following sentence: "I met him ____ the stairs as I was going down to lunch".
- A at
 - B in
 - C on
-
- 210) Which plural is wrong?
- A Boys
 - B Mens
 - C Girls
-
- 211) Choose the best verb form to complete the question: " ____ you like to come to Italy with me next month?"
- A Would
 - B Do
 - C Will
-
- 212) Choose the correct form: "The newspaper article contained ____ important information".
- A many
 - B a lots of
 - C a lot of
-
- 213) Choose the correct form: "The new director works hard to ____ his objectives".
- A achieve
 - B win
 - C gain
-
- 214) Complete the following sentence: "It wasn't too bad. I was able to answer most of the questions"
- A carefully.
 - B clearly.
 - C easily.
-
- 215) Complete the following sentence: "He ____ a fair knowledge of the English language up to now".
- A will have
 - B has
 - C had
-
- 216) Choose the best verb form to complete the question: "I'd go if I you!"
- A were
 - B has been
 - C had been
-
- 217) Fill in the blank. "He is very ____: some days he's happy, some days he's sad. "
- A happy
 - B sad
 - C moody
-
- 218) What is the opposite of the word "heat"?
- A Cold
 - B Hard
 - C Sun
-
- 219) Fill in the blank. "It's a very nice room. It's the room in the resort".
- A good
 - B better
 - C nicest
-
- 220) Complete the sentence. "My italian friend ... a fair knowledge of the English language up to now".
- A has had
 - B has
 - C have
-
- 221) Fill in the blank. "I'm ____ back tomorrow ____ to the manager".
- A going / talk
 - B having to / talking
 - C coming / to talk

-
- 222) You haven't to go to school today,
- A had you?
 - B have you?
 - C won't have you
-
- 223) Complete the following sentence: "Mr Smith and _____ will have a meeting on _____".
- A my / next week
 - B I / Tuesday
 - C mine / January
-
- 224) Complete the following sentence: "I have _____ studied _____ London".
- A never / in
 - B not / by
 - C byways / next
-
- 225) Complete the following sentence: "Paul _____ Italy _____ 2010.
- A leaves / on
 - B leaving / in
 - C left / in
-
- 226) Complete the following sentence: "I'm _____ . _____ you speak more slowly?"
- A a foreigner / Could
 - B strange / Must
 - C stranger / Can
-
- 227) Complete the following sentence: I _____ to inform you that the meeting will be in _____ days
- A am writing / ten
 - B be writing / ten
 - C will / tens
-
- 228) Complete the following sentence: "The office opens _____ on _____".
- A not / Thursday
 - B earlier / Thursday
 - C early / morning
-
- 229) Complete the following sentence: "We're _____ on a _____ project".
- A works / better
 - B working / new
 - C worked / good
-
- 230) Complete the following sentence: "Our courier _____ our goods _____".
- A deliver we / the Mondays
 - B delivered / at Mondays
 - C delivers / on Mondays
-
- 231) Complete the following sentence: "My company _____ sends me _____ Paris".
- A often / from
 - B frequently / to
 - C sometimes / before
-
- 232) If they _____ me the _____, I'll accept it
- A offering / jobs
 - B will offer / work
 - C offer / job
-
- 233) Complete the following sentence: "He was _____ in a car accident this weekend but fortunately it's nothing too serious".
- A damage
 - B injured
 - C blocked
-
- 234) Complete the following sentence: "The books _____ returned by the end _____ week".

- A were / on the
- B are / in the
- C will be/ of the

235) Complete the following sentence: "Last month a government spokesman told journalists that getting ____ to the protestors could be dangerous".

- A too closely
- B too close
- C close too much

236) Complete the following sentence: "I'm ____, ____ there's nothing to drink".

- A thirsty / for
- B thirst / and
- C thirsty / but

237) Complete the following sentence: "____ the animals go free.

- A Lie
- B Leave
- C Let

238) Which one is different?

- A happy/sad
- B beautiful/old
- C rich/poor

239) Complete the following sentence: "I didn't hear what Mary was _____"

- A telling
- B speaking
- C saying

240) Complete the following sentence: "____ the heavy rain, they went to the sea to get a break from the city".

- A In spite of
- B Although
- C Anyway

241) Complete the following sentence: "He thinks we _____ one day".

- A getting married
- B are marrying
- C will get married

242) Complete the following sentence: "Every morning, when the class starts, the teacher _____".

- A makes the appeal
- B calls the register
- C calls the students

243) Complete the following sentence: "Tom has an _____ the most fantastic lies".

- A capability of inventing
- B ability amazing to invent
- C amazing ability to invent

244) Complete the following sentence: "The question _____ this year by the committee".

- A has examined
- B is examining
- C is being examined

245) Complete the following sentence: "Charles doesn't work _____ Fridays or _____ weekends".

- A Until / at.
- B on /at.
- C At / in.

246) Complete the following sentence: "If you had been there, we _____ a good time".

- A could have
- B will had
- C would have had

-
- 247) Choose the best word or phrase to complete this sentence: "Several people ___ his suggestion and some emails were exchanged about this".
- A replied
 - B responded to
 - C told
-
- 248) Choose the correct phrase to complete this sentence: "The manager said that all personal telephone calls _____".
- A had to be paid for
 - B must have paid for
 - C might have to pay
-
- 249) Complete the following sentence: "How did it cost?"
- A much
 - B many
 - C well
-
- 250) Choose the best phrase to complete the question. "_____ to do the training program face-to-face or online?"
- A Is it cheaper
 - B Is cheap
 - C Cost less
-
- 251) Choose the best word to complete the question: "_____ do you like your job?"
- A Who
 - B What
 - C Why
-
- 252) Which one is different?
- A Germany
 - B England
 - C Italian
-
- 253) Complete correctly. "Oxford is not _____ London".
- A so big like
 - B as big as
 - C bigger then
-
- 254) Fill in the blank. "Because he is ..., we can't ... what course he will follow at any moment".
- A guilty; guess
 - B capricious; predict
 - C deleterious; foretell
-
- 255) Complete correctly. "When I finish the course, I _____ work in a software house".
- A could
 - B would likes
 - C C)would
-
- 256) Complete correctly. "Yesterday I _____ to the town centre to buy a present for my girlfriend"
- A have been going
 - B went
 - C had gone
-
- 257) Which one is different?
- A customer
 - B policeman
 - C teacher
-
- 258) Choose the correct sentence.
- A Is always so kind she
 - B Is she always so kind?
 - C Is always she so kind?
-
- 259) Complete correctly. " Who are _____ people over there?"

- A these
- B those
- C that

260) **Brave is the opposite of:**

- A afraid
- B ill
- C bad

261) **The novel I read was _____ as I expected".**

- A so through
- B as touching
- C touched

262) **Complete the following sentence: "Please ____ need any further information. I will be very pleased to provide it".**

- A let me know you if
- B if you let me know
- C let me know if you

263) **Complete the following sentence: "Philip has just left the office. In other words he's"**

- A up.
- B down.
- C out.

264) **Which word CANNOT be used as a synonym for prevents in the following newspaper headline? "Russia prevents plan to sell arms to African states".**

- A stops
- B blocks
- C helps

265) **Complete the following sentence: "Before leaving, check that you everything with you".**

- A have taken
- B was take
- C has taking

266) **Choose the correct answer: "How often do you walk your dog for a walk?"**

- A Three times a day.
- B He is 2 years old.
- C | yes, I like it.

267) **Choose the correct answer: "Whose are the glasses on the desk?"**

- A They're Mrs Smith's
- B It's Mrs Smith's
- C He's Mrs Smith

268) **Complete the following sentence: She is dark glasses to protect her eyes from the sun.**

- A taking
- B wearing
- C fitting

269) **Choose the right answer: "How old is Miss Davis, your English teacher?"**

- A He is 39.
- B They are 39
- C She is 39.

270) **Choose the right answer: "I feel cold."**

- A I shall wear a T-shirt
- B You was getting off your shirt
- C You should wear a sweater.

271) **Choose the word or group of words which best completes the following sentence. "I have to buy ...".**

- A a bread loaf
- B a loaf of bread
- C bread

-
- 272) The word "difficult" is:
A a noun
B an adjective.
C an adverb
-
- 273) Choose the alternative which best completes the following sentence. "Diabetes, _____, is sometimes caused by an antibody that destroys the pancreas cells producing this hormone".
A a serious disease in which the body cannot enough produce insulin
B a seriously disease in which the body cannot make enough insulin
C a serious disease in which the body cannot produce enough insulin
-
- 274) Complete the following sentence: "I'm really quite lost. _____ you _____ showing me how to get out of here?"
A Would / mind
B Would / be
C Might / minding
-
- 275) Complete the following sentence: "It usually _____ a lot in winter".
A rains
B go rain
C rain
-
- 276) Complete the following sentence: "I have lived in China _____ ten years".
A since
B for
C forward
-
- 277) Complete the following sentence: "This time tomorrow we _____ to New York".
A will be flying
B aren't flying
C flying
-
- 278) Complete the following sentence: "This summer is _____ last year".
A warmer of
B more warm of
C warmer than
-
- 279) Complete the following sentence: "She suggested I _____ him".
A to call
B calling
C call
-
- 280) Complete the question. "Could you tell me _____"
A how long it takes to get to Seattle?
B how long to get to Seattle it takes?
C how long does it take to get to Seattle?
-
- 281) Choose the best word or phrase to complete this sentence. " _____ left after the tourist office and you will see the Marine Hotel on the right".
A Go to
B Turn
C Turn on
-
- 282) Complete the following sentence: "I _____ really grateful if you could answer my question".
A would have been
B have been
C would be
-
- 283) Which is correct?
A He wishes he haven't left home.
B He wishes he hadn't left home.
C He wishes he didn't left home.

-
- 284) **Choose the correct answer: "Have you ever been in Naples?"**
A Yes I did.
B Yes I have.
C Yes I had.
-
- 285) **The nearest library is in Oxford Street. Go straight down here. Turn right at the traffic lights then take the second on the left. is:**
A an indication
B a suggestion
C an order
-
- 286) **Choose the best words to complete this sentence: "He is retired: he works ... more and hasn't got ... to do".**
A some/nothing
B no /anything
C none/something
-
- 287) **Complete the following sentence: "The company took shortly after the deal".**
A down
B up
C over.
-
- 288) **Which question is correct?**
A How the weather is in Milan?
B How does the weather in Milan?
C What's the weather like in Milan?
-
- 289) **Scegliere la traduzione esatta. Ho un lavoro più interessante adesso.**
A I have a work more interesting now.
B I have a more interesting work now.
C I have a more interesting job now.
-
- 290) **The word "time" is:**
A a noun
B an adjective.
C an adverb
-
- 291) **L'espressione "To be in hot water" significa:**
A morire di caldo.
B essere con l'acqua alla gola.
C essere nei guai.
-
- 292) **Choose the best phrase to complete this sentence: "Everyone ____ pay taxes".**
A don't have
B doesn't have
C has to
-
- 293) **Complete the following sentence: "Last May 17th was an ____ holiday. The 150th anniversary of any event only happens once!"**
A irregular
B unexpected
C unprecedented
-
- 294) **You read the following newspaper headline: "Get away for less". The article will be about...**
A buying a house.
B a low-cost travel offer.
C online trading.
-
- 295) **Complete the following sentence: "I went to the library to _____ a book".**
A lend.
B borrow.
C take.
-
- 296) **Choose the best answer for this question: Are you ready?**

- A Yes, I do.
- B No, I ready.
- C Yes, I am.

-
- 297) Complete the following sentence: " _____ you be so kind as _____ the window?"
- A Could / to open.
 - B Would / opening.
 - C Would / to open.
-
- 298) Complete the following sentence: "I knew you show up!"
- A Wouldn't
 - B Didn't.
 - C Wasn't.
-
- 299) Choose the best word to complete this sentence: "Our customers usually pay ____ bills promptly".
- A there
 - B their
 - C you're
-
- 300) Choose the best word to complete this sentence: "I always do my ____"
- A well.
 - B better
 - C best.
-
- 301) Choose the best word to complete this sentence: "Pedro Almodòvar is a film director from ____" .
- A the Spain
 - B Spanish
 - C Spain
-
- 302) Choose the best word or words to complete this sentence: "I want to become a judge so I am studying ____" .
- A the rights
 - B law
 - C right
-
- 303) Choose the best words to complete this sentence: "Tomorrow I have an appointment _____".
- A to have my hair cut.
 - B to cut my hair.
 - C to get cut my hair.
-
- 304) Choose the correct answer. How old is her sister?
- A He is 35.
 - B She is 35.
 - C No, she is not 35.
-
- 305) Complete the following sentence: "If you _____ the key, we wouldn't be locked out of the house".
- A wouldn't forget
 - B didn't forget
 - C hadn't forgotten
-
- 306) Complete the following sentence: Karen is rich _____ her cousin Kate is poor.
- A otherwise
 - B however
 - C hence
-
- 307) Complete the following sentence: "Working in the office _____ dealing with the public".
- A isn't as tiring as
 - B isn't tiring as
 - C is more tired than
-
- 308) Which one is different?
- A happy/sad
 - B beautiful/old
 - C expensive/cheap

-
- 309) Choose the correct form. "_____ do you get up so early for?"
A How
B What
C Why
-
- 310) Complete the following sentence: "I ___ going ___ my sister's house".
A am / at
B am / to
C are / in
-
- 311) The word "forever" is:
A a noun
B an adjective.
C an adverb
-
- 312) Complete the following sentence: "Where's Tom? He walked _____ because there is a long waiting time to see the doctor."
A out
B over
C off
-
- 313) Complete the following sentence: "She's extremely rich; ..., she's not snobbish".
A consequently
B however
C otherwise
-
- 314) Indicare la traduzione corretta: "Quanto costa quella borsa?"
A What cost that bag?
B How much is that bag?
C How high that bag?
-
- 315) Complete the following sentence: "You must buy the tickets. ..., we won't be able to see that play".
A Consequently.
B Otherwise.
C Although.
-
- 316) Complete the following sentence: "I _____ my eyes and I _____ a beautiful girl looking at me".
A open/ see
B opened / saw
C am opening /have seen
-
- 317) Complete the following sentence: "_____ is very much a part of her character".
A Helpful.
B Help.
C Helpfulness.
-
- 318) Come si legge in inglese 2021?
A twenty and twentyone.
B two, zero and twenty-first.
C two thousand twenty-first.
-
- 319) Choose the correct form. "Jane made a swift _____ from her illness".
A relief
B recovery
C repair
-
- 320) Complete the following sentence: "If we recycle all our paper, _____ more trees".
A we won't save
B we saved
C we will save
-
- 321) Complete the following sentence: "By that time my parents _____".

- A Will have been leaving.
- B Have left.
- C Will have left.

322) Complete the following sentence: "I wish it snow!"

- A Has.
- B Will.
- C Would

323) Fill in the blank. "Your new hairstyle really ... you".

- A suites
- B suits
- C enhances

324) Complete the following sentence: "We'll go to the park tomorrow, _____ permitting".

- A if weather
- B weather
- C if the weather

325) Choose the best word to complete this sentence: "Translation can be a lucrative full- or part-time _____".

- A job
- B employment
- C home

326) Complete the following sentence: "He didn't earn enough money. _____, his wife decided to get a job".

- A And.
- B Therefore.
- C Although.

327) Old is the opposite of:

- A bad
- B young
- C nice

328) Complete the following sentence: "Phil was not thirsty; ..., he drank five glasses of water".

- A consequently.
- B furthermore.
- C however

329) Complete the following sentence: "There _____ some grapes".

- A are
- B is
- C have

330) Choose the answer: "How wide is that bridge?"

- A It's 6 meter
- B It's 6 metres wide.
- C It' has 6 metres large.

331) I'm sorry but there _____ trains to London on Sunday night.

- A aren't
- B isn't any
- C aren't any

332) Choose the correct form. This is my sister, do you know _____ name?"

- A hers
- B her
- C his

333) Choose the best word or phrase to complete this sentence: Several people ___ his suggestion and some emails were exchanged about this.

- A replied
- B told
- C responded to

-
- 334) Choose the correct phrase to complete this sentence. "The manager said that all personal telephone calls _____".
- A might have to pay
 - B must have paid for
 - C had to be paid for
-
- 335) Fill in the blank. "I _____ your last letter over two months ago!"
- A receive
 - B was receiving
 - C received
-
- 336) Choose the best phrase to complete this question. "_____ to do the training program face-to-face or online?"
- A Is it cheaper
 - B Is cheap
 - C cost less
-
- 337) Choose the best word to complete this question: "_____ do you like your job?"
- A Who
 - B Why
 - C What
-
- 338) Which one is different?
- A on Monday
 - B on the afternoon
 - C at eight o'clock
-
- 339) Complete the following sentence: "Paul's coffee bar was _____ he decided to franchise it".
- A such successful as.
 - B So successful that.
 - C so successful than.
-
- 340) Complete the following sentence: "He believes you, ..."
- A Could she?
 - B Should he?
 - C Doesn't he?
-
- 341) Complete the following sentence: "Yesterday I _____ to the town centre to buy a present for my girlfriend".
- A have been going
 - B had gone
 - C went
-
- 342) Find the opposite of the word "sunny".
- A Cloudy
 - B Clear
 - C Raining
-
- 343) Complete the following sentence: "It's usually quiet here Sunday".
- A on
 - B in
 - C at
-
- 344) Complete the following sentence: "I _____ to go to the police station this morning".
- A have
 - B must
 - C should
-
- 345) Complete the following sentence: "All the delegates were asked to _____ the meeting".
- A assist
 - B assist to
 - C to take part in
-

- 346) His biggest achievement was when he won a place at Oxford university. "Achievement" means _____ .
A success
B ability
C objective
-
- 347) Complete the following sentence: "Large factories are _____ to produce several models".
A able
B Experiencing.
C expert.
-
- 348) Complete the following sentence: "The London underground is far bigger _____ to Rome's".
A confronted
B compared
C in front of
-
- 349) In England, the money you borrow to buy a house is called:
A fee
B mortgage
C contract
-
- 350) Complete the following sentence: "She seems _____ at the moment".
A to sleep
B being asleep
C asleep
-
- 351) Complete the following sentence: "The traffic is so bad nowadays that it's sometimes faster to move _____ foot".
A with
B by
C on
-
- 352) Choose the correct sentence:
A The teacher broken the chalk on the blackboard
B The teacher breaks the chalk on the blackboard
C The teacher breaking the chalk on the blackboard.
-
- 353) Complete the following sentence: "The baby's crying. It _____ be hungry".
A must
B may
C can
-
- 354) Complete the following sentence: "She's foreign so she _____ not understand English".
A do
B might
C can't
-
- 355) Complete the following sentence: "You can stay out late that you go with Tom".
A when.
B however.
C provided.
-
- 356) Complete the following sentence: "The President has just announced his"
A pain.
B regretful.
C resignation.
-
- 357) Complete the following sentence: "This morning George tennis since 10 o'clock".
A had played.
B have played.
C has been playing.
-
- 358) Choose the best word or words to complete the question: Who _____ this afternoon? I heard that someone was looking for me.

- A rang
- B does ring
- C rung

359) Complete the following sentence: "There's no point going back now".

- A In.
- B At.
- C Up.

360) Choose the correct sentence.

- A On Sunday John and Anne get up at ten o' clock.
- B On Sunday John and Anne getting up at ten o' clock.
- C On Sunday John and Anne gets up at ten o' clock.

361) Complete the following sentence: "The weather was terrible. ..., we decided to delay our trip".

- A Therefore.
- B Besides.
- C And.

362) Complete the following sentence: "She felt _____ when she first arrived because she had to talk to".

- A Lone / no one.
- B Lonely / nobody.
- C Alone / somebody.

363) Which number is written correctly?

- A Three thousand two hundred and forty two.
- B Three thousand two hundred and forty two.
- C Three thousands and two hundreds and forty two.

364) Indicare la corretta traduzione . "I tried to come, but I couldn't make it.

- A Sono venuto lo stesso, anche se non potevo.
- B Ho provato a venire, ma non ce l'ho fatta.
- C Volevo proprio venire, ma non ce l'ho fatta.

365) Choose the best word to complete this sentence: I ____ haven't seen the film that won the Cannes Film Festival this year.

- A again
- B yet
- C still

366) Complete the following sentence: "How you are here?"

- A Go.
- B Have
- C Come.

367) The word "noun" is:

- A a noun
- B an adverb
- C an adjective.

368) Complete the following sentence: "You can't answer all the questions, ..."

- A Can't you?
- B Can you?
- C Will you?

369) Choose the right answer: "I'm hot."

- A You getting off your shirt
- B Take off your sweater
- C You wear a T-shirt

370) Complete the following sentence: "As my sister is afraid of flying, she always travels _____ train".

- A on
- B by
- C in

-
- 371) Complete the following sentence: : "My shoes are _____ the bed".
A above in
B under
C below of
-
- 372) Choose the correct form. "He shouldn't do it, ..."
A doesn't he?
B can you?
C should he?
-
- 373) Choose the correct form. "You've been working all day. You _____ be very tired".
A must
B could
C should
-
- 374) Which one is the correct sentence?
A We seen a wonderful show yesterday.
B We looked at a wonderful yesterday.
C We saw a wonderful show yesterday.
-
- 375) Complete the following sentence: "I _____ my son _____ whatever he likes".
A let / do
B let/ does
C let's/ done
-
- 376) Choose the correct form. "I appreciate your _____ the time to meet with me today".
A taking
B to take
C take
-
- 377) Choose the correct form. " If I see Mary tomorrow, I _____ call you".
A did
B do
C will
-
- 378) Choose the correct form. "Silvia is spanish but _____ passport is italian".
A their
B his
C her
-
- 379) Choose the correct form. "The average _____ for a person of your age is about 1.60 metres".
A lenght
B height
C weight
-
- 380) Complete the following sentence: " _____ Tom says is very funny".
A What
B When
C How
-
- 381) Complete the following sentence: "These slides are _____ that you have ever produced".
A better
B the best
C so good
-
- 382) Complete the following sentence: "There are two films on tonight: _____ would you like to see?"
A What one
B Whatever
C Which one
-
- 383) Complete the following sentence: "He will be in Rome _____ time, but we have no time to see him".
A no
B some
C any

-
- 384) Complete the following sentence: "My husband works _____ a teacher of History in a middle school".
A in
B as
C like
-
- 385) Complete the following sentence: "I wish it _____. rain!"
A had.
B would
C will.
-
- 386) Choose the best phrase to complete the question: "Could you ____ date of birth please?"
A say me your
B tell to me
C tell me your
-
- 387) Complete the following sentence: "As it was getting late, we _____ to go".
A decided
B got decided
C took a decision
-
- 388) Choose the best word to complete the question: "_____ you like to come to Scotlabd with me next month?"
A Would
B Will
C Do
-
- 389) Complete the following sentence: "He's been out three days in a row. He _____ be here today or the boss will have his head".
A will better
B would be
C had better
-
- 390) Complete the following sentence: "She got a different pizza to mine, so I tried ____"
A his.
B mine.
C hers.
-
- 391) Complete the following sentence: "In a multi-cultural school, there _____ be students whose nationality status prohibits their ability to travel abroad".
A must not
B may
C need
-
- 392) Complete the following question: "When did you last _____ mr Reeves?"
A meet
B met
C meeting
-
- 393) Complete the following sentence: "We expected about 20 guests but there were _____ people".
A some
B another
C more
-
- 394) Complete the following sentence: "I see no point _____ any longer".
A in waiting
B that I wait
C waiting
-
- 395) Complete the following sentence: "Bob frightened you. _____".
A Will you?
B Doesn't he?
C Didn't he?
-
- 396) Complete the following sentence: "You can speak English well,____"

- A Can you?
- B Doesn't he?
- C Can't you?

397) Complete the following sentence: "She couldn't arrange that, ..."

- A Could she?
- B Won't you?
- C Did he?

398) Complete the following sentence: "You won't tell him, ____"

- A Will you?
- B Doesn't he?
- C Can't you?

399) Fill in the blank. "I haven't had time to speak to Mr. Reeve...."

- A Yesterday.
- B Today
- C At lunchtime.

400) Choose the best answer. "When do you play tennis?"

- A Saturday the afternoon
- B On Saturday afternoons
- C On the afternoons of Saturday

401) Complete the following sentence. "I've been trying ____ with him all week, but he's never in the office and his mobile always seems to be busy."

- A to get in touch
- B to answer
- C contacting

402) Choose the correct form. "Hamlet is one of the best plays Shakespeare ____" .

- A never wrote
- B ever wrote
- C written never

403) What does the word "effort" mean?

- A guadagno
- B successo
- C sforzo

404) Complete the following sentence. "Don't panic! I'll tell you exactly what to do when ... here!"

- A you got
- B you get
- C you'll get

405) Choose the correct form. "Each of the items on the ____ for our meeting today will be discussed thoroughly".

- A agenda
- B order
- C calendar

406) Complete the following sentence: "Mary said she _____ in Australia".

- A had been.
- B has being.
- C was being.

407) Indicare la traduzione esatta: "Il video dura un quarto d'ora":

- A The video is during a quarter of a hour
- B The video go on for a quarter of an hour
- C The video lasts a quarter of an hour.

408) Complete the following sentence: "Who is ..., Mary or Jane?"

- A prettier.
- B more pretty.
- C prettiest.

-
- 409) Complete the following sentence: "It was a windy and rainy night. ____, I decided to go out".
A Even if.
B Nevertheless.
C Otherwise.
-
- 410) Complete the following sentence: "That house isn't big enough for us, and ____, it's too expensive".
A although
B hence
C furthermore
-
- 411) Indicare la traduzione corretta: "He is never on time":
A Non è mai puntuale
B Non lo vedo da molto tempo
C Arriva sempre al momento giusto
-
- 412) Complete the following sentence: "She's a very selfish person who doesn't show any consideration ____ others".
A in
B on
C for
-
- 413) Complete the following sentence: "When we said: «the time is over», the young girl glanced quickly ... her watch".
A for.
B in
C at
-
- 414) Complete the following sentence: "There's a fine ... 25 cents a day ... overdue library books".
A of, on
B of, at
C for, in
-
- 415) Complete the following sentence: "You are ____ teacher I've ever had".
A the best
B best
C better
-
- 416) Complete the following sentence: "The congress passed a vote of ... against the president".
A sensor
B censure
C census
-
- 417) Choose the best phrase to complete this sentence: "Working in the office ____ dealing with the public".
A is as tired than
B is more tired than
C isn't as tiring as
-
- 418) Fill in the blank. "Mary is completely absorbed ... the book she is reading".
A with
B in
C by
-
- 419) Choose the best word or phrase to complete this sentence: I like ____ news on the radio in the morning".
A to listen
B listening
C listening to the
-
- 420) Complete the following sentence: "I usually enjoy to training courses".
A to go.
B go.
C going.

-
- 421) Complete the following sentence: "An important spice is made from ... seeds".
A fenny.
B fennel.
C feral.
-
- 422) Complete the following sentence: "All boarding passes to the flight attendant before boarding".
A Must have given.
B Must be given.
C Must give.
-
- 423) Complete the following sentence: "The horse's ... needs to be brushed daily".
A mane
B mine
C hof
-
- 424) Choose the correct form. "When did you last _____ mr Reeves?"
A meeting
B meet
C met
-
- 425) Fill in the blank. "Jane broke her arm and had _____ it put in plaster".
A to be
B to go
C to have
-
- 426) Choose the correct verb to complete the indirect sentences. Mary: «I love chocolate.»
A loves
B «Mary said she ... chocolate.»
C love.
-
- 427) Complete the following sentence: "I see no point _____ any longer":
A waiting
B that I wait
C in waiting
-
- 428) To be hit by a car or bus is the same as to be ... down.
A knocked
B crash.
C marked.
-
- 429) To reduce the amount you do something is the same as to ... down.
A tear.
B cut
C fall
-
- 430) To fail to do something when someone is relying on you is the same as to ... down someone.
A let.
B settle.
C quieten.
-
- 431) Complete the following sentence. "I am so tired today because I ... up early".
A got
B cheer.
C sleep.
-
- 432) It was a windy and rainy night. ..., I decided to go out.
A Even if.
B Nevertheless.
C Otherwise.
-
- 433) I'm afraid. I _____ your invitation.
A wouldn't accept.
B can't accept.
C shouldn't to accept.

-
- 434) I ____ love another cup of coffee, but I have ____ had enough for today!
A will / yet
B am / already
C would / already
-
- 435) You'd better take a taxi. ..., you'll arrive late.
A Furthermore.
B Otherwise.
C However.
-
- 436) All the poems you selected are good, but only the ... one will get the prize.
A better
B best
C good
-
- 437) My italian friend will be in London _____ time, but I have no time to see him.
A some
B any
C in
-
- 438) Jack wasn't tired. ..., he took a nap.
A Hence
B Otherwise
C Nevertheless.
-
- 439) I can't open the door because I've lost _____ keys.
A their
B its
C my
-
- 440) Choose the correct sentence.
A He go to Spain every summer
B He goes to Spain every summer
C He is go to Spain every summer
-
- 441) The kids didn't study. ..., they failed the course.
A Nonetheless.
B Otherwise.
C Therefore.
-
- 442) What does the word "accident" mean?
A malessere
B sfortuna
C incidente
-
- 443) Complete the following sentence: "The neighbourhood isn't very interesting. I like the house, ..."
A though.
B thus.
C moreover.
-
- 444) Complete the following sentence: "We live in the same building; ..., we hardly see each other".
A furthermore.
B however
C therefore.
-
- 445) Complete the following sentence: "We have plenty of money and workers; ..., we hope to finish the house remodelling soon".
A thus.
B anless.
C whereas.
-
- 446) Complete the following sentence: "Riding a horse is not ... riding a bike".
A as easy as
B so easy then
C more easy than

-
- 447) Complete the following sentence: "This exercise is ... than the previous one".
A harder
B the most hardest.
C the harder.
-
- 448) Complete the following sentence: "These computers are ... than those".
A the newer
B newer
C so newer
-
- 449) What does the word "neighbour" mean?
A vicino di casa
B parente
C concittadino
-
- 450) Fill in the blank. "The school will be closed until ... notice".
A farthest
B last
C further
-
- 451) Fill in the blank. "The ___ famous date in English history is 1066 AD".
A most
B very
C too
-
- 452) Fill in the blank. "I enjoy reading this new magazine. ..., it has good -articles".
A Nevertheless.
B Moreover.
C In spite of.
-
- 453) Fill in the blank. "___ the beginning ___ his career he had very little success".
A On, at.
B At, of
C In, of.
-
- 454) Fill in the blank. "I _____ swim when I was four years old".
A be able
B can
C could
-
- 455) Fill in the blank. "I know _____ words in German".
A any
B a few
C many
-
- 456) Fill in the blank. "The _____ of the allied troops in Normandy took place on June 6, 1944".
A land
B landing
C lander
-
- 457) Choose the best words to complete the sentence. "I reached him _____ e-mail the _____ day".
A in/tomorrow
B by / next
C for/ near
-
- 458) Fill in the blank. "I speak Russian very _____".
A bad
B worse
C badly
-
- 459) Fill in the blank. "I _____ this is their house but I'm _____ sure".
A am thinking/ no
B thunk/ no
C think / not

-
- 460) Complete the following sentence. "It ... yesterday".
A wasn't raining
B didn't rain
C hadn't rained
-
- 461) Complete the following sentence. "I _____ never _____ in a marathon".
A have / run
B having /run
C am / ran
-
- 462) Complete the following sentence. "I _____ playing theatre _____ three years".
A have been / for
B was been / in
C had / during
-
- 463) Complete the following sentence: "I _____ call my wife now".
A must
B ought
C am musting
-
- 464) Complete the following question: "Would you say this place is worth _____?"
A being seen
B seeing
C saw
-
- 465) Complete the following sentence: "I _____ it if it _____ good".
A wouldn't have eaten / hadn't been
B don 't want eat /hasn't
C would eat /is
-
- 466) Complete the following sentence: "I _____ too much so I decided I _____".
A was smoking / would stop
B smoked / will stop
C having smoke / must stop
-
- 467) Complete the following sentence: "I know Mr. Jones, but I don't know _____ wife".
A own
B her
C his
-
- 468) Complete the following sentence: "I have not _____ your letter _____".
A reading / yet
B reads / already
C read / yet
-
- 469) Complete the following sentence: "I am really tired _____ playing football. I think I'll _____ at home".
A over / be
B when / staying
C after / stay
-
- 470) Complete the following sentence: "I am very happy _____ won the first prize. However, I _____ give some money for charity!"
A have / will do
B to have /will have
C to have / will
-
- 471) Complete the following sentence: "I lost the last flight, so there _____ nothing _____ done".
A was / to be
B were / be
C is / will
-
- 472) Complete the following sentence: "I _____ playing cards but I just _____ want to do it now".

- A loves / do not
- B is loving / not
- C love / do not

473) Choose the correct form. " _____ twins were missing".

- A Neither
- B Both
- C Either

474) Choose the correct form. Visitors are handed out leaflets upon _____.

- A leavings
- B left
- C leaving

475) Complete the following sentence: "This ticket entitles you ... a free meal ... our new restaurant".

- A to/ in.
- B in/ to.
- C to/ for.

476) Complete the following question: "Please Kate, could you me some money until tomorrow?"

- A lend
- B get
- C borrow

477) Which is the meaning of: " It's pouring with rain"?

- A Piove a dritto
- B Sta finendo di piovere
- C Sta iniziando a piovere

478) Fill in the blank. "My brother.....spent all his money".

- A yet
- B already
- C still

479) Complete the following sentence: "We are lighter on the moon because the gravity is _____".

- A very strong
- B stronger
- C weaker

480) Fill in the blank. "The scenery was ... beautiful, I had to take a photograph".

- A such
- B suddenly
- C so

481) What does the verb "to give up" mean?

- A rinunciare
- B capire
- C circondare

482) Choose the correct alternative.

- A Susan has much money than Mary but less of Helen
- B Susan has more money than Mary but less than Helen
- C Susan has more money than Mary but less than Helen

483) Fill in the blank. "Andrew is ... his father".

- A taller than
- B more taller than
- C taller then

484) Choose the correct answer: "How did you learn to drive"?

- A My father taught me.
- B My father teach to me
- C My father teach me

485) Fill in the blank. "Have you ever read ... book about cooking?".

- A not
- B some
- C any

486) **Fill in the blank. "I hate books: I have got ...".**

- A none
- B no
- C no one

487) **Complete the following sentence: "The burglars got into the house the window".**

- A is breaking
- B to breaking
- C by breaking

488) **Complete the following question: "What were you doing when we arrived?"**

- A I were talking to my mother.
- B you was talking to my mother.
- C I was talking to my mother.

489) **Fill in the blank. "... are you leaving for the summer holidays?".**

- A Since
- B When
- C If

490) **The adjective "good" becomes as an adverb**

- A better
- B well
- C quietly

491) **Choose the best answer. "What were you doing at school so late"?**

- A I am preparing my lessons..
- B I was arranging my lessons.
- C I prepare my lessons.

492) **Fill in the blank. "... is their telephone number?".**

- A Who
- B What
- C How

493) **Complete the following sentence. "He ... see it".**

- A couldn't
- B wants
- C hasn't

494) **Fill in the blank. "... won't they be able to join us?".**

- A Which
- B What
- C Why

495) **Complete the following sentence: "I __ Tom and Susan at the airport a few weeks ago, _____ to Dublin".**

- A met /they were going
- B meet / they was going
- C were meeting / you are going

496) **Find the opposite of the word "talkative".**

- A Tight-lipped
- B Ignorant
- C Garrulous

497) **Fill in the blank. "To be late is always ... to be on time".**

- A worsen than
- B worst than
- C worse than

-
- 498) Fill in the blank. "The weather was terrible. ____, we decided to delay our trip".
A And.
B Therefore.
C Besides.
-
- 499) Fill in the blank. "____ do you make a cake? I have been wondering".
A Who
B How
C Which
-
- 500) Complete the following sentence: "The weather is lovely,?"
A | don't you?
B hasn't it?
C isn't it?
-
- 501) Fill in the blank. "Here's the boy ... helped me".
A which
B who
C whom
-
- 502) Which is the past participle of the verb 'to fight'?
A fought
B fought
C flowd
-
- 503) Complete the following sentence: "I _____ at home _____ 8 a.m. and 2 p.m".
A were'nt/ among
B had being/ from
C wasn't / between
-
- 504) Complete the following sentence: "I have ____ wanted to live ____".
A always / in Rome
B forever/ to Rome
C ever / at Rome
-
- 505) Complete the following sentence: "I don't want to _____ early tomorrow. I need to sleep".
A wake out
B waking down
C wake up
-
- 506) Complete the following sentence: "I forgot my raincoat ____ I got wet".
A than
B so
C although
-
- 507) Complete the following sentence: "I didn't have any breakfast _____ I didn't have time".
A for
B because
C when
-
- 508) What does the word "crowd" mean?
A folla
B corona
C corvo
-
- 509) Complete the following sentence: "Yesterday to go out of my office for some minutes" .
A I was to
B I had to
C I have to
-
- 510) Complete the following sentence: "You must buy the tickets; ____, we won't be able to see that play".
A Besides.
B Consequently.
C Otherwise.

-
- 511) Complete the following question: "Have you ever been to the USA?"
A Yes I did.
B Yes I have.
C Yes I had.
-
- 512) Complete the following sentence: "The world problems are getting ... and ... difficult to solve".
A much/ much.
B more/ more.
C more/ most.
-
- 513) Fill in the blank. "Tom broke his arm and had to have it put ... plaster".
A upon
B in
C into
-
- 514) Complete the following sentence: "We live in the same building. _____, we hardly see each other".
A However.
B Therefore.
C Consequently
-
- 515) Complete the following sentence: "I don't like _____ clothes when I go shopping".
A to try
B trying
C trying on
-
- 516) Choose the correct sentence.
A I haven't seen Bob for a long time
B I don't see Bob since a long time
C It's a long time I did not see Bob
-
- 517) Choose the best word to complete this sentence: "Do you think that the government will ever _____ back capital punishment?"
A bring
B take
C hold
-
- 518) Choose the best word to complete this sentence: "_____ I like Susan personally, I don't think she is the person best qualified for the job".
A Nevertheless
B Although
C Despite
-
- 519) He threw away a chance to go to Japan.
A Ha avuto l'occasione di andare in Giappone
B Ha invitato qualcuno ad andare in Giappone.
C Ha sprecato l'occasione di andare in Giappone.
-
- 520) Choose the best word or phrase to complete this sentence: "John Baxter sent a report this afternoon from _____ the disaster scene".
A in front
B close
C next
-
- 521) Complete the following sentence: "The door of the plane is open. Is everybody ready? Ok . _____ jump!"
A Let.
B Let's.
C Let's go.
-
- 522) What does the verb "to go back" mean?
A tornare indietro
B voltare le spalle
C regredire
-
- 523) Choose the correct sentence.

- A The mission was well planned, so everything went smoothly.
- B The mission was well planned, as soon as everything went smoothly.
- C The mission was well planned, everything went smoothly.

524) What is the meaning of the phrasal verb in the following sentence?

- A Saw.
- B «John looked up the date in the almanac».
- C Knew.

525) Fill in the blank. "I can't sleep. It's _____ hot".

- A most
- B too
- C much

526) Fill in the blank. " _____ the beginning _____ his career he had very little success".

- A At /of
- B In, of
- C On, at

527) Fill in the blank. " He forgot to consider the rise ... the cost ... living".

- A in/ of.
- B of/ in.
- C of/ for.

528) Choose the correct sentence.

- A I run upstairs fast so I could
- B I went running so fast as I could upstairs
- C I ran upstairs as fast as I could

529) Complete the following sentence: "I've never _____ a building like this before".

- A saw.
- B see.
- C seen.

530) To have one's head in the clouds means:

- A Avere la testa dura
- B Avere la testa nelle nuvole
- C Essere una testa calda

531) Complete the following sentence: "Please, don't cry, you to be unhappy".

- A I want
- B I can't bear
- C I will bear

532) What does the word "army" mean?

- A guerra
- B arma
- C esercito

533) What does the word "committee" mean?

- A commissario
- B comitato
- C commissione

534) Fill in the blank. "... is your mobile number?".

- A Who
- B How
- C What

535) Fill in the blank. "... do you make a cake? We have been wondering".

- A Will
- B How
- C What

536) Fill in the blank. "... can I study with such a noise? It's impossible!".

- A How
- B What
- C Who

537) Choose the best word or phrase to complete this sentence: I like ____ news on the radio in the morning.

- A listening
- B listening to the
- C to listen

538) Choose the words to complete sentence: "I really enjoyed ____ when I went ____ Rome".

- A mine / in
- B myself / to
- C me / at

539) Which one is wrong?

- A buy/bought
- B take/taked
- C want/wanted

540) The word "suddenly" is:

- A an adjective.
- B a noun
- C an adverb

541) Indicare la corretta traduzione. "Mary texts her boyfriend every day":

- A Mary non risponde ai messaggi del suo ragazzo.
- B Mary manda SMS al suo ragazzo tutti i giorni.
- C Mary riceve messaggi dal suo ragazzo ogni giorno.

542) What does expression "To be in time" mean?

- A Anticiparsi
- B Essere puntuale
- C Essere fuori tempo

543) Complete the following sentence: "The initiative was successful ____ the shortage of funds".

- A in spite of
- B although
- C by virtue of

544) Complete the following sentence: "Our institute ____ extra courses of French, Spanish and German since 2000".

- A offered
- B offers
- C has offered

545) Fill in the blank. "I always go to grandparents' house __ lunch __ Christmas Day".

- A by /in
- B for /at
- C in /to

546) Complete the following sentence: "Yoga is supposed _____ a good exercise to reduce emotional stress".

- A being
- B be
- C to be

547) Choose the correct sentence.

- A Dolphins are animals a much intelligent.
- B Dolphins are very intelligent animals.
- C Dolphins are many intelligent animals.

548) Choose the correct sentence.

- A Do a good trip
- B Have a good trip!
- C Having a good trip!

-
- 549) **Choose the correct sentence.**
A Never in all my life I am meeting such a lovely people.
B Never in all my life I meet such a lovely people.
C Never in all my life I met such a lovely people.
-
- 550) **Find the opposite meaning of "double".**
A single
B twice
C pair
-
- 551) **Choose the alternative which best completes the following sentence. "Diabetes, ..., is sometimes caused by an antibody that destroys the pancreas cells producing this hormone".**
A a serious disease in which the body cannot enough produce insulin.
B a serious disease in which the body cannot produce enough insulin.
C a seriously disease in which the body cannot make enough insulin.
-
- 552) **Choose the correct form. "The film I want to see _____ at the Plaza".**
A is showing
B are
C are showing
-
- 553) **Fill in the blank. "He forgot to consider the rise ... the cost ... living".**
A of/ in.
B in/ of.
C of/ for.
-
- 554) **What does the word "press" mean?**
A stampa
B pressione
C presso
-
- 555) **Choose the correct translation: "To be in high spirits".**
A Essere una persona di spirito.
B Essere di buon umore o sicuri di sé.
C Avere spirito di adattamento.
-
- 556) **Fill in the blank. "There aren't _____ children in the park".**
A lot
B any
C some
-
- 557) **Choose the correct sentence.**
A The office were moved in a new apartment on 11th street.
B The office had moved to a new apartment on 11th street.
C The office was moved to a new apartment on 11th street.
-
- 558) **Choose the correct form. "For _____ information, contact the center.**
A nearer
B closer
C further
-
- 559) **Choose the correct form. "What _____ for a living?"**
A he is doing
B he does
C does he do
-
- 560) **Choose the correct sentence.**
A None of them are of much use in practical life
B None of they is of very use in practical life.
C None of them is of much use in practical life.
-
- 561) **Choose the correct sentence.**

- A I have learned that it's better to be proactive than to have regrets.
- B I have learned that its better to be proactive than to have regrets.
- C I have learned that its better to be pro-active than to have regrets.

562) Complete the following sentence: "I want to the store".

- A You'd go.
- B You to go.
- C Who you go.

563) Complete the following sentence: "The main focus of trade unions is to organize, maintain or improve the conditions of the workers' _____".

- A employment
- B employee
- C employer

564) Complete the following sentence: "Where are you going? The staff meeting hasn't finished ____".

- A already
- B yet
- C just

565) Which adjective meant opposite of "good"?

- A nice
- B bad
- C hot

566) Choose the correct sentence:

- A Tom has won the lottery
- B Tom has winned lottery
- C Ton is winner lottery

567) Indicare la traduzione corretta: "Studio inglese da cinque anni".

- A I have studied English for five years
- B I am studying English from five years
- C I have studied English five years ago

568) Choose the correct sentence:

- A He ran, but he couldn't catch the bus.
- B He ran, but he couldn't carry the bus.
- C He ran, but he couldn't bring the bus.

569) Which adverb meant opposite of "occasionally":

- A sometimes
- B never
- C frequently

570) Indicare la traduzione corretta: "Come stai?" "Bene, grazie."

- A What are you? "I'm good, thanks".
- B I'll fine, thanks. I fine, thanks".
- C How are you? "I'm fine, thanks".

571) Choose the best word to complete this sentence: "Ennio Morricone was a _____".

- A composer of Italy
- B italian composer
- C composer to Italy

572) The adjective "ancient" is the opposite of:

- A bad
- B modern
- C old

573) Choose the correct form. "He is spanish but _____ passport is italian".

- A their
- B her
- C his

-
- 574) The word "remake" is:
A an adverb.
B a verbs.
C a noun.
-
- 575) Complete the following sentence: "We _____ the project a month ago, but we are still in the middle of it".
A must have finished
B needed finishing
C should have finished
-
- 576) Complete the following sentence: "Tom goes to Sidney _____".
A two times in the year.
B two time for year.
C twice a year.
-
- 577) Complete the following sentence: "The BBC _____ throughout the world".
A receives
B presents
C broadcasts
-
- 578) Choose the correct alternative. "The child burst at tears after fall down".
A The child bursted in tears after falling down
B The child burst in tears after has fallen down
C The child burst into tears after falling down
-
- 579) Fill in the blank. "This is by far _____ coffee I have ever had!".
A the worse
B the most bad
C the worst
-
- 580) Complete the following sentence: "Chinese is _____ language in the world".
A the more spoken
B the least spoken
C the most spoken
-
- 581) Fill in the blank. "Kilimanjaro is _____ mountain in Africa".
A the highest
B more high
C the tallest
-
- 582) Fill in the blank. "You're _____ friends of all".
A the nicer
B the most nice
C the nicest
-
- 583) The student succeeded in passing the examination. The verb succeeded means:
A è riuscito
B non è riuscito
C potrebbe riuscire
-
- 584) Fill in the blank. "More people live in Rome ...".
A than in Milan
B then in Milan
C which in Milan
-
- 585) Fill in the blank. "Mrs Smith is ... teacher in the school".
A the better
B the best
C better
-
- 586) Choose the best word or words to complete this sentence: "He want to become a engineer so he is studying _____".

- A by engineer
- B engineering
- C in engineering

587) Complete the following sentence: "You will help me to do the dishes, _____"

- A could she?
- B should he?
- C won't you?

588) Complete the following sentence. "..... the TV, it's time to go to bed".

- A Switch off
- B Switch on
- C Spent off

589) Fill in the blank. "Laura is studying at the moment. _____ disturb her!".

- A Don't
- B You don't have to
- C You needn't

590) Complete the following sentence. "The organisation ... together countries ... the principles of the market economy".

- A relieves; promoting
- B brings; sharing
- C removes; rejecting

591) What does the verb "get away" mean?

- A andare via
- B tornare indietro
- C ripetere

592) Complete the following sentence. "She very happy today".

- A doesn't seem
- B don't seem
- C isn't seeming

593) Fill in the blank. "Please, at you little brother".

- A take a look
- B takes looking
- C take ashore

594) Complete the following dialogue. "..... my history book?" "Yes, it's here on my desk".

- A Having you see
- B Have you seen
- C Did you had seen

595) Complete the following sentence. ".. ... Victoria when you meet her, she is very nice".

- A You won't like
- B You'll like
- C You are liking

596) Complete the following sentence. "The room is very dirty! I can't stand it. _____"

- A You have clean immediately
- B You to must clean it immediately
- C You must clean it immediately

597) Complete the following sentence: "We have finished our homework and right now" .

- A we' ve just relaxed
- B we just relaxing
- C we are just relaxing

598) Complete the following question. "Howhis name?"

- A do you spell
- B are you spell
- C you spell

-
- 599) **Choose the best words to complete the sentence. "I went running ____ I could upstairs"**
A so fast as
B so faster
C fasting as
-
- 600) **Complete the following sentence. "I really ... any interesting plays lately".**
A saw
B didn't see
C haven't seen
-
- 601) **Complete the following question. "_____ money have you got?"**
A What many
B How much
C How many
-
- 602) **Find the opposite meaning of "guilty".**
A ingenious
B innocent
C clean
-
- 603) **Fill in the blank. "... do you feel today?".**
A How like
B Why
C How
-
- 604) **Fill in the blank. "... is the airport from the hotel?". "Just 10 km".**
A How far
B How much
C How long
-
- 605) **Complete the following sentence: "If your data base needs _____ , contact my friend's company".**
A updating
B to update
C updating
-
- 606) **Complete the following sentence: "The day before yesterday at home".**
A he have been
B he was
C he were
-
- 607) **Choose the correct sentence.**
A I am spending Christmas with my family in Italy.
B I spent Christmas over my family in Italy.
C I spend Christmas with my family in Italy.
-
- 608) **Complete the following sentence: "Why don't you ____ with me to New York?"**
A coming
B come
C came
-
- 609) **Complete the following sentence: "My sister _____"**
A don't like traveling
B doesn't like to travel
C wasn't to travel
-
- 610) **Find the opposite meaning of "native".**
A dead
B national
C stranger
-
- 611) **Choose the correct sentence.**
A The lamp is hanging over the table.
B The lamp is hanged on the table.
C The lamp is on the table.

-
- 612) **Choose the correct translation: "Volevo chiamarti prima, ma mi sono addormentato".**
A I will to call earlier, but I fell asleep.
B I have call earlier, but I fell asleep.
C I meant to call earlier, but I fell asleep.
-
- 613) **Complete the following sentence: "I think she _____ to her party".**
A will invite me
B wills invite me
C will to invite I
-
- 614) **Choose the correct sentence. "Mi ha fatto capire che avevo torto".**
A He got me understand that I was wrong.
B He got to me understood I was wrong.
C He got me to understand that I was wrong.
-
- 615) **Choose the correct sentence. "Sono sempre più entusiasta di questo progetto".**
A I'm more and more enthusiastic about this project
B I'm most enthusiastic about this project
C I'm more enthusiastic about this project
-
- 616) **What does the word "race" mean?**
A razzia
B corsa
C razza
-
- 617) **One molecule of pure water is composed _____ two hydrogen atoms and one oxygen atom.**
A from
B by
C of
-
- 618) **Complete the following sentence: "She wanted to give her baby a natural ... at home instead of in the hospital".**
A born
B borning
C birth
-
- 619) **Completes the following sentence. "The audience had mixed feelings ... the film".**
A about
B with
C on
-
- 620) **Completes the following sentence. "Excuse me, where is ... bookshop?"**
A the near.
B the nearest
C the nearer.
-
- 621) **Fill in the blank. "I want to read the letter ... lunch".**
A behind
B afterwards
C before
-
- 622) **Fill in the blank with the right word. "The police car disappeared ____ the corner".**
A round
B across
C below
-
- 623) **There were a lot of people shop: it was very crowded.**
A over the
B in the
C on the
-
- 624) **Complete the following sentence. "At the dinner party, Helen sat ... Peter".**
A over to
B upon to
C next to

-
- 625) **Fill in the blank "What does the verb "get over" mean?"**
A salire
B superare
C tornare
-
- 626) **Choose the group of words which best completes the following sentence. "... to get to Trafalgar Square?". "About 20 minutes".**
A How long does it take
B What long does it take
C How much take we
-
- 627) **Fill in the blank. "... were you born?". "I was born in 1975".**
A When
B Why
C Where
-
- 628) **Fill in the blank. "... are you leaving for Spain?".**
A When
B Which
C Where
-
- 629) **Fill in the blank. "She explained to us ... to arrive there".**
A how
B which way
C in what way
-
- 630) **Fill in the blank. "... are you coming back from France?".**
A Because
B When
C Where
-
- 631) **Fill in the blank." _____ you yesterday? I couldn't find you!**
A Where was
B Were where
C Where were
-
- 632) **Fill in the blank. "The house on the corner,owners are away, has been damaged by the fire".**
A which
B whose
C where
-
- 633) **He ... the successful director of a luxury hotel for over five years.**
A is
B was
C has been
-
- 634) **Fill in the blanks. "... is your father ...?".**
A Why; likes
B What; like
C Where; liking
-
- 635) **Choose the right answer. "Are you thirsty, Grace?"**
A Yes, can I have an orange juice, please?
B Oh thank you, I am very hungry!
C No, thanks. I don't like it.
-
- 636) **Complete the following sentence: "My father wants to know _____."**
A how much that car is
B how many is that car
C how that car is much
-
- 637) **Complete the following sentence: I _____ really grateful if you could answer my question.**

- A am
- B would be
- C have been

638) Which is the past participle of the verb 'to sing'?

- A sang
- B singer
- C sung

639) Choose the right answer. "Do you still feel homesick?"

- A Well, I'm getting over it a little.
- B Yes, I have problems back home.
- C Well, I feel dizzy.

640) Something which is well-designed, easy to use and functional is described as:

- A design utilitarian
- B user-friendly
- C utility friendly

641) The nearest library is in Oxford Street. Go straight down here. Turn right at the traffic lights then take the second on the left. It is:

- A an indication.
- B a suggestion.
- C an order.

642) Fill in the blank. "She started a course at college, but she _____ after two months".

- A dropped out
- B went out
- C fell out

643) Tell the students _____ about the exam.

- A not worry
- B don't worry not worrying
- C not to worry

644) Complete the following sentence: "What is the name of the woman.....is coming to the party with your sister?"

- A who
- B which
- C whose

645) Fill in the blank. "It has been ... experience of my life".

- A the worst
- B worst
- C the worse

646) Fill in the blank. "They ... not forget Henry's birthday gift".

- A would better
- B had rather
- C had better

647) Complete the following sentence: "George is telling John that theythe baseball match tomorrow".

- A go to
- B would have gone
- C are going to

648) The past simple of the verb 'to take' is:

- A taked
- B taken
- C took

649) Complete the following sentence: "He promised me he _____ back the following day".

- A would come
- B will to come
- C would to come

-
- 650) Choose the words which best complete the following sentence. "... if I ... the radio on?".
A Would you mind; turned
B Do you mind; turning
C Would you mind; turning
-
- 651) Choose the words which best complete the following sentence. . "Do you like surfing the Internet?"
A No, thanks.
B No, I haven't.
C Yes, I love doing that.
-
- 652) Fill in the blank. "The mother is ... her baby".
A eating
B milking
C feeding
-
- 653) Complete the following sentence: "I'd like to know ...!".
A what they are doing here
B what are they doing here
C they are doing here
-
- 654) Complete the following sentence. "I tried two pairs of shoes, but I _____".
A liked either of them.
B liked neither of them.
C didn't like the second pair.
-
- 655) Fill in the blank. "Has your sister come back ... London?"
A because
B from
C about
-
- 656) Fill in the blanks the right words.. "... school I am going ...".
A after; home
B before; shop
C after; to home
-
- 657) Fill in the blank with the right word. "Can we have a table ... the window?".
A besides
B by
C at
-
- 658) Complete the following sentence. "Jenny and Ken _____".
A are said to be good tennis players
B by saying are good tennis players
C is good said tennis players
-
- 659) Fill in the blank. "Can you give me the book, ... is on the shelf over there?"
A when
B which
C who
-
- 660) Complete the following sentence. "Shall I get anything for you at the supermarket?". "Yes please, ... potatoes".
A I get some
B I get any
C take a little
-
- 661) Complete the following sentence with the right word. "I haven't seen Kate ... I was 12".
A from
B then
C since
-
- 662) Fill in the blank. "... did you arrive so late?".

- A Where
- B When
- C Why

663) Fill in the blank. "... is the weather like today?".

- A When
- B Why
- C What

664) Fill in the blank. "This is ... pizza I have ever had in my life".

- A best
- B the best
- C the better

665) Choose the word which best completes the following sentence. "I ... the glass".

- A broken
- B broke
- C broken

666) Choose the correct form. "I'm _____ at the moment".

- A busy writing
- B a busy to write
- C busy write

667) Choose the right answer. "What would you like to have for lunch?"

- A No, please, I don't like it.
- B Yes, please.
- C A cheese sandwich, please

668) Choose the right answer. "Can I borrow your guitar for a minute, please? "

- A No, I can't
- B Yes, you can
- C Yes, we can

669) Choose the right answer. "Have you read any books by Charles Dickens?"

- A Yes, they haven't.
- B No, I have.
- C Yes, I have.

670) Choose the right answer. "How old is your daughter?"

- A She is seventeen years old.
- B He is seventeen years old
- C She are seventeen years old.

671) Complete the following sentence: "The film last week was really boring".

- A I was seen
- B I saw
- C I have seen

672) Complete the following sentence. "It'sraining".

- A still
- B already
- C yet

673) Complete the following sentence. "My wife is ... having breakfast".

- A yet
- B still
- C already

674) Complete the following sentence. "The ships have ... reached the Suez Canal".

- A still
- B already
- C yet

- 675) Complete the following sentence: "Excuse me sir, me where the Big Ben is, please? It's my first time in London, you know".
- A will you tell
 - B you can tell
 - C can you tell
-
- 676) Fill in the blank. "The train to Roma leaves ____ 10.25 a. m.".
- A at
 - B by
 - C on
-
- 677) Choose the correct sentence:
- A I'm sorry, but I don't help to you!
 - B I'm sorry, but I don't help you!
 - C I sorry, but I not help with you!
-
- 678) Choose the right translation. "C'è il sole. Metterò gli occhiali da sole".
- A It's sun. I'll wear my sunglass!
 - B It's sunny. I'll put my sunglasses!
 - C It's sunny. I'll wear my sunglasses!
-
- 679) What does the word "environment" mean?
- A ecologia
 - B ambiente
 - C inquinamento
-
- 680) Choose the correct sentence:
- A Can you lead me a glass of water, please?
 - B Can you carry me a glass of water, please?
 - C Can you bring me a glass of water, please?
-
- 681) Choose the right translation. "I'll pick you up at five o'clock".
- A Ci incontriamo alle cinque.
 - B Ti mando un messaggio alle cinque.
 - C Ti passo a prendere alle cinque.
-
- 682) Complete the following sentence: "She was able to give me a ... account of the accident since she had been a witness to it".
- A second-hand
 - B preview.
 - C first-hand.
-
- 683) Fill in the blank. "This cake _____ good".
- A appears
 - B tastes
 - C seems
-
- 684) Fill in the blank. "My mother wants to know _____".
- A how much that shirt is
 - B how many is that shirt
 - C how that shirt is much
-
- 685) Fill in the blank. "He is ... player in the club".
- A the better
 - B better
 - C the best
-
- 686) Fill in the blank. " _____ signing the contract he made a phone call".
- A After he had
 - B Since he'd had
 - C Before
-
- 687) Fill in the blank. "I know what that word means! I looked _____ in my dictionary".

- A for it
- B it up
- C to it

688) Choose the best verb form to complete this sentence: The notebook ___ in the office yesterday evening, but now it's ___!

- A were/went
- B was/gone
- C be/go

689) Choose the best verb form to complete this sentence: "Doctor advised me ... smoking".

- A to give up
- B giving up.
- C that giving up.

690) Fill in the blank. "It was a difficult problem, but he worked ... a solution".

- A out
- B on top of.
- C of

691) Fill in the blank. At school I wasn't very keen ... studying.

- A on
- B to.
- C of.

692) Fill in the blank. "The two thieves ... in a stolen car".

- A carried away.
- B brought away.
- C got away.

693) Choose the best word to complete the sentence: "Yesterday Peter ... us a lift in his car".

- A caught.
- B gave
- C took.

694) Choose the best verb form to complete this sentence: "By next year we ... to speak Italian fluently".

- A needn't.
- B can.
- C will be able.

695) Complete the following sentence: "In no circumstances ... this light switch".

- A you must turn onto
- B you must turn on
- C you must put at

696) Complete the following sentence: "She's a typical ... teenager who just thinks about what's best for herself!"

- A selfish
- B overself.
- C selfmost.

697) Complete the following sentence: "By next year we ... to speak Italian fluently".

- A can
- B needn't.
- C will be able

698) Complete the following sentence: "I meant ... the book, but the shop was shut".

- A bought
- B buy
- C to buy

699) I don't want to have to do with him.

- A someone
- B anything
- C nothing

-
- 700) She has a ... to think she knows best in every situation.
A tendency
B pretext.
C move
-
- 701) She made several attempts to arrange a meeting but she could never ... him down to a definite time.
A pin
B stick.
C track.
-
- 702) Complete the following question: "Where does this road _____?"
A to go
B lead
C to arrive
-
- 703) Complete the following sentence: "Her failure in the examination was a great ... to her pride".
A strike.
B blow
C attack
-
- 704) Fill in the blank. "He gave a ... of astonishment when he saw her because he had thought she was in India".
A blow
B gasp
C breath
-
- 705) Complete the following sentence: "I've got a stiff neck from sitting in a ... from that window".
A draught
B breath
C drought
-
- 706) Complete the following sentence: "There is going to be a ... of television programmes on the great artists of the Renaissance".
A broadcast.
B serial
C series
-
- 707) Complete the following sentence: "His first ... to the news was one of total disbelief".
A action.
B report.
C reaction.
-
- 708) The police ... a good deal of criticism over their handling of the affair.
A passed through to.
B went down through.
C came in for.
-
- 709) Complete the following sentence: "If my father were here, ..."
A he'd not be in bed now.
B he'd know what to do.
C he'd know what to do.
-
- 710) Choose the correct sentence.
A The mission was well planned, so everything went smoothly.
B The mission was well planned, as soon as everything went smoothly.
C The mission was well planned, everything went smoothly.
-
- 711) Fill in the blank. "... long are you staying in Liverpool?".
A Which
B When
C How
-
- 712) What does the word "advice" mean?

- A avviso
- B consiglio
- C attenzione

-
- 713) Complete the following sentence: "_____ your e-mail last night."
A I have
B I will have
C I had
-
- 714) Complete the following sentence: "How long have you been in Britain?" _____ since July".
A I'm been here
B I've been here
C I will be
-
- 715) Fill in the blank. "I have _____ owned _____ boat".
A not / the
B never / a
C no / some
-
- 716) Fill in the blank. "Can you stop? You have be singing _____ two hours".
A all
B in
C for
-
- 717) Fill in the blank. "He should drive ... than usual".
A most slowly
B less slower
C more slowly
-
- 718) Do they have ... suggestions of what they would like to do?
A some
B any
C much
-
- 719) Fill in the blank. "... you help me, please?".
A Could
B Must
C Want
-
- 720) Choose the correct sentence.
A My brother and I like football
B My brother and I are like football
C My brother and I are liking football
-
- 721) Complete the following sentence: "I like these fairytales so much! They _____ me of my childhood".
A Tell
B Remind
C Remember
-
- 722) Complete the following sentence: "If she should phone, I'm out".
A tell her
B telling her
C told her
-
- 723) Fill in the blank. "See you ... !".
A than
B late
C later
-
- 724) Fill in the blank. "She's much taller _____ me".
A that
B than
C of

-
- 725) Choose the word or words which best complete the following sentence. "... shoes are not expensive".
A These
B That
C This
-
- 726) Fill in the blank. "... do you spell the word "elephant"?.
A What
B That
C How
-
- 727) Fill in the blank. "When will you go to the theatre?". "... Saturday".
A About
B On
C At
-
- 728) Negotiations suffered a severe setback. "Setback" means:
A sviluppo
B progresso
C battuta d'arresto
-
- 729) Take care on oneself means:
A avere un'alta autostima
B prendersela con se stessi
C prendersi cura di se stessi
-
- 730) Fill in the blank. "Hurry up! The rain is _____".
A going out
B living
C leaving
-
- 731) Complete the following sentence. "We _____ a car".
A need to rent
B need rent of
C need rent
-
- 732) Fill in the blank. "He is ... the oldest of the group".
A probably
B most
C for surely
-
- 733) Fill in the blank. "That pupil speaks French ... than his teacher".
A much fluenter
B more fluently
C most faster
-
- 734) Choose the best word to complete the sentence. "When my sister goes on holiday, she ___ me the keys to her house .
A had left
B leaves
C left
-
- 735) Complete the following dialogue. "Do we need _____ from the market?" "Yes, can you get a chocolate bar please?".
A someone
B everything
C anything
-
- 736) What does the word "earthquake" mean?
A terremoto
B alluvione
C smottamento
-
- 737) Choose the best translation: "Sto risparmiando perché ho intenzione di comprare un'automobile".

- A I'm saving because I want buying a car.
- B I'm saving because I'm going buy a car.
- C I'm saving because I'm going to buy a car.

738) Fill in the blank. "Robots will never _____ men".

- A replayed
- B replaying
- C replace

739) Complete the following sentence. "He _____ too much beer at the party last night! He's got a terrible headache!"

- A drunk
- B drink
- C drank

740) Choose the best phrase to complete the sentence: "Visiting the Russian Republic _____ a visa".

- A A used to require
- B are used to requiring
- C were used to require

741) Complete the following sentence: "Red wine _____ to benefit circulation".

- A has found.
- B was being found.
- C has been found was being found.

742) Complete the following sentence: "The examination was _____ difficult _____ I expected".

- A least / for
- B worst/as
- C less / than

743) Complete the following sentence: "She asked me what _____".

- A the new supervisor was like
- B was the new supervisor like
- C like the new supervisor was

744) Complete the following sentence: "Before , I phoned Jim".

- A going out
- B I wasn't out
- C to go out

745) Complete the following sentence: " in Dubai next Tuesday".

- A We have been
- B We will be
- C We had gone

746) Choose the correct sentence.

- A I never have asked and never will asking for special treatment
- B I have never asked and never will ask for special treatment
- C I have never ask and never will ask for special treatment

747) Fill in the blank. " Can you come on Monday evening?" "Sorry, but football".

- A I played
- B I have played
- C I'm playing

748) Choose the words which best completes the sentence. "I can't buy a DVD player, _____".

- A I haven't got enough money.
- B I haven't got money enough.
- C I haven't run out of money yet.

749) Choose the right answer: "How long have you known your best friend?"

- A I has known him for six years.
- B I am knew him for six years.
- C I have known him for six years.

-
- 750) ... Japanese food, but I don't think I'd like it.
A I never tried
B I won't try
C I've never tried
-
- 751) What does the adjective "suitable" mean?
A misterioso
B superficiale
C appropriato
-
- 752) It doesn't matter in the least means:
A Non capisco dove si vuole arrivare
B Non intendo affrontare l'argomento.
C Non ha nessuna importanza
-
- 753) Choose the words which best complete the following sentence. "In some countries, women still cover their heads ...".
A like they did in the past.
B they did in the past.
C as they did in the past.
-
- 754) It's forbidden to smoke in this taxi: can you please ... the cigarette?.
A buy
B lit off
C put out
-
- 755) Choose the words which best complete the following sentence. "The ... of this poisonous algae has caused the ... of many kinds of fish".
A love; exodus
B proliferation; death
C morality; decline
-
- 756) The parts of the following sentence between square brackets contain one or more mistakes; choose the correct forms. "____ is _____ for your happiness".
A Loves/ important
B Love/ important
C Loving/ no important
-
- 757) Choose the word or group of words which best completes the following sentence. "They woke up when they ... the noise".
A saw
B made
C heard
-
- 758) Fill in the blank. "Many centuries ago, medicine suffered from the dishonest practice of ...".
A charlatans.
B hypnotics.
C astrologers.
-
- 759) Choose the correct sentence.
A When it is raining, Mary is every sad.
B When it rained, Mary is very sad.
C When it rains, Mary feels very sad.
-
- 760) Fill in the blank. "I've decided to go ... the mountains for my holidays this year".
A in
B on
C to
-
- 761) Fill in the blank. "We're going ... France for a holiday".
A since
B to
C over
-

- 762) Choose the following dialogue: A: "Shall we have a barbecue tomorrow?" B: "It might rain. ... do something inside instead".
A I'd prefer
B I'd rather
C I'd better
-
- 763) Fill in the blank. "... are you leaving for the Christmas holidays?".
A Since
B When
C If
-
- 764) Find the opposite of the word "amazing".
A Unpleasant
B Interesting
C Excellent
-
- 765) Fill in the blank: "What a beautiful dress! Did you pay ... credit card?"
A on
B in
C by
-
- 766) Find the opposite meaning of "vivacious".
A Immoral
B Traditional
C Quiet
-
- 767) Choose the correct translation. "She can't stand working by herself".
A Non è certa di potercela fare da sola.
B Non è mai stata in grado di farcela da sola.
C Non sopporta di lavorare da sola.
-
- 768) Fill in the blank. "... first we didn't like each other very much, but then we became friends".
A At
B From
C On
-
- 769) Complete the following sentence. "I must wear my glasses, I can't see without them".
A nothing
B anything
C something
-
- 770) Complete the following sentence: "I think it's better not to ... on unpleasant things but try to be optimistic".
A dwell
B think.
C recall.
-
- 771) Fill in the blank. There is somebody ... the door. Shall I go and see who it is?
A on
B in
C at
-
- 772) Fill in the blank. "I wonder if his son lives in Rome".
A not yet
B still
C yet
-
- 773) Find the similar meaning of "appealing".
A Sad
B Charming
C Grumpy
-
- 774) Choose the correct form. "Where's the chief? _____ today?".

- A Aren't he here
- B Isn't he here
- C Not he is

775) Fill in the blank. "You have got a nice house ... London".

- A instead
- B near
- C in front of

776) Spoke is the past simple of the verb:

- A to spike
- B to sell
- C to speak

777) Choose the correct forms. "My mother _____ anymore, _____".

- A is not work; is a pensioner
- B not work; she's a pension
- C doesn't work; she's a pensioner

778) Fill in the blank. "The doctor wrote a ... for the drug treatment".

- A note
- B prescription
- C receipt

779) Fill in the blank. "Children learned all of the songs _____ for the school play".

- A by memory
- B by heart
- C by mind

780) Fill in the blank. "He likes to ride ... his bicycle".

- A with
- B on
- C by

781) The congress passed a vote of ... against the president.

- A sensor.
- B census.
- C censure.

782) Complete the following sentence. "A bully is _____ systematically victimises another person, perceived as physically or intellectually different from himself".

- A one that
- B someone who
- C anybody that

783) Complete the following sentence. "When I came through the customs at the airport, I had to pay duty ... an electric knife I had ... my luggage."

- A on, in
- B about, in
- C for, on

784) Complete the following sentence. "The botanist discovered some new specimens __ flowers __ that island".

- A among/ to
- B of/ on
- C out/ in

785) Complete the following sentence. "Why did the burden _____ bringing up her two brothers fall on her shoulders?"

- A on
- B of
- C to

786) Complete the following sentence. "I have to _____ at the next stop".

- A go down
- B get off
- C got out

787) Which one is different?

- A drink / drank
- B live / lived
- C wait / waited

788) Complete the following sentence. "I _____ a garage, I got my car stolen _____ last year".

- A bought / double
- B am buying / twice
- C buy / two

789) Complete the following sentence. "I _____ tomorrow morning _____ noon".

- A will arriving / on
- B arrived / at
- C will arrive / at

790) Complete the following sentence. "I _____ any money _____ you go to the bank this morning".

- A have no / if
- B won't have / unless
- C will have/ unless

791) Complete the following sentence. "I _____ send postcards _____ my friends":

- A frequently / to
- B often/for
- C frequent/at

792) Complete the following sentence. "I _____ as she prepared the _____".

- A is watching/ table
- B watched / table
- C watch/ tables

793) Complete the following sentence. "Bob is ... than his brother".

- A the most shy
- B shiest
- C shyer

794) Complete the following sentence. "I love _____ the beach!"

- A went
- B go
- C going to

795) I _____ go to the disco _____ the week, only on Saturdays.

- A ever/in
- B never/ on
- C never / during

796) Complete the following sentence. "You smoked in the staff room. _____, you broke a strict rule".

- A For a change
- B Frankly speaking
- C In other words

797) Complete the following sentence. "Problems related to immigration are getting _____".

- A more and more complex.
- B evermore complex.
- C moreover complex.

798) Fill in the blank. "The dog bays ... the cat".

- A at
- B on
- C of

799) Complete the following sentence. "Motivation makes _____".

- A work harder people
- B peoples work harder
- C people harder work

800) Complete the following sentence. " _____ to USA on vacation next week".

- A I'm going
- B I'm gone
- C I 'm go

801) Complete the following sentence. "Education _____ is any act or experience that has a formative effect on the mind, character or physical ability of an individual".

- A in the widest sense
- B all over
- C as a meaning

802) What does the verb "apologize for" mean?

- A scusarsi per
- B preoccuparsi per
- C soffrire per

803) Complete the following sentence: "He said I _____ overweight and should go on a diet".

- A was
- B being
- C had

804) Fill in the blank. "I have lived in Ireland six years".

- A for.
- B from.
- C since.

805) What' the meaning of "strike"?

- A attacco
- B distorsione
- C sciopero

806) Choose the correct sentence.

- A The London Eye is Europe taller cantilevered observation wheel.
- B The London Eye is the most tall cantilevered observation wheel on Europe.
- C The London Eye is Europe's tallest cantilevered observation wheel.

807) Choose the best words to complete this sentence: "The _____ you have dialed has not been recognized. Please _____".

- A phone/get down
- B number/hang up
- C address/ hang up

808) Fill in the blank. "He's not very keen _____ football".

- A about
- B of
- C on

809) Choose the correct translation. "They went over my work with a fine-toothed comb".

- A Sono stato improvvisamente licenziato.
- B Hanno rifatto il mio lavoro con più precisione.
- C Hanno passato al vaglio il mio lavoro.

810) Fill in the blank. "Tom denied the boy".

- A to beat
- B beating
- C is beating.

811) Fill in the blank. "My sister has three _____, Barbara, Helen and Peter."

- A daughters
- B sons
- C children

-
- 812) Choose the best words to complete the sentence: "When I see your friend _____ him _____ you said".
- A I'll tell / what.
 - B I told / which.
 - C I tell / that
-
- 813) Fill in the blank. "Helen is a nicer person than I thought she was".
- A quite.
 - B very.
 - C much.
-
- 814) Fill in the blank. "The door must have been opened ... a key".
- A with
 - B which
 - C what
-
- 815) Fill in the blank. "The man next door is a painter".
- A whom lives
 - B who lives
 - C who live
-
- 816) Complete the following sentence: "Beethoven wrote nine symphonies _____ by orchestras all over the world".
- A which have still played
 - B which they are still being played
 - C which are still played
-
- 817) Choose the correct form. "When i finish the course, I _____ work in a software house".
- A ought
 - B could
 - C want like
-
- 818) Complete the following sentence. "I was able to _____ my baggage promptly after leaving the plane".
- A retrieve
 - B rescue
 - C recover
-
- 819) What does the verb "forbid" mean?
- A proibire
 - B valutare
 - C acconsentire
-
- 820) Fill in the blanks with the right words. "Because Tom is ..., we can't ... what course he will follow at any moment".
- A deleterious; foretell
 - B capricious; predict
 - C sad; tell
-
- 821) Complete the following sentence. "Our friend very happy today".
- A doesn't seem
 - B seem
 - C isn't seeming
-
- 822) Fill in the blank. "Tell me ... wrote that novel".
- A what
 - B when
 - C who
-
- 823) Fill in the blank. "... can we get some information about this old church?".
- A What
 - B Where
 - C Wherever
-
- 824) The people in the photo _____ my cousins

- A Are
- B Is
- C Was

825) Complete the following sentence. "I like your tablet very much. How much does it cost?" _____".

- A He cost 250 euros.
- B It costs about 250 euros.
- C They costs 250 euros.

826) Complete the following sentence. "The weather was fine on the day we arrived".

- A when
- B what
- C whose

827) Fill in the blank. "We stayed at the Grand Hotel, ... our friend recommended to us".

- A where
- B what
- C which

828) Complete the following dialogue with the best combination of words. A: 'Oh no! I've forgotten to ... George to the party'. B: 'That's OK. I'll tell him about it when I ... him at work'.

- A invite/see
- B inviting/am seeing
- C invite/will see

829) Where were you yesterday at 5pm? I _____ the shopping centre.

- A will be at
- B was at
- C were at

830) Complete the following sentence. "If you'd told me the truth in the first place, ..."

- A I understand.
- B I would understand.
- C I would have understood.

831) Complete the following sentence. "How do you help _____ the organization of your birthday party?"

- A about
- B with
- C by

832) Complete the following sentence. "Please, leave me alone. _____ to concentrate".

- A I'm trying
- B I did try
- C I won't trying

833) What does the verb "bit" mean?

- A scalpitare
- B suonare
- C mordere

834) Complete the following sentence. "The guy ... spoke first must be the boss".

- A why
- B which
- C who

835) Fill in the blank. "I want to know ... you went yesterday".

- A who
- B what
- C where

836) Fill in the blank. "... did you meet yesterday evening?".

- A What
- B Which
- C Whom

-
- 837) **Fill in the blank. "I'm sure it ... to rain".**
A is going
B will
C can
-
- 838) **Yesterday morning I ... angry because they ... late.**
A was / were
B were ... was
C is ... are
-
- 839) **Complete the following sentence. "The driver is sorry about the accident. He _____".**
A is angry about what happened
B really regrets what happened
C regrets making an accident
-
- 840) **Fill in the blank. "This pair of shoes ...".**
A are less fashionable than those
B are more fashionable than that
C is less fashionable than that one
-
- 841) **Complete the following sentence. "The day before yesterday the girl on her desk!"**
A is dancing
B was dancing
C were dancing
-
- 842) **Choose the correct form. "John _____ to do, so he could not go out".**
A was having so little
B is having too much
C had too much
-
- 843) **Complete the following sentence. "My book _____ a vocabulary section".**
A is such good as yours which has
B is very different from yours because it has
C differs from yours since
-
- 844) **Fill in the blank. "Are the cars in the garage?". "No, there ... in the garage".**
A is nothing
B is no one
C is anything
-
- 845) **Choose the best word to complete the sentence. "The majority of people in Scotland are in favour _____ away from the rest of the UK and _____ independent".**
A break / become
B breaking / becoming
C broke / became
-
- 846) **Choose the correct translation. "The results of the test were doctored up".**
A I risultati dell'esame sono stati mandati al dottore.
B I risultati dell'esame sono stati falsificati.
C I risultati dell'esame sono stati pubblicati.
-
- 847) **Choose the best word to complete this sentence: "It rained all last weekend _____ we didn't go to the seaside".**
A so
B through
C by
-
- 848) **Choose the correct form. "I _____ studied physics if the teacher _____ interesting".**
A Would have / hadn't been.
B Wouldn't / hadn't been.
C Wouldn't have / hadn't been.
-

- 849) Choose the best phrase to complete this sentence. "I am going to London to do a summer course to _____".
- A know better English language
 - B know better the English
 - C get to know the language better
-
- 850) Choose the correct translation. "Tom drove off without saying a word".
- A Tom guida in modo strano.
 - B Tom se ne andò in macchina senza dire una parola.
 - C Tom non ha detto una parola mentre guidava.
-
- 851) Fill in the blank. "He hit the target with great every time he shot".
- A time.
 - B want.
 - C desire
-
- 852) Fill in the blank. "Oh, look! The helicopter is flying the town".
- A over
 - B on
 - C upon
-
- 853) Fill in the blank. "Indian people differ _____ other nationalities I know".
- A as
 - B from
 - C along
-
- 854) Choose the correct form. "There a considerable amount of consolidation among suppliers".
- A has been.
 - B were.
 - C going to be.
-
- 855) Choose the best word or phrase to begin this sentence: " _____ I manage to get through all the letters I have to write this morning, I'll be able to start working on the new project this afternoon".
- A As long as
 - B Whether
 - C Since
-
- 856) Choose the best word or phrase to begin this sentence: "Mary is terribly She doesn't remember anything you tell her."
- A forgetful.
 - B Outgoing.
 - C Easygoing.
-
- 857) Fill in the blank. "I ... go out in the evening: the last time I did was three months ago".
- A often
 - B seldom
 - C forever
-
- 858) Complete the following sentence. "My grandmather places his glasses at the tip of _____ when he reads".
- A his knee
 - B her nose
 - C his chair
-
- 859) Fill in the blank. "No names have yet made".
- A still
 - B just.
 - C been
-
- 860) Complete the following sentence. "It's since I last her!"
- A A lot / seen.
 - B years / saw.
 - C months / will see.
-
- 861) Indicare la corretta traduzione. "I know I made a mistake, but you don't have to rub it in".

- A Lo so che ho sbagliato, ma tu non farla lunga.
- B Sapevo di sbagliare, ma non me ne importava.
- C Sbagliando si impara.

862) Complete the following sentence. "It's about time you made your mind!"

- A out
- B in
- C up

863) Complete the following sentence. "Do you think violent supporters arrested?"

- A should be
- B will being
- C is

864) My neighbours are so intrusive that I'd sometimes like to tell them that my private life is none of their _____!"

- A business
- B work
- C affair

865) Insert her, his, its or their. "Today it's Paul's birthday. It' s ____ birthday".

- A its
- B her
- C his

866) Insert her, his, its or their. "It's Paula birthday. It's _____ birthday".

- A her
- B its
- C his

867) Insert its, their, her or his. "It's the dog's birthday. It's ___ birthday".

- A its
- B his
- C her

868) Insert the right possessive. "Mary has lost _____ ring".

- A its
- B his
- C her

869) Insert the right possessive. "Clark is proud of _____ new car".

- A her
- B his
- C its

870) Insert the right possessive. "We love _____ little brother".

- A our
- B its
- C my

871) Complete the following sentence. "Due to extreme weather conditions the mountain road was _____"

- A Impassable
- B inoperable
- C impossible

872) Insert her, his, its or their. "Today it's Paul's birthday. It' s ____ birthday".

- A her
- B his
- C its

873) Insert her, his, its or their. "It's Paula birthday. It's ... birthday".

- A its
- B his
- C her

874) Insert its, their, her or his. "It's the dog's birthday. It's ... birthday".

- A her
- B his
- C its

875) Insert the right possessive. "Mary has lost... ring".

- A his
- B its
- C her

876) Insert the right possessive. "Clark is proud of... new car".

- A his
- B her
- C its

877) Insert the right possessive. "We love... little brother".

- A my
- B our
- C its

878) Insert the right demonstrative. "... teacher in front of the blackboard is always very kind".

- A Those
- B That
- C This

879) Fill in the blank. "_____ rang you up?"

- A who
- B what
- C why

880) Fill in the blank. "... did you say?"

- A who
- B what
- C why

881) Fill in the blank. "_____ is Mary? In the garden or in the living room?"

- A What
- B Why
- C Where

882) Insert the correct preposition. "Many people are fond ... ice creams".

- A in
- B of
- C about

883) Insert the correct preposition. "The dog looked ... the cat".

- A in
- B about
- C of

884) Insert the correct article: "It is ___ fine day".

- A a
- B the
- C an

885) Insert the correct article: "Bull is... nice dog".

- A the
- B a
- C an

886) Insert the correct article: "I saw ... elephant at the zoo".

- A a
- B an
- C the

-
- 887) **Choose the correct sentence.**
A Ann choose to remain at home.
B Ann chosen to remain at home.
C Ann chose to remain at home.
-
- 888) **Choose the correct sentence:**
A The teacher breaking the chalk on the blackboard.
B The teacher broken the chalk on the blackboard.
C The teacher breaks the chalk on the blackboard.
-
- 889) **Choose the correct verb.**
A Open the door!
B Push the door!
C Pull the door!
-
- 890) **Choose the correct sentence.**
A Mark will leave for Paris three days ago.
B Mark left for Paris tomorrow.
C Mark leaves for Paris today.
-
- 891) **Choose the correct sentence.**
A I were tired last night.
B I was tired last night.
C I shall be tired yesterday.
-
- 892) **Choose the correct sentence.**
A Eat my soup!
B Eat his soup!
C Eat your soup now!
-
- 893) **Choose the correct sentence.**
A She drank a bottle of wine
B She drink a bottle of wine
C She is drinking a bottle of wine two minutes ago.
-
- 894) **Choose the correct sentence.**
A Not disturb the lesson!
B Don't disturb the lesson!
C Don't disturbed the lesson!
-
- 895) **Choose the correct sentence:**
A Let's draw a good novel.
B Let read a good novel.
C Let's read a good novel.
-
- 896) **Choose the correct sentence.**
A My friend Ely wished me to lose my money.
B My friend Ely wished me an ugly day.
C My friend Ely wished me happy birthday.
-
- 897) **Choose the correct sentence:**
A What did you wear at the party?
B Which did you wear at the party?
C Whose did you wear at the party?
-
- 898) **Choose the correct sentence.**
A Elsie wrote a letter tomorrow.
B Elsie write a letter to her sister.
C Elsie is writing a letter to her sister.
-
- 899) **Choose the correct sentence:**
A Send me a postcard.
B Sent me a postcard.
C Don't sent me a postcard.

-
- 900) **Choose the correct sentence.**
A My sons bilt castles on the beach.
B My sons builds castles on the beach.
C My sons are building castles on the beach.
-
- 901) **Fill in the blank. "Tim wakes _____ at seven o' clock in the morning".**
A out
B up
C down
-
- 902) **Choose the words which best completes the sentence. "What's the time?". "It's almost ...".**
A eleven and half
B eleven and a half
C half past eleven
-
- 903) **What does the word "wonderful" mean?**
A simpatico
B pieno
C meraviglioso
-
- 904) **Choose the right sentence.**
A Where is my pen? This isn't mine.
B Where is your pen? That isn't yours.
C Where are theirs pens? They are mine.
-
- 905) **Choose the right sentence:**
A There are a cat on the sofa
B There is a cat on the sofa
C There is cats on the sofa.
-
- 906) **Choose the correct sentence:**
A Much words were spent on commemorating the glorious day.
B Much students ran towards the school.
C Many students were running towards the school.
-
- 907) **Choose the correct sentence:**
A I drank a lot of water.
B I drinks much water.
C I drank much water.
-
- 908) **The day before yesterday I _____ at the shopping centre**
A will be
B was
C were
-
- 909) **Choose the best phrase to complete this question: "Does anyone know how much _____ on staff per year?"**
A does the department spend
B the department spends
C spends the department
-
- 910) **Choose the words which best complete the following sentence. "I'm sorry, I _____ . I _____ about Jim".**
A Wasn't concentrating / was thinking.
B Was concentrating / didn't think.
C Didn't concentrate / was thinking.
-
- 911) **Complete the sentence: " _____ left after the tourist office and you will see the Marine Hotel on the right".**
A Turn
B Take
C Go to
-
- 912) **Complete the question. "Could you tell me _____".**

- A how long does it take to get to London?
- B how long takes it to get to London?
- C how long it takes to get to London?

913) **Fill in the blank. "They are jealous ... your success".**

- A for
- B to
- C of

914) **Fill in the blank. "If you go ... car, you will be on time".**

- A on
- B for
- C by

915) **Complete the sentence: "I went to London ... some clothes".**

- A to buy
- B to buying
- C for buy

916) **Complete the sentence. I want to buy a new book. I go to ...**

- A the butcher's.
- B the bookshop
- C the library

917) **What does the word "grandson" mean?**

- A zio
- B nipote
- C nonno

918) **Complete the sentence: "He's very good at taking people !"**

- A Up.
- B Out.
- C Off.

919) **Choose the best phrase to complete this sentence: "I have ___ admiration for working mothers".**

- A nothing but
- B nothing than
- C none but

920) **Complete the sentence: "The race wasdue to the bad weather".**

- A done up.
- B called off.
- C spiced up.

921) **Complete the sentence: "If you don't write down the date and time of the message, ___".**

- A Tom will never know.
- B Tom would know.
- C Tom would never know.

922) **Complete the sentence: "Millions of people in the world live in dreadful ...".**

- A conditions.
- B beaches.
- C valleys.

923) **Complete the sentence: "Be ... time. Don't be late".**

- A to
- B on
- C at

924) **Choose the right alternative to complete the following sentence: "I have known my girlfriend ... we started school".**

- A since
- B for
- C from

-
- 925) **Fill in the blank. "He got ... the car and left!"**
A into
B to
C at
-
- 926) **Choose the right alternative to complete the following sentence. "What time does the train arrive ... Milan?" "At about 5 o'clock".**
A for
B in
C at
-
- 927) **Fill in the blank: I don't play cards... Saturday evening"".**
A on
B in
C at
-
- 928) **Complete the following sentence: The wind has opened the window. _____""**
A Close it
B Clean it.
C Open it
-
- 929) **Choose the right sentence: "Today it's raining".**
A I must dance under the rain.
B I must walk with the dog under the rain.
C I must take the umbrella.
-
- 930) **Choose the right sentence:**
A You don't study enough! There are many mistakes in their exercises.
B You don't study enough! There are many mistakes in your exercises.
C You don't study enough! There are many mistakes in our exercises.
-
- 931) **Complete the following sentence: "Do you really enjoy that sort of music?"**
A listen to.
B listening to.
C listening.
-
- 932) **Complete the following sentence: "When she got to the station, the train already left!"**
A had been
B had
C was
-
- 933) **Complete the following sentence: "I don't mind to the cinema".**
A going
B go
C to go
-
- 934) **Choose the right sentence:**
A Tomorrow Mark flew to London.
B Tomorrow Mark fly to London.
C Tomorrow Mark will fly to London.
-
- 935) **Complete the sentence: "I want to buy a new book. _____"**
A I go to the dentist's.
B I go to the butcher's.
C I go to the library.
-
- 936) **Choose the correct sentence. "Paul says: 'I'm very hungry'. _____"**
A I'll take a nap.
B I'll go to a restaurant.
C I'll eat an apple.
-
- 937) **Complete the following question: "... you help me, please?"**
A Could
B Want
C Must

938) **Choose the correct sentence:**

- A The cat hide on the tree
 - B The cat hid on the tree.
 - C The cat hidden on the tree
-

939) **Choose the right sentence:**

- A Please, seat in the sofa.
 - B Please, seat under the sofa.
 - C Please, seat on the sofa.
-

940) **Choose the opposite: "beautiful".**

- A ugly
 - B terrible
 - C horrid.
-

941) **Choose the opposite: "big".**

- A little
 - B handsome.
 - C large
-

942) **Choose the opposite: "large"**

- A subtle.
 - B narrow
 - C heavy
-

943) **Choose the correct sentence.**

- A Yesterday my daughter fall from a tree.
 - B Yesterday my daughter fell from a three.
 - C Yesterday my daughter fell from a tree.
-

944) **What does the word "brave" mean?**

- A Courageous
 - B Fearless.
 - C Without fear
-

945) **Complete the following sentence. "Do they have ... suggestions of what they would like to do?"**

- A any
 - B much
 - C some
-

946) **Choose the correct sentence:**

- A Give me some more tea
 - B Give me many tea.
 - C Give me a very lot of tea
-

947) **Choose the correct sentence.**

- A Tell me not the truth
 - B Don't say to me story.
 - C Tell me the truth
-

948) **Choose the correct sentence:**

- A I will arise your salary if you work harder
 - B I will arose your salary if you work harder.
 - C I will raise your salary if you work harder
-

949) **Choose the right sentence:**

- A Write it near the window.
 - B Write it jumping in the room.
 - C Write it in your notebook.
-

950) **Choose the correct sentence.**

- A The sea has been rough last week.
 - B The sea were rough yesterday
 - C The sea was rough yesterday
-

-
- 951) **Choose the correct sentence:**
A Please. Switch off the light: it's too dark
B Please, turn the light!
C Please, turn on the light!
-
- 952) **Choose the correct sentence.**
A A astonishing victory.
B An astonishing victory.
C The astonishing victory.
-
- 953) **Choose the correct sentence:**
A I hope we shan't have to stay here.
B I hope not stay here.
C I hope we must stay not here.
-
- 954) **Underline the correct sentence**
A She goes home.
B She goes house.
C She go home.
-
- 955) **Choose the correct sentence.**
A Mary is making a mistake yesterday.
B Mary made a mistake yesterday.
C Mary has made a mistake yesterday.
-
- 956) **Choose the sentence with the reported speech.**
A My husband said I received some good news.
B My husband told me he had received good news.
C My husband exclaimed there is your mother at the door.
-
- 957) **Choose the correct sentence:**
A Haven't you finished your homework still?
B Haven't you finished your homework yet?
C Haven't you finished your homework again?
-
- 958) **Choose the correct form:**
A The farmers son.
B The farmer's son.
C The farmer son.
-
- 959) **Choose the correct sentence:**
A Some people work very hard.
B Some people works very hard.
C Some people will work very hard yesterday.
-
- 960) **Choose the correct sentence.**
A They playing football.
B They are playing football.
C They plays football.
-
- 961) **Give the correct translation: "Stop telling nonsense".**
A Non essere sciocco.
B Smetti di dire sciocchezze.
C Non infastidirmi.
-
- 962) **Fill in the blank. "Listen _____ me".**
A for
B at
C to
-
- 963) **Fill in the blanks. "I arrived ... the village ... Monday".**
A into/off
B on /in
C to/on

-
- 964) **I am fed up with you means:**
A sorry for you.
B happy with you
C angry with you
-
- 965) **Choose the correct answer: "What did you see during your walk?"**
A I sew a bear
B I saw a bear
C I see a bear.
-
- 966) **Turn the sentence into the negative form: "My little sister can swim".**
A My little sister can't to swim.
B My little sister cans no swim.
C My little sister can't swim.
-
- 967) **Turn the sentence into the negative form: "The dog escaped from the garden".**
A The dog didn't to escape from the garden.
B The dog don't escape from the garden.
C The dog didn't escape from the garden.
-
- 968) **What does "to be in a hurry" mean?**
A Aver fretta
B Essere in ritardo
C Essere in un guaio
-
- 969) **Insert in the blank the correct form. "James was speaking to Mary. John was speaking to ..."**
A them
B him
C her
-
- 970) **Choose the correct form.**
A Mark is taller than me.
B Mark is more tall than me.
C Mark is tallest than me.
-
- 971) **Choose the correct sentence.**
A Mary will speak to me the last Sunday.
B Mary has spoken to me tomorrow.
C Mary spoke to me yesterday.
-
- 972) **Choose the correct sentence.**
A Will we go on holiday yesterday?
B Were we going on holidays tomorrow?
C Shall we go on holiday next week?
-
- 973) **Fill in the blank. "They go to the airport ... taxi".**
A with
B by
C on
-
- 974) **Fill in the blank. "We have been in Milan ... three months".**
A near
B for
C during
-
- 975) **Fill in the blank. "If tired, you can have a break".**
A you will be
B you are
C you were
-
- 976) **What does the verb 'look for' mean?**
A trovare
B cercare
C guardare

-
- 977) What does the word 'lightning' mean?
A temporale
B lampo
C leggero
-
- 978) Fill in the blank. "Everyone is interested protecting the environment".
A on
B in
C of
-
- 979) Decide which is the correct spelling of the adjective: "scomodo" in English.
A uncomfortable
B unconfortabel
C incomfortable
-
- 980) Choose the correct form. "Sometimes a moment for yourself"
A you will need
B you need
C you needed
-
- 981) Fill in the blank. "... was she talking?".
A To who
B To whom
C Whom
-
- 982) Complete this sentence: "Don't buy that jacket - it's ____ for you".
A bigger
B too big size
C too big
-
- 983) Choose the correct answer for this question: "Did you get the job?"
A Yes, I get it
B Yes, I have got
C Yes, I did
-
- 984) Fill in the blank. "The policeman asked me _____ there".
A not to park
B to not park
C no parking
-
- 985) Choose the correct alternative.
A Please I would like a chocolates box.
B I would a chocolate box please.
C I'd like a box of chocolates please.
-
- 986) Don't drink too much! In this sentence the verb is in the form of the:
A present continuous
B past simple
C imperative
-
- 987) Choose the word which best completes the following sentence. "The sky was grey and it _____ heavily".
A rained
B raining
C ran
-
- 988) She slept very well last night'. 'Slept' is the past simple of the verb:
A to seek
B to sleep
C to see
-
- 989) What does the word "score" mean?

- A puntini
- B punteggio
- C punto

990) Fill in the blank. "I saw him standing _____ your door".

- A through
- B at
- C to

991) Fill in the blank. "_____ time do we have?".

- A How much
- B How many
- C What

992) Complete the following sentence. "Who _____ the window?"

- A opened
- B will opened
- C did opened

993) Complete the following sentence. "He sees his reflection _____ the mirror".

- A at
- B against
- C in

994) Fill in the blank. "My father was worried about us _____ we weren't back on time".

- A Since
- B for
- C from

995) Fill in the blank. "Go _____ I don't want to see you anymore".

- A on
- B away
- C off

996) Choose the correct preposition. "Which necklace do you prefer _____ the one with the pearls and the one with the diamonds?"

- A in
- B among
- C between

997) Insert the correct preposition. "There is someone knocking _____ the door".

- A at
- B in
- C for

998) Choose the best word to complete this question. "Where _____ you like to go this evening?"

- A would
- B are
- C does

999) Fill in the blank. "... was calling you this morning".

- A Some
- B Someone
- C Some body

1000) Choose the best word to complete the sentence: "It has been a busy day, you are tired, _____"

- A aren't you?
- B are you?
- C did you?

CONOSCENZA DELLA LINGUA INGLESE

RISPOSTE CORRETTE

1 B	2 B	3 C	4 B	5 B
6 C	7 C	8 A	9 C	10 A
11 C	12 B	13 B	14 A	15 A
16 B	17 B	18 A	19 B	20 C
21 B	22 A	23 B	24 B	25 B
26 C	27 B	28 A	29 C	30 A
31 A	32 A	33 C	34 C	35 C
36 A	37 A	38 A	39 C	40 C
41 C	42 B	43 C	44 B	45 A
46 B	47 B	48 A	49 B	50 B
51 B	52 A	53 C	54 C	55 C
56 B	57 B	58 B	59 C	60 B
61 C	62 A	63 A	64 C	65 A
66 C	67 B	68 A	69 B	70 B
71 A	72 A	73 B	74 B	75 B
76 C	77 B	78 B	79 B	80 B
81 B	82 C	83 A	84 A	85 A
86 A	87 B	88 B	89 C	90 A
91 A	92 B	93 C	94 B	95 B
96 B	97 B	98 B	99 B	100 A
101 A	102 C	103 B	104 C	105 C
106 C	107 C	108 B	109 B	110 B
111 B	112 C	113 A	114 C	115 A
116 C	117 C	118 B	119 A	120 B
121 A	122 A	123 B	124 A	125 A
126 B	127 A	128 B	129 A	130 B
131 B	132 A	133 C	134 C	135 B
136 B	137 C	138 A	139 B	140 C
141 A	142 A	143 B	144 B	145 B
146 A	147 B	148 A	149 C	150 C
151 B	152 B	153 A	154 C	155 C
156 C	157 B	158 C	159 A	160 A
161 C	162 C	163 A	164 A	165 C
166 C	167 C	168 B	169 B	170 A
171 B	172 C	173 B	174 B	175 A
176 C	177 C	178 C	179 A	180 C
181 C	182 C	183 A	184 B	185 C
186 C	187 B	188 A	189 C	190 C
191 B	192 A	193 A	194 C	195 C
196 A	197 C	198 B	199 B	200 A
201 A	202 B	203 B	204 B	205 B
206 A	207 A	208 A	209 C	210 B
211 A	212 C	213 A	214 C	215 B
216 A	217 C	218 A	219 C	220 B
221 C	222 B	223 B	224 A	225 C
226 A	227 A	228 C	229 B	230 C
231 B	232 C	233 B	234 C	235 B
236 C	237 C	238 B	239 C	240 A
241 C	242 B	243 C	244 C	245 B

246 C	247 B	248 A	249 A	250 A
251 C	252 C	253 B	254 B	255 A
256 B	257 A	258 B	259 B	260 A
261 B	262 C	263 C	264 C	265 A
266 A	267 A	268 B	269 C	270 C
271 B	272 B	273 C	274 A	275 A
276 B	277 A	278 C	279 C	280 A
281 B	282 C	283 B	284 B	285 A
286 B	287 C	288 C	289 C	290 A
291 C	292 C	293 C	294 B	295 B
296 C	297 C	298 A	299 B	300 C
301 C	302 B	303 A	304 B	305 C
306 B	307 A	308 B	309 B	310 B
311 C	312 A	313 B	314 B	315 B
316 B	317 C	318 C	319 B	320 C
321 C	322 C	323 B	324 B	325 A
326 B	327 B	328 C	329 A	330 B
331 C	332 B	333 C	334 C	335 C
336 A	337 B	338 C	339 B	340 C
341 C	342 A	343 A	344 A	345 C
346 A	347 A	348 B	349 B	350 C
351 C	352 B	353 B	354 B	355 C
356 C	357 C	358 A	359 A	360 A
361 A	362 B	363 A	364 B	365 C
366 C	367 A	368 B	369 B	370 B
371 B	372 C	373 A	374 C	375 A
376 A	377 C	378 C	379 B	380 A
381 B	382 C	383 B	384 B	385 B
386 C	387 A	388 A	389 C	390 C
391 B	392 A	393 C	394 A	395 C
396 C	397 A	398 A	399 B	400 B
401 A	402 A	403 C	404 B	405 A
406 A	407 C	408 A	409 B	410 C
411 A	412 C	413 C	414 A	415 A
416 B	417 C	418 B	419 C	420 C
421 B	422 B	423 A	424 B	425 C
426 B	427 C	428 A	429 B	430 B
431 A	432 B	433 B	434 C	435 B
436 B	437 A	438 B	439 C	440 B
441 C	442 C	443 A	444 B	445 A
446 A	447 A	448 B	449 A	450 C
451 A	452 B	453 B	454 C	455 B
456 B	457 B	458 C	459 C	460 B
461 A	462 A	463 A	464 B	465 A
466 A	467 C	468 C	469 C	470 C
471 A	472 C	473 B	474 C	475 A
476 A	477 A	478 B	479 C	480 C
481 A	482 C	483 A	484 A	485 C
486 A	487 C	488 C	489 B	490 B
491 B	492 B	493 A	494 C	495 A
496 A	497 C	498 B	499 B	500 C
501 B	502 A	503 C	504 A	505 C
506 B	507 B	508 A	509 B	510 C
511 B	512 B	513 B	514 A	515 C
516 A	517 A	518 B	519 C	520 B

521 B	522 A	523 A	524 B	525 B
526 A	527 A	528 C	529 C	530 B
531 B	532 C	533 B	534 C	535 B
536 A	537 B	538 B	539 B	540 C
541 B	542 B	543 A	544 C	545 B
546 C	547 B	548 B	549 C	550 A
551 B	552 A	553 B	554 A	555 B
556 B	557 C	558 C	559 C	560 C
561 C	562 B	563 A	564 B	565 B
566 A	567 A	568 A	569 C	570 C
571 B	572 B	573 C	574 C	575 C
576 C	577 C	578 C	579 C	580 C
581 A	582 C	583 A	584 A	585 B
586 B	587 C	588 A	589 A	590 B
591 A	592 A	593 A	594 B	595 B
596 C	597 C	598 A	599 A	600 C
601 B	602 B	603 C	604 A	605 C
606 B	607 A	608 B	609 B	610 C
611 A	612 C	613 A	614 C	615 A
616 B	617 C	618 C	619 A	620 B
621 C	622 A	623 B	624 C	625 B
626 A	627 A	628 A	629 A	630 B
631 C	632 B	633 C	634 B	635 A
636 A	637 B	638 C	639 A	640 B
641 A	642 A	643 C	644 A	645 A
646 C	647 C	648 C	649 A	650 A
651 C	652 C	653 A	654 B	655 B
656 A	657 B	658 A	659 B	660 A
661 C	662 C	663 C	664 B	665 B
666 A	667 C	668 B	669 C	670 A
671 B	672 A	673 B	674 B	675 C
676 A	677 B	678 C	679 B	680 C
681 C	682 C	683 B	684 A	685 C
686 C	687 C	688 B	689 A	690 A
691 A	692 C	693 B	694 C	695 B
696 A	697 C	698 C	699 B	700 A
701 A	702 B	703 B	704 B	705 A
706 C	707 C	708 B	709 B	710 A
711 C	712 B	713 C	714 B	715 B
716 C	717 C	718 B	719 A	720 A
721 B	722 A	723 C	724 B	725 A
726 C	727 B	728 C	729 C	730 C
731 A	732 A	733 B	734 B	735 C
736 A	737 C	738 C	739 C	740 A
741 C	742 C	743 A	744 A	745 B
746 B	747 C	748 A	749 C	750 C
751 C	752 C	753 C	754 C	755 B
756 B	757 C	758 A	759 C	760 C
761 B	762 B	763 B	764 A	765 C
766 C	767 C	768 A	769 B	770 A
771 C	772 B	773 B	774 B	775 B
776 C	777 C	778 B	779 B	780 B
781 C	782 B	783 A	784 B	785 B
786 B	787 A	788 B	789 C	790 B
791 A	792 B	793 C	794 C	795 C

796 C	797 A	798 A	799 B	800 A
801 A	802 A	803 A	804 A	805 C
806 C	807 B	808 C	809 C	810 B
811 C	812 A	813 C	814 A	815 B
816 C	817 B	818 A	819 A	820 B
821 A	822 C	823 B	824 A	825 B
826 A	827 C	828 A	829 B	830 B
831 B	832 A	833 C	834 C	835 C
836 C	837 A	838 A	839 B	840 C
841 B	842 C	843 B	844 A	845 B
846 B	847 A	848 C	849 C	850 B
851 C	852 A	853 B	854 A	855 A
856 A	857 B	858 B	859 C	860 B
861 A	862 C	863 A	864 A	865 C
866 A	867 A	868 C	869 B	870 A
871 A	872 B	873 C	874 C	875 C
876 A	877 B	878 B	879 A	880 A
881 C	882 B	883 C	884 A	885 B
886 B	887 C	888 C	889 A	890 C
891 B	892 C	893 A	894 B	895 C
896 C	897 A	898 C	899 A	900 C
901 B	902 C	903 C	904 A	905 B
906 C	907 A	908 B	909 B	910 A
911 A	912 C	913 C	914 C	915 A
916 B	917 B	918 C	919 A	920 B
921 A	922 A	923 B	924 A	925 A
926 B	927 A	928 A	929 C	930 B
931 B	932 B	933 B	934 C	935 C
936 B	937 A	938 B	939 C	940 A
941 A	942 B	943 C	944 A	945 A
946 A	947 C	948 C	949 C	950 C
951 C	952 B	953 A	954 A	955 B
956 B	957 B	958 B	959 A	960 B
961 B	962 C	963 C	964 C	965 B
966 C	967 C	968 A	969 C	970 A
971 C	972 C	973 B	974 B	975 B
976 B	977 B	978 B	979 A	980 B
981 B	982 C	983 C	984 A	985 C
986 C	987 A	988 B	989 B	990 B
991 A	992 A	993 C	994 A	995 B
996 C	997 A	998 A	999 B	1000 A

CONOSCENZA BASE DEGLI STRUMENTI DI OFFICE AUTOMATION (1.000)

-
- 1) **I tasti funzione:**
- A servono per inserire gli spazi fra i caratteri
 - B servono a digitare le cifre numeriche.
 - C sono tasti programmabili, che cambiano funzione secondo l'applicazione in uso.
-
- 2) **Tra le seguenti unità di misura della memoria di un computer, o di dispositivi ad esso correlati, equivale a circa 8 milioni di bit:**
- A Gigabyte
 - B Kilobyte
 - C Megabyte
-
- 3) **Le icone indicano:**
- A i programmi appena caricati in memoria.
 - B solo i programmi che è possibile avviare, cioè caricare in memoria.
 - C applicazioni, documenti, cartelle o dispositivi.
-
- 4) **Per esprimere la dimensione in pollici di un monitor si deve misurare:**
- A la diagonale dello schermo.
 - B l'area dello schermo.
 - C l'altezza dello schermo.
-
- 5) **Premendo contemporaneamente i tasti Ctrl + Alt + Canc:**
- A si resetta un computer con sistema operativo Windows.
 - B si spegne un computer Macintosh.
 - C si resetta un computer con sistema operativo MS-DOS.
-
- 6) **Quando si digitalizza un'immagine la si trasforma in:**
- A un reticolo di immagini.
 - B un reticolo di punti, detti pixel.
 - C una matrice di punti di forma circolare.
-
- 7) **Il tasto Escape (o Esc)**
- A serve a cancellare i caratteri alla sinistra del cursore.
 - B serve a confermare le scelte e i comandi.
 - C serve ad annullare l'operazione in corso
-
- 8) **Il tasto di reset**
- A serve a spegnere il computer.
 - B serve a riavviare il computer azzerando programmi e dati memorizzati nella RAM.
 - C serve a riavviare il computer azzerando programmi e dati memorizzati nell'hard disk.
-
- 9) **Il doppio clic**
- A attiva un oggetto, aprendo la finestra corrispondente.
 - B serve in genere a cancellare un oggetto.
 - C serve in genere a selezionare un oggetto.
-
- 10) **I linguaggi di programmazione:**
- A bisogna sempre prima 'aprirli' perché rendono operativo il computer trasformandolo in una macchina con funzionalità specifiche: videoscrittura, grafica, calcolo, videogiochi.
 - B è necessario sempre conoscerli perché consentono alla macchina di interpretare ed eseguire i diversi programmi applicativi.
 - C sono usati dai programmatori per progettare e codificare nuovi programmi applicativi.
-
- 11) **Un server è:**
- A un generico nodo di rete.
 - B un computer che offre servizi ad altri computer collegati in rete.
 - C un computer che serve per memorizzare gli scambi di dati sulla rete
-
- 12) **Delle seguenti stringhe di simboli e lettere una sola può rappresentare un indirizzo Internet. Quale?**

- A <http://www.studioinglese.it>
- B <http://www.studio,lavoro,svago.it/index.html>
- C <http://www@studiorossi.it>

-
- 13) **Un backup è**
- A l'aggiornamento automatico dei programmi del PC.
 - B un salvataggio di dati che si effettua periodicamente su supporti di memoria esterni per poter essere conservati.
 - C un salvataggio di dati che si effettua periodicamente solo su supporti di memoria interni.
-
- 14) **In un documento di Word, le tabulazioni sono:**
- A spazi di interlinea predefiniti tra le righe.
 - B posizioni predefinite all'interno del foglio.
 - C le distanze dal bordo di intestazioni e piè di pagina.
-
- 15) **Una cella excel è formata:**
- A da colonne
 - B da righe e colonne
 - C da righe
-
- 16) **Il formato che indica la copia fedele dei contenuti di un supporto CD-Rom o DVD-Rom è:**
- A .INF
 - B .ISO
 - C .EXE
-
- 17) **Quale software è necessario affinché un computer possa essere utilizzato da un utente?**
- A un programmi per la gestione della rete.
 - B un sistema operativo.
 - C un antivirus
-
- 18) **Per linguaggio di programmazione si intende:**
- A l'insieme di regole che servono a governare lo scambio di dati tra elaboratori.
 - B un componente operativo del microprocessore.
 - C la codifica dell'algoritmo che il computer deve eseguire.
-
- 19) **L'espressione "open source" indica un software che:**
- A ha un codice sorgente accessibile e copiabile.
 - B si può scaricare da Internet gratuitamente.
 - C è venduto a prezzi molto contenuti.
-
- 20) **Il "drag & drop" o trascinamento:**
- A consente di spostare gli oggetti sulla scrivania e all'interno delle cartelle.
 - B si ottiene tenendo premuto il tasto destro del mouse.
 - C consiste nel premere due volte in rapida successione il tasto destro del mouse.
-
- 21) **Le finestre di dialogo**
- A sono associate a molti comandi di menu per consentire all'utente di specificare meglio le operazioni richieste al sistema.
 - B sostituiscono le barre dei menu in alcune applicazioni con interfaccia grafica particolarmente avanzata.
 - C sono tipiche delle applicazioni telematiche.
-
- 22) **Una parola o una frase priva di spazi preceduta dal simbolo "cancelletto" è detta:**
- A banner
 - B directory
 - C hashtag
-
- 23) **Tra i seguenti è un dispositivo di sola lettura:**
- A pendrive
 - B CD-rom
 - C disco rigido
-
- 24) **Per inviare in allegato a una mail un foglio di calcolo che non si vuole venga modificato, occorre:**
- A salvare il foglio nel formato PDF protetto.
 - B salvare due copie in modo che una rimanga nel computer di partenza.
 - C salvare il foglio in formato PWD

-
- 25) **In un foglio di calcolo la combinazione di tasti CTRL+Y serve per:**
A copiare il contenuto di una cella.
B ripristinare la digitazione annullata.
C cancellare una formula.
-
- 26) **Una Wide Area Network (WAN) è:**
A una rete che connette computer e dispositivi di rete installati in posizioni geograficamente distanti
B una scheda di rete per interconnettere ad una rete locale altri computer wireless
C una rete locale (LAN) che utilizza cavi appositamente predisposti
-
- 27) **Un mainframe è:**
A un computer di grandi dimensioni e di elevata capacità di calcolo.
B la finestra principale di un programma di foto ritocco.
C un grosso riquadro all'interno di una pagina HTML.
-
- 28) **La corretta estensione di un file è importante perché serve a:**
A correlare il file con il programma appropriato.
B impedire la cancellazione di un file da una cartella.
C copiare un file da una cartella a una sottocartella.
D proteggere il file in modo che non possa essere modificato.
-
- 29) **La Mainboard (scheda principale o scheda madre):**
A è un software che consente la creazione, la cancellazione e la modifica dei dati contenuti in un database.
B è la piastra principale dove viene inserita la CPU e alla quale vengono collegati tutti i componenti del computer.
C è l'archivio della posta inviata da un indirizzo email.
-
- 30) **In un programma di presentazione lo scorrimento delle diapositive avviene:**
A usando i tasti Shift+Tab.
B usando i tasti numerici.
C usando i tasti direzionali.
-
- 31) **La messaggistica istantanea è un servizio Internet che permette di:**
A comunicare in tempo reale tramite voce sfruttando la connessione Internet.
B comunicare in tempo reale fra persone con cui si è in contatto, per scambiarsi messaggi di testo e file.
C comunicare in tempo reale fra persone con cui si è in contatto, scambiandosi solo messaggi di testo.
-
- 32) **Con il termine Client-Server si intende:**
A Una rete in cui il server ha la funzione di gestire ed amministrare la rete e il client, assume una posizione subordinata accedendo alle risorse condivise dal server.
B Qualunque forma di transazione economica nella quale le parti interagiscono elettronicamente.
C La relazione tra l'Internet Service Provider e i suoi clienti.
-
- 33) **Utilizzando il programma di calcolo Excel, quale delle seguenti formule dà errore?**
A =24!10
B 0
C 2410
-
- 34) **Quale dei seguenti termini indica un dispositivo esterno collegato all'unità centrale di un computer?**
A Scheda.
B Periferica.
C Estensione.
-
- 35) **È possibile stampare una e-mail ricevuta con il software di posta elettronica MS Outlook?**
A No, mai
B Sì, sempre.
C Sì, ma solo se è scritta in HTML
-
- 36) **Adobe Reader è:**
A un programma per leggere particolari file non modificabili molto diffusi per la documentazione online
B un programma che gestisce le animazioni del browser
C un programma web per organizzare e condividere le foto
-
- 37) **In un foglio elettronico, il riferimento di cella indica:**

- A le coordinate della cella all'interno della griglia di righe e colonne.
- B il numero del foglio da cui è stata selezionata la cella.
- C il nome della cartella di lavoro da cui è stata selezionata la cella.

38) **In Microsoft Word, attraverso quale menu è possibile inserire un commento?**

- A Revisione
- B Visualizza
- C Dati

39) **Per database query si intende:**

- A I risultati delle ricerche effettuate attraverso uno dei motori di ricerca presenti sul Web.
- B l'interazione con un database per ricercare ed elaborare dati..
- C Il processo di analisi, progettazione e sviluppo di un database relazionale.

40) **Quale tra le seguenti estensioni viene usata per indicare un file di presentazione?**

- A .gif
- B .ppt
- C .rtf

41) **In Microsoft Office Word, è possibile stampare solo alcune righe di testo di un documento?**

- A No, è possibile solo copiare il testo da stampare su un nuovo documento e stampare quest'ultimo.
- B Sì, selezionando il testo, cliccando con il tasto destro del mouse e scegliendo l'opzione "stampa".
- C Sì, selezionando il testo e scegliendo l'opzione "selezione" dalla finestra di stampa.

42) **Un database report:**

- A è un software che consente la creazione, la cancellazione e la modifica dei dati contenuti in un database.
- B è un insieme di dati migrati da un foglio di calcolo su una database relazionale attraverso opportuni strumenti software.
- C è uno strumento per visualizzare, su carta o su video, o per memorizzare su file le informazioni contenute in un database.

43) **Con il comando "Ordina" di Microsoft Word:**

- A si ordinano i documenti presenti nell'elenco dei documenti recenti.
- B si dispone la selezione corrente in ordine alfabetico e numerico.
- C si ordinano i documenti presenti in una cartella.

44) **Nel software PowerPoint della Microsoft le "Clip Art" sono:**

- A sequenze predefinite di comandi.
- B immagini già pronte, in formato digitale, utilizzabili liberamente dall'utente.
- C dati provenienti da un foglio elettronico.

45) **Il Cloud è una tecnologia che consente:**

- A di usufruire, tramite server, di sole risorse hardware per archiviare documenti cartacei.
- B di usufruire, tramite sistemi ibridi, di sole risorse software.
- C di usufruire, tramite server remoto, di risorse software e hardware (come memorie di massa per l'archiviazione di dati).

46) **In un foglio di calcolo ciascuna cella può contenere:**

- A due dati diversi.
- B un insieme di dati.
- C un solo dato.

47) **Il comando "Imposta pagina" di Excel:**

- A può salvare un documento in una cartella diversa da quella originale.
- B può salvare un documento sostituendone la versione precedente.
- C può modificare i margini di un documento.

48) **Partizionare un disco significa:**

- A cancellare tutti i dati.
- B imporre uno specifico formato all'oggetto per la memorizzazione dei dati.
- C suddividere il disco in più unità logiche.

49) **Con quale carattere iniziano le formule utilizzate da Microsoft Excel?**

- A =
- B \$
- C ?

-
- 50) **Tra i seguenti dispositivi informatici è il più obsoleto:**
A floppy disk.
B hard disk.
C CD rom.
-
- 51) **In informatica l'acronimo IMAP significa:**
A Internet Message Access Protocol
B Internet Message Algorithm Protocol
C Internet Message Asynchronous Protocol
-
- 52) **Formattare un testo significa:**
A eliminare il testo selezionato.
B cancellare tutti i file di testo contenuti in una cartella.
C modificare l'aspetto del testo.
-
- 53) **In Microsoft Word, l'interruzione di pagine si inserisce**
A premendo contemporaneamente i tasti CTRL + INVIO
B premendo contemporaneamente i tasti CMD + INVIO
C premendo contemporaneamente i tasti ALT+ INVIO
-
- 54) **Una rete intranet è:**
A una rete aziendale privata completamente isolata dalla rete esterna.
B un altro nome con cui viene chiamata la rete internet.
C una rete locale (LAN) a cui possono accedere liberamente computer-utenti anche esterni all'organizzazione principale.
-
- 55) **Quale delle seguenti applicazioni consente di modificare le impostazioni dello schermo, del mouse e della tastiera in ambiente MS-Windows?**
A Gestione risorse.
B Risorse del computer.
C Pannello di controllo .
-
- 56) **La risoluzione di un monitor si misura in:**
A pixel.
B hertz.
C pollici.
-
- 57) **Supponendo di avere in un foglio Excel i seguenti valori nelle celle: A1=10, A2=4, A3=2, qual è il risultato della formula =(A1+A3) /A3+A2**
A 10
B 9
C 8
-
- 58) **Per inserire una tabella in un foglio di lavoro di Microsoft Excel quale menù si deve selezionare?**
A File
B Formule
C Inserisci
-
- 59) **In informatica con il termine "driver" si intende**
A Un programma di aiuto in linea.
B Un programma per la simulazione di guida.
C Un programma che permette il colloquio tra un computer e una particolare periferica.
-
- 60) **Se in Excel, all'interno di una cella si digita: "+2*2*5-5" e si preme invio, appare:**
A il numero 15
B il numero 5
C il testo "#nome"
-
- 61) **Il tasto CAPS LOCK sulla tastiera serve per:**
A attivare una modalità di inserimento del testo in cui le lettere sono sempre minuscole.
B attivare una modalità di inserimento del testo in cui le lettere sono sempre in grassetto.
C attivare una modalità di inserimento del testo in cui le lettere sono sempre maiuscole.
-
- 62) **Per selezionare un'intera colonna di un foglio di Microsoft Excel è necessario cliccare:**

- A sulla prima cella in alto a sinistra.
- B sulla cella che contiene il nome della colonna.
- C due volte sulla prima cella contenente i dati della riga interessata.

63) **L'acronimo "CCN" che compare generalmente sulle maschere di scrittura di una e-mail significa**

- A Check Controll Nativo
- B Check Concordato Nascosto
- C Copia Conoscenza Nascosta

64) **La funzionalità Orientamento testo di Microsoft Word, applicato a una cella di una tabella, consente di :**

- A Non produce alcun effetto, questo comando non funziona sulle tabelle.
- B non produce alcun effetto, questo comando si applica a tutta la tabella.
- C cambiare l'orientamento del testo nella cella.

65) **Lo scanner è:**

- A un dispositivo che digitalizza immagini tridimensionali.
- B un dispositivo che digitalizza immagini bidimensionali.
- C un software per inviare immagini.

66) **In un elaboratore di testi l'interruzione di pagina permette di:**

- A iniziare la scrittura della pagina successiva dalla posizione corrente.
- B fermare la stesura di un testo e cambiare il layout della tastiera.
- C salvare le pagine separatamente.

67) **Per cambiare le dimensioni della carta su cui stampare un foglio di calcolo si deve:**

- A modificare l'orientamento della carta nelle opzioni di stampa.
- B impostare il cassetto della stampante con il nuovo formato.
- C modificare le dimensioni della carta dal layout di pagina.

68) **Il programma Wordpad serve:**

- A serve per navigare in internet.
- B per l'elaborazione di testi.
- C serve per scrivere e inviare mail.

69) **Un programma di compressione viene utilizzato per:**

- A effettuare una scansione antivirus dell'hard disk di sistema.
- B ridurre le dimensioni di un file o di una cartella.
- C ottimizzare lo spazio libero sull'hard disk o su un altro dispositivo di memoria di massa.

70) **Una periferica Wi-Fi è in comunicazione con uno o più computer se è integrata con:**

- A una scheda di rete wireless.
- B un HUB a più porte Rj45.
- C una porta ad infrarossi Infrared Device Application IrDA.

71) **Supponendo di avere in un foglio Excel i seguenti valori nelle celle: A1=10, A2=4, A3=2, qual è il risultato della formula =A2+A1/A3?**

- A 11
- B 9
- C 12

72) **Nei sistemi operativi con interfaccia utente grafica, un'icona è:**

- A un disegno detto anche ClipArt.
- B la rappresentazione grafica di un oggetto.
- C un tipo di interfaccia usata dal sistema operativo.

73) **Quale tra i seguenti programmi per computer utilizza il peer-to-peer durante il suo consueto funzionamento?**

- A Microsoft Office
- B Windows Media Player
- C eMule

74) **L'acronimo WWW significa:**

- A Worm Wide Web
- B World Wings Web
- C World Wide Web

-
- 75) **In Microsoft WORD per cancellare il testo a sinistra del cursore, si utilizza il tasto:**
A backspace
B ctrl + alt
C cmd+v
-
- 76) **Un archivio di dati è:**
A il campo che identifica in modounivoco il record.
B un insieme integrato di registrazioni con cui effettuare operazioni di ricerca e aggiornamento.
C un insieme di record che descrivono le proprietà specifiche del singolo oggetto.
-
- 77) **L'acronimo URL indica:**
A un'applicazione Web.
B l'indirizzo di una risorsa raggiungibile attraverso Internet.
C un protocollo di comunicazione.
-
- 78) **Un annuncio pubblicitario su una pagina web si indica con il termine:**
A Cookie
B Banner
C Browser
-
- 79) **L'insieme di tecnologie hardware e software che consentono di archiviare ed elaborare dati tramite Web si chiama:**
A Download
B Podcasting
C Cloud Computing
-
- 80) **Perché una password sia efficace:**
A deve comprendere anche caratteri numerici.
B deve essere di poche lettere per ricordarla più facilmente.
C non deve contenere caratteri numerici.
-
- 81) **I tasti funzione sulla tastiera vanno da F1 a:**
A F11
B F12
C F10
-
- 82) **La funzionalità Layout web di Microsoft Word consente di :**
A Controllare quale sarà l'aspetto del documento una volta stampato
B Mostrare l'aspetto del documento come pagina web.
C Visualizzare il documento con un aspetto che favorisce la lettura.
-
- 83) **L'azione di ricevere o prelevare da una rete telematica un file è detta:**
A share
B download
C upload
-
- 84) **Da quanti bit è costituito un Kbyte?**
A 1028
B 8192
C 1000
-
- 85) **Avendo in un foglio Excel i seguenti valori nelle celle: A1=10, A2=4, A3=2, qual è il risultato della formula =(A1*A3)/A2?**
A 6
B 10
C 5
-
- 86) **Con quale sigla si indica l'indirizzo assegnato ai computer collegati a internet?**
A TELNET
B WEB
C IP
-
- 87) **Microsoft Outlook è:**

- A un provider
- B un browser
- C un client di posta elettronica

88) **In ambiente Windows, la sequenza di tasti "ALT + F4"**

- A si usa per mettere il computer in standby.
- B serve per spegnere il computer.
- C serve a chiudere la finestra corrente.

89) **Un file con estensione .mp4 contiene:**

- A testo.
- B musica o video.
- C immagini.

90) **Un Trojan è:**

- A un tipo di cookie.
- B un virus che viene mascherato all'interno di un'applicazione apparentemente inoffensiva.
- C un programma di download di applicazioni.

91) **Con quale termine si indica lo scaricamento di dati da internet?**

- A Download
- B Upload
- C Back up

92) **È un esempio di browser:**

- A Facebook
- B Skype
- C Google Chrome

93) **La ROM è:**

- A una file di sola lettura
- B un'unità input
- C una memoria volatile

94) **L'icona del "lucchetto" in un browser di solito indica:**

- A che il sito è bloccato per intenso traffico
- B che il sito è a pagamento
- C che il sito è protetto da un certificato SSL (per la crittografia e l'integrità dei dati, nonché per l'identificazione certa della fonte).

95) **La tastiera di un computer è normalmente una periferica di:**

- A input
- B input e output
- C output

96) **Quali tra le seguenti affermazioni sul Web è vera?**

- A ha una struttura ipertestuale
- B è nato prima della posta elettronica
- C è composto da sole pagine HTML

97) **Motore di ricerca e directory:**

- A il motore di ricerca è un portale Web, la directory solo un sito.
- B sono la stessa cosa, con la differenza che il motore di ricerca è nato prima della directory.
- C la directory ha un indice (o database) mediamente meno esteso di quello di un motore di ricerca.

98) **Le più popolari famiglie di sistema operativo per personal computer sono:**

- A Windows, Macintosh, Linux/Unix
- B Windows, Linux, Microsoft
- C Windows, Macintosh, Next

99) **Le combinazioni rapida da tastiera per i comandi "copia", "incolla", "taglia" sono rispettivamente:**

- A CTRL+C, CTRL+I, CTRL+T
- B CTRL+C, CTRL+X, CTRL+V
- C CTRL+C, CTRL+V, CTRL+X

-
- 100) Tra le seguenti coppie, indicare quella corretta.**
A .ppt - MS Excel
B .docx - MS Word
C .xls - MS Powerpoint
-
- 101) Un gigabyte corrisponde:**
A a 1 miliardo di byte.
B a 1 milione di byte.
C a 100.000 byte.
-
- 102) Dei seguenti tipi di connessione ad Internet è tipicamente "mobile":**
A Dial-Up
B Wi-Fi
C ADSL
-
- 103) La struttura dei dati su un disco rigido o una memoria di massa**
A può essere definita "non gerarchica"
B può essere definita "ad albero" (file e cartelle.)
C consta di sole cartelle.
-
- 104) La memoria che serve per registrare i dati utilizzati di frequente dalla CPU è:**
A la memoria ROM
B la memoria cache
C la memoria RAM
-
- 105) In un dominio ".edu" sta per:**
A sito accademico / di istituzioni educative (educational)
B sito commerciale
C sito di amministrazione utenti (extended dynamic user)
-
- 106) La parte fisica di un computer viene definita:**
A periferica
B software
C hardware
-
- 107) Un sito web dinamico:**
A è tipicamente composto da pagine modello alimentate da database.
B è programmato con codice fisso, senza l'uso di script in ambiente ASP, PHP, Javascript, ecc
C ha URL più corti.
-
- 108) Compiere un'operazione di backup significa:**
A forzare il caricamento di un file su Internet.
B creare una copia di sicurezza dei dati.
C sostenere il computer nei momenti di massimo sforzo computazionale.
-
- 109) Quali tra le seguenti non è unità periferica?**
A Mouse.
B Memoria a sola lettura.
C Tastiera.
-
- 110) Quale unità non è mai alloggiata nel Case?**
A Motherboard.
B Floppy disk.
C Tastiera.
-
- 111) In Windows, quale sequenza di operazioni sposta un file in un'altra posizione, cancellandolo da quella originale?**
A Taglia/Incolla.
B Copia/Incolla.
C Copia/Taglia.
-
- 112) Nei più diffusi programmi di posta elettronica, quando si "cancella" un'e-mail:**
A viene definitivamente eliminata dalla memoria del computer
B viene spostata nella cartella posta eliminata
C l'operazione viene segnalata al mittente dell'e-mail

-
- 113) **L'estensione ".zip" che segue il nome del file in Windows, indica:**
A file di testo.
B file compressi.
C database.
-
- 114) **Un modem esterno:**
A è più veloce del modem interno.
B si collega generalmente ad uno degli slot di espansione disponibili.
C si collega generalmente a una porta seriale del computer.
-
- 115) **Nel software di posta elettronica MS Outlook, l'opzione "Inoltra" consente di:**
A inserire un nuovo indirizzo nella rubrica.
B inserire un file nel corpo della mail.
C inviare una e-mail ricevuta a un altro destinatario.
-
- 116) **Indicare l'affermazione è corretta.**
A Un kilobyte contiene 1024 byte.
B Un terabyte contiene 1024 byte.
C Un gigabyte contiene 1024 byte.
-
- 117) **Windows è:**
A Un sistema operativo.
B Un file eseguibile.
C Un tipo di computer fisso.
-
- 118) **La freccia che rappresenta il mouse sul monitor è chiamata:**
A cursore.
B puntatore.
C evidenziatore.
-
- 119) **In Excel, una tabella pivot:**
A Uno strumento analitico e di reporting necessario alla creazione di tabelle riassuntive.
B è un documento di calcolo necessario per creare grafici.
C è un grafico che riassume statistiche e formule matematiche.
-
- 120) **Quante pagine può contenere un documento Word?**
A Un numero teoricamente illimitato.
B Non oltre 500 pagine.
C Fino a 1000 pagine.
-
- 121) **In ambito informatico, il TCP/IP:**
A Un insieme di protocolli di comunicazione, usato su reti diverse da Internet e dalle reti locali
B è un insieme di protocolli di comunicazione usato su Internet e su reti locali
C Un insieme di protocolli di comunicazione usato su reti locali ma non su Internet
-
- 122) **In informatica, il termine VoIP definisce:**
A un programma che consente comunicazioni vocali attraverso Internet, come Skype.
B un protocollo di trasmissione della posta elettronica.
C una tecnologia che consente di effettuare una conversazione analogica a quella che si potrebbe ottenere con una rete telefonica.
-
- 123) **Il termine "modem" significa:**
A significa Modern Module.
B modulatore-demodulatore.
C deriva dal nome della prima azienda che ha costruito questo apparecchio.
-
- 124) **Non è un sistema operativo:**
A Windows
B Office
C Android
-
- 125) **È chiamato Arpanet:**

- A Il server centrale di Internet.
- B Il primo prototipo della rete Internet.
- C Un programma per navigare in Internet.

126) **In un computer, una scheda di rete è un elemento:**

- A software
- B hardware
- C firmware

127) **Si può definire un "Sistema Operativo" come:**

- A il metodo con cui opera il PC.
- B l'insieme di tutti i programmi installati in un PC.
- C una interfaccia tra l'utente e l'hardware del sistema.

128) **Quale dei seguenti software è un sistema operativo per computer?**

- A Mac OS
- B Excel
- C Word

129) **Tra i seguenti software è un famoso browser Internet:**

- A Mozilla Firefox
- B Netscape Explorer
- C File Navigator

130) **Il "modem" permette di:**

- A utilizzare un cavo seriale per il passaggio di dati tra computer.
- B utilizzare la rete telefonica per il passaggio di dati tra computer.
- C utilizzare un cavo parallelo per il passaggio di dati tra computer.

131) **In una e-mail, il campo "ccn:" (o "bcc:" in inglese), in cui è possibile inserire il nome dei destinatari:**

- A recapita il messaggio nascondendo al destinatario principale i nomi degli altri destinatari in esso contenuti.
- B corrisponde alla dicitura presente in alcune lettere cartacee: "per conoscenza".
- C specifica gli indirizzi dove vanno recapitate eventuali risposte.

132) **Quando si riceve un'e-mail con un allegato è opportuno:**

- A riavviare il computer.
- B modificarne l'estensione.
- C controllarla con un antivirus aggiornato.

133) **Le dimensioni di un monitor si misurano in:**

- A millimetri
- B byte
- C pollici

134) **Il software Excel permette di impostare l'intestazione di ciascun foglio stampato?**

- A No, in alcun modo.
- B | Sì, dal comando Proprietà del menu File.
- C Sì, con il comando "Intestazione e piè di pagina.

135) **Nel software MS Word, che cosa si può fare con la stampa unione?**

- A Stampare modelli di documenti predefiniti in cui variano i dati specifici di ogni copia.
- B Unire più documenti in uno.
- C Stampare soltanto una sezione di pagine di un documento.

136) **I comando "Annulla" presente nelle ultime versioni di Word permette di:**

- A ripristinare il documento nella versione precedente all'ultima modifica.
- B chiudere il documento salvandolo.
- C salvare il documento in una cartella diversa da quella originale.

137) **Applicazioni, documenti, cartelle o dispositivi sono rappresentati sul monitor:**

- A da applicazioni
- B da icone
- C da tasti

-
- 138) **Quale tra i seguenti programmi NON è un client di posta elettronica?**
A Microsoft Outlook
B Mozilla Thunderbird
C Mozilla Firefox
-
- 139) **Dei seguenti programmi ha funzionalità analoghe a Microsoft Excel 2007 e ne rappresenta un'alternativa:**
A OpenOffice Calc
B Mozilla Firefox
C Adobe Acrobat
-
- 140) **Quale dei seguenti è un URL?**
A microsoft.com
B http://www.microsoft.com
C luca@dominio.it
-
- 141) **In MS-Word, qual è l'opzione da utilizzare per correggere un errore ricorrente?**
A Trova e sostituisci
B Modifica
C Visualizza
-
- 142) **Quale dei seguenti marchi è diventato famoso per avere proposto per primo il personal computer "user-friendly"?**
A Dell
B Lenovo
C Apple
-
- 143) **Quale tra i seguenti è un social network su Internet?**
A Google
B Facebook
C Microsoft
-
- 144) **Quale delle seguenti aziende opera esclusivamente attraverso commercio elettronico?**
A Amazon
B Microsoft
C IBM
-
- 145) **Quale tra i seguenti è un motore di ricerca su Internet?**
A Google Search
B Adobe Reader
C Microsoft Office
-
- 146) **Quale dei seguenti programmi per computer utilizza la tecnologia VoIP?**
A eMule
B Skype
C Windows Media Player
-
- 147) **In Microsoft Excel utilizzando il tasto TAB:**
A si scorre tra celle della stessa riga
B si crea un nuovo folder
C si chiude il documento
-
- 148) **Che cos'è un firewall?**
A un componente passivo di difesa perimetrale di una rete informatica.
B un componente sia hardware che software per la manutenzione della rete internet.
C un sistema antivirus basato su una componente hardware.
-
- 149) **Che cos'è il mouse?**
A Un sistema che consente di controllare i movimenti del puntatore sullo schermo.
B Un sistema audio e video per la consultazione di programmi multimediali.
C Il software utilizzato per trasferire su floppy disk i dati contenuti nella memoria del computer.
-
- 150) **Individuare la definizione corretta.**

- A C++ è un protocollo di rete.
- B C++ è un linguaggio di programmazione.
- C C++ è un software di videoscrittura.

151) **Tra i seguenti suffissi dei domini internet di primo livello generici, quale è aperto a qualsiasi persona o entità e ne è permessa la registrazione?**

- A museum
- B net
- C .gov

152) **Un data base è:**

- A un programma che permette di gestire le note a pie' di pagina
- B un programma di gestione dei set grafici
- C un insieme di informazioni organizzate secondo una serie di relazioni e gestite da un elaboratore elettronico

153) **Skype è un programma:**

- A che consente di collegarsi a Internet.
- B che consente di visualizzare documenti in PDF.
- C che consente di effettuare telefonate attraverso un computer.

154) **In informatica, il termine open source indica:**

- A un software rilasciato con una sola licenza.
- B un software la cui licenza si deve retribuire ad un gruppo di sviluppatori liberi.
- C un software il cui codice sorgente è lasciato alla disponibilità di eventuali sviluppatori.

155) **Il contenuto di un file con l'estensione .jpeg potrebbe essere:**

- A un documento
- B un video
- C un'immagine

156) **Una Local Area Network (LAN) è:**

- A una rete che connette più computer in un edificio o in un complesso di edifici localmente vicini
- B una rete distribuita a livello nazionale che connette i computer di una singola organizzazione, chiusa all'accesso esterno
- C una rete che connette un numero limitato di computer, inferiore a 256

157) **Come si conferma l'inserimento di un'informazione in una cella di un foglio di lavoro di Microsoft Excel?**

- A Spostarsi in una qualsiasi altra cella.
- B Cliccare due volte sulla cella.
- C Premere il tasto INS sulla tastiera.

158) **Quale dei seguenti file è opportuno allegare a un messaggio di posta elettronica per essere certi che il provider del destinatario non lo rifiuti per ragioni di sicurezza?**

- A Un file di testo con estensione .txt
- B Un programma con estensione .exe
- C | Un file di Word contenente macro con estensione .doc

159) **Internet si può definire:**

- A un protocollo per la gestione della rete
- B un programma per la gestione di reti collegate tra loro
- C un sistema che permette a diverse reti di collegarsi fra loro

160) **Il termine RAM è l'acronimo di:**

- A Readonly Access memory
- B Random Access Memory
- C Read Access Memory

161) **In ambiente Windows, la combinazione dei tasti di scelta rapida "CTRL+C" permette...**

- A di tagliare l'elemento selezionato
- B di copiare l'elemento selezionato
- C di incollare l'elemento selezionato

162) **Nella terminologia informatica, che cosa significa "salvare"?**

- A Memorizzare
- B Ripristinare
- C Recuperare

-
- 163) **In Excel, se la barra della formula non fosse visualizzata, è necessario attivarla:**
- A mediante il comando "visualizza formula" nel menu "modifica"
 - B mediante il comando "Barra della formula" nel menu "Visualizza"
 - C attivarla mediante il comando "mostra le formule" nel menu "file"
-
- 164) **Il GIF è un formato di file informatici utilizzato:**
- A per le immagini
 - B per i file di testo
 - C per i fogli di calcolo
-
- 165) **Quale tra le seguenti attività NON richiede necessariamente la connessione a Internet?**
- A Le comunicazioni vocali basate su VoIP
 - B La distribuzione di pagine web
 - C La trasmissione analogica di programmi radio
-
- 166) **Lo spoofing è:**
- A un antivirus di nuova generazione
 - B un tipo di attacco informatico dove, in qualche modo, avviene la falsificazione dell'identità
 - C un dispositivo hardware che serve per filtrare i pacchetti in entrata dalla rete
-
- 167) **Il termine "Open Source" indica:**
- A un software i cui autori ne consentono lo studio e le modifiche da parte di altri programmatori
 - B un documento costituito da testo e immagini collegati l'uno all'altro per mezzo di connessioni logiche e rimandi
 - C un dispositivo software utile ad evitare attacchi o infiltrazioni nella rete Internet
-
- 168) **Quale tra i seguenti NON è un motore di ricerca su Internet?**
- A Yahoo! Search
 - B Twitter
 - C Bing
-
- 169) **Perché si dice che la tastiera del computer è basata sul sistema QWERTY?**
- A Perché in questo modo si riduce l'incidenza degli inceppamenti
 - B Perché indica i primi sei tasti presenti in alto a sinistra determinando la disposizione dei tasti rispetto ad altri dispositivi di dattilografia
 - C Perché in questo modo si utilizza la tastiera più velocemente rispetto ad altri dispositivi di dattilografia
-
- 170) **Quale tra le seguenti multinazionali annovera l'americano Bill Gates tra i suoi fondatori?**
- A Epson
 - B Microsoft
 - C Macintosh
-
- 171) **Con i più comuni programmi di posta elettronica, quale delle seguenti azioni NON è possibile compiere dopo aver ricevuto un messaggio?**
- A Selezionare parte del testo del messaggio
 - B Spostare il messaggio nel cestino
 - C Rimuovere il messaggio dalla cartella "Inviati" del mittente
-
- 172) **Quale tra i seguenti siti web ospita un'enciclopedia collaborativa online?**
- A www.google.it
 - B en.wikipedia.org
 - C www.corriere.it
-
- 173) **Nei sistemi operativi con il termine cartella si indica:**
- A una qualsiasi icona del Desktop che rappresenta programmi e documenti elaborati dall'utente.
 - B uno strumento che rende più razionale l'organizzazione dei file su un dispositivo di memoria di massa.
 - C un insieme di dati presenti nella memoria RAM durante l'esecuzione di un programma.
-
- 174) **Che cos'è un telefono VoIP?**

- A Un sistema GPS
 - B Un telefono satellitare
 - C Un software telefonico o un dispositivo hardware che permette agli utenti di fare chiamate a qualsiasi softphone, cellulare o linea tradizionale
-

175) Un computer privo di sistema operativo:

- A non funziona
 - B funziona per attività grafica
 - C può funzionare solo per operazioni semplici
-

176) Tra i seguenti è un sistema operativo:

- A Excel
 - B MS Access
 - C MS-DOS
-

177) Quale delle seguenti affermazioni è corretta?

- A Il world wide web è un'estensione di Windows
 - B Il world wide web è uno dei principali servizi di Internet
 - C Il world wide web opera attraverso la posta elettronica
-

178) Quanti bit ci sono in due byte?

- A 16 bit
 - B 1024 bit
 - C Un solo bit
-

179) Di solito il disco fisso è indicato con la lettera:

- A A
 - B C
 - C D
-

180) La codifica dell' algoritmo che il computer deve eseguire è definita:

- A protocollo.
 - B linguaggio di programmazione.
 - C codice binario.
-

181) Quali tra le seguenti affermazioni è corretta? ASCII è:

- A un formato per la memorizzazione di stringhe di bit
 - B un formato per la memorizzazione dei tasti
 - C l'acronimo di American Standard Code for Information Interchange
-

182) Quale dei seguenti è un programma per l'elaborazione di immagini?

- A Photoshop.
 - B Writer.
 - C Adobe.
-

183) Quale dei seguenti caratteri non può essere contenuto nel nome di un file?

- A &
 - B @
 - C \
-

184) Per abbandonare un documento senza salvare le modifiche effettuate,....

- A Si chiude il documento e si seleziona "ANNULLA" sulla finestra che appare successivamente alla chiusura del file.
 - B Bisogna selezionare dal menù File l'opzione Chiudi senza Salvare.
 - C Si chiude il documento e si seleziona "NO" sulla finestra che appare successivamente alla chiusura del file.
-

185) In ambiente Windows, all'accensione del computer, premendo il tasto F8

- A Il computer si spegne.
 - B Il computer si avvia in modalità provvisoria.
 - C Il computer resta in Standby.
-

186) Un file con estensione .XLS è:

- A un file eseguibile.
- B un file di sistema.
- C un file di calcolo.

-
- 187) Quale, tra i seguenti nomi, non identifica un tipo di stampante?**
A Binprint.
B Laser.
C InkJet.
-
- 188) Una libreria software è:**
A un insieme di programmi.
B una raccolta di ebook.
C un insieme di trentadue file di testo che trattano lo stesso argomento.
-
- 189) In Microsoft Outlook, la presenza di un "punto esclamativo" di colore rosso in corrispondenza di un messaggio,....**
A Indica che al messaggio è allegato un file.
B Indica che il messaggio è stato inviato con "Alta Priorità".
C Indica che il messaggio ha un contenuto dubbio, quindi occorre fare attenzione ad aprirlo.
-
- 190) Un virus benigno:**
A tiene traccia, senza diritto, degli accessi alla rete.
B danneggia il computer.
C visualizza messaggi sullo schermo o riduce le prestazioni del computer, ma non distrugge i dati contenuti.
-
- 191) L'utilizzo illecito di programmi è perseguibile in base alle leggi che proteggono:**
A la privacy.
B i diritti d'autore.
C i brevetti.
-
- 192) Cosa significa che la risoluzione di uno schermo è 640 x 480?**
A Che l'area dello schermo è suddiviso in 640 x 480 punti.
B Che l'area dello schermo è di 640 x 480 mm.
C Che si possono visualizzare 480 sfumature di 640 colori base.
-
- 193) La differenza sostanziale tra CD e DVD consiste:**
A nel fatto che il CD viene utilizzato per memorizzare tutti i tipi di file mentre il DVD solo per i file multimediali.
B nel fatto che il CD viene utilizzato unicamente per memorizzare file multimediali mentre il DVD per tutti i tipi di file.
C nella quantità massima di dati memorizzabili, circa 700 Mb per il CD e circa 4.7 Gb per il DVD.
-
- 194) Se, durante l'installazione di un nuovo software, il programma di installazione richiede di disattivare il software antivirus, cosa è corretto fare?**
A Si tratta di un messaggio di errore frequente, si può ignorare il messaggio e continuare l'installazione.
B Poiché il programma antivirus non è compatibile con il nuovo software è necessario rimuovere completamente l'antivirus, oppure rinunciare ad utilizzare quel software.
C Disattivare il software antivirus durante l'installazione e riattivarlo al termine dell'operazione.
-
- 195) Quando su un PC sono installate diverse stampanti, la predefinita è quella:**
A in cui il computer effettua di default le stampe a meno che non vengano date istruzioni diverse.
B collegata alla porta USB.
C collegata alla porta seriale.
-
- 196) Con quale strumento archiviato nel disco fisso di un utente è possibile ottenere informazioni sulle abitudini di quell'utente quali, ad esempio, il numero di volte che ha visitato un sito Web?**
A Cookie.
B Info-bit.
C Info-byte.
-
- 197) Una scheda audio è:**
A una scheda di espansione in grado di convertire dei dati digitali in segnali audio (analogici e/o digitali) e viceversa.
B il contenitore in cui sono installati e connessi tutti i componenti dell'unità centrale del computer.
C un'unità hardware di stampa vettoriale.
-
- 198) Quale di queste operazioni non ha come scopo la protezione dei dati su un disco?**
-

- A Uso periodico dell'antivirus.
- B Crittografia.
- C Formattazione del disco fisso.

199) **Per cosa è utilizzato il programma Word di Microsoft o Writer di Open Office?**

- A Per elaborare testi.
- B Per elaborare fogli elettronici.
- C Per connettersi ad Internet.

200) **Qual è la funzione del pulsante rispondi di Microsoft Outlook?**

- A inoltrare il messaggio a tutti gli indirizzi contenuti nei contatti.
- B rispondere al mittente del messaggio.
- C rispondere nel caso di ricevimento di messaggi audio.

201) **Osservando la tastiera "QWERTY", da sinistra a destra sulla stessa riga, quale tasto precede il tasto "K" ?**

- A il tasto G
- B il tasto L
- C il tasto J

202) **URL è l'acronimo:**

- A United Resource Linux.
- B Uniform Resource Locator.
- C Uniform Roming Universal.

203) **La sigla http che compare negli indirizzi Internet significa:**

- A High Text Transfer Processing.
- B HyperText Transfer Protocol.
- C Hyper Tool Transfer Protocol.

204) **Il termine byte deriva dall'inglese "bite" che significa:**

- A battito
- B unità
- C morso

205) **La sigla FTP indica:**

- A L'area della memoria fisica su cui si allocano i blocchi dati.
- B Il servizio che definisce le regole di trasmissione file in una rete TCP/IP.
- C Un protocollo di livello fisico.

206) **Il protocollo utilizzato per amministrare remotamente un server tramite linea di comando si chiama:**

- A TELNET
- B HTTP
- C SNMP

207) **Per inserire un'immagine in un documento di testo si deve selezionare:**

- A allinea immagine.
- B stili immagine.
- C inserisci immagine.

208) **Nell'ambito dei sistemi operativi, la cosiddetta "risoluzione dei nomi" ha come fine la ricerca:**

- A dato un indirizzo IP, del relativo nome host
- B dato un nome host, del relativo indirizzo IP
- C la ricerca di informazioni sugli strumenti di amministrazione

209) **I segnalibri, nei documenti Microsoft Word, sono:**

- A applicazioni per la ricerca di fonti bibliografiche.
- B programmi di impaginazione che permettono di gestire le note a pie' di pagina.
- C collegamenti ipertestuali che consentono di passare da un punto di un documento a un altro.

210) **Cosa si intende per URL?**

- A L'indirizzo di una risorsa su internet, tipicamente un testo o una immagine.
- B L'insieme di procedure che servono a governare lo scambio di dati tra elaboratori.
- C la struttura principale di una pagina Web quando è divisa in aree.

-
- 211) **È possibile consultare un sito web senza una connessione di rete?**
- A Dipende dal programma di posta elettronica in uso, ma sarà comunque sempre possibile consultarne una copia risalente alla nostra ultima visita al sito web
 - B Dipende dal programma in uso, ma non sarà mai possibile consultarne la versione più aggiornata
 - C Sì, benché sia necessario più tempo che con una connessione di rete
-
- 212) **Che cos'è il Macintosh?**
- A Un programma di grafica.
 - B Un motore di ricerca.
 - C Il personal computer della Apple.
-
- 213) **Una "smart card" è:**
- A la licenza di un provider.
 - B un sistema che consente ad un utente di condividere i propri file con altri utenti che si trovano sulla stessa rete.
 - C una carta con un chip integrato che può registrare dati di diverso tipo, che un apposito lettore può rendere disponibili.
-
- 214) **Nella tipologia di rete a stella:**
- A tutti i computer sono connessi da un singolo cavo.
 - B i computer sono connessi ad un componente centrale chiamato Hub.
 - C i computer sono connessi tramite un unico cavo circolare privo di terminatori.
-
- 215) **In ambiente Windows, generalmente l'icona associata a una cartella è di colore:**
- A bianco
 - B giallo
 - C verde
-
- 216) **Un hashtag è:**
- A un virus nascosto all'interno di un'applicazione apparentemente inoffensiva.
 - B un documento costituito da testo e immagini collegati l'uno all'altro per mezzo di connessioni logiche.
 - C una parola o una frase priva di spazi preceduta dal simbolo cancelletto (#).
-
- 217) **Directory è sinonimo di:**
- A file.
 - B cartella.
 - C applicazione.
-
- 218) **Un sistema di file sharing è:**
- A un sistema che consente ad un utente di condividere i propri file con altri utenti che si trovano sulla stessa rete o su internet.
 - B un software telefonico o un dispositivo hardware che permette agli utenti di fare chiamate a qualsiasi softphone, cellulare o linea tradizionale.
 - C un'applicazione per archiviare i file.
-
- 219) **Per collegare il computer in rete locale, quale supporto hardware occorre?**
- A Cd-rom.
 - B Scheda di rete.
 - C Masterizzatore.
-
- 220) **La trasmissione di pagine web utilizza:**
- A Il protocollo HTTP
 - B Il protocollo FTP
 - C Il protocollo PPTP
-
- 221) **Che cosa si intende per Wi-Fi?**
- A Reti locali senza fili.
 - B Windless Fidelity.
 - C Una procedura di certificazione.
-
- 222) **Spostare un file contenuto in una cartella del disco fisso in un' altra cartella:**
- A è possibile trascinando l'icona del file sull'icona della cartella di destinazione.
 - B non è possibile.
 - C è possibile solo se la cartella è condivisa.

-
- 223) La rete ISDN:**
- A è un modello di trasmissione, basato sulla commutazione a pacchetto, che permette a più utenti di condividere i medesimi circuiti
 - B consente la trasmissione di dati in forma digitale in cui il segnale non viene modulato secondo una determinata onda, ma codificato e inviato lungo la linea come una lunga sequenza di zero e uno
 - C trasmette una notevole quantità di dati utilizzando la tradizionale linea telefonica analogica
-
- 224) Quando si formatta una pendrive:**
- A nella pendrive vengono inseriti degli antivirus in appositi settori.
 - B la pendrive diventa di sola lettura.
 - C la pendrive viene preparata a ricevere i dati presenti sul computer dell'utente.
-
- 225) DOS è l'acronimo di:**
- A Disk Operating System
 - B Double Office System
 - C Disk Office Organization
-
- 226) Il "time out" è:**
- A il segnale che indica la fine del download di un file.
 - B il segnale che indica che il lavoro è stato salvato con successo.
 - C un evento che si verifica quando un apparato di rete non riceve la risposta che aspetta da un altro apparato di rete, entro un tempo predefinito.
-
- 227) La compressione di uno o più file/cartelle genera:**
- A file nascosti.
 - B un solo file di dimensioni più piccole.
 - C un file non trasmissibile via email.
-
- 228) Quale tra le seguenti è l'estensione che contraddistingue un file di testo?**
- A .jpg
 - B .txt
 - C .pdf
-
- 229) Quali fra le periferiche indicate si può considerare sia di Input che di Output?**
- A monitor touch screen.
 - B lo scanner.
 - C stampante.
-
- 230) In un processore, la Cache Memory è usata per:**
- A velocizzare l'accesso alla RAM
 - B proteggere il sistema da eventuali virus
 - C aumentare la capacità dei dischi
-
- 231) Una rete sociale virtuale (social network) è formata da persone che comunicano via Internet:**
- A per accedere a uno specifico sistema che permette la condivisione di contenuti multimediali.
 - B per scambiarsi con un sistema uno a molti messaggi di testo.
 - C mediante un forum che richiede la presenza contemporanea di più persone.
-
- 232) Il termine slide show indica:**
- A un software di elaborazione video.
 - B una sequenza di immagini.
 - C un software di elaborazione testi.
-
- 233) Impostare una chiave primaria in una tabella di un database serve:**
- A a eseguire una ricerca sui campi di testo di un database.
 - B a identificare in modo univoco un record della tabella.
 - C a identificare in modo univoco una tabella del database.
-
- 234) La velocità di un processore si misura in:**
- A Hertz
 - B Giga
 - C Bit
-
- 235) In un programma di presentazione le note dell'autore:**

- A sono visualizzate a sinistra della diapositiva cui si riferiscono.
- B sono visualizzate sotto alla diapositiva cui si riferiscono.
- C sono visualizzate dopo la diapositiva cui si riferiscono.

236) Per Sistema Informativo si intende:

- A un insieme di database memorizzati nella rete informatica di un'organizzazione.
- B l'insieme delle informazioni necessarie a una organizzazione per gli adempimenti fiscali e amministrativi.
- C l'insieme delle procedure necessarie per acquisire, elaborare e distribuire le informazioni richieste dalla gestione di una organizzazione.

237) Per netiquette si intende:

- A l'insieme delle norme legali a cui si deve attenere un provider per fornire il servizio di posta elettronica in rete.
- B l'insieme delle regole elementari di buon comportamento che ogni utente deve seguire in rete.
- C l'insieme delle regole ortografiche che devono essere seguite a livello internazionale per la composizione dei messaggi di posta elettronica.

238) Un Internet Service Provider è:

- A un gestore di linee telefoniche.
- B una struttura commerciale o una organizzazione che offre agli utenti accesso a Internet .
- C una rete di server collegati ad Internet.

239) Una stampante laser ha tra le sue componenti:

- A nastro inchiostro.
- B ugelli.
- C tamburo fotosensibile.

240) Per mp3 si intende:

- A la terza generazione dei processori che operano in multitasking
- B un sistema di multiprogrammazione di terzo livello
- C un formato di compressione dei file audio.

241) L'insieme delle regole che permette ai computer di scambiarsi informazioni è detto:

- A provider.
- B protocollo.
- C processo.

242) Il servizio Webmail permette di:

- A consultare la posta elettronica da qualsiasi computer collegato a Internet, purché su di esso sia presente un apposito programma diverso dal browser.
- B consultare la posta elettronica da qualsiasi computer collegato a Internet tramite il browser.
- C scaricare la posta elettronica soltanto utilizzando i programmi indicati dal provider.

243) La mailing list è:

- A un sistema di comunicazione asincrono uno a molti basato sul servizio di posta elettronica.
- B un sistema di comunicazione in tempo reale per trasmettere messaggi di testo agli utenti connessi in quel momento.
- C un sistema di comunicazione asincrono in cui ogni utente iscritto può memorizzare un messaggio.

244) La "Barra delle applicazioni" di Windows:

- A Può essere posizionata in un punto qualsiasi dello schermo.
- B Può essere posizionata indifferentemente lungo uno dei 4 lati dello schermo.
- C Viene installata dal sistema operativo nella parte bassa dello schermo e non può essere spostata dall'utente.

245) Il termine chip in informatica significa:

- A Conventional High Integrated Processor
- B circuito integrato
- C transistor

246) Nei personal computer, l'interfaccia EIDE riguarda:

- A solo la stampa.
- B la memoria di massa.
- C solo l'audio.

247) Il termine ranking si riferisce:

- A al posizionamento e alla visibilità di un sito internet
- B al numero di accessi registrati quotidianamente da un sito internet
- C alla password per aprire un messaggio protetto

248) Per Search Engine Optimization (SEO) si intende:

- A un'attività volte a migliorare il posizionamento (ranking) e la visibilità di un sito internet
- B le pagine di risposta alle interrogazioni degli utenti del web.
- C alcune componenti personalizzabili che possono essere inseriti in un sito internet

249) I tre principali modelli logici dei dati in un Database Management System sono:

- A gerarchico, reticolare, relazionale
- B ad alias, lineare, redazionale
- C logistico, locale, parziale

250) È un motivo di preferenza per la fibra ottica il fatto che:

- A è più semplice da mettere in opera.
- B è più facile installarne i terminali.
- C non subisce interferenza elettrica.

251) Qual è la differenza tra l'indirizzo MAC e indirizzo IP?

- A L'indirizzo MAC viene assegnato dal produttore come hardware e può cambiare nel tempo. L'indirizzo IP è fisso e viene assegnato a livello software.
- B L'indirizzo MAC è fisso ed è assegnato dal produttore a livello hardware. L'indirizzo IP viene assegnato a livello software e può cambiare nel tempo.
- C L'indirizzo MAC identifica i dispositivi della Apple, L'indirizzo IP identifica i dispositivi Microsoft. Entrambi sono fissi e assegnati a livello hardware dal produttore.

252) Per Anchor Text si intende:

- A Le parole di un link sottolineate in blu sulle quali cliccare per collegarsi al sito.
- B Un codice di identificazione costituito da un insieme di elementi grafici.
- C Un elemento pubblicitario utilizzato sul web che può essere un'immagine, un video o un semplice testo.

253) La CPU (Central Process Unit) è un componente del computer che ha la funzione di:

- A gestire la rete.
- B memorizzare programmi.
- C eseguire elaborazioni.

254) Microsoft Word utilizza spesso combinazioni di colori e sottolineature per richiamare l'attenzione sul testo del documento. Per indicare un possibile errore ortografico la sottolineatura ondulata che appare è:

- A di colore blu.
- B di colore rosso.
- C di colore grigio.

255) In Windows il tasto F3:

- A permette di ricaricare una pagina o un contenuto visualizzato.
- B consente di avviare la ricerca rapida di file e cartelle.
- C consente di rinominare file e cartelle previa selezione dell'elemento di riferimento.

256) Le estensioni ".txt", ".rtf", ".doc" sono riconducibili a:

- A file di testo.
- B file audio.
- C file video.

257) Per navigare tra le applicazioni aperte occorre premere i tasti:

- A Ctrl+Alt+Canc.
- B Alt+Tab
- C Shift+Alt

258) Firewall è:

- A un motore di ricerca.
- B un software che "brucia" i virus presenti nel computer.
- C un tipo di immagine per lo sfondo del desktop.

259) In Windows si può impostare l'intervallo temporale oltre il quale lo schermo si spegne o entra in pausa?

- A Solo nei monitor a cristalli liquidi.
- B No, mai.
- C Sì, sempre.

260) **Su un PC, modificando l'impostazione della risoluzione dello schermo da 640 x 480 a 1024 x 768, si otterrà l'effetto di....**

- A Diminuire il numero di colori possibili.
- B Rimpicciolire gli oggetti mostrati a video.
- C Aumentare il numero di colori possibili.

261) **A quale paese appartiene il sito "http://www.italia.fl"?**

- A Finlandia
- B Italia.
- C Inghilterra

262) **Non è un modello logico di database:**

- A relazionale
- B reticolare
- C referenziale

263) **Quale, tra i seguenti, è un esempio di funzione di aggregazione dell'istruzione select?**

- A count
- B order by
- C group by

264) **Che cos'è un record**

- A Una riga di una delle tabelle che rappresentano il database.
- B Un software di ricerca di dati memorizzati nel database
- C Una relazione tra due differenti campi di una delle tabelle che rappresentano il database.

265) **In quale anno è nato il sistema operativo Windows 10?**

- A 2019
- B 2008
- C 2015

266) **Per laptop si intende:**

- A un cartella contenente i file più estesi.
- B lo schermo del computer
- C un computer portatile.

267) **Un byte corrisponde a:**

- A 8 bit
- B 4 bit
- C 10 bit

268) **Quale acronimo indica l'interfaccia grafica?**

- A GUI
- B LCD
- C IG

269) **L'indirizzo IP:**

- A viene assegnato a livello software
- B può cambiare nel tempo
- C è assegnato dal produttore

270) **Arpanet è:**

- A Un programma per navigare in Internet
- B Un motore di ricerca Internet
- C Il primo prototipo della rete Internet

271) **FTP significa:**

- A primaria telecomunicazione dei file
- B protocollo di trasferimento file
- C presentazione telematica dei file

-
- 272) **Che cos'è un notebook?**
A Un computer portatile.
B Un computer da tavolo
C Non è un computer
-
- 273) **Come è composto il computer ?**
A Freeware e antivirus
B Software e freeware
C Hardware e software
-
- 274) **In un computer per hardware si intendono:**
A le componenti fisiche
B i programmi
C le istruzioni
-
- 275) **Quali tra questi sono sistemi operativi ?**
A Hardware e Case
B Software e mouse
C Windows e Linux
-
- 276) **Il programma Excel o Calc serve a**
A creare presentazioni
B eseguire calcoli e creare grafici
C elaborare testi ed interi libri
-
- 277) **A che cosa serve Live Mail o Thunderbird ?**
A Navigare in Internet
B Gestire la posta elettronica
C Creare pagine web
-
- 278) **Il termine "login" si riferisce alla procedura:**
A di ingresso
B di salvataggio
C di registrazione
-
- 279) **Quale tra i seguenti indirizzi Internet appartiene ad un sito del Portogallo?**
A <http://www.uniroma.it>
B <http://www.italienne.fr>
C <http://www.studioinglese.pt>
-
- 280) **Quale delle seguenti unità di memoria non consente la modifica dei dati in essa contenuti?**
A ROM.
B Pendrive
C Hard disk.
-
- 281) **Google Chrome è un:**
A motore di ricerca.
B browser.
C social network.
-
- 282) **Con il termine 5G si indica:**
A l'insieme delle tecnologie e degli standard più avanzati nella trasmissione di dati.
B l'insieme delle tecnologie e degli standard di quinta generazione della telefonia cellulare.
C l'insieme delle tecnologie e degli standard ormai obsoleti della telefonia mobile.
-
- 283) **Lo pseudonimo usato dagli utenti di Internet per identificarsi evitando il proprio nome reale è detto:**
A identity
B indirizzo ip
C nickname
-
- 284) **L'insieme di funzionalità, strumenti e contenuti attribuiti a un nome utente in determinati siti web è detto:**
A browser
B account
C provider

-
- 285) **Nei sistemi operativi Windows, a cartella Temporary Internet Files contiene:**
A i file di back up
B la memoria cache di MS Internet Explorer
C la posta eliminata
-
- 286) **L'insieme di istruzioni che deve essere applicato per eseguire un'elaborazione o risolvere un problema è chiamato:**
A interfaccia
B algoritmo
C elaboratore
-
- 287) **L'advertising digitale (ADV) è**
A il programma predefinito per aprire un tipo di file.
B una tecnologia applicata nella trasmissione e la ricezione di dati ad alta velocità su una normale linea telefonica.
C la divulgazione di annunci promozionali tramite messaggi recapitati tramite e-mai.
-
- 288) **Quanti caratteri diversi possono essere rappresentati nel codice ASCII ?**
A 256
B un numero infinito
C 8
-
- 289) **I pop-up sono:**
A Software su un sito web che effettuano ricerche su un data base.
B Finestre o riquadri, che compaiono automaticamente durante l'uso di un'applicazione per attirare l'attenzione dell'utente.
C Mail inviate periodicamente come "aggiornamento informativo" a un database di utenti predefinito.
-
- 290) **Le parole di un link sottolineate in blu sulle quali cliccare per collegarsi al sito sono chiamate:**
A anchor text
B inquiry
C keyword
-
- 291) **Un ricerca d'informazioni su un mercato, un prodotto, un canale distributivo, è detta:**
A searching
B advertising digitale
C inquiry
-
- 292) **Gli individui che, avendo un ampio seguito di pubblico attraverso la rete, riescono a influenzare i comportamenti di acquisto dei consumatori sono detti.**
A influencer
B hacker
C providers
-
- 293) **L'insieme di collegamenti fisici utilizzabili da più elementi hardware per comunicare tra loro è detto:**
A link
B bus
C drive
-
- 294) **Nel software Excel, il comando "Imposta pagina" può:**
A modificare i margini di un documento
B | salvare un documento sostituendone la versione precedente
C salvare un documento in una cartella diversa da quella originale
-
- 295) **La trackball è un dispositivo:**
A un link per collegarsi a internet.
B simile al mouse.
C un comando per la stampa.
-
- 296) **Il protocollo SMTP viene utilizzato:**
A per gestire le email.
B per trasferire grossi quantitativi di dati.
C per rendere una stampante predefinita.

-
- 297) **La parola chiave o le serie di parole che si immettono per iniziare una ricerca su un motore è detta:**
A keyword
B nickname
C indirizzo
-
- 298) **Nel programma Microsoft Excel le colonne sono identificate tramite:**
A lettere minuscole
B cifre arabe
C lettere maiuscole
-
- 299) **Come si chiama il linguaggio di programmazione, sviluppato da Sun Microsystems, progettato per la scrittura di programmi che possono essere scaricati sul proprio computer dalla rete e immediatamente eseguiti?**
A OCR
B Ping
C Java
-
- 300) **Nel software Microsoft Office Excel, che cosa è possibile fare selezionando il comando "Formato celle"?**
A Eliminare una cella
B Inviare il testo di una cella a capo adattandolo alla larghezza della cella
C Aggiungere una colonna
-
- 301) **Il programma "Blocco note" crea file con estensione:**
A RFT
B TXT
C PDF
-
- 302) **Quale sistema permette di scaricare in modo automatico risorse audio o video (chiamate podcast), utilizzando un programma gratuito, per poterli poi riascoltare su iPod, lettori mp3 e cellulari?**
A Streaming
B Podcasting
C MIDI
-
- 303) **Quale sistema che permette di proteggere un computer o una rete di computer dalle intrusioni provenienti dall'esterno?**
A Firewall
B Linux
C WordPad
-
- 304) **Nelle architetture dei computer l'unità di misura delle capacità di memoria è:**
A l'hertz
B il byte
C il pixel
-
- 305) **Com'è detta l'interfaccia grafica, in forma di finestra o riquadro, si apre automaticamente nella parte alta del browser per attirare l'attenzione dell'utente su particolari contenuti?**
A Script
B Banner
C Popup
-
- 306) **L'Optical Character Recognition (OCR) è in grado:**
A di trasformare un file PDF in testo word
B di trasferire testi in file audio
C di riconoscere un'immagine come testo
-
- 307) **Quale delle seguenti in informatica è una grandezza inesistente?**
A gigabyte
B megabyte
C superbyte
-
- 308) **In Microsoft Access, una sottomaschera è:**
A una maschera la cui finestra e' occasionalmente nascosta da un'altra
B una maschera presente sempre nella parte bassa dello schermo di Windows
C una maschera contenuta in un'altra

-
- 309) In un elaboratore, l'elaborazione Batch è il contrario di quella:**
A a blocchi.
B offline.
C interattiva.
-
- 310) Quale tipo di istruzione SQL e' contenuta in una query definita in MS Access del tipo "creazione tabella"?**
A SELECT ... INTO
B CREATE TABLE
C DELETE ... FROM
-
- 311) Indicare la lista che contiene solo componenti hardware:**
A Cpu, mouse, scheda mad
B Windows, Linux, MS-Dos
C Monitor, tastiera, scheda video
-
- 312) In una LAN, il protocollo CSMA/CD:**
A è tipica delle architetture token ring.
B impedisce le collisioni.
C gestisce l'accesso al mezzo trasmissivo condiviso, rilevando le collisioni.
-
- 313) Quali tra le seguenti stringhe non andrebbe utilizzata come password, per evitare che venga facilmente individuata?**
A A67vdf&
B N80cyj!
C Anna1980
-
- 314) I tasti che cambiano funzione a seconda dell'applicazione in uso sono:**
A non esistono
B i tasti Shift
C i tasti funzione
-
- 315) In un trasferimento Direct Memory Access:**
A viene cancellato un blocco di memoria
B un blocco di memoria viene copiato da una periferica ad un'altra
C la CPU esegue il trasferimento vero e proprio
-
- 316) ASCII (American Standard Code for Information Interchange) è:**
A un codice per la codifica di caratteri
B un tipo di stampante
C un linguaggio di programmazione
-
- 317) La struttura operativa nella quale viene elaborato un dato software è chiamata:**
A framework
B interfaccia
C cluster
-
- 318) La modalità DMA (Direct Memory Acces) è:**
A un metodo di trasferimento dei dati atto a garantire uno scambio ad alta velocità.
B un dispositivo che converte i dati digitali di un computer in una serie di segnali analogici
C un protocollo di comunicazione per Internet.
-
- 319) Come è detto il sistema per la trasmissione di determinati segnali via Internet, solitamente audio e/o video, che consente di fruire di un contenuto senza attendere che lo scaricamento sia stato completato?**
A Streaming
B Download
C Podcast
-
- 320) Il POP, Acronimo di Point of Presence, è:**
A la memoria di un computer.
B il numero telefonico di un provider che il modem deve chiamare per accedere a Internet.
C un dispositivo che converte i dati digitali di un computer in una serie di segnali analogici.

-
- 321) La sigla PEC indica:**
A un tipo di antivirus per la posta elettronica.
B un protocollo Internet.
C la posta elettronica certificata.
-
- 322) Per widget si intende:**
A un componente grafico di un'interfaccia utente di un programma.
B un tipo di computer portatile.
C un convertitore dei dati digitali di un computer in segnali analogici.
-
- 323) Una query di selezione è:**
A Il processo di analisi, progettazione e sviluppo di un database relazionale.
B Il risultato delle ricerche effettuate attraverso uno dei motori di ricerca presenti sul Web.
C un oggetto di database che visualizza informazioni in visualizzazione Foglio dati
-
- 324) Quale programma consente di leggere correttamente un file PDF?**
A Excel
B Word
C Adobe Acrobat Reader.
-
- 325) La flow-chart è:**
A la rappresentazione verbale di un algoritmo.
B la rappresentazione grafica di un algoritmo.
C la rappresentazione grafica di un dato.
-
- 326) La GUI di un computer è:**
A la memoria volatile.
B un sistema di accesso alla memoria centrale.
C l'interfaccia grafica.
-
- 327) Un kilobyte corrisponde:**
A a circa 1000 byte.
B a 1000 bit.
C è un'unità di grandezza inesistente.
-
- 328) L'acronimo LAN significa:**
A Logic Local Area Network
B Large Area Network
C Local Area Network
-
- 329) Il segnale asincrono da parte di una periferica finalizzato a una particolare richiesta di servizio si chiama:**
A clic.
B jingle.
C interrupt.
-
- 330) In Linux, lo shell è:**
A una cartella di sistema.
B un interprete di comandi.
C una periferica.
-
- 331) Come è detto il messaggio o simbolo sul video che segnala all'utente che il sistema è pronto ad accettare input.**
A prompt
B comand
C control
-
- 332) I metadati sono:**
A le banche date a pagamento
B informazioni riferite a siti Web, pagine HTML, immagini e altre risorse
C file non leggibili da tutti i programmi
-
- 333) Quale termine dell'informatica deriva dalla locuzione inglese "picture element"?**

- A Pixel
- B Pec
- C Ping

-
- 334) **Le newsletter sono:**
- A tipi di font
 - B mail inviate periodicamente come "aggiornamento informativo" a un database di utenti predefinito
 - C comunicazioni da parte del provider
-
- 335) **Nell'ambito dei social media come è detto il messaggio condiviso sul proprio profilo da parte di un utente?**
- A Post
 - B Avatar
 - C Tag
-
- 336) **In Word, il comando "Salva con nome" serve:**
- A per salvare un documento con un nome diverso da quello originale.
 - B per salvare un documento dal cestino.
 - C per salvare un documento conservando lo stesso nome.
-
- 337) **In Access, i moduli sono:**
- A insiemi di dichiarazioni e routine in Visual Basic.
 - B Campi di un report per l'output dei dati.
 - C Campi di una maschera per l'input dei dati.
-
- 338) **In Excel è possibile il riepilogo dei dati calcolando i valori dei subtotali e dei totali complessivi di un elenco?**
- A Sì, anche se l'elenco non contiene etichette di colonna.
 - B solo se l'elenco contiene delle etichette di colonna.
 - C Non è possibile.
-
- 339) **I comandi Ctrl+C e poi Ctrl+V del programma di videoscrittura Microsoft Word servono:**
- A a copiare e incollare un testo.
 - B a cambiare il formato del file.
 - C a tagliare un testo.
-
- 340) **Il cloud storage è:**
- A uno spazio di archiviazione presente solo nei sistemi Android.
 - B uno spazio di archiviazione presente nella memoria del computer.
 - C uno spazio di archiviazione su internet.
-
- 341) **In un computer il meccanismo che permette alle periferiche di accedere direttamente alla memoria interna si chiama:**
- A Temporary Internet File
 - B Flow chart
 - C Direct Memory Access
-
- 342) **Gli acronimi GNU GPL indicano in informatica:**
- A una infrastruttura di rete
 - B un tipo di licenza d'uso del software
 - C un browser per Internet
-
- 343) **In informatica, il gigabyte è l'unità di misura che indica:**
- A la velocità del modem.
 - B la capacità di memoria dell'hard disk.
 - C la velocità del microprocessore.
-
- 344) **Un font è:**
- A il file d'origine dei dati.
 - B il file che contiene una serie di documenti standard.
 - C l'insieme di lettere, numeri e simboli che formano un particolare carattere tipografico.
-
- 345) **La formattazione di una cella in un foglio di calcolo come Excel di Microsoft Office" o come Calc di Open Office consiste:**

- A nella copia del contenuto di una cella in un'altra.
 - B nella specificazione delle caratteristiche di forma di ciò che è contenuto nella cella.
 - C nella correzione ortografica del testo contenuto nella cella.
-

346) In Excel, una tabella pivot è:

- A un documento di calcolo per creare grafici.
 - B uno strumento analitico e di reporting per creare tabelle riassuntive.
 - C uno strumento per la condivisione delle cartelle di lavoro.
-

347) Con il termine "multimediale" si fa riferimento

- A insieme di contenuti visualizzabili da diverse tipologie di computer.
 - B a un insieme di contenuti presentati in diverse località contemporaneamente.
 - C a un insieme di contenuti presentati attraverso diverse forme, ad esempio testo, immagini e suoni.
-

348) Che cos'è in informatica il TCP/IP?

- A Un insieme di protocolli di comunicazione usato su Internet e su reti locali.
 - B Un insieme di protocolli di comunicazione usato su Internet ma non su reti locali.
 - C Un insieme di protocolli di comunicazione usato su reti locali ma non su Internet.
-

349) Utilizzando Excel o Calc, è possibile riordinare il foglio di lavoro o parte di esso?

- A Sì, selezionando l'intero foglio o la porzione di celle che si vuole riordinare.
 - B No, Excel e Calc non prevedono la possibilità di riordinare i dati contenuti.
 - C Sì, ma il riordino sarà possibile solo per le celle formato testo..
-

350) Il tasto Esc (Escape):

- A cancella i caratteri alla sinistra del cursore.
 - B annulla l'operazione in corso.
 - C serve a confermare le scelte e i comandi.
-

351) In ambito informatico, il termine VoIP definisce:

- A una tecnologia per la trasmissione di comunicazioni vocali via Internet
 - B un insieme di siti web che riguardano informazioni relative alla comunicazione digitale, come skype.com
 - C un protocollo di trasmissione della posta elettronica
-

352) Quale delle seguenti affermazioni è corretta?

- A Un megabyte contiene 1024 byte.
 - B Un kilobyte contiene 1024 byte.
 - C Un terabyte contiene 1024 byte.
-

353) Quale dei seguenti documenti è necessario avere per l'utilizzo regolare di un software?

- A Numero seriale.
 - B Dischi originali.
 - C Licenza d'uso.
-

354) Una webcam:

- A è un sistema di telecamere digitali utilizzato esclusivamente nelle riprese a circuito chiuso.
 - B è la speciale telecamera utilizzata nella ripresa dei programmi televisivi.
 - C è una video-camera collegata ad Internet che rende disponibili in rete le immagini riprese ad intervalli regolari di alcuni minuti.
-

355) Nel "Cestino" di Windows, facendo doppio clic su uno dei file:

- A Viene chiesto di associare il file a un'applicazione per poter eseguire il file.
 - B Viene visualizzata la scheda Proprietà del file.
 - C Viene cancellato definitivamente il file.
-

356) Di quale linguaggio si serve per la visualizzazione dei dati un browser?

- A Linguaggio macchina
 - B Linguaggio HTML
 - C Linguaggio HTTP
-

357) Si può accedere a un file che risiede su un PC collegato in rete con il proprio PC?

- A Sì, solo se il PC ove risiede il file da utilizzare ha il sistema operativo Windows Xp.
- B No, bisogna prima salvare il file sul disco fisso del PC che stiamo utilizzando.
- C Sì, sempre.

-
- 358) **In Windows, l'estensione ".xls" che segue il nome del file, significa che il file deve essere aperto con il programma:**
- A Word
 - B Acrobat
 - C Excel
-
- 359) **Nel software MS Word, come si chiamano gli elementi della tabella ?**
- A Tabulazioni.
 - B Riquadri.
 - C Celle.
-
- 360) **Quale delle seguenti affermazioni è corretta a proposito del modem?**
- A Nessuna delle risposte è esatta.
 - B Permette il collegamento di un computer a una linea di trasmissione analogica.
 - C Trasforma i segnali digitali in analogici.
-
- 361) **Un virus non può:**
- A danneggiare i software applicativi
 - B corrompere i dati
 - C danneggiare l'hardware
-
- 362) **L'estensione .DOC identifica un file utilizzato dall'applicazione....**
- A Calc.
 - B Acrobat Adobe.
 - C Word.
-
- 363) **Nel software Word, mediante il comando "Imposta pagina" si può:**
- A modificare i margini di un documento.
 - B recuperare la versione precedente di un documento.
 - C avviare il controllo ortografico di un documento aperto.
-
- 364) **Quale tipo di stampante non è efficiente per la stampa di documenti elaborati con "Word" o Writer?**
- A Una stampante a getto d'inchiostro.
 - B Una stampante laser.
 - C Una stampante ad aghi.
-
- 365) **Lo schermo di un PC viene connesso al computer:**
- A a una porta parallela disponibile.
 - B mediante l'apposito connettore della scheda grafica.
 - C a un connettore dell'interfaccia IDE.
-
- 366) **Per eliminare un file in ambiente Windows, si deve:**
- A cliccare con il tasto destro del mouse sulla sua icona e selezionare dal menù a tendina il comando Elimina.
 - B cliccare sul tasto destro del mouse sulla sua icona e selezionare il comando Taglia dal menù a tendina.
 - C trascinare l'icona del Cestino sull'icona del file.
-
- 367) **Per poter utilizzare un computer non è indispensabile avere:**
- A Una scheda madre.
 - B un monitor.
 - C una scheda audio.
-
- 368) **Un link si può definire:**
- A un' interfaccia bidirezionale.
 - B un software per la navigazione.
 - C un collegamento ipertestuale.
-
- 369) **L'accesso remoto di Windows consente di:**
- A leggere un file dopo aver spento il computer.
 - B accedere alle informazioni condivise su un altro computer.
 - C accedere all'help in linea di Windows.
-
- 370) **Il tasto di Invio nei programmi di videoscrittura come MS Word serve a:**

- A andare a capo alla fine di ogni riga.
- B iniziare un nuovo capoverso.
- C cancellare

371) **In Windows, qual è la funzione principale del programma "Esplora risorse"?**

- A Gestire la navigazione in Internet
- B Configurare il sistema operativo e le sue periferiche
- C Visualizzare la disposizione dei file del computer

372) **Per preparare un disco alla registrazione dei dati si usa:**

- A il programma di formattazione.
- B il programma di deframmentazione.
- C il programma di spool

373) **Il termine plug-in indica:**

- A un programma di videoscrittura.
- B un programma non autonomo che interagisce con un altro programma per estenderne le funzionalità.
- C la procedura di accesso a un sistema informatico.

374) **Quale procedimento non si può usare in Excel per modificare una formula inserita in una cella?**

- A Cliccare sulla cella, posizionarsi sulla barra della formula e inserire il cursore nel punto in cui si deve apportare la modifica
- B Scegliere la finestra di dialogo "Formula" dal menù "Modifica"
- C Premere il tasto F2 per attivare il cursore nella cella ed effettuare le modifiche direttamente sulla cella

375) **Su una Pen Drive:**

- A non è possibile compiere azioni di salvataggio.
- B è possibile scrivere con le normali operazioni di salvataggio e copia.
- C non è possibile scrivere.

376) **Quali tra i seguenti tipi di memoria non sono adatti per trasferire dati da un computer ad un altro?**

- A Pen drive
- B Hard disk
- C Zip disk

377) **Il termine resettare significa:**

- A azzerare le operazioni svolte da un elaboratore.
- B spegnere un computer.
- C danneggiare un software.

378) **Quali delle seguenti affermazioni è corretta? La legge sulla privacy tutela:**

- A la protezione dei dati.
- B i diritti dei gestori delle banche dati.
- C la riservatezza dei dati personali.

379) **Una smart card contiene:**

- A una limitata quantità di memoria
- B una interfaccia grafica
- C un modem

380) **OCR è l'acronimo di:**

- A Office Character Recognition
- B Optical Character Recognition
- C Optional Character Review

381) **Qual è il compito della ALU?**

- A Eseguire le operazioni di calcolo.
- B Controllare le operazioni di input e output.
- C Controllare il funzionamento della memoria.

382) **Una scheda di rete è:**

- A un' interfaccia bidirezionale per collegarsi a un altro calcolatore.
- B un' interfaccia per la connessione del dispositivo a una rete informatica.
- C un'interfaccia per collegarsi alla rete elettrica.

-
- 383) Nel software di posta elettronica MS Outlook, l'opzione "Inoltra" permette di:**
- A inserire un nuovo indirizzo nella rubrica.
 - B inviare una mail ricevuta a un altro destinatario.
 - C cancellare una e-mail appena ricevuta.
-
- 384) Per quanto riguarda il copyright di un software, è consentito:**
- A commerciare copie sia del software che del manuale.
 - B produrre copie di backup di programmi regolarmente acquistati
 - C diffondere copie di programmi originali e detenere copie di backup
-
- 385) Quale delle seguenti affermazioni su Internet è corretta?**
- A Per collegarsi ad Internet è indispensabile utilizzare un computer multimediale .
 - B Internet è un insieme di reti di computer che condividono informazioni mediante lo stesso protocollo di comunicazione.
 - C Excel è un software per la navigazione in Internet.
-
- 386) Una possibile definizione di "Sistema Operativo" è:**
- A l'insieme di tutti i programmi installati in un PC.
 - B il metodo con cui opera il PC.
 - C un'interfaccia tra l'utente e l'hardware del sistema
-
- 387) Quali tasti servono a battere le maiuscole o i simboli superiori dei tasti che presentano due simboli?**
- A i tasti Shift
 - B i tasti funzione
 - C il cursore
-
- 388) Il programma di formattazione:**
- A prepara un disco alla registrazione dei dati
 - B genera il layout di pagina
 - C controllare le operazioni di input e output.
-
- 389) Un "provider" è un fornitore di servizi:**
- A di assistenza software
 - B di e-commerce
 - C Internet
-
- 390) Tra i danni causati da crimini informatici, è considerato il più grave:**
- A un danno al funzionamento del computer.
 - B l'acquisizione di dati personali da parte di terzi non autorizzati.
 - C la decriptazione di una password.
-
- 391) Un programma di tipo word processor è detto anche:**
- A programma di calcolo.
 - B programma di videoscrittura.
 - C programma di archiviazione
-
- 392) L'accesso via internet ai servizi della banca si chiama:**
- A home banking
 - B contact less
 - C data banks
-
- 393) L'ALU ("arithmetic-logic unit") in informatica:**
- A è un tipo di foglio di calcolo.
 - B è un tipo di processore digitale per operazioni aritmetiche o logiche.
 - C è la fibra ottica di ultima generazione.
-
- 394) I tasti Shift:**
- A servono a cancellare i caratteri alla destra del cursore.
 - B servono a battere le maiuscole o i simboli superiori dei tasti che presentano due simboli.
 - C sono tasti che hanno funzione diversa secondo l'applicazione in uso.
-
- 395) Quale delle seguenti affermazioni NON è esatta?**
- A La fibra ottica trasmette messaggi sotto forma di onde luminose.
 - B La banda di trasmissione della fibra ottica è più bassa di quella dei cavi di metallo.
 - C La fibra ottica è meno soggetta ad interferenze esterne dei cavi di metallo.

-
- 396) **Le regole e le modalità di utilizzo dei file eseguibili:**
A sono le stesse per tutti i sistemi.
B non esistono file eseguibili.
C variano in base al sistema operativo.
-
- 397) **Su una tastiera estesa per PC il tasto denominato «Caps Lock» ha la funzione di:**
A simulare la presenza di una tastiera di una nazionalità diversa.
B riprodurre le lettere in maiuscolo.
C bloccare la tastiera affinché non possa essere utilizzata da estranei.
-
- 398) **Quale fra i seguenti non è il nome di un motore di ricerca?**
A Yahoo
B Virgilio
C Apple
-
- 399) **Chi cosa misurano i pixel in uno schermo?**
A La luminosità.
B Il numero di colori.
C La risoluzione.
-
- 400) **Che tipo di stampante identifica il termine "InkJet":**
A termica.
B a getto d'inchiostro.
C laser.
-
- 401) **Quale particolarità hanno, nei PC, i file con estensione «.EXE», «.BAT», «.CMD»?**
A Sono eseguibili.
B Sono di tipo testo.
C Sono temporanei.
-
- 402) **La RAM di un moderno PC può essere pari a:**
A 256 Mb
B 256 GB
C 256 Kb
-
- 403) **Tra i seguenti NON è un dispositivo di puntamento:**
A touch screen
B tastiera
C mouse
-
- 404) **Google è:**
A un motore di ricerca
B un'azienda che offre servizi Internet.
C un sito web.
-
- 405) **Il Kernel è:**
A un tipo di carattere.
B un diagramma di flusso.
C un componente essenziale dei sistemi operativi.
-
- 406) **Il termine widget deriva dalla contrazione dei termini:**
A window e gadget.
B wide e get.
C window e net.
-
- 407) **L'acronimo SSL indica:**
A un codice di identificazione costituito da un insieme di elementi grafici.
B un file di sola lettura.
C un protocollo che consente la trasmissione di informazioni in modo criptato e sicuro.
-
- 408) **Nella posta elettronica, una blacklist è:**
A l'elenco dei destinatari che non hanno risposto a una mail.
B un elenco di mittenti dai quali non si desidera ricevere posta.
C l'elenco degli utenti che ricevono messaggi in copia conoscenza.

-
- 409) **In informatica, un tipo di dato strutturato che comprende diversi campi di tipo eterogeneo è chiamato:**
- A array
 - B estensione
 - C record
-
- 410) **L'insieme delle regole del processo di comunicazione tra terminali e apparati per il funzionamento efficace della comunicazione in rete si chiama:**
- A interfaccia.
 - B processo.
 - C protocollo.
-
- 411) **Il clock di un computer si misura:**
- A in multipli di Kb
 - B in byte
 - C in multipli di hertz
-
- 412) **Nel VoIP (Voice over IP) le informazioni vocali vengono codificate:**
- A in GPRS
 - B in un segnale analogico
 - C in un segnale digitale
-
- 413) **In Windows, consente di ottenere sul monitor ciò che verrà stampato:**
- A l'anteprima di stampa.
 - B il comando «print nome file».
 - C l'opzione di setup della stampante.
-
- 414) **Dove è fisicamente contenuta la memoria RAM in un computer?**
- A Su un insieme di circuiti integrati.
 - B Su supporto a nastro.
 - C Su dischi magnetici fissi.
-
- 415) **In Windows è possibile recuperare i file precedentemente eliminati?**
- A No, non è possibile.
 - B Sì, facendo un doppio click sull'icona "Cestino" e scegliendo "Ripristina" dal menù File.
 - C Sì, utilizzando l'utility Gestione Risorse.
-
- 416) **Quale tra le seguenti, in ambiente Windows, è una modalità corretta per riavviare il computer?**
- A Selezionare l'opzione "Riavvia il sistema".
 - B Selezionare l'opzione "Arresta il sistema".
 - C Selezionare l'opzione "standby" e poi riavviarlo.
-
- 417) **Quale tra i seguenti programmi applicativi è più indicato per elaborare dati finanziari in formato tabella?**
- A Calc di Open Office.
 - B Word di Microsoft.
 - C Acrobat Adobe.
-
- 418) **Il GPRS (General Packet Radio Service) è:**
- A un convertitore dei dati digitali di un computer in segnali analogici.
 - B la tecnologia che per prima ha permesso di navigare in internet su dispositivi mobili e di accedere a servizi multimediali.
 - C l'insieme delle tecnologie e delle operazioni relative al download automatico di file di vario tipo.
-
- 419) **Un framework è:**
- A un dispositivo che consente il collegamento di un computer a una linea di trasmissione analogica.
 - B la struttura operativa nella quale viene elaborato un software.
 - C la consente di configurare una rete LAN e connettersi a un router.
-
- 420) **Quale azione non è utile per migliorare la sicurezza dei dati di un computer?**
- A Installare un antivirus.
 - B Cambiare frequentemente la password.
 - C Scegliere nomi che si possono ricordare facilmente.

-
- 421) **Com'è chiamato l'evento che si verifica quando un apparato non riceve risposta ad un'interrogazione entro un periodo di tempo prestabilito?**
- A Time-out.
 - B Interrupt.
 - C Dead Line.
-
- 422) **Nell'ambito del commercio elettronico, la sigla B2C:**
- A indica che un'azienda acquista prodotti dai propri fornitori via internet
 - B indica le transazioni commerciali via Internet tra un'azienda e il singolo consumatore
 - C indica le transazioni commerciali tra imprese via internet
-
- 423) **Quale tra i seguenti software è più adatto per la riproduzione di un testo?**
- A Writer di Open Office.
 - B Base di Open Office.
 - C Power Point di Microsoft.
-
- 424) **In un Database, è possibile ridurre il tempo di accesso a un record usando:**
- A un indice.
 - B record molto piccoli.
 - C record molto grandi.
-
- 425) **Quale di queste periferiche ha la stessa funzione del touch pad?**
- A Mouse.
 - B Lettore ottico.
 - C Scanner.
-
- 426) **Quale delle seguenti estensioni del nome di un file si riferisce a un tipo di file "compresso"?**
- A ZIP
 - B JPG
 - C PDF
-
- 427) **A che cosa serve l'estensione nei nomi dei file?**
- A A contrassegnare le diverse versioni di un file.
 - B A consentire una più facile ricerca di quel file.
 - C Ad associare al file il programma che lo debba elaborare.
-
- 428) **Con il termine JAVA si intende:**
- A un linguaggio di programmazione
 - B l'estensione di un file
 - C un tipo di memoria
-
- 429) **In Excel, con quale simbolo si indica l'operazione di divisione?**
- A -
 - B /
 - C +
-
- 430) **L'estensione .MDB identifica un file utilizzato dall'applicazione:**
- A Access
 - B Paint
 - C Excel
-
- 431) **Quale dei seguenti nomi identifica un sistema operativo?**
- A Open Office
 - B Avast
 - C Windows 10
-
- 432) **WinRAR è un'applicazione utile per:**
- A modificare file audio.
 - B espandere la memoria di un computer.
 - C comprimere in un unico archivio molti file.
-
- 433) **Utilizzando Word, per mandare a capo un testo, è necessario premere:**
- A il tasto "Invio"
 - B il tasto "ALT"
 - C il tasto "Esc"

-
- 434) **La "F" che contrassegna i tasti (F1, F2, F3 ecc.), sulla tastiera di un PC indica:**
A File
B Find
C Function
-
- 435) **Inviando un messaggio di posta elettronica è possibile allegare qualsiasi file senza limitazioni?**
A No, esistono delle limitazioni sulla dimensione.
B No, si possono allegare solo documenti di testo e documenti di tipo PDF.
C Sì, si può allegare qualsiasi tipo di file e di qualsiasi dimensione.
-
- 436) **Un Access Point (AP) è:**
A una password per accedere alla rete.
B il punto di unione tra una rete cablata e i dispositivi dotati di schede di rete senza fili o Wi-Fi.
C un dispositivo software per evitare attacchi o infiltrazioni nella rete internet.
-
- 437) **Come si chiama in un database l'insieme che raggruppa i fields?**
A Query.
B Record.
C File.
-
- 438) **Cosa si intende per "digitale"?**
A Tutto ciò che viene rappresentato con numeri
B È un sinonimo di analogico
C Tutto ciò che attiene alla digitazione.
-
- 439) **Un CRT o tubo a raggi catodici, si trova:**
A nella scheda video.
B nella CPU.
C nei monitor non a cristalli liquidi.
-
- 440) **Il vantaggio di lavorare con un laptop computer è:**
A poterlo trasportare in base alle proprie necessità
B avere una maggiore potenza di calcolo
C disporre di uno schermo più grande
-
- 441) **In Excel o in Calc, selezionando Ordina dal menù Dati:**
A viene riordinata la parte selezionata della tabella.
B viene creata una tabella mettendo prima le formule e poi i testi.
C viene invertito l'ordine di visualizzazione delle righe.
-
- 442) **Quale tra i seguenti software è un f browser Internet?**
A File Navigator
B Netscape Explorer
C Mozilla Firefox
-
- 443) **È una periferica esterna di output:**
A Mouse
B Monitor
C Tastiera
-
- 444) **Nei Personal computer, la porta AGP (Accelerated Graphics Port) è un'interfaccia di collegamento per connessioni di:**
A stampanti
B CD-Rom
C schede grafiche
-
- 445) **Attraverso il "Blocco note" di Windows, è possibile:**
A Modificare e creare un file .htm
B solo prendere appunti per poi poterli salvare in un file .txt
C Elaborare file grafici
-
- 446) **Tra i seguenti programmi non è un browser:**

- A Google Chrome
- B Outlook
- C Bing

447) **Nel software Word, il comando Imposta pagina consente:**

- A di modificare i margini di un documento.
- B di prendere Note di tipo testuale inserendo anche altri elementi multimediali
- C avviare il controllo ortografico di un documento aperto.

448) **Quale comando di Excel consente di impostare l'intestazione di ciascun foglio stampato?**

- A Nessun comando lo consente
- B Intestazione e piè di pagina
- C Proprietà del menu File

449) **Tra i seguenti elementi NON costituisce una componente hardware di un calcolatore:**

- A CPU
- B Schermo
- C Sistema operativo

450) **Un byte è composto da:**

- A 8 bit.
- B 4 bit.
- C 16 bit.

451) **Quale componente hardware, tra quelle indicate, influenza maggiormente le prestazioni del computer?.**

- A La memoria cache.
- B La memoria RAM
- C La memoria ROM.

452) **Qual è la differenza tra l'indirizzo MAC e l'indirizzo IP?**

- A L'indirizzo MAC è fisso ed è assegnato dal produttore a livello hardware. L'indirizzo IP viene assegnato a livello software e può cambiare nel tempo.
- B L'indirizzo MAC è assegnato dal produttore a livello hardware.e può cambiare nel tempo. L'indirizzo IP è fisso e viene assegnato a livello software.
- C L'indirizzo MAC identifica i dispositivi della Apple, L'indirizzo IP identifica i dispositivi Microsoft. Entrambi sono fissi e assegnati a livello hardware dal produttore.

453) **SQL Server, Oracle, Access sono termini che si riferiscono a:**

- A database, che possono alimentare un sito Web.
- B le trasmissioni Wi-Fi e wireless in generale.
- C fonti dati non strutturate.

454) **In una commutazione di circuito:**

- A comunicazioni di più utenti viaggiano sulla stessa linea.
- B la trasmissione dei dati viaggia molto veloce.
- C la linea è impegnata finché non cessa la comunicazione tra i due utenti che l'hanno impegnata.

455) **In informatica, con GNU GPL si indica:**

- A un tipo di licenza d'uso del software.
- B un browser per Internet.
- C una infrastruttura di rete.

456) **Un rallentamento di un collegamento ad internet tramite linea analogica può essere dovuto a:**

- A interruzione della connessione.
- B sovraccarico dell'hard disk.
- C affollamento della rete e il sovraccarico delle linee.

457) **Un indirizzo IP è una sequenza:**

- A rappresentata da tre numeri da 0 a 255 separati da punti.
- B rappresentata da quattro numeri da 0 a 255 separati da trattini.
- C rappresentata da quattro numeri da 0 a 255 separati da punti.

458) **In Microsoft Access le macro sono:**

- A insiemi di dichiarazioni e routine in visual basic.
- B gruppi di comandi.
- C campi di un report per l'output dei dati.

459) **In un database relazionale, che cos'è un record?**

- A Una relazione tra due differenti campi di una delle tabelle che rappresentano il database.
- B Un software di ricerca di dati memorizzati nel database.
- C Una riga di una delle tabelle che rappresentano il database.

460) **In un diagramma di flusso il simbolo del parallelogramma indica:**

- A l'inizio o la fine di un algoritmo
- B un'operazione di input/output
- C una attività di calcolo

461) **Quale simbolo, utilizzato in ambito informatico, è chiamato in inglese "at"?**

- A #
- B @
- C =

462) **Un file si può definire:**

- A un insieme di istruzioni.
- B un archivio memorizzato sulla memoria di massa di un elaboratore.
- C un insieme di dati presenti nella memoria RAM durante l'esecuzione di un programma.

463) **Un documento può essere letto con un editor standard da tutti i sistemi operativi quando è un file:**

- A con estensione .txt
- B con estensione .exe
- C con estensione .bin

464) **L'e-government è:**

- A la licenza per l'uso di un programma.
- B l'uso di tecnologie internet da parte della pubblica amministrazione.
- C il controllo del funzionamento di un sito internet.

465) **Quale, tra le seguenti, è una estensione di file composti da linguaggi di markup?**

- A java
- B HTML
- C JPEG, JPG

466) **Con i software di sistema che utilizzano l'interfaccia grafica, se si agisce sul bordo o su uno dei quattro vertici di una finestra è possibile:**

- A ridurre la finestra a icona.
- B chiudere la finestra attiva.
- C modificare la dimensione della finestra.

467) **La funzione Trova disponibile nel sistema operativo, solitamente serve a cercare:**

- A i file di dati presenti sul disco fisso del computer.
- B tutti i programmi installati sul computer.
- C le cartelle e/o i file presenti in un dispositivo di memoria collegato al computer.

468) **A partire dai dati contenuti in un foglio di calcolo, si possono creare tipi di grafico:**

- A a quadrato
- B ad anello
- C a stella.

469) **Che cosa si intende per barra degli strumenti?**

- A un insieme di pulsanti messi a disposizione dell'utente in aggiunta ai comandi.
- B un insieme di icone che illustrano i comandi a cui si può accedere con il tasto destro del mouse.
- C una barra che raccoglie, sotto forma di icone, i collegamenti alle funzioni più usate di un software.

470) **Nei sistemi operativi con interfaccia utente grafica, è detto Drag and Drop:**

- A un metodo rapido per spostare file e icone con il mouse.
- B un metodo rapido per copiare file in più cartelle.
- C una tecnica rapida per rinominare un file.

-
- 471) **Il podcasting è:**
- A un servizio esclusivo per scaricare file audio su iPod.
 - B una tecnologia che permette di scaricare e archiviare in un lettore Mp3 trasmissioni radio selezionate su Internet.
 - C un formato standard ISO di file audio/video che possono essere scaricati da siti web.
-
- 472) **Il login è:**
- A il caricamento di una pagina web.
 - B un'operazione di salvataggio di un file di grandi dimensioni.
 - C una procedura di ingresso a un sistema informatico, che prevede l'inserimento di un codice identificativo.
-
- 473) **La ALU, l'unità aritmetico-logica:**
- A è un componente hardware.
 - B non si trova nel microprocessore.
 - C è un componente software.
-
- 474) **Indicare quale affermazione sulla Central Processing Unit è esatta.**
- A La CPU esegue le operazioni logico-aritmetiche.
 - B La CPU controlla la velocità di clock.
 - C La CPU è un dispositivo di input.
-
- 475) **Un client di posta elettronica:**
- A è un programma che consente la gestione di uno o più account email.
 - B è un programma capace solo di spedire ma non ricevere posta elettronica.
 - C è l'indirizzo principale di posta elettronica di un utente.
-
- 476) **Che cos'è Scandisk?**
- A È un software di ricerca e pulitura del disco rigido.
 - B È un supporto hardware per alleggerire il compito del disco rigido.
 - C È un programma di Windows che cerca eventuali errori sul disco rigido per correggerli.
-
- 477) **La capienza di un comune CD-Rom è pari a:**
- A 1.024 GB
 - B 700 MB
 - C 4 GB
-
- 478) **Nell'ambito dell'informatica un virus:**
- A è una chiave di ricerca impiegata in maniera errata che può danneggiare l'hardware del computer.
 - B è un frammento di software che infetta file e programmi computer.che è in grado, una volta eseguito, di infettare dei file replicandosi.
 - C è un messaggio di posta elettronica inviato con lo scopo di bloccare la funzione degli antivirus installati sul dispositivo.
-
- 479) **Quale delle seguenti estensioni di file, allegata a un messaggio di posta elettronica, ha la minor probabilità di essere rifiutata da un antivirus?**
- A .exe
 - B .doc
 - C .txt
-
- 480) **Quale dei seguenti NON è un dominio Internet di primo livello?**
- A .it
 - B .eur
 - C .com
-
- 481) **Per browser si intende:**
- A un'applicazione per l'acquisizione, la presentazione e la navigazione di risorse sul web.
 - B Un programma per la consultazione della posta elettronica.
 - C Un programma per la scrittura di pagine web in linguaggio SEO.
-
- 482) **Il software Freeware:**
- A è un software a pagamento.
 - B è completamente gratuito.
 - C non è modificabile
-
- 483) **Come può essere tradotto in italiano il termine browser?**

- A Installazione.
- B Interfaccia.
- C Navigatore.

484) **Il simbolo @ in italiano è chiamato:**

- A e"" commerciale o ampersand."
- B a commerciale, o chiocciola.
- C non esiste un termine italiano e quindi si usa il nome inglese "at".

485) **Il mouse:**

- A è utile solo sui notebook.
- B è un dispositivo di output.
- C è un dispositivo di input.

486) **Negli alimentatori dei PC consentono ai computer di assorbire i picchi di tensione?**

- A Dissipatori
- B Resistori
- C Condensatori

487) **Qual è il formato in cui WordPad salva automaticamente i documenti?**

- A .rtf
- B .pdf
- C .txt

488) **Linux è:**

- A un sistema operativo che può essere installato solo su computer portatili.
- B un sistema operativo open source.
- C un software a pagamento.

489) **Una rete a 8Mbps scrive sul mezzo trasmissivo un file di 8Kbyte in:**

- A 1 ms
- B 0,8 s
- C 8 ms

490) **A quanti bit corrispondono otto byte?**

- A 16
- B 64
- C 256

491) **Che cosa si intende per formattazione di un testo?**

- A Impostazione della risoluzione dello schermo per i documenti testuali.
- B La definizione delle dimensioni della pagina e l'inserimento di un collegamento ipertestuale.
- C La predisposizione di una determinata struttura (impaginazione, numerazione delle pagine, rientro dei paragrafi, etc.).

492) **La pagina iniziale di un browser può essere cambiata:**

- A digitando nella barra degli indirizzi la URL prescelta e salvando le modifiche mediante il menu file.
- B impostando la URL prescelta dopo aver selezionato la voce opzioni (Internet) dal menu Strumenti.
- C solo nella fase di inizializzazione del browser dall'amministratore del sistema.

493) **Qual è la definizione di interfaccia In informatica?**

- A La definizione delle dimensioni della pagina e l'inserimento di un collegamento ipertestuale.
- B Dispositivo di collegamento in grado di assicurare la comunicazione tra due sistemi informatici altrimenti incompatibili, oppure tra unità centrale e unità periferiche
- C Sistema operativo che può essere installato solo su computer portatili.

494) **Come si chiama in inglese il simbolo @?**

- A At
- B Hub
- C Slash

495) **Lavorando in Excel, quale pulsante della barra degli strumenti serve a evidenziare in grassetto il carattere di una cella selezionata?**

- A il pulsante con la S.
- B il pulsante con la U.
- C il pulsante con la G.

-
- 496) **In Microsoft Word, quale combinazione di tasti occorre premere per modificare il testo evidenziato, consentendo di sottolinearlo?**
A CTRL + G
B CTRL + S
C CTRL + C
-
- 497) **Quale, tra i seguenti suffissi dei domini internet di primo livello generici è limitato a enti e agenzie governative americane?**
A .us
B .com
C .gov
-
- 498) **Un report è:**
A un'interfaccia grafica che semplifica le operazioni di inserimento e modifica dei dati in database.
B uno strumento che permette di organizzare e riepilogare le informazioni contenute in un database.
C un blocco di memoria che viene copiato da una periferica ad un'altra.
-
- 499) **Text Editor è:**
A un programma che consente di rinominare file di testo.
B un programma che consente di configurare il desktop.
C un programma che consente di creare file di testo.
-
- 500) **Utilizzando il foglio di calcolo Excel, quale sequenza di operazioni va compiuta per spostare il contenuto di una cella, in un'altra?**
A Annulla/Taglia/ Nuova
B Copia/ Nuova cella/Taglia
C Taglia/ Nuova cella/Copia
-
- 501) **In ambito informatico, cosa si intende con il termine "multimediale"?**
A Un insieme di concetti di orientamento politico moderato.
B Un insieme di contenuti presentati attraverso diverse forme, ad esempio testo, immagini e suoni.
C Un insieme di contenuti visualizzabili da diverse tipologie di computer.
-
- 502) **Digitando contemporaneamente i tasti ALT+F5 in un documento Microsoft Word:**
A si abilita la funzione di ricerca.
B il documento non appare più a schermo intero.
C si salva il documento.
-
- 503) **La firma digitale:**
A è la scansione di una firma apposta su un documento cartaceo.
B è l'equivalente informatico di una tradizionale firma autografa apposta su carta.
C è il codice personale usato nei sistemi di pagamento on line.
-
- 504) **In Excel il comando Ordinamento personalizzato consente di:**
A impostare la valuta per i numeri che rappresentano cifre monetarie.
B ordinare di dati presenti un gruppo di celle in base a dei criteri.
C impostare l'ordine di visualizzazione dei fogli di lavoro.
-
- 505) **Lo Scandisk?**
A è un software di ricerca e pulitura del disco rigido
B è un supporto hardware per alleggerire il compito del disco rigido
C è un programma di Windows che cerca eventuali errori sul disco rigido per correggerli
-
- 506) **La capienza di un comune CD-Rom è pari a**
A 700 MB
B 4 GB
C 1.024 GB
-
- 507) **Qual è la funzione principale svolta dalla ventola in un computer?**
A Permettere la rotazione dell'hard-disk.
B Dissipare il calore interno prodotto dall'apparecchiatura.
C Permettere il funzionamento del lettore cd.
-
- 508) **Quale tra questi software è un famoso browser internet?**

- A Excel.
- B File explorer.
- C Google Chrome.

509) **Quale tra i seguenti è un famoso motore di ricerca per internet?**

- A Firefox.
- B Google.
- C Word.

510) **Quanti lettori cd-rom possono essere installati su uno stesso computer?**

- A Più di uno, a seconda delle porte disponibili.
- B Due.
- C Non più di uno.

511) **Il pulsante con il trattino in alto a destra nelle finestre di Windows serve per...**

- A chiudere la finestra.
- B cancellare la finestra.
- C ridurre la finestra sulla barra delle applicazioni.

512) **In informatica per "default" si indica:**

- A un valore impostato come condizione iniziale.
- B un documento.
- C la procedura di avvio di un personal computer.

513) **Per stampare un documento Word...**

- A si seleziona stampa dal menù file.
- B dopo aver selezionato il testo che si desidera stampare, si preme il tasto sinistro del mouse.
- C dopo aver selezionato il testo che si desidera stampare, si preme il tasto destro del mouse.

514) **In Microsoft Excel è possibile gestire dei grafici?**

- A Sì, ma solo grafici di tipo istogramma.
- B No, i grafici si possono gestire solo da programmi specifici.
- C Sì, di qualsiasi tipo.

515) **In ambiente Windows nelle impostazioni «stampanti e scanner»...**

- A sono elencate tutte le possibili stampanti installabili, ovvero quelle per le quali è disponibile un driver.
- B sono elencate solo le stampanti fisicamente connesse al computer.
- C sono elencati tutti i driver delle stampanti installate, anche se non fisicamente collegate al computer, nonché eventuali driver di stampanti virtuali.

516) **In informatica, che cosa si può utilizzare per acquisire un testo scritto senza doverlo ridigitare?**

- A Un mouse a tre tasti.
- B Un lettore di dischi magnetici.
- C Uno scanner.

517) **Un provider è:**

- A un protocollo di connessione a internet.
- B una società che fornisce infrastrutture per la connessione a internet.
- C un numero di telefono.

518) **Quale tra le unità seguenti non è mai alloggiata nel case?**

- A Mouse.
- B Processore.
- C RAM.

519) **Quale, tra i seguenti componenti hardware, è più utile aumentare se si vogliono migliorare le prestazioni del computer?**

- A Il numero delle porte usb.
- B La RAM.
- C Il numero delle stampanti.

520) **Dove può essere alloggiato l'hard-disk?**

- A Nella CPU.
- B Nel lettore cd.
- C Nel case.

521) **Quale dei seguenti documenti è necessario avere per l'utilizzo di un software?**

- A Copie di backup.
- B Dischi originali.
- C Licenza d'uso.

522) **Nel software MS Word, premendo il tasto CANC si cancella:**

- A il carattere che si trova a destra del cursore.
- B il carattere che si trova a sinistra del cursore.
- C solo lo spazio vuoto.

523) **Quali tra questi è un "software applicativo"?**

- A Unix.
- B Mac Os.
- C Office.

524) **In Microsoft Word la combinazione di tasti "ctrl+fine":**

- A sposta il cursore alla fine del documento.
- B sposta il cursore alla pagina successiva del documento.
- C sposta il cursore alla fine della riga corrente.

525) **Qual è il protocollo utilizzato per navigare su internet?**

- A Http.
- B Html.
- C Htm.

526) **Quale, tra i seguenti tipi di file, è consigliabile cancellare periodicamente?**

- A *.com.
- B *.exe.
- C *.tmp.

527) **L'estensione ".docx" identifica un file utilizzato dall'applicazione...**

- A photoshop.
- B Word.
- C Excel.

528) **Nel dominio "www.sanita.it", il top level domain (dominio di primo livello) è:**

- A sanita.it.
- B .it.
- C .sanita.

529) **In Windows quando si «clicca» una sola volta su un'icona cosa avviene?**

- A Viene selezionata l'icona.
- B Viene spostata l'icona nel cestino.
- C Viene modificata l'icona.

530) **In presenza di un cartello «wi-fi zone», si deduce che:**

- A il luogo dove ci troviamo non ha alcuna copertura di rete.
- B il luogo dove ci troviamo è coperto da una rete con cavo.
- C il luogo dove ci troviamo è coperto da una rete wireless.

531) **Un stringa è:**

- A una sequenza di caratteri alfanumerici.
- B una password.
- C un sequenza di numeri casuali.

532) **Un elaboratore di testi è:**

- A un software che permette di creare, modificare, formattare testi.
- B un software che permette solo di formattare testi.
- C un motore di ricerca.

533) **Lo zipper è un programma utilizzato per...**

- A comprimere esclusivamente file Word perché occupino meno spazio.
- B verificare che un file non contenga virus.
- C comprimere file o directory perché occupino meno spazio.

-
- 534) **Su un foglio del programma Excel, si ha: nella cella a1 il valore 1, nella cella a2 il valore 2, nella cella a3 il valore 3. se nella cella a4 si pone la formula "=a1*a2", quale valore si ottiene?**
- A 2.
 - B 0.
 - C 6.
-
- 535) **La funzione "controllo ortografico" dei più diffusi programmi di videoscrittura...**
- A non è mai attivata.
 - B consente di avere un rapporto riepilogativo degli errori riscontrati.
 - C consente di evidenziare gli eventuali errori di ortografia, proponendo le possibili alternative.
-
- 536) **In Windows 10, come si chiama il database che contiene le informazioni sulla configurazione del computer?**
- A Registro di configurazione.
 - B File system.
 - C Registro di sistema.
-
- 537) **In ambito informatico, con l'espressione "drag and drop" si indica...**
- A la scansione del disco rigido per effettuare la manutenzione.
 - B la scansione del sistema operativo.
 - C lo spostamento con trascinarsi di file.
-
- 538) **Un "touchpad" è un dispositivo di:**
- A solo ingresso.
 - B ingresso e uscita.
 - C trasmissione dei dati.
-
- 539) **In ambito informatico, con quale termine vengono indicate le immagini di piccole dimensioni utilizzate per navigare con maggiore comodità in un archivio digitale?**
- A Samples.
 - B Alias.
 - C Thumbnails.
-
- 540) **I dati elaborati da un programma applicativo (ad esempio Word) e archiviati su un dischetto?**
- A per essere letti devono prima essere trasferiti su hard-disk.
 - B possono essere letti da qualsiasi programma compatibile col sistema operativo con cui è stato formattato il dischetto.
 - C possono essere letti solo con il programma applicativo che li ha elaborati (ad esempio Word) o un programma compatibile.
-
- 541) **Usando Windows con quale combinazione di tre tasti si può attivare la finestra che consente tra l'altro l'arresto del computer?**
- A Ctrl + alt + canc.
 - B Shift + tab + ctrl.
 - C Ctrl + shift + alt.
-
- 542) **Scegliere, tra le seguenti, la definizione corretta di «gruppo di continuità»**
- A una periferica per la connessione continua a internet.
 - B un sistema a batterie per sopperire ad eventuali black-out della rete elettrica.
 - C un sistema per la deframmentazione dei dischi fissi.
-
- 543) **Alla porta usb di un personal computer si collega:**
- A il mouse.
 - B la ram.
 - C il modem.
-
- 544) **Internet explorer è...**
- A un browser.
 - B un modem.
 - C un motore di ricerca.
-
- 545) **Un copia di backup è:**
- A duplicare sugli stessi dischi le informazioni presenti sui dischi stessi di un computer.
 - B duplicare su differenti supporti di memoria le informazioni presenti sui dischi di un computer.
 - C copiare cd-rom o dvd tutelati da copyright.

-
- 546) **In Word, che cosa è possibile inserire in una tabella contenuta in un documento?**
A Testo, immagini e altre tabelle.
B Solo testo.
C Solo testo e numeri.
-
- 547) **.txt, ".rtf", ".doc" sono estensioni riconducibili a:**
A file testo.
B file di back-up.
C file audio.
-
- 548) **Quale tra i seguenti programmi risulta più adatto a gestire un'agenda telefonica personale?**
A Un programma di presentazione.
B Un editor di testi.
C Un foglio elettronico.
-
- 549) **In Windows 10, quale password si utilizza per sbloccare unPC in stand-by?**
A Quella di accesso a Windows.
B Quella generata automaticamente da Windows all'attivazione dell'opzione.
C Quella specificamente assegnata dall'amministratore di sistema.
-
- 550) **La memoria RAM di un comune PC:**
A costituisce un esempio di memoria volatile.
B fa parte della memoria cache del microprocessore.
C costituisce un esempio di memoria non volatile.
-
- 551) **Nel software Word, è possibile modificare la dimensione del carattere utilizzato nel documento, servendosi del comando del menu "formato":**
A carattere.
B zoom.
C paragrafo.
-
- 552) **Che cos'è internet?**
A Un insieme di reti di computer dislocati in tutto il mondo che condividono informazioni mediante lo stesso protocollo di comunicazione.
B Un particolare tipo di rete di calcolatori utilizzata nei centri di calcolo.
C Un particolare modello di computer in grado di reperire informazioni in tutto il mondo.
-
- 553) **La stringa marco@esempio.it rappresenta...**
A un indirizzo di posta elettronica su internet.
B un indirizzo simbolico di host su internet.
C un indirizzo assoluto di host su internet.
-
- 554) **In un personal computer, con quale frequenza è opportuno aggiornare il sistema antivirus?**
A Solo dopo che è stata rilevata la presenza di un virus.
B Ogni volta che si modificano le modalità di collegamento alla rete.
C Tutte le volte che il produttore dell'antivirus rende disponibili aggiornamenti del sistema.
-
- 555) **Il lavoro realizzato senza la necessità di recarsi in "ufficio" mediante l'utilizzo di sistemi informatici (computers e sistemi di comunicazione), è identificato con il termine...**
A telemodem.
B smartcasa.
C telelavoro.
-
- 556) **Con riferimento ai servizi applicativi di internet, il protocollo https consente:**
A l'invio della posta elettronica.
B di navigare le pagine web.
C il trasferimento di stream musicali.
-
- 557) **Quale tra le seguenti estensioni indica un file audio?**
A Rtf.
B Pcx.
C Mp3.
-
- 558) **In un documento Word, che cosa si intende con il termine "interlinea"?**

- A La quantità' di spazio inserita dopo un paragrafo.
 - B Lo spazio compreso tra la parte inferiore di una riga di testo e la parte inferiore della riga di testo successiva.
 - C La quantità' di spazio che separa una colonna dalla successiva.
-

559) **L'hardware è...**

- A l'insieme dei componenti fisiche di un sistema di elaborazione.
 - B l'insieme dei software di un calcolatore.
 - C solo il mouse.
-

560) **Cosa accade tenendo premuto a lungo il tasto della lettera «s» mentre si è in un documento Word?**

- A Il computer si spegne.
 - B Viene ripetuto più volte il carattere s.
 - C Viene selezionata la riga in cui si trovava il cursore all'inizio dell'operazione.
-

561) **In informatica, il gigabyte è l'unità di misura che indica la:**

- A dimensione del monitor.
 - B capacità di memoria dell'hard-disk.
 - C velocità del modem.
-

562) **Per digitare i numeri utilizzando il tastierino numerico come bisogna procedere?**

- A Attivare, se non lo è già, il tasto caps lock.
 - B Attivare, se non lo è già, il tasto bloc num.
 - C Si digitano i numeri senza nessuna procedura.
-

563) **Quale operazione non compie il sistema operativo?**

- A Le operazioni di calcolo.
 - B La gestione delle risorse delle periferiche.
 - C Inviare le istruzioni immesse dall'utente e dai software alle parti meccaniche.
-

564) **In un personal computer, quale tipo di backup si deve impiegare per ottenere una copia identica di un intero disco fisso immediatamente utilizzabile fisicamente su un altro computer?**

- A Backup di tipo incrementale.
 - B Backup on-line.
 - C Duplicazione dell'hard-disk.
-

565) **I cd-rom?**

- A sono memorie magnetiche di massa, interne al calcolatore.
 - B sono piccole memorie di massa esterne, adatte ad archiviare dati, a scambiarli, a farne una copia di sicurezza.
 - C servono a conservare temporaneamente dati e programmi, ma vengono cancellati ogni volta dati e programmi vengono trasferiti sull'hard-disk o nella ram.
-

566) **Come viene definito il metodo che consiste nel selezionare e trascinare, con il mouse, elementi grafici o porzioni di testo?**

- A Drag and drop.
 - B Cut and paste.
 - C Drop folder.
-

567) **Prima di digitare "é" è necessario...**

- A tenere premuto il tasto "alt".
 - B non tenere premuto nessun tasto.
 - C tenere premuto il tasto "maiusc".
-

568) **Nel linguaggio informatico, il termine «cookie» si riferisce a...**

- A un insieme di informazioni che un server web memorizza nell'hard-disk di un utente che si è collegato al suo sito internet.
 - B programmi per l'individuazione e la correzione di errori nell'ortografia delle parole.
 - C circuiti che vengono affiancati alla CPU per aumentarne le prestazioni.
-

569) **Il dominio ".eu"...**

- A non esiste.
 - B è generalmente riservato ad enti, aziende, ..., originarie dell'etiopia.
 - C è generalmente riservato ad enti, aziende, ..., originarie dell'unione europea.
-

- 570) **Quando si apre un documento in Excel e lo si vuole salvare sostituendo la versione precedente, è possibile utilizzare il comando:**
- A imposta pagina.
 - B salva.
 - C proprietà.
-
- 571) **In Windows, per eseguire l'aggiornamento dei componenti del sistema operativo già scaricati è indispensabile:**
- A essere amministratori del sistema o appartenere al gruppo administrators.
 - B che il disco fisso del computer abbia almeno 5 gigabyte di spazio libero.
 - C disporre di una connessione ad internet.
-
- 572) **Il firmware:**
- A è l'azienda produttrice di un computer
 - B è un particolare tipo di programma
 - C è una periferica
-
- 573) **La funzione principale di una CPU (central processing unit) consiste nel:**
- A eseguire calcoli.
 - B immagazzinare dati.
 - C collegare i vari componenti del calcolatore.
-
- 574) **Formattare un disco significa:**
- A cancellare i dati da un disco.
 - B rendere il disco avviabile.
 - C dividere il disco in unità logiche.
-
- 575) **Da che cosa dipende la risoluzione dello schermo in un computer?**
- A Dall'area dello schermo.
 - B Dal numero dei pixel.
 - C Dalla potenza del processore
-
- 576) **Nell'architettura di internet, il protocollo http serve per:**
- A gestire l'interazione tra client e server in un contesto web.
 - B richiedere l'identificazione utente certificata ssh.
 - C inviare solo messaggi e-mail.
-
- 577) **Nel "cestino" di un computer dotato di un sistema operativo Windows, si trovano:**
- A i file di configurazione.
 - B i file cancellati.
 - C i file creati più di 5 anni prima.
-
- 578) **È possibile, in una stampante, visualizzare le stampe accodate?**
- A Sì, aprendo tutti i singoli file.
 - B Sì, bisogna accedere alla cartella "stampanti" e fare doppio click sull'icona della stampante.
 - C No, non è possibile visualizzare le stampe accodate.
-
- 579) **Microsoft Word...**
- A è un sistema operativo.
 - B è un programma per gestire la posta elettronica.
 - C è un programma di videoscrittura.
-
- 580) **Un file con estensione .exe...**
- A è un file di testo.
 - B è un file eseguibile.
 - C è un file multimediale.
-
- 581) **Le memorie cache introdotte nei processori consentono...**
- A di riprodurre video ad altissima definizione.
 - B di ridurre al minimo il tempo che il processore impiega per recuperare i dati usati di recente.
 - C di rendere più efficace il controllo dei dati in entrata.
-
- 582) **Nell'applicazione di posta elettronica MS Outlook, il comando "account" del menu "strumenti" serve per:**

- A configurare la visualizzazione delle mail ricevute o inviate.
- B configurare gli indirizzi di posta dell'utente del programma.
- C gestire la rubrica degli indirizzi.

583) In html, il tag serve a specificare:

- A una tabella.
- B un'immagine.
- C un testo.

584) Quale dei seguenti software non è correttamente definito come "applicativo"?

- A Acrobat reader.
- B Linux.
- C Internet explorer.

585) In ambito informatico, come viene definito l'uso delle tecnologie internet per distribuire online contenuti didattici multimediali?

- A E-learning.
- B Videoconferenza.
- C E-mail.

586) Perché la CPU possa eseguire un programma le istruzioni ad esso relative devono risiedere...

- A nella ram oppure nella rom.
- B in una memoria di massa.
- C esclusivamente nella rom.

587) In ambito informatico, la "crittografia" consente di...

- A evitare che i file vengano corrotti da virus durante il loro trasferimento.
- B evitare che l'informazione trasferita in rete venga intercettata, perché viene alterata con un codice noto solo a chi invia e riceve.
- C incrementare la velocità di navigazione in internet.

588) Una periferica che visualizza i dati di un applicativo è definita...

- A stampante.
- B monitor.
- C mouse.

589) In un programma di posta, se inavvertitamente si elimina un messaggio di posta elettronica, è possibile recuperarlo?

- A Sì, ma solo se il computer è dotato di un'unità di back-up.
- B Sì, andando nel "cestino" di Windows.
- C Sì, andando nella cartella "posta eliminata".

590) In Windows, per avviare particolari funzionalità per la gestione dei "task" è possibile utilizzare la combinazione di tasti:

- A ctrl-alt-canc.
- B ctrl-alt-ins.
- C ctrl-maiuscolo-canc.

591) In un programma di posta, che cosa è contenuto nella cartella "posta in arrivo"?

- A Solo i messaggi ai quali si deve ancora rispondere.
- B Solo i messaggi ricevuti e non ancora letti.
- C I messaggi scaricati dal server di posta.

592) In Word per spostare un testo quali comandi si devono usare?

- A Taglia e incolla.
- B Seleziona tutto e incolla.
- C Taglia e copia.

593) Quale, tra le seguenti operazioni, è possibile per tutte le diverse organizzazioni di un archivio informatico?

- A Il posizionamento dinamico.
- B La lettura.
- C La riscrittura.

594) In un posto di lavoro ergonomico:

- A è opportuno che l'illuminazione sia artificiale.
- B è sufficiente che la luce illumini la tastiera.
- C è importante che la luce non provochi riflessi sullo schermo.

595) **Quale procedimento non si può usare per modificare una formula inserita in una cella in Excel?**

- A Cliccare due volte sulla cella ed effettuare la modifica direttamente sulla cella.
- B Scegliere la finestra di dialogo "formula" dal menù "modifica".
- C Cliccare sulla cella, posizionarsi sulla barra della formula e inserire il cursore nel punto in cui si deve apportare la modifica.

596) **È possibile inserire un'immagine in un documento di testo?**

- A Sì, sempre.
- B Solo se il programma di videoscrittura lo permette.
- C No, mai.

597) **Se viene trascinata l'icona di un programma presente sul desktop sul pulsante avvio, che cosa si ottiene?**

- A Il programma viene aggiunto nel menù avvio.
- B Il programma viene aggiornato.
- C Il programma viene posto nel cestino.

598) **Quale di queste unità può sostituire il touch pad?**

- A Lettore magnetico.
- B Mouse.
- C Plotter.

599) **Un record è:**

- A un insieme di informazioni organizzate logicamente.
- B un dispositivo hardware.
- C un insieme di file.

600) **La username identifica:**

- A una password.
- B un utente quando accede a un sistema informatico.
- C una risorsa su internet.

601) **Il termine "login"...**

- A indica la ricerca di un sito internet.
- B è il contrario del "logon".
- C indica la procedura di ingresso in un sistema.

602) **In ambito informatico, l'espressione "plug and play" indica...**

- A una tecnologia che permette al sistema operativo di assegnare automaticamente all'hardware compatibile risorse ed essere quindi pronta all'uso.
- B la conseguenza di un'operazione di "drag and drop".
- C un'applicazione che consente l'esecuzione di manutenzione programmata della stampante.

603) **Quale tra le seguenti stringhe rappresenta un indirizzo simbolico di host su internet**

- A pippo.paperino.com.
- B http://pippo.paperino.com.
- C 192.168.1.2.

604) **In ambito informatico, con il termine "mail server" si fa riferimento...**

- A al sito che replica le informazioni contenute in un altro sito.
- B al protocollo per associare alle e-mail anche attachment non testuali.
- C al server che si occupa di gestire il servizio di posta elettronica.

605) **Quale dei seguenti file è stato creato dal software Excel?**

- A Pippo.pdf.
- B Pippo.doc.
- C Pippo.xls.

606) **In ambiente Windows, a cosa serve la combinazione di tasti "ctrl + v"?**

- A A copiare un testo.
- B A spostare un testo.
- C Ad incollare un testo.

-
- 607) **Con il termine restore si indica:**
A la possibilità di recuperare dati da una copia di backup.
B la formattazione di un disco.
C l'operazione di riavvio del computer in caso di anomalia.
-
- 608) **Nel "cestino" di un computer con sistema operativo Windows, si trovano:**
A i file cancellati
B i file non utilizzati da più di tre anni
C i file di configurazione
-
- 609) **Per collegare il computer in rete locale, è necessario disporre di...**
A un lettore dvd.
B una scheda di rete.
C un unico cavo circolare privo di terminatori.
-
- 610) **Utilizzando una tastiera qwerty, spostandosi da sinistra a destra sulla stessa riga, quale tasto si trova dopo il tasto "t"?**
A Il tasto h.
B Il tasto u.
C Il tasto y.
-
- 611) **Nel software Word, il comando "salva" dal menu "file" serve per:**
A modificare i margini di un documento.
B salvare un documento sostituendone la versione precedente.
C salvare un documento in una cartella diversa da quella originale.
-
- 612) **In Word, è possibile avere due o più paragrafi formattati con rientri diversi?**
A Sì, selezionando il paragrafo a cui si vuole cambiare formato, quindi dal menù formato scegliere la voce paragrafo e quindi modificare il formato.
B No, il formato del paragrafo può variare solo tra due paragrafi, non di più.
C No, il formato del paragrafo è unico per tutto il documento.
-
- 613) **Con quale combinazione di tasti è possibile spostarsi tra le finestre attive visualizzandole tutte nello stesso momento in una finestra al centro dello schermo?**
A "fine + tab".
B "alt + tab".
C "ctrl + tab".
-
- 614) **In Excel, come viene denominato un rapporto interattivo a tabelle incrociate che riepiloga e analizza dati?**
A Incrocio.
B Rapporto di tabella pivot.
C Risolutore.
-
- 615) **Per eliminare un testo dopo averlo selezionato si può utilizzare la combinazione di tasti...**
A ctrl + x.
B ctrl + &.
C ctrl + *.
-
- 616) **La formattazione di un testo...**
A cancella tutti i files di testo contenuti in una cartella.
B trasforma un file testuale in un file grafico.
C modifica l'aspetto del testo.
-
- 617) **Quale delle seguenti estensioni del nome di un file si riferisce ad un tipo di file "compresso"?**
A Pdf.
B Zip.
C Jpg.
-
- 618) **In informatica, un server è:**
A una componente che fornisce servizi ad altre componenti attraverso una rete.
B il computer principale della rete.
C una componente che accede ai servizi o alle risorse di un'altra componente detta peer.

-
- 619) **In informatica, il client indica:**
- A un programma lato utente.
 - B una componente che accede ai servizi o alle risorse di un'altra componente detta server.
 - C una componente che mette a disposizione servizi o risorse.
-
- 620) **Nei più diffusi programmi di posta elettronica, quando si «cancella» un'e-mail:**
- A l'operazione viene segnalata al mittente dell'e-mail.
 - B viene definitivamente eliminata dalla memoria del computer.
 - C viene spostata nella cartella «posta eliminata».
-
- 621) **Quale dispositivo permette di utilizzare la rete telefonica per la trasmissione di dati tra computer?**
- A La scheda di rete.
 - B Il modem.
 - C Il firewall.
-
- 622) **Una password è:**
- A una sequenza numerica utilizzata, una volta memorizzata nel computer, per accedere ad un'area protetta.
 - B una sequenza alfanumerica utilizzata in combinazione con un username, per accedere ad un'area protetta.
 - C una sequenza numerica utilizzata in combinazione con username, per accedere ad un'area protetta.
-
- 623) **In Word, come è possibile ottenere un documento in formato pdf?**
- A Esportando il documento.
 - B Stampando il documento su una stampante di testo.
 - C Utilizzando la funzione "salva con nome" di Word.
-
- 624) **Su un foglio del programma Excel, si ha: nella cella a1 il valore 0, nella cella a2 il valore 1, nella cella a3 il valore 2. se nella cella a4 si pone la formula "=a2", quale valore si ottiene?**
- A 1.
 - B 3.
 - C A2.
-
- 625) **Un lettore cd-rom comune può leggere anche i cd musicali?**
- A No.
 - B Solo i cd musicali di recente produzione.
 - C Sì.
-
- 626) **Word per Windows permette di modificare le «impostazioni di pagina». in che cosa consiste tale operazione?**
- A Nella modifica del font di caratteri del testo.
 - B Nella modifica delle caratteristiche della pagina quali i margini, l'orientamento, la dimensione, ecc.
 - C Nella modifica dei parametri del testo per la stampa.
-
- 627) **Nel caso di black-out della rete elettrica verrà sicuramente perso:**
- A il lavoro svolto dall'ultimo salvataggio.
 - B solo l'ultimo comando eseguito.
 - C tutto l'ultimo documento elaborato.
-
- 628) **Che cosa si intende per «foglio di calcolo»?**
- A Un programma per il calcolo geometrico.
 - B Un programma che permette la lettura ottica di fogli con dati numerici.
 - C Un programma che permette l'elaborazione e la manipolazione di tabelle con dati numerici.
-
- 629) **In quale dei seguenti dispositivi viene archiviato in modo permanente un file?**
- A Hard-disk.
 - B Ram.
 - C CPU.
-
- 630) **In ambito informatico, a che cosa si riferisce il termine "protocollo smtp"?**
- A Ad un accordo tra produttori di software didattico.
 - B Ad una modalità operativa delle stampanti a colori.
 - C Alla posta elettronica.
-
- 631) **In ambito informatico, con il termine "download" si indica...**

- A la fase in cui un utente preleva file in qualsiasi formato dal computer remoto cui è collegato e li salva sulla memoria di massa della propria stazione di lavoro.
- B l'applicazione client/server generalmente attiva su un host oppure su un router di internet.
- C la rete di calcolatori accessibile dall'esterno tramite modem.

632) **In Excel, con quali elementi si identifica una cella?**

- A Il testo in essa contenuto.
- B Il tipo di formula.
- C La lettera che individua la colonna ed il numero che individua la riga.

633) **Per eliminare un file in ambiente Windows, si deve...**

- A cliccare con il tasto di destra sulla sua icona e selezionare dal menù a tendina il comando elimina.
- B cliccare sul tasto di destra sulla sua icona e selezionare dal menù a tendina il comando taglia.
- C trascina l'icona del cestino sull'icona del file.

634) **Una directory è:**

- A un file system.
- B un protocollo.
- C una organizzazione e raggruppamento di file su memoria di massa.

635) **Di norma, come sono indicate le dimensioni dello schermo di un personal computer?**

- A In centimetri sulla base dello schermo.
- B In pollici sulla diagonale dello schermo.
- C In centimetri sull'altezza dello schermo.

636) **In ambito informatico, con il termine "firma digitale" si indica...**

- A la scansione della firma degli utenti che accedono a servizi di crittografia.
- B un processo informatico per rendere sicuri i documenti elettronici.
- C la firma che garantisce l'autenticità di un software.

637) **In Windows, quando si seleziona un file e si sceglie l'opzione "elimina":**

- A il file viene spostato nel "cestino".
- B il computer si spegne.
- C il file viene eliminato e non può più essere recuperato.

638) **L'acronimo URL significa**

- A Unit Resource Limited
- B Roaming Universal Link
- C Uniform Resource Locator

639) **In un software di posta elettronica, quando si vuole inviare una e-mail già ricevuta a un altro destinatario, si può utilizzare l'opzione:**

- A nuovo.
- B inoltra.
- C invia/ricevi.

640) **Quale tra i seguenti dispositivi non ha funzione di input ?**

- A Il monitor.
- B La tastiera.
- C Il lettore cd-rom.

641) **Su un foglio del programma Excel, si ha: nella cella a1 il valore 1, nella cella a2 il valore 2, nella cella a3 il valore 3. se nella cella a4 si pone la formula «=a2/a1», quale valore si ottiene?**

- A 2.
- B 6.
- C 1.

642) **In ambito informatico, l'acronimo "CPU" indica...**

- A la central progress unit.
- B la central processing unit.
- C la copy progress unit.

643) **Quale tra i seguenti non è un software applicativo?**

- A Corel draw.
- B Photoshop.
- C Windows.

-
- 644) **È corretto affermare che tenendo premuto a lungo il tasto della lettera «m» mentre si è in un documento Word viene ripetuto più volte il carattere m?**
- A No, tenendo premuto a lungo il tasto della lettera «m» mentre si è in un documento Word il documento stesso viene salvato in memoria.
 - B Sì.
 - C No, il carattere viene ripetuto per un massimo di 10 volte poi apparirà un messaggio d'errore per ricordare di non esercitare eccessiva pressione sui tasti e non tenerli premuti a lungo.
-
- 645) **L'estensione ".jpg" è caratteristica di...**
- A un database.
 - B un file acrobat.
 - C un file immagine.
-
- 646) **Come si seleziona un'icona?**
- A Cliccandovi sopra due volte.
 - B Battendo invio.
 - C Cliccandovi sopra una volta.
-
- 647) **Il world wide web è:**
- A una rete di reti.
 - B un sistema ipertestuale distribuito.
 - C una rete di computer.
-
- 648) **Il «pannello di controllo» di Windows è una funzionalità che permette di:**
- A controllare gli accessi remoti al computer da parte di altri utenti.
 - B far funzionare il computer a distanza, a mezzo di apposito telecomando.
 - C configurare tutte le periferiche connesse e il sistema operativo.
-
- 649) **In ambito informatico, la sigla "toe" è l'acronimo di...**
- A target of evaluation.
 - B tools of security.
 - C type of security.
-
- 650) **Una stampante a colori consente...**
- A di effettuare anche stampe in bianco e nero.
 - B di formattare i file di testo.
 - C di inviare fax.
-
- 651) **In Windows, l'operazione «taglia/incolla» di un file:**
- A elimina il file e lo ricrea nella cartella in cui viene incollato.
 - B modifica il nome del file.
 - C sostituisce il file incollato con quello copiato.
-
- 652) **Il suffisso ".pps" è indicativo del programma...**
- A PowerPoint.
 - B infopath.
 - C notepad.
-
- 653) **Un file con estensione .txt...**
- A è un file di testo.
 - B è un file eseguibile.
 - C è un file di calcolo.
-
- 654) **Su un foglio del programma Excel, si ha: nella cella a1 il valore 1, nella cella a2 il valore 2, nella cella a3 il valore 3. se nella cella a4 si pone la formula "=a1+a3", quale valore si ottiene?**
- A 4.
 - B 3.
 - C 1.
-
- 655) **In ambito informatico, che cosa si intende per protocollo di comunicazione?**
- A L'insieme delle norme che regolano la trasmissione di informazioni tra dispositivi che comunicano tra loro.
 - B Il messaggio che attesta l'esito positivo di una ricerca sul web.
 - C Il resoconto del colloquio intercorso tra due server.

-
- 656) **La dimensione della memoria centrale si misura in...**
A centimetri.
B gigabyte.
C driver.
-
- 657) **In Windows, quale sequenza di operazioni duplica un file in un'altra posizione?**
A Copia/taglia.
B Copia/incolla.
C Taglia/incolla.
-
- 658) **In una presentazione PowerPoint, quale tipo di grafico rappresenta meglio il contributo di ciascun valore al totale?**
A Un grafico a dispersione.
B Un grafico a linea.
C Un grafico a torta.
-
- 659) **Un report è:**
A un prospetto contenente il risultato di una elaborazione.
B un editor di testi.
C un foglio di calcolo.
-
- 660) **Un virus non può essere ricevuto tramite...**
A uno scanner.
B un floppy disk.
C una usb key.
-
- 661) **Quale suffisso, tra quelli riportati, denota sicuramente un documento grafico?**
A .dot.
B .gif.
C .mdb.
-
- 662) **In Windows, come viene definita la stampante a cui si indirizza un documento senza la preventiva scelta della stampante?**
A Stampante predefinita o di default.
B Stampante principale.
C Stampante diretta.
-
- 663) **In ambito informatico, a che cosa si riferisce la certificazione eccl?**
A Alla conformita' di un software alle norme sulla privacy.
B Alla conformita' di un video alle norme sulla sicurezza elettrica.
C Alla capacità di saper usare, a diversi livelli, il personal computer.
-
- 664) **Come si chiama il server della posta in uscita?**
A Ftp - file transfer protocol.
B Pop3 - post office protocol 3.
C Sntp - simple mail transport protocol.
-
- 665) **Per connettere un computer alla normale rete telefonica è indispensabile possedere:**
A uno scanner.
B una scheda di rete.
C un modem.
-
- 666) **In un personal computer, che cosa si intende per "ram"?**
A Una unità di misura della memoria.
B Una memoria di supporto per la CPU, quando questa ha impegnato totalmente la propria.
C La memoria principale del computer, indirizzata direttamente dal processore.
-
- 667) **Nell'utilizzo di Word quale operazione si deve compiere per annullare una selezione?**
A Premere il tasto alt.
B Premere il tasto del.
C Premere il pulsante sinistro del mouse in un punto della finestra del documento oppure premere qualsiasi tasto di direzione.
-
- 668) **Cosa si intende per "condivisione delle risorse"?**

- A Risorse informatiche condivise tra più utenti collegati in rete.
 - B Risorse informatiche condivise tra reti.
 - C Risorse informatiche condivise tra più computer.
-

669) **La home page è:**

- A un protocollo.
 - B la pagina di apertura di un sito web.
 - C una url.
-

670) **È possibile verificare la data di creazione di un file?**

- A Sì, richiamando le sue proprietà dal menu contestuale.
 - B Sì, cliccando due volte sulla sua icona.
 - C Sì, scegliendo la voce data dal menu contestuale aperto sulla sua icona.
-

671) **In ambito informatico, il termine "cache" indica...**

- A un lettore dvd.
 - B un insieme di dati memorizzati in una posizione temporanea.
 - C un dispositivo di rete che può connettere al massimo due reti.
-

672) **Per gestire una piccola contabilità utilizzerebbe:**

- A un programma per presentazioni.
 - B un foglio elettronico.
 - C un elaboratore testi.
-

673) **In termini di programmazione informatica, un algoritmo è:**

- A un insieme di misurazioni periodiche del ritmo di un esecutore.
 - B un insieme finito di istruzioni da eseguire per assolvere un compito dato, ottenendo un risultato predefinito.
 - C un insieme infinito di azioni semplici da eseguire.
-

674) **Per inserire una tabella in Word quale sequenza di comandi si deve eseguire?**

- A Scegliere "inserisci tabella" dal menù "inserisci".
 - B Scegliere "aggiungi tabella" dal menù "formato".
 - C Scegliere "inserisci tabella" dal menù "tabella".
-

675) **In un messaggio di posta elettronica, quale parte è più a rischio per la propagazione dei virus informatici?**

- A Il testo.
 - B Gli allegati al messaggio.
 - C Le immagini.
-

676) **In allegato ad un messaggio di posta elettronica è possibile inserire un file con estensione ".zip"?**

- A Sì, ad un messaggio di posta elettronica è possibile allegare qualsiasi tipo di file.
 - B Sì, ma solo se chi riceve il file possiede un programma di decompressione.
 - C Sì, ma solo se il file ha una grandezza inferiore a 1 mb.
-

677) **Un browser è:**

- A un programma.
 - B un operatore.
 - C una rete locale.
-

678) **Il masterizzatore...**

- A è un programma per l'invio di mail.
 - B permette di alleggerire il carico di lavoro di una stampante.
 - C permette di copiare dati su un cd-rom scrivibile.
-

679) **In un personal computer, la CPU è usualmente inserita:**

- A nel sistema di alimentazione.
 - B nel disco fisso.
 - C nella scheda madre.
-

680) **Quale delle seguenti affermazioni relative ai documenti letti con uno scanner è corretta?**

- A Sono esclusivamente elaborati in tabelle mdb.
- B Possono sempre essere elaborati in forma grafica.
- C Sono generati esclusivamente in formato xls.

-
- 681) **Per inserire alcune colonne all'interno di una tabella bisogna:**
- A selezionare una colonna e scegliere inserisci colonne dal menù formato.
 - B selezionare una colonna e scegliere inserisci colonne dal menù tabella.
 - C selezionare una riga e scegliere inserisci colonne dal menù inserisci.
-
- 682) **In Excel, quale è l'effetto dell'istruzione: =a2+10?**
- A Ripete il carattere "+" per dieci volte.
 - B Addiziona 10 al valore della cella a2.
 - C Causa un messaggio di errore.
-
- 683) **In Windows, l'estensione «.doc» che segue il nome del file, significa che il file deve essere aperto con il programma:**
- A Excel.
 - B Word.
 - C acrobat.
-
- 684) **Cosa è una chiavetta USB?**
- A Una memoria di massa portatile.
 - B Una chiave algebrica utilizzata in Excel.
 - C Una chiave di sicurezza per l'accensione del computer.
-
- 685) **Quale tra le seguenti non è una memoria per dati?**
- A Chiavetta usb.
 - B Disco fisso.
 - C Scheda di rete.
-
- 686) **In Windows, quando si vuole utilizzare un file contenuto nel "cestino":**
- A non è possibile fare alcunché, poiché non è più possibile aprire un file dopo averlo collocato nel cestino.
 - B è necessario scegliere l'opzione "ripristina".
 - C è possibile aprirlo direttamente dal "cestino".
-
- 687) **Individuare la giusta successione, dal più piccolo al più grande:**
- A bit, byte, kilobyte, gigabyte, megabyte.
 - B byte, bit, kilobyte, gigabyte, megabyte.
 - C bit, byte, kilobyte, megabyte, gigabyte.
-
- 688) **In uno schermo i pixel misurano...**
- A la risoluzione.
 - B la dimensione.
 - C la luminosità.
-
- 689) **La firma digitale è**
- A un sistema di autenticazione di documenti digitali basata sulla tecnologia della crittografia a chiavi asimmetriche.
 - B un sistema di autenticazione di documenti digitali basata sulla tecnologia della crittografia a chiavi simmetriche.
 - C un sistema di archiviazione di documenti digitali basata sulla tecnologia della crittografia a chiavi simmetriche.
-
- 690) **Quale delle seguenti è una fase del ciclo di sviluppo delle componenti software di un sistema informatico?**
- A Commercializzazione.
 - B Progettazione.
 - C Distribuzione.
-
- 691) **Quando si installa un nuovo software di posta elettronica, una delle prime operazioni da eseguire consiste:**
- A nella creazione o configurazione di un account di posta.
 - B nella creazione di un nuovo sito web.
 - C nella formattazione del computer.
-
- 692) **Quale di questi programmi è un elaboratore di testi ?**
- A Access.
 - B Powerpoint.
 - C Wordpad.

-
- 693) **Per quale delle seguenti attività è appropriato utilizzare un Word processor?**
A Scrivere una biografia.
B Effettuare una ricerca in internet.
C Tener traccia delle spese di casa.
-
- 694) **Qual è la potenza elettrica assorbita mediamente da un monitor di tipo lcd da 15" durante l'uso?**
A 600 watt.
B 800 watt.
C 40 watt.
-
- 695) **In un computer, quale tra i seguenti termini può' essere associato al concetto di memoria centrale?**
A Memoria principale.
B Memoria cache.
C Memoria di massa.
-
- 696) **Il codice a barre è utilizzato nei supermercati**
A per individuare la collocazione sugli scaffali
B per registrare la data di scadenza
C per registrare il prezzo dei prodotti
-
- 697) **Indicare quale fra i seguenti siti internet non è definibile come "motore di ricerca":**
A Yahoo.
B Microsoft.
C Virgilio.
-
- 698) **Le pagine web sono scritte in un linguaggio detto:**
A ssl.
B html.
C http.
-
- 699) **La pagina iniziale di un sito internet è detta:**
A home page.
B front page.
C end page.
-
- 700) **In Excel, per scrivere il nome dell'autore su ogni pagina del documento è possibile dal menu "visualizza" usare l'opzione:**
A anteprima interruzioni di pagina.
B barre degli strumenti.
C intestazione e piè di pagina.
-
- 701) **Quali effetti ha la «formattazione di un disco»?**
A Un'organizzazione sistematica dei dati presenti nel disco.
B Il ripristino dei file cancellati dal disco.
C La cancellazione dei dati presenti nel disco.
-
- 702) **Cosa si intende per impostazioni di default?**
A Impostazioni per la segnalazione degli errori.
B Particolari impostazioni delle schede modem.
C Impostazioni di partenza.
-
- 703) **In ambiente Windows, per visualizzare il menù di avvio, quale combinazione di tasti di scelta rapida si può utilizzare?**
A "ctrl + esc".
B "ctrl + v".
C "ctrl + x".
-
- 704) **Nel software Word, il comando "salva con nome..." serve per:**
A avviare il controllo ortografico di un documento aperto.
B modificare i margini di un documento.
C salvare un documento con un nome diverso da quello originale.
-
- 705) **In una rete di computer, è possibile cancellare dei file memorizzati nell'hard-disk di un altro computer?**

- A No. un'operazione del genere può essere svolta solamente dall'amministratore del sistema.
- B Sì, ma è necessario che l'utente possieda i permessi d'accesso sui file e sull'hard-disk.
- C Sì, ma è necessario che l'utente si colleghi alla rete telnet.

706) **In ambito informatico, l'espressione "modem a 56k" indica...**

- A un modem con 56 kit di connessione.
- B un modem con una specifica velocità di trasferimento dei dati.
- C un modem con 56 khz di frequenza.

707) **Il noto pacchetto per computer Office, è un:**

- A middleware.
- B hardware.
- C software.

708) **In Windows 10, quali effetti provoca l'eccessiva frammentazione dei file memorizzati su disco fisso?**

- A Un aumento dei tempi di accesso ai dati.
- B Una diminuzione dei tempi di accesso ai dati.
- C Un miglioramento delle prestazioni complessive.

709) **Nel programma Excel, per modificare la grandezza dei caratteri di una cella selezionata, è necessario utilizzare, dal menu:**

- A "formato" il comando "celle".
- B "formato" il comando "riga".
- C "finestra" il comando "disponi".

710) **È possibile copiare i file contenuti in una pen drive su un cd-rw?**

- A Sì, se il computer è connesso ad internet.
- B Sì, in qualunque caso.
- C Sì, ma è necessario che il computer sia provvisto di masterizzatore.

711) **Per commercio elettronico si intende...**

- A l'utilizzo di internet nella vendita di beni e servizi.
- B l'uso del computer nella vendita di servizi e beni.
- C la vendita di computer.

712) **Nei programmi per Windows, la sequenza dei tasti "alt+f4" nella finestra attiva consente...**

- A la chiusura automatica della finestra attiva.
- B l'apertura di una nuova finestra.
- C la visualizzazione della guida rapida.

713) **La capacità delle memorie si misura in:**

- A kbps.
- B hertz.
- C byte.

714) **Uno dei seguenti indirizzi internet contiene un errore di forma. quale?**

- A <http://www.rose.co.uk>
- B <http://www.alberghi;trestelle.it/index.html>
- C <http://www.giangiacomo.it>

715) **Quale tipo di software applicativo si usa per eseguire calcoli e funzioni matematiche?**

- A Applicativi di accounting.
- B Fogli elettronici.
- C Un elaboratore di testi.

716) **In internet, quale tra i seguenti è un indirizzo IP?**

- A ip@camera.it
- B ftp.unipd.it
- C 192.41.6.20

717) **In Excel, qual è il numero massimo di righe di un singolo foglio di lavoro?**

- A Dipende dalla memoria del personal computer.
- B Circa 4.000.
- C Più di 50.000.

-
- 718) **Se un documento di Windows con un dato font di caratteri viene portato su di un computer che non presenti tale font nella sua tabella,...**
- A il font viene sostituito con un altro.
 - B il font viene mantenuto dal documento.
 - C Windows richiede se deve essere aggiunto quel font.
-
- 719) **Netiquette è:**
- A una serie di regole che disciplinano il comportamento in rete.
 - B un protocollo di rete.
 - C un server di rete.
-
- 720) **In ambito informatico, il copyright sul software indica:**
- A una forma di protezione dei propri dati personali.
 - B una protezione legale della proprietà del software.
 - C una protezione per un computer personale.
-
- 721) **Quale è il compito della CPU?**
- A È quello eseguire le istruzioni ricevute dalla alu.
 - B È quello di leggere le istruzioni e i dati dalla memoria ed eseguire le istruzioni.
 - C È quello eseguire le istruzioni ricevute dai dischi.
-
- 722) **Il firewall viene impiegato per:**
- A aumentare la sicurezza di una rete.
 - B smistare il traffico di una rete complessa.
 - C per proteggersi dai virus.
-
- 723) **È definito home banking...**
- A l'accesso, da casa, dei dipendenti di una banca all'archivio della banca stessa.
 - B l'accesso via internet ai servizi della banca.
 - C l'insieme dei servizi forniti da una banca alle famiglie.
-
- 724) **In Windows, l'estensione «.png» che segue il nome del file indica:**
- A file di testo.
 - B immagini.
 - C file compressi.
-
- 725) **Prima di digitare la "parentesi quadra" è necessario...**
- A non tenere premuto nessun tasto.
 - B tenere premuto il tasto "maiusc".
 - C tenere premuto il tasto "alt gr".
-
- 726) **Che cosa si intende per attivazione di un software commerciale?**
- A La verifica da parte del produttore dell'originalità del software e l'abilitazione all'utilizzo.
 - B La prima fase del processo di installazione.
 - C L'inserimento del software nel registro del sistema operativo.
-
- 727) **In un computer, quale delle seguenti tipologie di memoria è comunemente definita volatile?**
- A Ram.
 - B Flash memory.
 - C Rom.
-
- 728) **Quando si apre un documento in Excel e lo si vuole salvare in una cartella diversa da quella originale è possibile utilizzare il comando:**
- A salva con nome...
 - B salva
 - C imposta pagina...
-
- 729) **Un sistema operativo è...**
- A un componente della CPU, indicato anche con la sigla alu.
 - B un servizio di allocazione dello spazio per le periferiche.
 - C un insieme di programmi che gestisce le risorse dell'elaboratore.
-
- 730) **In internet, come si chiamano i file di testo di piccole dimensioni contenenti informazioni che alcuni siti web memorizzano sul computer dell'utente?**

- A Cookie.
- B Applet.
- C Pif.

-
- 731) **In un personal computer, che cosa si intende per "bios"?**
- A Un set di istruzioni che viene eseguito all'avvio del computer.
 - B Una periferica.
 - C Un tipo di interfaccia.
-
- 732) **Quale fra queste sigle non rappresenta alcun elemento di un pc?**
- A Mefi.
 - B Ram.
 - C CPU.
-
- 733) **Il programma winzip viene utilizzato?**
- A Per proteggere il computer quando è collegato in rete.
 - B Per modificare e stampare immagini.
 - C Per comprimere files o directory affinché occupino meno spazio.
-
- 734) **È corretto in Windows affermare che per eliminare un programma è sufficiente cancellare la cartella in cui esso è collocato?**
- A Sì, ma solo se si parla di programmi che non necessitano di installazione.
 - B Sì, tale affermazione è corretta per qualsiasi tipo di programma.
 - C No, ogni programma ha tra le sue utilità un software di disinstallazione.
-
- 735) **Il tcp/ip è:**
- A un protocollo di comunicazione.
 - B internet.
 - C una rete di computer.
-
- 736) **Uno schermo lcd è...**
- A uno schermo limitato dalla casa costruttrice a 256 colori.
 - B uno schermo in bianco e nero.
 - C uno schermo a cristalli liquidi.
-
- 737) **Si utilizza il byte per misurare:**
- A la potenza di un server.
 - B la velocità di un processore.
 - C la quantità di informazione.
-
- 738) **Indicare quale dei suffissi seguenti non rappresenta un'estensione di un file di immagine.**
- A .dot.
 - B .jpg.
 - C .bmp.
-
- 739) **Per memoria di massa si intende:**
- A un insieme di programmi.
 - B una scheda di rete.
 - C un supporto di memorizzazione.
-
- 740) **Il pdf è un formato per documenti prodotto da...**
- A exchange.
 - B acrobat.
 - C html.
-
- 741) **Che cosa è la ridondanza dei dati?**
- A La presenza di un dato duplicato in archivi diversi.
 - B La riduzione dei dati al minimo spazio di memorizzazione possibile.
 - C La presenza di un dato in un solo spazio di memorizzazione.
-
- 742) **Quale definizione si adatta al concetto di intranet?**
- A Una rete aperta a tutti i tipi di utenti.
 - B Una rete interna ad un edificio.
 - C Una rete aperta solo ad alcuni tipi di utenti.

-
- 743) Quale dei seguenti collegamenti ad internet è considerato a banda ultra larga?**
A Fibra.
B Adsl.
C 56k.
-
- 744) Il software Excel è un esempio di software applicativo, appartenente alla tipologia:**
A enterprise resources plan.
B database.
C foglio di calcolo.
-
- 745) L'operazione di «backup» consente di:**
A creare una copia di sicurezza dei dati.
B pulire i dischi dai file inutili.
C verificare la presenza di errori su un'unità disco.
-
- 746) In merito alla posta elettronica, con spamming si intende?**
A Un tipo di virus.
B Un tipo di trojan horse.
C L'invio di grandi quantità di messaggi indesiderati (generalmente commerciali).
-
- 747) Un antivirus è:**
A un programma.
B una componente di rete.
C un dispositivo hardware.
-
- 748) Quando si parla di un monitor, il numero di pixel rappresenta:**
A la grandezza fisica del monitor.
B la risoluzione grafica.
C il numero di immagini che possono essere tenute in memoria.
-
- 749) In internet, con http, si indica un:**
A indirizzo di posta elettronica.
B protocollo di trasferimento delle pagine web.
C collegamento ipertestuale.
-
- 750) Conoscendo l'indirizzo di posta elettronica di un'azienda, cosa è possibile fare?**
A Accedere al sito internet dell'azienda.
B Inviare un fax.
C Inviare una e-mail.
-
- 751) In Windows, l'estensione «.txt» che segue il nome del file, designa:**
A database generici, gestibili da qualsiasi programma dbMS.
B file di testo, gestibili da qualsiasi programma di videoscrittura.
C file del tipo «portable data format», ossia che possono essere letti con Acrobat.
-
- 752) In Windows, quale programma permette di visualizzare la disposizione dei file in un computer?**
A Pannello di controllo.
B Windows media player.
C Esplora risorse.
-
- 753) In Word, se si vuole mandare a capo una parte di testo all'interno di un paragrafo, dopo aver posizionato il cursore nel punto in cui si vuole mandare a capo la parte di testo bisogna premere il tasto...**
A fine.
B invio.
C ins.
-
- 754) Nello scegliere una password che garantisca una buona sicurezza è buona norma...**
A utilizzare una combinazione di lettere e numeri.
B utilizzare il proprio nome.
C utilizzare la propria data di nascita.
-
- 755) Un software completamente gratuito a disposizione degli utenti si chiama...**

- A freeware.
- B demo.
- C firewall.

-
- 756) **Tra le password proposte di seguito, quale assicura una maggiore sicurezza, ovvero è meno probabile che venga individuata da terzi non autorizzati?**
- A dwdward.
 - B Marco111.
 - C djWi82!e93!.
-
- 757) **In Word, se durante la digitazione di un documento viene premuto il tasto invio che cosa si ottiene?**
- A Viene cancellata la parola precedente.
 - B Viene chiuso il paragrafo e il cursore va a capo.
 - C Si salta alla pagina successiva.
-
- 758) **In un personal computer, quale dei seguenti dispositivi può essere sostituito da una trackball come dispositivo di puntamento?**
- A Lo scanner.
 - B Il modem.
 - C Il mouse.
-
- 759) **Quale tra le affermazioni seguenti, riferite ai tasti backspace e canc (o del), è corretta?**
- A Entrambi i tasti servono a confermare la scelta effettuata.
 - B Entrambi i tasti servono a cancellare i caratteri alla sinistra del cursore.
 - C Il tasto backspace cancella i caratteri a sinistra del cursore; il tasto canc quelli a destra del cursore.
-
- 760) **Su un foglio del programma Excel, si ha: nella cella a1 il valore 0, nella cella a2 il valore 1, nella cella a3 il valore 2. se nella cella a4 si pone la formula «=a2/a1», si ottiene:**
- A 2.
 - B un messaggio di errore.
 - C 1.
-
- 761) **La numerazione binaria è un sistema numerico...**
- A codificato che ammette solo due simboli.
 - B che ammette solo numeri composti da due cifre.
 - C codificato che ammette numeri composti al massimo da due cifre.
-
- 762) **Che tipo di stampante identifica il termine "inkjet"?**
- A Termica.
 - B Laser.
 - C A getto d'inchiostro.
-
- 763) **Peer to peer identifica**
- A una rete di computer che non possiede client o server fissi.
 - B una suddivisione logica di una LAN.
 - C rete interna aziendale che utilizza i protocolli e gli standard internet.
-
- 764) **Quale dei seguenti file è stato creato dal software Word?**
- A Pippo.xls.
 - B Pippo.pdf.
 - C Pippo.doc.
-
- 765) **La sigla ram identifica...**
- A la memoria ad accesso casuale.
 - B la memoria ad accesso attivo.
 - C la memoria di registrazione di access.
-
- 766) **In Excel, che cosa si intende per "formula"?**
- A Un segno o un simbolo che specifica il tipo di calcolo da eseguire.
 - B Un'equazione che esegue calcoli su valori contenuti in un foglio di lavoro.
 - C Un valore costante non calcolato.
-
- 767) **Un motore di ricerca è:**
- A un server su internet che permette di individuare una risorsa.
 - B un programma.
 - C una url.

-
- 768) Cosa si intende per «condivisione delle risorse»?**
A Risorse informatiche condivise tra più utenti collegati in rete.
B Risorse informatiche condivise tra più computer.
C Risorse informatiche condivise fra più software.
-
- 769) In internet, quale dei seguenti protocolli viene utilizzato da un programma client per gestire caselle di posta memorizzate su un server remoto?**
A Imap.
B Http.
C Ftp.
-
- 770) Prima di digitare la parentesi tonda...**
A si tiene premuto il tasto altgr.
B non si tiene premuto nessun tasto.
C si tiene premuto il tasto maiusc.
-
- 771) In Microsoft Word, per aprire un documento esistente...**
A si seleziona "file" -> "apri".
B si seleziona "finestra" -> "apri".
C si seleziona "visualizza" -> "apri".
-
- 772) La sigla B2C indica:**
A l'utilizzo delle rete per la pubblica amministrazione
B le transazioni commerciali via Internet tra un'azienda e il singolo consumatore
C le transazioni commerciali tra imprese via Internet
-
- 773) Esiste un numero massimo di immagini per una pagina html?**
A Sì, non più di 10.
B No.
C No, purché non si superi 1 megabyte di spazio disco.
-
- 774) Per "e-commerce" si intende la vendita di:**
A beni e servizi tramite internet.
B beni e servizi tramite pagamento sicuro.
C apparecchiature elettroniche.
-
- 775) Per inserire, in Excel, un nuovo foglio di lavoro si deve:**
A scegliere "foglio di lavoro" dal menù "file".
B scegliere "foglio di lavoro" dal menù "modifica".
C scegliere "foglio di lavoro" dal menù "inserisci".
-
- 776) In allegato ad un messaggio di posta elettronica è possibile inserire un file con estensione ".jpg"?**
A Sì, l'allegato di un messaggio di posta elettronica può avere qualsiasi estensione.
B No, in allegato ad un messaggio di posta elettronica possono essere inviati solo files di testo (.doc, .txt, etc.).
C Sì, ma solo se la versione del programma di posta è la più recente.
-
- 777) Una periferica che riporta su carta i dati di un applicativo è definita...**
A stampante.
B modem.
C mouse.
-
- 778) In Microsoft Excel, le funzioni vanno inserite all'interno di una formula, quindi inizieranno sempre...**
A con il simbolo "=".
B con il simbolo "#".
C con il simbolo "+".
-
- 779) Se viene creata una tabella in Excel e poi, mediante i comandi copia e incolla, viene trasportata in un documento di Word, questa diventa una tabella Word?**
A No, si creerà in automatico un collegamento alla tabella di Excel e le eventuali modifiche potranno essere fatte esclusivamente tramite Excel.
B No, in nessun caso una tabella di Excel potrà essere trasportata all'interno di Word.
C Sì, ma sarà scollegata dal programma che l'ha generata, quindi le eventuali modifiche non saranno aggiornate simultaneamente nelle due tabelle.

-
- 780) Un computer portatile normalmente ha un monitor di tipo:**
A tubo catodico.
B non ha monitor.
C ICD
-
- 781) In Windows, l'operazione «copia/incolla» di un file:**
A duplica il file originale nella cartella in cui esso è contenuto.
B modifica il nome del file.
C elimina il file e lo ricrea in una nuova cartella specificata dall'utente.
-
- 782) Cosa è una LAN (Local Area Network)?**
A Il cosiddetto "ultimo miglio" della rete dell'operatore pubblico.
B Un sistema di gestione della posta elettronica nell'ambito dello stesso edificio.
C Una rete di computer situati in un'area limitata, tipicamente nello stesso edificio.
-
- 783) Come sono comunemente chiamati i programmi che navigano sul web alla ricerca delle pagine da indicizzare per i motori di ricerca?**
A Crawler.
B Explorer.
C Indexing agent.
-
- 784) Un modem è:**
A una scheda di rete.
B un programma.
C un dispositivo che si interfaccia a una linea telefonica.
-
- 785) Per inviare un messaggio di posta elettronica si deve conoscere...**
A l'indirizzo e-mail e del provider del destinatario.
B solo l'indirizzo e-mail del destinatario.
C l'indirizzo e-mail e l'indirizzo del sito internet del destinatario.
-
- 786) Cosa si intende per copia di backup?**
A Una copia dei dati nella memoria volatile.
B Una copia dei dati su supporti di memoria diversi dall'hard-disk del proprio computer.
C Una copia dei dati sull'hard-disk del proprio computer.
-
- 787) Per diagnostica si intende:**
A l'individuazione delle cause di errori o guasti in prodotti software o hardware.
B un programma in grado di proteggere il computer da guasti.
C la risoluzione di un guasto hardware o software.
-
- 788) Quale tra le seguenti affermazioni è corretta? il 5g:**
A è una tecnologia digitale di telefonia mobile.
B è un modo diverso di mandare gli SMS.
C è un nuovo protocollo internet.
-
- 789) In ambiente Windows, per selezionare più file si deve cliccare su ciascun file tenendo premuto il tasto...**
A ctrl.
B ins.
C tab.
-
- 790) Quali delle seguenti affermazioni non è corretta?**
A Windows 10 è un applicativo per la gestione di testi.
B Le stampanti laser utilizzano il toner.
C Windows xp è un sistema operativo.
-
- 791) In ambito informatico, con il termine "login" si indica...**
A il tempo che intercorre tra l'invio di un messaggio in rete e il suo arrivo a destinazione.
B la connessione ad una rete locale o a un server remoto.
C l'indirizzo che identifica la casella di posta elettronica di un determinato utente.
-
- 792) I programmi del tipo "general purpose":**

- A guidano l'utente nello svolgere compiti specifici.
- B devono essere istruiti per svolgere compiti specifici.
- C vengono sviluppati per svolgere compiti specifici.

793) **Prima di digitare il "più (+)" è necessario...**

- A tenere premuto il tasto "maiusc".
- B tenere premuto il tasto "altgr".
- C non tenere premuto nessun tasto.

794) **Nell'architettura di internet, il protocollo pop3 consente:**

- A il trasferimento diretto di stream video.
- B la ricezione della posta elettronica.
- C la gestione semplificata degli apparati di rete.

795) **Un tipo di file molto comune sono i file di testo ascii. essi sono costituiti da...**

- A una sequenza di caratteri ascii, tale da poter essere letta ed interpretata nello stesso modo da tutti i sistemi operativi.
- B una sequenza di caratteri unix, tale da poter essere letta ed interpretata nello stesso modo da tutti i sistemi operativi.
- C una sequenza di caratteri ttf, tale da poter essere letta ed interpretata nello stesso modo da tutti i sistemi operativi.

796) **In un programma elaboratore di testi (per esempio Word) è possibile mettere in ordine automaticamente un elenco di nominativi?**

- A Sì, ma solo se i nominativi sono contenuti in una tabella.
- B Sì, ma solo se ogni nominativo è preceduto da un numero.
- C Sì, mediante il comando «ordina».

797) **In Microsoft Word la combinazione di tasti "ctrl+freccia sinistra":**

- A sposta il cursore all'inizio della pagina corrente.
- B sposta il cursore alla fine della riga corrente.
- C sposta il cursore alla parola precedente.

798) **Cosa si intende con la parola «driver»?**

- A Un tipo di periferica.
- B Un programma che permette il colloquio tra un computer ed una particolare periferica.
- C Un programma di aiuto in linea.

799) **Il tasto invio (o enter, o return) serve...**

- A a confermare le scelte e i comandi, o ad andare a capo in un programma di videoscrittura.
- B ad inserire dei caratteri "spazio" nel file in lavorazione.
- C a cancellare il carattere immediatamente alla sinistra del cursore.

800) **Il task manager di Windows 10:**

- A si attiva sempre se un processo sta accelerando oltre la norma.
- B non può consentire di arrestare il sistema.
- C fornisce informazioni sui programmi e processi eseguiti sul computer.

801) **Quali tra queste unità di memoria perde tutti i dati una volta che il calcolatore viene spento?**

- A La memoria di massa.
- B La memoria ram.
- C La memoria dell'hard-disk.

802) **In quale barra si trovano tutti i comandi per lavorare con Excel?**

- A Barra standard.
- B Barra di stato.
- C Barra dei menu.

803) **Quando si connette una periferica non plug-and-play ad un computer, è necessario installare un particolare software detto:**

- A driver.
- B sistema operativo.
- C bios.

804) **Che cos'è uno switch?**

- A Un dispositivo di rete.
- B È un dispositivo di rete che si occupa di instradare pacchetti tra reti diverse ed eterogenee.
- C Una scheda di rete.

805) In un programma come Excel per Windows è possibile inserire delle formule per effettuare calcoli. in che modo si può prelevare il contenuto di una cella per inserirlo nella formula?

- A Specificando le coordinate della cella.
- B Con la procedura di «copia e incolla».
- C Specificando le coordinate della cella, ma avendo abilitato la cella ad essere inserita nella formula con l'opzione di «formattazione cella».

806) Quale dei seguenti è un sistema operativo?

- A Windows Vista.
- B Fortran.
- C Python.

807) È corretto affermare che tenendo premuto a lungo il tasto della lettera "r" mentre si è in un documento Word il cursore si sposterà in basso di una riga?

- A No, viene ripetuto più volte il carattere r.
- B Sì, il cursore si sposterà in basso di una riga.
- C No, il cursore si sposterà di una riga in alto.

808) In Word, per annullare l'ultima operazione effettuata si devono premere i tasti...

- A ctrl + h.
- B ctrl + %.
- C ctrl + z.

809) Quando quando si clicca sull'icona Nuovo in MS DOS

- A si apre un documento vuoto
- B si esce dal programma
- C si cancella tutto il contenuto del documento aperto.

810) L'estensione di un file identifica:

- A una immagine.
- B un documento Word.
- C il tipo del file.

811) A che cosa serve la memoria RAM ?

- A Funge da magazzino temporaneo per tutti i dati durante l'elaborazione.
- B Contiene tutte le istruzioni utili al calcolatore in fase di avvio.
- C A contenere le istruzioni del sistema operativo.

812) La gestione dell'hardware e del software di un computer è demandata a un particolare programma detto:

- A sistema operativo.
- B file system.
- C esplora risorse.

813) Se si accende un pc, ma non il monitor...

- A il PC si blocca ed è necessario spegnerlo.
- B il PC completa comunque l'avviamento.
- C il PC tenta comunque di avviarsi, ma si corre il rischio di rovinare l'hard-disk.

814) Per stampare un file documento è necessario:

- A salvare il file documento su disco.
- B avere una stampante installata nella cartella delle stampanti.
- C nessuna delle risposte proposte è corretta.

815) Quale dei seguenti accorgimenti è importante per avere la propria postazione di lavoro sicura?

- A Isolamento del posto di lavoro da fonti di calore ed umidità.
- B Nessuna risposta è corretta.
- C Impianto elettrico con messa a terra, secondo norma.

816) Quale tra le seguenti affermazioni è vera?

- A Il disco rigido è un componente della scheda madre.
- B La capacità di un di disco rigido nei computer di nuova generazione è espressa in megabyte.
- C Il disco rigido è anche chiamato hard-disk.

817) In quale situazione è opportuno cercare e cancellare i files temporanei eventualmente presenti sull'hard-disk del computer?

- A Trovandosi nell'esigenza di liberare dello spazio sull'hard-disk del computer stesso.
- B Avendo l'esigenza di fare un backup.
- C Volendo creare il disco di ripristino del sistema operativo.

818) Quale componente è considerato il "cervello" di un computer?

- A La ram.
- B La CPU o processore.
- C La rom.

819) Che cosa è un programma?

- A È la descrizione di un algoritmo in un linguaggio adatto a essere eseguito da un computer.
- B L'insieme delle istruzioni che vengono eseguite da un computer durante la fase di avvio.
- C È l'implementazione fisica di uno dei componenti della macchina di turing.

820) In Microsoft Excel la combinazione di tasti "alt+f4":

- A chiude l'applicazione attiva di Word.
- B trova il successivo errore ortografico/grammaticale.
- C salva il documento corrente.

821) Nel software Word, è possibile modificare l'interlinea tra due righe diverse di testo utilizzando, dal menu "formato", il comando:

- A bordi e sfondo.
- B tabulazioni.
- C paragrafo.

822) Quando è opportuno utilizzare il disco di ripristino?

- A Ogni qual volta si vuole ripristinare dei dati erroneamente cancellati.
- B Nel momento in cui all'accensione del computer non si riesce ad avviare Windows.
- C Esclusivamente prima di effettuare un backup.

823) Il sistema operativo Windows, rispetto all'MS-dos, permette di...

- A usare floppy disk con capacità maggiore.
- B avviare e tenere attive più applicazioni contemporaneamente.
- C scrivere documenti più lunghi.

824) In unaLAN, il mac address è rappresentato normalmente da:

- A sei coppie di valori esadecimali.
- B tre coppie di valori decimali.
- C dodici coppie di valori decimali.

825) Un cavallo di troia (trojan horse) è...

- A un programma che richiama altri programmi.
- B un virus.
- C una chiamata del sistema operativo nascosta all'utente.

826) Che cosa vuol dire "hosting di un sito web"?

- A Un server della propria azienda è connesso a internet e ha un server web.
- B Un sito è sull'host di un provider, dotato di server web, e il server ospita anche altri siti web.
- C Si realizza un sito web su un proprio computer.

827) Il mac address rappresenta:

- A il numero che identifica uno o più computer appartenente alla rete locale.
- B il numero unico che identifica un computer appartenente alla rete locale.
- C l'indirizzo IP.

828) In Excel, quale delle seguenti formule dà come risultato 30?

- A $=(10+2)+6-8$.
- B $=10+2+(6+8)$.
- C $=10+2*6+8$.

-
- 829) Per stampare un documento Word quale procedura non si deve seguire?**
A Cliccare sul pulsante stampa sulla barra degli strumenti.
B Scegliere stampa dal menù file.
C Cliccare tre volte su un punto qualsiasi del documento.
-
- 830) Per trasferire un file tra due computer in internet utilizzerai**
A un server.
B un dischetto.
C il protocollo FTP.
-
- 831) Che cosa è l'e-government?**
A L'insieme di tecniche real time per il monitoraggio a distanza.
B Un ente indipendente preposto alla vigilanza di internet.
C L'uso di tecnologie internet da parte della pubblica amministrazione.
-
- 832) In base ai principi dell'ergonomia, il piano di lavoro su cui poggiano la tastiera ed il monitor deve essere:**
A lucido a specchio.
B molto riflettente.
C non riflettente.
-
- 833) Sia c11 un riferimento all'interno di una formula Excel: esso è di tipo...**
A parziale.
B assoluto.
C relativo.
-
- 834) In Windows, l'estensione ".xls" che segue il nome del file, significa che il file deve essere aperto con il programma:**
A PowerPoint.
B Excel.
C Word.
-
- 835) Per aumentare la sicurezza del mio pc:**
A installerei Office.
B installerei un antivirus.
C installerei un compilatore.
-
- 836) Premendo il tasto funzione "f1":**
A si spegne il pc.
B si rinomina il file selezionato.
C si visualizza la guida in linea di Windows o del programma attivo.
-
- 837) Cosa è una e-mail (electronic mail)?**
A È un servizio che consente di scambiare messaggi elettronici tra utenti di computer utilizzando la rete internet.
B È un indirizzo che si può utilizzare solo per mandare messaggi.
C È un indirizzo che si può utilizzare solo per ricevere messaggi.
-
- 838) In internet, un hyperlink è:**
A una parte di testo che rinvia ad un'altra unità informativa.
B un'immagine che si anima quando ci si avvicina con il mouse.
C una parte di testo che si può trasformare in immagine.
-
- 839) Chi è Bill Gates?**
A Il principale fondatore di Apple.
B Il principale fondatore di Microsoft.
C Il principale fondatore di Google.
-
- 840) In informatica, la visualizzazione con una determinata risoluzione dipende...**
A solo dal tipo di scheda grafica.
B solo dal tipo di monitor.
C dal tipo di monitor e dal tipo di scheda grafica.
-
- 841) In un programma di posta, a cosa serve il pulsante rispondi?**

- A A inoltrare il messaggio a tutti gli indirizzi contenuti nei contatti.
- B A rispondere a tutti i destinatari del messaggio ma non al mittente.
- C A rispondere al mittente del messaggio.

842) **Quali tra i seguenti non è un motore di ricerca?**

- A Mozilla firefox.
- B Yahoo.
- C Virgilio.

843) **Durante una scansione del computer, l'antivirus cerca...**

- A programmi che accedono in maniera maligna al computer.
- B worm che hanno superato la barriera del firewall.
- C particolari sequenze di bit che identificano virus.

844) **Javascript è:**

- A una pagina html.
- B un protocollo.
- C un linguaggio procedurale per il web.

845) **In Windows, la combinazione di tasti ctrl-alt-canc provoca:**

- A nessun effetto.
- B l'apertura del menu "avvio".
- C l'avvio di una particolare funzionalità per la gestione dei task del sistema.

846) **Cosa si intende per reboot?**

- A L'insieme dei processi che vengono eseguiti da un sistema operativo in caso di blocchi di sistema.
- B L'operazione di spegnimento e riavvio del computer.
- C L'insieme dei processi che vengono eseguiti da un computer durante la fase di avvio.

847) **Per fare una presentazione utilizzerebbe:**

- A Excel.
- B PowerPoint.
- C un qualsiasi editor di testo.

848) **In ambito informatico, se si parla di software cad significa che l'argomento che si sta affrontando è:**

- A il design creativo.
- B il controllo delle linee di produzione.
- C la progettazione.

849) **Nell'indirizzo di posta elettronica "aaa@bbb.it" qual è l'identificativo dell'utente?**

- A "bbb".
- B "aaa@".
- C "aaa".

850) **Cosa si intende con la parola hardware?**

- A Stampante.
- B È la parte fisica di un personal computer.
- C Hard-disk.

851) **In Microsoft Word, quale combinazione di tasti occorre premere per modificare il testo evidenziato, portandolo in grassetto?**

- A "ctrl + i".
- B "ctrl + s".
- C "ctrl + g".

852) **Generalmente l'icona associata ad una cartella è di colore...**

- A blu.
- B giallo.
- C verde.

853) **Quale tra i seguenti non si può definire un dispositivo di output?**

- A Tastiera.
- B Stampante.
- C Monitor.

-
- 854) **Nel cestino di Windows, facendo doppio clic su uno dei files...**
A viene ripristinato il file.
B viene chiesto di associare il file a un'applicazione per poter eseguire il file.
C viene visualizzata la scheda proprietà del file.
-
- 855) **È possibile salvare una cartella di lavoro Excel in formato html?**
A Sì, ma prima si deve importare in Word.
B No, non è possibile salvare in formato html.
C Sì, selezionando salva come pagina web dal menù file.
-
- 856) **In Excel, quale delle seguenti è una funzione finanziaria?**
A Somma.
B Interessi.
C Fattoriale.
-
- 857) **Quale delle seguenti è una posizione ergonomicamente corretta per l'uso del computer durante la digitazione?**
A Avambracci appoggiati sul piano di lavoro.
B Schiena scostata dallo schienale della sedia nel tratto lombare.
C Dita e polsi rigidi.
-
- 858) **Quale supporto di memorizzazione di massa portatile è il più recente?**
A Cd-rom.
B La chiave usb.
C Floppy disk.
-
- 859) **Su un foglio del programma Excel si ha: nella cella a1 il valore 3, nella cella a2 il valore 4, nella cella a3 il valore 5. se nella cella a4 si pone la formula "=somma(a1:a3)", quale valore si ottiene?**
A 12.
B 7.
C 8.
-
- 860) **In Word, quale tra le seguenti combinazioni di tasti va usata per duplicare un testo selezionato?**
A Ctrl+x seguito da ctrl+z.
B Ctrl+c seguito da ctrl+v.
C Ctrl+x seguito da ctrl+v.
-
- 861) **Il campo "from" in una e-mail contiene:**
A l'url del mittente.
B l'indirizzo del mittente.
C l'indirizzo del destinatario.
-
- 862) **Nell'url www.atac.roma.it, qual è il dominio di secondo livello?**
A Atac.
B Roma.
C Www.
-
- 863) **In ambito informatico, qual è la tipica attività svolta da un programmatore?**
A Progettare interfacce hardware.
B Installare i programmi sul computer.
C Scrivere programmi per i computer.
-
- 864) **Su internet le faq individuano:**
A un sito web.
B un insieme di domande e risposte su argomenti comuni.
C un forum.
-
- 865) **La sigla rom identifica:**
A una memoria di sola scrittura.
B una memoria volatile.
C una memoria di sola lettura.
-
- 866) **Un programma software che gestisce un dispositivo hardware (per esempio una stampante) è...**

- A un filtro dei files stampabili.
- B un gestore numerico.
- C un driver.

867) Nella cartella documenti esiste il file documento.doc; cosa accade se, nella stessa cartella, si copia un altro file avente lo stesso nome?

- A Il primo file viene rinominato documento2.doc.
- B Il sistema operativo avvisa e chiede di confermare la sostituzione.
- C Il nuovo file viene aggiunto con il nome copy of documento.doc.

868) Un file Word (.doc) salvato su disco occupa circa 2mb. se diminuisco la dimensione dei caratteri usati del 50% e salvo di nuovo il file, quanto sarà lo spazio occupato su disco?

- A Circa il 25% in meno.
- B Circa invariata.
- C Circa il 50% in più.

869) Perché, talvolta, quando si apre in ufficio un documento Word creato sul PC di casa lo si vede con un font diverso da quello impostato originariamente?

- A Perché il PC in ufficio ha un diverso monitor.
- B Perché il PC in ufficio ha una diversa stampante.
- C Perché quel font non è installato sul PC in ufficio.

870) In Excel, che cosa indica il riferimento d4?

- A Le prime quattro colonne della riga 4.
- B La cella situata all'intersezione della colonna d con la riga 4.
- C Le prime quattro righe della colonna d.

871) Formattare una chiavetta usb significa...

- A in gergo informatico, farne una copia sull'hard-disk.
- B in gergo informatico, farne una copia su ram.
- C predisporla all'uso da parte di un certo sistema operativo; l'operazione, tuttavia, comporta la completa cancellazione di dati eventualmente già memorizzati su di essa.

872) A cosa si riferiscono le sigle com1 e com2?

- A A porte seriali.
- B Alla tastiera e al mouse.
- C Alla tecnologia di rete utilizzabile sia nelle reti locali che in quelle geografiche.

873) Per assembly si intende:

- A un linguaggio di programmazione
- B un raccoglitore di fogli di lavoro
- C un computer assemblato

874) Quando si riceve una e-mail con un allegato è opportuno:

- A modificarne l'estensione.
- B controllarla con un antivirus aggiornato.
- C riavviare il computer.

875) Quale dei seguenti software non è un sistema operativo?

- A Linux.
- B Skype.
- C Windows.

876) Come si può chiudere una finestra di Windows utilizzando i soli tasti?

- A Attraverso il mouse "cliccando" sulla casella del menù di controllo nell'angolo inferiore sinistro della finestra di documento.
- B Nessuna delle risposte proposte è corretta.
- C Premendo «alt+f4».

877) In informatica, cosa si intende per protocollo?

- A È la descrizione del formato dei messaggi e delle regole che diverse entità devono adottare per lo scambio dei messaggi.
- B Un linguaggio formale di tipo grafico per rappresentare algoritmi.
- C Una componente che fornisce servizi ad altre componenti attraverso una rete.

878) L'altoparlante è:

- A una unità di input e di output per le applicazioni multimediali.
- B una unità di output per riprodurre i suoni.
- C una unità per registrare l'audio.

879) In ambito informatico, da quale tipo di malfunzioni può essere causato il cosiddetto "crash" di un computer ?

- A Solo del sistema operativo.
- B Solo software.
- C Hardware e/o software.

880) In ambito informatico, con il termine "software" si indicano...

- A il linguaggio e i programmi di un computer.
- B le componenti meccaniche di un computer.
- C le periferiche di un computer.

881) In un personal computer, quale delle seguenti azioni garantisce meglio la cancellazione di dati riservati da un disco fisso?

- A La cancellazione dei file con i dati e lo svuotamento del cestino.
- B La formattazione a basso livello.
- C La cancellazione dei file con i dati e di tutti i file temporanei.

882) Che cosa rappresenta il formato mp3?

- A Uno standard per la compressione di suoni.
- B Uno standard per la compressione di immagini.
- C Uno standard per la compressione di testi.

883) Quale delle seguenti affermazioni è corretta?

- A Il byte è un insieme di bit.
- B Non è più consentito utilizzare floppy-disk.
- C Esistono solo stampanti di tipo laser.

884) In ambito informatico, quale tra i seguenti è un materiale di consumo di una stampante laser?

- A Cartuccia toner.
- B Cartuccia inchiostro.
- C Nastro di stampa.

885) Quando un sistema operativo supporta l'esecuzione di due programmi nello stesso momento si dice

- A multishock.
- B multihost.
- C multitask.

886) Che cos'è uno scanner?

- A Un dispositivo che digitalizza immagini bidimensionali analogiche.
- B Un lettore di card.
- C Un particolare tipo di stampante.

887) Quale tra i seguenti elementi non costituisce una componente hardware di un calcolatore?

- A CPU.
- B Sistema operativo.
- C Lettore cd-rom.

888) Una volta che si è digitato un testo in Word per Windows, in che modo si può cambiarne l'aspetto (ad es. utilizzare il corsivo)?

- A Per mezzo del mouse, facendo click sul pulsante con l'icona appropriata.
- B Facendo precedere e seguire la porzione di testo da modificare con caratteri di controllo appropriati.
- C Evidenziando con il mouse il testo da modificare e cliccando sul pulsante appropriato.

889) Nel software MS Word, quando si clicca sull'icona nuovo:

- A si apre un documento vuoto e viene chiuso quello aperto.
- B si apre un documento vuoto.
- C si esce dal programma.

890) Quale delle seguenti procedure è utile per mantenere la sicurezza dei dati archiviati in un computer?

- A Eseguire il programma deframmentazione del disco fisso.
- B Usare dei software antivirus aggiornato.
- C Formattare periodicamente il disco fisso.

891) **In un personal computer, che cosa comporta comprimere un file con un'utility tipo Winzip?**

- A Una riduzione della dimensione del file.
- B Un aumento della capacità elaborativa del computer.
- C Una maggiore velocità di elaborazione del file da parte del PC.

892) **Con riferimento al trasferimento della voce su internet, che cosa causa il deterioramento della qualità?**

- A Un basso numero di utenti connessi.
- B Una velocità troppo elevata di connessione alla rete.
- C Una latenza alta e con valori fluttuanti.

893) **Cosa indica il termine "wireless"?**

- A Indica un sistema di comunicazione con cavi a fibra ottica.
- B Indica un tipo particolare di cavo per la comunicazione tra unità centrale e periferica.
- C Indica i sistemi di comunicazione tra dispositivi elettronici, che non fanno uso di cavi.

894) **Quale delle seguenti affermazioni riguardanti le e-mail è vera?**

- A Le e-mail non si possono inviare tramite siti internet.
- B Le e-mail si possono mandare solo ad un indirizzo per volta.
- C L'applicazione Microsoft Outlook gestisce le e-mail.

895) **In internet, quale tra i seguenti è un indirizzo di posta elettronica formalmente corretto?**

- A mariorossi.it.
- B mario@rossi.it.
- C mario.rossi@it.

896) **Quale delle seguenti estensioni dei nomi dei files si riferisce ad un file in formato immagine?**

- A wav.
- B jpeg.
- C xls.

897) **Utilizzando una tastiera di tipo italiana (qwerty), spostandosi da sinistra a destra sulla stessa riga, quale tasto si trova dopo il tasto "w"?**

- A Il tasto "e".
- B Il tasto "a".
- C Il tasto "b".

898) **In ambito informatico, come si definisce la configurazione del computer tramite la quale è possibile avviare due sistemi operativi diversi in alternativa tra loro?**

- A Dual boot.
- B Boot start.
- C Dual start.

899) **In ambiente Windows, un "contenitore" di files è indicato con il termine...**

- A scatola.
- B pacco.
- C cartella.

900) **Di che tipo è il file di nome "audio.txt.jpg" ?**

- A È un file di tipo audio.
- B È un file di tipo immagine.
- C È un file di tipo video.

901) **Un software di cui il codice sorgente è a disposizione degli utenti è chiamato...**

- A beta release.
- B open source.
- C freeware.

902) **Un calcolatore che può essere usato da centinaia (o anche più) utenti contemporaneamente è definito:**

- A workstation
- B mainframe
- C piattaforma

903) **Windows 10...**

- A è l'ultima versione di Windows della Microsoft.
- B è un programma per la gestione di file grafici.
- C è una vecchia versione del sistema operativo Windows.

904) **In Windows 10, che cosa rappresenta un'icona con una freccia in un piccolo quadrato con sfondo bianco posto in basso a sinistra?**

- A Un collegamento ad un file o ad una cartella.
- B Un programma eseguibile.
- C Un documento di testo non formattato.

905) **Nell'indirizzo di posta elettronica "luigi@esempio.com", la parte "esempio.com" indica:**

- A il dominio dell'indirizzo di posta.
- B un sito web che offre caselle di posta gratuite.
- C il nome del proprietario dell'indirizzo web.

906) **In una finestra di esplora risorse, quale comando permette di visualizzare la finestra precedentemente visualizzata?**

- A Avanti.
- B Indietro.
- C Livello superiore.

907) **Nel software MS Word, una formattazione «grassetto» «corsivo» può coesistere ?**

- A Sì.
- B No.
- C Solo se il carattere ha dimensioni superiori a 24pt.

908) **Una «smart card» al suo interno contiene:**

- A un microchip.
- B il numero di carta di credito.
- C il numero telefonico.

909) **Nelle operazioni di copia ed incolla in Windows dove vengono salvati con copia e dove vengono presi con incolla, i dati?**

- A Nelle «risorse del computer».
- B Nel «desktop».
- C Negli «appunti».

910) **A quale paese appartiene il sito "http://www.Roma.fl"?**

- A Finlandia.
- B Italia.
- C Germania.

911) **In ambito informatico, l'espressione "scheda madre" indica...**

- A una superficie di circuiti stampati dove trovano alloggio le varie schede delle periferiche e la CPU.
- B la scheda che permette di collegare il computer ad altri elaboratori.
- C il report trasmesso a tutti gli apparati di ricezione.

912) **L'acronimo «www», spesso presente negli indirizzi web, significa:**

- A wizard wide web.
- B world wide web.
- C world wild web.

913) **Che cosa è una guida in linea (accezione informatica)?**

- A Un aiuto presente all'interno di molti programmi per Windows, consultabile durante l'esecuzione del programma stesso.
- B Una simulazione del programma che ne spiega le caratteristiche principali.
- C Un aiuto sul programma utilizzato, fornito da personale specializzato contattato telefonicamente.

914) **In ambito informatico, quali tra i seguenti non è generalmente un compito espletato da un "amministratore di sistema"?**

- A Creazione di siti web.
- B Ottimizzazione dell'efficienza della rete.
- C Controllo del funzionamento della rete.

915) **Per definizione, l'informatica è una scienza che si occupa...**

- A del trattamento delle informazioni.
- B del frazionamento delle informazioni.
- C dell'allestimento dei client di rete.

916) **Il bios è memorizzato:**

- A nell'hard-disk.
- B nella memoria centrale.
- C nella memoria rom.

917) **Nella posta elettronica il campo "cc:", in cui è possibile inserire il nome dei destinatari di una e-mail:**

- A specifica gli indirizzi ai quali vanno recapitate eventuali risposte.
- B corrisponde alla dicitura: "copia carbone".
- C la recapita nascondendo al destinatario principale i nomi degli altri destinatari in esso contenuti.

918) **In ambito informatico, l'espressione "cross-posting" indica...**

- A l'inserimento dello stesso messaggio in differenti parti dello stesso strumento di interazione online (forum, newsgroup, ecc.).
- B un apparato che interfaccia due reti basate su protocolli differenti.
- C una particolare tecnica per creare e-mail.

919) **Una "patch" può essere utile per...**

- A risolvere uno specifico errore, che impedisce il corretto funzionamento di un programma.
- B l'operazione di pulizia del disco rigido.
- C aggiornare l'antivirus via internet.

920) **Normalmente, quale file deve essere eseguito per installare un programma in ambiente Windows?**

- A Setup.exe.
- B Install.xls.
- C Setup.pdf.

921) **Nei programmi di videoscrittura il termine «centrato» viene utilizzato per definire...**

- A il posizionamento automatico del testo, che verrà centrato rispetto ai margini destro e sinistro.
- B la posizione centrata del documento all'interno della finestra di visualizzazione.
- C le funzioni per sottolineare il testo.

922) **Un indirizzo IP rappresenta:**

- A una scheda di rete.
- B un metodo standard di identificazione di un computer su internet.
- C un protocollo di rete.

923) **Che cosa è un url?**

- A L'indirizzo di una pagina web.
- B È un messaggio di errore.
- C Un linguaggio di programmazione.

924) **Quale delle seguenti affermazioni è corretta. il bios...**

- A permette di stampare.
- B è indispensabile per l'avvio del computer.
- C serve per connettersi a internet.

925) **In Microsoft Word è possibile gestire anche immagini?**

- A No, Microsoft Word permette di gestire solo testi.
- B Sì.
- C Sì, ma solo se in formato png.

926) **In internet, "www.esempio.com", indica:**

- A il nome del proprietario dell'indirizzo web.
- B la nazionalità del proprietario del dominio.
- C l'indirizzo del sito.

-
- 927) **Quando su un PC sono installate diverse stampanti, quella di default è quella...**
A collegata alla porta usb.
B dove il computer effettua le stampe a meno che non vengano date istruzioni diverse.
C collegata alla porta seriale.
-
- 928) **Quale dei seguenti indirizzi e-mail non è formalmente corretto?**
A indirizzo@email.uni.it.
B indirizzo.email@server.it.
C indirizzo\email.email.it.
-
- 929) **In Excel, per scrivere il nome dell'autore su ogni pagina del documento è possibile usare l'opzione:**
A barre degli strumenti.
B anteprima di stampa.
C intestazione e piè di pagina.
-
- 930) **Quale tra i seguenti indirizzi internet appartiene ad un sito della grecia?**
A Https://www.milano.gr.
B Https://www.francoforte.fr.
C Https://www.parigi.es.
-
- 931) **La parte più piccola dell'immagine visualizzata sullo schermo si chiama...**
A bit.
B pollice.
C pixel.
-
- 932) **Quale dei programmi standard di Windows permette di creare o modificare documenti di testo formattati con vari tipi di carattere?**
A Notedit.
B Edit.
C Wordpad.
-
- 933) **Il vantaggio di lavorare con un "laptop" è:**
A permettere a più utenti di lavorare contemporaneamente.
B avere una maggiore potenza di calcolo.
C avere la possibilità di trasportarlo in base alle necessità dell'utente.
-
- 934) **Per multitasking si intende:**
A un computer con più processori.
B l'esecuzione sequenziale di programmi.
C la possibilità di eseguire più applicazioni contemporaneamente.
-
- 935) **La sigla "ict" è l'acronimo di...**
A internet computer transfer.
B internet carrier television.
C information and communications technologies.
-
- 936) **Che cosa è il programma sorgente?**
A Lo schema utilizzato nella progettazione del programma.
B Il testo di un programma scritto in un linguaggio come, ad esempio, il C++.
C Un programma che si esegue all'avvio del computer.
-
- 937) **In ambito informatico, premettendo ad una unità di misura il prefisso "giga", per quanto si intende moltiplicare l'unità di base?**
A Per dieci miliardi.
B Per circa un miliardo.
C Per diecimila.
-
- 938) **Di che ordine è la capacità di un cd-rom?**
A Circa 700 mbyte.
B Circa 300 gbyte.
C Circa 1.200 kbyte.
-
- 939) **Per correggere un testo dagli errori di battitura, quali delle seguenti operazioni è necessario eseguire?**

- A Scegliere controllo battitura dal menù modifica.
- B Scegliere controllo ortografia dal menù strumenti.
- C Scegliere controllo battitura dal menù strumenti.

940) **Nel software MS Word, che cos'è il font?**

- A È il file in cui sono presenti dati.
- B È il file che contiene una serie di documenti standard.
- C È l'insieme di lettere, numeri e simboli che formano un particolare carattere tipografico.

941) **Quale delle seguenti unità non è mai alloggiata nel case?**

- A Lettore dvd.
- B Mouse.
- C Motherboard.

942) **È possibile che programmi e dati siano archiviati sulla stessa chiavetta usb?**

- A No, una chiavetta usb può contenere solo dati.
- B Sì, dal punto di vista della memorizzazione su chiavetta usb non vi è alcuna differenza tra programmi e dati.
- C No, una chiavetta usb può contenere solo programmi.

943) **In un computer, quale delle seguenti unità di misura della capacità di memoria è sicuramente errata?**

- A Gigabyte.
- B Byte.
- C Minibyte.

944) **Quale tra questi dispositivi ha più capacità di memorizzare dati?**

- A SSD.
- B Floppy disk.
- C Cd-rom.

945) **Microsoft Word utilizza spesso combinazioni di colori e sottolineature per richiamare l'attenzione sul testo del documento. la sottolineatura viola (predefinita) indica:**

- A che il testo ha troppo caratteri numerici.
- B che il testo è un collegamento ipertestuale già visitato.
- C che il testo è troppo lungo.

946) **Che differenza c'è tra i termini «hardware» e «software»?**

- A Hardware indica tutte le parti fisiche di un computer, software indica l'insieme dei programmi.
- B Nessuna differenza, sono due termini sinonimi.
- C Software indica tutte le parti fisiche, hardware indica l'insieme dei programmi che permettono ad un computer di funzionare.

947) **In internet, "www.esempio.com", indica:**

- A la nazionalità del proprietario del dominio.
- B il nome del proprietario dell'indirizzo web.
- C l'indirizzo del sito.

948) **Quale delle seguenti affermazioni riguardanti Word è falsa?**

- A Può contenere immagini.
- B È un programma multimediale.
- C È un programma per gestione di testi.

949) **In ambito informatico, l'espressione "time-out" indica...**

- A l'avvio della procedura di spegnimento di un computer.
- B un evento che si verifica quando un apparato di rete non riceve la risposta che aspetta da un altro apparato di rete, entro un tempo predefinito.
- C l'avvenuto invio di un messaggio di posta elettronica.

950) **Cosa vuol dire qwerty?**

- A È la sequenza delle prime sei lettere della riga più in alto di una tastiera.
- B È l'acronimo derivante dal nome di un programma.
- C È la sequenza di invio di 6 messaggi.

951) **Se durante la digitazione di un testo in minuscolo si vuole digitare rapidamente un carattere in maiuscolo, come si può operare?**

- A Tenendo premuto il tasto "ctrl".
- B Mantenendo premuto per almeno 10 secondi il tasto corrispondente al carattere desiderato in maiuscolo.
- C Mantenendo premuto il tasto "shift", si digita il tasto corrispondente al carattere desiderato in maiuscolo.

952) **In Excel, quante serie di dati sono necessarie per la creazione di un grafico a torta?**

- A Solo una.
- B Almeno due.
- C Sempre due.

953) **Reset significa:**

- A formattare un disco.
- B ripristinare le condizioni iniziali di un computer.
- C spegnere il computer.

954) **Un file con estensione ".mpeg" contiene sicuramente...**

- A un database.
- B un testo.
- C un filmato.

955) **Un browser può rifiutare un cookie?**

- A Sì, ma solo se il sito web lo consente.
- B Sì, ma solo per alcuni tipi di cookie.
- C Sì, modificando opportunamente le impostazioni del browser relative alla privacy.

956) **In ambito informatico, cosa indica il termine "mainframe"?**

- A Un computer molto potente destinato alla gestione di un completo sistema aziendale.
- B La trasmissione di un messaggio a tutti gli apparati di ricezione.
- C Un particolare tipo di laptop.

957) **In ambiente Word, il software indica i possibili errori ortografici con una sottolineatura ondulata...**

- A di colore viola.
- B di colore grigio.
- C di colore rosso.

958) **Dove compare la barra delle applicazioni di Windows, dopo un'installazione standard?**

- A In basso nel desktop, accanto al pulsante start.
- B Alla sinistra del desktop.
- C Alla destra del desktop.

959) **Il termine "directory" sta ad indicare...**

- A un nome atto a raggruppare un insieme di file.
- B un insieme di record di database.
- C la direzione da seguire per raggiungere un'informazione specifica.

960) **In un programma di posta, la presenza di una "graffetta" in corrispondenza di un messaggio:**

- A indica che il messaggio è stato spedito da un amico.
- B indica che al messaggio è allegato un file.
- C indica che al messaggio contiene un virus.

961) **È possibile collegare un monitor con una risoluzione pari a 1980 x 1020 ad una scheda grafica con una risoluzione 800 x 600?**

- A Sì, se si dispone di un cavo adattatore.
- B Sì, la risoluzione massima sarà 800 x 600.
- C No, i due dispositivi non sono compatibili.

962) **L'hardware fondamentale per eseguire una stampa è...**

- A lo scanner.
- B la stampante.
- C la tastiera.

963) **Un comune lettore cd-rom può leggere anche...**

- A i cd musicali.
- B i buffer di memoria.
- C i floppy-disk.

-
- 964) **Una memoria di massa è:**
- A un dispositivo che consenta la esclusiva conservazione di dati per molto tempo.
 - B un dispositivo che consente la registrazione, la conservazione e la riletture dei dati.
 - C un dispositivo che consente la registrazione dei dati.
-
- 965) **Quale delle seguenti frasi riguardanti la scheda audio è corretta?**
- A Permette la visione di immagine su un televisore.
 - B Permette la connessione al proprio smartphone per l'ascolto delle telefonate.
 - C Permette, tramite specifici programmi, l'ascolto di files audio.
-
- 966) **Dopo che si è attivato una finestra in Windows 10, cosa accade?**
- A Compare esclusivamente il nome e la barra dei menu.
 - B La finestra è posizionata in primo piano sul desktop e la barra del titolo è evidenziata.
 - C Scompare la finestra attivata e appare la barra degli strumenti.
-
- 967) **Un "provider" è un fornitore di servizi:**
- A di assistenza software.
 - B internet.
 - C di assistenza hardware.
-
- 968) **Per selezionare due icone non adiacenti, dopo aver selezionato la prima icona ci si sposta sulla seconda icona, e prima di un nuovo clic si deve tenere premuto il tasto...**
- A f1.
 - B ctrl.
 - C alt.
-
- 969) **Quale tra i seguenti non è un dispositivo di puntamento?**
- A Mouse.
 - B Touch screen.
 - C Tastiera.
-
- 970) **L'area di intervento della pubblica amministrazione nel mondo informatico è detta:**
- A e-nation.
 - B e-administration.
 - C e-government.
-
- 971) **Cosa indica il termine "netiquette", nel linguaggio informatico?**
- A L'etichetta che si usa per identificare i cavi di rete.
 - B L'insieme delle norme che regolano il "buon" comportamento in rete.
 - C Un programma gratuito per l'invio di mail.
-
- 972) **A quale paese appartiene il sito "http://www.berlino.de"?**
- A Italia.
 - B Svezia.
 - C Germania.
-
- 973) **Per quale ragione il seguente indirizzo internet "http://www.sito@del.web.it/index.php" non è formalmente corretto?**
- A Negli indirizzi internet non è ammesso il carattere ".".
 - B Negli indirizzi internet non è ammesso il carattere "/".
 - C Negli indirizzi internet non è ammesso il carattere "@".
-
- 974) **Quale delle seguenti affermazioni non è vera?**
- A La fibra ottica può essere composta da materiale vetroso.
 - B La fibra ottica ha un banda di trasmissione più bassa dei cavi di metallo.
 - C La fibra ottica trasmette messaggi sotto forma di onde luminose.
-
- 975) **Quale tra le seguenti stringhe rappresenta una url corretta:**
- A www://sanita.it/.
 - B http://www.sito.it.
 - C www://sanita.it.
-
- 976) **Il POP e l'IMAP sono:**

- A entrambi protocolli di comunicazione per la spedizione di e-mail.
- B entrambi protocolli di comunicazione per la ricezione di e-mail.
- C il primo un protocollo di invio e-mail, il secondo un protocollo di ricezione e-mail.

977) **Volendo ascoltare musica con un computer, sarà necessario dotarlo di...**

- A scheda audio.
- B lettore multimediale.
- C lettore cd-rom.

978) **In caso di inceppamento della carta in una stampante, come si deve procedere?**

- A Seguire le istruzioni del manuale della stampante.
- B Inviare un altro comando di stampa.
- C Spegnerne ed accendere il computer.

979) **Quale tra i seguenti indirizzi internet non è formalmente corretto?**

- A ftp://ftp.uni.edu.
- B http://www.roma.gov.
- C http://www@sito.commercio.it/index.html.

980) **Il firewall è:**

- A un apparato di rete hardware o software che filtra solo i pacchetti entranti in una rete.
- B un apparato di rete hardware o software che filtra tutti i pacchetti entranti ed uscenti da una rete.
- C un apparato di rete hardware o software che filtra solo i pacchetti uscenti da una rete.

981) **In un sistema di elaborazione, cos'è il processore?**

- A Il responsabile del controllo di qualità.
- B L'entità che esegue un processo.
- C Il responsabile delle attività di progetto.

982) **Per un videoconferenza utilizzerebbe**

- A Word.
- B Teams.
- C Excel.

983) **Su un foglio del programma Excel, si ha: nella cella a1 il valore 3, nella cella a2 il valore 4, nella cella a3 il valore 5. se nella cella a4 si pone la formula "=somma(a1:a2)", quale valore si ottiene?**

- A 8.
- B 7.
- C 12.

984) **In Excel, la massima larghezza di una colonna di un foglio di lavoro:**

- A è di 255 caratteri.
- B dipende dal numero di fogli di lavoro aperti.
- C dipende dalla quantità di memoria del personal computer.

985) **Quali di questi componenti non influenza le prestazioni di un computer?**

- A Potenza della CPU
- B Dimensione della memoria.
- C Dimensioni dello schermo video.

986) **Che cosa è un processo?**

- A È un programma in esecuzione.
- B È una classe in esecuzione.
- C È un oggetto istanziato.

987) **Che cos'è il desktop di Windows?**

- A Un'area dedicata della memoria.
- B L'area grafica principale che contiene le icone e le varie finestre aperte dai programmi attivi.
- C Un lettore cd.

988) **Quale dei seguenti è un tipico valore di risoluzione in un monitor per PC?**

- A 1000 x 600.
- B 2100 x 1700.
- C 1920 x 1080.

-
- 989) **In ambito informatico, il termine "spam" indica...**
A l'operazione di manutenzione della casella di posta elettronica.
B un forum.
C un messaggio non richiesto.
-
- 990) **Nell'interconnessione di reti, una rete privata virtuale è:**
A un protocollo di visualizzazione grafica.
B un servizio di terminal server.
C una soluzione sicura per connettere due reti.
-
- 991) **Il numero massimo di righe in Excel è...**
A circa 10 milioni.
B circa 1 milione.
C dipende dalla memoria del computer.
-
- 992) **Uno dei compiti del bios è:**
A offrire procedure per il backup e recovery dei sistemi.
B permettere l'aggiornamento del computer.
C fornire una interfaccia software per l'accesso all'hardware del PC.
-
- 993) **Il numero massimo di colonne in Excel è...**
A circa 800.
B dipende dalla ram del computer.
C circa 16.000.
-
- 994) **La "licenza d'uso" di un software è...**
A la cessione della proprietà del software.
B il contratto legale tra l'autore del software e l'utente.
C un software che consente di installare il software.
-
- 995) **In ambito informatico, quale tra le seguenti sigle indica una rete locale di computer?**
A Linux.
B Unix.
C LAN.
-
- 996) **In Microsoft Outlook, è possibile ordinare le e-mail presenti nella cartella "posta in arrivo" in ordine di ricezione?**
A No, è possibile ordinare solo per mittente.
B Sì.
C No, è possibile ordinare solo per nome.
-
- 997) **Dei seguenti indirizzi di posta elettronica solo uno potrebbe essere potenzialmente corretto poiché non contiene errori. Quale?**
A aziende@commercio@commerciale.gmail.com.
B azienda.\commercio@aziende.com.
C azienda.commercio@aziende.libero.com.
-
- 998) **In internet, quale di questi protocolli è più sicuro?**
A Http.
B Ftp.
C Https.
-
- 999) **Attraverso il «blocco note» di Windows, è possibile:**
A modificare e creare un file .htm.
B elaborare file grafici.
C solamente prendere appunti per poi poterli salvare in un file .txt.
-
- 1000) **Di quale linguaggio si serve il browser per la visualizzazione dei dati?**
A Linguaggio http.
B Linguaggio html.
C Linguaggio pascal.
-

CONOSCENZA BASE DEGLI STRUMENTI DI OFFICE AUTOMATION

RISPOSTE CORRETTE

1 C	2 C	3 C	4 A	5 C
6 B	7 C	8 B	9 A	10 C
11 B	12 A	13 B	14 B	15 B
16 B	17 B	18 C	19 A	20 A
21 A	22 C	23 B	24 A	25 B
26 A	27 A	28 A	29 B	30 C
31 B	32 A	33 A	34 B	35 B
36 A	37 A	38 A	39 B	40 B
41 C	42 C	43 B	44 B	45 C
46 C	47 C	48 C	49 A	50 A
51 C	52 C	53 A	54 A	55 C
56 A	57 A	58 C	59 C	60 C
61 C	62 B	63 C	64 C	65 B
66 A	67 C	68 B	69 B	70 A
71 B	72 B	73 C	74 C	75 A
76 C	77 B	78 B	79 C	80 A
81 B	82 B	83 B	84 B	85 C
86 C	87 C	88 C	89 B	90 B
91 A	92 C	93 C	94 C	95 A
96 A	97 C	98 A	99 C	100 B
101 A	102 B	103 B	104 B	105 A
106 C	107 A	108 B	109 B	110 C
111 A	112 B	113 B	114 C	115 C
116 A	117 A	118 B	119 A	120 A
121 B	122 C	123 B	124 B	125 B
126 B	127 C	128 A	129 A	130 B
131 A	132 C	133 C	134 C	135 A
136 A	137 B	138 C	139 A	140 B
141 A	142 C	143 B	144 A	145 A
146 B	147 A	148 A	149 A	150 B
151 B	152 C	153 C	154 C	155 B
156 A	157 A	158 A	159 C	160 B
161 B	162 A	163 B	164 A	165 C
166 B	167 A	168 B	169 B	170 B
171 C	172 B	173 B	174 C	175 A
176 C	177 B	178 A	179 B	180 B
181 C	182 A	183 C	184 C	185 B
186 C	187 A	188 A	189 B	190 C
191 B	192 A	193 C	194 C	195 A
196 A	197 A	198 C	199 A	200 B
201 C	202 B	203 B	204 C	205 B
206 A	207 C	208 B	209 C	210 A
211 B	212 C	213 C	214 B	215 B
216 C	217 B	218 A	219 B	220 A
221 A	222 A	223 B	224 C	225 A
226 A	227 B	228 B	229 A	230 A
231 A	232 B	233 B	234 A	235 B
236 C	237 B	238 B	239 C	240 C
241 B	242 B	243 A	244 B	245 B

246 B	247 A	248 A	249 A	250 C
251 B	252 A	253 C	254 B	255 B
256 A	257 B	258 B	259 C	260 B
261 A	262 C	263 A	264 A	265 C
266 C	267 A	268 A	269 A	270 C
271 B	272 A	273 C	274 A	275 C
276 B	277 B	278 C	279 C	280 A
281 B	282 B	283 C	284 B	285 B
286 B	287 C	288 A	289 B	290 A
291 C	292 A	293 B	294 A	295 B
296 A	297 A	298 C	299 C	300 B
301 B	302 B	303 A	304 B	305 C
306 C	307 C	308 C	309 C	310 A
311 C	312 C	313 C	314 C	315 B
316 A	317 A	318 A	319 A	320 B
321 C	322 A	323 C	324 C	325 B
326 C	327 A	328 C	329 C	330 B
331 A	332 B	333 A	334 B	335 A
336 A	337 A	338 C	339 A	340 C
341 C	342 B	343 B	344 C	345 B
346 B	347 C	348 A	349 A	350 B
351 A	352 B	353 C	354 C	355 B
356 B	357 C	358 C	359 C	360 B
361 C	362 C	363 A	364 C	365 B
366 A	367 C	368 C	369 B	370 B
371 C	372 A	373 B	374 B	375 B
376 B	377 A	378 C	379 A	380 B
381 A	382 B	383 B	384 B	385 B
386 C	387 A	388 A	389 C	390 B
391 B	392 A	393 B	394 B	395 B
396 C	397 B	398 C	399 C	400 B
401 A	402 A	403 B	404 B	405 C
406 A	407 C	408 B	409 C	410 C
411 C	412 C	413 A	414 A	415 B
416 A	417 A	418 B	419 B	420 C
421 A	422 B	423 A	424 A	425 A
426 A	427 C	428 A	429 B	430 A
431 C	432 C	433 A	434 C	435 A
436 B	437 B	438 A	439 C	440 A
441 A	442 C	443 B	444 C	445 A
446 B	447 A	448 B	449 C	450 A
451 A	452 A	453 A	454 C	455 A
456 C	457 C	458 B	459 C	460 B
461 B	462 B	463 A	464 B	465 B
466 C	467 C	468 B	469 C	470 A
471 B	472 C	473 A	474 A	475 A
476 C	477 B	478 B	479 C	480 B
481 A	482 B	483 C	484 B	485 C
486 C	487 A	488 B	489 C	490 B
491 C	492 B	493 B	494 A	495 C
496 B	497 C	498 B	499 C	500 C
501 B	502 B	503 B	504 B	505 C
506 A	507 B	508 C	509 B	510 A
511 C	512 A	513 A	514 C	515 C
516 C	517 B	518 A	519 B	520 C

521 C	522 A	523 C	524 A	525 A
526 C	527 B	528 B	529 A	530 C
531 A	532 A	533 C	534 A	535 C
536 C	537 C	538 A	539 C	540 C
541 A	542 B	543 A	544 A	545 B
546 A	547 A	548 C	549 A	550 A
551 A	552 A	553 A	554 C	555 C
556 B	557 C	558 B	559 A	560 B
561 B	562 B	563 A	564 C	565 B
566 A	567 C	568 A	569 C	570 B
571 A	572 B	573 A	574 A	575 B
576 A	577 B	578 B	579 C	580 B
581 B	582 B	583 B	584 B	585 A
586 A	587 B	588 B	589 C	590 A
591 C	592 A	593 B	594 C	595 B
596 B	597 A	598 B	599 A	600 B
601 C	602 A	603 A	604 C	605 C
606 C	607 A	608 A	609 B	610 C
611 B	612 A	613 B	614 B	615 A
616 C	617 B	618 A	619 B	620 C
621 B	622 B	623 A	624 A	625 C
626 B	627 A	628 C	629 A	630 C
631 A	632 C	633 A	634 C	635 B
636 B	637 A	638 C	639 B	640 A
641 A	642 B	643 C	644 B	645 C
646 C	647 B	648 C	649 A	650 A
651 A	652 A	653 A	654 A	655 A
656 B	657 B	658 C	659 A	660 A
661 B	662 A	663 C	664 C	665 C
666 C	667 C	668 A	669 B	670 A
671 B	672 B	673 B	674 C	675 B
676 A	677 A	678 C	679 C	680 B
681 B	682 B	683 B	684 A	685 C
686 B	687 C	688 A	689 A	690 B
691 A	692 C	693 A	694 C	695 A
696 C	697 B	698 B	699 A	700 C
701 C	702 C	703 A	704 C	705 B
706 B	707 C	708 A	709 A	710 C
711 A	712 A	713 C	714 B	715 B
716 C	717 C	718 A	719 A	720 B
721 B	722 A	723 B	724 B	725 C
726 A	727 A	728 A	729 C	730 A
731 A	732 A	733 C	734 A	735 A
736 C	737 C	738 A	739 C	740 B
741 A	742 C	743 A	744 C	745 A
746 C	747 A	748 B	749 B	750 C
751 B	752 C	753 B	754 A	755 A
756 C	757 B	758 C	759 C	760 B
761 A	762 C	763 A	764 C	765 A
766 B	767 A	768 A	769 A	770 C
771 A	772 B	773 B	774 A	775 C
776 A	777 A	778 A	779 C	780 C
781 A	782 C	783 A	784 C	785 B
786 B	787 A	788 A	789 A	790 A
791 B	792 B	793 C	794 B	795 A

796 C	797 C	798 B	799 A	800 C
801 B	802 C	803 A	804 A	805 A
806 A	807 A	808 C	809 A	810 C
811 A	812 A	813 B	814 B	815 C
816 C	817 A	818 B	819 A	820 A
821 C	822 B	823 B	824 A	825 B
826 B	827 B	828 C	829 C	830 C
831 C	832 C	833 C	834 B	835 B
836 C	837 A	838 A	839 B	840 C
841 C	842 A	843 C	844 C	845 C
846 B	847 B	848 C	849 C	850 B
851 C	852 B	853 A	854 C	855 C
856 B	857 A	858 B	859 A	860 B
861 B	862 B	863 C	864 B	865 C
866 C	867 B	868 B	869 C	870 B
871 C	872 A	873 A	874 B	875 B
876 C	877 A	878 B	879 C	880 A
881 B	882 A	883 A	884 A	885 C
886 A	887 B	888 C	889 B	890 B
891 A	892 C	893 C	894 C	895 B
896 B	897 A	898 A	899 C	900 B
901 B	902 B	903 A	904 A	905 A
906 B	907 A	908 A	909 C	910 A
911 A	912 B	913 A	914 A	915 A
916 C	917 B	918 A	919 A	920 A
921 A	922 B	923 A	924 B	925 B
926 C	927 B	928 C	929 C	930 A
931 C	932 C	933 C	934 C	935 C
936 B	937 B	938 A	939 B	940 C
941 B	942 B	943 C	944 A	945 B
946 A	947 C	948 B	949 B	950 A
951 C	952 A	953 B	954 C	955 C
956 A	957 C	958 A	959 A	960 B
961 B	962 B	963 A	964 B	965 C
966 B	967 B	968 B	969 C	970 C
971 B	972 C	973 C	974 B	975 B
976 B	977 A	978 A	979 C	980 B
981 B	982 B	983 B	984 A	985 C
986 A	987 B	988 C	989 C	990 C
991 B	992 C	993 C	994 B	995 C
996 B	997 C	998 C	999 A	1000 B